

# אלגברה בסיסית



## תוכן העניינים

1	1. וקטורים אלגבריים
43	2. וקטורים גיאומטריים
57	3. מספרים מרוכבים
(ללא ספר)	4. האלגוריתם של אוקלידס

# אלגברה בסיסית

## פרק 1 - וקטורים אלגבריים

### תוכן העניינים

1	שאלות יסודיות עם וקטורים אלגבריים
5	פעולות אלגבריות בין וקטורים
7	גודל של וקטור
8	וקטורים מקבילים ושווים
9	זווית בין וקטורים
10	הצגה פרמטרית של ישר
13	מצב הדדי בין ישרים
16	הצגה פרמטרית של מישור
18	משוואת מישור
19	מעברים בין הצגה פרמטרית של מישור ומשוואת מישור
20	מישורים המקבילים לצירים
21	מצב הדדי בין ישר ומישור
23	מצב הדדי בין מישורים
24	ישר חיתוך בין מישורים
(ללא ספר)	חישובי זוויות שונות
25	זווית בין שני ישרים
27	זווית בין ישר ומישור
28	זווית בין שני מישורים
(ללא ספר)	חישובי מרחקים
29	מרחק בין שתי נקודות במרחב
30	מרחק בין נקודה לישר
31	מרחק בין נקודה למישור
32	מרחק בין ישרים מקבילים
33	מרחק בין ישר למישור
34	מרחק בין מישורים מקבילים
35	מרחק בין ישרים מצטלבים

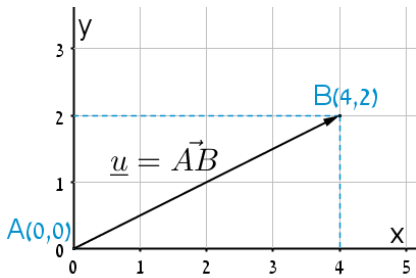
(ללא ספר)	27. סיכום מרחקים
36	28. שאלות מסכמות בוקטורים
39	29. שאלות הנפתרות עם מכפלה וקטורית

## שאלות יסודיות עם וקטורים אלגבריים:

סיכום כללי:

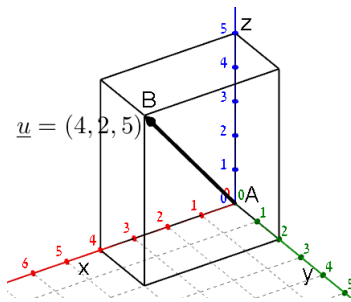
הגדרה כללית:

וקטור שמוצאו בראשית הצירים  $(0,0)$  וסופו בנקודה  $(x, y)$  במישור ייכתב בצורתו האלגברית באופן הבא:  $\underline{u} = (x, y)$ .



דוגמאות:

- הווקטור  $\underline{u} = (4, 2)$  נמצא במישור  $[xy]$ , מוצאו בנקודה  $A(0,0)$  וסופו בנקודה  $B(4,2)$ .



- הווקטור:  $\underline{u} = (4, 2, 5)$  נמצא במרחב הקרטזי. מוצאו בראשית הצירים  $A(0,0,0)$  וסופו בנקודה:  $B(4,2,5)$ .

וקטור שמוצאו אינו בראשית הצירים:

וקטור שמוצאו בנקודה  $A(x_1, y_1, z_1)$  וסופו בנקודה  $B(x_2, y_2, z_2)$  ייכתב ע"י חישוב הפרש נקודת סופו ממוצאו באופן הבא:  $\underline{u} = \overline{AB} = B - A = (x_2 - x_1, y_2 - y_1, z_2 - z_1)$ .

אמצע קטע וחלוקת קטע ביחס נתון:

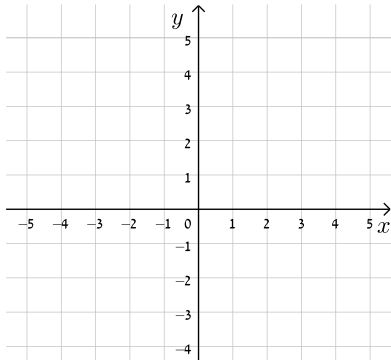
- אמצע הקטע M שקצותיו הם:  $A(x_1, y_1, z_1)$  ו-  $B(x_2, y_2, z_2)$

$$\text{הוא: } x_M = \frac{x_1 + x_2}{2}, y_M = \frac{y_1 + y_2}{2}, z_M = \frac{z_1 + z_2}{2}$$

- שיעורי נקודה P המחלקת קטע שקצותיו  $A(x_1, y_1, z_1)$  ו-  $B(x_2, y_2, z_2)$  ביחס

$$\text{של } k:l \text{ הם: } x_P = \frac{k \cdot x_1 + l \cdot x_2}{k+l}; y_P = \frac{k \cdot y_1 + l \cdot y_2}{k+l}; z_P = \frac{k \cdot z_1 + l \cdot z_2}{k+l}$$

## שאלות:



1) שרטט את הווקטורים הבאים:

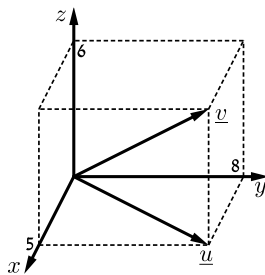
א.  $\underline{u} = (4, 2)$

ב.  $\underline{v} = (-5, 1)$

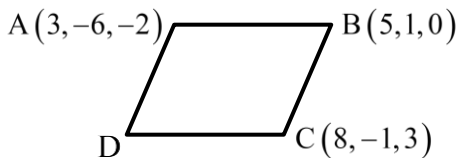
ג.  $\underline{w} = (3, -4)$

ד.  $\underline{a} = (0, 3)$

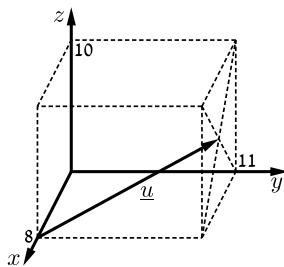
ה.  $\underline{b} = (-5, 0)$



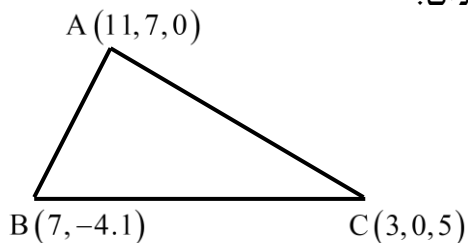
2) נתונה תיבה שמידותיה נתונות במערכת הצירים שלפניך. מצא מהו הווקטור  $\underline{u}$  ומהו הווקטור  $\underline{v}$  על פי השרטוט.



3) בשרטוט נתונה מקבילית ששיעורי שלושה מקודקודיה נתונים (ראה איור). מצא את שיעורי הקודקוד D.



4) נתונה תיבה שמידותיה נתונות במערכת הצירים שלפניך. מצא מהו הווקטור  $\underline{u}$  על פי השרטוט.



5) בשרטוט נתון משולש ששיעורי קודקודיו נתונים. מצא את שיעורי מפגש התיכונים במשולש.

6) מצא את  $x$ ,  $y$  ו- $z$  אם נתון ש- $\underline{u} = \underline{v}$  כאשר:

$$\underline{u} = (4, -1, 2), \quad \underline{v} = (z-2, y+1, x-3)$$

7) ענה על הסעיפים הבאים :

א. מצא את הווקטור  $\overline{AB}$  אם נתונות הנקודות  $A(-3,5)$  ו-  $B(6,1)$ .

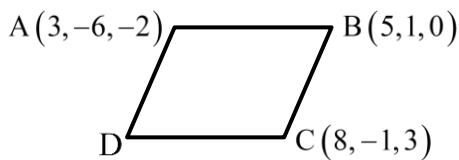
ב. מצא את שיעורי הנקודה  $Q$  אם נתונה הנקודה  $P(8,11)$  והווקטור  $\overline{PQ} = (4,-3)$ .

8) ענה על הסעיפים הבאים :

א. מצא את הווקטור  $\overline{EF}$  אם נתונות הנקודות  $E(2,0,-3)$  ו-  $F(7,-1,-3)$ .

ב. מצא את שיעורי הנקודה  $N$  אם נתונה הנקודה  $M(0,-4,1)$

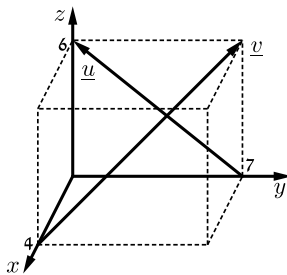
והווקטור  $\overline{MN} = (-1,-1,9)$ .



9) בשרטוט נתונה מקבילית ששיעורי שלושה

מקודקודיה נתונים.

מצא את שיעורי הקודקוד  $D$ .



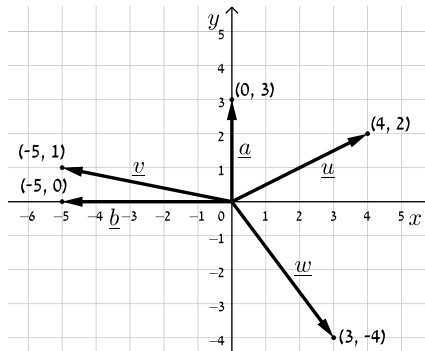
10) נתונה תיבה שמידותיה נתונות במערכת

הצירים שלפניך.

מצא מהו הווקטור  $\underline{u}$  ומהו הווקטור  $\underline{v}$ .

## תשובות סופיות:

1) להלן סרטוט:



2)  $\underline{u} = (5, 8, 0)$  ,  $\underline{v} = (5, 8, 6)$

3)  $D(6, -8, 1)$

4)  $\underline{u} = (4, 11, 5)$

5)  $(7, 1, 2)$

6)  $x = 5$  ,  $y = -2$  ,  $z = 6$

7) א.  $\overrightarrow{AB} = (9, -4)$  ב.  $Q(12, 8)$

8) א.  $\overrightarrow{EF} = (5, -1, 0)$  ב.  $N(-1, -5, 10)$

9)  $D(6, -8, 1)$

10)  $\underline{u} = (0, -7, 6)$  ,  $\underline{v} = (-4, 7, 6)$

## פעולות אלגבריות בין וקטורים:

### סיכום כללי:

#### מכפלה סקלרית בהצגה אלגברית:

מכפלה סקלרית של שני ווקטורים  $\underline{u}$  ו- $\underline{v}$  תסומן:  $\underline{u} \cdot \underline{v}$  ותחושב ע"י הנוסחה הבאה:  $\underline{u} \cdot \underline{v} = |\underline{u}| \cdot |\underline{v}| \cdot \cos \alpha$  כאשר  $\alpha$  היא הזווית הנוצרת בין נקודת חיבור מוצאי הווקטורים ובין כיווני הווקטורים.

מכפלה סקלרית של ווקטורים:  $\underline{u} = (x_1, y_1, z_1)$ ,  $\underline{v} = (x_2, y_2, z_2)$  תחושב באופן הבא:  $\underline{u} \cdot \underline{v} = (x_1, y_1, z_1)(x_2, y_2, z_2) = x_1x_2 + y_1y_2 + z_1z_2$

### שאלות:

**11** נתונים הווקטורים הבאים:  $\underline{u} = (4, 0, 9)$ ,  $\underline{v} = (-1, 3, -5)$   
 חשב את ערכי הווקטורים הבאים:  $\underline{u} + \underline{v}$ ,  $\underline{u} - \underline{v}$ ,  $\underline{u} - 2\underline{v}$ ,  $3\underline{u} + 2\underline{v}$

**12** נתונים הווקטורים:  $\underline{u} = (-3, 1, 4)$ ,  $\underline{v} = (4, -2, -6)$ ,  $\underline{w} = (2, 6, -5)$   
 חשב את:

א. $2\underline{u}$	ב. $-0.5\underline{v}$	ג. $3\underline{u} - 2\underline{v}$
ד. $0.25\underline{v} - 0.5\underline{u}$	ה. $\underline{v} - 0.5\underline{u} + 2\underline{w}$	ו. $2\underline{v} - \underline{u} + 4\underline{w}$

**13** נתונות הנקודות הבאות:  $A(1, -3, 0)$ ,  $B(4, 2, -1)$ ,  $C(3, -1, 2)$   
 מצא את הווקטורים הבאים:

א. $\overrightarrow{AC} + \overrightarrow{AB}$	ב. $2\overrightarrow{AC} - 4\overrightarrow{AB}$	ג. $2\overrightarrow{AC} + \overrightarrow{AB} - \overrightarrow{BC}$
--	--	---

**14** נתונים שלושה ווקטורים:  $\underline{u} = (6, -1, z)$ ,  $\underline{v} = (0, y, 4)$ ,  $\underline{w} = (x, 5, -10)$

א. מצא את ערכם של  $x, y, z$  המקיימים:  $\underline{u} + 2\underline{v} = \underline{w}$

ב. מצא את ערכם של  $x, y, z$  המקיימים:  $2\underline{v} - 3\underline{w} = \frac{1}{2}(\underline{u} + \underline{v})$

ג. כיצד תשתנה התוצאה של סעיף א' אם:  $\underline{u} = (6, y, z)$ ,  $\underline{v} = (y-1, 2, x)$ ,  $\underline{w} = (x, 2z, -10)$ ?

15) נתונים הווקטורים  $\underline{u}$  ו- $\underline{v}$ .

א. חשב את תוצאת המכפלה הסקלרית עבור:  $\underline{u} = (-6, 2, 3)$ ,  $\underline{v} = (4, 0, 1)$ .

ב. מצא את  $y$  עבורו תוצאת המכפלה הסקלרית של הווקטורים:

$$\underline{u} = (1, 7, -6), \underline{v} = (2, y, 4).$$

ג. מצא את  $y$  עבורו הווקטורים מהסעיף הקודם יהיו מאונכים זה לזה.

### תשובות סופיות:

$$11) \underline{u} + \underline{v} = (3, 3, 4); \underline{u} - \underline{v} = (5, -3, 14); \underline{u} - 2\underline{v} = (6, -6, 19); 3\underline{u} + 2\underline{v} = (10, 6, 17)$$

$$12) \text{א. } (6, -2, 8) \quad \text{ב. } (-2, 1, 3) \quad \text{ג. } (-17, 7, 24)$$

$$\text{ד. } (2.5, -1, -3.5) \quad \text{ה. } (9.5, 9.5, -18) \quad \text{ו. } (19, 19, -36)$$

$$13) \text{א. } (5, 7, 1) \quad \text{ב. } (-8, -16, 8) \quad \text{ג. } (8, 12, 0)$$

$$14) \text{א. } x = 6, y = 3, z = -18 \quad \text{ב. } x = -1, y = 9\frac{2}{3}, z = 72$$

$$\text{ג. } x = -4\frac{8}{9}, y = -4\frac{4}{9}, z = -\frac{2}{9}$$

$$15) \text{א. } \underline{u} \cdot \underline{v} = -21 \quad \text{ב. } y = 3 \quad \text{ג. } y = 3\frac{1}{7}$$

## גודל של וקטור:

### סיכום כללי:

גודלו של ווקטור  $\underline{u} = (x_1, y_1, z_1)$  נתון ע"י:  $|\underline{u}| = \sqrt{\underline{u}^2} = \sqrt{x_1^2 + y_1^2 + z_1^2}$

### שאלות:

**16** נתונים הווקטורים הבאים:  $\underline{u} = (1, -3, 2)$ ,  $\underline{v} = (5, -1, 0)$   
 חשב את הגדלים של הווקטורים הבאים:  $2\underline{v} + \underline{u}$ ,  $4\underline{u} - 3\underline{v}$ ,  $\underline{u}$ ,  $\underline{v}$ .

**17** נתונים ארבעת קודקודי המרובע ABCD:  
 $A(-4, 2, 1)$ ,  $B(0, 2, -1)$ ,  $C(-3, -5, 0)$ ,  $D(-7, -5, 2)$   
 הוכח כי המרובע הוא מקבילית.

### תשובות סופיות:

**16**  $|\underline{u}| = \sqrt{14}$ ;  $|\underline{v}| = \sqrt{26}$ ;  $|2\underline{v} + \underline{u}| = \sqrt{150}$ ;  $|4\underline{u} - 3\underline{v}| = \sqrt{266}$

**17** הוכחה.

## וקטורים מקבילים ושווים:

### שאלות:

18 נתונים ארבעת קודקודי המרובע ABCD :

$$A(1,2,0), B(-2,5,3), C(-1,8,4), D(4,3,-1)$$

א. הוכח כי המרובע הוא טרפז.

ב. האם הטרפז שווה שוקיים?

19 נתונות הנקודות הבאות:  $A(1,0,2), B(3,7,-4), C(6,9,0), D(7,4,10), E(9,11,4)$ .

א. הראה כי:  $\overline{AB} = \overline{DE}$ .

ב. האם ניתן לומר כי גם  $\overline{AD} = \overline{BC}$ ? נמק.

### תשובות סופיות:

18 א. הוכחה. ב. כן.

19 א. הוכחה. ב. לא.

## זווית בין וקטורים:

### סיכום כללי:

• זווית  $\alpha$  בין שני וקטורים  $\underline{u}$ ,  $\underline{v}$  תחושב ע"י:  $\cos \alpha = \frac{\underline{u} \cdot \underline{v}}{|\underline{u}| \cdot |\underline{v}|}$ .

### שאלות:

(20) חשב את הזווית שבין הווקטורים  $\underline{u}$  ו- $\underline{v}$ :

א.  $\underline{u} = (-2, 2, 5)$ ,  $\underline{v} = (4, 0, 1)$

ב.  $\underline{u} = (6, -3, 1)$ ,  $\underline{v} = (2, 5, 3)$

ג.  $\underline{u} = (-2, 1, 3)$ ,  $\underline{v} = (4, -2, -6)$

(21) מצא את שטחו של משולש ABC שקודקודיו הם:  $A(-3, 2, 1)$ ,  $B(0, 3, 2)$ ,  $C(5, -1, 0)$ .

(22) נתונים הווקטורים:  $\underline{u} = (2, -1, 0)$ ,  $\underline{v} = (5, 0, 3)$ .

מצא וקטור  $\underline{w}$  שמכפלתו ב- $\underline{u}$  היא 0 ומכפלתו ב- $\underline{v}$  היא 0 אם ידוע שגודלו הוא  $\sqrt{70}$ .

### תשובות סופיות:

(20) א.  $92.277^\circ$  ב.  $90^\circ$  ג.  $180^\circ$ .

(21) 10.173 יח"ש.

(22)  $\underline{w} = (3, 6, -5)$  או  $\underline{w} = (-3, -6, 5)$ .

## הצגה פרמטרית של ישר:

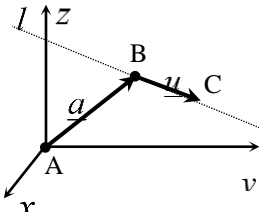
### סיכום כללי:

ישר כללי במרחב ניתן להצגה ע"י שני ווקטורים. הווקטור  $\underline{a}$  נקרא ווקטור ההעתקה.

מוצאו תמיד בראשית הצירים וסופו על נקודה כלשהי על הישר הנתון.

הווקטור  $\underline{u}$  נקרא ווקטור הכיוון של הישר.

זה הוא ווקטור שנמצא על הישר עצמו מוצאו בנקודה אחת וסופו בנקודה אחרת לאורך הישר.



הקשר בין שני הווקטורים נתון ע"י:  $\underline{\ell} : \underline{x} = \underline{a} + t\underline{u}$

כאשר  $t$  הוא מספר ממשי כלשהו ו- $\underline{x}$  הוא ווקטור המתקבל ע"י בחירה של  $t$  שמוצאו בראשית הצירים וסופו על נקודה על הישר  $\underline{\ell}$ .

**דוגמא:** עבור הנקודות:  $A(0,0,0)$ ,  $B(5,3,1)$  ו- $C(7,0,10)$  נקבל את הווקטורים

הבאים:  $\underline{a} = \overline{AB} = B - A = (5,3,1)$ ;  $\underline{u} = \overline{BC} = C - B = (7,0,10) - (5,3,1) = (2,-3,9)$

לכן הצגה פרמטרית של הישר היא:  $\underline{\ell} : \underline{x} = (5,3,1) + t(2,-3,9)$

### הערות:

- לישר יש אינסוף הצגות פרמטריות הנבדלות זו מזו בבחירת ווקטור ההעתקה ווקטור הכיוון.
- ההצגה הבאה גם מתאימה לישר שבדוגמא:  $\underline{\ell} : \underline{x} = (7,0,10) + t(-6,9,-27)$
- הווקטור  $\underline{x}$  המתקבל ע"י הצבת  $t_0$  בהצגה פרמטרית אחת של הישר, יתקבל ע"י הצבת  $t_1$  בהצגה פרמטרית אחרת של אותו הישר.
- הנקודה B באיור לעיל אינה בהכרח סופו של הווקטור  $\underline{a}$  ומוצאו של הווקטור  $\underline{u}$ .
- כדי לכתוב הצגה פרמטרית של ישר מספיק לקחת שתי נקודות כלשהן למציאת הווקטור  $\underline{u}$  (למשל הנקודה C יחד עם נקודה D הנמצאת על המשך הישר) ונקודה נוספת למציאת הווקטור  $\underline{a}$ .
- הצגה פרמטרית של ישר היא למעשה חיבור של שני ווקטורים גיאומטריים במרחב הנותנים ווקטור שמוצאו בראשית הצירים וסופו על הישר הנתון.

## שאלות:

(23) האם הנקודה  $A(7,0,3)$  נמצאת על הישר  $\ell : \underline{x} = (4,3,0) + t(1,-1,1)$  ?

(24) האם הנקודה  $B(4,-2,-10)$  נמצאת על הישר  $\ell : \underline{x} = t(2,-1,5)$  ?

(25) מצא את הצגתו הפרמטרית של ישר במישור שעובר בנקודות  $A(-5,-2)$  ו-  $B(1,6)$ .

(26) מצא את הצגתו הפרמטרית של ישר במרחב שעובר בנקודות  $C(3,0,-2)$  ו-  $D(4,1,1)$ .

(27) מצא את הצגתו הפרמטרית של ישר במרחב שעובר בנקודה  $G(2,-7,1)$

ומקביל לישר  $\ell : \underline{x} = (0,3,-1) + t(-4,2,1)$ .

(28) מצא במרחב הצגה פרמטרית של ישר העובר דרך הנקודה  $(1,2,3)$

ומאונך לישר:  $\ell : \underline{x} = (1,2,0) + s(1,-2,4)$ .

(29) ענה על הסעיפים הבאים:

א. נתונה הצגה פרמטרית של ישר:  $\ell : \underline{x} = (1,2,3) + t(4,5,6)$ .

כתוב את ההצגה בעזרת הקואורדינאטות  $x, y, z$ .

ב. נתונה הצגה של ישר בעזרת קואורדינאטות:  $x = 1 + 2t, y = 10, z = 4 - t$ .

כתוב את ההצגה הפרמטרית שלו.

(30) מצא את הצגתו הפרמטרית של ציר ה- $y$  במרחב.

(31) מצא את הצגתו הפרמטרית של ישר במרחב שעובר בנקודה  $M(3,-1,4)$

ומקביל לציר ה- $z$ .

(32) מצא את נקודת החיתוך של הישר  $\ell : \underline{x} = (1,-2,6) + t(-2,1,2)$  עם המישור  $[xy]$ .

## תשובות סופיות:

(23) כ.

(24) לא.

(25)  $\ell : \underline{x} = (-5, -2) + t(6, 8)$

(26)  $\ell : \underline{x} = (4, 1, 1) + t(1, 1, 3)$

(27)  $\ell : \underline{x} = (2, -7, 1) + s(-4, 2, 1)$

(28)  $\ell : \underline{x} = (1, 2, 3) + t(2, 1, 0)$

(29) א.  $x = 1 + 4t, y = 2 + 5t, z = 3 + 6t$  ב.  $\ell : \underline{x} = (1, 10, 4) + t(2, 0, -1)$

(30)  $\ell : \underline{x} = t(0, 1, 0)$

(31)  $\ell : \underline{x} = (3, -1, 4) + t(0, 0, 1)$

(32)  $(7, -5, 0)$

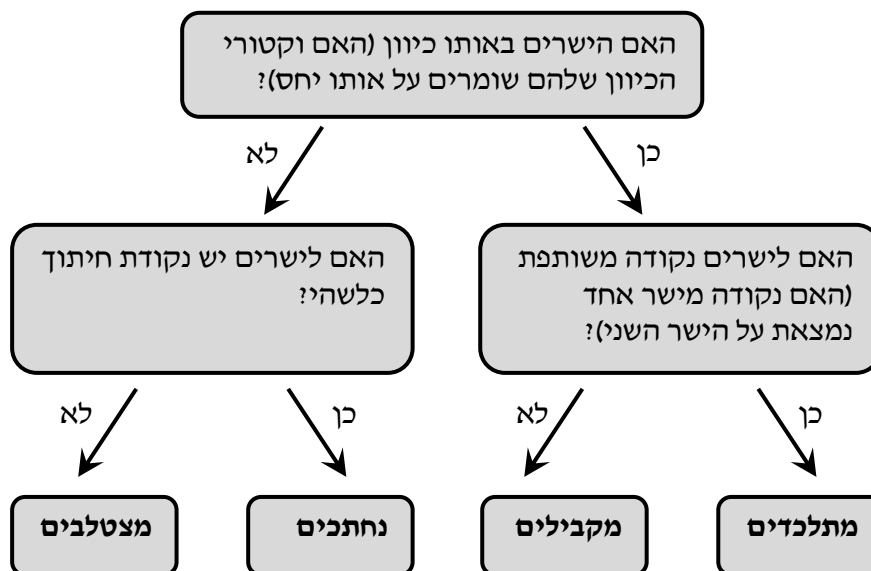
## מצב הדדי בין ישרים:

### סיכום כללי:

ישנם 4 מצבים הדדים בין זוג ישרים במרחב:

- ישרים מתלכדים: שני הישרים הם למעשה ישר אחד.
- ישרים מקבילים: שני הישרים בעלי אותו כיוון ולעולם אינם נפגשים במרחב.
- ישרים נחתכים: שני ישרים במרחב עם כיוונים שונים הנחתכים בנקודה כלשהי.
- ישרים מצטלבים: שני ישרים עם כיוונים שונים שאינם נפגשים במרחב.

כדי לקבוע את המצב ההדדי בין שני ישרים נבצע את הבדיקה הדו-שלבית הבאה:



## שאלות:

**(33)** מצא את המצב ההדדי בין הישרים הבאים.  
 אם הם נחתכים מצא גם את נקודת החיתוך ביניהם.  
 $\ell_1 : \underline{x} = (2, -3, 0) + t(5, -1, 2)$  ,  $\ell_2 : \underline{x} = (12, -5, 4) + s(-10, 2, -4)$

**(34)** מצא את המצב ההדדי בין הישרים הבאים.  
 אם הם נחתכים מצא גם את נקודת החיתוך ביניהם.  
 $\ell_3 : \underline{x} = (0, 1, -7) + t(-2, 1, 1)$  ,  $\ell_4 : \underline{x} = (2, 0, -6) + s(6, -3, -3)$

**(35)** מצא את המצב ההדדי בין הישרים הבאים.  
 אם הם נחתכים מצא גם את נקודת החיתוך ביניהם.  
 $\ell_5 : \underline{x} = (-3, 5, 1) + t(4, 0, -1)$  ,  $\ell_6 : \underline{x} = (-1, 7, 4) + s(-1, 1, 2)$

**(36)** מצא את המצב ההדדי בין הישרים הבאים.  
 אם הם נחתכים מצא גם את נקודת החיתוך ביניהם.  
 $\ell_7 : \underline{x} = (3, 0, 0) + t(2, -2, 5)$  ,  $\ell_8 : \underline{x} = (0, 1, -5) + s(3, 1, -2)$

**(37)** מצא את המצב ההדדי בין הישרים הבאים.  
 אם הם נחתכים מצא גם את נקודת החיתוך ביניהם.  
 $\ell_9 : \underline{x} = (-4, 1, -1) + t(3, 0, -1)$  ,  $\ell_{10} : \underline{x} = s(6, 0, -2)$

**(38)** מצא את המצב ההדדי בין הישרים הבאים.  
 אם הם נחתכים מצא גם את נקודת החיתוך ביניהם.  
 $\ell_{11} : \underline{x} = (2, 8, -1) + t(1, 0, 0)$  ,  $\ell_{12} : \underline{x} = (-5, 8, 2) + s(2, 0, -1)$

**(39)** מצא את ערכו של הפרמטר  $k$  שבעבורו הישרים הבאים :  
 $\ell_1 : \underline{x} = (k+1, 1-k, 6) + t(1, -2, 2)$  ,  $\ell_2 : \underline{x} = (k-1, 7, -k) + s(1-k^2, k^2+2, -6)$   
 א. מקבילים.  
 ב. מתלכדים.

**(40)** נתונות הנקודות :  $A(3, -1, 5)$  ,  $B(k, -1, 3)$  ,  $C(-6, 3, -1)$  ,  $D(-2, 3, k)$   
 הראה כי לכל ערך של  $k$  הישרים  $\ell_{AB}$  ו- $\ell_{CD}$  מצטלבים.

**תשובות סופיות:**

33) מתלכדים.

34) מקבילים.

35) נחתכים,  $(1, 5, 0)$ .

36) מצטלבים.

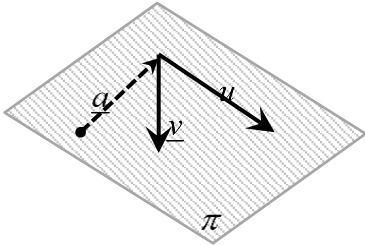
37) מקבילים.

38) נחתכים,  $(1, 8, -1)$ .39) א.  $k = 2$ . ב.  $k = -2$ .

40) הוכחה.

## הצגה פרמטרית של מישור:

### סיכום כללי:



מישור כלשהו במרחב ניתן להצגה ע"י שלושה ווקטורים. הווקטור  $\underline{a}$  הוא ווקטור ההעתקה.

מוצאו תמיד בראשית הצירים וסופו בנקודה כלשהי על המישור.

הווקטורים  $\underline{u}$  ו- $\underline{v}$  הם וקטורי הכיוון של המישור. אלו הווקטורים הפורשים את המישור.

הקשר בין שלושת הווקטורים נתון ע"י:  $\pi : \underline{x} = \underline{a} + t\underline{u} + s\underline{v}$

כאשר  $t, s$  הם מספרים ממשיים כלשהם ו- $\underline{x}$  הוא ווקטור המתקבל ע"י בחירתם אשר מוצאו בראשית הצירים וסופו בנקודה על המישור  $\pi$ .

### שאלות:

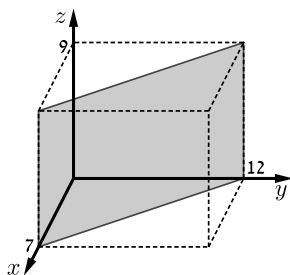
**(41)** מצא את הצגתו הפרמטרית של מישור שעובר בנקודות הבא:  
 $A(1, -4, 0)$ ,  $B(3, 6, 2)$ ,  $C(0, -3, 1)$

**(42)** מצא את הצגתו הפרמטרית של מישור שעובר בנקודה  $Q(6, 7, -1)$ , ומכיל את הישר  $\ell : \underline{x} = (-2, -2, 5) + t(1, 0, -4)$

**(43)** נתונים שני ישרים:  $\ell_1 : \underline{x} = (0, 1, -1) + t(1, 9, -3)$ ,  $\ell_2 : \underline{x} = (2, 16, 11) + s(0, 1, -6)$ . הראה שהישרים נחתכים ומצא הצגה פרמטרית של המישור המכיל אותם.

**(44)** מצא את הצגתו הפרמטרית של מישור שעובר בנקודה  $D(5, -2, -1)$  ומכיל את ציר ה- $x$ .

**(45)** מצא את הצגתו הפרמטרית של המישור  $[xz]$ .



**(46)** נתונה תיבה שמידותיה נתונות במערכת הצירים שלפניך. מצא את הצגתו הפרמטרית של המישור המסומן.

**תשובות סופיות:**

$$\cdot \pi : \underline{x} = (1, -4, 0) + t(2, 10, 2) + s(-1, 1, 1) \quad \mathbf{(41)}$$

$$\cdot \pi : \underline{x} = (-2, -2, 5) + t(1, 0, -4) + s(8, 9, -6) \quad \mathbf{(42)}$$

$$\cdot \pi : \underline{x} = (0, 1, -1) + t(1, 9, -3) + s(0, 1, -6) \quad \mathbf{(43)}$$

$$\cdot \pi : \underline{x} = t(1, 0, 0) + s(5, -2, -1) \quad \mathbf{(44)}$$

$$\cdot \pi : \underline{x} = t(1, 0, 0) + s(0, 0, 1) \quad \mathbf{(45)}$$

$$\cdot \pi : \underline{x} = (7, 0, 0) + t(0, 0, 1) + s(-7, 12, 0) \quad \mathbf{(46)}$$

## משוואת מישור:

### סיכום כללי:

ניתן להציג מישור ע"י משוואה באופן הבא:  $\pi: ax+by+cz+d=0$ ,  
 כאשר:  $(x, y, z)$  היא נקודה על המישור והמקדמים  $a, b, c$  הם שיעורי ווקטור הנורמל  
 של המישור המסומן:  $\underline{h}=(a, b, c)$ .

### שאלות:

(47) קבע האם הנקודות הבאות נמצאות על המישור  $\pi: 2x-y+3z-6=0$   
 א.  $D(5, 7, 1)$       ב.  $E(2, -1, 1)$

(48) מצא את ערכו של  $k$  שבעבורו הנקודה  $A(1, k, -1)$  נמצאת על  
 המישור:  $\pi: kx-2y+(1+k)z+7=0$ .

(49) נתונה משוואת מישור:  $\pi: 3x+2y-z-9=0$ .  
 מצא את נקודות החיתוך של המישור עם שלושת הצירים.

(50) נתונה משוואת מישור:  $\pi: 4x+y-2z+8=0$ .  
 מצא הצגה פרמטרית של הישר שהמישור חותך מהמישור  $[yz]$ .

### תשובות סופיות:

(47) א. על המישור. ב. לא על המישור.

(48)  $k=3$ .

(49)  $(3, 0, 0)$ ,  $(0, 4\frac{1}{2}, 0)$ ,  $(0, 0, -9)$ .

(50)  $\ell: \underline{x}=(0, -8, 0)+t(0, 2, 1)$ .

## מעברים בין הצגה פרמטרית של מישור ומשוואת מישור:

### שאלות:

51 נתונה משוואת מישור:  $2x + 3z - 12 = 0$ . כתוב הצגה פרמטרית של המישור.

52 נתונה הצגה פרמטרית של מישור:  $\underline{x} = (2, -5, 0) + t(1, 0, 2) + s(0, -1, 3)$ . מצא את משוואת המישור.

53 נתונה הצגה פרמטרית של מישור:  $\underline{x} = t(-2, 2, 1) + s(3, 1, 0)$ . מצא את משוואת המישור.

54 המישור  $\pi$  עובר בנקודות:  $A(1, 0, -3)$ ,  $B(2, 0, 0)$ ,  $C(4, -1, 0)$ . מצא את משוואת המישור.

55 ענה על הסעיפים הבאים:

א. לפניך הנקודות הבאות:  $(2, 0, 5)$ ,  $(0, 1, -2)$ ,  $(1, 1, 0)$ .

i. הראה ששלוש הנקודות אינן נמצאות על ישר אחד ומצא הצגה פרמטרית של המישור הנקבע על ידן.

ii. מצא את משוואת המישור העובר דרך שלוש הנקודות הנ"ל.

ב. מצא שתי נקודות נוספות הנמצאות על המישור שמצאת בסעיף א'.

ג. האם הנקודה  $(4, 2, 1)$  נמצאת על המישור שמצאת בסעיף א'?

### תשובות סופיות:

51  $\underline{x} = (0, 0, 4) + t(0, 1, 0) + s(6, 0, -4)$

52  $\pi: -2x + 3y + z + 19 = 0$

53  $\pi: x - 3y + 8z = 0$

54  $\pi: 3x + 6y - z - 6 = 0$

55 i.  $\underline{x} = (1, 1, 0) + t(-1, 0, -2) + s(1, -1, 5)$ . ii.  $-2x + 3y + z - 1 = 0$

ב. למשל:  $(0, 0, 1)$ ,  $(-0.5, 0, 0)$ . ג. לא.

## מישורים המקבילים לצירים:

שאלות:

56 נתונה משוואת מישור:  $(k+2)x + (k^2 - 2k - 3)y - 3z + k^2 - 1 = 0$ .  
 לאיזה ערך של  $k$  המישור מקביל לציר ה- $y$  (ולא מכיל אותו)?

57 פאותיו של טטראדר נמצאות על המישורים  $x=0$ ,  $y=0$ ,  $z=0$   
 ו- $x+3y+2z-6=0$ . מצא את נפח הטטראדר.

תשובות סופיות:

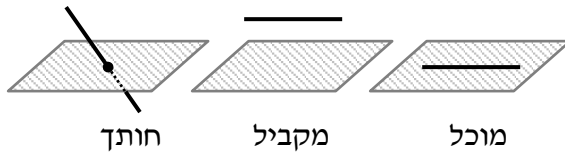
56  $k=3$ .

57 6 יח"נ.

## מצב ההדדי בין ישר ומישור:

### סיכום כללי:

ישנם 3 מצבים הדדיים בין ישר ומישור במרחב:



- הישר חותך את המישור.
- הישר מקביל למישור.
- הישר מוכל במישור.

כדי לדעת מהו המצב ההדדי בין ישר ומישור יש להציב נקודה כללית של הישר במשוואת המישור ולבדוק:

- אם למשוואה המתקבלת יש פתרון יחיד אז הישר חותך את המישור.
- אם למשוואה אין אף פתרון אז הישר מקביל למישור.
- אם למשוואה יש אינסוף פתרונות אז הישר מוכל במישור.

### שאלות:

(58) נתונים הישר והמישור הבאים:  $\ell : \underline{x} = (5, 0, 1) + t(4, 1, -2)$ ,  $\pi : 2x - y - 3z + 6 = 0$ . קבע את המצב ההדדי שביניהם. אם הישר חותך את המישור מצא גם את נקודת החיתוך.

(59) נתונים הישר והמישור הבאים:  $\ell : \underline{x} = (2, -1, 6) + t(-1, 1, 2)$ ,  $\pi : x - 3y + 2z - 11 = 0$ . קבע את המצב ההדדי שביניהם. אם הישר חותך את המישור מצא גם את נקודת החיתוך.

(60) נתונים הישר והמישור הבאים:  $\ell : \underline{x} = (-6, 1, 0) + t(3, 0, -1)$ ,  $\pi : 2x + y + 6z + 11 = 0$ . קבע את המצב ההדדי שביניהם. אם הישר חותך את המישור מצא גם את נקודת החיתוך.

(61) נתונים הישר והמישור הבאים:  $\ell : \underline{x} = (1, a, 3) + t(4, 1 - b, 0)$ ,  $\pi : 2x - y + z - 4 = 0$ . מצא את ערכי  $a$  ו- $b$  בעבורם הישר מוכל במישור.

**תשובות סופיות:**

58) הישר חותך,  $(1, -1, 3)$ .

59) מקבילים.

60) הישר מוכל.

61)  $a = 1, b = -7$ .

## מצב הדדי בין מישורים:

### סיכום כללי:

בין שני מישורים ישנם 3 מצבים הדדיים:

- המישורים נחתכים - במקרה זה יש להם ישר משותף הנקרא ישר החיתוך.
- המישורים מקבילים – לשני המישורים וקטורים פורשים זהים אך ווקטור העתקה שונה.
- המישור מתלכדים - במקרה זה שני המישורים מייצגים את אותו המישור.

עבור שני מישורים כלליים:  $\pi_1: a_1x + b_1y + c_1z + d_1 = 0$  ו-  $\pi_2: a_2x + b_2y + c_2z + d_2 = 0$

נקבע את המצב ההדדי ביניהם באופן הבא:

נחתכים	מקבילים	מתלכדים
כל מצב אחר	$\frac{a_1}{a_2} = \frac{b_1}{b_2} = \frac{c_1}{c_2} \neq \frac{d_1}{d_2}$	$\frac{a_1}{a_2} = \frac{b_1}{b_2} = \frac{c_1}{c_2} = \frac{d_1}{d_2}$

### שאלות:

62 נתונים שני מישורים. קבע את המצב ההדדי ביניהם:

א.  $\pi_1: 2x - y + 4z - 5 = 0$ ,  $\pi_2: 4x - 2y + 8z - 10 = 0$

ב.  $\pi_3: x + 3y - z + 1 = 0$ ,  $\pi_4: 3x + 9y - 3z - 8 = 0$

ג.  $\pi_5: 5x - 2y - 2z + 3 = 0$ ,  $\pi_6: 2x + 3y + z - 5 = 0$

63 נתונים שני המישורים הבאים:

$\pi_1: 2x + (k^2 + k)y - 2z + 1 = 0$ ,  $\pi_2: 4x + 12y - 4z + k^2 - 2 = 0$

מצא את ערכי  $k$  עבורם המישורים:

א. נחתכים      ב. מקבילים      ג. מתלכדים.

### תשובות סופיות:

62 א. מתלכדים. ב. מקבילים. ג. נחתכים.

63 א.  $k \neq 2, -3$ . ב.  $k = -3$ . ג.  $k = 2$ .

## ישר חיתוך בין מישורים:

### שאלות:

64 נתונים שני מישורים נחתכים:  $\pi_1 : 4x + y - 2z + 2 = 0$ ,  $\pi_2 : 2x - y + z + 10 = 0$ . מצא הצגה פרמטרית של ישר החיתוך שבין המישורים.

65 נתונים שני מישורים נחתכים:  $\pi_3 : 8x + 2y - 3z + 2 = 0$ ,  $\pi_4 : 2x - 3y + z + 4 = 0$ . מצא הצגה פרמטרית של ישר החיתוך שבין המישורים.

66 נתונים שני מישורים נחתכים:  $\pi_5 : 3x - 3y + z + 2 = 0$ ,  $\pi_6 : 5x - 2z + 20 = 0$ . מצא הצגה פרמטרית של ישר החיתוך שבין המישורים.

67 נתונים שני מישורים נחתכים:  $\pi_7 : x - 2y - z + 6 = 0$ ,  $\pi_8 : z - 2 = 0$ . מצא הצגה פרמטרית של ישר החיתוך שבין המישורים.

68 מצא הצגה פרמטרית של ישר החיתוך של המישור  $\pi : 6x - 5y + z + 18 = 0$  עם המישור  $[xz]$ .

69 נתונים שני מישורים:  $\pi_1 : x - 3y + 2z - 1 = 0$ ,  $\pi_2 : 4x + y - z - 6 = 0$ . מצא הצגה פרמטרית של ישר המקביל לשני המישורים ועובר בראשית.

### תשובות סופיות:

$$64 \quad \ell : \underline{x} = (-2, 6, 0) + t(2, 16, 12)$$

$$65 \quad \ell : \underline{x} = (0, 2, 2) + t(1, 2, 4)$$

$$66 \quad \ell : \underline{x} = (0, 4, 10) + t\left(4, 7\frac{1}{3}, 10\right)$$

$$67 \quad \ell : \underline{x} = (0, 2, 2) + t(4, 2, 0)$$

$$68 \quad \ell : \underline{x} = (-3, 0, 0) + t(3, 0, -18)$$

$$69 \quad \ell : \underline{x} = t(1, 9, 13)$$

## זווית בין שני ישרים:

### סיכום כללי:

- זווית חדה  $\alpha$  בין שני ישרים  $l_1 = \underline{a}_1 + t\underline{u}_1$  ו-  $l_2 = \underline{a}_2 + s\underline{u}_2$  תחושב:  $\cos \alpha = \frac{|\underline{u}_1 \cdot \underline{u}_2|}{|\underline{u}_1| \cdot |\underline{u}_2|}$ .

### שאלות:

70 מצא את הזווית שבין זוגות הישרים הבאים:

א.  $l_1 : \underline{x} = (4, 0, 0) + t(6, 8, 1)$ ,  $l_2 : \underline{x} = s(-4, 2, -4)$ .

ב.  $l_1 : \underline{x} = (10, 17, -18) + t(3, 0, -6)$ ,  $l_2 : \underline{x} = (6, 5, 4) + s(0, 4, 0)$ .

71 מצא את הזווית שבין ישר העובר דרך הנקודות  $A(3, 4, 6)$ ,  $B(6, 0, -2)$  וישר העובר דרך הנקודות:  $C(6, 5, 1)$ ,  $D(-1, 4, 2)$  וקבע מה המצב ההדדי ביניהם.

72 נתונות הנקודות  $A(1, -3, 0)$ ,  $B(4, 2, -1)$ ,  $C(3, -1, 2)$ .

א. מצא הצגה פרמטרית של ישר במרחב העובר דרך הנקודות:

i.  $A$  ו-  $B$ .

ii.  $B$  ו-  $C$ .

iii.  $A$  ו-  $C$ .

ב. מי מבין הנקודות  $D(4, 2, -1)$  ו-  $E(7, 7, -3)$  נמצאת על הישר  $AB$  שמצאת בסעיף הקודם?

ג. חשב את הזווית שבין הישר  $AB$  והישר  $BC$ .

73 נתון מישור שמשוואתו:  $3x - 4y + 6 = 0$ . הנקודות  $A(x, 6, 1)$ ,  $B(-2, y, -1)$ .

נמצאות על המישור והנקודה  $C$  נמצאת על מישור  $[yz]$  ומקיימת:  $z_C = 11$ .

מצא את שיעורי הנקודה  $C$  אם ידוע כי קוסינוס הזווית שבין הישרים  $AB$  ו-  $AC$

הוא:  $\sqrt{\frac{13}{76}}$ .

## תשובות סופיות:

ב.  $90^\circ$ .(70) א.  $78.521^\circ$ (71)  $68.21^\circ$ . הישרים מצטלבים.א. ii.  $\ell : \underline{x} = (4, 2, -1) + t(-1, -3, 3)$ (72) א. i.  $\ell : \underline{x} = (1, -3, 0) + t(3, 5, -1)$ ב. הנקודה D. ג.  $35.477^\circ$ .א. iii.  $\ell : \underline{x} = (1, -3, 0) + t(2, 2, 2)$ 

(73) C(0, 2, 11) או C(0, 28.45, 11)

## זווית בין ישר ומישור:

### סיכום כללי:

• זווית חדה  $\alpha$  בין ישר  $l = \underline{a} + t\underline{u}$  ומישור  $\pi : ax + by + cz + d = 0$

$$\sin \alpha = \frac{|\underline{u} \cdot \underline{h}|}{|\underline{u}| \cdot |\underline{h}|}$$

תחושב ע"י הנוסחה הבאה:

### שאלות:

(74) מצא את הזווית שבין הישר והמישור הבאים:

$$\ell : \underline{x} = (-2, 0, 5) + t(-2, 1, 2), \quad \pi : 3x - 2y + 2z + 9 = 0$$

(75) נתונות הנקודות  $A(1, -1, 2)$ ,  $B(0, 2, -1)$ ,  $C(1, 2, 5)$ ,  $D(-7, 3, -1)$

מצא את הזווית בין הישר העובר בנקודות A ו-D ובין המישור ABC.

(76) נתונה פירמידה משולשת SABC, שמשוואת הבסיס ABC שלה

$$\text{היא: } 2x + y - 2z - 6 = 0. \text{ קדקוד הפירמידה הוא } S(3, 1, -2).$$

מצא את הזווית בין המקצוע הצדדי SB לבסיס הפירמידה,

$$\text{אם נתון כי שיעורי הקודקוד B מקיימים: } x_B = z_B = -1.$$

### תשובות סופיות:

(74)  $18.87^\circ$

(75)  $44.83^\circ$

(76)  $14.9^\circ$

## זווית בין שני מישורים:

### סיכום כללי:

• זווית חדה  $\alpha$  בין שני מישורים:  $\pi_1: a_1x + b_1y + c_1z + d_1 = 0$  ו- $\pi_2: a_2x + b_2y + c_2z + d_2 = 0$

• תחושב ע"י:  $\cos \alpha = \frac{|h_1 \cdot h_2|}{|h_1| \cdot |h_2|}$

### שאלות:

(77) מצא את הזווית שבין המישורים הבאים:  $\pi_1: 4x + 3y + z - 12 = 0$   
 ו- $\pi_2: 4x - 7y + 5z + 3 = 0$

(78) נתונה פירמידה משולשת ABCD, שקודקודה הם:  
 $A(0, 2, -5)$ ,  $B(3, -1, 1)$ ,  $C(7, -1, -5)$ ,  $D(3, 2, 0)$   
 מצא את הזווית בין הפאה הצדדית ABD לבסיס הפירמידה ABC.

(79) מצא את הזווית בין מישור שמשוואתו  $3x + 5y - z + 4 = 0$  למישור  $[xz]$ .

### תשובות סופיות:

(77)  $90^\circ$

(78)  $87.539^\circ$

(79)  $32.312^\circ$

## מרחק בין שתי נקודות במרחב:

**סיכום כללי:**

מרחק בין שתי נקודות  $A(x_1, y_1, z_1)$  ו-  $B(x_2, y_2, z_2)$  במרחב יחושב באופן

$$\text{הבא: } d_{AB} = \sqrt{(x_2 - x_1)^2 + (y_2 - y_1)^2 + (z_2 - z_1)^2}$$

**שאלות:**

**(80)** נתונות הנקודות:  $A(2, 4, -5)$ ,  $B(0, -2, 6)$  ו-  $C(k, -1, 13 - k)$ .  
מצא ערכי  $k$  עבורם המשולש  $ABC$  יהיה שווה-שוקיים:  $AB = AC$ .

**תשובות סופיות:**

**(80)**  $k = 12$  או  $k = 8$ .

## מרחק בין נקודה לישר:

### סיכום כללי:

מרחק בין נקודה  $A(x_1, y_1, z_1)$  לישר הנתון בהצגה פרמטרית:  $l: \underline{x} = \underline{a} + t\underline{u}$  יחושב ע"י העברת אנך מהנקודה לישר וחישוב אורכו. כדי למצוא את נקודת החיתוך יש להשוות את מכפלת הווקטור האנך בווקטור הכיוון של הישר לאפס.

### שאלות:

81 מצא את המרחק שבין הנקודה  $A(13, -1, -19)$  לישר  $l: \underline{x} = t(2, 0, -7)$ .

82 נתונות הנקודות  $A(1, 6, -1)$ ,  $B(2, -1, 0)$ ,  $C(6, -4, 0)$ .  
חשב את שטח המשולש ABC.

83 על הישר  $l: \underline{x} = (5, -2, 0) + t(0, 1, -1)$  מונחת הצלע AB של ריבוע ABCD.  
אחד מקודקודי הריבוע הוא  $D(5, 4, 2)$ .  
מצא את שיעורי הקודקוד B (שתי אפשרויות).

### תשובות סופיות:

81  $\sqrt{54}$

82 12.75 יח"ש.

83  $B(5, 4, -6)$  או  $B(5, -4, 2)$ .

## מרחק בין נקודה למישור:

### סיכום כללי:

מרחק בין נקודה  $A(x_1, y_1, z_1)$  למישור  $\pi: ax + by + cz + d = 0$  יחושב

$$.d = \left| \frac{ax_1 + by_1 + cz_1 + d}{\sqrt{a^2 + b^2 + c^2}} \right| \text{ עיני:}$$

### שאלות:

(84) מצא את מרחקו של המישור  $4x - 2y - 4z + 15 = 0$  מראשית הצירים.

(85) מצא משוואת מישור המאונך לישר  $\ell: \underline{x} = (1, -8, 3) + t(3, -2, 1)$

ונמצא במרחק  $\sqrt{14}$  מהנקודה  $A(4, 5, -9)$ .

(86) נתונים ישר ומישור:  $\pi: 2x + 4y - 4z + 15 = 0$ ,  $\ell: \underline{x} = (7, 19, -3) + t(3, 14, -4)$ .

מצא את הנקודות שעל הישר שמרחקן מהמישור הוא 6.5.

### תשובות סופיות:

$$.2 \frac{1}{2} \quad (84)$$

$$. \pi: 3x - 2y + z - 7 = 0 \text{ או } \pi: 3x - 2y + z + 21 = 0 \quad (85)$$

$$.(1, -9, 5) \text{ או } (4, 5, 1) \quad (86)$$

## מרחק בין ישרים מקבילים:

### סיכום כללי:

מרחק בין שני ישרים מקבילים יחושב ע"י שימוש בנקודה מאחד הישרים ומציאת מרחקה מהישר השני ע"י העברת אנך מהנקודה לישר וחישוב אורכו.

### שאלות:

87 נתונות הנקודות  $A(15,0,-4)$ ,  $B(12,-5,2)$ ,  $C(6,1,4)$ ,  $D(12,11,-8)$

א. מצא את המצב ההדדי בין הישר העובר בנקודות A ו-B

ובין הישר העובר בנקודות C ו-D.

ב. מצא את המרחק בין הישרים מסעיף א'.

88 4 צלעות של מרובע מונחות על הישרים:

$$l_1: \underline{x} = (2, 0, -1) + t(1, -2, 1) \quad , \quad l_2: \underline{x} = (-8, -1, 19) + s(-4, 1, 6)$$

$$l_3: \underline{x} = (-2, 7, -11) + r(-2, 4, -2) \quad , \quad l_4: \underline{x} = (-2, 1, 5) + q(4, -1, -6)$$

א. הוכח כי המרובע הוא מלבן.

ב. מצא את שטח המלבן.

### תשובות סופיות:

87 א. מקבילים. ב.  $\sqrt{76}$  יח"א.

88 א. הוכחה. ב.  $\sqrt{824}$  יח"ש.

## מרחק בין ישר למישור:

### סיכום כללי:

מרחק בין ישר ומישור (המקביל לו) יחושב ע"י שימוש בנקודה שעל הישר ומציאת מרחקה מהמישור.

### שאלות:

89 נתונה משוואת מישור:  $4x - z + 6 = 0$ .

א. מצא את המצב ההדדי בין ציר ה- $y$  ובין המישור הנתון.

ב. מצא את המרחק בין ציר ה- $y$  ובין המישור הנתון.

90 נתונים ישר ומישור:  $\pi: 3x + 12y - 4z + k - 10 = 0$ ,  $l: \underline{x} = (1, k - 1, 5) + t(4, -2, -3)$ .

א. הוכח שהישר מקביל למישור או מוכל בו.

ב. מצא את ערכו של הפרמטר  $k$  שעבורו המרחק בין הישר למישור הוא 1.

### תשובות סופיות:

89 א. הישר מקביל למישור. ב.  $\frac{6}{\sqrt{17}}$ .

90 א. הוכחה. ב.  $k = 2, 4$ .

## מרחק בין מישורים מקבילים:

### סיכום כללי:

מרחק בין שני מישורים מקבילים יחושב לפי אחת מהאפשרויות הבאות:  
 1. שימוש בנקודה שעל מישור אחד ומציאת מרחקה מהמישור השני.

$$2. \text{ שימוש בנוסחה: } d = \left| \frac{d_1 - d_2}{\sqrt{a^2 + b^2 + c^2}} \right|$$

### שאלות:

**91** נתונה משוואת מישור:  $\pi : 3x - 4y + 5z - 10 = 0$ .

מצא משוואת מישור המקביל למישור הנתון והנמצא במרחק  $\sqrt{8}$  ממנו.

**92** נתונים שני מישורים מקבילים:  $\pi_1 : x - 2y - 2z + 6 = 0$ ,  $\pi_2 : x - 2y - 2z - 12 = 0$ .

מצא את משוואת המישור המקביל לשני המישורים הנתונים והנמצא במרחק שווה משניהם.

**93** נתונים שישה מישורים:

$$\pi_1 : 2x + y - 2z - 11 = 0, \quad \pi_2 : x + 2y + 2z + 5 = 0, \quad \pi_3 : 2x - 2y + z + 3 = 0$$

$$\pi_4 : 2x + y - 2z + 7 = 0, \quad \pi_5 : x + 2y + 2z - 1 = 0, \quad \pi_6 : kx + qy + z + p = 0$$

מצא את ערכי הפרמטרים  $k, q, p$  שעבורם ששת המישורים יוצרים תיבה שנפחה 60 יחידות נפח.

**94** כדור שמרכזו בנקודה  $O(3, 8, -1)$  חסום בקובייה שבסיסה התחתון

$$\text{מונח על מישור שמשוואתו } 12x + 4y - 3z - 6 = 0$$

מצא את משוואת המישור עליו מונח הבסיס העליון של הקובייה.

### תשובות סופיות:

**91**  $\pi_1 : 3x - 4y + 5z + 10 = 0$ ,  $\pi_2 : 3x - 4y + 5z - 30 = 0$

**92**  $\pi_3 : x - 2y - 2z - 3 = 0$

**93**  $k = 2, q = -2, p = 18, -12$

**94**  $12x + 4y - 3z - 136 = 0$

## מרחק בין ישרים מצטלבים:

### סיכום כללי:

מרחק בין ישרים מצטלבים יחושב ע"י כתיבת משוואת מישור של אחד הישרים ומציאת מרחקו מהישר השני.

### שאלות:

95 נתונים שני הישרים הבאים:  $\ell_1 : \underline{x} = (-3, 2, 6) + t(-4, 1, 2)$

$$\cdot \ell_2 : \underline{x} = (0, 2, -7) + s(1, 0, -1)$$

הראה שהישרים מצטלבים ומצא את המרחק שביניהם.

96 נתונים שני הישרים המצטלבים הבאים:  $\ell_1 : \underline{x} = (-1, 0, 5) + t(1, 1, -2)$

$$\cdot \ell_4 : \underline{x} = (2, -1, 9) + s(6, -1, 0)$$

מצא את המרחק שביניהם.

97 מצא את מרחק הישר  $\ell : \underline{x} = (4, -2, -1) + t(-1, 1, 6)$  מציר ה- $z$ .

### תשובות סופיות:

95  $\frac{10}{\sqrt{6}}$  יח"א.

96 1.567 יח"א.

97  $\sqrt{2}$  יח"א.

## שאלות מסכמות בוקטורים:

### שאלות:

- (1)** נתונות הנקודות  $A(1,1,3)$ ,  $B(1,2,0)$ ,  $C(1,1,1)$ .
- מצא הצגה פרמטרית של הישר המחבר את B עם C. הראה כי הנקודה A לא נמצאת על הישר הזה.
  - חשב את המרחק בין הנקודה A לבין הישר המחבר את B עם C.
  - מצא את משוואת המישור העובר דרך הנקודה A והמאונך לישר המחבר את B עם C.
- (2)** מצא את מצבם ההדדי של זוגות הישרים הבאים וקבע אם הם נחתכים, מקבילים, מתלכדים או מצטלבים.
- במקרה בו הישרים נחתכים מצא גם את נקודות החיתוך ואת הזווית בין הישרים. במקרה בו הישרים מקבילים או מצטלבים מצא גם את המרחק ביניהם.
- $\underline{x} = (1,0,1) + t(1,2,0)$ ,  $\underline{x} = (1,1,0) + s(2,4,0)$
  - $\underline{x} = (-2,2,4) + u(6,6,1)$ ,  $\underline{x} = (1,-1,0) + s(12,-3,1)$
  - $\underline{x} = (1,1,2) + t(1,2,-1)$ ,  $\underline{x} = (2,3,1) + s(2,4,-2)$
  - $\underline{x} = (1,-1,0) + t(0,2,-4)$ ,  $\underline{x} = (2,0,3) + s(-1,-3,1)$
- (3)** מצא את המצב ההדדי של המישור והישר וקבע אם הישר חותך את המישור, מקביל למישור או מוכל במישור.
- במקרה שהישר חותך את המישור, מצא גם את נקודת החיתוך וגם את הזווית בין הישר למישור. במקרה בו הישר מקביל למישור מצא את מרחק הישר מהמישור.
- $2x - 3y + 4z - 5 = 0$ ,  $\underline{x} = (1,0,2) + t(-1,2,2)$
  - $2x - 5y + 3z - 6 = 0$ ,  $\underline{x} = (-3,0,4) + t(4,-2,-6)$
  - $2x - 14y + 10z = -6$ ,  $\underline{x} = (2,1,-2) + t(-2,2,0)$
- (4)** מצא את המצב ההדדי של המישורים וקבע אם הם מקבילים, מתלכדים או נחתכים. במקרה בו המישורים מקבילים מצא את המרחק ביניהם. במקרה בו הם נחתכים מצא את הזווית ביניהם ואת ישר החיתוך ביניהם.
- $x - 2y + 2z - 10 = 0$ ,  $2x + y + 2z - 4 = 0$
  - $2x - 5y + 3z - 6 = 0$ ,  $4x - 10y + 6z - 8 = 0$
  - $2x - 14y + 10z = -6$ ,  $x - 7y + 5z = -3$

- (5) נתונה קובייה ABCDA'B'C'D' שנפחה הוא 8.  
 משוואת המישור שעליו מונח הבסיס ABCD היא:  $\pi_1 : 4x + y + 3z - 28 = 0$ .  
 משוואת המישור שעליו מונחת הפאה ABB'A' היא:  $\pi_2 : x + 2y - 2z + 6 = 0$ .  
 מצא הצגה פרמטרית של הישר שעליו מונח המקצוע CD (2 אפשרויות).
- (6) הנקודה A(4,0,-1) נמצאת על כדור שמרכזו O(1,1,2).  
 מצא את משוואת המישור המשיק לכדור בנקודה A.
- (7) נתונים מישור וישר:  $\pi : 2x - y + 2z + 1 = 0$ ,  $\ell : \underline{x} = (1,5,5) + t(1,1,0)$ .  
 מצא נקודה על חלקו החיובי של ציר ה-z הנמצאת במרחקים שווים מהמישור ומהישר.
- (8) נתונים שני מישורים:  $\pi_1 : 2x - 4y + 4z - 5 = 0$ ,  $\pi_2 : 4x - 2y + 4z - 1 = 0$ .  
 מצא הצגה פרמטרית של ישר, שנמצא במרחק 2 ממישור  $\pi_1$  ובמרחק 6 ממישור  $\pi_2$  (מצא הצגה של ישר אחד מתוך 4 אפשריים).
- (9) נתונים ישר ומישור:  $\pi : 6x + 2y - z + 5 = 0$ ,  $\ell_1 : \underline{x} = (0,-3,0) + t(1,1,-8)$ .  
 ישר נוסף,  $\ell_2$ , המקביל למישור  $\pi$ , עובר בנקודה P(1,0,-4) וחותך את הישר  $\ell_1$  בנקודה Q. מבין הנקודות שבמישור  $\pi$ , הנקודה P' היא הקרובה ביותר לנקודה P והנקודה Q' היא הקרובה ביותר לנקודה Q. מצא את שטח המלבן P'Q'QP. (הדרכה: הבע באמצעות t את וקטור הכיוון של  $\ell_2$ ).
- (10) נתונים שני מישורים:  $\pi_1 : 2x + y + z - 5 = 0$ ,  $\pi_2 : 3x + y + 2z + 11 = 0$ .  
 $\ell_1$  הוא ישר החיתוך בין שני המישורים.  
 המישור  $\pi_3$  מכיל את הישר  $\ell_1$  ויוצר זווית של  $60^\circ$  עם הישר  $\ell_2 : \underline{x} = (1,3,-4) + t(1,1,0)$ .  
 מצא את משוואת המישור  $\pi_3$ .

## תשובות סופיות:

- (1) א.  $\underline{x} = (1, 2, 0) + t(0, -1, 1)$  ב.  $\sqrt{2}$  ג.  $y - z + 2 = 0$
- (2) א. מקבילים, 1.095 ב. מצטלבים, 4.07 ג. מתלכדים  
 ד. נחתכים בנקודה  $(1, -3, 4)$ , הזווית היא:  $47.6^\circ$
- (3) א. מקביל, 0.9284 ב. מוכל  
 ג. חותך בנקודה  $(3.5, -0.5, -2)$ , הזווית היא:  $40.78^\circ$
- (4) א. נחתכים. ישר חיתוך:  $\underline{x} = (0, -2, 3) + t(3, -1, -2.5)$ , זווית:  $63.6^\circ$ .  
 ב. מקבילים. המרחק: 0.324 ג. מתלכדים.
- (5)  $\ell: \underline{x} = (0, 7, 7) + t(8, -11, -7)$ ,  $\ell: \underline{x} = (0, 2.5, 8.5) + t(2, -2.75, -1.75)$
- (6)  $\pi: -3x + y + 3z + 15 = 0$
- (7)  $(0, 0, 4)$  או  $(0, 0, 14\frac{4}{5})$
- (8)  $\ell: \underline{x} = (0, -14, -15\frac{3}{4}) + t(-14, 14, 21)$
- (9) 10.467 יח"ש.
- (10)  $\pi_3: x + 2y - z - 58 = 0$  או  $\pi_3: 2x + y + z - 5 = 0$

## שאלות הנפתרות עם מכפלה וקטורית:

### שאלות:

#### מציאת משוואת מישור:

(1) נתונה הצגה פרמטרית של מישור:  $\pi : \underline{x} = t(-2, 2, 1) + s(3, 1, 0)$   
מצא את משוואת המישור.

(2) המישור  $\pi$  עובר בנקודות:  $A(1, 0, -3)$ ,  $B(2, 0, 0)$ ,  $C(4, -1, 0)$   
מצא את משוואת המישור.

(3) נתונים שני ישרים:  $\ell_1 : \underline{x} = (5, -4, 1) + t(0, 2, -1)$ ,  $\ell_2 : \underline{x} = (0, -6, 2) + s(0, -2, 1)$   
הראה שהישרים מקבילים ומצא את משוואת המישור המכיל אותם.

(4) נתונים שני ישרים:  $\ell_1 : \underline{x} = (-1, 1, 3) + t(3, -2, 4)$ ,  $\ell_2 : \underline{x} = (-7, 1, 0) + s(4, -3, 0)$   
הראה שהישרים מצטלבים ומצא את משוואת המישור המכיל את הישר  $\ell_1$   
ומקביל לישר  $\ell_2$ .

(5) מצא משוואת מישור שעובר בנקודה  $A(6, 0, -1)$  ומכיל את ציר ה- $z$ .

#### מצב הדדי בין ישר ומישור:

(6) נתונים הישר והמישור הבאים:  
 $\pi : \underline{x} = (-1, 0, 2) + s(1, 0, -2) + r(3, 0, -1)$ ,  $\ell : \underline{x} = (0, 3, -2) + t(1, -1, 2)$   
קבע את המצב ההדדי שביניהם.  
אם הישר חותך את המישור מצא גם את נקודת החיתוך.

(7) נתונים שני המישורים הבאים:  $\pi_1 : x - 3y + 2z - 1 = 0$ ,  $\pi_2 : 4x + y - z - 6 = 0$   
מצא הצגה פרמטרית של ישר המקביל לשני המישורים ועובר בראשית.

## מצב הדדי בין מישורים:

(8) במקבילון ABCDA'B'C'D' נתונים שלוש הקודקודים הבאים:

$$A(1, -1, 4), B(9, 0, 2), C(5, 2, -2)$$

מצא את משוואת המישור עליו מונחת הפאה A'B'C'D' אם ידוע שהנקודה  $(2, -1, 0)$  נמצאת עליו.

## מציאת ישר חיתוך בין שני מישורים:

(9) המישורים  $\pi_1$  ו- $\pi_2$  מאונכים זה לזה.

הישר  $\ell: \underline{x} = (4, 1, -1) + t(2, -1, 1)$  הוא ישר החיתוך שבין המישורים.

מצא את משוואות המישורים אם ידוע שהמישור  $\pi_1$  עובר בראשית.

(10) נתונים ישר ומישור:  $\pi: 4x - 2y - 3z - 6 = 0$ ,  $\ell: \underline{x} = (-2, 0, 5) + t(3, 1, -1)$ .

מצא הצגה פרמטרית של הישר שהוא היטלו של הישר  $\ell$  על המישור.

## חישובי מרחקים שונים:

(11) חשב את נפחה של פירמידה משולשת SABC שקודקודה הם:

$$A(1, 6, -1), B(2, -1, 0), C(6, -4, 0), S(11, -2, 4)$$

(12) בפירמידה משולשת SABC המקצועות SA, SB ו-SC מאונכים זה לזה.

$$SA = 6, SB = 8, SC = 12.$$

חשב את אורכו של גובה הפירמידה היורד מהקודקוד S לבסיס ABC.

(13) נתונים שני הישרים הבאים:  $\ell_1: \underline{x} = (-3, 2, 6) + t(-4, 1, 2)$

$$\text{ו-} \ell_2: \underline{x} = (0, 2, -7) + s(1, 0, -1)$$

הראה שהישרים מצטלבים ומצא את המרחק שביניהם.

(14) נתונים שני הישרים המצטלבים הבאים:  $\ell_1: \underline{x} = (-1, 0, 5) + t(1, 1, -2)$

$$\text{ו-} \ell_4: \underline{x} = (2, -1, 9) + s(6, -1, 0).$$

מצא את המרחק שביניהם.

(15) מצא את מרחק הישר  $\ell: \underline{x} = (4, -2, -1) + t(-1, 1, 6)$  מציר ה- $z$ .

## שאלות שונות:

16 נתונים שני ישרים:  $\ell_1 : \underline{x} = (-2, 1, 5) + t(5, -4, 2)$ ,  $\ell_2 : \underline{x} = (-7, 3, -1) + s(-5, 4, -2)$ .

א. מצא את המצב ההדדי שבין הישרים.

ב. המישור  $\pi_1$  מכיל את שני הישרים והמישור  $\pi_2$  נמצא בין שני הישרים

במרחק שווה מכל אחד מהם, מקביל לשני הישרים ומאונך למישור  $\pi_1$ .

מצא את משוואות המישורים  $\pi_1$  ו- $\pi_2$ .

17 נתונים שני מישורים:  $\pi_1 : 2x - y + 4z - 8 = 0$ ,  $\pi_2 : x - y + 2z - 4 = 0$ .

המישור  $\pi_3$  מכיל את ישר החיתוך של שני המישורים וחותך את ציר ה- $y$

בנקודה A כך שמתקיים  $OA = m$  (O ראשית הצירים).

הזווית שבין המישור  $\pi_2$  למישור  $\pi_3$  היא  $\alpha$  ונתון כי:  $\cos \alpha = \frac{2}{3}$ .

מצא את הערכים האפשריים של הפרמטר  $m$ .

18 נתונות שלוש נקודות:  $A(3, -1, 1)$ ,  $B(2, -1, 0)$ ,  $O(3, 1, 0)$ .

הנקודות A ו-B נמצאות על היקפו של מעגל שהנקודה O היא מרכזו.

מצא הצגה פרמטרית של הישר המשיק למעגל בנקודה A

(הישר נמצא במישור המעגל).

**תשובות סופיות:**

(1)  $\pi: x - 3y + 8z = 0$

(2)  $\pi: 3x + 6y - z - 6 = 0$

(3)  $\pi: y + 2z + 2 = 0$

(4)  $\pi: 12x + 16y - z - 1 = 0$

(5)  $\pi: y = 0$

(6) נחתכים בנקודה:  $(3, 0, 4)$

(7)  $l: \underline{x} = t(1, 9, 13)$

(8)  $\pi_{ABCD}: 2y + z + 2 = 0$

(9)  $\pi_1: y + z = 0$ ,  $\pi_2: x + y - z - 6 = 0$

(10)  $l: \underline{x} = (-5, -13, 0) + t(7, 11, 2)$

(11) יח"נ 20.5

(12) יח"א 4.46

(13) יח"א  $\frac{4}{\sqrt{6}}$

(14) יח"א 1.567

(15) יח"א  $\sqrt{2}$

(16) א. הישרים מקבילים. ב.  $\pi_2: y + 2z - 6 = 0$ ,  $\pi_1: 2x + 2y - z + 7 = 0$

(17)  $m = -\frac{4}{7}$  או  $m = 4$

(18)  $l: \underline{x} = (3, -1, 1) + k(-5, -2, -4)$

# אלגברה בסיסית

פרק 2 - וקטורים גיאומטריים

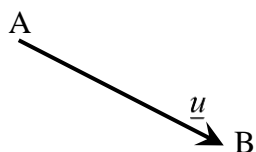
תוכן העניינים

- 1. הגדרות וכללים יסודיים ..... 43
- 2. וקטורים הפורשים מישור ..... 48
- 3. מכפלה סקלרית וחישוב גודל של וקטור ..... 52

## הגדרות וכללים יסודיים:

### סיכום כללי:

#### הגדרה כללית:

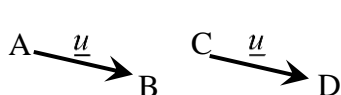


להלן תיאור של ווקטור גיאומטרי: ווקטור שמוצאו בנקודה A ומסתיים בנקודה B יסומן באופן הבא:  $\overline{AB}$ .

ניתן לסמן ווקטור באות קטנה באופן הבא:  $\underline{u}$  (אותיות מקובלות לסימון הן:  $\underline{u}, \underline{v}, \underline{w}$ ).  
מהאיור לעיל מתקיים:  $\overline{AB} = \underline{u}$ .

#### קשרים בין ווקטורים:

- ווקטורים שווים: שני ווקטורים נקראים שווים אם הם זהים בגודלם ובכיוונם.



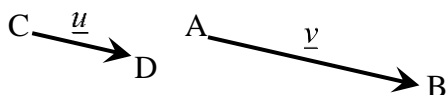
דוגמא לווקטורים שווים: מתקיים:  $\overline{AB} = \overline{CD}$ .

- ווקטורים מקבילים: שני ווקטורים שכיוונם זהה נקראים מקבילים.

ניתן להביע את האחד באמצעות השני ע"י כפל בסקלר.

ווקטורים מקבילים נקראים גם "ווקטורים תלויים ליניארית".

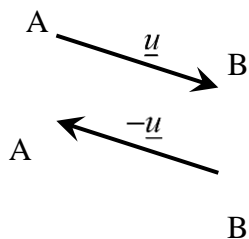
דוגמא לתלות בין ווקטורים מקבילים:



עבור  $\alpha > 1$  מתקיים:  $\underline{v} = \alpha \underline{u}$ , או:  $\overline{AB} = \alpha \cdot \overline{CD}$ .

- אם זוג ווקטורים במרחב:  $\overline{AB} = \alpha \underline{u} + \beta \underline{v} + \gamma \underline{w}$  ו-  $\overline{CD} = a \underline{u} + b \underline{v} + c \underline{w}$  מקבילים

אז מתקיים:  $\frac{\alpha}{a} = \frac{\beta}{b} = \frac{\gamma}{c}$ .



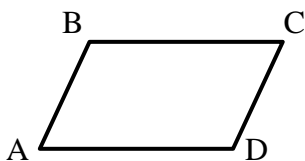
- ווקטור המסומן  $\overline{BA}$  הוא בעל גודל זהה לווקטור  $\overline{AB}$

וכיוון הפוך לו. במקרה זה מתקיים:  $\overline{BA} = -\underline{u}$ .

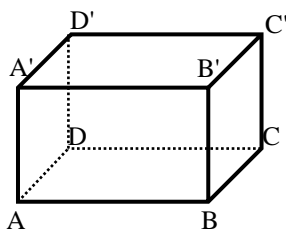
#### הערה:

שני ווקטורים  $\underline{u}$  ו-  $\underline{v}$  יקראו מקבילים אם מתקיים:  $\underline{v} = \alpha \underline{u}$  כאשר הגודל  $\alpha$  יכול לקבל כל ערך מספרי בתחום  $\alpha \neq 0$ . בפרט עבור  $\alpha < 0$  כיוונם הפוך ב-  $180^\circ$ .

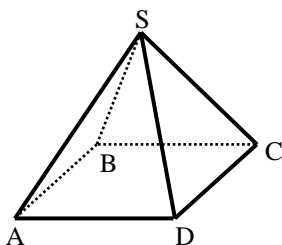
**שאלות:**



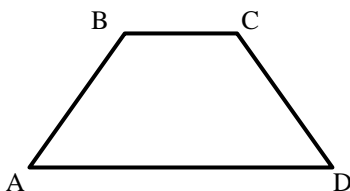
(1) במקבילית ABCD נתון:  $\overline{AB} = \underline{u}$ ,  $\overline{AD} = \underline{v}$   
מצא את כל הווקטורים במקבילית ששווים ל- $\underline{u}$  או  $\underline{v}$ .



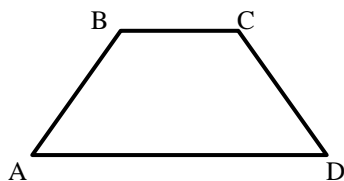
(2) בתיבה ABCDA'B'C'D' נתון:  $\overline{AB} = \underline{u}$ ,  $\overline{AD} = \underline{v}$ ,  $\overline{AA'} = \underline{w}$   
מצא את כל הווקטורים בתיבה ששווים ל- $\underline{u}$ ,  $\underline{v}$  או  $\underline{w}$ .



(3) בפירמידה SABCD שבסיסה ריבוע נתון:  $\overline{AB} = \underline{u}$ ,  $\overline{AD} = \underline{v}$ ,  $\overline{AS} = \underline{w}$   
מצא את כל הווקטורים שבפירמידה השווים ל- $\underline{u}$ ,  $\underline{v}$  או  $\underline{w}$ .

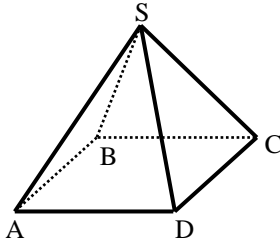


(4) בטרפז ABCD שבשרטוט נתון:  $\overline{AB} = \underline{u}$ ,  $\overline{AD} = \underline{v}$ ,  $AD = 3BC$   
מצא את כל הווקטורים בטרפז שניתן להביע באמצעות  $\underline{u}$  או  $\underline{v}$ .



(5) בטרפז ABCD שבשרטוט נתון:  $\overline{AB} = \underline{u}$ ,  $\overline{AD} = \underline{v}$ ,  $AD = 3BC$

- א. הבע באמצעות  $\underline{u}$  ו- $\underline{v}$  את הווקטורים  $\overline{AC}$  ו- $\overline{DC}$ .
- ב. הנקודה E היא אמצע הצלע AD. הבע באמצעות  $\underline{u}$  ו- $\underline{v}$  את הווקטור  $\overline{BE}$ .
- ג. הנקודה F היא אמצע הצלע CD. הבע באמצעות  $\underline{u}$  ו- $\underline{v}$  את הווקטור  $\overline{AF}$ .



6 בפירמידה  $SABCD$  שבסיסה ריבוע

נתון:  $\overline{AB} = \underline{u}$ ,  $\overline{AD} = \underline{v}$ ,  $\overline{AS} = \underline{w}$ .

א. הבע באמצעות  $\underline{u}$ ,  $\underline{v}$  ו- $\underline{w}$  את

הווקטורים  $\overline{AC}$  ו- $\overline{SC}$ .

ב. הנקודה  $N$  היא אמצע המקצוע  $SD$ .

הבע באמצעות  $\underline{u}$ ,  $\underline{v}$  ו- $\underline{w}$  את הווקטור  $\overline{BN}$ .

7 הנקודה  $P$  נמצאת על הקטע  $AB$  כך ש:  $AP:PB = 2:3$ . נתון:  $\overline{AB} = \underline{u}$ .

הבע באמצעות  $\underline{u}$  את הווקטורים  $\overline{AP}$  ו- $\overline{PB}$ .

8 הנקודה  $P$  נמצאת על הקטע  $AB$  כך ש:  $AP:PB = 3:5$ . נתון:  $\overline{AP} = \underline{u}$ .

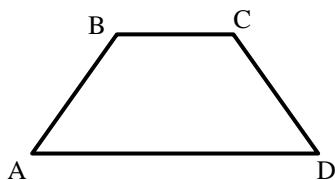
הבע באמצעות  $\underline{u}$  את הווקטורים  $\overline{PB}$  ו- $\overline{AB}$ .

9 הנקודה  $P$  נמצאת על הקטע  $AB$  כך ש:  $\frac{AP}{AB} = \alpha$ . נתון:  $\overline{AB} = \underline{u}$ .

הבע באמצעות  $\underline{u}$  את הווקטורים  $\overline{AP}$  ו- $\overline{PB}$ .

10 הנקודה  $P$  נמצאת על הקטע  $AB$  כך ש:  $\frac{AP}{PB} = \alpha$ . נתון:  $\overline{AB} = \underline{u}$ .

הבע באמצעות  $\underline{u}$  את הווקטורים  $\overline{AP}$  ו- $\overline{PB}$ .



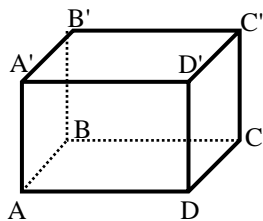
11 בטרפז  $ABCD$  שבשרטוט

נתון:  $\overline{AB} = \underline{u}$ ,  $\overline{AD} = \underline{v}$ ,  $AD = 3BC$ .

הנקודה  $F$  נמצאת על הצלע  $CD$

ומקיימת:  $\frac{DF}{FC} = \beta$ .

הבע באמצעות  $\underline{u}$ ,  $\underline{v}$  ו- $\beta$  את הווקטור  $\overline{AF}$ .

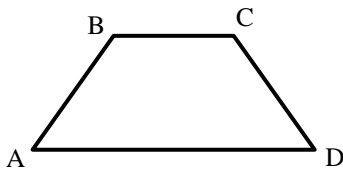


**(12)** בתיבה  $ABCD A'B'C'D'$  נתון:  $\overline{AB} = \underline{u}$ ,  $\overline{AD} = \underline{v}$ ,  $\overline{AA'} = \underline{w}$

הנקודה P נמצאת על המקצוע  $A'B'$  ומקיימת:  $\frac{AP}{A'B'} = \alpha$

והנקודה Q נמצאת על המקצוע  $CC'$  ומקיימת:  $\frac{CQ}{QC'} = \beta$

הבע באמצעות  $\alpha$ ,  $\underline{u}$ ,  $\underline{v}$ ,  $\underline{w}$  ו- $\beta$  את הווקטור:  $\overline{PQ}$ .

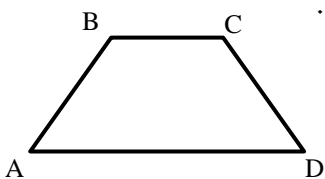


**(13)** בטרפז ABCD שבשרטוט נתון:  $\overline{AB} = \underline{u}$ ,  $\overline{AD} = \underline{v}$ ,  $AD = 3BC$

הנקודה E נמצאת באמצע הצלע CD.

הנקודה F נמצאת על הצלע AD ומקיימת:  $\frac{AF}{FD} = \alpha$

מצא את ערכו של  $\alpha$  שבעבורו מתקיים  $\overline{FE} \parallel \overline{AB}$ .

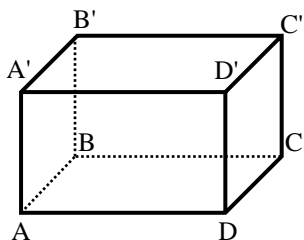


**(14)** בטרפז ABCD שבשרטוט נתון:  $\overline{AB} = \underline{u}$ ,  $\overline{AD} = \underline{v}$ ,  $AD = 3BC$

הנקודה E נמצאת באמצע הצלע CD.

הנקודה F נמצאת על הצלע AD ומקיימת:  $\frac{AF}{FD} = \alpha$

מצא את ערכו של  $\alpha$  שבעבורו מתקיים:  $\overline{FE} \parallel \overline{AC}$ .



**(15)** בתיבה  $ABCD A'B'C'D'$  נתון:  $\overline{AB} = \underline{u}$ ,  $\overline{AD} = \underline{v}$ ,  $\overline{AA'} = \underline{w}$

הנקודה P נמצאת על המקצוע  $A'B'$  ומקיימת:  $\frac{AP}{A'B'} = \alpha$

והנקודה Q נמצאת על המקצוע  $CC'$  ומקיימת:  $\frac{CQ}{QC'} = \beta$

א. הבע באמצעות  $\alpha$ ,  $\underline{u}$ ,  $\underline{v}$ ,  $\underline{w}$  ו- $\beta$  את הווקטור  $\overline{PQ}$ .

ב. האם קיימים ערכי  $\alpha$  ו- $\beta$  שבעבורם  $\overline{PQ} \parallel \overline{AC}$ ? נמק.

ג. הנקודה E היא מפגש אלכסוני הפאה  $ABB'A'$ .

מצא את ערכי  $\alpha$  ו- $\beta$  אם נתון כי  $\overline{PQ} \parallel \overline{EC}$ .

**תשובות סופיות:**

$$\underline{u} = \overline{DC}, \underline{v} = \overline{BC} \quad (1)$$

$$\underline{w} = \overline{AA'} = \overline{DD'} = \overline{CC'} = \overline{BB'}, \underline{u} = \overline{DC} = \overline{D'C'} = \overline{A'B'} = \overline{AB}, \underline{v} = \overline{AD} = \overline{BC} = \overline{A'D'} = \overline{B'C'} \quad (2)$$

$$\underline{u} = \overline{AB} = \overline{DC}, \underline{v} = \overline{AD} = \overline{BC}, \underline{w} = \overline{AS} \quad (3)$$

$$\overline{BC} = \frac{1}{3}\underline{v} \quad (4)$$

$$\overline{AF} = \frac{1}{2}\underline{u} + \frac{2}{3}\underline{v} \quad \text{ג.} \quad \overline{BE} = -\underline{u} + \frac{1}{2}\underline{v} \quad \text{ב.} \quad \overline{AC} = \underline{u} + \frac{1}{3}\underline{v}, \overline{DC} = \underline{u} - \frac{2}{3}\underline{v} \quad \text{א.} \quad (5)$$

$$\overline{BN} = -\underline{u} + \frac{1}{2}\underline{v} + \frac{1}{2}\underline{w} \quad \text{ב.} \quad \overline{AC} = \underline{u} + \underline{v}, \overline{SC} = \underline{u} + \underline{v} - \underline{w} \quad \text{א.} \quad (6)$$

$$\overline{AP} = \frac{2}{5}\underline{u}, \overline{BP} = \frac{3}{5}\underline{u} \quad (7)$$

$$\overline{AB} = \frac{8}{3}\underline{u}, \overline{PB} = \frac{5}{3}\underline{u} \quad (8)$$

$$\overline{AP} = \alpha\underline{u}, \overline{PB} = (1-\alpha)\underline{u} \quad (9)$$

$$\overline{AP} = \frac{\alpha}{1+\alpha}\underline{u}, \overline{PB} = \frac{1}{1+\alpha}\underline{u} \quad (10)$$

$$\overline{AF} = \frac{\beta}{1+\beta}\underline{u} + \frac{3+\beta}{3+3\beta}\underline{v} \quad (11)$$

$$\overline{PQ} = (1-\alpha)\underline{u} + \underline{v} - \frac{1}{1+\beta}\underline{w} \quad (12)$$

$$\alpha = 2 \quad (13)$$

$$\alpha = 1 \quad (14)$$

$$\alpha = \frac{1}{2}, \beta = 1 \quad \text{ג.} \quad \text{א.} \quad \overline{PQ} = (1-\alpha)\underline{u} + \underline{v} - \frac{1}{1+\beta}\underline{w} \quad \text{א.} \quad (15)$$

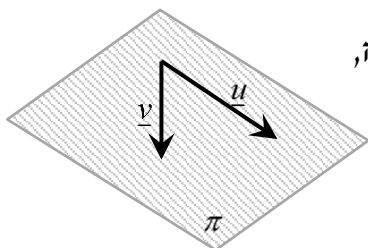
## ווקטורים הפורשים מישור:

### סיכום כללי:

#### ווקטורים הפורשים מישור:

כל שני ווקטורים שאינם מקבילים, כלומר, בלתי תלויים זה בזה, פורשים מישור.

דוגמא:



הווקטורים  $\underline{u}$  ו- $\underline{v}$  בעלי כוונים שונים ולכן פורשים את המישור  $\pi$ .

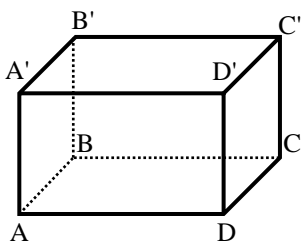
#### קומבינציה ליניארית של ווקטורים:

- כל ווקטור שנמצא במישור (או מקביל למישור זה) ניתן להצגה ע"י קומבינציה ליניארית של שני ווקטורים הפורשים את המישור.
- כל ווקטור שהוא קומבינציה ליניארית של שני ווקטורים הפורשים את המישור, מקביל למישור.
- אם ניתן להביע ווקטור שקומבינציה ליניארית של שני ווקטורים אחרים (או יותר) אז שלושת הווקטורים נקראים תלויים ליניארית (ניתן לבטא כל ווקטור באמצעות האחרים).

#### דוגמא:

עבור המישור הנפרש לעיל, ניתן להציג כל ווקטור  $\underline{w}$  המוכל, או מקביל למישור  $\pi$  באופן הבא:  $\underline{w} = \alpha \cdot \underline{u} + \beta \cdot \underline{v}$  כאשר:  $\alpha, \beta$  מספרים ממשיים כלשהם. במקרה זה שלושת הווקטורים  $\underline{u}, \underline{v}$  ו- $\underline{w}$  נקראים תלויים ליניארית.

## שאלות:



16) בתיבה  $ABCD A'B'C'D'$  נתון:  $\overline{AB} = \underline{u}$ ,  $\overline{AD} = \underline{v}$ ,  $\overline{AA'} = \underline{w}$ .

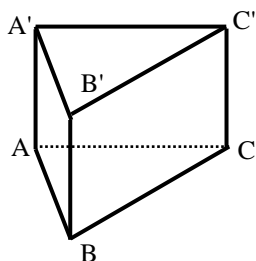
הנקודה P נמצאת על המקצוע  $A'B'$  ומקיימת:  $\frac{AP}{A'B'} = \alpha$

והנקודה Q נמצאת על המקצוע  $CC'$  ומקיימת:  $\frac{CQ}{QC'} = \beta$

א. הבע באמצעות  $\alpha$ ,  $\underline{u}$ ,  $\underline{v}$ ,  $\underline{w}$  ו- $\beta$  את הווקטור  $\overline{PQ}$ .

ב. מהו ערכו של  $\alpha$  שבעבורו הווקטור  $\overline{PQ}$  מקביל לפאה  $ADD'A'$ ?

ג. האם קיים ערך של  $\beta$  שבעבורו הווקטור  $\overline{PQ}$  מקביל לבסיס ABCD?



17) נתונה מנסרה משולשת  $ABCA'B'C'$

ובה נתון:  $\overline{AB} = \underline{u}$ ,  $\overline{AC} = \underline{v}$ ,  $\overline{AA'} = \underline{w}$ .

הנקודה M נמצאת על המקצוע  $A'C'$  ומקיימת:  $\frac{AM}{MC'} = \alpha$

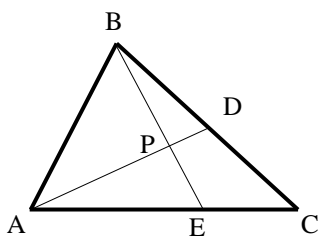
והנקודה N נמצאת על המקצוע BC ומקיימת:  $\frac{BN}{BC} = \beta$

א. הבע באמצעות  $\alpha$ ,  $\underline{u}$ ,  $\underline{v}$ ,  $\underline{w}$  ו- $\beta$  את הווקטור  $\overline{NM}$ .

ב. מהו ערכו של  $\beta$  שבעבורו הווקטור  $\overline{NM}$  מקביל לפאה  $ACC'A'$ ?

ג. נתון כי הווקטור  $\overline{NM}$  מקביל לפאה  $ABB'A'$ .

הבע את  $\alpha$  באמצעות  $\beta$ .



18) במשולש ABC הנקודה D היא אמצע הצלע BC

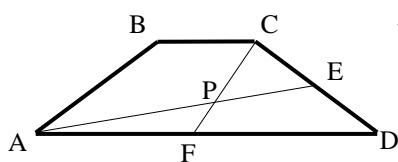
והנקודה E נמצאת על הצלע AC כך שמתקיים:  $\frac{AE}{CE} = 2$ .

הנקודה P היא מפגש הקטעים AD ו-BE.

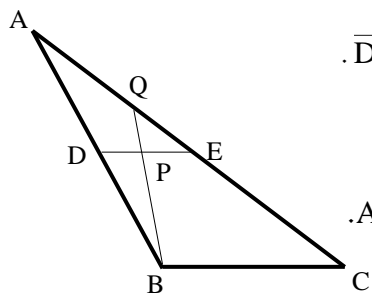
נגדיר:  $\overline{AB} = \underline{u}$ ,  $\overline{AC} = \underline{v}$ , וכן:  $\overline{AP} = t \cdot \overline{AD}$ ,  $\overline{BP} = s \cdot \overline{BE}$ .

א. הבע באמצעות  $\underline{u}$ ,  $\underline{v}$ ,  $t$  ו- $s$  את הווקטור  $\overline{AP}$  בשתי דרכים שונות.

ב. מצא באיזה יחס מחלקת הנקודה P את הקטע AD ואת הקטע BE.



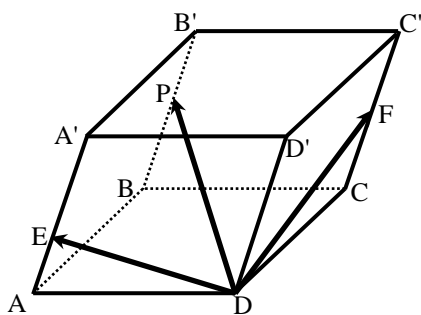
- 19) בטרפז  $ABCD$ ,  $(AD \parallel BC)$ , שבשרטוט נתון:  $AD = 3BC$ . הנקודה  $E$  נמצאת באמצע הצלע  $CD$  והנקודה  $F$  נמצאת באמצע הצלע  $AD$ . הנקודה  $P$  היא מפגש הקטעים  $AE$  ו- $CF$ . מצא באיזה יחס מחלקת הנקודה  $P$  את הקטע  $AE$  ואת הקטע  $CF$ .



- 20) במשולש  $ABC$  הנקודה  $D$  היא אמצע הצלע  $AB$  והנקודה  $E$  נמצאת על הצלע  $AC$  כך שמתקיים:  $\overline{DE} \parallel \overline{BC}$ . הנקודה  $P$  היא אמצע הקטע  $DE$  והמשך הקטע  $BP$  חותך את הצלע  $AC$  בנקודה  $Q$ .

א. מצא באיזה יחס מחלקת הנקודה  $Q$  את הצלע  $AC$ .

ב. חשב את היחס:  $\frac{S_{AQPE}}{S_{ADPB}}$ .



- 21) במקבילון  $ABCD A'B'C'D'$

נתון:  $\overline{DA} = \underline{u}$ ,  $\overline{DC} = \underline{v}$ ,  $\overline{DD'} = \underline{w}$ .

הנקודה  $F$  נמצאת באמצע המקצוע  $CC'$ ,

הנקודה  $E$  נמצאת על המקצוע  $AA'$

ומקיימת:  $A'E = 2AE$  והנקודה  $P$  נמצאת על

המקצוע  $BB'$  ומקיימת:  $\overline{B'P} = k \cdot \overline{B'B}$ .

נתון:  $\overline{DP} = t \cdot \overline{DE} + s \cdot \overline{DF}$ .

א. הבע באמצעות  $\underline{u}$ ,  $\underline{v}$ ,  $\underline{w}$  ו- $k$  את הווקטור  $\overline{DP}$ .

ב. מצא באיזה יחס מחלקת הנקודה  $P$  את המקצוע  $BB'$ .

ג. האם הנקודות  $D, E, F, P$  נמצאות על אותו מישור? נמק.

## תשובות סופיות:

$$\overline{PQ} = (1-\alpha)\underline{u} + \underline{v} - \frac{1}{1+\beta}\underline{w} \quad \text{א. (16)}$$

ג. לא.                      ב.  $\alpha = 1$

$$\overline{NM} = (\beta-1)\underline{u} + \left(\frac{\alpha}{\alpha+1} - \beta\right)\underline{v} + \underline{w} \quad \text{א. (17)}$$

ג.  $\alpha = \frac{\beta}{1-\beta}$                       ב.  $\beta = 1$

$$\overline{AP} = \frac{1}{2}t\underline{u} + \frac{1}{2}t\underline{v}, \quad \overline{AP} = (1-s)\underline{u} + \frac{2}{3}s\underline{v} \quad \text{א. (18)}$$

ב.  $BP:PE = 3:2, AP:PD = 4:1$

$$AP:PE = 2:1, CP:PF = 2:1 \quad \text{(19)}$$

$$\frac{S_{QPE}}{S_{DPB}} = \frac{1}{3} \quad \text{ב.}$$

א.  $AQ:QC = 1:2$                       (20)

$$\overline{DP} = \underline{u} + \underline{v} + (1-k)\underline{w} \quad \text{א. (21)}$$

ב.  $BP:PB = 1:5$                       ג. כן.

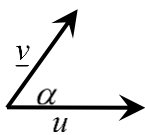
## מכפלה סקלרית וחישוב גודל של וקטור:

### סיכום כללי:

מכפלה סקלרית של שני ווקטורים  $\underline{u}$  ו- $\underline{v}$  תסומן:  $\underline{u} \cdot \underline{v}$  ותחושב ע"י הנוסחה הבאה:

$$\underline{u} \cdot \underline{v} = |\underline{u}| \cdot |\underline{v}| \cdot \cos \alpha$$

כאשר  $\alpha$  היא הזווית הנוצרת בין נקודת חיבור מוצאי הווקטורים ובין כיווני הווקטורים כמתואר באיור.



ניתן למצוא את הזווית שבין שני ווקטורים ע"י:  $\cos \alpha = \frac{\underline{u} \cdot \underline{v}}{|\underline{u}| \cdot |\underline{v}|}$

גודל של ווקטור נתון ע"י:  $|\underline{u}| = \sqrt{u^2}$ , או:  $|\underline{u}|^2 = u^2$

### הערה:

המכפלה הסקלרית  $\underline{u} \cdot \underline{v}$  בין שני ווקטורים מקבלת ערך מספרי בלבד! היא יכולה להיות חיובית, שלילית או אפס כפי שנראה בהמשך.

### שאלות:

**22** חשב את המכפלה הסקלרית של הווקטורים  $\underline{u}$  ו- $\underline{v}$  על פי הנתונים על גודלם והזווית שביניהם:

- |  |   |
|--|---|
| א. $\alpha = 60^\circ$ , $ \underline{v}  = 2$ , $ \underline{u}  = 3$ | ב. $\alpha = 120^\circ$ , $ \underline{v}  = 5$ , $ \underline{u}  = 4$ |
| ג. $\alpha = 30^\circ$ , $ \underline{v}  = 6$ , $ \underline{u}  = 2$ | ד. $\alpha = 180^\circ$ , $ \underline{v}  = 3$ , $ \underline{u}  = 8$ |
| ה. $\alpha = 0^\circ$ , $ \underline{v}  = 5$ , $ \underline{u}  = 3$  | ו. $\alpha = 90^\circ$ , $ \underline{v}  = 4$ , $ \underline{u}  = 7$  |

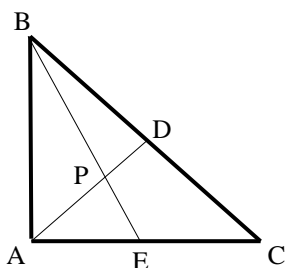
**23** חשב את הזווית בין הווקטורים  $\underline{u}$  ו- $\underline{v}$  על פי הנתונים על גודלם והמכפלה הסקלרית שלהם:

- |  |   |
|--|---|
| א. $\underline{u} \cdot \underline{v} = 6$ , $ \underline{v}  = 4$ , $ \underline{u}  = 3$ | ב. $\underline{u} \cdot \underline{v} = -4\sqrt{3}$ , $ \underline{v}  = 2$ , $ \underline{u}  = 4$ |
| ג. $\underline{u} \cdot \underline{v} = 0$ , $ \underline{v}  = 5$ , $ \underline{u}  = 9$ | ד. $\underline{u} \cdot \underline{v} = 12$ , $ \underline{v}  = 6$ , $ \underline{u}  = 2$         |

**(24)** נתונים שני וקטורים  $\underline{u}$  ו- $\underline{v}$  שאורכם:  $|\underline{u}|=6$ ,  $|\underline{v}|=3$ . הזווית ביניהם היא  $120^\circ$ .  
חשב את גודלו של הווקטור  $\overline{PQ}$  שמוגדר:  $\overline{PQ} = 2\underline{u} - 3\underline{v}$ .

**(25)** נתונים שני וקטורים  $\underline{u}$  ו- $\underline{v}$  המאונכים זה לזה שאורכם:  $|\underline{u}|=4$ ,  $|\underline{v}|=5$ .  
חשב את גודלו של הווקטור  $\overline{MN}$  שמוגדר:  $\overline{MN} = 0.5\underline{u} - \underline{v}$ .

**(26)** נתונים שני וקטורים  $\underline{u}$  ו- $\underline{v}$  שאורכם:  $|\underline{u}|=6$ ,  $|\underline{v}|=3$ . הזווית ביניהם היא  $120^\circ$ .  
חשב את גודל הזווית  $\sphericalangle QPM$  אם נתון:  $\overline{PM} = 4\underline{u} + \underline{v}$ ,  $\overline{PQ} = 2\underline{u} - 3\underline{v}$ .

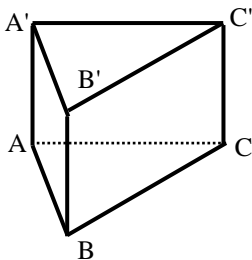


**(27)** המשולש ABC הוא משולש ישר זווית ( $\sphericalangle BAC = 90^\circ$ ).  
הנקודה D היא אמצע היתר BC והנקודה E נמצאת על הניצב AC.

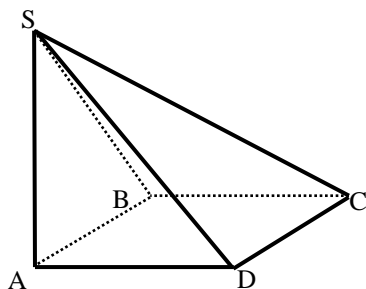
הנקודה P היא מפגש הקטעים AD ו-BE.

נתון:  $AC = 12$ ,  $AB = 8$ ,  $\frac{AP}{PD} = 3$ .

חשב את גודל הזווית  $\sphericalangle DPC$ .



**(28)** נתונה מנסרה משולשת וישרה  $ABCA'B'C'$  שבסיסה משולש שווה צלעות שאורך כל אחת מצלעותיו הוא 6. גובה המנסרה הוא 8.  
הנקודה M היא אמצע המקצוע  $A'C'$  והנקודה N נמצאת על המקצוע BC ומקיימת:  $BN = 2CN$ .  
נסמן:  $\overline{AB} = \underline{u}$ ,  $\overline{AC} = \underline{v}$ ,  $\overline{AA'} = \underline{w}$ .  
חשב את גודל הזווית:  $\sphericalangle MAN$ .



**(29)** בפירמידה SABCD שבסיסה ריבוע המקצוע SA הוא גובה הפירמידה.

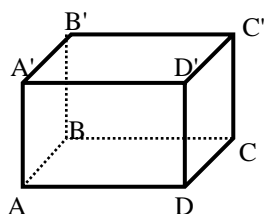
נתון:  $AB = AD = \frac{1}{2} AS = k$ .

נסמן:  $\overline{AB} = \underline{u}$ ,  $\overline{AD} = \underline{v}$ ,  $\overline{AS} = \underline{w}$ .

הנקודה Q היא אמצע המקצוע SC והנקודה P היא אמצע המקצוע SB.

חשב את גודל הזווית:  $\sphericalangle PAQ$ .

(30) בתיבה  $ABCD A'B'C'D'$  נתון:  $\overline{AA'} = \underline{w}$ ,  $\overline{AD} = \underline{v}$ ,  $\overline{AB} = \underline{u}$ ,  $AB = \frac{1}{\sqrt{2}} AD = AA'$ .



הנקודה P נמצאת על המקצוע  $A'B'$  ומקיימת:  $\frac{AP}{A'B'} = \alpha$

והנקודה Q היא אמצע המקצוע  $DD'$ .

א. מהו ערכו של  $\alpha$  שבעבורו מתקיים:  $|\overline{AP}| = \frac{5}{6} |\overline{AQ}|$ ?

ב. הבע באמצעות  $\alpha$  את  $\cos \angle PAQ$

והראה כי לכל ערך של  $\alpha$  הזווית  $\angle PAQ$  חדה.

ג. מהו ערכו של  $\alpha$  שבעבורו הזווית  $\angle PAQ$  מקיימת:  $\cos \angle PAQ = \frac{2}{3\sqrt{5}}$ ?

(31) הוכח כי בכל מרובע ABCD מתקיים:  $\overline{AC} \cdot \overline{BD} = \overline{AB} \cdot \overline{CD} + \overline{AD} \cdot \overline{BC}$

(32) נתון מלבן ABCD. הוכח כי לכל נקודה כלשהי P מתקיים:  $\overline{PA} \cdot \overline{PC} = \overline{PB} \cdot \overline{PD}$

(33) נתון ריבוע ABCD. הנקודה P היא אמצע הצלע BC והנקודה Q היא אמצע הצלע CD.

הוכח כי מתקיים:  $S_{ABCD} = \overline{AP} \cdot \overline{AQ}$

(34) נתון מרובע ABCD. הנקודה P היא אמצע הצלע AB והנקודה Q היא אמצע הצלע CD.

הוכח כי מתקיים:  $\overline{PQ} = \frac{\overline{AD} + \overline{BC}}{2}$

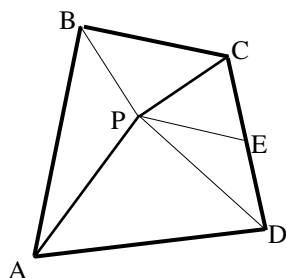
(35) נתונה פירמידה משולשת SABC שבה  $\overline{AS} \perp \overline{BC}$  ו-  $\overline{BS} \perp \overline{AC}$

הוכח:  $\overline{CS} \perp \overline{AB}$

(36) הוכח: וקטור המאונך לשני וקטורים בלתי תלויים במישור מאונך לכל הווקטורים שבמישור.

37) ענה על הסעיפים הבאים:

- א. הנקודה M היא מפגש התיכונים במשולש ABC. הוכח:  $\vec{MA} + \vec{MB} + \vec{MC} = 0$ .
- ב. נתונה פירמידה משולשת SABC. הנקודה P היא מפגש התיכונים בפאה SBC. הוכח:  $\vec{AP} = \frac{1}{3}(\vec{AB} + \vec{AC} + \vec{AS})$ .
- ג. נתון בנוסף כי  $\vec{AS}$  ו- $\vec{AP}$  מאונכים ל- $\vec{BC}$ . הוכח כי  $AB = AC$ . (הדרכה: סמן  $\vec{AB} = \underline{u}$ ,  $\vec{AC} = \underline{v}$ ,  $\vec{AS} = \underline{w}$ ).



38) הנקודה P נמצאת בתוך מרובע כלשהו ABCD

כך שהמשולשים APD ו-BPC הם משולשים ישרי זווית וש"ש ( $AP = PD$ ,  $BP = PC$ ).

הנקודה E היא אמצע הצלע CD. הוכח:  $\vec{PE} \perp \vec{AB}$ . (הדרכה: סמן  $\vec{PB} = \underline{a}$ ,  $\vec{PC} = \underline{b}$ ,  $\vec{PA} = \underline{c}$ ,  $\vec{PD} = \underline{d}$ ).

39) בטראדר SABC נתון:  $\vec{AB} = \underline{u}$ ,  $\vec{AC} = \underline{v}$ ,  $\vec{AS} = \underline{w}$ .

הנקודה P נמצאת על המקצוע AS ומקיימת:  $\vec{AP} = \alpha \cdot \vec{AS}$ .

הנקודה Q נמצאת על הפאה SBC ומקיימת:  $\vec{SQ} = \beta(\vec{SB} + \vec{SC})$ .

א. מצא את הקשר בין  $\alpha$  ו- $\beta$  שבעבורו  $\vec{PQ}$  מקביל למישור ABC.

ב. נתון:  $\alpha = \beta = \frac{1}{3}$ . הוכח:  $\vec{PQ} \perp \vec{BC}$ .  $AB = AC$ .

40) נתונה פירמידה שבסיסה מלבן. הוכח כי אם שלושה המקצועות הצדדיים שבה שווים, אז גם המקצוע הצדדי הרביעי שווה להם.

**תשובות סופיות:**

- (22) א. 3    ב. -10    ג.  $6\sqrt{3}$     ד. -24    ה. 15    ו. 0.
- (23) א.  $60^\circ$     ב.  $150^\circ$     ג.  $90^\circ$     ד.  $0^\circ$
- (24)  $|\overline{PQ}| = 18.248$
- (25)  $|\overline{MN}| = \sqrt{29}$
- (26)  $31.87^\circ$
- (27)  $55.49^\circ$
- (28)  $70.623^\circ$
- (29)  $24.095^\circ$
- (30) א.  $\alpha = \frac{3}{4}$     ב.  $\cos(\sphericalangle PAQ) = \frac{1}{3\sqrt{1+\alpha^2}}$     ג.  $\alpha = \frac{1}{2}$
- (31) שאלת הוכחה.
- (32) שאלת הוכחה.
- (33) שאלת הוכחה.
- (34) שאלת הוכחה.
- (35) שאלת הוכחה.
- (36) שאלת הוכחה.
- (37) שאלת הוכחה.
- (38) שאלת הוכחה.
- (39) א.  $\alpha + 2\beta = 1$     ב. שאלת הוכחה.
- (40) שאלת הוכחה.

# אלגברה בסיסית

## פרק 3 - מספרים מרוכבים

### תוכן העניינים

57	1. הגדרת המספר המרוכב
60	2. המספר הצמוד
63	3. חקירת משוואה ריבועית מרוכבת
64	4. מישור גאוס והצגה קוטבית של מספר מרוכב
68	5. נוסחת דה-מואבר למציאת שורשים של מספר מרוכב
70	6. שאלות בסדרות עם מספרים מרוכבים
71	7. שאלות שונות עם מספרים מרוכבים

## הגדרת המספר המרוכב:

סיכום כללי:

הגדרות כלליות:

ע"י הסימון:  $i = \sqrt{-1}$  מגדירים את המספר מהצורה:  $z = a + bi$  כמספר מרוכב בעל חלק ממשי  $a$  וחלק מדומה  $b$ . המספרים  $a$  ו- $b$  הם ממשיים.  
 $a$  נקרא הרכיב הממשי של  $z$  ומסומן גם  $\text{Re}(z)$  (מלשון: Real).  
 $b$  נקרא הרכיב המדומה של  $z$  ומסומן גם  $\text{Im}(z)$  (מלשון: Imaginary).

שאלות:

(1) רשום עם  $i$ :

א. $\sqrt{-1} =$	ב. $\sqrt{-4} =$	ג. $\sqrt{-25} =$
ד. $\sqrt{-3} =$	ה. $\sqrt{-5} =$	

(2) חשב:

א. $i =$	ב. $i^2 =$	ג. $i^3 =$
ד. $i^4 =$	ה. $i^5 =$	ו. $i^{17} =$

(3) רשום את ערכם של  $a$  ו- $b$  בעבור המספרים המרוכבים הבאים:

א. $2 + 5i$	ב. $3 - i$	ג. $\frac{\sqrt{3}}{2} - \frac{1}{2}i$
ד. $7i$	ה. $-4$	ו. $0$

(4) כתוב מספר מרוכב  $z$  לפי הדרישות הבאות:

א.  $\text{Re}(z) = -3$ ,  $\text{Im}(z) = 2$ .

ב.  $\text{Re}(z) = \text{Im}(z) = \frac{\sqrt{2}}{2}$ .

(5) מספר מרוכב מסוים  $z$  מקיים:  $\operatorname{Re}(z) + \operatorname{Im}(z) = 4$  ו-  $\operatorname{Re}(z) - \operatorname{Im}(z) = -1$ . מצא את  $z$ .

(6) פתור את המשוואות הבאות:

א.  $x^2 = -1$       ב.  $x^2 + 36 = 0$       ג.  $x^2 - 2x + 5 = 0$

(7) פתור את המשוואה הבאה:  $x^2 + x + 1 = 0$ .

(8) פתור את המשוואה הבאה:  $z^2 + iz + 6 = 0$ .

(9) נתון:  $z_1 = 2 + 3i$ ,  $z_2 = 5 - 2i$ . חשב את ערכי הביטויים המרוכבים הבאים:

א.  $z_1 + z_2 =$       ב.  $z_1 - z_2 =$       ג.  $z_1 \cdot z_2 =$

(10) חשב את ערכי הביטויים הבאים:

א.  $(-2 + 6i) + (1 - i)$       ב.  $(4 + 4i) - \left(3 + \frac{1}{2}i\right)$   
 ג.  $\left(\frac{1}{2} - \frac{\sqrt{3}}{2}i\right) - \left(\frac{1}{2} + \frac{\sqrt{3}}{2}i\right)$       ד.  $5 - (3 - 2i)$   
 ה.  $(i - 3) + 6i$       ו.  $(i + 2) - (3i - 2) + (7 - 5i)$

(11) חשב את ערכי הביטויים הבאים:

א.  $(1 + 4i) \cdot (8 - 2i)$       ב.  $\left(\frac{\sqrt{2}}{2} - \frac{\sqrt{2}}{2}i\right) \cdot \left(\frac{1}{2} + \frac{\sqrt{3}}{2}i\right)$   
 ג.  $(4i - 3) \cdot (4i + 3)$       ד.  $i \cdot (i - 1)$   
 ה.  $(2i + 3) \cdot i$       ו.  $(5i - 1)^2$

- (12) נתונים שני מספרים מרוכבים  $z_1 = a_1 + b_1i$  ו-  $z_2 = a_2 + b_2i$ .
- ידוע כי  $z_1 + z_2$  הוא ממשי וכי  $z_1 - z_2$  הוא מדומה.
- א. מצא קשר בין  $a_1$  ל-  $a_2$  וקשר בין  $b_1$  ו-  $b_2$ .
- ב. הראה כי המכפלה  $z_1 \cdot z_2$  היא ממשית.

**תשובות סופיות:**

- (1) א.  $i$     ב.  $2i$     ג.  $5i$     ד.  $\sqrt{3}i$     ה.  $\sqrt{5}i$
- (2) א.  $i$     ב.  $-1$     ג.  $-i$     ד.  $1$     ה.  $i$     ו.  $i$
- (3) א.  $a = 2, b = 5$     ב.  $a = 3, b = -1$     ג.  $a = \frac{\sqrt{3}}{2}, b = -\frac{1}{2}$     ד.  $a = 0, b = 7$     ה.  $a = -4, b = 0$     ו.  $a = 0, b = 0$
- (4) א.  $z = -3 + 2i$     ב.  $z = \frac{\sqrt{2}}{2} + \frac{\sqrt{2}}{2}i$
- (5)  $z = 1.5 + 2.5i$
- (6) א.  $x = \pm i$     ב.  $x = \pm 6i$     ג.  $x = 1 + 2i, 1 - 2i$
- (7)  $z = -\frac{1}{2} + \frac{\sqrt{3}}{2}i, -\frac{1}{2} - \frac{\sqrt{3}}{2}i$
- (8)  $z = 2i, -3i$
- (9) א.  $7 + i$     ב.  $-3 + 5i$     ג.  $16 + 11i$
- (10) א.  $-1 + 5i$     ב.  $1 + 3\frac{1}{2}i$     ג.  $-\sqrt{3}i$     ד.  $2 + 2i$     ה.  $-3 + 7i$     ו.  $11 - 7i$
- (11) א.  $16 + 30i$     ב.  $\frac{\sqrt{6} + \sqrt{2}}{4} + i\left(\frac{\sqrt{6} - \sqrt{2}}{4}\right)$     ג.  $-25$     ד.  $-1 - i$
- (12) א.  $a_1 = a_2, b_1 = -b_2$     ב. הוכחה.    ג.  $-2 + 3i$     ו.  $-24 - 10i$

## המספר הצמוד:

סיכום כללי:

צמוד קומפלקסי (מרוכב):

לכל מספר מרוכב  $z = a + bi$  קיים מספר צמוד המסומן ב- $\bar{z}$  וערכו:  $\bar{z} = a - bi$ .

שאלות:

(13) רשום את המספר הצמוד של המספרים המרוכבים הבאים:

א. $2 + 5i$	ב. $3 - i$	ג. $\frac{\sqrt{3}}{2} - \frac{1}{2}i$
ד. $7i$	ה. $-4$	ו. $0$

(14) חשב:

א. $\frac{11 + 2i}{2 - i}$	ב. $\frac{3 + 7i}{2 - 5i}$	ג. $\frac{19 - 9i}{2 - 3i}$
----------------------------	----------------------------	-----------------------------

(15) נתון מספר  $z = 5 - 2i$ . חשב את ערכי הביטויים הבאים:

א. $\frac{1}{z}$	ב. $\frac{z}{z + 3}$	ג. $\frac{z + i}{z - i}$
------------------	----------------------	--------------------------

(16) המספר  $\frac{3 + 4i}{a - i}$  הוא ממשי טהור. מצא את  $a$ .

(17) נתונים שני מספרים מרוכבים  $z_1 = a_1 + b_1i$  ו- $z_2 = a_2 + b_2i$ .

הראה כי כדי שתוצאת החילוק  $\frac{z_1}{z_2}$  תהיה ממשית טהורה, צריך להתקיים:  $\frac{a_1}{a_2} = \frac{b_1}{b_2}$ .

(18) פתור את המשוואה הבאה:  $3z - 11 = iz - 7i$ .

(19) פתור את המשוואה הבאה:  $iz + 5 = 4i$ .

(20) פתור את מערכת המשוואות הבאה ( $z$  ו- $w$  משתנים מרוכבים):

$$\begin{cases} 3z + iw = 5 - 4i \\ 5iz - 2w = 5 + 8i \end{cases}$$

(21) פתור את המשוואות הבאות שבהן  $a$  ו- $b$  ממשיים:

ב.  $3a - 8 + 5bi = 2b - ai - 3i$

א.  $2a - 3i = 10 + bi$

(22) פתור את המשוואה הבאה:  $2z + 7i = iz + \bar{z} - 3$ .

(23) חשב את ערכי המספרים המרוכבים הבאים:

ב.  $\sqrt{8 + 6i}$

א.  $\sqrt{5 - 12i}$

(24) פתור את המשוואות הריבועיות הבאות:

א.  $(1 - i)z^2 - 2z + i + 1 = 0$

ב.  $(-2 + i)z^2 - (6 + 12i)z + 10 - 25i = 0$

(25) פתור את המשוואה הבאה:  $iz^2 - 2(1 - i)z + 6 + 15i = 0$ .

(26) פתור את המשוואה הבאה:  $z^2 - i\bar{z} + 6 = 0$ .

## תשובות סופיות:

- א.  $2-5i$     ב.  $3+i$     ג.  $\frac{\sqrt{3}}{2} + \frac{1}{2}i$     ד.  $-7i$     ה.  $-4$     ו.  $0$     (13)
- א.  $4+3i$     ב.  $-1+i$     ג.  $.5+3i$     (14)
- א.  $\frac{5}{29} + \frac{2}{29}i$     ב.  $\frac{11}{17} - \frac{3}{34}i$     ג.  $\frac{14}{17} + \frac{5}{17}i$     (15)
- א.  $a = -\frac{3}{4}$     (16)
- שאלת הוכחה.    (17)
- א.  $z = 4-i$     (18)
- א.  $z = 4+5i$     (19)
- א.  $z = 2-3i, w = 5+i$     (20)
- א.  $a = 5, b = -3$     ב.  $a = 2, b = -1$     (21)
- א.  $z = -\frac{1}{2} - 2\frac{1}{2}i$     (22)
- א.  $z = \pm(3-2i)$     ב.  $z = \pm(3+i)$     (23)
- א.  $z_{1,2} = i, 1$     ב.  $z_{1,2} = -2-i, 2-5i$     (24)
- א.  $z_1 = -2-5i, z_2 = 3i$     (25)
- א.  $z_1 = -3i, z_2 = 2i$     (26)

## חקירת משוואה ריבועית מרוכבת:

שאלות:

(27) נתונה המשוואה הבאה:  $(mi-2)z^2 - 2(m+2i)z + 1 = 0$

מצא לאלו ערכים של הפרמטר המרוכב  $m$  למשוואה:

א. יש פתרון יחיד.

ב. אין פתרון.

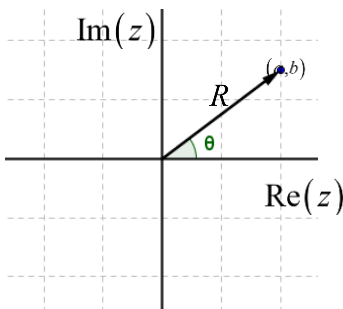
תשובות סופיות:

(27) א.  $m = -i$  ב.  $m = -2i$ .

## מישור גאוס והצגה קוטבית של מספר מרוכב:

### סיכום כללי:

ניתן לאפיין מספר מרוכב  $z$  ע"י הצגתו במישור שבו ציר ה- $x$  מייצג את  $a$ , גודל הערך הממשי של  $z$ , וציר ה- $y$  מייצג את  $b$ , גודל הערך המדומה של  $z$ . מישור זה נקרא מישור גאוס ומופיע באיור הסמוך.



במישור גאוס ניתן לאפיין כל נקודה ע"י הזוג  $(a, b)$  או ע"י הערך המוחלט של המספר (מרחקו מ- $(0, 0)$ ) והזווית שלו בין הקרן החיובית של הציר הממשי לרדיוס. הצמד הנ"ל מוגדר כהצגה קוטבית של מספר מרוכב ויסומן:  $(R, \theta)$ . מספר מרוכב בהצגה קוטבית:

$$z = R \cos \theta + i \cdot R \sin \theta = R(\cos \theta + i \sin \theta) = R \operatorname{cis} \theta$$

### נוסחאות ומעברים:

- מעבר מהצגה קוטבית לקרטזית (אלגברית):  $R = \sqrt{a^2 + b^2}$ ,  $\tan \theta = \frac{b}{a}$ .
- מעבר מהצגה קרטזית לקוטבית:  $a = R \cos \theta$ ,  $b = R \sin \theta$ .
- גודל של מספר מרוכב  $z$  יסומן  $|z|$  ויחושב:  $|z| = R = \sqrt{a^2 + b^2}$ .

### פעולות חשבון בהצגה קוטבית:

- כפל מספרים מרוכבים:  $z_1 \cdot z_2 = (R_1 \operatorname{cis} \theta_1) \cdot (R_2 \operatorname{cis} \theta_2) = R_1 R_2 \operatorname{cis}(\theta_1 + \theta_2)$ .
- חילוק מספרים מרוכבים:  $\frac{z_1}{z_2} = \frac{R_1 \operatorname{cis} \theta_1}{R_2 \operatorname{cis} \theta_2} = \frac{R_1}{R_2} \operatorname{cis}(\theta_1 - \theta_2)$ .

## שאלות:

(28) כתוב את המספרים המרוכבים הבאים בהצגה אלגברית:

א. $2\text{cis}60^\circ$	ב. $6\text{cis}135^\circ$	ג. $4\text{cis}330^\circ$
ד. $4\text{cis}(-30^\circ)$	ה. $4\text{cis}690^\circ$	ו. $8\text{cis}90^\circ$
ז. $3\text{cis}270^\circ$	ח. $\text{cis}180^\circ$	ט. $\text{cis}0^\circ$

(29) הפוך להצגה קוטבית:

א. $1+i$	ב. $\sqrt{3}-i$	ג. $-\frac{1}{2}-\frac{\sqrt{3}}{2}i$
ד. $3+4i$	ה. $6i$	ו. $-i$
ז. $4$	ח. $-1$	ט. $1$
י. $0$		

(30) חשב את ערכי הביטויים הבאים:

א. $2\text{cis}120^\circ \cdot 3\text{cis}60^\circ$	ב. $\text{cis}210^\circ \cdot 5\text{cis}(-40^\circ)$
ג. $\frac{12\text{cis}315^\circ}{3\text{cis}90^\circ}$	ד. $\frac{1}{2\text{cis}40^\circ}$
ה. $6\text{cis}30^\circ + 2\text{cis}210^\circ$	

(31) נתון המספר המרוכב  $z = R\text{cis}\theta$ . הבע באמצעות  $R$  ו- $\theta$  את המספרים:

א. $\bar{z}$	ב. $1/z$	ג. $-z$
ד. $-\frac{1}{z}$	ה. $iz$	ו. $z \cdot \bar{z}$

(32) הראה כי המספרים הבאים הם ממשיים טהורים:

א. $z + \bar{z}$	ב. $z \cdot \bar{z}$	ג. $\frac{z}{\bar{z}} + \frac{\bar{z}}{z}$
------------------	----------------------	--

(33) הראה כי המספרים הבאים הם מדומים טהורים:

א. $z^2 - \bar{z}^2$	ב. $\frac{1}{\bar{z}} - \frac{1}{z}$
----------------------	--------------------------------------

(34) הוכח את הטענות הבאות:

א.  $z - i\bar{z} = \overline{\bar{z} + iz}$       ב.  $z \cdot \bar{z} = |z|^2$

(35) מצא את קדקודיו של ריבוע החסום במעגל קנוני שרדיוסו  $\sqrt{2}$  במישור גאוס אם ידוע שצלעותיו מקבילות לצירים.

(36) ריבוע חסום במעגל קנוני במישור גאוס. אחד מקודקודי הריבוע הוא  $1 + \sqrt{3}i$ . מצא את קדקודיו האחרים.

(37) משולש שווה צלעות חסום במעגל קנוני במישור גאוס. אחד מקודקודי המשולש הוא  $1 + \sqrt{3}i$ . מצא את קדקודיו האחרים.

(38) משולש שווה שוקיים, שזווית הבסיס שלו היא  $30^\circ$  חסום במעגל קנוני במישור גאוס. קדקוד הראש של המשולש הוא  $1 + \sqrt{3}i$ . מצא את קדקודיו האחרים.

(39)  $z$  הוא מספר מרוכב במישור גאוס הנמצא מחוץ למעגל היחידה. קבע אם המספרים הבאים נמצאים בתוך מעגל היחידה, עליו או מחוץ לו:

א.  $\bar{z}$       ב.  $\frac{1}{z}$       ג.  $\frac{z}{\bar{z}}$       ד.  $z \cdot \bar{z}$

## תשובות סופיות:

- (28) א.  $1 + \sqrt{3}i$     ב.  $-3\sqrt{2} + 3\sqrt{2}i$     ג.  $2\sqrt{3} - 2i$     ד.  $2\sqrt{3} - 2i$
- ה.  $2\sqrt{3} - 2i$     ו.  $8i$     ז.  $-3i$     ח.  $-1$     ט.  $1$
- (29) א.  $\sqrt{2}\text{cis}45^\circ$     ב.  $2\text{cis}330^\circ$     ג.  $\text{cis}240^\circ$     ד.  $5\text{cis}53.13^\circ$
- ה.  $6\text{cis}90^\circ$     ו.  $\text{cis}270^\circ$     ז.  $4\text{cis}0^\circ$     ח.  $\text{cis}180^\circ$     ט.  $\text{cis}0^\circ$
- (30) א.  $-6$     ב.  $5\text{cis}170^\circ$     ג.  $4\text{cis}225^\circ$     ד.  $\frac{1}{2}\text{cis}(-40^\circ)$
- ה.  $4\text{cis}30^\circ$
- (31) א.  $R\text{cis}(-\theta)$     ב.  $\frac{1}{R}\text{cis}(-\theta)$     ג.  $R\text{cis}(180^\circ + \theta)$
- ד.  $\frac{1}{R}\text{cis}(180^\circ + \theta)$     ה.  $R\text{cis}(90^\circ + \theta)$     ו.  $R^2$
- (32) שאלת הוכחה.
- (33) שאלת הוכחה.
- (34) שאלת הוכחה.
- (35)  $1+i, -1+i, -1-i, 1-i$
- (36)  $-\sqrt{3}+i, -1-\sqrt{3}i, \sqrt{3}-i$
- (37)  $1+\sqrt{3}i, 1-\sqrt{3}i, -2$
- (38)  $1+\sqrt{3}i, -1+\sqrt{3}i, 2$
- (39) א. מחוץ למעגל.    ב. בתוך המעגל    ג. על המעגל    ד. מחוץ למעגל.

## נוסחת דה-מואבר למציאת שורשים של מספר מרוכב:

סיכום כללי:

משפט דה-מואבר:

כדי להעלות מספר מרוכב  $z$  בחזקת  $n$  נעזר בקשר:  $(R\text{cis}\theta)^n = R^n\text{cis}(n\theta)$ .

שורשים של מספר מרוכב:

כדי להוציא שורש  $n$ -י של מספר מרוכב  $z$  השווה למספר מרוכב אחר  $z_0 = R_0\text{cis}\theta_0$

$$\cdot z^n = z_0 = R_0\text{cis}\theta_0 / \sqrt[n]{\phantom{x}} \Rightarrow z_k = \sqrt[n]{R_0} \cdot \text{cis}\left(\frac{\theta_0}{n} + \frac{2\pi k}{n}\right) : 1 \leq k \leq n$$

שאלות:

40 חשב את ערכי הביטויים הבאים תוך שימוש בנוסחת דה-מואבר:

א.  $(2\text{cis}30^\circ)^3$       ב.  $(2\text{cis}14^\circ)^5$       ג.  $(1+i)^4$

ד.  $(\sqrt{3}-i)^3$       ה.  $\left(-\frac{1}{2} + \frac{\sqrt{3}}{2}i\right)^{12}$

41 פתור את המשוואות הבאות:

א.  $z^2 = 36\text{cis}120^\circ$       ב.  $z^4 = (9\text{cis}80^\circ)^2$       ג.  $z^5 = \frac{1}{2} + \frac{\sqrt{3}}{2}i$

42 מצא את סכום ומכפלת שורשי היחידה מסדר 4.

43 נתון המספר המרוכב  $z = x+iy$ .

מצא את המקום הגאומטרי במישור גאוס המתקבל בעבור המשוואה:  $|z|=2$ .

(44) נתון המספר המרוכב  $z = x + iy$ .

מצא את המקום הגאומטרי במישור גאוס המתקבל בעבור המשוואה:  $|z - 3i| = 5$ .

(45) נתון המספר המרוכב  $z = x + iy$ . מצא את המקום הגאומטרי במישור גאוס

המתקבל בעבור המשוואה:  $|z + i| + |\bar{z} + i| = |1 + 3i|$ .

### תשובות סופיות:

(40) א.  $8i$     ב.  $32\text{cis}70^\circ$     ג.  $-4$     ד.  $-8i$     ה.  $1$ .

(41) א.  $z_0 = 6\text{cis}60^\circ, z_1 = 6\text{cis}240^\circ$ .

ב.  $z_0 = 3\text{cis}40^\circ, z_1 = 3\text{cis}130^\circ, z_2 = 3\text{cis}220^\circ, z_3 = 3\text{cis}310^\circ$ .

ג.  $z_0 = \text{cis}12^\circ, z_1 = \text{cis}84^\circ, z_2 = \text{cis}156^\circ, z_3 = \text{cis}228^\circ, z_4 = \text{cis}300^\circ$ .

(42) סכום:  $0$ , מכפלה:  $-1$ .

(43)  $x^2 + y^2 = 4$ .

(44)  $x^2 + (y - 3)^2 = 25$ .

(45)  $\frac{2x^2}{3} + \frac{2y^2}{5} = 1$ .

## שאלות בסדרות עם מספרים מרוכבים:

### שאלות:

(46) בסדרה חשבונית האיבר השביעי הוא  $a_7 = 13 + 3i$  והאיבר השלישי הוא  $a_3 = 5 - 9i$ . מצא את סכום עשרת האיברים הראשונים בסדרה.

(47) בסדרה הנדסית האיבר החמישי הוא  $a_5 = 32 + 16i$  והאיבר השני הוא  $a_2 = 2 - 4i$ .  
 א. מצא את האיבר הראשון בסדרה ואת מנת הסדרה, אם נתון שמנת הסדרה היא מספר מרוכב הנמצא על הציר המדומה במישור גאוס.  
 ב. מצא את סכום חמשת האיברים הראשונים בסדרה.

(48) נתונים שלושה איברים סמוכים בסדרה הנדסית. האיבר הראשון ביניהם הוא 2. נתון כי אם מוסיפים לאיבר השלישי  $4i$  מתקבלים שלושה איברים סמוכים בסדרה חשבונית. מצא את שלושת איברי הסדרה ההנדסית (שתי אפשרויות).

### תשובות סופיות:

$$S_{10} = 100 - 15i \quad (46)$$

$$S_5 = 20 + 25i \quad \text{ב.} \quad a_1 = 2 + i, q = -2i \quad \text{א.} \quad (47)$$

$$2, 4 - 2i, 6 - 8i \quad \text{או} \quad 2, 2i, -2 \quad (48)$$

## שאלות שונות עם מספרים מרוכבים:

### שאלות:

(49) פתור את המשוואה:  $z - \bar{z} + |z| = |2 - i|^2 - 4i + \text{Im}(z)$ .

(50) פתור את המשוואה:  $|2 - 3^{x^2 - x - 1}i| = \sqrt{13}$ .

(51) פתור את המשוואה:  $z^3 = \bar{z}$ .

(52) הוכח: אם מקדמי משוואה ריבועית הם מספרים ממשיים ואין למשוואה פתרונות ממשיים אז פתרונות המשוואה הם שני מספרים צמודים.

(53) נתונים שני מספרים מרוכבים שאינם ממשיים טהורים. הוכח: אם סכום המספרים ממשי ומכפלתם ממשית אז המספרים צמודים.

(54) נתון מספר מרוכב  $z$ , שאינו ממשי טהור ואינו מדומה טהור.

הוכח כי אם  $z - \frac{1}{\bar{z}}$  ממשי אז  $z$  על מעגל היחידה.

(55) הוכח את הנוסחה הבאה:  $R_1 \text{cis} \theta_1 \cdot R_2 \text{cis} \theta_2 = R_1 R_2 \text{cis}(\theta_1 + \theta_2)$ .

(56) הוא מספר מרוכב על מעגל היחידה ברביע הראשון.

נתון:  $|z^4 - z^3| = \sqrt{2 - \sqrt{3}}$ . מצא את  $\arg(z)$ .

(57) הוא מספר מרוכב על מעגל היחידה.

מצא את ערך הביטוי  $z + iz$ , אם ידוע שהוא ממשי.

(58)  $z_1$  ו-  $z_2$  הם פתרונות המשוואה הבאה:  $z^2 - 2\cos\theta \cdot z + 1 = 0$ .  
 הבע באמצעות  $\theta$  את גודל הזווית  $\angle z_1 O z_2$  (O ראשית הצירים).

### תשובות סופיות:

(49)  $z_1 = 3 - 4i$ ,  $z_2 = -3 - 4i$

(50)  $x = 2$ ,  $-1$

(51)  $z_1 = 0$ ,  $z_2 = i$ ,  $z_3 = -i$ ,  $z_4 = 1$ ,  $z_5 = -1$

(52) שאלת הוכחה.

(53) שאלת הוכחה.

(54) שאלת הוכחה.

(55) שאלת הוכחה.

(56)  $\arg(z) = 30^\circ$

(57)  $z + iz = \sqrt{2}$ ,  $-\sqrt{2}$

(58)  $2\theta$

# אלגברה בסיסית

פרק 4 - האלגוריתם של אוקלידס

תוכן העניינים

1. האלגוריתם של אוקלידס ..... (ללא ספר)