

# השלמה פרונטלית באלגברה לינארית



$$\{\sqrt{x}\}^2$$



## תוכן העניינים

1	המרחב $n^R$ .....
8	פתרון וחקירת מערכת משוואות ליניאריות .....
14	מטריצות .....
20	דטרמיננטות .....

# השלמה פרונטלית באלגברה לינארית

פרק 1 - המרחב  $R^n$

תוכן העניינים

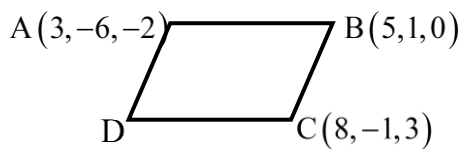
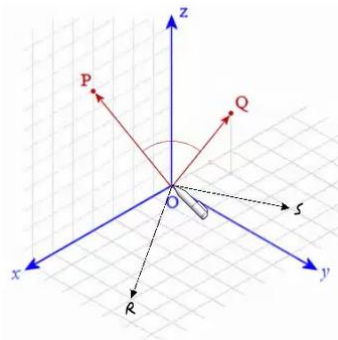
1. וקטורים.....1
2. צירופים ליניאריים, פרישה לינארית ותלות לינארית.....6

## וקטורים

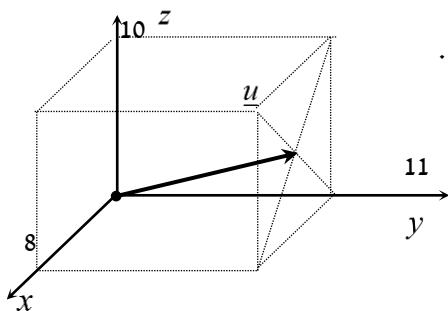
**הערות סימון:** אנו נסמן את הווקטור  $u$  כך  $\underline{u}$ . סימונים מקובלים נוספים הם:  $\vec{u}$ ,  $\underline{\underline{u}}$ .  
את גודל הווקטור  $\underline{u}$  נסמן כך  $|\underline{u}|$ . סימון מקובל נוסף הוא  $\|\underline{u}\|$ .  
גודל וקטור נקרא גם אורך הווקטור וגם הנורמה של הווקטור.

## שאלות

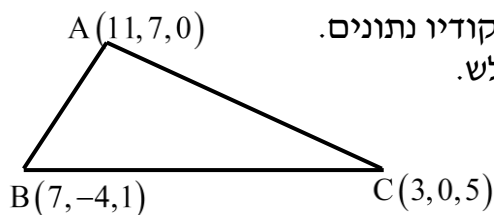
- (1) רשום את נוסחת כל אחד מהווקטורים  $\vec{P}, \vec{Q}, \vec{R}, \vec{S}$  שבאיור. הנח שאורך ורוחב כל משבצת באיור הוא יחידה אחת.



- (2) בשרטוט הבא נתונה מקבילית, ששיעורי שלושה מקדקודיה נתונים. מצא את שיעורי הקדקוד D. רמז: היעזר בנוסחת אמצע קטע.



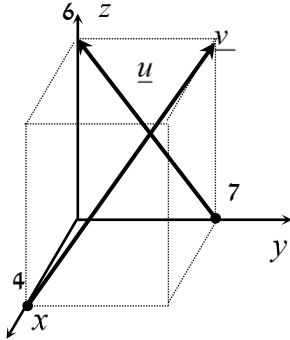
- (3) נתונה תיבה שמידותיה מצוינות במערכת הצירים. מצא מהו הווקטור  $\underline{u}$  על פי השרטוט.



- (4) בשרטוט הבא נתון משולש ששיעורי קדקודיו נתונים. מצא את שיעורי מפגש התיכונים במשולש.

(5) ענה על הסעיפים הבאים (אין קשר בין הסעיפים):  
 א. מצא את הווקטור  $\overline{EF}$ , אם נתונות הנקודות  $E(2,0,-3)$  ו-  $F(7,-1,-3)$ .

ב. מצא את שיעורי הנקודה  $N$ , אם נתונה הנקודה  $M(0,-4,1)$  והווקטור  $\overline{MN} = (-1,-1,9)$ .



(6) נתונה תיבה שמידותיה מצוינות במערכת הצירים שלפניך.  
 מצא מהו הווקטור  $\underline{u}$  ומהו הווקטור  $\underline{v}$ .

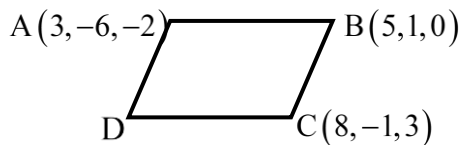
(7) מצא את  $x$ ,  $y$  ו-  $z$ , אם נתון ש-  $\underline{u} = \underline{v}$ , כאשר  $\underline{u} = (4, -1, 2)$ ,  
 $\underline{v} = (z - 2, y + 1, x - 3)$ .

(8) נתונות הנקודות הבאות:

$A(1,0,2)$ ,  $B(3,7,-4)$ ,  $C(6,9,0)$ ,  $D(7,4,10)$ ,  $E(9,11,4)$

א. הראה כי:  $\overline{AB} = \overline{DE}$ .

ב. האם ניתן לומר כי גם  $\overline{AD} = \overline{BC}$ ? נמק.



(9) בשרטוט נתונה מקבילית,  
 ששיעורי שלושה מקדקודיה נתונים.  
 מצא את שיעורי הקדקוד  $D$ .  
 \* אין להיעזר בפתרון בנוסחת אמצע קטע.

בשאלות 10-16 נתונים הווקטורים:  $\underline{w} = (2, 6, -5)$ ,  $\underline{v} = (4, -2, -6)$ ,  $\underline{u} = (-3, 1, 4)$ .  
 \* בשאלות 13, 14, 16 הסבר את משמעות התוצאות מבחינה גיאומטרית.

(10) חשב:

א.  $2\underline{u}$       ב.  $-0.5\underline{v}$       ג.  $3\underline{u} - 2\underline{v}$

(11) חשב:

א.  $0.25\underline{v} - 0.5\underline{u}$       ב.  $\underline{v} - 0.5\underline{u} + 2\underline{w}$

(12)  $2\underline{v} - \underline{u} + 4\underline{w}$

(13)  $\underline{u} / |\underline{u}|$

(14)  $d(\underline{u}, \underline{v})$

(15)  $\underline{v} \cdot \underline{u} + 2\underline{w} \cdot \underline{v}$

(16)  $\text{proj}(\underline{u}, \underline{v})$

בשאלות 17-19 נתונות הנקודות:  $A(1, -3, 0)$ ,  $B(4, 2, -1)$ ,  $C(3, -1, 2)$ ,  
 ויש למצוא את הווקטורים:

(17)  $\overline{AC} + \overline{AB}$

(18)  $2\overline{AC} - 4\overline{AB}$

(19)  $2\overline{AC} + \overline{AB} - \overline{BC}$

(20) נתונים ארבעת קדקודי המרובע ABCD:

$$A(-4, 2, 1), B(0, 2, -1), C(-3, -5, 0), D(-7, -5, 2)$$

הוכח כי המרובע הוא מקבילית.

**(21)** נתונים ארבעת קדקודי המרובע ABCD :  
 $A(1,2,0)$  ,  $B(-2,5,3)$  ,  $C(-1,8,4)$  ,  $D(4,3,-1)$

א. הוכח כי המרובע הוא טרפז.

ב. האם הטרפז שווה שוקיים?

**(22)** חשב את הזווית שבין הווקטורים  $\underline{u}$  ו- $\underline{v}$ , כאשר :

א.  $\underline{u} = (-2, 2, 5)$  ,  $\underline{v} = (4, 0, 1)$

ב.  $\underline{u} = (6, -3, 1)$  ,  $\underline{v} = (2, 5, 3)$

ג.  $\underline{u} = (-2, 1, 3)$  ,  $\underline{v} = (4, -2, -6)$

## תשובות סופיות

$$\vec{P} = (4, 0, 7), \quad \vec{Q} = (-2, 1, 3), \quad \vec{R} = (6, 4, 0), \quad \vec{S} = (-2, 4, 0) \quad (1)$$

$$D = (6, -8, 1) \quad (2)$$

$$\underline{u} = (4, 11, 5) \quad (3)$$

$$M = (7, 1, 2) \quad (4)$$

$$N = (-1, -5, 10) \quad \text{ב.} \quad \vec{EF} = (5, -1, 0) \quad \text{א.} \quad (5)$$

$$\underline{u} = (0, -7, 6), \quad \underline{v} = (-4, 7, 6) \quad (6)$$

$$z = 6, \quad y = -2, \quad x = 5 \quad \text{א.} \quad (7)$$

$$\text{א. הוכחה.} \quad \text{ב. לא.} \quad (8)$$

$$D = (6, -8, 1) \quad (9)$$

$$\text{א.} \quad (-6, 2, 8) \quad \text{ב.} \quad (-2, 1, 3) \quad \text{ג.} \quad (-17, 7, 24) \quad (10)$$

$$\text{א.} \quad (2.5, -1, -3.5) \quad \text{ב.} \quad (9.5, 9.5, -18) \quad (11)$$

$$(19, 19, -36) \quad (12)$$

$$\left( \frac{-3}{\sqrt{20}}, \frac{1}{\sqrt{20}}, \frac{4}{\sqrt{20}} \right) \quad (13)$$

$$\sqrt{158} \quad (14)$$

$$14 \quad (15)$$

$$\underline{u}^* \quad (16)$$

$$(5, 7, 1) \quad (17)$$

$$(-8, -16, 8) \quad (18)$$

$$(8, 12, 0) \quad (19)$$

$$\text{הוכחה.} \quad (20)$$

$$\text{א. הוכחה.} \quad \text{ב. כן.} \quad (21)$$

$$\text{א.} \quad \alpha = 97.277^\circ \quad \text{ב.} \quad \alpha = 90^\circ \quad \text{ג.} \quad \alpha = 180^\circ \quad (22)$$

## צירופים לינאריים, פרישה לינארית ותלות לינארית

בשאלות 1-7 נתונים הווקטורים הבאים:

$$u_1 = (4, 1, 1, 5), \quad u_2 = (0, 11, -5, 3), \quad u_3 = (2, -5, 3, 1), \quad u_4 = (1, 3, -1, 2)$$

- 1 א. האם  $u_1$  הוא צירוף לינארי של  $u_4$ ?  
 ב. האם  $u_1$  שייך ל- $Sp\{u_4\}$ ?  
 ג. האם הקבוצה  $\{u_1, u_4\}$  תלויה לינארית?
- 2 א. האם  $u_3$  הוא צירוף לינארי של  $u_1$  ו- $u_2$ ?  
 ב. האם  $u_3$  שייך ל- $Sp\{u_1, u_2\}$ ?  
 ג. האם הקבוצה  $\{u_1, u_2, u_3\}$  תלויה לינארית?  
 במידה וכן, רשום כל וקטור בקבוצה כצירוף לינארי של הווקטורים האחרים.
- 3 א. האם  $u_4$  הוא צירוף לינארי של  $u_1$  ו- $u_2$ ?  
 ב. האם  $u_4$  שייך ל- $Sp\{u_1, u_2\}$ ?  
 ג. האם הקבוצה  $\{u_1, u_2, u_4\}$  תלויה לינארית?  
 במידה וכן, רשום כל וקטור בקבוצה כצירוף לינארי של הווקטורים האחרים.
- 4 נתון  $v = (4, 12, k, -2k)$ .  
 א. מה צריך להיות ערכו של  $k$ , על מנת שהווקטור  $v$  יהיה צירוף לינארי של  $u_1$  ו- $u_2$ ?  
 ב. מה צריך להיות ערכו של  $k$ , על מנת שהווקטור  $v$  יהיה שייך ל- $Sp\{u_1, u_2\}$ ?  
 ג. מה צריך להיות ערכו של  $k$ , על מנת שהקבוצה  $\{u_1, u_2, v\}$  תהיה תלויה לינארית?
- 5 נתון  $v = (a, b, c, d)$ .  
 א. מה התנאים על  $a, b, c, d$ , על מנת שהווקטור  $v$  יהיה צירוף לינארי של  $u_1$  ו- $u_2$ ?  
 ב. מה התנאים על  $a, b, c, d$ , על מנת שהווקטור  $v$  יהיה שייך ל- $Sp\{u_1, u_2\}$ ?  
 ג. מה התנאים על  $a, b, c, d$ , על מנת שהקבוצה  $\{u_1, u_2, v\}$  תהיה תלויה לינארית?

- (6) הבע את הווקטור  $(10, 8, 0, 14)$  כצירוף לינארי של  $u_1, u_2$  ו- $u_3$ .  
 בכמה אופנים ניתן לעשות זאת?
- (7) הבע את הווקטור  $(7, 10, -2, 11)$  כצירוף לינארי של  $u_1, u_2, u_3$  ו- $u_4$ .  
 בכמה אופנים ניתן לעשות זאת?
- (8) עבור איזה ערכים של  $a, b, c$ , הווקטורים הבאים תלויים לינארית:  
 $\{(c, 2, 4), (2, 4, a, 2), (c, b, 6), (b, 2, a)\}$

### תשובות סופיות

- (1) א. לא. ב. לא. ג. לא.
- (2) א. כן. ב. כן. ג. כן,  $u_2 = u_1 - 2u_3, u_1 = 2u_3 + u_2$ .
- (3) א. כן. ב. כן. ג. כן,  $u_2 = 4u_4 - u_1, u_1 = 4u_4 - u_2$ .
- (4) א+ב+ג.  $k = -4$
- (5)  $a = 5t + 3s, b = 4t - 13s, c = 7s, d = 7t$
- (6) אינסוף.
- (7) אינסוף.
- (8) לכל ערך של  $a, b, c$ .

# השלמה פרונטלית באלגברה לינארית

פרק 2 - פתרון וחקירת מערכת משוואות לינאריות

תוכן העניינים

- 1. פתרון וחקירת מערכת משוואות לינאריות..... 8
- 2. מערכות עם פרמטר..... 11

## פתרון וחקירת מערכות של משוואות ליניאריות

### שאלות

(1) מצא אילו מהמערכות הבאות הן מערכות שקולות:

$$\begin{array}{llll} 2x + y = 4 & x - y = 0 & x - 4y = -7 & x + 10y = 11 \\ x + y = 3 \quad \text{ד.} & 2x + y = 3 \quad \text{ג.} & x - y = -1 \quad \text{ב.} & 2x - 2y = 0 \quad \text{א.} \end{array}$$

(2) רשום את המטריצות המתאימות למערכות המשוואות הבאות:

$$\begin{array}{llll} x = 3 & 2x + y + z = 3 & x - 4y + z = -7 & x + 10y = 11 \\ 2x + y = 4 \quad \text{ד.} & x - z = 0 \quad \text{ג.} & x - y = -1 \quad \text{ב.} & 2x - 2y = 0 \quad \text{א.} \\ z + t = 8 & & x + y + z = 5 & x + y = 3 \end{array}$$

בשאלות 3-5 בצע על כל מטריצה את הפעולות הרשומות מתחתיה, בזו אחר זו, ומצא את המטריצה המתקבלת (סדר הפעולות הוא משמאל לימין ומלמעלה למטה).

$$\begin{array}{lll} \begin{pmatrix} 3 & -4 & 8 & 1 \\ 2 & -3 & 6 & 0 \\ -1 & 4 & -5 & 1 \end{pmatrix} \quad \text{(5)} & \begin{pmatrix} 4 & 1 & 0 & 2 \\ -1 & 2 & 1 & 0 \\ 0 & 3 & 1 & -1 \end{pmatrix} \quad \text{(4)} & \begin{pmatrix} 3 & 5 & -1 & 0 \\ 2 & 1 & 4 & 2 \\ 5 & 0 & -2 & 6 \end{pmatrix} \quad \text{(3)} \\ R_1 \rightarrow R_1 + 3R_3, R_2 \rightarrow R_2 + 3R_3 & R_2 \rightarrow 4R_2, R_2 \rightarrow R_2 + R_1 & R_1 \leftrightarrow R_2, R_1 \rightarrow 2R_1 \\ R_1 \rightarrow 5R_1 - 8R_2 & R_2 \leftrightarrow R_3, R_3 \rightarrow R_3 - 3R_2 & R_3 \rightarrow R_3 + R_1, R_1 \leftrightarrow R_3 \end{array}$$

(6) מצא איזה פעולה אלמנטרית אחת יש לבצע על המטריצה שמשמאל, כדי לקבל את המטריצה מימין:

$$\begin{array}{l} \begin{pmatrix} 1 & -2 & 4 \\ 4 & 1 & 1 \end{pmatrix} \rightarrow \begin{pmatrix} 6 & -3 & 9 \\ 4 & 1 & 1 \end{pmatrix} \quad \text{א.} \\ \begin{pmatrix} 1 & 0 & -4 & 1 \\ 4 & 2 & 1 & 1 \\ 0 & 1 & 0 & 4 \end{pmatrix} \rightarrow \begin{pmatrix} 1 & 0 & -4 & 1 \\ 0 & 2 & 17 & -3 \\ 0 & 1 & 0 & 4 \end{pmatrix} \quad \text{ב.} \\ \begin{pmatrix} 1 & 0 \\ 0 & 1 \\ 4 & 4 \end{pmatrix} \rightarrow \begin{pmatrix} 1 & 0 \\ 4 & 2 \\ 4 & 4 \end{pmatrix} \quad \text{ג.} \end{array}$$

בשאלות 7-10 הבא את המטריצות הבאות לצורה מדורגת  
(בשאלות 7, 9-10 גם לצורה מדורגת קנונית):

$$\begin{pmatrix} 3 & 6 & 3 & -6 & 5 \\ 2 & 4 & 1 & -2 & 3 \\ 1 & 2 & -1 & 2 & 1 \end{pmatrix} \quad (8) \qquad \begin{pmatrix} 1 & 2 & -3 & -2 & 4 & 1 \\ 2 & 5 & -8 & -1 & 6 & 4 \\ 1 & 4 & -7 & 5 & 2 & 8 \end{pmatrix} \quad (7)$$

$$\begin{pmatrix} 4 & 1 & 1 & 5 \\ 0 & 11 & -5 & 3 \\ 2 & -5 & 3 & 1 \\ 1 & 3 & -1 & 2 \end{pmatrix} \quad (10) \qquad \begin{pmatrix} 1 & 2 & -1 & 3 \\ 1 & 3 & 1 & 5 \\ 3 & 8 & 4 & 17 \end{pmatrix} \quad (9)$$

בשאלות 11-22 פתור את מערכות המשוואות בשיטת גאוס (כלומר, על ידי דרוג):

$$\begin{aligned} 4x + 8y &= 20 & (12) \\ 3x + 6y &= 15 \end{aligned} \qquad \begin{aligned} 2x + 3y &= 8 & (11) \\ 5x - 4y &= -3 \end{aligned}$$

$$\begin{aligned} 2x_1 - x_2 - 3x_3 &= 5 \\ 3x_1 - 2x_2 + 2x_3 &= 5 & (14) \\ 10x_1 - 6x_2 - 2x_3 &= 32 \end{aligned} \qquad \begin{aligned} 8x - 4y &= 10 \\ -6x + 3y &= 1 & (13) \end{aligned}$$

$$\begin{aligned} x + 2y + 3z &= 3 \\ 4x + 6y + 16z &= 8 & (16) \\ 3x + 2y + 17z &= 1 \end{aligned} \qquad \begin{aligned} x + 2y + 3z &= -11 \\ 2x + 3y - z &= -5 & (15) \\ 3x + y - z &= 2 \end{aligned}$$

$$\begin{aligned} 4x - 7y &= 0 \\ 8x - 14y &= 2 & (18) \\ -16x + 28y &= 4 \end{aligned} \qquad \begin{aligned} x + 3y &= 2 \\ 2x + y &= -1 & (17) \\ x - y &= -2 \end{aligned}$$

$$\begin{aligned} x + 2y - 3z + 2t &= 2 \\ 2x + 5y - 8z + 6t &= 5 & (20) \\ 6x + 8y - 10z + 4t &= 8 \end{aligned} \qquad \begin{aligned} 3x - 2y &= 1 \\ -9x + 6y &= -3 & (19) \\ 6x - 4y &= 2 \end{aligned}$$

$$\begin{aligned} x + 2y + 2z &= 2 \\ 3x - 2y - z &= 5 & (22) \\ 2x - 5y + 3z &= -4 \\ 2x + 8y + 12z &= 0 \end{aligned} \qquad \begin{aligned} x_1 + 5x_2 + 4x_3 - 13x_4 &= 3 \\ 3x_1 - x_2 + 2x_3 + 5x_4 &= 2 & (21) \\ 2x_1 + 2x_2 + 3x_3 - 4x_4 &= 0 \end{aligned}$$

## תשובות סופיות

(1) א ו-ג שקולות, ו-ב ו-ד שקולות.

$$\begin{pmatrix} 2 & 1 & 1 & 3 \\ 1 & 0 & -1 & 0 \end{pmatrix} \text{ג.} \quad \begin{pmatrix} 1 & -4 & 1 & -7 \\ 1 & -1 & 0 & -1 \\ 1 & 1 & 1 & 5 \end{pmatrix} \text{ב.} \quad \begin{pmatrix} 1 & 10 & 11 \\ 2 & -2 & 0 \\ 1 & 1 & 3 \end{pmatrix} \text{א.} \quad (2)$$

$$\begin{pmatrix} 1 & 0 & 0 & 0 & 3 \\ 2 & 1 & 0 & 0 & 4 \\ 0 & 0 & 1 & 1 & 8 \end{pmatrix} \text{ד.}$$

$$\begin{pmatrix} 8 & -32 & 37 & -4 \\ -1 & 9 & -5 & 3 \\ -1 & 4 & -5 & 1 \end{pmatrix} (5) \quad \begin{pmatrix} 4 & 1 & 0 & 2 \\ 0 & 3 & 1 & -1 \\ 0 & 0 & 1 & 5 \end{pmatrix} (4) \quad \begin{pmatrix} 9 & 2 & 6 & 10 \\ 3 & 5 & -1 & 0 \\ 4 & 2 & 8 & 4 \end{pmatrix} (3)$$

$$R_2 \rightarrow 2R_2 + 4R_1 \text{ ג.} \quad R_2 \rightarrow R_2 - 4R_1 \text{ ב.} \quad R_1 \rightarrow 2R_1 + R_2 \text{ א.} \quad (6)$$

$$\begin{pmatrix} 1 & 0 & 1 & 0 & 24 & 21 \\ 0 & 1 & -2 & 0 & -8 & -7 \\ 0 & 0 & 0 & 1 & 2 & 3 \end{pmatrix} \text{ו-} \quad \begin{pmatrix} 1 & 2 & -3 & -2 & 4 & 1 \\ 0 & 1 & -2 & 3 & -2 & 2 \\ 0 & 0 & 0 & 1 & 2 & 3 \end{pmatrix} (7)$$

$$\begin{pmatrix} 1 & 0 & 0 & \frac{17}{3} \\ 0 & 1 & 0 & -\frac{2}{3} \\ 0 & 0 & 1 & \frac{4}{3} \end{pmatrix} \text{ז-} \quad \begin{pmatrix} 1 & 2 & -1 & 3 \\ 0 & 1 & 2 & 2 \\ 0 & 0 & 3 & 4 \end{pmatrix} (9) \quad \begin{pmatrix} 1 & 2 & -1 & 2 & 1 \\ 0 & 0 & 3 & -6 & 1 \\ 0 & 0 & 0 & 0 & 0 \end{pmatrix} (8)$$

$$\begin{pmatrix} 1 & 3 & -1 & 2 \\ 0 & 11 & -5 & 3 \\ 0 & 0 & 0 & 0 \\ 0 & 0 & 0 & 0 \end{pmatrix} (10)$$

$$\phi (13) \quad (x, y) = (5 - 2t, t) (12) \quad (x, y) = (1, 2) (11)$$

$$(x_1, x_2, x_3) = (1, -3, -2) (15) \quad \phi (14)$$

$$(x, y) = (-1, 1) (17) \quad (x, y, z) = (-1 - 7t, 2 + 2t, t) (16)$$

$$(x, y) = \left( \frac{1+2t}{3}, t \right) (19) \quad \phi (18)$$

$$\phi (21) \quad (x, y, z, t) = (-a + 2b, 1 + 2a - 2b, a, b) (20)$$

$$(x, y, z) = (2, 1, -1) (22)$$

## מערכות עם פרמטר

### שאלות

בשאלות 1-6 מצא לאילו ערכי  $k$  (אם יש כאלה) יש למערכות:  
 1. פתרון יחיד. 2. אף פתרון. 3. אינסוף פתרונות.

$$x - y + z = 1$$

$$5x - 7y + (k^2 + 3)z = k^2 + 1 \quad (1)$$

$$3x - y + (k + 3)z = 3$$

$$x + ky + z = 1$$

$$x + y + kz = 1 \quad (2)$$

$$kx + y + z = 1$$

$$x + 2ky + z = 0$$

$$3x + y + kz = 2 \quad (3)$$

$$x + 9ky + 5z = -2$$

$$2x - y + z = 0$$

$$x + 2y - z = 0 \quad (4)$$

$$5x + (1 - k)y + k^2z = 1$$

$$kx - y = 1$$

$$(k - 2)x + ky = -2 \quad (5)$$

$$(k^2 - 1)z = 9$$

$$x + ky + 3z = 2$$

$$kx - y + z = 4 \quad (6)$$

$$3x + y + (2 + k)z = 0$$

בשאלות 7-8 מצא לאילו ערכי  $k$  (אם יש כאלה) יש למערכות:  
 1. פתרון יחיד. 2. אף פתרון. 3. אינסוף פתרונות.

$$2x + ky = 3$$

$$(k+3)x + 2y = k^2 + 5 \quad (7)$$

$$6x + 3ky = 7k^2 + 2$$

$$2x - 3y + z = 1$$

$$4x + (k^2 - 5k)y + 2z = k \quad (8)$$

$$(9) \quad \begin{cases} x + y - z = 1 \\ 3x - 7y + (k^2 + 1)z = k^2 - 1 \\ 4x - 6y + (k + 2)z = 4 \end{cases}$$

נתונה המערכת:

- א. רשום את המטריצה המתאימה למערכת המשוואות.  
 ב. רשום את הצורה המדורגת של המטריצה מסעיף א.  
 ג. מצא לאילו ערכי  $k$  יש למערכת:  
 1. פתרון יחיד. 2. אף פתרון. 3. אינסוף פתרונות.  
 ד. רשום את הפתרון הכללי במקרה בו יש אינסוף פתרונות.  
 ה. מצא לאילו ערכי  $k$  יש למערכת פתרון שבו  $z = 0$ .  
 ו. מצא לאילו ערכי  $k$  יש למערכת פתרון יחיד שבו  $z = 0$ .  
 ז. מצא עבור איזה ערך של  $k$  פתרון של המשוואה השלישית הוא  $(1, 2, 3)$ .  
 האם ייתכן שהפתרון הנ"ל הוא גם פתרון של כל המערכת? הסבר.  
 ח. מצא לאיזה ערך של  $k$ ,  $(1, 0, 0)$  הוא הפתרון היחיד של המערכת.

## תשובות סופיות

$$(1) \quad 1. \ k \neq -2, \ k \neq 1 \quad 2. \ k = 1 \quad 3. \ k = -2$$

$$(2) \quad 1. \ k \neq -2, \ k \neq 1 \quad 2. \ k = -2 \quad 3. \ k = 1$$

$$(3) \quad 1. \ k \neq \frac{4}{7}, \ k \neq -1 \quad 2. \ k = \frac{4}{7} \quad 3. \ k = -1$$

$$(4) \quad 1. \ k \neq -0.4, \ k \neq 1 \quad 2. \ k = -0.4, \ k = 1$$

$$(5) \quad 1. \ k \neq -2, \ k \neq \pm 1 \quad 2. \ k = -2, \ k = \pm 1$$

$$(6) \quad 1. \ k \neq 2, \ k \neq -3, \ k \neq -1 \quad 2. \ k = 2, \ k = -3, \ k = -1$$

$$(7) \quad 1. \ k = -1 \quad 2. \ k \neq \pm 1 \quad 3. \ k = 1$$

$$(8) \quad 1. \ k = 3 \quad 2. \ k = 3 \quad 3. \ k \neq 3$$

$$(9) \quad \text{א.} \begin{pmatrix} 1 & 1 & -1 & 1 \\ 3 & -7 & k^2+1 & k^2-1 \\ 4 & -6 & k+2 & 4 \end{pmatrix} \quad \text{ב.} \begin{pmatrix} 1 & 1 & -1 & 1 \\ 0 & -10 & k^2+4 & k^2-4 \\ 0 & 0 & -k^2+k+2 & 4-k^2 \end{pmatrix}$$

$$\text{ג.} \quad 1. \ k \neq -1, \ k \neq 2 \quad 2. \ k = -1 \quad 3. \ k = 2 \quad \text{ד.} \quad (x, y, z) = (1 + 0.2t, 0.8t, t)$$

$$\text{ה.} \quad k = \pm 2 \quad \text{ו.} \quad k = -2 \quad \text{ז.} \quad k = 2, \text{ לא.} \quad \text{ח.} \quad k = -2$$

# השלמה פרונטלית באלגברה לינארית

פרק 3 - מטריצות

תוכן העניינים

- 14 ..... 1. מטריצות
- 16 ..... 2. מטריצות סימטריות ומטריצות אנטי-סימטריות
- 17 ..... 3. המטריצה ההופכית

## מטריצות

## שאלות

1 נתונות המטריצות הבאות:  $A_{4 \times 6}$ ,  $B_{4 \times 6}$ ,  $C_{6 \times 2}$ ,  $D_{4 \times 2}$ ,  $E_{6 \times 4}$ .  
קבע אילו מבין המטריצות הבאות מוגדרות.  
במידה והמטריצה מוגדרת, רשום את סדר המטריצה:

- א.  $A+B$       ב.  $AB$       ג.  $AC-D$       ד.  $AE-B$   
ה.  $B+AB$       ו.  $E(B+A)$       ז.  $(E+A^T)D$       ח.  $E^T B$   
ט.  $E(AC)$       י.  $E(B-A)$

2 מצא את  $x, y, z$ , אם ידוע כי:  $\begin{pmatrix} x+2y & 3x-2y \\ 2x-5y & 2x+8y \end{pmatrix} = \begin{pmatrix} 2-2z & 5+z \\ -4-3z & -12z \end{pmatrix}$

בשאלות 3-8 נתונות המטריצות הבאות:

$$A = \begin{pmatrix} 4 & 0 \\ 1 & 2 \\ -1 & 1 \end{pmatrix}, B = \begin{pmatrix} 4 & 1 \\ 0 & -2 \end{pmatrix}, C = \begin{pmatrix} 1 & 4 & 2 \\ 4 & 1 & 5 \end{pmatrix}, D = \begin{pmatrix} 1 & 4 & 2 \\ 1 & 0 & -1 \\ 4 & 2 & 10 \end{pmatrix},$$

$$E = \begin{pmatrix} 4 & 1 & 1 \\ -1 & 0 & 1 \\ 4 & 1 & -1 \end{pmatrix}, I_2 = \begin{pmatrix} 1 & 0 \\ 0 & 1 \end{pmatrix}, I_3 = \begin{pmatrix} 1 & 0 & 0 \\ 0 & 1 & 0 \\ 0 & 0 & 1 \end{pmatrix}$$

חשב (במידה וניתן):

3 א.  $E+D$       ב.  $E-D+I_3$

ג.  $5C$       ד.  $2D+4EI_3$

4  $2tr(D^2 - 2E)$

5 א.  $4C^T + A$       ב.  $\frac{1}{2}A^T + \frac{1}{4}C$

6  $I_2 BC$

7  $tr(C^T C)$

8  $DABC$

## תשובות סופיות

- (1) א.  $4 \times 6$     ב. לא.    ג.  $4 \times 2$     ד. לא.    ה. לא.  
 ו.  $6 \times 6$     ז.  $6 \times 2$     ח. לא.    ט.  $6 \times 2$     י.  $6 \times 6$

(2)  $(x, y, z) = (2, 1, -1)$

(3) א.  $\begin{pmatrix} 5 & 5 & 3 \\ 0 & 0 & 0 \\ 8 & 3 & 9 \end{pmatrix}$     ב.  $\begin{pmatrix} 4 & -3 & -1 \\ -2 & 1 & 2 \\ 0 & -1 & -10 \end{pmatrix}$     ג.  $\begin{pmatrix} 5 & 20 & 10 \\ 20 & 5 & 25 \end{pmatrix}$     ד.  $\begin{pmatrix} 18 & 12 & 8 \\ -2 & 0 & 2 \\ 24 & 8 & 16 \end{pmatrix}$

(4) 230

(5) א.  $\begin{pmatrix} 8 & 16 \\ 17 & 6 \\ 7 & 21 \end{pmatrix}$     ב.  $\begin{pmatrix} 2.25 & 1.5 & 0 \\ 1 & 1.25 & 1.75 \end{pmatrix}$

(6)  $\begin{pmatrix} 8 & 17 & 13 \\ -8 & -2 & -10 \end{pmatrix}$

(7) 63

(8)  $\begin{pmatrix} -32 & 82 & -22 \\ 48 & 87 & 75 \\ -48 & 108 & -36 \end{pmatrix}$

## מטריצות סימטריות ומטריצות אנטי-סימטריות

### שאלות

מטריצה ריבועית  $A$  תיקרא סימטרית אם  $A^T = A$ , ואנטי-סימטרית אם  $A^T = -A$ .

- (1) ידוע ש- $A$  מטריצה ריבועית.  
מי מבין הבאים נכון (אחד או יותר):  
1.  $AA^T$  סימטרית. 2.  $A + A^T$  סימטרית. 3.  $A - A^T$  אנטי-סימטרית.
- (2) ידוע ש- $A$  ו- $B$  אנטי-סימטריות מאותו סדר.  
מי מבין הבאים נכון:  
1.  $BABABA$  אנטי-סימטרית. 2.  $A^2 - B^2$  סימטרית. 3.  $A^2 + B^2$  סימטרית.
- (3) ידוע ש- $A$  ו- $B$  סימטריות מאותו סדר ונתון כי  $AB = -BA$ .  
מי מבין הבאים נכון:  
1.  $AB^3$  אנטי-סימטרית. 2.  $AB^2$  סימטרית. 3.  $(A - B)^2$  סימטרית.
- (4) ידוע ש- $A$  סימטרית ו- $B$  אנטי סימטרית מאותו סדר ונתון כי  $AB = BA$ .  
הוכח: 1.  $AB$  אנטי-סימטרית. 2.  $AB + B$  אנטי-סימטרית.
- (5) נתון:  $A, B, AB$  סימטריות מאותו סדר.  
הוכח כי  $A^4 B^4 = B^4 A^4$ .

### תשובות סופיות

- (1) 1,2,3
- (2) 2
- (3) 1,2,3
- (4) הוכחה.
- (5) הוכחה.

## המטריצה ההופכית

### שאלות

בשאלות 1-6 מצא את ההפוכה של כל מטריצה. בדוק תשובתך על ידי כפל מטריצות מתאים.

$$(1) \quad \begin{pmatrix} 1 & 2 \\ 3 & 4 \end{pmatrix} \quad (2) \quad \begin{pmatrix} 5 & 2 \\ 7 & 3 \end{pmatrix} \quad (3) \quad \begin{pmatrix} 4 & 1.5 \\ 2 & 1 \end{pmatrix}$$

$$(4) \quad \begin{pmatrix} 1 & 0 & 2 \\ 4 & -1 & 8 \\ 2 & 1 & 3 \end{pmatrix} \quad (5) \quad \begin{pmatrix} 2 & 1 & 1 \\ 0 & 2 & -1 \\ 5 & 2 & 3 \end{pmatrix} \quad (6) \quad \begin{pmatrix} 2 & -1 & 1 \\ 3 & -2 & 2 \\ 5 & -3 & 4 \end{pmatrix}$$

(7) עבור אילו ערכים של הקבוע  $k$  המטריצה  $\begin{pmatrix} 1 & -1 & 1 \\ 5 & -7 & k^2+3 \\ 3 & -1 & k+3 \end{pmatrix}$  הפיכה?

הנח שהמטריצות בשאלות 8-10 הן הפיכות מסדר  $n$ , וחלץ את המטריצה  $X$ :

$$(8) \quad \text{א. } AXC = D \quad \text{ב. } A^{-1}XC = A^{-1}DC \quad \text{ג. } P^{-1}X^T P = A$$

$$(9) \quad \text{א. } C^{-1}(A+X)D^{-2} = I \quad \text{ב. } (A-AX)^{-1} = X^{-1}C$$

$$(10) \quad ABC^T X^{-1} BA^T C = AB^T$$

$$(11) \quad \text{נתון } B = \begin{pmatrix} 1 & 2 \\ 4 & 9 \end{pmatrix}$$

חשב את המטריצה  $X$ , אם ידוע כי  $B^2 X (2B)^{-1} = B + I$ .

$$(12) \quad \text{נתון } B^{-1} = \begin{pmatrix} 1 & 0 & 2 \\ 4 & -1 & 8 \\ 2 & 1 & 3 \end{pmatrix} \text{ חשב את המטריצה } Y \text{ , אם ידוע כי } BYB^T = B^{-1} + B$$

$$(13) \quad \text{נתון } A^{-1} = \begin{pmatrix} 2 & 3 \\ 4 & 7 \end{pmatrix}$$

חשב את המטריצה  $B$ , אם נתון בנוסף כי:  $5A^T B (I + 2A)^{-2} = (7A)^{-2}$ .

14) בסעיפים הבאים מצא מטריצות  $A$ ,  $\underline{x}$  ו- $\underline{b}$ , המבטאות את מערכת המשוואות הנתונה ע"י המשוואה היחידה  $A\underline{x} = \underline{b}$ :

$$2x + y - z = 3$$

$$x + 2y - 4z = 5 \quad \text{א.}$$

$$6x + 4y + z = 2$$

$$2x - 3y + z + t = 1$$

$$4x + y + 2z = 4$$

$$y + z + t = 1 \quad \text{ב.}$$

$$x - 4z - 2y = 10$$

$$2x - y + z = 3$$

15) פתור את המערכת הבאה בעזרת המטריצה ההפוכה:  $3x - 2y + 2z = 5$ .

$$5x - 3y + 4z = 11$$

$$x + 4y + 2z + 4t = 1$$

$$x + 2y - z = 0$$

16) פתור את המערכת הבאה בעזרת המטריצה ההפוכה:

$$y + z + t = 1$$

$$x + 3y - z - 2t = 0$$

## תשובות סופיות

$$\begin{pmatrix} 2 & 1 \\ 1.5 & -0.5 \end{pmatrix} \quad (1)$$

$$\begin{pmatrix} 3 & -2 \\ -7 & 5 \end{pmatrix} \quad (2)$$

$$\begin{pmatrix} 1 & -1.5 \\ -2 & 4 \end{pmatrix} \quad (3)$$

$$\begin{pmatrix} -11 & 2 & 2 \\ 4 & -1 & 0 \\ 6 & -1 & -1 \end{pmatrix} \quad (4)$$

$$\begin{pmatrix} 8 & -1 & -3 \\ -5 & 1 & 2 \\ -10 & 1 & 4 \end{pmatrix} \quad (5)$$

$$\begin{pmatrix} 2 & -1 & 0 \\ 2 & -3 & 1 \\ -1 & -1 & 1 \end{pmatrix} \quad (6)$$

$$k \neq 1, k \neq -2 \quad (7)$$

$$(P^{-1})^T A^T P^T \quad \text{ג.} \quad D \quad \text{ב.} \quad A^{-1}DC^{-1} \quad \text{א.} \quad (8)$$

$$(A+C^{-1})^{-1} A \quad \text{ב.} \quad CD^2 - A \quad \text{א.} \quad (9)$$

$$BA^T C(B^{-1})^T BC^T \quad (10)$$

$$X = 4 \begin{pmatrix} 5 & -1 \\ -2 & 1 \end{pmatrix} \quad (11)$$

$$Y = \begin{pmatrix} 22 & 86 & 38 \\ 64 & 246 & 114 \\ 60 & 238 & 100 \end{pmatrix} \quad (12)$$

$$B = \frac{1}{245} \begin{pmatrix} 264 & 450 \\ 448 & 768 \end{pmatrix} \quad (13)$$

$$A = \begin{pmatrix} 2 & 1 & -1 \\ 1 & 2 & -4 \\ 4 & 4 & 1 \end{pmatrix} \quad \underline{x} = \begin{pmatrix} x \\ y \\ z \end{pmatrix} \quad \underline{b} = \begin{pmatrix} 3 \\ 5 \\ 2 \end{pmatrix} \quad \text{א.} \quad (14)$$

$$A = \begin{pmatrix} 2 & -3 & 1 & 1 \\ 4 & 1 & 2 & 0 \\ 0 & 1 & 1 & 1 \\ 1 & -2 & -4 & 0 \end{pmatrix} \quad \underline{x} = \begin{pmatrix} x \\ y \\ z \\ t \end{pmatrix} \quad \underline{b} = \begin{pmatrix} 1 \\ 4 \\ 1 \\ 10 \end{pmatrix} \quad \text{ב.}$$

$$(x, y, z) = (1, 2, 3) \quad (15)$$

$$(x, y, z, t) = (-13, 4, -5, 2) \quad (16)$$

# השלמה פרונטלית באלגברה לינארית

פרק 4 - דטרמיננטות

תוכן העניינים

- 1. חישוב דטרמיננטות ..... 20
- 2. כלל קרמר ופתרון מערכת משוואות ..... 23
- 3. מטריצה צמודה ומטריצה הפוכה ..... 24

## חישוב דטרמיננטות

### שאלות

בשאלות 1-5 חשב את הדטרמיננטה על ידי הורדת סדר (פיתוח לפי שורה/עמודה):

$$(1) \quad \text{א.} \begin{vmatrix} a & b \\ c & d \end{vmatrix} \quad \text{ב.} \begin{vmatrix} 5 & 2 \\ -7 & 3 \end{vmatrix} \quad \text{ג.} \begin{vmatrix} 4 & -1.5 \\ 2 & -1 \end{vmatrix}$$

$$(2) \quad \text{א.} \begin{vmatrix} 1 & 0 & 2 \\ 4 & 1 & 8 \\ 2 & 0 & 3 \end{vmatrix} \quad \text{ב.} \begin{vmatrix} 2 & 1 & 1 \\ 0 & 2 & -1 \\ 1 & 0 & 0 \end{vmatrix} \quad \text{ג.} \begin{vmatrix} 2 & 1 & 1 \\ 3 & -2 & 5 \\ 0 & 2 & 0 \end{vmatrix}$$

$$(3) \quad \text{א.} \begin{vmatrix} 1 & 0 & 0 & 0 \\ 1 & 2 & 0 & 0 \\ 1 & 2 & 3 & 0 \\ 1 & 2 & 3 & 4 \end{vmatrix} \quad \text{ב.} \begin{vmatrix} 1 & 0 & 2 & 5 \\ -2 & 0 & -6 & 0 \\ 5 & 3 & -7 & 4 \\ 2 & 0 & 5 & 44 \end{vmatrix} \quad \text{ג.} \begin{vmatrix} 4 & 0 & 0 & 5 \\ 1 & 7 & 2 & 4 \\ 4 & 0 & 0 & 0 \\ 1 & 4 & -1 & 1 \end{vmatrix}$$

(4) חשב את הדטרמיננטה של המטריצות הבאות על ידי דירוג:

$$\text{א.} \begin{vmatrix} 1 & 3 & 0 & 2 \\ -2 & -5 & 7 & 4 \\ 3 & 5 & 2 & 1 \\ 2 & 2 & 2 & -1 \end{vmatrix} \quad \text{ב.} \begin{vmatrix} 1 & 3 & 3 & -4 \\ 0 & 1 & 2 & -5 \\ 2 & 5 & 4 & -3 \\ -1 & -2 & -1 & -1 \end{vmatrix} \quad \text{ג.} \begin{vmatrix} 1 & -1 & -3 & 0 \\ 1 & 0 & 2 & 4 \\ -1 & 2 & 8 & 5 \\ 3 & -1 & -2 & 3 \end{vmatrix}$$

בשאלות 5-6 חשב את הדטרמיננטה על ידי שילוב של הורדת סדר ודירוג:

$$(5) \quad \begin{vmatrix} 2 & 5 & -3 & -1 \\ 3 & 0 & 1 & -3 \\ -6 & 0 & -4 & 9 \\ 6 & 15 & -7 & -2 \end{vmatrix} \quad (6) \quad \begin{vmatrix} -1 & 2 & 3 & 0 \\ 3 & 4 & 3 & 0 \\ 5 & 4 & 6 & 6 \\ 3 & 4 & 7 & 3 \end{vmatrix}$$

בשאלות 7-8 הראה, ללא חישוב, שהדטרמיננטה של המטריצות שווה אפס:

$$(7) \quad \text{א.} \begin{vmatrix} 1 & 0 & 2 \\ 7 & 0 & 12 \\ 3 & 0 & 2 \end{vmatrix} \quad \text{ב.} \begin{vmatrix} 1 & 2 & 3 \\ 4 & 5 & 6 \\ 5 & 7 & 9 \end{vmatrix} \quad \text{ג.} \begin{vmatrix} 12 & 15 & 18 \\ 13 & 16 & 19 \\ 14 & 17 & 20 \end{vmatrix}$$

$$(8) \quad \text{א.} \begin{vmatrix} y+z & z+x & y+x \\ x & y & z \\ 1 & 1 & 1 \end{vmatrix} \quad \text{ב.} \begin{vmatrix} a & a+x & a+y \\ b & b+x & b+y \\ c & c+x & c+y \end{vmatrix}$$

$$\begin{vmatrix} a & b & c \\ d & e & f \\ g & h & i \end{vmatrix} = 4 \quad \text{בשאלות 9-11 נתון כי:}$$

חשב:

$$\begin{vmatrix} 2a-3d & 2d & g+4a \\ 2b-3e & 2e & h+4b \\ 2c-3f & 2f & i+4c \end{vmatrix} \quad (10) \qquad \begin{vmatrix} a & g+d & 2d \\ b & h+e & 2e \\ c & i+f & 2f \end{vmatrix} \quad (9)$$

$$\begin{vmatrix} 0 & g+3d & 3a & a+3d \\ 0 & h+3e & 3b & b+3e \\ 0 & i+3f & 3c & c+3f \\ 1 & 0 & 0 & 0 \end{vmatrix} \quad (11)$$

$$\begin{vmatrix} 1 & a & a^2 \\ 1 & b & b^2 \\ 1 & c & c^2 \end{vmatrix} = (b-a)(c-a)(c-b) \quad \text{(12) הוכח כי:}$$

בשאלות 13-14 נתון כי  $A$  ו- $B$  מטריצות מסדר 3,  $|B|=2$ ,  $|A|=4$ .  
חשב:

$$(13) \quad \text{א. } |ABA^{-1}B^T| \quad \text{ב. } |4A^2B^3|$$

$$(14) \quad \text{א. } |-A^{-2}B^T A^3| \quad \text{ב. } |-2A^2 A^T \text{adj}B|$$

(15) נתון:  $A$  ו- $B$  מטריצות הפיכות מסדר 4,  $2AB+3I=0$ ,  $|A|=2$ .  
חשב את  $|B|$ .

(16) נתון:  $A$  ו- $B$  מטריצות הפיכות מסדר 3,  $B^2-2A^{-1}=0$ ,  $A+3B=0$ .  
חשב את  $|A|$ ,  $|B|$ .

(17) נתון:  $A$  מטריצה מסדר  $n$ ,  $|A|=128$ ,  $2AB=B^T A^2$ , ו- $B$  הפיכה.  
מצא את  $n$ .

## תשובות סופיות

- (1) א.  $ad - bc$     ב. 29    ג. -1
- (2) א. -1    ב. -3    ג. -14
- (3) א. 24    ב. 234    ג. -300
- (4) א. 0    ב. 0    ג. 3
- (5) 120
- (6) 114
- (7) פתרונות באתר: [www.GooL.co.il](http://www.GooL.co.il)
- (8) פתרונות באתר.
- (9) -8
- (10) 16
- (11) -36
- (12) הוכחה.
- (13) א. 4    ב.  $2^{13}$
- (14) א. -8    ב.  $-2^{11}$
- (15)  $\frac{81}{32}$
- (16)  $|A|=18, |B|=-2/3$
- (17) 7

## כלל קרמר ופתרון מערכת משוואות

### שאלות

בשאלות 1-3 פתור את מערכות המשוואות בעזרת כלל קרמר:

$$\begin{aligned} x + 2y &= 5 \\ 3x + 4y &= 11 \end{aligned} \quad (1)$$

$$\begin{aligned} x + z &= 3 \\ 4x + y + 8z &= 21 \\ 2x + 3z &= 8 \end{aligned} \quad (2)$$

$$\begin{aligned} x + 2z + 5t &= 8 \\ -2x - 6y &= -8 \\ 5x + 3y - 7z + 4t &= 5 \\ 2x + 5y + 4z &= 51 \end{aligned} \quad (3)$$

### תשובות סופיות

$$\begin{aligned} x = 1, y = 2 & \quad (1) \\ x = 1, y = 1, z = 2 & \quad (2) \\ x = y = z = t = 1 & \quad (3) \end{aligned}$$

## מטריצה צמודה קלאסית ומטריצה הפוכה

### שאלות

בשאלות 1-3 חשב את הצמודה הקלאסית  $adj(A)$ , ובעזרתה את  $A^{-1}$ :

$$A = \begin{pmatrix} 1 & 2 \\ 3 & 4 \end{pmatrix} \quad (1)$$

$$A = \begin{pmatrix} 2 & 1 & 1 \\ 0 & 2 & -1 \\ 5 & 2 & 3 \end{pmatrix} \quad (2)$$

$$A = \begin{pmatrix} 1 & 0 & 1 & 0 \\ 0 & 1 & 0 & 0 \\ 1 & 0 & 1 & 1 \\ 0 & 0 & 1 & 1 \end{pmatrix} \quad (3)$$

### תשובות סופיות

$$adj(A) = \begin{pmatrix} 4 & -2 \\ -3 & 1 \end{pmatrix}, \quad A^{-1} = \begin{pmatrix} -2 & 1 \\ 1.5 & -0.5 \end{pmatrix} \quad (1)$$

$$adj(A) = A^{-1} = \begin{pmatrix} 8 & -1 & -3 \\ -5 & 1 & 2 \\ -10 & 1 & 4 \end{pmatrix} \quad (2)$$

$$adj(A) = \begin{pmatrix} 0 & 0 & -1 & 1 \\ 0 & -1 & 0 & 0 \\ -1 & 0 & 1 & -1 \\ 1 & 0 & -1 & 0 \end{pmatrix}, \quad A^{-1} = \begin{pmatrix} 0 & 0 & 1 & -1 \\ 0 & 1 & 0 & 0 \\ 1 & 0 & -1 & 1 \\ -1 & 0 & 1 & 0 \end{pmatrix} \quad (3)$$