

# מכניקה לביולוגיה מולקולרית 71161001



## תוכן העניינים

1	1. הקדמה מתמטית לקורס
4	2. מבוא
11	3. קינמטיקה - תנועה בקו ישר
31	4. וקטורים
47	5. נפילה חופשית וזריקה אנכית
55	6. קינמטיקה - תנועה במישור
62	7. תנועה יחסית
65	8. תרגילים לחזרה עד לחלק זה
67	9. דינמיקה - תנועה בהשפעת כוחות (חוקי ניוטון)
99	10. עבודה ואנרגיה
124	11. תרגילים לחזרה עד עבודה ואנרגיה כולל
130	12. תנועה מעגלית
138	13. מתקף ותנע
151	14. תנועה הרמונית
165	15. שאלות מבגרויות
180	16. גלים
197	17. הידרו-סטטיקה והידרו-דינמיקה -
200	18. חום והחוק הראשון של התרמודינמיקה
219	19. החוק השני של התרמודינמיקה

# מכניקה לביולוגיה מולקולרית

## 711161001

פרק 1 - הקדמה מתמטית לקורס

תוכן העניינים

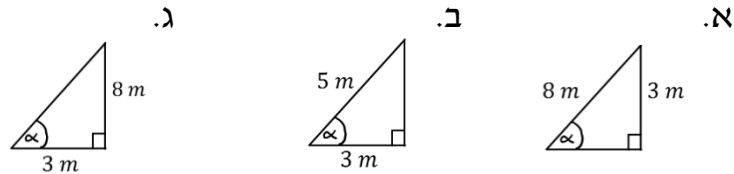
- 1.0 פונקציות טריגונומטריות..... 1
- 2.1 משוואת הקו הישר..... 2
- 3.2 הפרבולה..... 3

## פונקציות טריגונומטריות:

### שאלות:

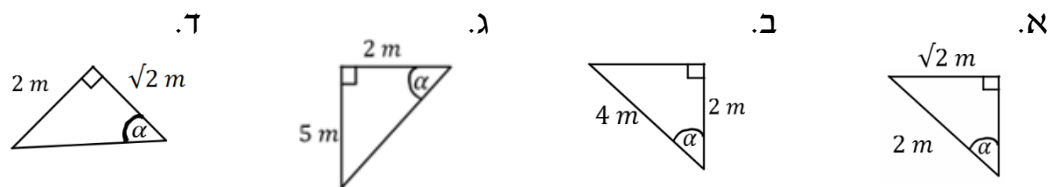
#### (1) חישוב אלפא

חשב את הזווית אלפא במקרים הבאים:



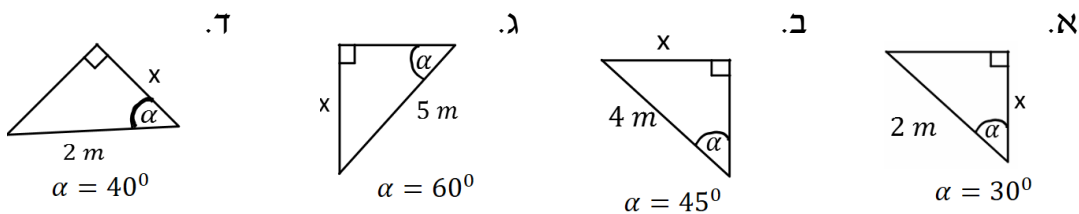
#### (2) משולשים שמסורטטים אחרת

חשב את הזווית אלפא במקרים הבאים:



#### (3) מציאת ניצבים

חשב את  $x$  במקרים הבאים:



### תשובות סופיות:

- |  |                        |                        |                           |
|--|------------------------|------------------------|---------------------------|
|  | א. $\alpha = 22^\circ$ | ב. $\alpha = 53^\circ$ | ג. $\alpha = 69^\circ$    |
|  | א. $\alpha = 45^\circ$ | ב. $\alpha = 60^\circ$ | ג. $\alpha = 68.2^\circ$  |
|  | א. $\sqrt{3}m$         | ב. $2\sqrt{2}m$        | ג. $\frac{5\sqrt{3}m}{2}$ |
|  |                        |                        | ד. $1.53m$                |
|  |                        |                        | ד. $\alpha = 55^\circ$    |

## משוואת הקו הישר:

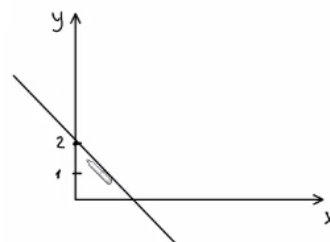
שאלות:

### 1) משוואת הישר משתי נקודות

- א. מצא את משוואת הקו הישר העובר דרך שתי הנקודות:  $(-1, 3)$ ,  $(4, -2)$ .
- ב. שרטט איור עבור הקו על גבי מערכת צירים.

תשובות סופיות:

- 1) א.  $y = -x + 2$
- ב.



## הפרבולה:

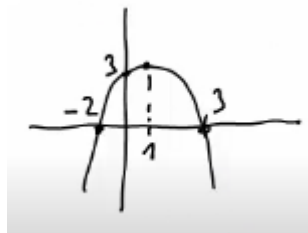
### שאלות:

1) נתונה הפרבולה הבאה:  $y = -x^2 + 2x + 3$ .

- א. מצא את נקודות החיתוך עם הצירים ואת נקודת הקודקוד של הפרבולה.  
 ב. קבע האם הפרבולה מחייכת או עצובה, ושרטט איור מקורב של הפרבולה לפי הנתונים שקיבלת.

### תשובות סופיות:

- 1) א. חיתוך עם הציר האנכי:  $(0,3)$ , נקודות חיתוך עם הציר האופקי:  $(-1,0)$   $(3,0)$ ,  
 נקודת הקודקוד:  $(1,4)$ .  
 ב. עצובה.



# מכניקה לביולוגיה מולקולרית

## 711161001

פרק 2 - מבוא

תוכן העניינים

1. מעברים בין יחידות..... 4
2. יחידות פיזיקאליות..... 6
3. צפיפות..... 7
4. צורת כתיבה ורמת דיוק..... (ללא ספר) 4
5. הערכת סדרי גודל..... 8
6. תרגילים..... 9

## מעברים בין יחידות:

### שאלות:

(1) דוגמה 1 - מעברים של יחידות לא בסיסיות

נתון:  $A = 2\text{km}$ ,  $B = 10\text{gr}$ .

מצא את  $C = A \cdot B$  ביחידות של m.k.s.

(2) דוגמה 2 - מעברים של יחידות לא בסיסיות

נתון:  $A = 2\text{m}^2$ ,  $B = 3\text{gr}$ ,  $C = 5\text{cm} \cdot \text{s}$ .

חשב את הגדלים הבאים ביחידות של m.k.s:

א.  $D = 2 \cdot A$

ב.  $E = \frac{5 \cdot B \cdot C}{A}$

(3) מעבר יחידות בחזקות

מצא את הגדלים הבאים, ביחידות של ס"מ:

א.  $A = 1\text{m}^2$

ב.  $B = 1\text{m}^3$

(4) סנטימטר בשלישית

הבע את הערכים הנ"ל ביחידות של  $\text{c.m}^3$ .

א.  $5 \cdot 2\text{m}^3$

ב.  $320\text{mm}^3$

ג.  $0.0054\text{km}^3$

(5) ליטר - דוגמה

הבע את הגדלים הבאים ב-liter.

א.  $5\text{m}^3$

ב.  $5\text{mm}^3$

### תשובות סופיות:

- |                                    |   |                                     |
|------------------------------------|---|-------------------------------------|
|                                    |   | 20m · kg (1)                        |
|                                    | ב. $37.5 \cdot 10^{-5} \frac{\text{sec} \cdot \text{kg}}{\text{m}}$ | א. $4\text{m}^2$ (2)                |
|                                    | ב. $10^6 \text{cm}^3$   | א. $10^4 \text{cm}^2$ (3)           |
| ג. $5.4 \cdot 10^{12} \text{cm}^3$ | ב. $0.32 \text{cm}^3$   | א. $5.2 \cdot 10^6 \text{cm}^3$ (4) |
|                                    | ב. $5 \cdot 10^{-6} \text{liter}$                                   | א. $5 \cdot 10^3 \text{liter}$ (5)  |

## יחידות פיזיקאליות:

שאלות:

(1) תרגיל

נתון:  $A = 2\text{m} \cdot \text{sec}$ ,  $B = 3\text{m}^2$ ,  $C = 1 \frac{\text{kg}}{\text{sec}}$ ,  $D = 2 \frac{\text{kg}}{\text{m}}$

בדוק האם הפעולות הבאות חוקיות. במידה והן חוקיות, חשב את התוצאה שלהן:

א.  $\frac{A}{B} + CA$

ב.  $\frac{AC}{B} + D$

ג.  $\frac{C}{D}A + B$

תשובות סופיות:

(1) א. פעולה לא חוקית. ב.  $2.66 \frac{\text{kg}}{\text{m}}$ . ג.  $4\text{m}^2$

## צפיפות:

### שאלות:

#### (1) דיסקה עם חור

- א. מצא את הצפיפות של דיסקה בעלת רדיוס  $R$  ומסה  $M$ .  
ב. בדיסקה קדחו חור ברדיוס  $r$ .  
מצא את המסה שהוצאה מהדיסקה.

### תשובות סופיות:

$$(1) \quad \text{א. } \frac{M}{\pi R^2} \quad \text{ב. } M \left( \frac{r}{R} \right)^2$$

## הערכת סדרי גודל:

שאלות:

(1) נשימות

הערך את מספר הנשימות של אדם בחייו.

תשובות סופיות:

(1)  $N = 10^9$

## תרגילים:

### שאלות:

#### (1) מסע של האור

האור זז במהירות של  $v = 3 \cdot 10^8 \frac{\text{m}}{\text{s}}$  כ-.

א. חשב את המרחק שעובר האור בשנתיים.

ב. כמה זמן ייקח לאור לעבור בין שתי גלקסיות שהמרחק ביניהם

הוא:  $2 \cdot 10^{19} \text{ m}$  ?

#### (2) צפיפות אטום המימן

חשב פי כמה גדולה צפיפות הפרוטון מצפיפות אטום המימן המורכב מפרוטון ואלקטרון בלבד. מסת הפרוטון:  $1.67 \cdot 10^{-27} \text{ kg}$ , מסת האלקטרון:  $9.11 \cdot 10^{-31} \text{ kg}$ , קוטר הפרוטון:  $3 \cdot 10^{-15} \text{ m}$ , קוטר אטום המימן:  $10^{-10} \text{ m}$ .

#### (3) שלג על הירח

הנח שעל הירח יורד שלג, השלג יורד בקצב שבו כל חצי שניה פוגע פתית שלג בפני הירח. הערך תוך כמה זמן יכוסה הירח כולו בשכבת שלג בגובה 2 מטר (הנח שהשלג לא נמס). רדיוס הירח:  $1.74 \cdot 10^6 \text{ m}$ , רדיוס פתית שלג הוא:  $2 \text{ c.m}$ .

#### (4) אטומים בגרגיר חול

רדיוס אטום הוא בערך:  $10^{-7} \text{ c.m}$ . רדיוסו של גרגיר חול הוא:  $10^{-2} \text{ c.m}$ . הערך כמה אטומים יש בגרגיר חול.

הדרכה: השתמש בנוסחה של נפח כדור:  $V = \frac{4\pi R^3}{3}$  עבור נפח האטום ועבור נפח הגרגיר. התעלם מ"רווחים" בין האטומים בתוך גרגיר החול.

#### (5) כדורי פינגפונג בחדר

הערך כמה כדורי פינגפונג ניתן לדחוס בחדר ממוצע

**תשובות סופיות:**

$$\text{ב. } t = 2000 \quad \text{א. } 2 \cdot 10^{16} \text{ m} \quad \text{(1)}$$

$$3.71 \cdot 10^{13} \quad \text{(2)}$$

$$t = 1.14 \cdot 10^{18} \text{ sec} \quad \text{(3)}$$

$$N = 10^{15} \quad \text{(4)}$$

$$750,000 \quad \text{(5)}$$

# מכניקה לביולוגיה מולקולרית

## 711161001

פרק 3 - קינמטיקה - תנועה בקו ישר

תוכן העניינים

11	1. העתק.....
12	2. תנועה במהירות קבועה.....
16	3. מהירות ממוצעת.....
18	4. תאוצה.....
23	5. תרגול.....
28	6. מהירות רגעית ותאוצה רגעית.....
30	7. מהירות רגעית ותאוצה רגעית -אינטגרלים.....

## העתק:

### שאלות:

#### (1) כדור

חשב את ההעתק של כדור המתחיל תנועתו ב- $x = 2\text{m}$ , ומסיים את תנועתו ב- $x = 1\text{m}$ .  
 מהו כיוון תנועתו של הכדור?

#### (2) דני ודנה

הבתים של דני ודנה נמצאים ברחוב ישר. דני בחר את ראשית הצירים בסוף הרחוב, ואת הכיוון החיובי ימינה.  
 הבית של דני נמצא ב- $x = -50\text{m}$ , והבית של דנה ב- $x = -20\text{m}$ , ביחס לראשית.  
 מה ההעתק שביצע דני בהלוך ומה ההעתק שביצע בדרך חזרה?  
 מה כיוון ההעתק בכל אחד מהמקרים?

#### (3) העתק ודרך

מכונית נוסעת מת"א לחיפה, וחוזרת חזרה לת"א. המרחק בין הערים הוא 100 ק"מ.  
 מצא את ההעתק שביצעה המכונית ואת הדרך שעשתה.  
 (הנח שהכביש המחבר בין הערים ישר).

### תשובות סופיות:

(1)  $-3\text{m}$

(2) בדרך הלוך:  $30\text{m}$ , הכיוון חיובי; בדרך חזור:  $-30\text{m}$ , הכיוון שלילי.

(3) העתק:  $\Delta x = 0$ , דרך:  $s = 200$ .

## תנועה במהירות קבועה:

### שאלות:

#### (1) יוסי מאחר לשיעור

יוסי מאחר לשיעור, ביתו נמצא בקו ישר ממול שער הכניסה לאוניברסיטה. המרחק בין ביתו לשער הוא 100 מטרים. מצא את מהירות ריצתו של יוסי, אם הוא הגיע תוך 20 שניות מביתו לשער האוניברסיטה.

#### (2) מיקומו של גוף

מיקומו של גוף ב-  $t = 2\text{sec}$  הוא  $x = 3\text{m}$ . לאחר 4 שניות מיקומו הוא:  $x = -2\text{m}$ . מצא את מהירותו, אם ידוע שהיא קבועה.

#### (3) תנועה ביחס ל-A

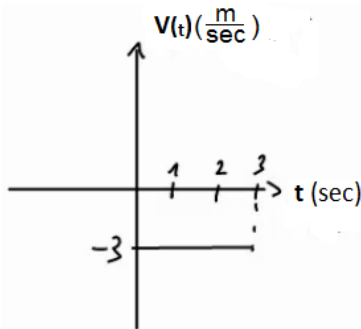
גוף נע בקו ישר במהירות קבועה של:  $v = 5 \frac{\text{m}}{\text{sec}}$ . ברגע  $t = 0$  הגוף חולף בנקודה A. א. מהו מיקומו של הגוף ברגעים:  $t = 2\text{sec}$  ו-  $t = 8\text{sec}$  ביחס לנקודה A? ב. כעבור כמה זמן חלף הגוף במרחק 200 מטר מהנקודה A?

#### (4) גוף חולף דרך שתי נקודות

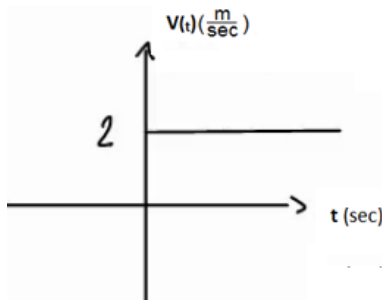
גוף נע במהירות קבועה לאורך קו ישר, ברגע  $t = 2\text{sec}$  מיקומו הוא  $x = 2\text{m}$ , וברגע  $t = 6\text{sec}$  הוא חולף בנקודה ששיעורה  $x = 10\text{m}$ . א. מהי מהירות הגוף? ב. היכן יהיה הגוף ברגע  $t = 0$ ? ג. מצא את הנוסחה עבור מיקום הגוף כפונקציה של הזמן. ד. מתי יהיה הגוף בראשית הצירים? ה. כמה העתק ביצע הגוף מהרגע שבו  $t = 0$  עד לרגע שבו  $t = 10\text{sec}$ ?

#### (5) גוף נע שמאלה

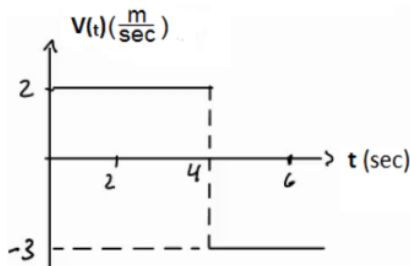
גוף נע בקו ישר במהירות קבועה שגודלה  $6 \frac{\text{m}}{\text{sec}}$ . ברגע  $t = 0$  מיקום הגוף הוא:  $x = 50\text{m}$ . בחר את כיוון ציר ה- $x$  ימינה והנח שהגוף נע שמאלה. א. מהו מיקום הגוף כתלות בזמן? ב. היכן נמצא הגוף ב-  $t = 2\text{sec}$  וב-  $t = 3\text{sec}$ ? ג. מתי יהיה הגוף במרחק  $x = 20\text{m}$  מהראשית ומתי יהיה במרחק של  $x = -10\text{m}$ ?

**(6) מהירות שלילית**

- נתון הגרף הבא של מהירות של גוף כתלות בזמן.  
 א. מצא את ההעתק של הגוף בין הזמנים  $t = 1\text{sec}$  ל-  $t = 3\text{sec}$ .  
 ב. מצא נוסחה למיקום, כתלות בזמן של הגוף, אם ידוע שב-  $t = 0$  מיקומו היה  $x = 2\text{m}$ .  
 ג. שרטט גרף מקום כתלות בזמן של הגוף.

**(7) מיקום שלילי**

- נתון הגרף הבא של מהירות של גוף כתלות בזמן.  
 א. מצא נוסחה למיקום כתלות בזמן של הגוף, אם ידוע שב-  $t = 2\text{sec}$  מיקומו היה  $x = -4\text{m}$ .  
 ב. שרטט גרף מקום כתלות בזמן של הגוף.

**(8) מהירות מתחלפת**

- נתון הגרף הבא של מהירות של גוף כתלות בזמן.  
 א. מצא את ההעתק של הגוף בין הזמנים  $t = 1\text{sec}$  ל-  $t = 6\text{sec}$ .  
 ב. מצא נוסחה למיקום כתלות בזמן של הגוף, אם ידוע שב-  $t = 0$  מיקומו היה  $x = 2\text{m}$ .  
 ג. שרטט גרף מקום כתלות בזמן של הגוף.

**(9) שתי מכוניות זו לקראת זו**

שתי מכוניות נעות זו לקראת זו לאורך כביש דו נתיבי ישר.

- מכונית א' יוצאת מנקודה המרוחקת 140 מטר מימין לראשית, ונעה במהירות  $8 \frac{\text{m}}{\text{sec}}$ , ומכונית ב' יוצאת מנקודה המרוחקת 40 מטר משמאל לראשית ונעה במהירות  $10 \frac{\text{m}}{\text{sec}}$ .  
 א. מתי חולפות המכוניות זו על יד זו? ומהן מיקומן ביחס לראשית ברגע זה?  
 ב. מתי המרחק בין המכוניות יהיה 40 מטר?

**10) מכונית נוסעת מת"א לירושלים**

- מכונית נוסעת מתל אביב לירושלים במהירות של 90 קמ"ש, חונה בירושלים למשך שעה אחת, וחוזרת לתל אביב במהירות של 45 קמ"ש. המרחק בין הערים תל אביב וירושלים הוא 45 ק"מ. לשם הפשטות, נניח כי התנועה מתנהלת לאורך קו ישר.
- שרטט גרף מקום-זמן של תנועת המכונית. איזה גודל פיסיקלי מייצגים שיפועי הישרים?
  - רשום נוסחת מקום-זמן של תנועת המכונית.
  - שרטט גרף מהירות-זמן.

**11) אופנוע ומכונית מת"א לאילת**

- אופנוע יוצא לדרכו מת"א לאילת במהירות קבועה שגודלה 80 ק"מ לשעה. חצי שעה לאחר זאת האופנוע יוצאת מכונית מאילת לת"א במהירות קבועה של 120 ק"מ לשעה. המרחק בין שתי הערים הוא 340 ק"מ, ונניח שהכביש המחבר ביניהם הוא ישר.
- הגדר ציר מיקום עבור תנועת האופנוע והמכונית.
  - כתוב נוסחת מיקום-זמן עבור תנועת האופנוע.
  - כתוב נוסחת מיקום-זמן עבור תנועת המכונית.
  - כמה זמן לאחר זאת האופנוע לדרכו הוא יחלוף על פני המכונית? מה מיקומם של האופנוע והמכונית ברגע זה?

**תשובות סופיות:**

(1)  $5 \frac{m}{sec}$

(2)  $-\frac{5}{4} \frac{m}{sec}$

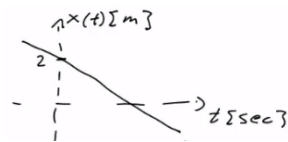
(3) א.  $x(t=8)=40m$ , ב.  $x(t=2)=10m$ , ג.  $t=40sec$

(4) א.  $\frac{2m}{sec}$ , ב.  $x_3 = -2m$ , ג.  $x(t) = 2 + 2(t-2)$ , ד.  $t = 1sec$ , ה.  $\Delta x = 20m$

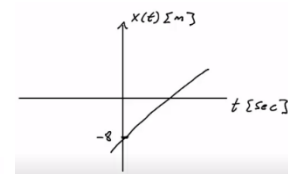
(5) א.  $x(t) = 50 - 6t$ , ב.  $x(t=3) = 32m$ , ג.  $x(t=2) = 38m$

ג.  $t(x=20) = 5sec$ ,  $t(x=-10) = 10sec$

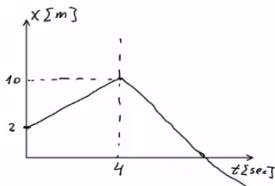
(6) א.  $S = -6m$ , ב.  $x(t) = 2 - 3t$ , ג.



(7) א.  $x(t) = -8 + 2t$ , ב.



(8) א.  $\Delta x = 0$ , ב.  $x(t) = \begin{cases} 2+2t & 0 \leq t \leq 4 \\ 22-3t & t \geq 4 \end{cases}$ , ג.

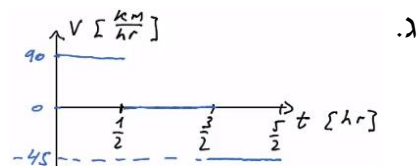
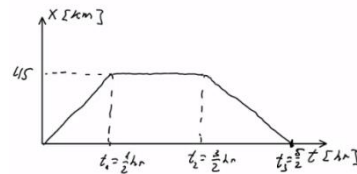


(9) א. חולפות ב-  $t = 10sec$ , ומיקומן הוא  $x_{a,b}(t=10) = 60m$

ב.  $t_1 \approx 7.78sec$  או  $t_2 \approx 12.22$

$$x(t) = \begin{cases} 90t & 0 \leq t \leq \frac{1}{2} \\ 45 & \frac{1}{2} \leq t \leq \frac{3}{2} \\ 45 - 45\left(t - \frac{3}{2}\right) & \frac{3}{2} \leq t \leq \frac{5}{2} \end{cases}$$

(10) א. השיפועים מייצגים מהירות.



(11) א. נגדיר את ראשית הצירים בת"א  $x=0$ , ואת הכיוון החיובי לאילת.

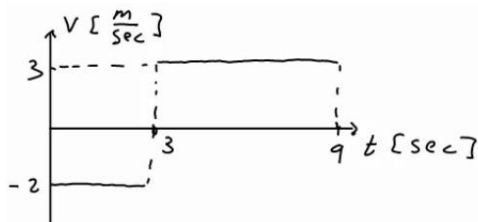
ב.  $x(t) = 80t$ , ג.  $x(t) = 340 + (-120)\left(t - \frac{1}{2}\right)$ , ד.  $t = 2hr$ ;  $x = 160km$

## מהירות ממוצעת:

### שאלות:

#### (1) דני נוסע מחיפה לטבריה

דני נסע ברכבו מחיפה לטבריה. הוא התחיל בנסיעה במהירות של 80 קמ"ש, נסע במשך חצי שעה, ואז עצר לאכול צוהריים למשך שעה. לאחר מכן, המשיך בנסיעה במהירות של 100 קמ"ש במשך שעה, עד אשר הגיע לטבריה. מהי מהירות הנסיעה הממוצעת של דני?



#### (2) מהירות ממוצעת מתוך גרף

מהירותו של גוף נתונה בגרף הבא. מהי המהירות הממוצעת בה נע הגוף?

#### (3) מת"א לב"ש דרך חיפה

אורי נסע מת"א לבאר שבע דרך חיפה. הנח שחיפה נמצאת 60 ק"מ צפונה מת"א ובאר שבע נמצאת 100 ק"מ דרומה מת"א. הנח שכל הערים נמצאות על אותו קו ישר. בדרכו לחיפה נסע אורי במהירות של 90 ק"מ לשעה. בדרכו לבאר שבע נסע אורי במהירות של 120 ק"מ לשעה.

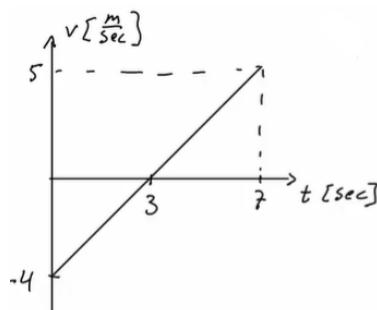
א. מצא את המהירות הממוצעת של אורי (velocity).

ומצא את ממוצע גודל המהירות של אורי (speed).

ב. שילה יצאה מת"א לבאר שבע חצי שעה לאחר אורי, שילה נסעה בדרך הקצרה ביותר.

באיזו מהירות ממוצעת (velocity) צריכה שילה לנסוע על מנת שתגיע לבאר שבע באותו זמן שבו יגיע אורי?

מה ממוצע גודל המהירות של שילה (speed)?



#### (4) מהירות ממוצעת בגרף לינארי

מהירותו של גוף נתונה בגרף הבא:

א. מצא את המהירות הממוצעת של הגוף

(average velocity) ואת ממוצע גודל

המהירות (average speed) עבור כל התנועה.

ב. מצא את המהירות הממוצעת של הגוף

(average velocity) בקטע שבין  $t = 3 \text{ sec}$  ל-  $t = 7 \text{ sec}$ .

**תשובות סופיות:**

$$\bar{v} = 56 \frac{\text{km}}{\text{hr}} \quad (1)$$

$$\bar{v} = 1.33 \frac{\text{m}}{\text{sec}} \quad (2)$$

$$\bar{v} = -66.67 \frac{\text{km}}{\text{hr}}, |\bar{v}| = 66.67 \frac{\text{km}}{\text{hr}} \quad \text{ב.} \quad \bar{v} = -50 \frac{\text{km}}{\text{hr}}, |\bar{v}| = 110 \frac{\text{km}}{\text{hr}} \quad \text{א.} \quad (3)$$

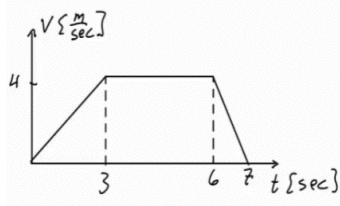
$$2.5 \frac{\text{m}}{\text{sec}} \quad \text{ב.} \quad \bar{v} = \frac{4}{7} \frac{\text{m}}{\text{sec}}, |\bar{v}| = \frac{16}{7} \frac{\text{m}}{\text{sec}} \quad \text{א.} \quad (4)$$

## תאוצה:

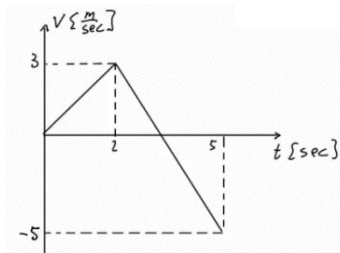
### שאלות:

- (1) מטוס מאיץ בתאוצה קבועה**  
 מטוס מתחיל להאיץ ממנוחה בתאוצה קבועה.  
 לאחר 10 שניות הגיע המטוס למהירות 150 מטר לשנייה.  
 מהי תאוצת המטוס?
- (2) משאית מאיצה**  
 משאית נוסעת במהירות של 72 קמ"ש ומאיצה תוך 10 שניות למהירות של 90 קמ"ש.  
 מהי תאוצת המשאית?
- (3) אופנוע מאיץ ממנוחה**  
 אופנוע מתחיל את נסיעתו ממנוחה, בתאוצה של 2 מטר לשנייה בריבוע.  
 א. מצא את נוסחת מהירות-זמן עבור האופנוע.  
 ב. מה תהיה מהירותו לאחר 7 שניות?  
 ג. מתי תהיה מהירותו 20 מטר לשנייה?
- (4) אופנוע מאיץ אחרי מכונית**  
 מכונית נוסעת במהירות קבועה של 20 מטר לשנייה.  
 ברגע מסוים מתחילה המכונית להאיץ בתאוצה קבועה של 2 מטר לשנייה בריבוע.  
 אופנוע מתחיל את תנועתו שנייה לאחר המכונית ומאיץ בתאוצה של 3 מטר לשנייה בריבוע, ממנוחה.  
 מתי תהיה מהירות האופנוע שווה למהירות המכונית?
- (5) תאוטה**  
 לפניך מספר מקרים בהם רכב משנה את מהירותו. מצא בכל מקרה את תאוצת הרכב וציין האם הרכב האיץ או שהרכב נמצא בתאוטה:

  - א. רכב משנה את מהירותו ממהירות של 20 מטר לשנייה, למהירות של 10 מטר לשנייה, תוך 5 שניות.
  - ב. רכב משנה את מהירותו ממהירות של 20 מטר לשנייה למהירות של 10 מטר לשנייה, תוך 4 שניות.
  - ג. רכב משנה את מהירותו מ-5 מטר לשנייה ל-15 מטר לשנייה תוך 2 שניות.
  - ד. רכב משנה את מהירותו מ-5 מטר לשנייה ל-15 מטר לשנייה תוך 5 שניות.
  - ה. רכב משנה את מהירותו מ-10 מטר לשנייה ל-5 מטר לשנייה, תוך 4 שניות.

**6) גרף מהירות**

בגרף הבא מתוארת מהירותו של גוף, כתלות בזמן. מצא את התאוצה בכל אחד מחלקי התנועה ושרטט גרף עבור התאוצה כתלות בזמן. ציין עבור כל חלק האם הגוף מאיץ או נמצא בתאוצה.

**7) גרף מהירות שלילית**

בגרף הבא מתוארת מהירותו של גוף כתלות בזמן. מצא את התאוצה בכל אחד מחלקי התנועה ושרטט גרף עבור התאוצה כתלות בזמן. ציין עבור כל חלק האם הגוף מאיץ או נמצא בתאוצה.

**8) דנה רצה בתאוצה קבועה**

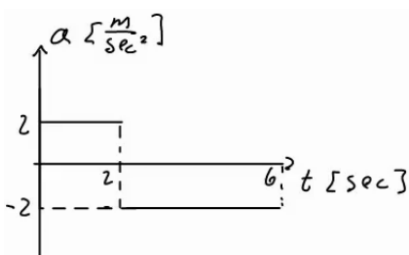
דנה מתחילה לרוץ ממנוחה בתאוצה קבועה השווה ל-2 מטר לשנייה בריבוע.  
 א. מצא את המהירות של דנה לאחר 1, 2, ו-3 שניות.  
 ב. מצא את המיקום של דנה לאחר 1, 2, 3 ו-4 שניות.  
 ג. שרטט על גבי ציר את המיקום של דנה בכל אחד מהרגעים.

**9) אופנוע משיג מכונית**

מכונית נוסעת במהירות קבועה של 30 מטר לשנייה. ברגע מסוים המכונית חולפת על פני אופנוע הנמצא במנוחה. שתי שניות לאחר מכן מתחיל האופנוע נסיעה בתאוצה קבועה של 4 מטר לשנייה בריבוע. מתי ישיג האופנוע את המכונית?

**10) דני ודנה רצים זה לקראת זה**

דני ודנה רצים זה לקראת זה. שניהם מתחילים לרוץ ממנוחה. דני רץ בתאוצה של 0.5 מטר לשנייה בריבוע ודנה בתאוצה של 1 מטר לשנייה בריבוע. המרחק ההתחלתי ביניהם הוא 50 מטר.  
 א. מתי והיכן יפגשו דני ודנה?  
 ב. מה מהירות כל אחד מהם ברגע המפגש?

**11) גרפים של תאוצה, מהירות ומיקום**

גוף מתחיל לנוע ממנוחה מראשית הצירים. תאוצתו של הגוף נתונה בגרף הבא:  
 א. מצא נוסחת מהירות-זמן עבור הגוף.  
 ב. מצא נוסחת מיקום-זמן עבור הגוף.  
 ג. שרטט גרפים עבור המהירות והמיקום, כתלות בזמן.

**(12) מסלול המראה של ססנה**

מטוס ססנה צריך להגיע למהירות של 150 קמ"ש על מנת להמריא. חשב מה אורך מסלול ההמראה הדרוש למטוס, אם תאוצתו היא 5 מטר לשנייה בריבוע.

**(13) מרחק בלימה**

יוסי נוסע במכוניתו במהירות של 100 קמ"ש. לפתע הוא מבחין באוטובוס המשתלב בנתיב התנועה שלו. האוטובוס נוסע במהירות של 60 קמ"ש. מהו "מרחק הבלימה" (המרחק הדרוש ליוסי בשביל להאט ל-60 קמ"ש), אם הוא מאט בקצב של 4 מטר לשנייה בריבוע?

**(14) עומר עוצר לפני רמזור**

עומר נסע במכוניתו במהירות של 50 קמ"ש. לפתע הבחין כי הרמזור שלפניו התחלף לאדום. עומר התחיל לבלום את רכבו, עד שהגיע לעצירה מוחלטת. הנח שהעצירה נעשית בקצב קבוע.

א. מהי המהירות הממוצעת במהלך העצירה?

ב. ברגע העצירה היה מרחקו של עומר מהרמזור 35 מטר. הזמן שלקח לעומר להגיע לעצירה מוחלטת היה 5 שניות, האם יספיק עומר לעצור לפני הרמזור?

**תשובות סופיות:**

(1)  $15 \frac{m}{sec^2}$

(2)  $0.5 \frac{m}{sec^2}$

(3) א.  $V(t) = 2 \cdot t$     ב.  $14 \frac{m}{sec}$     ג.  $t = 10sec$

(4)  $t = 23sec$

(5) א.  $-2 \frac{m}{sec^2}$ ; תאוטה.    ב.  $2.5 \frac{m}{sec^2}$ ; תאוטה.    ג.  $5 \frac{m}{sec^2}$ ; תאוצה.

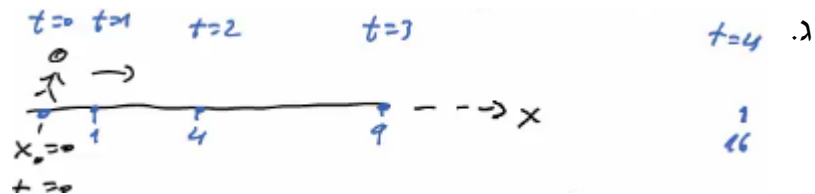
ד.  $-2 \frac{m}{sec^2}$ ; תאוצה.    ה.  $-3.75 \frac{m}{sec^2}$ ; המהירות חיובית - בתאוטה ( $V \geq 0$ ),  
המהירות שלילית - בתאוצה ( $V < 0$ ).

(6) חלק 1 - כאשר  $0 \leq t \leq 3$  או  $a_1 = \frac{4}{3} \frac{m}{sec^2}$  - מאיץ. שרטוט:  
חלק 2 - כאשר  $3 \leq t \leq 6$  או  $a_2 = 0$  - לא מאיץ ולא מאט; המהירות קבועה.  
חלק 3 - כאשר  $0 \leq t \leq 3$  או  $a_3 = -4 \frac{m}{sec^2}$  - בתאוטה.

(7) חלק 1 - כאשר  $0 \leq t \leq 2$  או  $a_1 = 1.5 \frac{m}{sec^2}$  - מאיץ. שרטוט:  
חלק 2 - כאשר  $2 \leq t \leq 5$  או  $a_2 = \frac{-8}{3} \approx -2.67 \frac{m}{sec^2}$  -  
כשהמהירות חיובית - בתאוטה ( $V \geq 0$ ),  
וכשהמהירות שלילית - בתאוצה ( $V < 0$ ).

(8) א.  $V(t=1) = 2 \frac{m}{sec}$ ,  $V(t=2) = 4 \frac{m}{sec}$ ,  $V(t=3) = 6 \frac{m}{sec}$

ב.  $X(t=1) = 1^2 m$ ,  $X(t=2) = 4m$ ,  $X(t=3) = 9m$ ,  $X(t=4) = 16m$



(9)  $t_1 = 18.79$

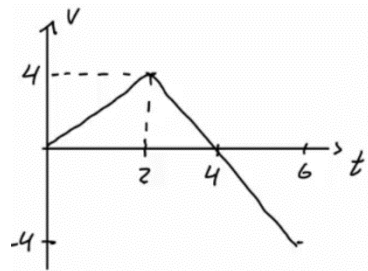
10 א. הזמן:  $t = 8.16 \text{ sec}$ , המיקום:  $16.65 \text{ m}$ .

ב.  $V_{\text{Dana}}(t = 8.16) = -8.16 \frac{\text{m}}{\text{sec}}$ ,  $V_{\text{Dani}}(t = 8.16) = 4.08 \frac{\text{m}}{\text{sec}}$

11 א. כאשר  $0 < t < 2$ , הנוסחה היא:  $V(t) = 2t$ ; כאשר  $2 < t < 6$ , הנוסחה היא:  $V(t) = 8 - 2t$ .

ב. כאשר  $0 < t < 2$ ,  $X(t) = t^2$ ; כאשר  $2 < t < 6$ ,  $X(t) = 4 + 4(t-2) + \frac{1}{2}(-2)(t-2)^2$ .

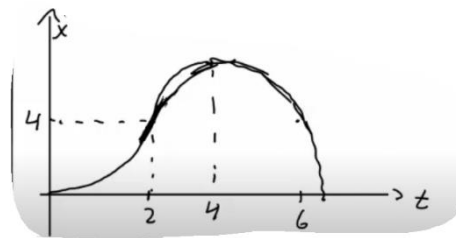
ג. שרטוט עבור מהירות:



12  $\Delta x = 173.61 \text{ m}$

13  $\Delta x = 61.73 \text{ m}$

14 א.  $\bar{v} = 25 \frac{\text{km}}{\text{hr}}$ . ב. כן.



## תרגול:

### שאלות:

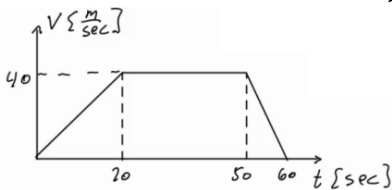
#### (1) מאפס לארבעים בעשר שניות

מכונית מתחילה לנסוע ממנוחה לאורך כביש ישר. המכונית מאיצה בתאוצה קבועה, כך שלאחר 10 שניות היא מגיעה למהירות של 40 מטר לשנייה.

- מהי תאוצת המכונית?
- מצא את ההעתק שביצעה המכונית בזמן ההאצה.
- מהי המהירות הממוצעת של המכונית בזמן ההאצה?
- האם ההעתק שמבצעת המכונית בחמש השניות הראשונות גדול, קטן או שווה להעתק בחמש השניות האחרונות?
- מתי יהיה מיקום המכונית 32 מטר מהנקודה ממנה יצאה?
- מהי המהירות המכונית לאחר שעברה 60 מטרים?

#### (2) גרף של מהירות אופנוע בזמן

בגרף הבא נתונה מהירותו של אופנוע כתלות בזמן. האופנוע נע על קו ישר. קבע את ראשית הצירים במיקום ההתחלתי של האופנוע.



- תאר את סוג התנועה של האופנוע בכל אחד מקטעי התנועה.
- מצא את תאוצת האופנוע כתלות בזמן.
- מהי המהירות האופנוע ברגעים  $t = 15, 40, 55$ ?
- מצא את מיקום האופנוע באותם רגעים של סעיף ג'.

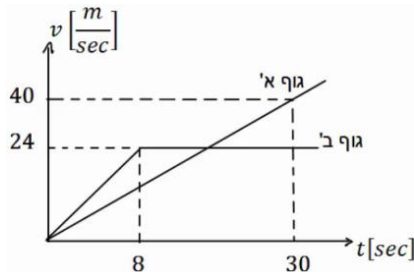
#### (3) דני שכח את הפלאפון

דני רץ בקו ישר במהירות קבועה שגודלה 14 מטר לשנייה. ברגע מסוים מבחין יוסי כי דני שכח את הפלאפון שלו. באותו רגע נמצא דני כבר במרחק של 64 מטר מיוסי. יוסי מתחיל לרוץ אחר דני ממנוחה בתאוצה קבועה של 8 מטר לשנייה בריבוע.

- מצא ביטוי למהירות כתלות בזמן עבור דני ויוסי. שרטט גרפים עבור שני הביטויים שמצאת על אותה מערכת צירים.
- מתי מהירותו של יוסי שווה לזו של דני? האם הוא משיג את דני ברגע זה?
- מצא ביטוי למיקום כתלות בזמן עבור דני ויוסי. שרטט גרפים עבור שני הביטויים שמצאת על אותה מערכת צירים.
- מתי ישיג יוסי את דני? כמה מרחק עבר יוסי עד אז?

**4) גרף מהירויות של שני גופים**

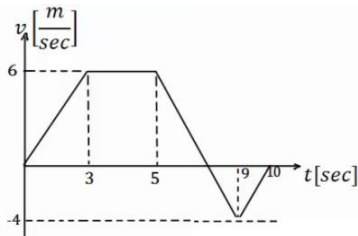
בגרף הבא מתוארות המהירויות של שני גופים, כתלות בזמן. הנח ששני הגופים נעים לאורך קו ישר ויוצאים מהראשית.



- תאר את תנועתו של כל גוף.
- רשום נוסחת מקום זמן לכל גוף.
- מצא את המרחק בין הגופים ברגעים:  $t = 3 \text{ sec}$ ,  $24 \text{ sec}$ , וציין מי מקדים את מי.
- מתי מהירויות שני הגופים שוות?
- מתי מיקום שני הגופים זהה?

**5) תרגיל עם הכל**

הגרף הבא מתאר את מהירותו של גוף הנע בקו ישר. הנח שהגוף מתחיל את תנועתו מהראשית. הגוף נע במשך 10 שניות ונעצר.



- תאר את התנועה של הגוף במילים. חשב ושרטט גרף של התאוצה כתלות בזמן של הגוף.
- מתי נמצא הגוף במרחק הגדול ביותר (בכיוון החיובי) מהראשית? מהו מרחק זה?
- מהו המרחק הכולל שעבר הגוף?
- מהו ההעתק הכולל שעשה הגוף?
- מהי המהירות הממוצעת של הגוף בתנועה?
- מהו מרחק הגוף מהראשית ב- $t = 6 \text{ sec}$ ?
- מתי נמצא הגוף במרחק 12 מטרים מהראשית?
- שרטט גרף של מיקומו של הגוף כתלות בזמן. אין צורך לסמן ערכים בציר האנכי של הגרף.

**6) שני נתונים בזמנים שונים**

גוף נע בקו ישר בתאוצה קבועה. ב- $t = 2 \text{ sec}$  מהירותו היא 15 מטרים לשנייה ומיקומו 5 מטרים מהראשית, בכיוון החיובי. ידוע גם שב- $t = 4 \text{ sec}$  מהירותו היא 21 מטר לשנייה.

- מצא את תאוצת הגוף.
- מצא נוסחת מיקום זמן של הגוף.
- מהו מיקום הגוף ב- $t = 0$ , ומתי יהיה בראשית?
- מצא נוסחת מהירות זמן עבור הגוף.
- מהי המהירות בה הגוף התחיל את התנועה (מהירות ב- $t = 0$ )?

- (7) שוטר רודף אחרי מכונית**
- שוטר נמצא בניידת משטרה. מכונית חולפת ליד הניידת במהירות של 150 קמ"ש. זמן התגובה של השוטר בניידת הוא 3 שניות ולאחר מכן הוא מתחיל לנסוע ממנוחה בתאוצה של  $2 \frac{\text{m}}{\text{sec}^2}$ . המהירות המקסימלית של הניידת היא 180 קמ"ש.
- א. באיזה מרחק מתחילת התנועה יתפוס השוטר את המכונית?
- ב. שרטטו על אותה מערכת צירים את הגרפים של המהירות כתלות בזמן של המכונית והניידת מהרגע בו חולפת המכונית ליד הניידת.
- (8) זמן מינימלי לסיים מסלול\*\***
- מכונית יכולה להאיץ מאפס ל-100 קמ"ש תוך 10 שניות, כאשר ניתן להניח שקצב ההאצה קבוע. אותה מכונית יכולה לבלום בקצב של 0.5g. מהו הזמן המינימלי לעבור מסלול של 3 ק"מ אם המכונית מתחילה ממנוחה ומסיימת בעצירה מוחלטת. (רמז: השתמש בגרף מהירות זמן).
- (9) כמה זמן הרכבת נסעה במהירות קבועה\*\***
- רכבת יוצאת מיישוב א' אל יישוב ב'. בשליש הראשון של הדרך הרכבת מאיצה בתאוצה קבועה. בשליש של הדרך הרכבת נוסעת במהירות קבועה. בשליש האחרון של הדרך הרכבת מאטה בקצב קבוע עד לעצירתה ביישוב ב'. זמן הנסיעה הכולל הוא T. כמה זמן נסעה הרכבת במהירות קבועה?

**תשובות סופיות:**

(1) א.  $4 \frac{m}{sec^2}$  ב.  $x(t) = 200m$  ג.  $20 \frac{m}{sec}$  ד. קטן.

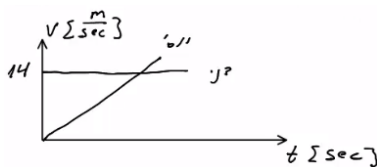
ה.  $t = 4sec$  ו.  $V_F \approx 21.91 \frac{m}{sec}$

(2) א. כאשר  $0 \leq t \leq 20$  (חלק I), התאוצה חיובית וקבועה, והמיקום הולך וגדל.  
 כאשר  $20 \leq t \leq 50$  (חלק II), המהירות קבועה (אין תאוצה) והמיקום גדל.  
 כאשר  $50 \leq t \leq 60$  (חלק III), התאוצה קבועה ושליילית - תאוצה - והמיקום הולך וגדל.

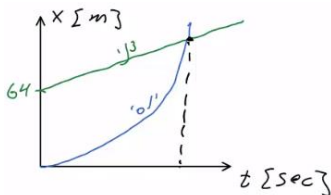
$$a = \begin{cases} 2 \frac{m}{sec^2} & 0 < t < 20 \\ 0 & 20 < t < 50 \\ -4 \frac{m}{sec^2} & 50 < t < 60 \end{cases} \text{ ב.}$$

ג.  $V(t=15) = 30 \frac{m}{sec}$ ,  $V(t=40) = 40 \frac{m}{sec}$ ,  $V(t=55) = 20 \frac{m}{sec}$

ד.  $x(t=15) = 225m$ ,  $x(t=40) = 1,200m$ ,  $x(t=55) = 1,750m$



(3) א. דני -  $V(t) = 14 \frac{m}{sec}$ , יוסי -  $V(t) = 8t$ ; גרף;  
 ב.  $t = 1.75sec$ ; לא.



ג. דני -  $x(t) = 64 + 14t$ , יוסי -  $x(t) = 4t^2$ ; גרף;

ד. ב-  $t = 6.12$ , המרחק:  $149.82m$ .

(4) א. גוף א': תנועה בתאוצה קבועה, האצה. ההתקדמות בכיוון חיובי.  
 גוף ב': כאשר  $0 < t < 8$ , כמו גוף א'. כאשר  $8 \leq t$ , תנועה במהירות קבועה בכיוון חיובי.

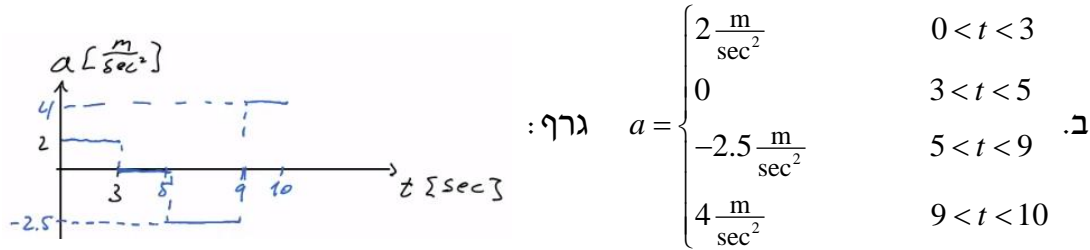
ב. גוף א':  $\frac{2}{3}t^2$ , גוף ב': כאשר  $0 \leq t \leq 8$ , כמו גוף א'.

כאשר  $8 \leq t < \infty$ ,  $x(t) = 96 + 24(t-8)$

ג. כש-  $\Delta x(t=3) = 7.5m$ , וכש-  $\Delta x(t=24) = 96m$ . גוף ב' מקדים את א'.

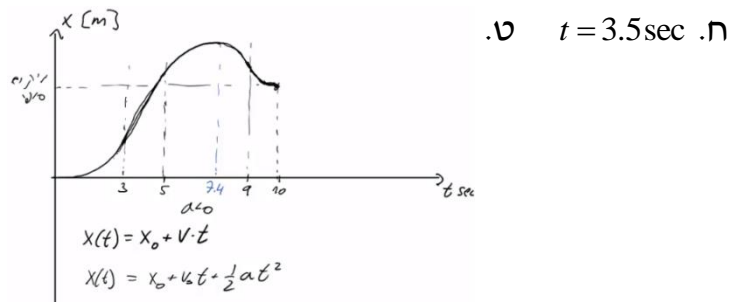
ד.  $t = 18sec$  ה. כש-  $t = 31.42sec$ .

- 5) א. כאשר  $0 \leq t \leq 3$  (חלק I), תאוצה קבועה, האצה והתקדמות בכיוון החיובי.  
 כאשר  $3 \leq t \leq 5$  (חלק II), תנועה במהירות קבועה, התקדמות בכיוון החיובי.  
 כאשר  $5 \leq t \leq 9$  (חלק III), תאוצה קבועה שלילית.  
 תאוטה עד אשר המהירות מתאפסת, ואז מתחילה האצה בכיוון הנגדי.  
 התקדמות בכיוון החיובי עד שהמהירות מתאפסת ואז מתחילים לחזור בכיוון הנגדי.  
 כאשר  $9 \leq t \leq 10$ , תאוצה קבועה חיובית, תאוטה. התקדמות בכיוון הנגדי.



ג. בזמן: 7.4 sec ; המרחק: 28.2 m.

ד.  $S = 33.4 \text{ m}$     ה.  $\Delta x = 23 \text{ m}$     ו.  $\bar{V} = 2.3 \frac{\text{m}}{\text{sec}}$     ז.  $\Delta x = x(t=6) = 25.75 \text{ m}$

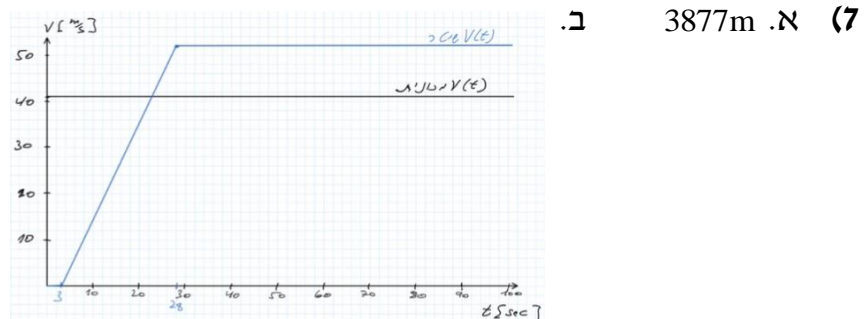


ח.  $t = 3.5 \text{ sec}$     ט.

6) א.  $a = 3 \frac{\text{m}}{\text{sec}^2}$     ב.  $x(t) = 5 + 15(t-2) + \frac{1}{2} 3(t-2)^2$

ג.  $x(t=1.65) = 0$  ;  $x(t=0) = -19$

ד.  $V(t) = 15 + 3(t-2)$     ה.  $V(t=0) = 9 \frac{\text{m}}{\text{sec}}$



8)  $T = 58 \text{ sec}$

9)  $t_2 = \frac{T}{5}$

## מהירות רגעית ותאוצה רגעית:

### שאלות:

#### 1) מהירות רגעית ותאוצה רגעית

מיקומו של גוף כתלות בזמן נתון לפי הנוסחה:  $x(t) = 3 + t^2 + 2t^3$ .

- מצא את מהירות הגוף כתלות בזמן.
- מה המהירות הממוצעת בעשר השניות הראשונות של התנועה? ומה המהירות הממוצעת בעשר השניות הבאות?
- חשב את התאוצה הרגעית. מהי תאוצת הגוף ב-  $t = 7 \text{ sec}$ ?
- חשב את התאוצה הממוצעת בעשר השניות הראשונות של התנועה ובעשר השניות הבאות.

#### 2) מיקום עם קוסינוס

גוף נע לאורך קו ישר כאשר מיקומו נתון לפי:  $x(t) = A \cos(\omega t)$ ,

(A ו- $\omega$  קבועים נתונים).

- חשב את המהירות והתאוצה של הגוף כתלות בזמן.
- שרטט את המיקום, המהירות והתאוצה של הגוף כפונקציה של הזמן עבור מרווח הזמן:  $0 \leq t \leq 2\pi$  ועבור המקרים:  $\omega = 1$ ,  $\omega = 2$ ,  $\omega = 0.5$ .
- מתי התאוצה מקסימלית ומתי היא מתאפסת?
- הראה שמתקיים:  $a(t) = -\omega^2 x(t)$ .
- אם מודדים את  $t$  בשניות, מה היחידות של  $\omega$ ?

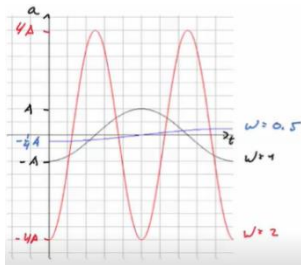
## תשובות סופיות:

$$(1) \quad \text{א. } 2t + 6t^2 \quad \text{ב. } 210 \frac{\text{m}}{\text{sec}}, 1,430 \frac{\text{m}}{\text{sec}} \quad \text{ג. } a(t) = 2 + 12t, a(t=7) = 86 \frac{\text{m}}{\text{sec}^2}$$

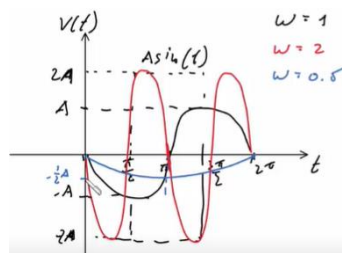
$$\text{ד. } 62 \frac{\text{m}}{\text{sec}^2}, 182 \frac{\text{m}}{\text{sec}^2}$$

$$(2) \quad \text{א. } v(t) = -\omega A \sin(\omega t), a(t) = -\omega^2 A \cos(\omega t) \quad \text{ב. מיקום:}$$


תאוצה:



מהירות:



ב. מיקום:



$$\text{ג. מקסימלית: } t_{\max} = \frac{\pi}{\omega}, \text{ מתאפסת: } t = \frac{3\pi}{2\omega} \text{ או } t = \frac{\pi}{2\omega}$$

$$\text{ד. הוכחה. ה. } [\omega] = \frac{1}{\text{sec}}$$

## מהירות רגעית ותאוצה רגעית - אינטגרלים:

שאלות:

(1) מצא מהירות ומיקום

גוף נע בתאוצה של:  $a = 4t^3$ .

- א. מצא את מהירות הגוף כתלות בזמן אם ידוע שהתחיל לנוע ממנוחה.  
 ב. מצא את מיקום הגוף כתלות בזמן אם ידוע שהתחיל את תנועתו מ-  $x_0 = 2$ .

תשובות סופיות:

(1) א.  $v(t) = t^4$     ב.  $x(t) = \frac{t^5}{5} + 2$

# מכניקה לביולוגיה מולקולרית

## 711161001

### פרק 4 - וקטורים

#### תוכן העניינים

31	1. הגדרות סימונים והצגות
35	2. פעולות בין וקטורים
38	3. מכפלה סקלרית
41	4. וקטור יחידה
42	5. מכפלה וקטורית בדו-מימד
(ללא ספר)	6. וקטור בשלושה מימדים
43	7. מכפלה וקטורית בשלושה מימדים
44	8. חיבור וחיסור וקטורים בשיטת המקבילית
46	9. תרגילים נוספים

## הגדרות סימונים והצגות:

### שאלות:

#### (1) הצגה פולרית

צייר את הוקטורים הבאים על גבי מערכת צירים:

שם הוקטור	גודל הוקטור	זווית הוקטור עם ציר ה- $x$
$\vec{A}$	$ \vec{A}  = 2$	$\theta_A = 30^\circ$
$\vec{B}$	$ \vec{B}  = 4$	$\theta_B = 30^\circ$
$\vec{C}$	$ \vec{C}  = 2$	$\theta_C = 90^\circ$
$\vec{D}$	$ \vec{D}  = 4$	$\theta_D = 120^\circ$
$\vec{E}$	$ \vec{E}  = 2$	$\theta_E = 300^\circ$
$\vec{F}$	$ \vec{F}  = 2$	$\theta_F = -60^\circ$

#### (2) הצגה קרטזית

צייר על מערכת צירים את הוקטורים הבאים, רשום את רכיבי הוקטורים וציין באיזה רביע נמצא כל וקטור:

$$\vec{A} = (1, 2), \vec{B} = (-2, 3), \vec{C} = (-3, -2), \vec{D} = (2, -1)$$

#### (3) מעבר מפולרי לקרטזי

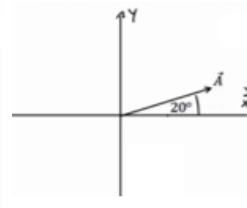
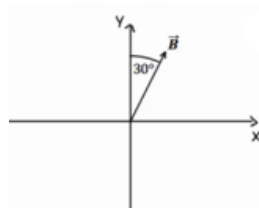
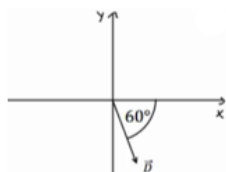
הגודל של כל אחד מהוקטורים הבאים הוא 2. רשום כל אחד מהוקטורים בהצגה הקרטזית שלו (פרק את הוקטורים הבאים לרכיבים):

א.

ב.

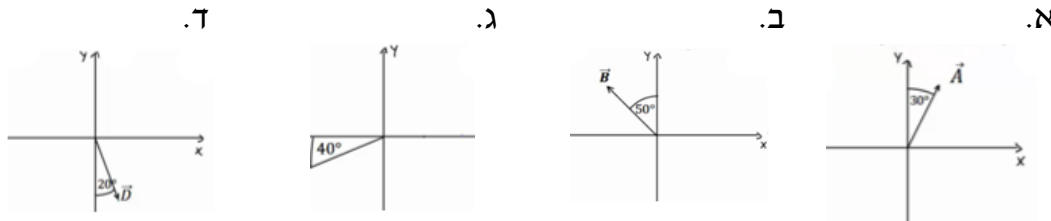
ג.

ד.



**4 דרך שנייה לפירוק לרכיבים**

הגודל של כל אחד מהוקטורים הבאים הוא 3.  
רשום כל אחד מהוקטורים הצגה הקרטזית שלו (פרק את הוקטורים הבאים לרכיבים):

**5 פירוק לרכיבים**

באיור הבא, גודלו של הוקטור  $\vec{A}$  הוא 4, וגודלו של הוקטור  $\vec{B}$  הוא 5.  
מצא את הרכיבים הקרטזיים של כל וקטור:



פתור פעם אחת באמצעות הזוויות שנתונות באיור, ופעם אחת באמצעות הזווית עם הכיוון החיובי של ציר ה- $x$ .

**6 מקרטזי לפולרי**

מצא את הגודל והכיוון של הוקטורים הבאים:

א.  $\vec{A} = (2, -1)$

ב.  $\vec{B} = (-0.5, -2)$

**7 מקרטזי לפולרי**

שרטט את הוקטורים הבאים על מערכת צירים.  
מצא את הגודל והכיוון של כל אחד מהוקטורים.  
את הכיוון תאר ע"י הזווית של הוקטור עם ציר ה- $x$  החיובי.

א.  $\vec{A} = (2, 3)$

ב.  $\vec{B} = (-1, 2)$

ג.  $\vec{C} = (0, -3)$

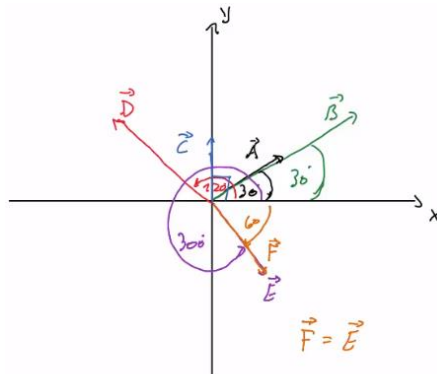
ד.  $\vec{D} = (2, -2)$

ה.  $E_x = 2$ ,  $|\vec{E}| = 3$  הוקטור ברביע הראשון.

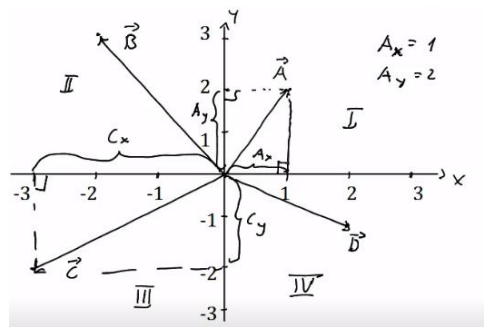
ו.  $E_y = -1$ ,  $|\vec{E}| = 3$  הוקטור ברביע השלישי.

**תשובות סופיות:**

1) ראו שרטוט:



2) ראו שרטוט:



$\vec{A} = (1.88, 0.68)$  ,  $\vec{B} = (1, \sqrt{3})$  ,  $\vec{C} = (-\sqrt{2}, \sqrt{2})$  ,  $\vec{D} = (1, -\sqrt{3})$  (3)

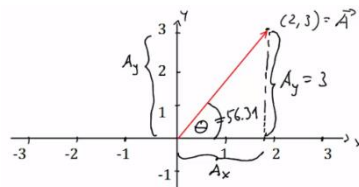
$\vec{C} = (-2.30, -1.93)$  .ג       $\vec{B} = (-2.30, 1.93)$  .ב       $\vec{A} = \left(\frac{3}{2}, 2.60\right)$  .א (4)

$\vec{D} = (-2.30, -1.93)$  .ד

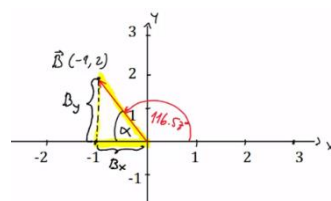
$\vec{B} = (-4.33, -2.5)$  .ב       $\vec{A} = (-3.28, 2.29)$  .א (5)

$\theta_B = 255.96^\circ$  ;  $|\vec{B}| = 2.06$  .ב       $\theta_A = -26.57 = 333.43^\circ$  ;  $|\vec{A}| = \sqrt{5}$  .א (6)

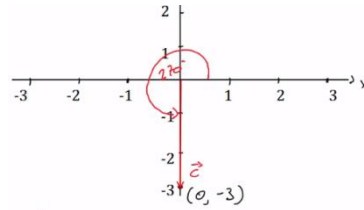
$\theta_A = 56.31^\circ$  ;  $|\vec{A}| = \sqrt{13}$



$\theta_B = 116.57^\circ$  ;  $|\vec{B}| = \sqrt{5}$

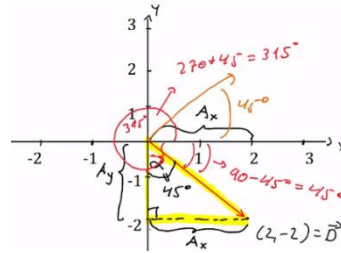


$$\theta_C = 270^\circ ; |\vec{C}| = 3$$



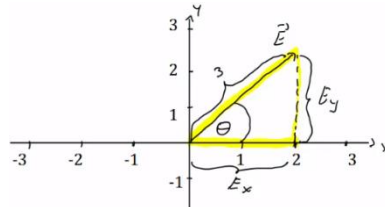
ג. שרטוט:

$$\theta_D = 315^\circ = -45^\circ ; |\vec{D}| = \sqrt{8}$$



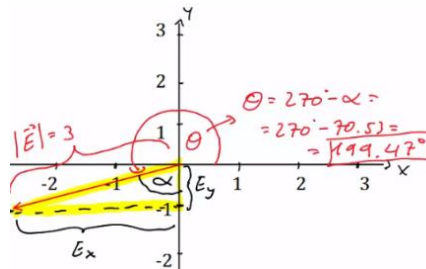
ד. שרטוט:

$$\theta_E = 48.19^\circ ;$$



ה. שרטוט:

$$\theta_E = 199.47^\circ ;$$

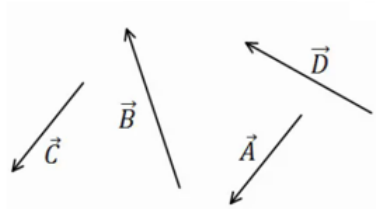


ו. שרטוט:

## פעולות בין וקטורים:

שאלות:

- (1) חיבור וקטורים לפי סימונים  
מצא את:  $\vec{A} + \vec{B} + \vec{C} + \vec{D} = \vec{E}$ .



- (2) דוגמה 1  
נתונים הוקטורים הבאים:

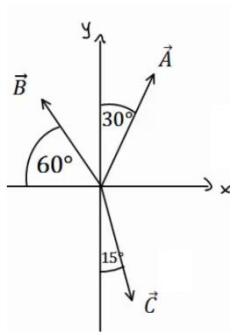
$$|\vec{A}| = 3, \theta_A = 30^\circ$$

$$|\vec{B}| = 2, \theta_B = -30^\circ$$

$$|\vec{C}| = 3, \theta_C = 180^\circ$$

- א. שרטט את הווקטורים על גבי מערכת צירים.  
ב. שרטט את גודלן וכיוונן של הווקטור:  $\vec{D} = \vec{A} + \vec{B} + \vec{C}$ .  
שרטט את הווקטור  $\vec{D}$  על אותה מערכת צירים.

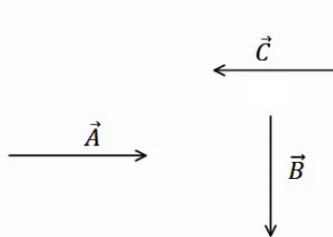
- (3) דוגמה 2



- הגודל של הווקטורים באיור הוא:  $|\vec{A}| = 5, |\vec{B}| = 4, |\vec{C}| = 5$ .  
מצא את הווקטור השקול (סכום הווקטורים):  $\vec{D} = \vec{C} + \vec{A} + \vec{B}$ .

- (4) חיסור לפי סימונים

- בציור נתונים הווקטורים:  $\vec{A}, \vec{B}, \vec{C}$ .  
מצא את:  $\vec{D} = \vec{B} - \vec{C} - \vec{A}$ .



**5) דוגמה 1**

נתונים הוקטורים הבאים :  $\vec{A} = (3,5), \vec{B} = (-1,4), \vec{C} = (0,2)$

מצא את :

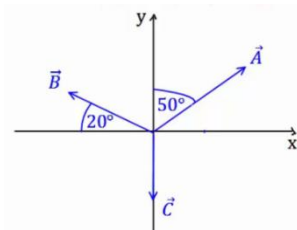
א.  $\vec{D} = -2\vec{B}$

ב.  $\vec{E} = 3\vec{A} - 2\vec{C} - \vec{B}$

ג.  $\vec{F} = -2(\vec{A} + \vec{B}) + 3\vec{C}$

**6) דוגמה 2**

גודלם של הוקטורים באיור הבא הם :  $|\vec{A}| = 5, |\vec{B}| = 4, |\vec{C}| = 3$



א. מצא את גודלו וכיוונו של  $\vec{D} = -2\vec{B}$

שרטט את  $\vec{D}$  על מערכת צירים.

ב. מצא את גודלו וכיוונו של  $\vec{E} = 2\vec{A} - 3\vec{B} - 4\vec{C}$

שרטט את  $\vec{E}$  על מערכת הצירים.

**7) דוגמה 3**

גודלו של הוקטור  $\vec{A}$  הוא 2 והזווית שהוא יוצר עם ציר ה- $x$  החיובי היא  $30^\circ$ .

א. שרטט את הוקטור במערכת הצירים.

ב. מצא את  $\vec{B} = 3 \cdot \vec{A}$  ללא פירוק של  $\vec{A}$  לרכיבים. שרטט את  $\vec{B}$  על אותה מערכת.

ג. מצא את הרכיבים של  $\vec{A}$ .

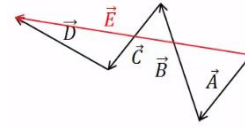
ד. חשב שוב את  $\vec{B} = 3 \cdot \vec{A}$ . הפעם דרך הרכיבים של  $\vec{A}$ .

ה. מצא את גודלו וכיוונו של  $\vec{B}$  מהרכיבים שמצאת בסעיף ד'.

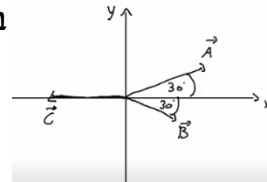
הראה כי התוצאה זהה לסעיף ב'.

**תשובות סופיות:**

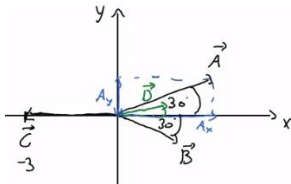
(1)



(2) א.

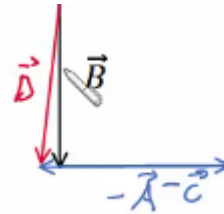


ב.  $|\vec{D}| = 1.42, \theta_D = 20.60^\circ$



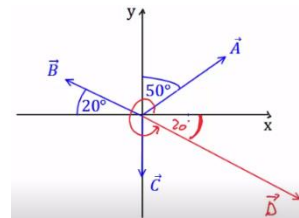
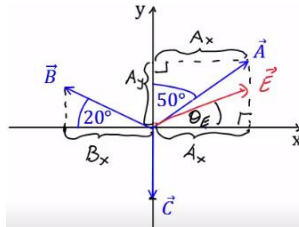
(3)  $|\vec{D}| = 3.46, \theta_D = 58.84^\circ$

(4)



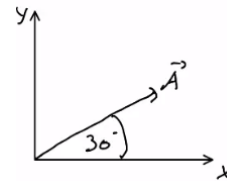
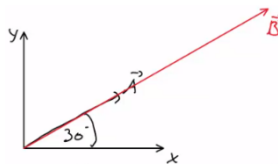
(5) א.  $\vec{D} = (2, -8)$  ב.  $\vec{E} = (10, 7)$  ג.  $\vec{F} = (-4, -12)$

(6) א.  $|\vec{D}| = 8, \theta_D = -20^\circ$  ב.  $|\vec{E}| = 23.75, \theta_E = 37.23^\circ$



(7) א.

ב.  $|\vec{B}| = 6, \theta_B = \theta_A = 30^\circ$  ג.  $\vec{A} = (\sqrt{3}, 1)$



ד.  $\vec{B} = (3\sqrt{3}, 3)$  ה. ראה סרטון.

## מכפלה סקלרית:

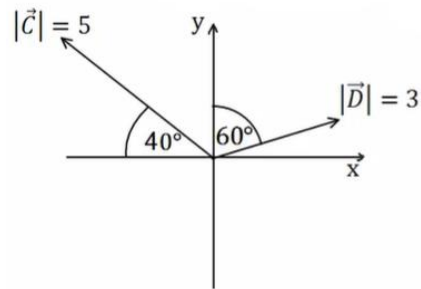
### שאלות:

#### 1 דוגמה 1

מצא את תוצאת המכפלה הסקלרית בין הוקטורים הנתונים בכל המקרים הבאים:

א.  $\vec{A} = (-1, 2)$ ,  $\vec{B} = (2, 2)$

ב.



#### 2 דוגמה 2

בדוק עבור זוגות הוקטורים הבאים האם הם מאונכים:

א.  $\vec{A} = (1, 4)$ ,  $\vec{B} = (-2, 5)$

ב.  $\vec{A} = (1, 4)$ ,  $\vec{B} = (8, -2)$

ג.  $\vec{A} = (-1, -2)$ ,  $\vec{B} = (-2, 1)$

ד. שרטט כל זוג וקטורים מאונכים על מערכת צירים.

חשב את זוויות הוקטורים עם הצירים והראה שהזווית בין הוקטורים היא אכן 90 מעלות.

#### 3 דוגמה 3

נתונים הוקטורים הבאים:  $\vec{A} = (-3, 1)$ ,  $\vec{B} = (2, -4)$ .

א. מצא את תוצאת המכפלה הסקלרית באמצעות ההצגות הקרטזיות הנתונות.

ב. מצא את הגודל והזווית של כל וקטור.

ג. מצא את המכפלה הסקלרית שוב, הפעם באמצעות הנוסחה של מכפלת הגדלים בקוסינוס הזווית. בדוק כי התוצאה זהה לסעיף א'.

**4 דוגמה 4**

נתונים הוקטורים הבאים :  $\vec{A} = (-3, 1)$  ,  $\vec{B} = (2, -4)$

א. הראה כי החישוב של  $\vec{A} \cdot \vec{B}$  זהה לחישוב  $\vec{B} \cdot \vec{A}$ .

ב. הוכח בצורה כללית כי המכפלה הסקלרית היא פעולה קומוטטיבית (הדרכה : רשום את הוקטורים בצורה כללית עם נעלמים).

**5 דוגמה 5**

נתונים הוקטורים הבאים :  $\vec{A} = (2, 1)$  ,  $\vec{B} = (-3, 2)$  ,  $\vec{C} = (1, -3)$

חשב את :

א.  $\vec{A} \cdot \vec{C}$

ב.  $(\vec{A} + \vec{B}) \cdot \vec{C}$

ג.  $\vec{A} \cdot \vec{C} + \vec{B} \cdot \vec{C}$

ד.  $(\vec{A} \cdot \vec{B}) \cdot \vec{C}$

ה.  $\vec{A} \cdot (\vec{B} \cdot \vec{C})$

ו.  $(\vec{A} \cdot \vec{B}) \cdot \vec{B}$

ז.  $(\vec{A} \cdot \vec{B}) \cdot (\vec{B} \cdot \vec{C})$

**6 דוגמה 6**

נתונים הוקטורים הבאים :  $\vec{A} = (-2, 2)$  ,  $\vec{B} = (1, -3)$  ,  $\vec{C} = (1, 5)$

חשב את :

א.  $\frac{(\vec{A} \cdot \vec{B}) \vec{B}}{|\vec{B}|^2}$

ב.  $\frac{(\vec{B} \cdot \vec{C}) \vec{C}}{|\vec{C}|^2}$

**7 דוגמה 7**

נתונים הוקטורים הבאים :  $\vec{A} = (-2, 2)$  ,  $\vec{B} = (1, -3)$  ,  $\vec{C} = (1, 5)$

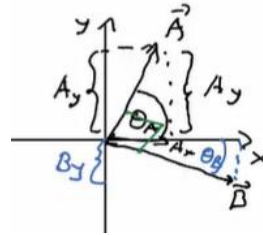
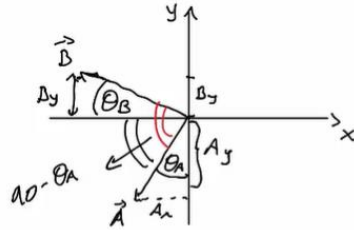
מצא את הזווית בין  $\vec{A}$  ל- $\vec{B}$  ובין  $\vec{B}$  ל- $\vec{C}$ .

**תשובות סופיות:**

1 א. 2 ב. -5.13

2 א.  $\vec{A}$  לא מאונך ל- $\vec{B}$ . ב. מאונכים. ג. מאונכים.

ד. ב.  $\theta_A = 75.96^\circ, \theta_B = 14.04^\circ$ . ד. ג.  $\theta_A = 26.57^\circ, \theta_B = 26.57^\circ$ .



3 א.  $\vec{A} \cdot \vec{B} = -10$  ב.  $|\vec{A}| = \sqrt{10}, \tilde{\theta}_A = 161.57^\circ, |\vec{B}| = \sqrt{20}, \tilde{\theta}_B = -63.43^\circ$

ג.  $\vec{A} \cdot \vec{B} = -10$

4 א. הוכחה. ב. הוכחה.

5 א. -1 ב. -10 ג. -10 ד. (-4,12) ה. (-18,-9)

ו. (12,-8) ז. 36

6 א. (-0.8,2.4) ב. (-0.54,-2.69)

7  $\alpha_{\vec{A}\vec{B}} = 153.43^\circ, \alpha_{\vec{B}\vec{C}} = 150.26^\circ$

## וקטור יחידה:

שאלות:

1) דוגמה וקטור יחידה  
מצא וקטורי יחידה בכיוון של הוקטורים הבאים:

א.  $\vec{A} = (-2, -3)$

ב.  $\vec{B} = (3, 4)$

תשובות סופיות:

1) א.  $(-0.55, -0.83)$       ב.  $(0.6, 0.8)$

## מכפלה וקטורית בדרג-מימד:

### שאלות:

#### (1) דוגמה – מכפלה וקטורית

נתונים הוקטורים הבאים:  $\vec{A} = (-4, 1)$ ,  $\vec{B} = (2, -3)$ .

א. חשב את:  $\vec{A} \times \vec{B}$  באמצעות ההצגות הקרטזיות הנתונות.  
מהו גודל המכפלה?

ב. מצא את הגודל והזווית של כל וקטור.

ג. חשב את:  $|\vec{A} \times \vec{B}|$  שוב, הפעם באמצעות הנוסחה של מכפלת הגדלים בסינוס הזווית. בדוק כי התוצאה זהה לסעיף א'.

### תשובות סופיות:

(1) א. 10 ב.  $\theta_B = -56.31^\circ$ ,  $|\vec{B}| = \sqrt{13}$ ,  $\theta_A = 165.96^\circ$ ,  $|\vec{A}| = \sqrt{17}$  ג. 10

## מכפלה וקטורית בשלושה מימדים:

שאלות:

(1) מכפלה וקטורית

נתונים הוקטורים:  $\vec{A}(1,2)$ ,  $\vec{B}(1,-3)$ ,  $\vec{C}(-1,2,-2)$ ,  $\vec{D}(2,0,1)$

א. מצא את:  $\vec{A} \cdot \vec{B}$

ב. מצא את:  $\vec{A} \times \vec{B}$

ג. מצא את:  $\vec{C} \times \vec{D}$

תשובות סופיות:

(1) א. -5    ב.  $\hat{z}(-5)$     ג.  $\vec{C} \times \vec{D} = 2\hat{x} - 3\hat{y} - 4\hat{z}$

## חיבור וחיסור וקטורים בשיטת המקבילית:

### שאלות:

#### (1) חיבור באמצעות מקבילית

נתונים הוקטורים  $\vec{A}$  ו- $\vec{B}$ . גודלו של  $A$  הוא 8 והזווית שלו עם ציר ה- $x$  החיובי היא:  $\theta_A = 130^\circ$ . גודלו של הוקטור  $B$  הוא 4 והזווית שלו עם ציר ה- $x$  החיובי היא:  $\theta_B = 60^\circ$ . שרטט את הוקטורים על מערכת צירים ומצא את:  $\vec{A} + \vec{B}$ . באמצעות שיטת המקבילית.

#### (2) חיסור באמצעות מקבילית

נתונים הוקטורים  $\vec{A}$  ו- $\vec{B}$ . גודלו של  $A$  הוא 8 והזווית שלו עם ציר ה- $x$  החיובי היא:  $\theta_A = 130^\circ$ . גודלו של הוקטור  $B$  הוא 4 והזווית שלו עם ציר ה- $x$  החיובי היא:  $\theta_B = 60^\circ$ . שרטט את הוקטורים על מערכת צירים ומצא את:  $\vec{A} - \vec{B}$ . באמצעות שיטת המקבילית.

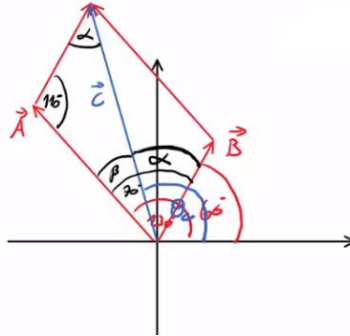
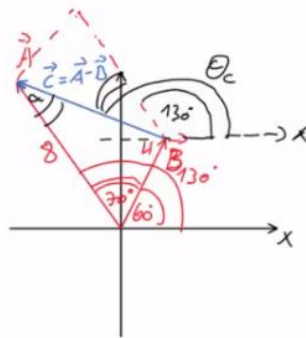
#### (3) מציאת אורך של שקול

אורכם של שני וקטורים הוא 5 ו-10 ס"מ. הזווית ביניהם היא 30 מעלות. מהו אורכו של הוקטור השקול שלהם (סכום הוקטורים)?

#### (4) מציאת זווית בין שני וקטורים

נתונים שני וקטורים שאורכם 10 ו-13 מטר. אורך השקול שלהם הוא 20 מטר. מצא את הזווית בין הווקטורים.

**תשובות סופיות:**

 (1)  $108.1^\circ$ , 10.1

 (2)  $159.5^\circ$ , 7.62

 (3)  $a \approx 14.6c.m$ 

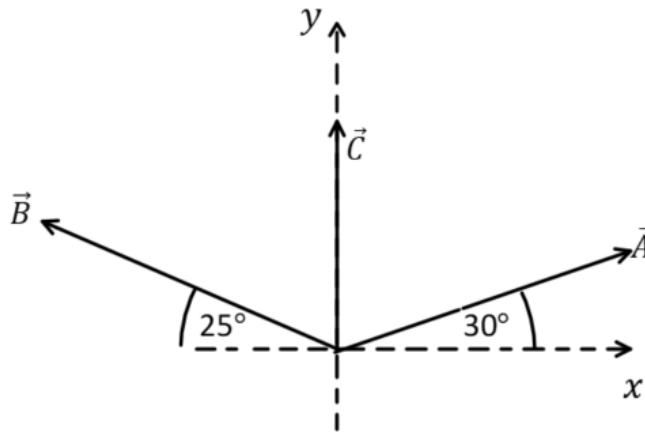
 (4)  $\theta = 60^\circ$

## תרגילים נוספים:

### שאלות:

(1) נתונים הווקטורים הבאים:  $\vec{A} = 5, 20^\circ$ ,  $\vec{B} = 2, 150^\circ$ ,  $\vec{D} = 10, 220^\circ$ .  
מצאו את גודל וכיוון הווקטור  $\vec{C}$  אם:  $\vec{A} + \vec{B} + \vec{C} = \vec{D}$ .

(2) באיור הבא נתונים שלושה וקטורים.  
מצאו את גודל הווקטור  $\vec{A}$  ואת גודל הווקטור  $\vec{B}$ ,  
אם נתון שגודל הווקטור  $\vec{C}$  הוא 50 ו-  $\vec{C} = \vec{A} + \vec{B}$ .



### תשובות סופיות:

(1)  $\vec{C} = 14, 221^\circ$

(2)  $|\vec{A}| \approx 515$ ,  $|\vec{B}| \approx 490$

# מכניקה לביולוגיה מולקולרית

## 711161001

פרק 5 - נפילה חופשית וזריקה אנכית

תוכן העניינים

47	.....	1. נפילה חופשית
48	.....	2. זריקה אנכית
50	.....	3. תרגילים

## נפילה חופשית:

### שאלות:

#### (1) כדור ברזל קטן

- כדור ברזל קטן משוחרר ממנוחה ממעלי מגדל מאוד גבוה (הזנח את התנגדות האוויר).  
 א. מצא את מרחקו מנקודת השחרור לאחר 4 שניות.  
 ב. מצא את מהירותו באותו הרגע.

#### (2) תפוח עץ

- תפוח נופל מעץ מגובה של 15 מטרים (הנח שהתפוח נופל ממנוחה והזנח את התנגדות האוויר).  
 א. מצא את המהירות בה יפגע התפוח בקרקע.  
 ב. מצא את המהירות בה יפגע התפוח בראשו של ניוטון, היושב מתחת לעץ.  
 הנח שגובה הראש של ניוטון בישיבה הוא 1 מטר.

#### (3) חסידה מביאה חבילה

- חסידה מפילה חבילה מגובה של 320 מטרים.  
 א. מצא את ההעתק שמבצעת החבילה בשניה הרביעית של תנועתה.  
 ב. מצא את ההעתק שמבצעת החבילה בשניה האחרונה של תנועתה.

### תשובות סופיות:

$$(1) \quad \text{א. } 80\text{m} \quad \text{ב. } 40 \frac{\text{m}}{\text{sec}}$$

$$(2) \quad \text{א. } 17.32 \frac{\text{m}}{\text{sec}} \quad \text{ב. } V_F \approx 16.73$$

$$(3) \quad \text{א. } \Delta y = 35\text{m} \quad \text{ב. } \Delta y = 75\text{m}$$

## זריקה אנכית:

### שאלות:

#### 1) דנה גרה מעל צחי

- דנה גרה בבניין קומות גבוה. חברה צחי גר שלוש קומות מתחתיה.  
 דנה זורקת מהחלון כדור במהירות של  $5 \frac{m}{sec}$  כלפי מטה לעבר החלון של צחי.  
 גובה כל קומה הוא 3 מטרים.  
 א. מתי יעבור הכדור את חלונו של צחי?  
 ב. מה תהיה מהירות הכדור באותו הרגע?  
 ג. מה תהיה מהירות הכדור שתי קומות מתחת לחלונו של צחי?

#### 2) דני זורק כדור מחלון גבוה

- דני זורק כדור כלפי מעלה מחלון ביתו הנמצא בגובה 105 מטרים מעל הקרקע (בניין גבוה). מהירות הכדור ישר אחרי הזריקה היא 20 מטר לשניה.  
 סמן את כיוון הציור החיובי כלפי מעלה ואת ראשית הציורים בנקודת הזריקה.  
 א. רשום נוסחאות מקום-זמן ומהירות-זמן עבור הכדור.  
 ב. הכן טבלה ורשום בה את הערכים של המיקום והמהירות ב-6 השניות הראשונות.  
 ג. צייר את מיקום הכדור בכל שנייה ב-6 השניות.  
 ד. מתי יפגע הכדור בקרקע?  
 ה. חזור על סעיפים א' ו-ד' במקרה שבו ראשית הציורים בקרקע.

#### 3) רועי קופץ לבריכה

- רועי קופץ לבריכה ממקפצה בגובה 10 מטרים.  
 מהירותו מיד לאחר הניתוק מהמקפצה היא 2 מטר לשניה כלפי מעלה.  
 א. מתי מגיע רועי לשיא הגובה בקפיצה?  
 ב. מהו שיא הגובה?  
 ג. מהי המהירות שבה פוגע רועי במים?  
 ד. כמה זמן עבר מרגע הקפיצה עד לרגע בו פגע רועי במים?

## תשובות סופיות:

$$V(y=15) \approx 18.03 \frac{\text{m}}{\text{sec}} \quad \text{ג.} \quad V(t=0.93) = 14.3 \frac{\text{m}}{\text{sec}} \quad \text{ב.} \quad 0.93 \text{sec} \quad \text{א.} \quad (1)$$

$$V(t) = 20 - 10t \quad \text{מהירות-זמן:} \quad y(t) = 20t - 5t^2 \quad \text{מקום-זמן:} \quad (2)$$

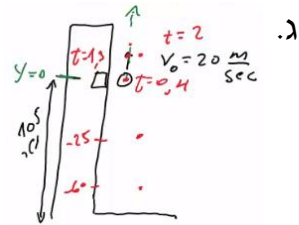
ב.

זמן (בשניות)	מיקום (במטרים)	מהירות (מטרים לשנייה)
1	15	10
2	20	0
3	15	-10
4	0	-20
5	-25	-30
6	-50	-40

$$y(t) = 105 + 20t - 5t^2 \quad \text{מקום-זמן:} \quad \text{ה.} \quad (א) \quad 7 \text{sec} \quad \text{ד.}$$

$$V(t) = 20 - 10t \quad \text{מהירות-זמן:} \quad (ב)$$

$$7 \text{sec} \quad \text{ד.}$$



$$t \approx 1.63 \text{sec} \quad \text{ד.} \quad -14.28 \frac{\text{m}}{\text{sec}} \quad \text{ג.} \quad 0.2 \text{m} \quad \text{ב.} \quad t = 0.2 \text{sec} \quad \text{א.} \quad (3)$$

## תרגילים:

### שאלות:

- (1) אבן נזרקת מגג בניין**  
 מגג בניין שגובהו 120 מטר נזרקת אבן כלפי מעלה, במהירות התחלתית שגודלה 20 מטר לשניה.  
 א. כעבור כמה זמן תמצא האבן בשיא גובה התנועה?  
 ב. מה הגובה המקסימלי אליו מגיעה האבן?  
 ג. מהי מהירות האבן כאשר היא פוגעת בקרקע? (הקפד על הסימן).
- (2) חלק ניתק מטיל**  
 טיל משוגר אנכית כלפי מעלה, ממנוחה, בתאוצה קבועה של 6 מטר לשניה בריבוע. כאשר הטיל בגובה של 300 מטר ניתק ממנו חלק.  
 א. מהי מהירות הטיל ברגע ניתוק החלק?  
 ב. מהו שיא הגובה, ביחס לקרקע, אליו מגיע החלק שניתק?  
 ג. לאחר כמה זמן מרגע השיגור יפגע החלק בקרקע?  
 ד. מהי מהירות החלק ברגע פגיעתו בקרקע?
- (3) כדור נזרק מלמעלה וגוף נזרק מלמטה**  
 כדור נזרק כלפי מטה מראש בניין שגובהו 80 מטר. מהירותו ההתחלתית של הכדור היא 15 מטר לשניה. באותו הרגע, נזרק גוף שני מתחתית הבניין כלפי מעלה. מהירותו ההתחלתית של הגוף השני היא 40 מטר לשניה.  
 א. רשום נוסחת מקום-זמן עבור כל גוף.  
 ב. האם הגוף השני יעבור את גובה הבניין?  
 ג. היכן ביחס לרצפת הבניין יחלפו הגופים אחד ליד השני?  
 ד. רשום נוסחת מהירות-זמן לכל גוף.  
 ה. מה תהיה מהירות כל גוף ברגע המפגש?  
 ו. מהי מהירות הפגיעה בקרקע של כל גוף?  
 ז. שרטט גרף מהירות-זמן וגרף מיקום-זמן לכל גוף.

- (4) גוף נזרק אנכית מגג בניין**  
 גוף נזרק אנכית כלפי מעלה מגג בניין שגובהו 40 מטר.  
 מהירותו ההתחלתית של הגוף היא 30 מטר לשנייה.  
 בחר ציר  $y$ , שראשיתו בקרקע וכיוונו החיובי כלפי מעלה.
- א. רשום את הפונקציות: מקום-זמן, מהירות-זמן ותאוצה-זמן, של הגוף.  
 ב. ערוך טבלה של מהירותו ומיקומו בזמנים:  $t = 0, 1, 2, 3, 4, 5 \text{ sec}$ .  
 ג. שרטט גרפים עבור שלושת הפונקציות שחישבת בסעיף א'.
- (5) כדור מלמעלה וכדור מלמטה מתעכב**  
 כדור נופל מגובה של 70 מטרים בנפילה חופשית.  
 שלוש שניות לאחר מכן נזרק כדור נוסף מהקרקע במהירות התחלתית  $v_0$ .
- א. רשום נוסחת מקום-זמן לכל גוף כפונקציה של  $v_0$ .  
 ב. מה צריך להיות  $v_0$  על מנת שהכדורים לא יחלפו זה על פני זה?  
 ג. רשום נוסחת מקום – זמן לכל גוף, בהנחה שהערך של  $v_0$  הוא הערך המקסימלי שמקיים את התנאי של סעיף ב'.  
 ד. מה תהיה מהירות כל גוף בפגיעה בקרקע?  
 ה. שרטט גרף מהירות – זמן לשתי האבנים על אותה מערכת צירים.
- (6) כדור פורח**  
 כדור פורח עולה במהירות קבועה של 15 מטרים לשנייה כלפי מעלה.  
 בגובה של 150 מטרים הכדור משחרר שק חול.  
 מצא כמה זמן ייקח לשק החול להגיע לקרקע.  
 (רמז: מהירות הכדור לא נתונה ללא סיבה)
- (7) אבן אחרי אבן**  
 אבן משוחררת ממנוחה מגובה של 60 מטרים. שתי שניות לאחר מכן נזרקת אבן נוספת כלפי מטה מאותו הגובה.  
 באיזו מהירות יש לזרוק את האבן, על מנת ששתי האבנים יגיעו לקרקע באותו הזמן?
- (8) אדם משחרר כדור מתוך מעלית\*\***  
 מעלית עולה מגובה הקרקע במהירות קבועה. בזמן  $T_1$  אדם הנמצא במעלית משחרר כדור מתוך המעלית דרך חור שברצפת המעלית.  
 הכדור מגיע לקרקע כעבור  $T_2$  שניות.  
 מצאו את גובה המעלית  $h$  בזמן  $T_1$ .  
 נתונים:  $T_1$  ו-  $T_2$ .

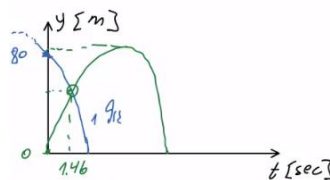
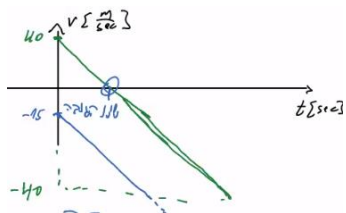
**9) ילד זורק כדור בקפיצה\*\***

ילד מנסה לזרוק כדור לתקרה של הכיתה אך אינו מצליח להגיע עד לתקרה. המורה לפיזיקה שהבחין בניסיונותיו של הילד הציע לילד שיזרוק את הכדור תוך כדי קפיצה בכיוון מעלה.

- א. האם המורה צודק? לאיזה גובה יגיע הכדור אם הילד קופץ ומיד זורק את הכדור כלפי מעלה? הניחו שמהירות הקפיצה של הילד היא  $v_1$  ומהירות הזריקה של הכדור  $v_2$  ביחס לילד היא אותו הדבר. הניחו שזריקת הכדור לא משפיעה על הילד.
- ב. בטאו את ההעתק של הילד ושל הכדור כפונקציה של הזמן בו הילד זורק את הכדור.

**תשובות סופיות:**

- (1) א.  $v_F = 60 \frac{m}{sec}$     ב. 480m    ג. 25.8sec    ד.  $-97.98 \frac{m}{sec}$
- (2) א. גוף 1 – כדור:  $y_1(t) = 80 + (-15)t - 5t^2$ , גוף 2 – ריבוע:  $y_2(t) = 40t - 5t^2$     ב. יגיע בדיוק לגובהו. ג. 47.74m    ד. גוף 1:  $v_1(t) = -15 - 10t$ , גוף 2:  $v_2(t) = 40 - 10t$
- ה. גוף 1:  $-29.6 \frac{m}{sec}$ , גוף 2:  $25.4 \frac{m}{sec}$ . ו. גוף 1:  $-42.72 \frac{m}{sec}$ , גוף 2:  $-40 \frac{m}{sec}$ .
- ז. מיקום-זמן (גוף 1 בכחול, גוף 2 בירוק): מהירות-זמן:



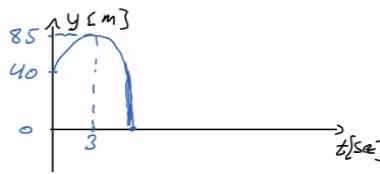
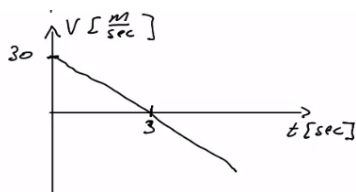
- (3) א. מקום-זמן:  $y(t) = 40 + 30t - 5t^2$ , מהירות-זמן:  $v(t) = 30 - 10t$     ב. תאוצה-זמן:  $a = -10$

מקום (במטרים)	מהירות (מטרים לשנייה)	זמן (בשניות)
40	30	0
65	20	1
80	10	2
85	0	3
80	-10	4
65	-20	5

תאוצה-זמן:

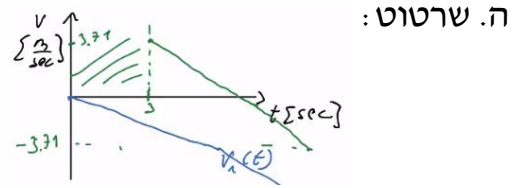
מהירות-זמן:

ג. מקום-זמן:



- (4) א.  $t = 2sec$     ב. 20m    ג.  $v(t) = -52.9 \frac{m}{sec}$

- (5) א. כדור 1:  $y_1(t) = 70 - 5t^2$ , כדור 2:  $y_2(t) = 0 + v_0(t-3) - 5(t-3)^2$     ב.  $v_0 \leq 3.71$     ג. כדור 1:  $v_1(t) = -10t$ , כדור 2:  $v_2(t) = 3.71 - 10(t-3)$     ד. כדור 1:  $v_1(t = 3.74) \approx -3.69 \frac{m}{sec}$ , כדור 2:  $v_2(t = 3.74) = -37.4 \frac{m}{sec}$



$$. t \approx 7.18 \text{ sec} \quad (6)$$

$$. v_0 \approx 33.8 \frac{\text{m}}{\text{sec}} \quad (7)$$

$$. h = \frac{gT_2^2}{2 \left( 1 + \frac{T_2}{T_1} \right)} \quad (8)$$

$$. y = \frac{(v_1 + v_2)^2}{2g}, \text{ א. המורה צודק, ב. ילד: } v_1 \cdot t - \frac{1}{2}gt^2, \text{ כדור: } v_2 t_0 - \frac{(v_1 + v_2)^2}{2g} \quad (9)$$

# מכניקה לביולוגיה מולקולרית

## 711161001

פרק 6 - קינמטיקה - תנועה במישור

תוכן העניינים

55 ..... 1. תנועה במישור

## תנועה במישור:

### שאלות:

#### (1) דוגמה 1

גוף נע במישור, כך שמיקומו בציר ה- $x$  כתלות בזמן הוא:  $x(t) = 2t$ ,  
ומיקומו בציר ה- $y$  כתלות בזמן הוא:  $y(t) = 3t^2$ .

- שרטט על גבי מערכת צירים דו מימדית את מיקום הגוף ב- $t = 0, 1, 2, 3$  sec.
- רשום את הערך של וקטור מיקום הגוף בכל אחד מן הרגעים, ושרטט את וקטור המיקום בכל רגע על מערכת הצירים.
- רשום נוסחה לוקטור המיקום כתלות בזמן.

#### (2) דוגמה 2

גוף נע במישור, כך שמיקומו בציר ה- $x$  כתלות בזמן הוא:  $x(t) = 4 + 3t$ ,  
ומיקומו בציר ה- $y$  כתלות בזמן הוא:  $y(t) = 2t^2$ .

- רשום את וקטור המיקום כתלות בזמן ומצא את מיקום הגוף ב- $t = 1, 2$  sec.
- רשום את ההעתק של הגוף בחמש השניות הראשונות של התנועה.
- מצא את ההעתק שביצע הגוף מ- $t = 2$  sec עד  $t = 4$  sec.

#### (3) דוגמה 3

גוף נע במישור, כך שמיקומו כתלות בזמן בציר ה- $x$  הוא:  $x(t) = 2t - 3$ ,  
ומיקומו בציר ה- $y$  כתלות בזמן הוא:  $y(t) = t^2$ .

- מצא את וקטור המיקום של הגוף כתלות בזמן.
- מצא את ההעתק שביצע הגוף בין  $t = 3$  sec ל- $t = 5$  sec.
- מצא את המהירות הממוצעת במרווח הזמן של סעיף ב'.

#### (4) גוף נזרק אופקית מגובה רב

גוף נזרק אופקית במהירות של 10 מטר לשניה מגובה רב.  
מה יהיו מיקומו, ביחס לנקודת הזריקה, ומהירותו, לאחר 4 שניות?

**(5) גוף נזרק אופקית מגג בניין**

גוף נזרק אופקית מגג בניין שגובהו 40 מטר.

א. מתי יפגע הגוף בקרקע?

ב. היכן יפגע הגוף בקרקע אם מהירות הזריקה היא 15 מטר לשנייה?


ג. מהו גודל מהירות הגוף בזמן הפגיעה בקרקע ומהי כיוונה?

**(6) חבילת סיוע לכפר**

מטוס טס במהירות קבועה של 200 מטר לשנייה בגובה של 3000 מטר. המטוס רוצה לשחרר חבילת סיוע לכפר הנמצא מתחתיו.

א. מצא את המרחק האופקי מהכפר שבו צריך המטוס לשחרר את החבילה על מנת שתנחת בדיוק 10 מטר לפני הכפר.

ב. מהי הזווית בה רואה המטוס את הכפר באותו רגע?

**(7) משוואת מסלול**

מצא את משוואת המסלול ושרטט את המסלול על מערכת צירים עבור המסלול

$$\text{הבא: } x(t) = \sqrt{3+t^2}, y(t) = \sqrt{7-t^2}$$

הנח ש- $x$  ו- $y$  תמיד חיוביים.

**(8) זריקה משופעת**

גוף נזרק במהירות של 40 מטר לשנייה בזווית של 30 מעלות ביחס לציר האופקי.

א. מצא את מיקום ומהירות הגוף ב- $t = 2\text{sec}$ .

ב. מתי פוגע הגוף בקרקע?

ג. מהו המרחק האופקי בו פוגע הגוף בקרקע?

ד. מהי מהירות הגוף ברגע הפגיעה?

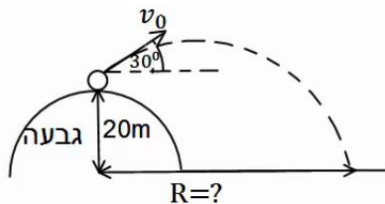
**(9) כדור נבעט מגבעה**

כדור נבעט מגבעה בגובה 20 מטר. הכדור נבעט במהירות של 28 מטר לשנייה ובזווית של 30 מעלות.

א. מתי יפגע הכדור בקרקע?

ב. מהו המרחק האופקי של הכדור, מנקודת הבעיטה, ברגע הפגיעה בקרקע?

ג. מהי מהירות הכדור ברגע הפגיעה?

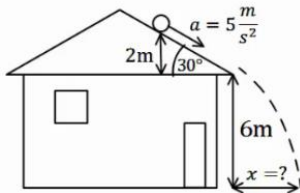


**10) דן יורה חץ על עץ**

דן יורה חץ מגובה של 2 מטרים לעבר עץ הנמצא במרחק של 8 מטרים. מהירות היציאה של החץ מהקשת היא 30 מטר לשנייה. מצא באיזה גובה יפגע החץ בעץ, אם הזווית שבה יורה דן את החץ היא 15 מעלות.

**11) דני מחליק במגלשה**

דני מחליק במגלשת מים. סוף המגלשה נמצא בגובה 2 מטרים מעל הבריכה ובזווית של 30 מעלות מתחת לאופק. בהנחה שדני יוצא מהמגלשה במהירות של 10 מטרים לשנייה, מהו המרחק האופקי אותו יעבור עד הפגיעה במים? מהי מהירותו בפגיעה במים?

**12) כדור מתגלגל מגג משופע**

כדור מתגלגל מגג בניין משופע. הכדור מתחיל תנועתו ממנוחה מגובה של 2 מטרים מקצה הגג, ששיפועו הוא 30 מעלות מתחת לאופק. נתון כי תאוצת הכדור בכיוון תנועתו על הגג היא 5 מטרים לשנייה בריבוע. מצא את המרחק האופקי מקצה הגג בו יפגע הכדור בקרקע.

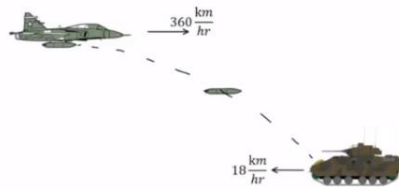
**13) תנועת כדור עם רוח נגדית**

כדור נבעט מהקרקע במהירות של 20 מטרים לשנייה ובזווית של 45 מעלות מהקרקע. רוח נגדית גורמת לכדור תאוצה בכיוון האופקי של 2 מטרים לשנייה בריבוע (בנוסף לתאוצת הכובד).

- מצא את מיקום הכדור ומהירותו ב-  $t = 2 \text{ sec}$ .
- מהו המרחק בו פוגע הכדור בקרקע?
- מהו הגובה המקסימלי אליו הגיע הכדור?
- מהו המרחק האופקי המקסימלי אליו הגיע הכדור?

**14) מסירה בפוטבול**

במשחק הפוטבול הרכז האחורי זורק כדור בזווית של 45 מעלות ביחס לקרקע ובמהירות של 30 מטרים לשנייה. שחקן הקבוצה הנמצא 15 מטרים קדימה מהרכז האחורי רץ במהירות של 5 מטרים לשנייה. השחקן רואה את הכדור ומתחיל להאיץ בתאוצה קבועה. מהי התאוצה הדרושה לשחקן כך שיוכל לתפוס את הכדור בדיוק בגובה בו הוא נזרק? האם סימן התאוצה יכול להיות שלילי? מה המשמעות של תאוצה כזו?

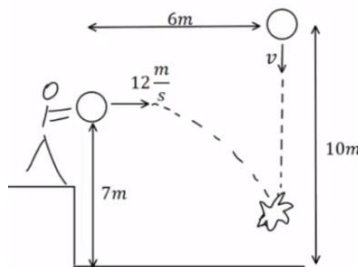
**(15) מטוס מטיל פצצה על טנק שנע**

מטוס טס בכיוון אופקי במהירות של  $360 \text{ km/hr}$  קמ"ש. טנק אויב הנמצא במרחק אופקי של  $3 \text{ km}$  ממנו נע במהירות  $18 \text{ km/hr}$  קמ"ש כלפי המטוס. כעבור  $10$  שניות הטייס מבחין בטנק ומשחרר פצצה.

א. חשבו את הזמן מהרגע שבו שוחררה הפצצה ועד לרגע פגיעתה בטנק.

ב. מהו גובה המטוס מעל פני הקרקע?

ג. מהי מהירות הפצצה (גודל וכיוון) ברגע פגיעתה בטנק?

**(16) כדור נזרק אופקית פוגע בכדור שנזרק אנכית**

כדור נזרק אנכית כלפי מטה מגובה של  $10$  מטרים ובמהירות  $v$  לא ידועה. באותו הרגע ובמרחק אופקי של  $6$  מטרים נזרק כדור נוסף זריקה אופקית, מגובה  $7$  מטרים ובמהירות של  $12 \text{ m/s}$  מטר לשניה.

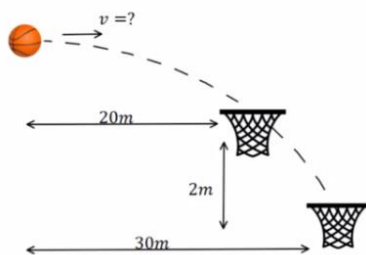
הכדורים מתנגשים באוויר בגובה לא ידוע.

א. מהו הזמן בו הכדורים מתנגשים?

ב. מהי המהירות בה נזרק הכדור הראשון?

ג. מהו הגובה שבו נפגשים הכדורים?

ד. מהי מהירות הכדור השני ברגע פגיעתו בכדור הראשון (גודל וכיוון)?

**(17) כדורסל עובר דרך שני סלים**

כדורסל נזרק אופקית במהירות התחלתית לא ידועה ובגובה לא ידוע. הכדור עובר דרך שני סלים (ניתן להניח שהסלים ללא רשת והכדור לא פוגע בטבעת כך שהמעבר דרך הסלים לא משנה את המסלול). הסל הראשון ממוקם  $20$  מטר מנקודת הזריקה של הכדור והסל השני  $30$  מטר מנקודת הזריקה של הכדור ו- $2$  מטר מתחת לסל הראשון.

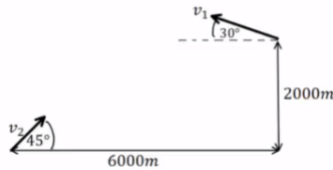
א. מהי המהירות ההתחלתית של הכדור?

ב. מאיזה גובה מעל לסל העליון נזרק הכדור?

ג. כמה זמן חלף מהרגע בו נזרק הכדור ועד לרגע בו הגיע לסל השני?

**18) כיפת ברזל מיירת קאסם**

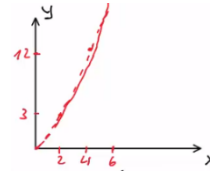
טייל קאסם נורה לעבר עמדה של כיפת ברזל. המכ"ם של הכיפה מזהה את הטייל כשהוא נמצא בגובה 2000 מטר ובמרחק אופקי של 6000 מטר ממוקום של עמדת הכיפה. ברגע הגילוי לטייל זווית של 30 מעלות עם האופק. המחשב של כיפת ברזל מתריע כי לפי חישוב המסלול של הטייל הוא הולך לפגוע ישירות בעמדה. הנח שטייל הקאסם נע ללא מנוע (כלומר, כמו פגז בתנועה בליסטית).



- א. מהי מהירות הטייל ברגע הגילוי?  
 ברגע הגילוי נורה טייל מיירט לעבר טייל הקאסם.  
 הטייל המיירט נורה בזווית של 45 מעלות.
- ב. מה צריכה להיות מהירותו ההתחלתית של הטייל המיירט בשביל שיפגע בטייל הקאסם (הנח שתנועת הטייל המיירט היא גם ללא מנוע)?
- ג. מתי מתרחשת הפגיעה?
- ד. באיזה גובה מתרחשת הפגיעה?

## תשובות סופיות:

(1) א.



ב.  $\vec{r}_0(t=0) = (0, 0)$ ,  $\vec{r}_1(t=1) = (2, 3)$ ,  $\vec{r}_2(t=2) = (4, 12)$ ,  $\vec{r}_3(t=3) = (6, 27)$

ג.  $\vec{r} = (2t, 3t^2) = 2t\hat{x} + 3t^2\hat{y}$

(2) א. הנוסחה:  $\vec{r}(t) = (4 + 3t, 2t^2)$ , מיקום הגוף:  $\vec{r}(t=1) = (7, 2)$ ,  $\vec{r}(t=2) = (10, 8)$

ב.  $\Delta\vec{r} = (15, 50)$  ג.  $\Delta\vec{r} = (6, 24)$

(3) א.  $\vec{r} = (2t - 3)\hat{x} + t^2\hat{y}$  ב.  $\Delta\vec{r} = (4, 16)$  ג.  $\vec{v} = (2, 8)$

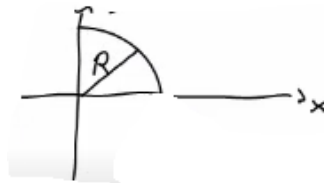
(4) מיקום:  $\vec{r}(t=4) = (40, 80)$ , מהירות:  $\vec{v}(t=4) = (10, 40)$

(5) א.  $t = \sqrt{8} \approx 2.83 \text{ sec}$  ב.  $x(t = \sqrt{8}) = 15 \cdot \sqrt{8} \approx 42.43 \text{ m}$

ג. גודל:  $|\vec{v}| \approx 32.02 \frac{\text{m}}{\text{sec}}$ , כיוון:  $\theta \approx 62.06^\circ$

(6) א.  $4,908.98 \text{ m}$  ב.  $\theta = 31.38^\circ$

(7) משוואה:  $y(x) = \sqrt{10 - x^2}$ , שרטוט:



(8) א. מיקום:  $x(t=2) = 69.28 \text{ m}$ ,  $y(t=2) = 20 \text{ m}$ , מהירות:  $\vec{v} = (34.64, 0)$

ב.  $t = 4 \text{ sec}$  ג.  $x(t=4) = 138.56 \text{ m}$  ד.  $\vec{v} = (34.64, -20)$

(9) א.  $t \approx 3.84 \text{ sec}$  ב.  $x(t=3.84) = 93.12 \text{ m}$  ג.  $\vec{v} = (24.25, -24.4)$

(10)  $y(t=0.28) \approx 3.78$

(11) המרחק:  $x(t) = 2.68 \text{ m}$ , המהירות:  $\vec{v} = (8.66, 8.1)$

(12)  $x(t=0.82) \approx 4.49 \text{ m}$

(13) א. מיקום:  $x(t=2) = 24.28 \text{ m}$ ,  $y(t=2) = 8.28 \text{ m}$

מהירות:  $v_x(t=2) = 10.14 \frac{\text{m}}{\text{sec}}$ ,  $v_y(t=2) = -5.86 \frac{\text{m}}{\text{sec}}$  ב.  $x(t=2.83) \approx 32.01 \text{ m}$

ג.  $y(t=1.41) \approx 10 \text{ m}$  ד.  $x_{\text{max}} = 32.01 \text{ m}$

**(14)** התאוצה:  $a \approx 5.99 \frac{\text{m}}{\text{sec}^2}$ , כן, יכול להיות שלילי. המשמעות היא תאוצה,

כלומר על השחקן להאט על מנת לתפוס את הכדור בדיוק בגובה הזריקה.

**(15)** א.  $t \approx 18.57 \text{sec}$       ב.  $h \approx 1724 \text{m}$       ג.  $211 \frac{\text{m}}{\text{sec}}$ ,  $-61.7^\circ$

**(16)** א.  $t = 0.5 \text{sec}$       ב.  $v = 6 \frac{\text{m}}{\text{sec}}$       ג.  $5.75 \text{m}$

ד.  $13 \frac{\text{m}}{\text{sec}}$ ,  $-22.6^\circ$

**(17)** א.  $v = \sqrt{1250} \frac{\text{m}}{\text{sec}}$       ב.  $h = 3.6 \text{m}$       ג.  $t_2 \approx 0.849 \text{sec}$

**(18)** א.  $v_1 \approx 210 \frac{\text{m}}{\text{sec}}$       ב.  $v_2 \approx 353 \frac{\text{m}}{\text{sec}}$       ג.  $t_0 \approx 13.9 \text{sec}$       ד.  $693 \text{m}$

# מכניקה לביולוגיה מולקולרית

## 711161001

פרק 7 - תנועה יחסית

תוכן העניינים

1. תנועה יחסית ..... 62

## תנועה יחסית:

### שאלות:

#### (1) מדרגות נעות

כאשר אדם עומד על מדרגות נעות בחנות, הוא מגיע לקומה הרצויה תוך 50 שניות. יום אחד, המדרגות הנעות מתקלקלות והאדם צריך לעלות אותן ברגל בכוחות עצמו, כאשר הוא נע במלוא היכולת שלו, הוא מצליח להגיע לקומה הרצויה תוך 80 שניות. למחרת, המדרגות הנעות עובדות כרגיל, אך האדם מחליט לרוץ בהן במלוא יכולתו בכל זאת.

- תוך כמה זמן יגיע לקומה הרצויה?
- האדם מנסה עתה לרדת חזרה לקומה המקורית במדרגות העולות (אלה בהן הוא עלה קודם). האם הוא יכול להצליח בכך?  
אם כן תוך כמה זמן יגיע לקומה המקורית?

#### (2) מכונית ביחס לאוטובוס

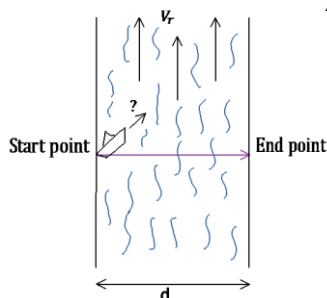
- מכונית נוסעת במהירות של 30 מטר לשנייה בכיוון ציר ה- $x$ .
- אוטובוס נוסע במהירות של 50 מטר לשנייה בכיוון ציר ה- $x$ .
- מצא את המהירות היחסית בין האוטובוס למכונית.
- מצא את הזווית בה האוטובוס יראה את המכונית נוסעת.

#### (3) גשם על שמשות מכונית

נהג הנוסע במהירות 100 קמ"ש רואה טיפות גשם נמרחות על השמשה הצדדית של המכונית בכיוון הפוך לכיוון הנסיעה ובזווית של 45 מעלות עם הציר האנכי לכיוון הנסיעה. נהג אחר הנוסע במהירות 70 קמ"ש רואה את טיפות הגשם בזווית 30 מעלות עם אותו הציר. מצא את מהירות הטיפות ביחס לקרקע (גודל וכיוון).

#### (4) סירה בנהר

נהר זורם צפונה במהירות  $V_r$ . יוסי נמצא בגדה המערבית ורוצה להשיט סירה לרוחב הנהר. מהירות הסירה היא  $V_{br}$  יחסית לנהר. יוסי מעוניין להגיע אל הגדה הנגדית בדיוק מזרחית לנקודת מוצאו. נתון כי רוחב הנהר  $d$ .



- באיזה כיוון הוא יהיה חייב להשיט את הסירה?
- מה מהירות הסירה יחסית לאדמה?
- כמה זמן תארך דרכו?

**5) כדור נזרק במעלית**

מרצפת מעלית הנמצאת במנוחה נזרק כלפי מעלה במהירות התחלתית לא ידועה. הכדור עובר ליד שעון עצר, המחובר למעלית, ונמצא בגובה 2 מטרים מרצפת המעלית. שעון העצר מופעל ברגע שהכדור חולף לידו בפעם הראשונה ומפסיק ברגע שהכדור חולף לידו בפעם השנייה (בדרכו למטה). השעון מדד זמן של 0.5 שניות.

- א. מהו זמן התנועה של הכדור מרגע הזריקה עד לפגיעה ברצפת המעלית?
- ב. מהי הדרך אותה עשה הכדור ביחס למעלית וביחס לכדה"א עד אשר הגיע לשעון בפעם השנייה?
- ג. חוזרים על הניסוי, אבל כעת המעלית נעה (מלפני זריקת הכדור) במהירות קבועה כלפי מעלה של  $4 \frac{\text{m}}{\text{sec}}$ . הזמן שמודד השעון הוא שוב 0.5 שניות. מהו זמן התנועה של הכדור מרגע הזריקה ועד לפגיעה ברצפת המעלית?
- ד. מהי הדרך אותה עשה הכדור ביחס למעלית וביחס לכדה"א עד אשר הגיע לשעון בפעם השנייה?
- ה. מהי מהירות הכדור ביחס לכדה"א ברגע הפגיעה ברצפת המעלית?

**6) כדור נזרק במעלית מאיזה**

מעלית נעה בתאוצה קבועה כלפי מעלה של  $2 \frac{\text{m}}{\text{sec}^2}$ .

- ברגע שמהירות המעלית היא  $4 \frac{\text{m}}{\text{sec}}$  נזרק מרצפת המעלית כדור כלפי מעלה במהירות התחלתית לא ידועה.
- הכדור עובר ליד שעון עצר המחובר למעלית ונמצא בגובה 1 מטר מרצפת המעלית. שעון העצר מופעל ברגע שהכדור חולף לידו בפעם הראשונה ומפסיק ברגע שהכדור חולף לידו בפעם השנייה (בדרכו למטה). השעון מדד זמן של 0.5 שניות.
- א. מהו הזמן עד לפגיעת הכדור ברצפת המעלית?
  - ב. מהי הדרך הכוללת שעבר הכדור ביחס למעלית עד אשר עבר ליד השעון בפעם השנייה?
  - ג. מהי הדרך הכוללת שעבר הכדור ביחס לכדה"א עד אשר עבר ליד השעון בפעם השנייה?
  - ד. מהי מהירות הכדור יחסית לכדה"א ברגע הפגיעה ברצפת המעלית?

## תשובות סופיות:

$$(1) \quad t = 30.8 \text{ sec} \quad \text{א.} \quad \text{ב. לא.}$$

$$(2) \quad v_2' = \left( -24.01 \frac{\text{m}}{\text{sec}}, 15 \frac{\text{m}}{\text{sec}} \right) \quad \text{א.} \quad \text{ב. } \theta_2' = 148^\circ$$

$$(3) \quad \text{מהירות: } V_x = 29.21 \frac{\text{km}}{\text{hr}}, V_y = -70.79 \frac{\text{km}}{\text{hr}}, \text{ גודל וכיוון: ראה סרטון.}$$

$$(4) \quad \sin \theta = -\frac{V_r}{V_{br}} \quad \text{א.} \quad \text{ב. } V_{bx} = \sqrt{V_{br}^2 - V_r^2} \quad \text{ג. } t = \frac{d}{\sqrt{V_{br}^2 - V_r^2}} \quad \text{ד.}$$

$$(5) \quad t = 1.36 \text{ sec} \quad \text{א.} \quad \text{ב. } S = 2.62 \text{ m} \quad \text{ג. } t = 1.36 \text{ sec} \quad \text{ד. } S = 5.72 \text{ m}$$

$$\text{ה. } v_1 = -2.8 \frac{\text{m}}{\text{sec}}$$

$$(6) \quad t = 0.96 \text{ sec} \quad \text{א.} \quad \text{ב. } S = 2.76 \text{ m} \quad \text{ג. } S = 4.46 \text{ m} \quad \text{ד. } v_1 = 1.6 \frac{\text{m}}{\text{sec}}$$

# מכניקה לביולוגיה מולקולרית

## 711161001

פרק 8 - תרגילים לחזרה עד לחלק זה

תוכן העניינים

1. תרגילים ..... 65

## תרגילים לחזרה עד לחלק זה:

### שאלות:

#### (1) חללית ללא טייס

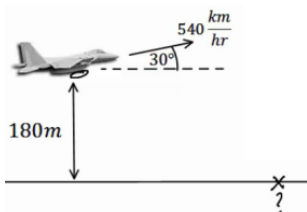
- חללית ללא טייס משוגרת מכדור הארץ בצורה אנכית כלפי מעלה ובתאוצה קבועה. בגובה 1940 מטרים כבה לפתע מנוע החללית. החללית ממשיכה עוד 18 שניות בתנועה כלפי מעלה ולאחר מכן מתחילה ליפול בנפילה חופשית חזרה לקרקע.
- חשב את תאוצת הגוף עד לרגע בו כבה המנוע.
  - מצא את הגובה המקסימלי אליו הגיעה החללית.
  - מהו הזמן מרגע השיגור ועד לרגע בו פוגעת החללית בקרקע?
  - מהי מהירות החללית ברגע פגיעתה בקרקע?
- צופים שנמצאים במרחק 50 מטרים ממקום השיגור מתחילים לברוח מהרגע בו כבה המנוע.
- מהי המהירות הממוצעת בה צריכים הצופים לרוץ כך שיוכלו להיות במרחק של לפחות 120 מטרים ממקום השיגור?

#### (2) זריקה משופעת קלאסית

- כדור נזרק במהירות התחלתית של 20 מטרים לשנייה ובזווית של 60 מעלות מעל האופק.
- מתי יהיה הכדור בשיא הגובה? מהו שיא הגובה? מהי תאוצת הכדור ברגע זה?
  - מהו המרחק האופקי שבו יפגע הכדור חזרה בקרקע?
  - מהי מהירות הכדור (גודל וכיוון) ב-  $t = 2 \text{ sec}$ ?

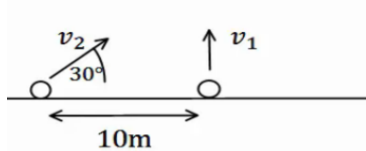
#### (3) מטוס בשיפוע משחרר פצצה

- מטוס טס במהירות של 540 ק"מ לשעה בזווית של 30 מעלות מעל האופק. בגובה של 180 מטרים המטוס משחרר פצצה.
- איך תפגע הפצצה בקרקע?
  - מהו גודל מהירות הפגיעה של הפצצה בקרקע?
  - מהו כיוון תנועת הפצצה ברגע הפגיעה?



**4 שני כדורים – אולי נפגשים**

כדור א' נזרק אנכית כלפי מעלה במהירות התחלתית לא ידועה.  
כדור ב' נזרק במרחק 10 מטרים משמאל לנקודת הזריקה של כדור א'.  
גודל מהירותו של כדור ב' אינה ידועה, אך כיוונה הוא ימינה בזווית של  $30^\circ$   
מעלות עם הציר האופקי.



א. מצא מהי מהירות הכדורים, אם ידוע ששני הכדורים נחתו 4 שניות לאחר זריקתם

ב. האם הכדורים נפגשו באוויר?

ג. מה צריך להיות התנאי הכללי על מנת שהכדורים יפגשו באוויר?

**תשובות סופיות:**

1) א.  $a \approx 8.35 \frac{m}{sec^2}$     ב.  $h_{max} = 3560m$     ג.  $t = 66.24sec$

ד.  $v(t = 44.68) = -266.8 \frac{m}{sec}$     ה.  $\bar{v} \approx 1.57 \frac{m}{sec}$

2) א. בזמן:  $t = \sqrt{3} sec$ , שיא הגובה:  $y(t = \sqrt{3}) = 15m$ , תאוצה:  $a = -10$ .

ב.  $x(t = 2 \cdot \sqrt{3}) = 20 \cdot \sqrt{3}m$     ג. גודל:  $|\vec{v}| = 10.35 \frac{m}{sec}$ , כיוון:  $\theta = 15^\circ$ .

3) א.  $x(t) = 2,221.36m$     ב.  $|\vec{v}| = 161.52 \frac{m}{sec}$     ג.  $\theta = -36.5^\circ$

4) א.  $v_{CadurB} = 40 \frac{m}{sec}$ ,  $v_{CadurA} = 20 \frac{m}{sec}$     ב. כן.    ג. התנאי:  $v_{2y} = v_{1y}$ .

# מכניקה לביולוגיה מולקולרית

## 711161001

פרק 9 - דינמיקה - תנועה בהשפעת כוחות (חוקי ניוטון)

תוכן העניינים

- 67 ..... 1. הקדמה, חוק ראשון ושלישי
- 76 ..... 2. חוק שני של ניוטון
- 91 ..... 3. הכוח האלסטי- קפיץ
- 96 ..... 4. תרגילים נוספים לחוק ראשון ושלישי

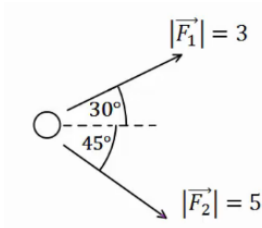
## הקדמה, חוק ראשון ושלישי:

### שאלות:

#### דינמיקה והכוחות הבסיסיים:

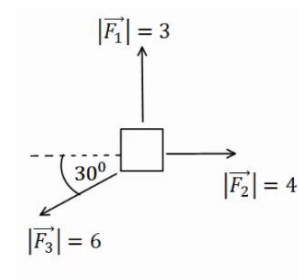
##### (1) דוגמה 1

חשב את שקול הכוחות הפועל על גוף במקרה הבא:



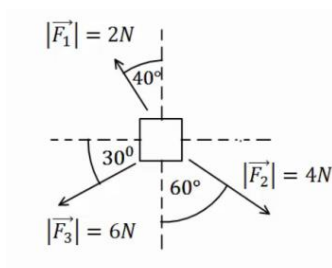
##### (2) דוגמה 2

חשב את שקול הכוחות הפועל על גוף במקרה הבא:



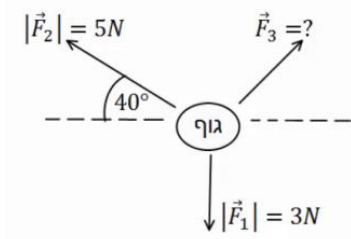
##### (3) דוגמה 3

חשב את שקול הכוחות הפועל על גוף במקרה הבא:



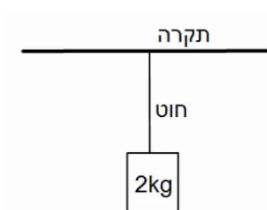
##### (4) דוגמה 4

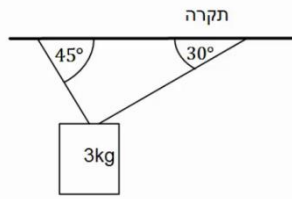
באיור הבא נתונים הכוחות  $\vec{F}_1$ ,  $\vec{F}_2$  וידוע כי הגוף נע במהירות קבועה בקו ישר. מצא את גודלו וכיוונו של  $\vec{F}_3$ .



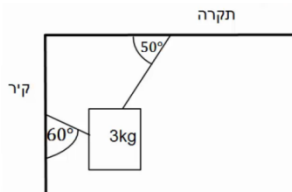
##### (5) דוגמה 5

גוף תלוי במנוחה מהתקרה באמצעות חוט יחיד. מהי המתחיות בחוט אם מסת הגוף היא 2 ק"ג?

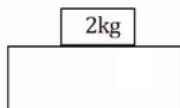


**6 דוגמה 6**

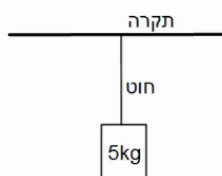
גוף תלוי במנוחה מהתקרה באמצעות שני חוטים, לפי האיור הבא.  
 מהי המתיחות בכל חוט אם מסת הגוף היא 3 ק"ג?

**7 דוגמה 7**

גוף תלוי במנוחה מהתקרה באמצעות חוט ומחובר לקיר המאונך לתקרה באמצעות חוט נוסף (הסתכל באיור).  
 מהי המתיחות בכל חוט אם מסת הגוף היא 3 ק"ג?

**8 דוגמה 8**

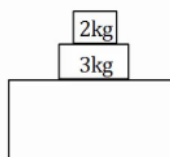
מסה של 2 ק"ג נמצאת במנוחה על שולחן.  
 א. שרטט תרשים כוחות על המסה.  
 ב. מהו גודלו וכיוונו של הכוח הנורמלי הפועל מהשולחן על המסה?  
 ג. מהו גודלו וכיוונו של הכוח הנורמלי הפועל על השולחן מהמסה?

**9 דוגמה 9**

מסה של 5 ק"ג תלויה במנוחה מהתקרה באמצעות חוט יחיד.  
 א. מהי המתיחות בחוט?  
 ב. מהו גודלו וכיוונו של הכוח שמפעיל החוט על התקרה?  
 ג. מהו גודלו וכיוונו של הכוח שמפעילה התקרה על החוט?

**10 דוגמה 10**

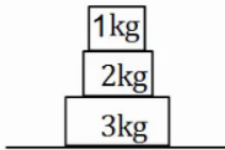
דני ויוסי מושכים בחבל משני צידיו, כל אחד מהם מושך בכוח של 50 ניוטון.  
 מהי המתיחות בחבל?

**11 דוגמה 11**

במערכת הבאה ישנה מסה של 3 ק"ג הנמצאת במנוחה על שולחן.  
 על המסה מונחת מסה נוספת של 2 ק"ג.  
 א. שרטט תרשים כוחות לכל אחת מהמסות.  
 ב. חשב את הכוח הנורמלי הפועל על המסה העליונה.  
 ג. חשב את הכוח הנורמלי הפועל על המסה התחתונה מהשולחן.  
 ד. חשב את הכוח הנורמלי הפועל על השולחן.

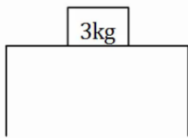
**12 דוגמה 12**

שלוש מסות מונחות אחת על גבי השנייה ועל הקרקע במנוחה, כפי שנראה בציר.



א. מהו גודלו וכיוונו של הכוח שמפעילה המסה הכי תחתונה על המסה מעליה?

ב. מהו גודלו וכיוונו של הכוח שמפעילה הרצפה על המסה הכי תחתונה?

**חיכוך:****13 גוף על שולחן**

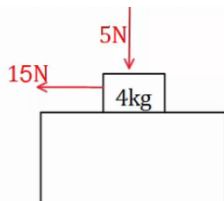
גוף בעל מסה של 3 ק"ג נמצא במנוחה על שולחן.

מקדם החיכוך הסטטי הוא  $\mu_s = 0.4$ .

א. מהו הכוח המקסימלי הניתן להפעיל על הגוף, כך שישאר במנוחה?

כוח אופקי בגודל 10 ניוטון פועל על הגוף ימינה.

ב. מצא את גודלו וכיוונו של החיכוך הסטטי.

**14 כוח מלמעלה**

גוף בעל מסה של 4 ק"ג נמצא במנוחה על שולחן.

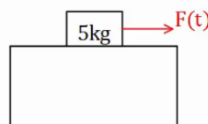
כוח אנכי בגודל של 5 ניוטון לוחץ את הגוף כלפי השולחן.

מקדם החיכוך הסטטי הוא:  $\mu_s = 0.4$ .

א. מהו הכוח המקסימלי הניתן להפעיל על הגוף, כך שישאר במנוחה?

כוח אופקי בגודל 15 ניוטון פועל על הגוף שמאלה.

ב. מצא את גודלו וכיוונו של החיכוך הסטטי.

**15 כוח תלוי בזמן**

גוף בעל מסה של 5 ק"ג נמצא במנוחה על שולחן.

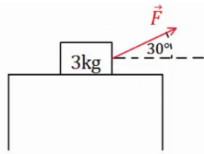
כוח אופקי התלוי בזמן  $F(t) = 2 \cdot t^2$  פועל על הגוף ימינה.

מקדם החיכוך הסטטי הוא:  $\mu_s = 0.3$ .

א. מהו הכוח המקסימלי הניתן להפעיל על הגוף, כך שישאר במנוחה?

ב. מתי יתחיל הגוף בתנועה?

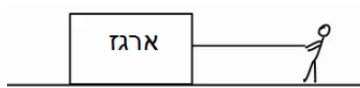
ג. שרטט גרף של החיכוך הסטטי כתלות בזמן.

**16) כוח בזווית**

גוף בעל מסה של 3 ק"ג נמצא במנוחה על שולחן.  
כוח קבוע פועל על הגוף בזווית של 30 מעלות עם הכיוון האופקי.  
מקדם החיכוך הסטטי הוא:  $\mu_s = 0.3$ .

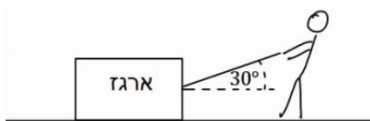
א. מהו הגודל המקסימלי של הכוח בשאלה אותו ניתן להפעיל כד שהגוף ישאר במנוחה?

ב. מצא את גודלו וכיוונו של החיכוך הסטטי אם גודל הכוח הוא 5 ניוטון.

**17) דני מושך במקביל לקרקע**

דני מושך ארגז במקביל לקרקע.  
ידוע כי מסת הארגז היא 20 ק"ג, ומקדם החיכוך הקינטי בין הארגז לקרקע הוא:  $\mu_k = 0.2$ .

מצא מהו גודלו של הכוח שמפעיל דני, אם הארגז נע במהירות קבועה.

**18) ירון מושך בזווית**

ירון מושך ארגז באמצעות חבל הנמתח בזווית של 30 מעלות ביחס לקרקע.  
ידוע כי מסת הארגז היא 20 ק"ג, ומקדם החיכוך הקינטי בין הארגז לקרקע הוא:  $\mu_k = 0.2$ .

מצא מהו גודלו של הכוח שמפעיל ירון, אם הארגז נע במהירות קבועה.

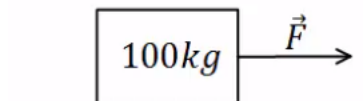
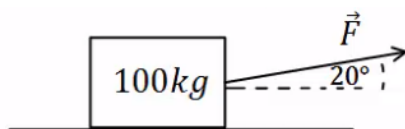
**19) כוח בכמה כיוונים**

מצא מה גודל הכוח הדרוש להזיז את הארגז במהירות קבועה בכל אחד מהמקרים הבאים.

מסת הארגז היא 100 ק"ג ומקדם החיכוך של הארגז עם הרצפה הוא:  $\mu_k = 0.4$ .

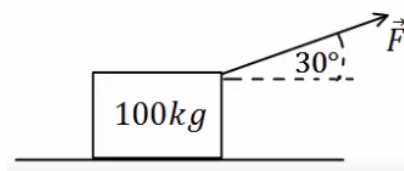
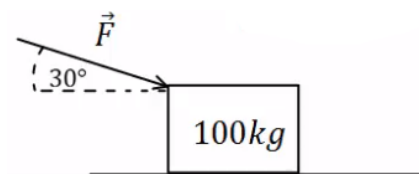
א. כוח מושך אופקי

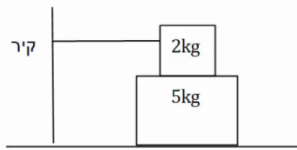
ב. כוח מושך בזווית של 20°



ג. כוח מושך בזווית של 30°

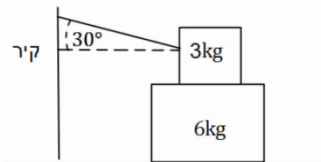
ד. כוח דוחף בזווית של 30° מתחת לאופק



**20) מסה על מסה קשורה לקיר**

מסה של 2 ק"ג מונחת מעל מסה של 5 ק"ג.  
המסה העליונה קשורה בחוט אופקי לקיר משמאל.  
מקדמי החיכוך בין המסות ובין המסה התחתונה  
למשטח הם:  $\mu_k = 0.2$ ,  $\mu_s = 0.3$ .

- מהו הכוח האופקי המקסימלי שניתן להפעיל על המסה התחתונה בכיוון ימין, כך שהיא תישאר במנוחה?
- מה המתוחות בחוט, אם הכוח הוא אותו כוח שחישבת בסעיף א'?
- מה הכוח אותו יש להפעיל על מנת למשוך את המסה התחתונה במהירות קבועה? הנח שהמסה כבר בתנועה.

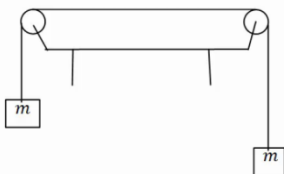
**21) מסה על מסה קשורה לקיר בזווית**

מסה של 3 ק"ג מונחת מעל מסה של 6 ק"ג.  
המסה העליונה קשורה בחוט המתוח בזווית של 30 מעלות ומחובר לקיר משמאל.  
מקדם החיכוך הסטטי בין המסות ובין המסה התחתונה למשטח הוא:  $\mu_s = 0.3$ .

- מהו הכוח האופקי המקסימלי שניתן להפעיל על המסה התחתונה בכיוון ימין, כך שהיא תישאר במנוחה?
- מהי המתוחות בחוט, אם גודל הכוח הינו זהה לערך אותו חישבת בסעיף א'?

**22) שתי משקולות תלויות על שולחן**

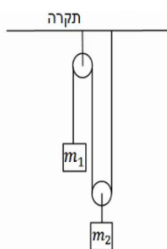
שתי משקולות זהות בעלות מסה של 4 ק"ג תלויות במנוחה משני צידיו של שולחן. המשקולות מחוברות באמצעות חוט העובר דרך גלגלות אידיאליות, ראה איור.



- מהי המתוחות בחוט?
- מהו הכוח (גודל וכיוון) שמפעיל המוט המחובר את הגלגלת לשולחן עבור כל גלגלת?
- האם היה שינוי בתשובתך לסעיפים הקודמים במידה והמסות היו נעות במהירות קבועה לאחד הכיוונים?

**23) יחס מסות**

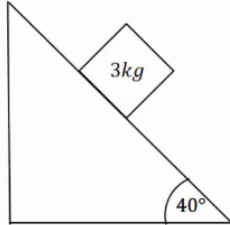
שתי מסות תלויות באמצעות חוטים וגלגלות אידיאלים לפי האיור הבא. המערכת נמצאת במנוחה.



- מצא את היחס בין המסות:  $\left(\frac{m_1}{m_2} = ?\right)$ .
- מצא את המתוחות בכל חוט במערכת, אם ידוע ש:  $m_2 = 40\text{gr}$ .

## המישור המשופע:

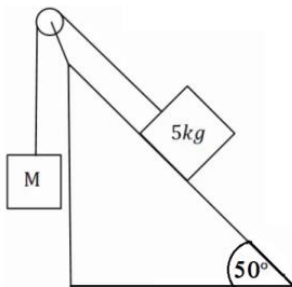
## 24) מסה בשיפוע



מסה של 3 ק"ג נמצאת במנוחה על מישור משופע בעל זווית של 40 מעלות. בין המסה למדרון קיים חיכוך, ומקדם החיכוך הסטטי הוא:  $\mu_s = 0.2$ .

א. שרטט תרשים כוחות לבעיה.  
 ב. מצא את גודלם של הכוח הנורמלי והחיכוך.

## 25) מסה בשיפוע ומסה באוויר

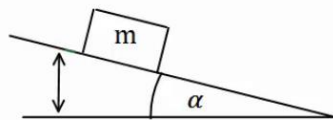


מסה של 5 ק"ג מונחת על מישור משופע בעל זווית של 50 מעלות. המסה מחוברת באמצעות חוט אידיאלי ודרך גלגלת אידיאלית למסה נוספת M התלויה באוויר מצידו השני של המישור.

א. מצא את גודלה של המסה M, על מנת שהמערכת תשאר במנוחה כאשר אין חיכוך בבעיה.  
 כעת נתון שבין המסה למדרון קיים חיכוך, ומקדם החיכוך הסטטי הוא:  $\mu_s = 0.3$ .

ב. מצא מה הוא גודלה המקסימלי והמינימלי האפשרי של M, על מנת שהמערכת תשאר במנוחה.

## 26) זווית החלקה

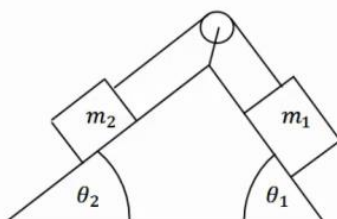


מסה m מונחת על מישור משופע ונמצאת במנוחה. מגדילים את זווית השיפוע של המישור בקצב איטי.

א. מצא את הזווית בה תתחיל המסה להחליק אם מקדם החיכוך הסטטי בין המסה למישור הוא:  $\mu_s = 0.2$ .  
 תרגול בפרמטרים.

- ב. פתור את סעיף א' שוב כאשר מקדם החיכוך נתון כפרמטר  $\mu_s$  ללא ערך מספרי.  
 ג. חשוב על דרך כללית למדידת מקדם החיכוך הסטטי של גוף עם משטח כלשהו.

## 27) שתי מסות שני שיפועים



במערכת הבאה ישנו מדרון עם שיפוע שונה משני צידיו, זוויות השיפוע הן  $\theta_1, \theta_2$ . שתי מסות שונות  $m_1, m_2$  מונחות בשני צידי המדרון. המסות מחוברות באמצעות חוט אידיאלי, ודרך גלגלת אידיאלית המקובעת למדרון. אין חיכוך בין המדרון למסות.

נתון:  $\theta_1, \theta_2, m_1$  וכי המערכת נמצאת במנוחה. מצא את  $m_2$ .

**28 שתי מסות שני שיפועים וחיכוך**

במערכת הבאה ישנו מדרון עם שיפוע שונה משני צידיו,

זוויות השיפוע הן:  $\theta_1, \theta_2$ .

שתי מסות שונות  $m_1, m_2$  מונחות בשני צידי המדרון.

המסות מחוברות באמצעות חוט אידיאלי,

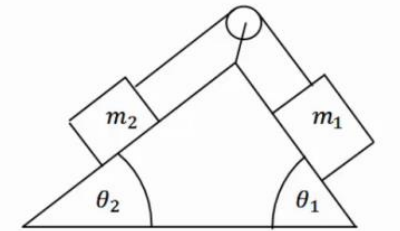
ודרך גלגלת אידיאלית המקובעת למדרון.

בין המסות למדרון קיים חיכוך.

המסות נעות במהירות קבועה עם כיוון השעון.

נתון:  $\mu_k, \theta_1, \theta_2, m_1$ .

מצא את  $m_2$ .



**תשובות סופיות:**

(1)  $\sum \vec{F} = (6.14, -2.04)$

(2)  $\sum \vec{F} = (-1.20, 0)$

(3)  $\sum F_x = -3.03N, \sum F_y = -3.47N$

(4) גודל:  $|\vec{F}| \approx 3.84N$ , כיוון:  $\theta_{F_3} = -3.14^\circ$ .

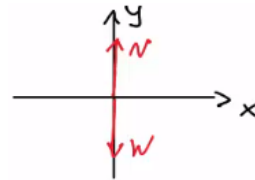
(5)  $T = 20N$

(6)  $T_1 = 21.96N, T_2 \approx 26.90N$

(7)  $T_1 \approx 26.30N, T_2 \approx 19.48N$

(8) א. גודל:  $N = 20$ , כיוון: כלפי מעלה.

ג. גודל:  $N = 20$ , כיוון: כלפי מטה.



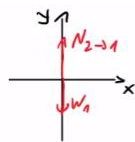
(9) א.  $T = 50N$  ג. גודל:  $T = 50N$ , כיוון: מטה.

ג. גודל:  $|\vec{F}| = 50$ , כיוון: מעלה.

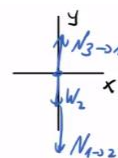
(10)  $T = 50N$

ג.  $N_{32} = 50$

ב.  $N_{21} = 20$



$m_1 \vec{a}$



$m_2 \vec{a}$

(11) א.

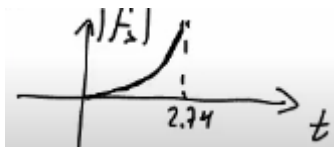
ד.  $N_{23} = 50N\hat{y}$

(12) א. גודל:  $N_{32} = 30N$ , כיוון: כלפי מעלה. ב. גודל:  $N_{43} = 60N$ , כיוון: כלפי מעלה.

(13) א.  $f_{s,max} = 12N$  ב.  $\vec{f}_s = -10\hat{x}$

(14) א.  $f_{s,max} = 18N$  ב.  $\vec{f}_s = -15\hat{x}_N$

(15) א.  $f_{s,max} = 15N$  ב.  $t = 2.74sec$  ג.



(16) א.  $F_{max} = 8.858N$  ב.  $f_s = 4.330N$

(17)  $F_{Dani} = T = 40N$

(18)  $T \approx 41.41N$

ז.  $F = 600.58N$

ג.  $F = 375.23N$

ב.  $F \approx 371.57N$

א.  $F = 400N$  (19)

$$F = 18\text{N} \quad \text{ג.} \quad T = 6\text{N} \quad \text{ב.} \quad F_{\max} = 27\text{N} \quad \text{א.} \quad (20)$$

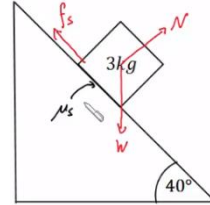
$$T = 8.86\text{N} \quad \text{ב.} \quad F_{\max} = 33.34\text{N} \quad \text{א.} \quad (21)$$

$$\theta = 45^\circ, F = 56.57\text{N} \quad \text{ב.} \quad T = 40\text{N} \quad \text{א.} \quad (22)$$

ג. לא.

$$T_2 = 0.4\text{N}, T_1 = 0.2\text{N} \quad \text{ב.} \quad \frac{m_1}{m_2} = \frac{1}{2} \quad \text{א.} \quad (23)$$

$$f_s = mg \cos 50^\circ \approx 19.28\text{N}, N \approx 22.98\text{N} \quad \text{ב.} \quad (24)$$



$$M_{\max} = 4.79\text{kg}, M_{\min} = 2.87\text{kg} \quad \text{ב.} \quad M = 3.83\text{kg} \quad \text{א.} \quad (25)$$

$$\alpha = \arctan(\mu_s) \quad \text{ב.} \quad \alpha = 11.31^\circ \quad \text{א.} \quad (26)$$

ג. ראה סרטון.

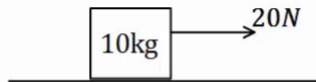
$$m_2 = m_1 \frac{\sin \theta_1}{\sin \theta_2} \quad (27)$$

$$m_2 = m_1 \left( \frac{-\mu_k \cos \theta_1 + \sin \theta_1}{\sin \theta_2 + \mu_k \cos \theta_2} \right) \quad (28)$$

## חוק שני של ניוטון:

### שאלות:

#### (1) דוגמה 1



כוח של 20 ניוטון מופעל על ארגז בעל מסה של 10 ק"ג.

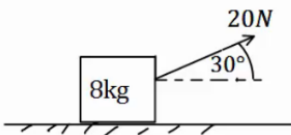
אין חיכוך בין הארגז לרצפה.

א. מצא את תאוצת הארגז.

ב. כמה זמן ייקח להזיז את הארגז למרחק של 30 מטרים באמצעות כוח זה,

אם נתון שהארגז התחיל תנועתו ממנוחה?

#### (2) דוגמה 2



כוח של 20 ניוטון פועל בזווית של 30 מעלות מעל האופק.

הכוח מופעל על ארגז בעל מסה של 8 ק"ג.

הארגז נמצא במנוחה ונתון כי בין הארגז לרצפה

קיים חיכוך.

מקדמי החיכוך הסטטי והקינטי הם:  $\mu_s = 0.2, \mu_k = 0.1$ .

א. בדוק האם הארגז נשאר במנוחה או מתחיל לנוע.

ב. כמה זמן ייקח להזיז את הארגז למרחק של 30 מטרים באמצעות כוח זה?

ג. חזור על הסעיפים אם הכוח היה בזווית של 70 מעלות.

#### (3) מרחק עצירה

דני נוסע במכוניתו במהירות של 54 קמ"ש, ולפתע הוא מבחין כי רמזור

הנמצא 50 מטרים לפניו הופך לאדום. דני לוחץ על הבלמים ומתחיל בעצירה.

מקדם החיכוך הקינטי בין הגלגלים לרצפה הוא:  $\mu_k = 0.3$ .

הנח שהגלגלים ננעלים ואין למכונית מערכת ABS.

א. האם דני יספיק לעצור לפני הרמזור?

ב. בדוק שוב האם דני יספיק לעצור, אך הפעם הוסף זמן תגובה של שנייה

אחת (הזמן מהרגע שבו דני מבחין באור עד אשר הוא לוחץ על הבלמים).

#### (4) כוח קבוע נפסק בפתאומיות

מסה של 2 ק"ג נמצאת במנוחה על משטח אופקי.

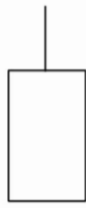
ברגע  $t = 0$  מתחיל לפעול על המסה כוח אופקי של 10N.

המסה מתחילה לנוע בהשפעת הכוח במשך 4 שניות, ואז נפסק הכוח בפתאומיות.

מקדם החיכוך הקינטי בין המסה לקרקע הוא:  $\mu_k = 0.2$ .

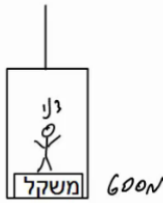
א. מה המרחק אותו עבר הגוף עד ל-  $t = 4\text{sec}$ ?

ב. מהו המרחק הכולל אותו עבר הגוף עד לעצירתו שוב?

**(5) כוחות על מעלית**

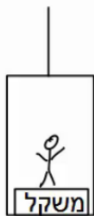
מעלית עולה בתאוצה של 0.5 מטרים לשנייה בריבוע, באמצעות כבל הקשור לתקרתה. מסת המעלית היא 600 ק"ג.

- שרטט תרשים כוחות על המעלית.
- הקפד על הגודל היחסי של כל וקטור בשרטוט.
- שרטט את שקול הכוחות ואת וקטור התאוצה.
- מהי המתוחות בכבל?

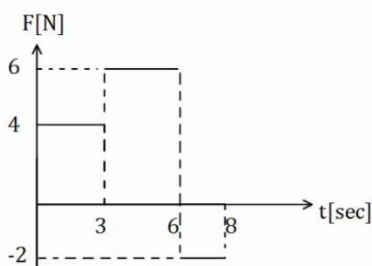
**(6) משקל במעלית**

דני מודד את משקלו בתוך מעלית. משקלו כאשר המעלית במנוחה הוא 600 ניוטון.

- מהי מסתו של דני?
- מה יראה המשקל אם המעלית יורדת במהירות קבועה של 3 מטרים לשנייה?
- מה יראה המשקל אם המעלית עולה בתאוצה של 3 מטר לשנייה בריבוע?
- מה יראה המשקל אם המעלית יורדת בתאוצה של 3 מטר לשנייה בריבוע?
- מה יראה המשקל אם המעלית נופלת נפילה חופשית?

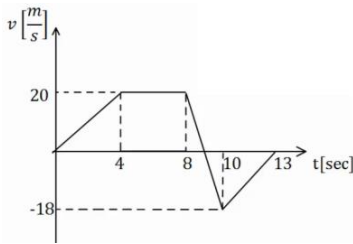
**(7) עוד משקל במעלית**

יוסי נמצא במעלית ומודד את מסתו באמצעות משקל. יוסי מודד פעם אחת כאשר המעלית נמצאת בתאוצה כלפי מעלה של 3 מטרים לשנייה בריבוע, ופעם אחת כאשר המעלית נמצאת בתאוצה כלפי מטה של 1 מטר לשנייה בריבוע. ההפרש בין המדידות הוא 12 ק"ג. מהי מסתו האמיתית של יוסי?

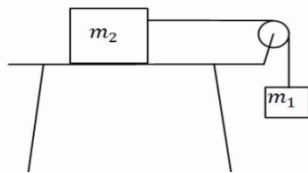
**(8) גרפים 1**

בגרף הבא נתון הכוח הפועל על גוף כתלות בזמן.

- מצא את תאוצת הגוף כתלות בזמן אם מסת הגוף היא 5 ק"ג.
- מצא את מהירות הגוף כתלות בזמן אם מהירותו ההתחלתית היא:  $v_0 = 0$ .
- מצא את מיקום הגוף כתלות בזמן אם המיקום ההתחלתי הוא:  $x_0 = 0$ .

**9) גרפים 2**

גוף בעל מסה של 3 ק"ג נע לאורך קו ישר. מהירות הגוף כתלות בזמן נתונה לפי הגרף הבא. מצא את שקול הכוחות הפועל על הגוף בכל רגע, ושרטט גרף של השקול כתלות בזמן.

**10) מסה על שולחן מחוברת למסה תלויה**

במערכת הבאה המסה  $m_2 = 5\text{kg}$  נמצאת על שולחן אופקי ומחוברת דרך חוט אידיאלי למסה התלויה באוויר  $m_1$ . בין השולחן ל- $m_2$  קיים חיכוך ומקדמי החיכוך הם:  $\mu_s = 0.3$ ,  $\mu_k = 0.2$ .

המערכת מתחילה ממנוחה וגובה המסה  $m_1$  מעל הקרקע הוא:  $3\text{m}$ .

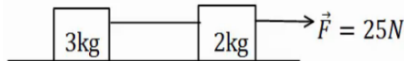
א. מצא את גודלה המינימלי של  $m_1$ , עבורה המערכת תהיה בתנועה.

ב. הנח שגודלה של  $m_1$  כפול מזה שחישבת בסעיף הקודם.

מהן תאוצות המסות?

ג. כמה זמן ייקח למסה להגיע אל הקרקע?

ד. מהן מהירויות המסות ברגע זה?

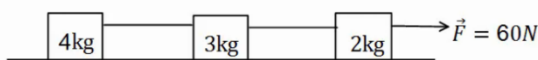
**11) כוח מושך מסה שמושכת מסה**

מסה של 2 ק"ג נמצאת במנוחה על משטח אופקי. המסה מחוברת באמצעות חוט אידיאלי למסה נוספת של 3 ק"ג הנמצאת במנוחה על המשטח גם כן. כוח אופקי של 25 ניוטון מושך את המסה הראשונה כלפי ימין.

א. מצא את תאוצות המסות ואת המתיחות בחוט אם המשטח חלק (חסר חיכוך).

ב. חזור על סעיף א' במידה וקיים חיכוך בין המסות למשטח, ומקדם החיכוך

הקינטי הוא:  $\mu_k = 0.2$ .

**12) כוח מושך מסה שמושכת מסה שמושכת מסה**

מסה של 2 ק"ג נמצאת במנוחה על משטח אופקי. המסה מחוברת באמצעות

חוט אידיאלי למסה נוספת של 3 ק"ג הנמצאת במנוחה על המשטח גם כן.

המסה השנייה מחוברת למסה של 4 ק"ג בצורה דומה.

כוח אופקי של 60 ניוטון מושך את המסה הראשונה כלפי ימין.

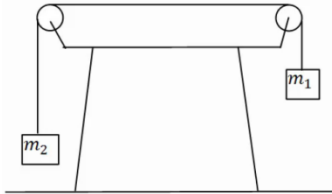
א. מצא את תאוצות המסות ואת המתיחות בחוטים אם המשטח חלק (חסר חיכוך).

ב. חזור על סעיף א' במידה וקיים חיכוך בין המסות למשטח ומקדם

החיכוך הקינטי הוא:  $\mu_k = 0.2$ .

**13 שתי מסות תלויות**

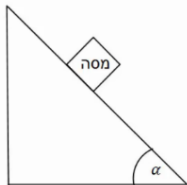
במערכת הבאה שתי מסות שונות:  $m_1 = 3\text{kg}$ ,  $m_2 = 1\text{kg}$ .  
 המסות מחוברות באמצעות חוט אידיאלי ודרך גלגלות אידיאליות.  
 המערכת מתחילה ממנוחה וגובה המסה  $m_1$  מעל הקרקע הוא:  $2m$ .



- שרטט תרשים כוחות עבור כל מסה.
- חשב את תאוצת הגופים.
- לאיזה כיוון תתחיל המערכת לנוע?
- כמה זמן ייקח למסה להגיע אל הקרקע?
- מהי מהירות המסות ברגע זה?

**14 מדרון משופע בסיסי**

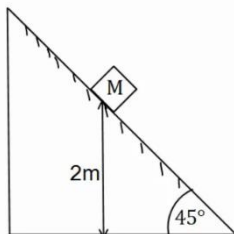
מסה מונחת על מדרון משופע בעל זווית  $\alpha$ .  
 אין חיכוך בין המסה למדרון.



- שרטט תרשים כוחות על המסה.
- בטא את תאוצת המסה באמצעות הזווית.
- רשום משוואת מיקום-זמן ומהירות-זמן של המסה.

**15 מדרון משופע עם חיכוך**

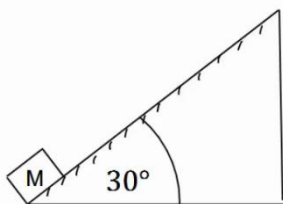
מסה  $M$  מונחת על מדרון משופע בגובה של  $2$  מטרים.  
 זווית השיפוע של המדרון היא  $45^\circ$  מעלות ומקדמי החיכוך  
 הסטטי והקינטי בין המסה למדרון הם:  $\mu_s = 0.2$ ,  $\mu_k = 0.1$ .



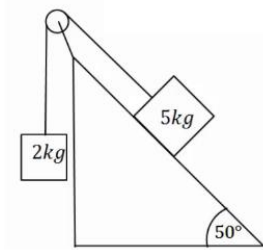
- האם המסה תתחיל להחליק או תישאר במנוחה?
- מצא תוך כמה זמן תגיע המסה לתחתית המדרון.  
 מהי מהירותה ברגע זה?

**16 מסה נזרקת במעלה המדרון**

מסה  $M$  נזרקת במעלה מדרון משופע במהירות התחלתית של:  $v_0 = 20 \frac{\text{m}}{\text{sec}}$ .  
 זווית המדרון היא  $30^\circ$  מעלות. מקדמי החיכוך הסטטי והקינטי בין המסה  
 למדרון הם:  $\mu_s = 0.25$ ,  $\mu_k = 0.2$ .

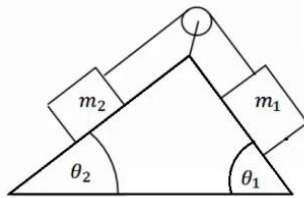


- מצא את תאוצת המסה.
- רשום משוואת מיקום-זמן עבור תנועת המסה.
- מתי מגיעה המסה לשיא גובה תנועתה על המדרון?
- האם המסה תיעצר בשיא הגובה?
- כמה זמן ייקח למסה לחזור לתחתית המדרון  
 מהרגע שבו התחילה תנועתה?

**17) מסה בשיפוע ומסה תלויה**

מסה של 5 ק"ג מונחת על מדרון משופע בעל זווית שיפוע של 50 מעלות. המסה מחוברת דרך חוט אידיאלי למסה של 2 ק"ג התלויה באוויר. אין חיכוך בין המסה למדרון.  
א. לאיזה כיוון תנוע המערכת?  
ב. מצא את תאוצת המערכת.

כעת הנח שקיים חיכוך ומקדמי החיכוך הם:  $\mu_s = 0.25$ ,  $\mu_k = 0.2$ .  
ג. לאיזה כיוון יפעל החיכוך? האם החיכוך סטטי או קינטי?  
ד. מצא שוב את תאוצת המערכת.

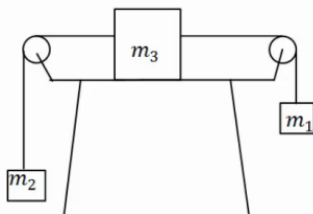
**18) שתי מסות שני שיפועים 2**

במערכת הבאה ישנו מדרון עם שיפוע שונה משני צידיו, זוויות השיפוע הן:  $\theta_1$ ,  $\theta_2$ .

שתי מסות שונות  $m_1$ ,  $m_2$  מונחות בשני צידי המדרון. המסות מחוברות באמצעות חוט אידיאלי ודרך גלגלת אידיאלית המקובעת למדרון. אין חיכוך בין המסות למדרון.  
נתון:  $\theta_1 = 45^\circ$ ,  $\theta_2 = 30^\circ$ ,  $m_1 = 2\text{kg}$ ,  $m_2 = 4\text{kg}$ .

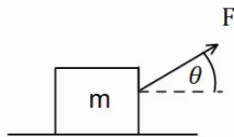
א. לאיזה כיוון תנוע המערכת?  
ב. מצא את תאוצת המערכת.

כעת הנח שקיים חיכוך ומקדמי החיכוך הם:  $\mu_s = 0.25$ ,  $\mu_k = 0.2$ .  
ג. לאיזה כיוון יפעל החיכוך והאם החיכוך סטטי או קינטי?  
ד. מצא שוב את תאוצת המערכת.

**19) מסה על שולחן ושתי מסות תלויות**

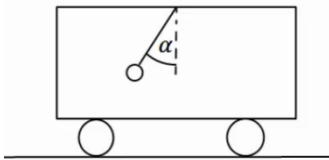
מסה  $m_3$  מונחת על שולחן במנוחה. המסה קשורה משני צידיה לחוטים אידיאליים. כל חוט עובר דרך גלגלת ומחובר למסה שונה התלויה באוויר (ראה איור). הנח שהמסות לא פוגעות ברצפה.  
נתון:  $m_1 = 14\text{kg}$ ,  $m_2 = 2\text{kg}$ ,  $m_3 = 4\text{kg}$ .

א. מצא את תאוצות המסות והמתיחות בחוטים אם אין חיכוך בין  $m_3$  לשולחן.  
כעת הנח שיש חיכוך בין  $m_3$  לשולחן ומקדמי החיכוך הם:  $\mu_s = 0.25$ ,  $\mu_k = 0.2$ .  
ב. האם המערכת תהיה במנוחה או בתנועה?  
ג. מצא שוב את תאוצת הגופים והמתיחות בחוטים.

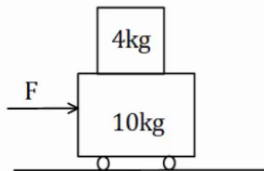
**20) זווית אופטימלית למשיכה**

כוח  $F$  מושך ארגז בעל מסה  $m$  בזווית  $\theta$  מעל האופק. מקדם החיכוך בין הארגז לקרקע הוא  $\mu_k$ .

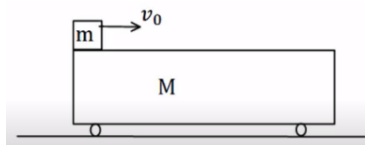
- מצא את תאוצת הכוח כתלות בפרמטרים הרשומים בשאלה. (הנח כי יש תנועה והארגז לא מתרומם מעל הקרקע).
- הנח כי מקדם החיכוך הקינטי הוא 0.3. בדוק באילו מהערכים הבאים של הזווית יש את התאוצה הגבוהה ביותר:  $\theta = -10^\circ, 0^\circ, 10^\circ, 20^\circ, 30^\circ, 45^\circ$ .
- מצא את הזווית המדויקת בה התאוצה תהיה מקסימלית. השתמש בנגזרת.

**21) מטוטלת במכונית**

- מטוטלת קשורה לתקרת מכונית. המטוטלת נמצאת בזווית קבועה ונתונה  $\alpha$ , ביחס לאנך מתקרת המכונית.
- מצא מהי תאוצת המכונית (גודל וכיוון).
  - האם ניתן לדעת מה כיוון תנועת המכונית?

**22) מסה של 4 על עגלה של 10**

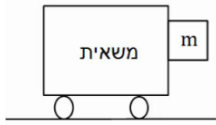
- מסה של 4 ק"ג מונחת מעל עגלה בעלת מסה של 10 ק"ג. החיכוך בין העגלה למשטח זניח. מקדם החיכוך הסטטי בין המסה לעגלה הוא:  $\mu_s = 0.2$ . כוח אופקי  $F$  מופעל על המסה התחתונה ימינה. מהו הכוח המקסימלי הניתן להפעיל כך שהמסה העליונה לא תחליק על העגלה.

**23) מסה מחליקה על עגלה**

- מסה  $m$  מונחת מעל עגלה בעלת מסה  $M$  הנמצאת במנוחה. המסה מונחת בקצה השמאלי של העגלה. נותנים למסה העליונה בלבד מהירות התחלתית  $v_0$ . בין המסה לגג העגלה קיים חיכוך והחיכוך בין העגלה למשטח זניח.

נתון:  $\mu_k = 0.2$ ,  $v_0 = 20 \frac{m}{sec}$ ,  $M = 12kg$ ,  $m = 3kg$ .

- מצא את הביטוי למיקום ולמהירות של המסה כתלות בזמן.
- מצא את הביטוי למיקום והמהירות של העגלה כתלות בזמן.
- מהי המהירות הסופית של שני הגופים בהנחה שהמסה לא נופלת מהעגלה?

**24) מסה צמודה למשאית**

מסה  $m$  מונחת בצמוד לחלקה הקדמי של משאית. בין המסה למשטח קיים חיכוך. נתון:  $\mu_s, m$ . מהי התאוצה המינימלית הדרושה למשאית על מנת שהמסה לא תיפול?

**25) כוח דוחף שתי קופסאות צמודות**

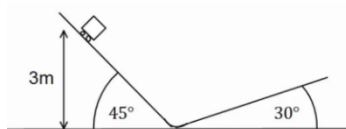
שתי תיבות נמצאות צמודות זו לזו על משטח אופקי חסר חיכוך. מסות התיבות הן:  $m_1 = 3\text{ kg}$  ו-  $m_2 = 5\text{ kg}$ . כוח אופקי דוחף את תיבה 2 שדוחפת את תיבה אחת כפי שמתואר בתרשים. גודל הכוח הוא:  $F = 16\text{ N}$ . חשב את:



- התאוצה של כל תיבה.
- הכוח הנורמלי  $N_{1 \rightarrow 2}$  שבו התיבה הראשונה דוחפת את השנייה.
- הכוח הנורמלי  $N_{2 \rightarrow 1}$  שבו התיבה השנייה דוחפת את הראשונה.

**26) קופסה בין מדרונות**

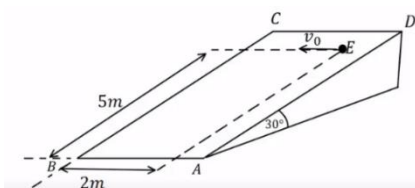
קופסה קטנה עם גלגלים מונחת על מישור משופע בעל זווית של  $45^\circ$  מעלות. הקופסה משוחררת ממנוחה מגובה של  $3\text{ m}$  מטרים ומתחילה בתנועה. בתחתית המדרון הקופסה עוברת למדרון משופע אחר בעל זווית של  $30^\circ$  מעלות. הזנח אפקטים המתרחשים בעת המעבר והנח כי גודל מהירות הקופסה במעבר בין המדרונות נשאר זהה.



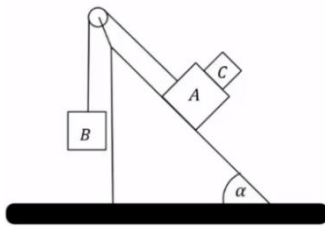
- מהו הגובה המקסימלי אליו תגיע הקופסה במדרון השני? נחש מה יקרה לאחר מכן.
- חזור על סעיף א' אם נהג הקופסה שכח לשחרר את מעצור היד של הגלגלים וקיים חיכוך קינטי בין הקופסה למשטח. מקדם החיכוך הוא:  $\mu_k = 0.2$ .

**27) זריקה אופקית על מישור משופע**

מישור משופע חלק ABCD יוצר זווית של  $30^\circ$  מעלות עם הקרקע. הנקודה E נמצאת במרחק  $5\text{ m}$  מהצלע AB ובמרחק  $2\text{ m}$  מהצלע BC. מן הנקודה E נזרק כדור קטן על הלוח במהירות התחלתית  $v_0$  שכיוונה מקביל לצלע AB.

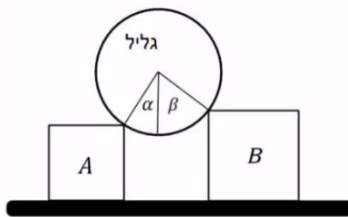


- צייר מערכת צירים ורשום את הכוחות הפועלים על הכדור בעת תנועתו על הלוח בכל ציר.
- מהי צורת המסלול של הכדור על הלוח?
- מצא את  $v_0$  עבורה הכדור יגיע בדיוק לנקודה B.
- מהי מהירות הכדור בנקודה B עבור ה-  $v_0$  שמצאת בסעיף ג'.

**28) גוף על גוף במישור משופע**

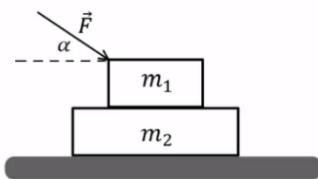
גוף A בעל מסה  $m_A$  וגוף B בעל מסה  $m_B$  מחוברים באמצעות חוט וגלגלת כמתואר באיור. גוף A מונח על מישור משופע חלק בעל זווית  $\alpha$ . גוף C בעל מסה  $m_C$  מונח על גוף A. מקדם החיכוך הסטטי בין הגופים ל-C הוא  $\mu_s$ . הבא את התשובות באמצעות:  $m_A, m_C, \alpha, \mu_s$ .

- מהי המסה המרבית של גוף B כך שגוף C וגוף A ינועו יחדיו במעלה המישור?
- מהי תאוצת הגופים והמתיחות בחוט אם המסה של גוף B היא זאת שמצאת בסעיף א' (או טיפה קטנה ממנה)?
- מהן תאוצות הגופים אם המסה של גוף B גדולה מזו שמצאת בסעיף א' ומקדם החיכוך הקינטי הוא  $\mu_k$ ?

**29) גליל על שני ארגזים**

גליל אחיד שמסתו  $m$  מונח על שני ארגזים שמסותיהם:  $m_A = m$  ו-  $m_B = 2m$ . לארגזים גבהים שונים והם מונחים על משטח אופקי. בין הגליל לארגזים אין חיכוך. כשהמערכת נמצאת בשיווי משקל יוצרים רדיוסי הגליל הנוגעים בפנינות הארגזים זוויות של  $\alpha = 30^\circ$  ו-  $\beta = 45^\circ$  עם האנך לקרקע, ראה איור. נתונים:  $g, m$ .

- מה הכוח שמפעיל כל ארגז על הגליל?
- בהנחה שקיים אותו מקדם חיכוך בין הארגזים והמשטח, מהו גודלו המינימלי של מקדם החיכוך כך שהמערכת תישאר בשיווי משקל?

**30) כוח דוחף גוף על גוף**

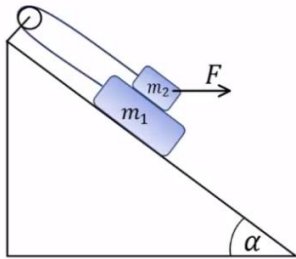
שני גופים זהים שמסותיהם:  $m_1 = m_2 = m$  מונחים זה על גבי זה על גבי שולחן אופקי חלק (ראה איור). בין הגופים קיים חיכוך ומקדמי החיכוך הקינטי והסטטי הם:  $\mu_s, \mu_k$ . כוח חיצוני  $\vec{F}$  מופעל על הגוף העליון בזווית  $\alpha$  מתחת לאופק. הביעו את תשובתכם באמצעות הפרמטרים:  $F, \alpha, m, g, \mu_s, \mu_k$ .

- בהנחה שהגופים נעים יחדיו מהי התאוצה המשותפת?
- בהנחה שהגופים נעים יחדיו מהו גודלו של כוח החיכוך בין הגופים?
- מהו גודלו המקסימלי של  $\vec{F}$  כך שהגופים ינועו יחדיו?
- נתון כי:  $\mu_s = 0.2, \mu_k = 0.15, \alpha = 30^\circ$ .

מצא את תאוצת כל גוף כאשר הכוח הדוחף הוא:  $F = \frac{1}{2}mg$ .

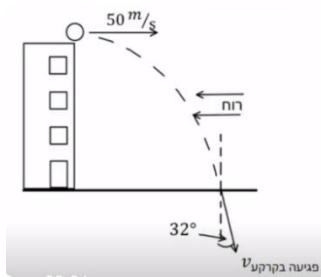
ה. חזור על סעיף ד' כאשר:  $F = 3mg$ .

### 31) מסה על מסה מחוברות בגלגלת



- נתונה מערכת הכוללת שני גופים:  $m_1 = 4\text{kg}$ ,  $m_2 = 3\text{kg}$ .  
 הגופים קשורים על ידי חוט וגלגלת אידאלית ומונחים על מישור משופע בעל זווית  $\alpha = 30^\circ$ .  
 מקדמי החיכוך בין הגופים הם:  $\mu_k = \mu_s = 0.4$ .  
 מקדמי החיכוך עם המישור הם:  $\mu_k = \mu_s = 0.3$ .  
 כוח אופקי  $F$  פועל על  $m_2$ .

- א. מהו  $F$  המקסימלי כך שהגופים יישארו במנוחה?  
 ב. אם  $F = 40\text{N}$  מהי תאוצת הגופים?

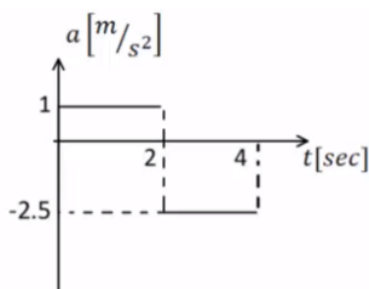


### 32) זריקה אופקית בהשפעת רוח\*

- כדור נזרק מגג בניין גבוה מאוד שגובהו 80 מטרים. הכדור נזרק אופקית במהירות של 50 מטר לשנייה. 2 שניות לאחר הזריקה מתחילה לנשוב רוח שמפעילה כוח  $F$  קבוע ואופקי בכיוון המנוגד למהירות ההתחלתית. מסת הכדור היא 500 גרם.

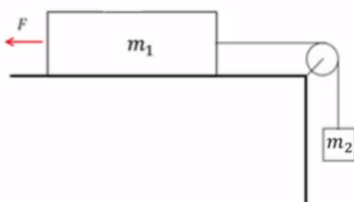
א. ענה:

- i. האם הרוח משפיעה על הזמן שלוקח לכדור להגיע לקרקע?  
 ii. האם הרוח משפיעה על מהירות הפגיעה של הכדור בקרקע?  
 ב. נתון שהחבילה פוגעת בקרקע בזווית של 32 מעלות עם האנך לקרקע.  
 i. חשב את גודלו של הכוח  $F$ .  
 ii. שרטט גרפים של רכיבי המהירות כתלות בזמן עד לפגיעה בקרקע.  
 ג. מהי הסטייה של הכדור בפגיעתו בקרקע בעקבות הרוח?



### 33) מסה על שולחן מחוברת למסה תלויה וכוח\*

- המערכת שמתוארת בתרשים משוחררת ממנוחה ונעה ימינה. הזנח את מסת החוט ואת כל כוחות החיכוך. כעבור 2 שניות נקרע החוט והכוח  $F$  ממשיך לפעול. נתון:  $m_1 = 3\text{kg}$ ,  $F = 15\text{N}$ .  
 הגרף באיור מתאר את התאוצה של  $m_1$  כפונקציה של הזמן עבור 4 השניות הראשונות של התנועה. הכיוון החיובי הוא ימינה.



- א. עבור 2 השניות הראשונות של התנועה:  
 i. שרטט את הכוחות הפועלים על כל גוף.  
 ii. רשום את המיקום כתלות בזמן של  $m_1$ .  
 iii. חשב את  $m_2$  ואת המתיחות בחוט.

- ב. האם  $m_1$  שינתה את כיוון תנועתה במהלך 4 השניות הראשונות?  
 נמק אם כן או לא. במידה וכן מצא את הזמן והמרחק בו התרחש השינוי.  
 ג. שרטט את המהירות כתלות בזמן עבור  $m_1$  ב-4 השניות של התנועה.  
 ד. אם המשטח לא היה חלק, מהו מקדם החיכוך הסטטי המינימלי עבורו המערכת הייתה נשארת במנוחה?

### 34) חבילת סיוע לצוות רפואי



מסוק נשלח להטיל מהאוויר חבילה המכילה ציוד חיוני לצוות רפואי שנמצא על הקרקע. מסת החבילה 15 ק"ג ובעת הטלתה המסוק

$$v_0 = 198 \frac{\text{km}}{\text{hr}}$$

טס אופקית במהירות: בגובה 90 מטר מעל הקרקע. 2 שניות אחרי תחילת נפילתה של החבילה החלה לנשוב רוח

שהפעילה על החבילה כוח אופקי  $F$  קבוע בכיוון המנוגד ל- $v_0$ . התייחסו לחבילה כאל גוף נקודתי.

הניחו כי פרט לכוח  $F$  האוויר אינו מפעיל שום כוח נוסף.

א. האם הרוח (המתבטאת כאן בכוח  $F$  קבוע שהחל לפעול 2 שניות לאחר תחילת התנועה) משפיעה על ערכם של:

i. הזמן שלקח לחבילה להגיע לקרקע? נמק.

ii. מהירות הפגיעה של החבילה בקרקע? נמק.

ב. חשבו את הכוח  $F$  אם נתון שהחבילה פגעה בקרקע בזווית 45 מעלות ממישור הקרקע האופקי.

ג. שרטטו במערכת צירים משותפת גרף מהירות-זמן של שני רכיבי מהירות החבילה  $v_x$  ו- $v_y$  מרגע השחרור ועד הפגיעה בקרקע.

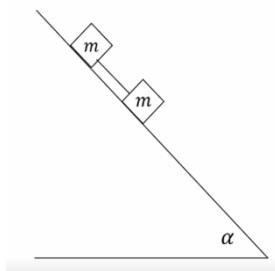
ד. בכמה מטרים הייתה מוסטת נקודת הפגיעה של החבילה בקרקע אילו לא נשבה רוח במהלך תנועתה?

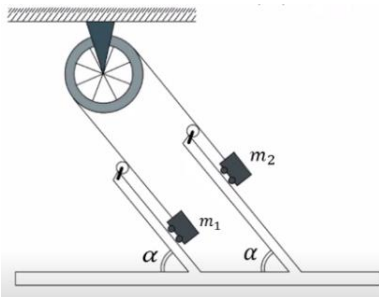
### 35) שתי מסות מחוברות בחוט על מישור משופע

שני גופים בעלי מסה זהה  $m$  קשורים בחוט ונמצאים על מדרון משופע לא חלק בעל זווית  $\alpha$ .

משחררים את הגופים ממנוחה והם מתחילים להחליק במורד המדרון. מקדם החיכוך הקינטי בין שני הגופים למשטח הוא  $\mu_k$ .

מצאו את המתיחות בחוט במהלך התנועה.



**36 מכונת אטווד משופעת**

תלמידים בנו מכונת אטווד "משופעת".

שתי העגלות נעות ללא חיכוך על לוחות משופעים כשהן קשורות בחוט שעובר דרך גלגלת שמסטה זניחה. זווית השיפוע  $\alpha$  ניתנת לשינוי.

מסות הגופים הן:  $m_1 = 3\text{kg}$ ,  $m_2 = 6\text{kg}$ .

בטאו תשובותיכם בסעיפים א', ב', ג' באמצעות  $\alpha$ .

א. תלמידה מחזיקה את העגלה  $m_2$  כך שלא תזוז.

מהי המתיחות בחוט?

ב. התלמידה משחררת את המסה  $m_2$ .

מהי תאוצת הגופים ומהי המתיחות בחוט כעת?

ג. החוט יכול לשאת עומס מקסימאלי של 25N.

מהו הערך המירבי של  $\alpha$  עבורו החוט לא ייקרע?

ד. בהנחה כי כעת מחובר חוט היכול לעמוד במתיחות גדולות מאוד,

מהי הזווית  $\alpha$  עבורה תאוצת הגופים היא מקסימאלית?

ה. מדוע הגדלה נוספת של הזווית מעבר לזווית שמצאתם בסעיף ד', לא

תמשיך ותגדיל את תאוצת הגופים ולא את המתיחות בחוט?

הניחו בסעיפים ד' ו-ה כי המרחק בין הלוחות גם הוא גדול מאוד ביחס לאורך החוט.

## תשובות סופיות:

$$a_x = 2 \frac{m}{\text{sec}^2} \quad \text{א.} \quad t = \sqrt{30} \text{ sec} \quad \text{ב.} \quad (1)$$

$$t \approx 6.82 \text{ sec} \quad \text{ב.} \quad \text{א. הגוף לא יכול להיות במנוחה.} \quad (2)$$


ג. סעיף א': נשאר במנוחה, סעיף ב': אין משמעות.

$$\Delta x \approx 37.5 \text{ m} < 50 \text{ m} \quad \text{א. כן, כי} \quad (3)$$

$$\Delta x = 52.5 \text{ m} > 50 \text{ m} \quad \text{ב. לא, כי}$$

$$x(t=4) = 24 \text{ m} \quad \text{א.} \quad x_F = 60 \text{ m} \quad \text{ב.} \quad (4)$$

$$T = 6300 \text{ N} \quad \text{ג.} \quad (5)$$



$$m_{\text{Dani}} = 60 \text{ kg} \quad \text{א.} \quad m_{\text{Dani}} = 78 \text{ kg} \quad \text{ג.} \quad (6)$$

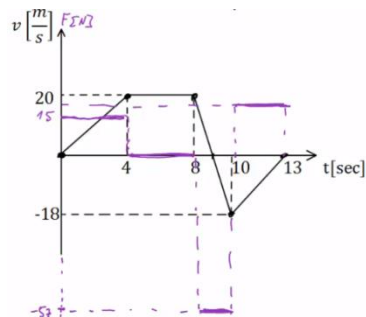
$$m_{\text{Dani}} = 42 \text{ kg} \quad \text{ד.} \quad \text{ה. } 0$$

$$m_{\text{Yossi}} = 30 \text{ kg} \quad (7)$$

$$v(t) = \begin{cases} \frac{4}{5}t & 0 \leq t \leq 3 \\ \frac{12}{5} + \frac{6}{5}(t-3) & 3 \leq t \leq 6 \\ 6 - \frac{2}{5}(t-6) & 6 \leq t \leq 8 \end{cases} \quad \text{ב.} \quad a = \begin{cases} \frac{4}{5} \frac{m}{\text{sec}^2} & 0 < t < 3 \\ \frac{6}{5} \frac{m}{\text{sec}^2} & 3 < t < 6 \\ -\frac{2}{5} & 6 < t < 8 \end{cases} \quad \text{א.} \quad (8)$$

$$x(t) = \begin{cases} \frac{2}{5}t^2 & 0 \leq t \leq 3 \\ \frac{18}{5} + \frac{12}{5}(t-3) + \frac{1}{2} \cdot \frac{6}{5}(t-3)^2 & 3 \leq t \leq 6 \\ \frac{81}{5} + 6(t-6) + \frac{1}{2} \left(-\frac{2}{5}\right)(t-6)^2 & 6 \leq t \leq 8 \end{cases} \quad \text{ג.}$$

$$\sum F = 18 \text{ N}, \quad \text{גרף:} \quad (9)$$



(10) א.  $m_{\min} = 1.5\text{kg}$     ב.  $a = 2.5 \frac{\text{m}}{\text{sec}^2}$     ג.  $t \approx 1.55\text{sec}$

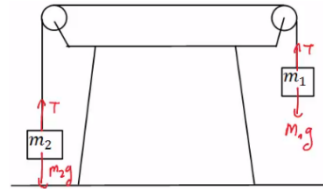
ד.  $v_1(t=1.55) \approx 3.87 \frac{\text{m}}{\text{sec}} \hat{y}$ ,  $v_2(t=1.55) \approx 3.87 \frac{\text{m}}{\text{sec}} \hat{x}$

(11) א. תאוצה:  $a = 5 \frac{\text{m}}{\text{sec}^2}$ , מתיחות:  $T = 15\text{N}$     ב. תאוצה:  $a = 3 \frac{\text{m}}{\text{sec}^2}$ , מתיחות:  $T = 15\text{N}$

(12) א. תאוצה:  $a \approx 6.67 \frac{\text{m}}{\text{sec}^2}$ , מתיחות:  $T = 46.68\text{N}$

ב. תאוצה:  $a \approx 4.67 \frac{\text{m}}{\text{sec}^2}$

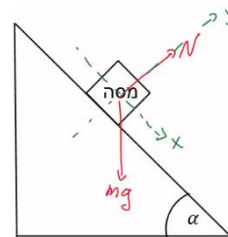
(13) א.    ב.  $a = 5 \frac{\text{m}}{\text{sec}^2}$     ג.  $m_1$  תרד כלפי מטה.



ד.  $t = \sqrt{\frac{4}{5}} \text{sec}$     ה.  $v(t=0.89) \approx 4.47 \frac{\text{m}}{\text{sec}}$

(14) א.    ב.  $a_x = g \sin \alpha$     ג. מיקום-זמן:  $x(t) = \frac{1}{2} g \sin \alpha \cdot t^2$

מהירות-זמן:  $v(t) = g \sin \alpha \cdot t$



(15) א. תתחיל להחליק.    ב. הזמן:  $t \approx 0.94\text{sec}$ , המהירות:  $v(t=0.94) \approx 6 \frac{\text{m}}{\text{sec}}$

(16) א.  $a = -g(\mu_k \cos 30^\circ + \sin 30^\circ) \approx -6.73 \frac{\text{m}}{\text{sec}^2}$     ב.  $x(t) = 0 + 20 \cdot t - \frac{6.73}{2} \cdot t^2$

ג.  $t \approx 2.97\text{sec}$     ד. לא.    ה.  $t = 6.24\text{sec}$

(17) א. לכיוון המסה הגדולה יותר.    ב.  $a \approx 2.61 \frac{\text{m}}{\text{sec}^2}$

ג. סטטי, המערכת בתנועה.    ד.  $a \approx 1.7 \frac{\text{m}}{\text{sec}^2}$

(18) א. בכיוון  $m_2$ .    ב.  $a \approx 0.98 \frac{\text{m}}{\text{sec}^2}$     ג. בכיוון  $m_1$ , סטטי.    ד. אין.

(19) א. תאוצה:  $a = 6 \frac{\text{m}}{\text{sec}^2}$ , מתיחות:  $T_{m1} = 56\text{N}$ ,  $T_{m2} = 32\text{N}$     ב. בתנועה.

ג.  $a = 5.6 \frac{\text{m}}{\text{sec}^2}$

$$\theta_0 \approx 16.6992^\circ \quad \text{ג.} \quad \theta = 20^\circ \quad \text{ב.} \quad a = \frac{F}{m} (\cos \theta + \mu_k \sin \theta) - \theta_k g \quad \text{א.} \quad (20)$$

$$\text{ב. לא.} \quad \text{א. גודל: } a_x = g \tan \alpha, \text{ כיוון: חיובי.} \quad (21)$$

$$F = \mu_s (m_1 + m_2) g = 28\text{N} \quad (22)$$

$$x(t) = \frac{1}{2} \cdot \frac{1}{2} \cdot t^2, \quad v(t) = \frac{1}{2} \cdot t \quad \text{ב.} \quad x(t) = 20 \cdot t - \frac{2}{2} t^2, \quad v(t) = 20 - 2 \cdot t \quad \text{א.} \quad (23)$$

$$v(t=8) = 4 \frac{\text{m}}{\text{sec}} \quad \text{ג.}$$

$$a_{\min} = \frac{g}{\mu_s} \quad (24)$$

$$\vec{N}_{2 \rightarrow 1} = 6\text{N}^{\hat{x}} \quad \text{ג.} \quad N_{1 \rightarrow 2} = 6\text{N} \quad \text{ב.} \quad a = 2 \frac{\text{m}}{\text{sec}^2} \quad \text{א.} \quad (25)$$

$$h_{\max} = 1.78\text{m} \quad \text{ב.} \quad h_{\max} = 3\text{m} \quad \text{א.} \quad (26)$$

$$\sum F_z = N - mg \cos 30^\circ, \quad \sum F_y = mg \sin 30^\circ, \quad \sum F_x = 0 \quad \text{א.} \quad (27)$$



$$v_y(t_B) \approx 7.07 \frac{\text{m}}{\text{sec}} \quad \text{ד.} \quad v_0 = \sqrt{2} \frac{\text{m}}{\text{sec}} \quad \text{ג.} \quad \text{ב. פרבולה.}$$

$$m_{B\max} = \frac{(m_A + m_C) \mu_s \cos \alpha}{1 + \sin \alpha - \mu_s \cos \alpha} \quad \text{א.} \quad (28)$$

$$a = g(\mu_s \cos \alpha - \sin \alpha), \quad T = g(m_A + m_C) \mu_s \cos \alpha \quad \text{ב.}$$

$$a_C = (\mu_k \cos \alpha - \sin \alpha) g, \quad a_B = g \frac{(m_B - \mu_k m_C \cos \alpha - m_A \sin \alpha)}{m_A + m_B} \quad \text{ג.}$$

$$\mu_{sA} \geq 0.464 \quad \text{ב.} \quad N_B = 0.518mg, \quad N_A = 0.732mg \quad \text{א.} \quad (29)$$

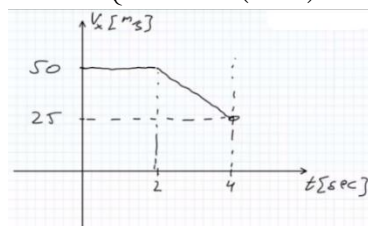
$$F_{\max} = \frac{2\mu_s mg}{\cos \alpha - 2\mu_s \sin \alpha} \quad \text{ג.} \quad f_s = \frac{F \cos \alpha}{2} \quad \text{ב.} \quad a = \frac{F \cos \alpha}{2m} \quad \text{א.} \quad (30)$$

$$a_1 = 22.2 \frac{\text{m}}{\text{sec}^2}, \quad a_2 = 3.75 \frac{\text{m}}{\text{sec}^2} \quad \text{ה.} \quad a \approx 2.17 \frac{\text{m}}{\text{sec}^2} \quad \text{ד.}$$

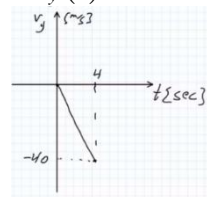
$$a = 1.81 \frac{\text{m}}{\text{sec}^2} \quad \text{ב.} \quad F_{\max} = 31.05\text{N} \quad \text{א.} \quad (31)$$

$$F = 6.25\text{N} \quad \text{i. ב.} \quad \text{ii. משפיעה.} \quad \text{א. i. אינה משפיעה.} \quad (32)$$

$$v_x(t) = \begin{cases} 50 & 0 < t < 2 \\ 50 - 12.5(t-2) & 2 < t < 4 \end{cases}$$

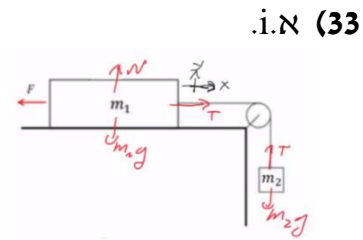


$$v_y(t) = -10 \cdot t \quad \text{ii.}$$



$$\sigma_x = 25\text{m} \quad \text{ג.}$$

$$x(t) = \begin{cases} \frac{1}{2}t^2 & 0 \leq t \leq 2 \\ 2 + 2(t-2) - \frac{2.5}{2}(t-2)^2 & 2 \leq t \leq 4 \end{cases} \quad \text{ii}$$

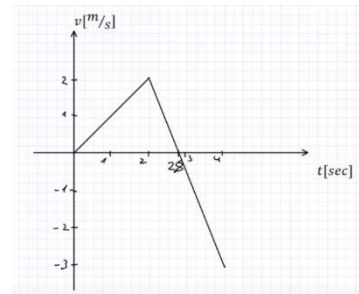


i. א (33)

ב. כן,  $x_{II}(2.8_{\text{sec}}) = 2.8\text{m}$ ,  $t = 2.8\text{sec}$  .iii  $m_2 = 2\text{kg}$

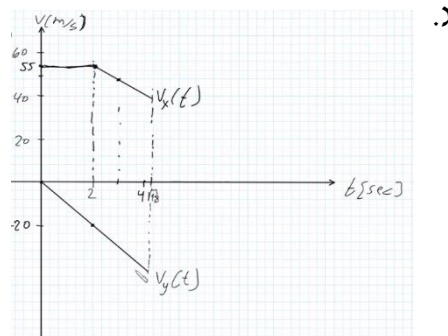
ד.  $\mu_{s\text{min}} = \frac{1}{6}$

ג.  $v(2.8) = 0$ ,  $v(4) = -3$



ב.  $F \approx 84.1\text{N}$   
ד.  $\Delta x = 14\text{m}$

ii. משפיעה. i. א (34) לא משפיעה.



T = 0 (35)

א (36)  $T = 30 \sin \alpha$  . ב.  $a = 3.35 \sin \alpha$  . ג.  $\alpha_{\text{max}} = 38.7^\circ$  . ד.  $\alpha_{\text{max}} = 90^\circ$

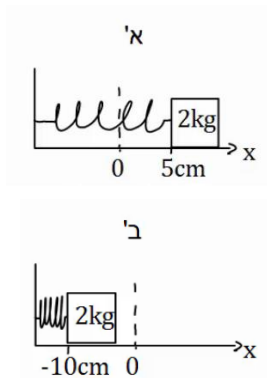
ה. המסות יתנתקו מהמשטח ויהיו תלויות אנכית, התאוצה תישאר אותו דבר כמו בזווית של  $90^\circ$ .

## הכוח האלסטי - קפיץ:

### שאלות:

#### (1) דוגמה 1

גוף בעל מסה של 2 ק"ג מחובר לקפיץ בעל קבוע קפיץ:  $k = 50 \frac{\text{N}}{\text{m}}$ .



בין הגוף למשטח אין חיכוך.

א. מושכים את הגוף למרחק 5 ס"מ מהנקודה בה הקפיץ רפוי ומשחררים אותו. מהי תאוצת הגוף (גודל וכיוון)?

ב. דוחפים את הגוף למרחק 10 ס"מ מהנקודה בה הקפיץ רפוי ומשחררים אותו.

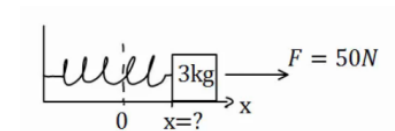
מהי תאוצת הגוף (גודל וכיוון)?

כעת נתון כי בין הגוף למשטח קיים חיכוך, ומקדם החיכוך הסטטי הוא:  $\mu_s = 0.2$ .

ג. מהו המרחק המקסימלי בו ניתן להניח את הגוף קשור לקפיץ כך שישאר במנוחה?

#### (2) דוגמה 2

גוף בעל מסה של 3 ק"ג מחובר לקפיץ בעל קבוע קפיץ:  $k = 100 \frac{\text{N}}{\text{m}}$ .



בין הגוף למשטח אין חיכוך.

על הגוף פועל כוח ימינה שגודלו 50 ניוטון.

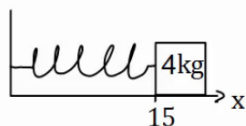
קבע את ראשית הצירים בנקודת הרפיון של הקפיץ.

היכן נמצאת נקודת שיווי המשקל?

(הנקודה בה סכום הכוחות שווה לאפס).

#### (3) דוגמה 3

גוף בעל מסה של 4 ק"ג מחובר לקיר באמצעות קפיץ בעל



קבוע קפיץ:  $k = 50 \frac{\text{N}}{\text{m}}$ .

בין הגוף למשטח אין חיכוך.

אורכו הרפוי של הקפיץ הוא 10 ס"מ.

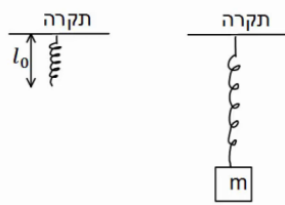
א. חשב את הכוח שמפעיל הקפיץ על הגוף כאשר הגוף במרחק 15 ס"מ מהקיר.

ב. חשב את הכוח שמפעיל הקפיץ על הגוף כאשר הגוף במרחק 6 ס"מ מהקיר.

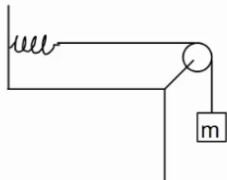
ג. חשב את תאוצת הגוף בכל נקודה אם על הגוף פועל כוח שגודלו 10 ניוטון שמאלה.

**4) שיטה למדידת קבוע קפיץ**

- מסה  $m$  תלויה מהתקרה באמצעות קפיץ שאורכו הרפוי הוא  $l_0$ . משחררים את המסה לאט לאט עד אשר היא מגיעה לנקודה בה היא תלויה לבד במנוחה.
- א. מה מיוחד בנקודה זו?
- ב. מודדים את מרחק המסה מהתקרה בנקודה זו. מצא באמצעות מרחק זה והפרמטרים בשאלה את קבוע הקפיץ.

**5) מסה קשורה לחוט שמחובר לקפיץ אופקי**

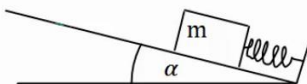
- מסה  $m = 5gr$  תלויה באמצעות חוט, העובר דרך גלגלת אידיאלית ומחובר בצידו השני לקפיץ. הקפיץ מחובר לקיר בצורה אופקית. קבוע הקפיץ הוא:  $k = 10 \frac{N}{m}$ .



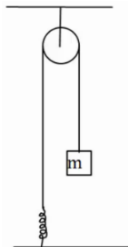
- א. משחררים את המסה בנקודה בה היא נשאר במנוחה. מצא את התארכות הקפיץ.
- ב. מושכים את המסה 5 ס"מ נוספים ומשחררים. מהי תאוצת המסה ברגע השחרור?

**6) קפיץ בשיפוע**

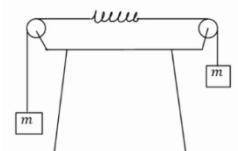
- מסה  $m$  נמצאת במנוחה על מישור משופע בעל זווית  $\alpha$ . מצד המסה מחובר קפיץ בעל קבוע קפיץ  $k$ . אין חיכוך בין המסה למשטח. בכמה מכוון הקפיץ ממצבו הרפוי? התייחס לפרמטרים בשאלה כנתונים.

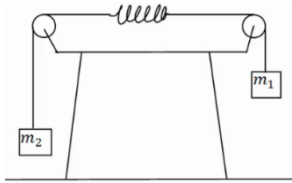
**7) מסה מחוברת לקפיץ דרך גלגלת בתקרה**

- מסה  $m$  מחוברת לקפיץ אידיאלי (חסר מסה) דרך גלגלת אידיאלית המחוברת לתקרה. הקפיץ מחובר לקרקע וקבוע הקפיץ הוא  $k$ . מצא את התארכות הקפיץ אם נתון שהמסה בשיווי משקל.

**8) שתי מסות משני צידי השולחן וקפיץ באמצע**

- במערכת הבאה שתי מסות זהות  $m$  תלויות משני צידי השולחן באמצעות חוטים וגלגלות אידיאליים. באמצע החוט ישנו קפיץ בעל קבוע קפיץ  $k$ . מצא את התארכות הקפיץ.



**9) שתי מסות משני צידי השולחן וקפיץ באמצע בתאוצה**

במערכת הבאה שתי מסות שונות:  $m_1 = 3\text{kg}$ ,  $m_2 = 1\text{kg}$ , תלויות משני צידי השולחן באמצעות חוטים וגלגלות אידיאליים.

באמצע החוט ישנו קפיץ חסר מסה בעל קבוע קפיץ:  $k = 20 \frac{\text{N}}{\text{m}}$ .

הנח כי אורך הקפיץ קבוע במהלך התנועה.

א. מצא את תאוצת המערכת.

ב. מצא את התארכות הקפיץ.

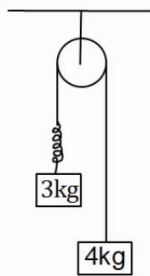
**10) מסה תלויה ומתיחה**

מסה תלויה במנוחה מהתקרה באמצעות קפיץ אידיאלי.

נתון:  $m = 2\text{kg}$ ,  $k = 20 \frac{\text{N}}{\text{m}}$ .

א. מהי תאוצת המסה אם מושכים את המסה 5 ס"מ כלפי מטה?

ב. מהי תאוצת המסה אם מרימים את המסה 2 ס"מ כלפי מעלה?

**11) מסות תלויות מהתקרה עם קפיץ בתאוצה**

במערכת הבאה שתי מסות תלויות מהתקרה באמצעות גלגלת אידיאלית.

בין המסות יש קפיץ חסר מסה בעל קבוע קפיץ:  $k = 50 \frac{\text{N}}{\text{m}}$ .

הנח כי אורך הקפיץ קבוע במהלך התנועה.

א. מהי תאוצת המסות?

ב. מהי ההתארכות של הקפיץ?

**12) קפיץ במכונית נוסעת**

מסה  $m = 5\text{kg}$  נמצאת על רצפת מכונית.

המסה מחוברת באמצעות קפיץ חסר מסה לצד המכונית, ויכולה לנוע על הרצפה ללא חיכוך.

קבוע הקפיץ הוא:  $k = 30 \frac{\text{N}}{\text{m}}$ .

הנח שאורך הקפיץ קבוע.

א. מהי התארכות הקפיץ אם המכונית נוסעת במהירות קבועה?

ב. מהי ההתארכות בקפיץ אם המכונית נעה בתאוצה קבועה של 2 מטר

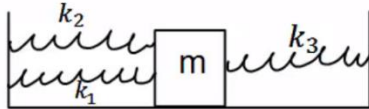
לשנייה בריבוע ימינה? ציין האם הקפיץ נמתח או מתכווץ.

ג. מהי ההתארכות בקפיץ אם המכונית נעה בתאוצה קבועה של 3 מטר

לשנייה בריבוע שמאלה? ציין האם הקפיץ נמתח או מתכווץ.

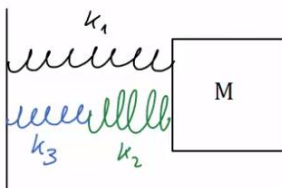
**(13) מסה עם שלושה קפיצים**

שלושה קפיצים מחוברים למסה  $m = 2\text{kg}$ , כפי שנראה באיור. אין חיכוך בין המסה לרצפה.



נתון כי:  $k_1 = 3 \frac{\text{N}}{\text{m}}$ ,  $k_2 = 5 \frac{\text{N}}{\text{m}}$ ,  $k_3 = 12 \frac{\text{N}}{\text{m}}$ .

הנח כי כל הקפיצים רפויים באותה הנקודה. מהי תאוצת המסה כאשר היא נמצאת במרחק 20 ס"מ מנקודת שיווי המשקל?

**(14) שלושה קפיצים שוב**

באיור הבא המסה  $m = 4\text{kg}$  מחוברת לשלושה קפיצים בעלי קבועי קפיץ שונים. הנח שכל הקפיצים רפויים כאשר המסה נמצאת ב- $x = 0$ .

מהי תאוצת המסה כאשר מיקומה הוא:  $x = 0.2\text{m}$ .

אם קבועי הקפיצים הם:  $k_1 = 3 \frac{\text{N}}{\text{m}}$ ,  $k_2 = 5 \frac{\text{N}}{\text{m}}$ ,  $k_3 = 12 \frac{\text{N}}{\text{m}}$ .

## תשובות סופיות:

(1) א. גודל:  $-1.25 \frac{\text{m}}{\text{sec}^2}$ , הכיוון חיובי. ב. גודל:  $2.5 \frac{\text{m}}{\text{sec}^2}$ , הכיוון חיובי.

ג.  $x = 8\text{cm}$

(2)  $x = \frac{1}{2}\text{m}$

(3) א.  $F = -2.5\text{N}$  ב.  $F = 2\text{N}$  ג. סעיף א':  $a = -3.13 \frac{\text{m}}{\text{sec}^2}$ , סעיף ב':  $a = -2 \frac{\text{m}}{\text{sec}^2}$ .

(4) א. נקודת שיווי משקל. ב.  $k = \frac{mg}{d-l_0}$

(5) א.  $\Delta x = 5\text{cm}$  ב.  $a = -10 \frac{\text{m}}{\text{sec}^2}$

(6)  $|\Delta x| = \frac{mg \sin \alpha}{k}$

(7)  $\Delta x = \frac{mg}{k}$

(8)  $|\Delta x| = \frac{mg}{k}$

(9) א.  $a = 5 \frac{\text{m}}{\text{sec}^2}$  ב.  $\Delta x = \frac{3}{4}\text{m}$

(10) א.  $a = -0.5 \frac{\text{m}}{\text{sec}^2}$  ב.  $a = 0.2 \frac{\text{m}}{\text{sec}^2}$

(11) א.  $a = \frac{10}{7} \frac{\text{m}}{\text{sec}^2}$  ב.  $\Delta x \approx 0.69\text{m}$

(12) א.  $\Delta x = 0$  ב.  $|\Delta x| = \frac{1}{3}\text{m}$ , מתארך. ג.  $|\Delta x| = \frac{1}{2}\text{m}$ , מתכווץ.

(13)  $a = -2 \frac{\text{m}}{\text{sec}^2}$

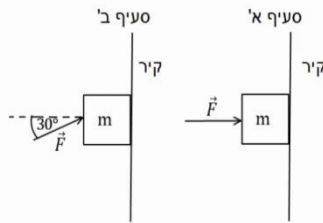
(14)  $a \approx 0.326 \frac{\text{m}}{\text{sec}^2}$

## תרגילים נוספים לחוק ראשון ושלישי:

### שאלות:

#### (1) מסה מוצמדת לקיר

ארגז בעל מסה של 2 ק"ג מוצמד לקיר באמצעות כוח אופקי. מקדם החיכוך הסטטי בין הארגז לקיר הוא: 0.3.



- א. מה הגודל המינימלי של הכוח המאפשר לשמור על הארגז במנוחה?  
 ב. חזור על סעיף א' עבור המקרה בו הכוח פועל בזווית של  $30^\circ$  כלפי מעלה ביחס לאופק.

#### (2) קופסה עם כוח לא ידוע

קופסה בעלת מסה של 5 ק"ג מונחת על משטח אופקי. כוח של 20 ניוטון מושך את הקופסה ימינה במקביל לציר ה-x. בין המשטח לקופסה קיים חיכוך, מקדם החיכוך הקינטי הוא:  $\mu_k = 0.2$ .

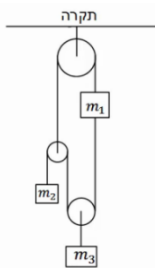


כוח נוסף מופעל על הקופסה אחורנית בזווית של  $45^\circ$ . מצא את גודלו של הכוח אם ידוע שהמסה נעה ימינה במהירות קבועה.

#### (3) מערכת גלגלות

במערכת הבאה כל הגלגלות והחוט הם אידיאליים. המסות  $m_1, m_2$  נתונות.

מצא את  $m_3$  ואת המתרחיות בכל חוט, אם ידוע כי כל המערכת נמצאת במנוחה.

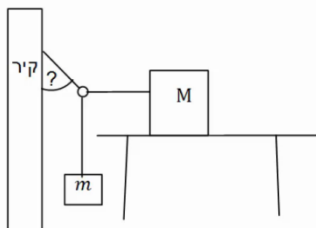


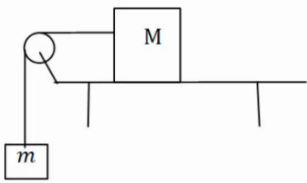
#### (4) מסה על שולחן, מסה תלויה, טבעת וקיר

קופסה בעלת מסה M מונחת על שולחן.

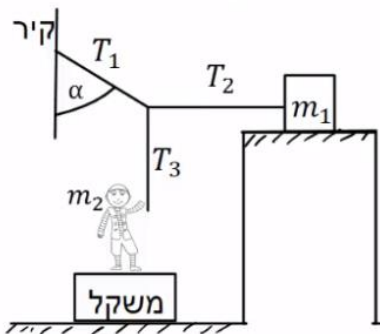
הקופסה קשורה בחוט אידיאלי לטבעת חסרת מסה. מסה m תלויה גם כן באמצעות חוט אידיאלי מהטבעת ונמצאת באוויר. חוט נוסף מחבר את הטבעת לקיר. ידוע כי מקדם החיכוך הסטטי בין המסה M לשולחן

הוא:  $\mu_s$ , וכי כוח החיכוך הפועל על המסה במצב הנ"ל מקסימלי. מצא את המתרחיות בכל חוט ואת הזווית בה מחובר החוט לקיר, אם:  $M, m, \mu_s$  נתונים.

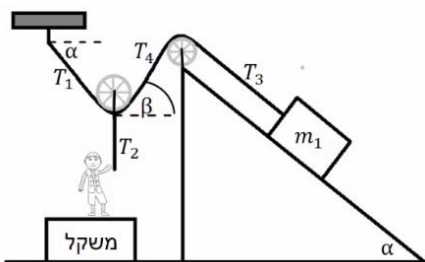


**(5) מקדם חיכוך מינימלי וכוחות על השולחן**

- קופסה בעלת מסה  $M$  מונחת על שולחן. הקופסה קשורה בחוט אידיאלי ודרך גלגלת אידיאלית לקופסה נוספת בעלת מסה  $m$  התלויה באוויר. בין השולחן לקופסה קיים חיכוך, מקדם החיכוך הסטטי אינו ידוע.
- א. מצא מהו ערכו המינימלי האפשרי של מקדם החיכוך הסטטי, אם ידוע שהמערכת נמצאת במנוחה. הנח שהמסות נתונות.
- ב. מהו הכוח שמפעיל המוט המחזיק את הגלגלת על הגלגלת?
- ג. מהו הכוח הכולל הפועל על השולחן מהמערכת (מסות והמוט שמחזיק את הגלגלת)?
- ד. מהו הכוח הנורמלי ומהו כוח החיכוך הפועלים על השולחן מהרצפה? (התייחס למסת השולחן כנתונה).

**(6) נער מושך בחוטים**

- מסה  $m_1$  מונחת על משטח אופקי לא חלק. נער שמסתו  $m_2$  מושך את קצה החוט  $T_3$ , כך שהמסה  $m_1$  על סף תנועה. הנער עומד על משקל. נתון:  $\mu_s = 0.2$ ,  $\alpha = 30^\circ$ ,  $m_2 = 50\text{kg}$ .
- החוט  $T_2$  אופקי ו- $T_3$  אנכי. הוראת המשקל היא:  $450\text{N}$ .
- א. חשב את המתוחות בחוטים:  $T_1$ ,  $T_2$  ו- $T_3$ .
- ב. חשב את ערכה של מסה  $m_1$ .

**(7) נער מושך בחוטים שוב**

- מסה  $m_1$  מונחת על משטח משופע לא חלק. נער שמסתו  $m_2$  מושך את קצה החוט  $T_2$ . החוט  $T_2$  מחובר למרכז הגלגלת חסרת חיכוך ומסה. הנער עומד על משקל. נתון:  $\mu_s = 0.2$ ,  $\alpha = 40^\circ$ ,  $m_1 = 80\text{kg}$ ,  $m_2 = 60\text{kg}$ .
- החוט  $T_2$  מאונך ו- $T_3$  מקביל למדרון. הוראת המשקל היא:  $120\text{N}$ .
- א. חשב את הזווית  $\beta$  (הזווית בין החוט לאופק).
- ב. חשב את המתוחות בחוטים:  $T_1$ ,  $T_2$ ,  $T_4$ .
- ג. מצא את גודלו וכיוונו של כוח החיכוך בין  $m_1$  למדרון.

**8) נער מושך בעגלה הקשורה למשקולת**

בתרשים שלפניך מוצגת מערכת.

אדם מושך עגלה שמסתה  $m_1 = 15\text{kg}$  באמצעות חוט.החוט בזווית  $\alpha = 30^\circ$  עם הציר האופקי, ראה תרשים.

החיכוך בין העגלה למשטח ניתן להזנחה.

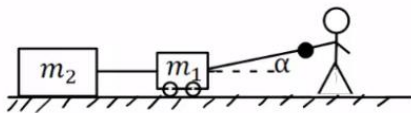
לעגלה מחוברת משקולת  $m_2 = 25\text{kg}$ .

מקדם החיכוך בין המשקולת למשטח

שווה  $\mu_k = 0.2$ .

מערכת הגופים נעים במהירות קבועה.

א. מהי המתוחות בחוט בין העגלה למשקולת?

ב. מהו הכוח שהאדם מושך את מסה  $m_1$  ?**תשובות סופיות:**

$$\text{א. } F_{\min} = 66.67\text{N} \quad \text{ב. } F \geq 26.32\text{N} \quad (1)$$

$$F \approx 17.68\text{N} \quad (2)$$

$$T_1 = (m_1 + m_2)g, \quad T_2 = m_2g, \quad T_3 = 2m_2g, \quad T_4 = 2(m_1 + m_2), \quad m_3 = 2m_2 \quad (3)$$

$$\cot \alpha = \frac{m}{\mu_s M} \quad (4)$$

$$\sum F_y = (-M + m)g \quad \text{א. } \mu_{s,\min} = \frac{m}{M} \quad \text{ב. } F = \sqrt{2}mg \quad \text{ג. } \quad (5)$$

$$N = -\sum F_y = (M + m)g + \tilde{M}g \quad \text{ד.}$$

$$\text{א. } T_1 = 57.7\text{N}, \quad T_2 = 28.9\text{N}, \quad T_3 = 50\text{N} \quad \text{ב. } m_1 = 14.5\text{kg} \quad (6)$$

$$\text{א. } \beta = 40^\circ \quad \text{ב. } T_2 = 480\text{N}, \quad T_1 = T_4 \approx 373\text{N} \quad (7)$$

ג. כיוון: במעלה המדרון,  $f_s = 141\text{N}$ .

$$\text{א. } T_2 = 50\text{N} \quad \text{ב. } T_1 = 57.7\text{N} \quad (8)$$

# מכניקה לביולוגיה מולקולרית

## 711161001

### פרק 10 - עבודה ואנרגיה

#### תוכן העניינים

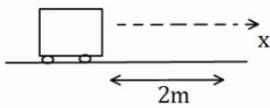
99	1. העבודה שמבצע כוח.....
101	2. אנרגיה קינטית והקשר לעבודה.....
102	3. אנרגיה כללית ומשפט עבודה אנרגיה.....
105	4. עבודת החיכוך וחום.....
106	5. אנרגיה פוטנציאלית אלסטית-קפיץ.....
(ללא ספר)	6. חוק שימור האנרגיה- הרחבה.....
(ללא ספר)	7. סיכום הפרק.....
107	8. תרגילים.....
121	9. אנרגיה פוטנציאלית-כובדית.....
122	10. הספק.....

## העבודה שמבצע כוח:

### שאלות:

#### (1) דוגמה 1

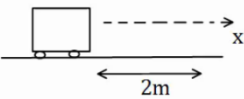
כוח  $F$  שגודלו  $5\text{N}$  פועל על גוף הנע מרחק של שני מטרים בכיוון ציר ה- $x$ .  
 חשב את עבודת הכוח אם כיוונו הוא:



- בכיוון ציר ה- $x$ .
- בכיוון  $30^\circ$  עם ציר ה- $x$ .
- בכיוון  $30^\circ$  מתחת לציר ה- $x$ .

#### (2) דוגמה 2

כוח  $F$  שגודלו  $5\text{N}$  פועל על גוף הנע מרחק של שני מטרים בכיוון ציר ה- $x$ .  
 חשב את עבודת הכוח אם כיוונו הוא:



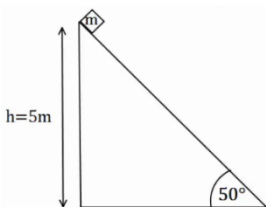
- בכיוון ציר ה- $y$ .
- בכיוון  $30^\circ$  מעל ציר ה- $x$  השלילי.
- בכיוון  $30^\circ$  מתחת לציר ה- $x$  השלילי.

#### (3) דוגמה 3

גוף נופל נפילה חופשית מגובה של  $8$  מטרים מעל הקרקע. מסת הגוף היא  $3\text{kg}$ .  
 א. חשב את עבודת כוח הכובד עד לפגיעה בקרקע.  
 ב. חשב שוב את העבודה אם הגובה והמסה נתונים כפרמטרים:  $m, h$ .

#### (4) דוגמה 4

גוף שמסתו  $m = 2\text{kg}$  מחליק על מישור משופע מגובה  $5$  מטרים  
 ועד לתחתית המישור.  
 זווית השיפוע של המישור היא  $50^\circ$ .



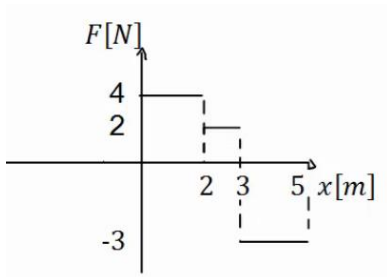
- חשב את העבודה שמבצע הנורמל על הגוף במהלך תנועתו.
- חשב את עבודת כוח הכובד על הגוף.
- חשב את עבודת החיכוך הקינטי אם ידוע שמקדם החיכוך הוא:  $\mu_k = 0.2$ .

**5 דוגמה 5**

גוף נע מהנקודה (1,2) לנקודה (3,5).  
 חשב את עבודת הכוחות הבאים הפעלו על הגוף:

א.  $\vec{F} = (2,1)$

ב.  $\vec{F} = (-3,2)$


**6 כוח כתלות במיקום**

נתון גרף של הכוח כתלות במיקום.

א. מהי העבודה הכוללת שמבצע הכוח הבא?

ב. מהי עבודת הכוח בשני המטרים

האחרונים של התנועה?

**תשובות סופיות:**

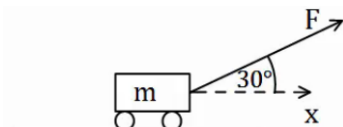
- |                           |                           |                 |     |
|---------------------------|---------------------------|-----------------|-----|
| ג. $W = 5 \cdot \sqrt{3}$ | ב. $W = 5 \cdot \sqrt{3}$ | א. $W = 10$     | (1) |
| ג. $W \approx -8.66J$     | ב. $W \approx -8.66$      | א. $W = 0$      | (2) |
|                           | ב. $W_g = mgh$            | א. $W_g = 240J$ | (3) |
| ג. $W_{fk} = -16.79J$     | ב. $W_g = 100J$           | א. $W_N = 0$    | (4) |
|                           | ב. $W = 0$                | א. $W = 7J$     | (5) |
|                           | ב. $W = -6J$              | א. $W = 4J$     | (6) |

## אנרגיה קינטית והקשר לעבודה:

### שאלות:

#### (1) כוח מושך קרונית בזווית

כוח  $F = 50\text{N}$  מושך קרונית בזווית של  $30^\circ$  מעל ציר ה- $x$ . מסת הקרונית היא 3 ק"ג.

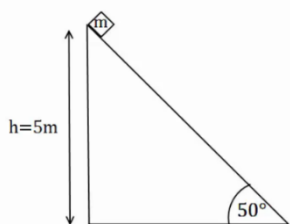


- א. שרטט תרשים כוחות הפועלים על הקרונית.  
 ב. מצא את העבודה של כל כוח, אם ידוע שהקרונית התקדמה 5 מטרים בכיוון ציר ה- $x$ .

ג. מהי מהירות הקרונית לאחר 5 המטרים, אם התחילה לנוע ממנוחה?

#### (2) המשך לדוגמה 4

גוף שמסתו  $m = 2\text{kg}$  מחליק על מישור משופע מגובה 5 מטרים ועד לתחתית המישור. זווית השיפוע של המישור היא  $50^\circ$ . מקדם החיכוך הקינטי הוא  $\mu_k = 0.2$ .

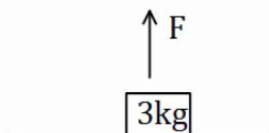


א. מצא את עבודת הכוחות.

ב. מהי מהירות הגוף בתחתית המדרון, אם התחיל ממנוחה?

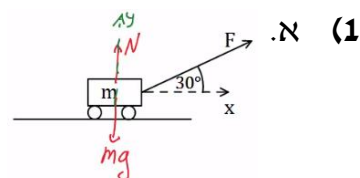
#### (3) כוח מושך גוף ישר למעלה

כוח  $F = 50\text{N}$  מושך גוף כלפי מעלה. מצא את מהירות הגוף בגובה 8 מטרים מעל הקרקע. מסת הגוף היא 3 ק"ג.



### תשובות סופיות:

א.  $v_F \approx 12.01 \frac{\text{m}}{\text{sec}}$  ג.  $W_N = 0 = W_g, W_F \approx 216.51\text{J}$  ב.



א.  $v_F \approx 9.12 \frac{\text{m}}{\text{sec}}$  ב.

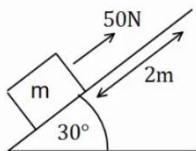
א.  $W_N = 0, W_g = 100\text{J}, W_{fk} = -16.79$  ב.

א.  $v_p \approx 10.33 \frac{\text{m}}{\text{sec}}$  ב.

## אנרגיה כללית ומשפט עבודה אנרגיה:

### שאלות:

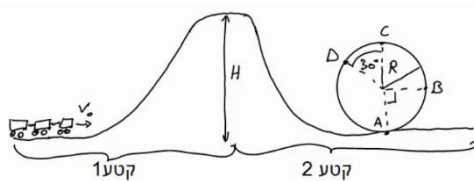
#### (1) כוח מעלה במדרון משופע



כוח של 50 ניוטון פועל על גוף במקביל למשטח משופע בעל זווית של  $30^\circ$ . מסת הגוף היא  $m = 4\text{kg}$  והוא מתחיל תנועתו ממנוחה. חשב את מהירות הגוף לאחר שהתקדם 2 מטרים במעלה המדרון (אין חיכוך).

#### (2) עוד רכבת הרים

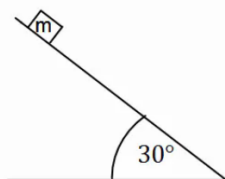
רכבת הרים מתחילה בנסיעה בצדו השמאלי של המסלול באיור. לרכבת מהירות התחלתית נמוכה  $v_0$ .



בקטע הראשון כוח  $F$  מושך את הרכבת כלפי מעלה במהירות קבועה עד לשיא הגובה  $H$ . בשיא הגובה הכוח נפסק ולאחר מכן הרכבת נעצרת (באמצעות מעצור) למספר שניות, על מנת שהנוסעים יוכלו לפחד לקראת הנפילה.

בקטע השני הרכבת נופלת (ללא הכוח  $F$ ) ומבצעת סיבוב אנכי - "לופ". התייחס למסת הרכבת והנתונים באיור כפרמטרים נתונים.  
 א. מצא את העבודה הכוללת המבצע הכוח  $F$  על הרכבת.  
 ב. מצא את מהירות הרכבת בכל הנקודות המצוינות באיור.

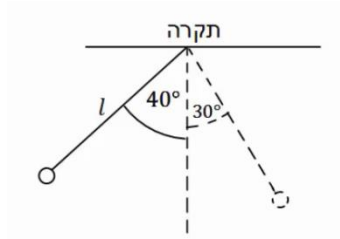
#### (3) מסה מחליקה במדרון



מסה  $m = 4\text{kg}$  מונחת במנוחה בגובה  $h = 5\text{m}$  על מדרון משופע. שיפוע המדרון הוא  $30^\circ$ .

א. מצא את מהירות המסה בתחתית המדרון אם אין חיכוך בינה למשטח.  
 ב. חזור על סעיף א' עבור מקרה בו יש חיכוך קינטי ומקדם החיכוך הוא  $\mu_k = 0.2$ .  
 ג. חזור על סעיף ב' אם בנוסף לחיכוך יש גם כוח  $F = 60\text{N}$ , במקביל למדרון ובכיוון תנועת המסה.

#### 4 מטוטלת (4)

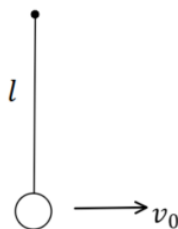


מטוטלת בעלת אורך חוט  $l = 50\text{cm}$  תלויה מהתקרה. מרימים את המטוטלת לזווית של  $40^\circ$  ביחס לאנך מהתקרה ומשחררים ממנוחה.

- מהי עבודת כוח המתיחות לאורך התנועה?
- מהי מהירות המטוטלת בתחתית המסלול?
- מהי מהירות המטוטלת לאחר שעלתה לזווית של  $30^\circ$ ?
- מהי הזווית המקסימלית אליה תגיע המטוטלת?

#### 5 כדור תלוי על חוט מבצע מעגל (5)

נקודת תלייה



כדור תלוי במנוחה על חוט שאורכו  $l = 30\text{cm}$ .

א. מקנים לכדור מהירות התחלתית בכיוון אופקי

$$\text{של } v_0 = 2 \frac{\text{m}}{\text{sec}}$$

- מה יהיה הגובה המקסימלי אליו יגיע?
- מה תהיה זווית החוט המקסימלית ביחס לאנך לקרקע?

ב. איזו מהירות מינימלית יש להעניק לכדור (ממצב מנוחה) כדי שיגיע לגובה

המקסימלי שהחוט מאפשר לו (למעל מרכז המעגל) במהירות של  $\sqrt{32} \frac{\text{m}}{\text{sec}}$ .

הניחו שהמהירות מספיקה בשביל להשלים את הסיבוב.

ג. במקרה המתואר בסעיף ב' – מה תהיה מהירות הכדור כאשר יחזור לנקודת ההתחלה?

## תשובות סופיות:

$$V_F \approx 5.48 \frac{\text{m}}{\text{sec}} \quad (1)$$

$$W_F = mgH \quad \text{א.} \quad (2)$$

$$v_F = 10 \frac{\text{m}}{\text{sec}} \quad \text{א.} \quad (3)$$

$$W_T = 0 \quad \text{א.} \quad (4)$$

$$\theta_{\max} = 40^\circ \quad \text{ד.}$$

$$20\text{cm} \quad \text{א. i.} \quad (5)$$

$$v_p = \sqrt{32} \frac{\text{m}}{\text{sec}} \quad \text{ג.}$$

$$v_C = \sqrt{2g(H-2R)}, v_D = \sqrt{2g(H-1.87R)} \quad \text{ב.}$$

$$v_F \approx 19.11 \frac{\text{m}}{\text{sec}} \quad \text{ג.} \quad v_F \approx 8.08 \frac{\text{m}}{\text{sec}} \quad \text{ב.}$$

$$v_F \approx 1.03 \frac{\text{m}}{\text{sec}} \quad \text{ג.} \quad v_F \approx 1.55 \frac{\text{m}}{\text{sec}} \quad \text{ב.}$$

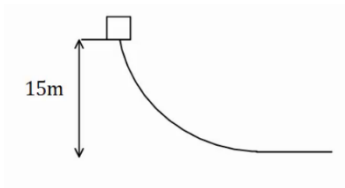
$$v_0 = \sqrt{44} \frac{\text{m}}{\text{sec}} \quad \text{ב.} \quad \theta_{\max} \approx 71^\circ \quad \text{ii.}$$

## עבודת החיכוך וחום:

### שאלות:

#### (1) חישוב עבודה

גוף שמסתו 5kg מחליק במורד מישור משופע. מהירותו בראש המישור היא  $3 \frac{\text{m}}{\text{sec}}$ , ומהירותו בתחתית המישור, הנמצאת 15m נמוך יותר מנקודת ההתחלה, היא  $16 \frac{\text{m}}{\text{sec}}$ .  
 מהי עבודת כוח החיכוך שפעל עליו (ביחידות Joule)?



#### (2) גוף נופל ממסלול עקום

גוף נופל ממנוחה ממעלה גבעה בגובה 15 מטר. בתחתית הגבעה מהירות הגוף היא 5 מטר לשנייה. כמה אנרגיה הלכה לאיבוד לחום? מסת הגוף היא 2 ק"ג.

### תשובות סופיות:

(1)  $-132.5\text{J}$


(2)  $Q = 275\text{J}$

## אנרגיה פוטנציאלית אלסטית – קפיץ:

### שאלות:

#### (1) מסה וקפיץ במישור אופקי

מסה  $m = 50\text{gr}$  נעה במהירות  $v_0 = 5 \frac{\text{m}}{\text{sec}}$  על משטח אופקי חלק.



המסה נעצרת על ידי קפיץ אופקי אידיאלי (חסר מסה)

בעל קבוע קפיץ  $k = 10 \frac{\text{N}}{\text{m}}$ . הקפיץ רפוי לפני פגיעת המסה.

א. מהי מהירות המסה כאשר הקפיץ מכווץ 5 ס"מ?

ב. מהו הכיווץ המקסימלי אליו מגיע הקפיץ?

ג. חזור על סעיפים א' ו-ב' אם בין המסה למשטח יש חיכוך.

מקדם החיכוך הוא  $\mu_k = 0.2$  והמרחק ההתחלתי של המסה מקצה הקפיץ הוא 0.5m.

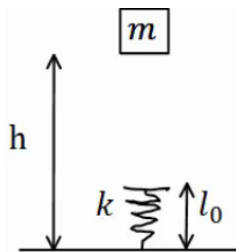
#### (2) מסה נופלת על קפיץ אנכי

מסה  $m = 5\text{gr}$  משוחררת ממנוחה מגובה  $h = 1\text{m}$  מעל הרצפה.

קפיץ אנכי אידיאלי מחובר לרצפה.

אורכו הרפוי של הקפיץ הוא  $l_0 = 10\text{cm}$ , וקבוע הקפיץ

הוא  $k = 100 \frac{\text{N}}{\text{m}}$ .



א. מהי מהירות המסה רגע לפי פגיעתה בקפיץ?

ב. מהו הכיווץ המקסימלי אליו יגיע הקפיץ?

ג. מהו הגובה המקסימלי אליו תגיע המסה בחזרה?

### תשובות סופיות:

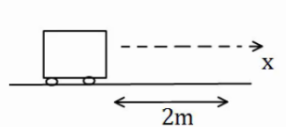
$$v \approx 4.72 \frac{\text{m}}{\text{sec}}, \Delta x \approx 33\text{cm} \quad \text{ג.} \quad \Delta x \approx 35.4\text{cm} \quad \text{ב.} \quad v_F \approx 4.95 \frac{\text{m}}{\text{sec}} \quad \text{א.} \quad (1)$$

$$h_F = h_i \quad \text{ג.} \quad \Delta x_{\text{max}} = 3\text{cm} \quad \text{ב.} \quad v_F = 4.24 \frac{\text{m}}{\text{sec}} \quad \text{א.} \quad (2)$$

## העבודה שמבצע כוח

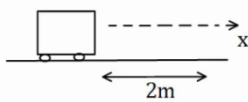
### שאלות

- 1) כוח  $F$  שגודלו  $5\text{N}$  פועל על גוף הנע מרחק של שני מטרים בכיוון ציר ה- $x$ .  
חשב את עבודת הכוח אם כיוונו הוא:



- א. בכיוון ציר ה- $x$ .  
ב. בכיוון  $30^\circ$  עם ציר ה- $x$ .  
ג. בכיוון  $30^\circ$  מתחת לציר ה- $x$ .

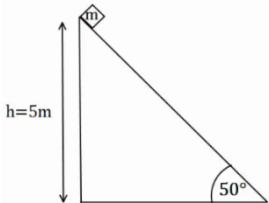
- 2) כוח  $F$  שגודלו  $5\text{N}$  פועל על גוף הנע מרחק של שני מטרים בכיוון ציר ה- $x$ .  
חשב את עבודת הכוח אם כיוונו הוא:



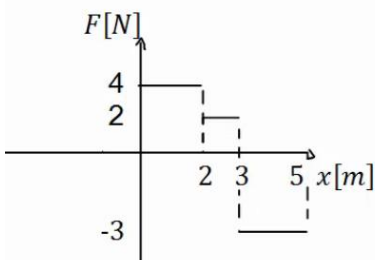
- א. בכיוון ציר ה- $y$ .  
ב. בכיוון  $30^\circ$  מעל ציר ה- $x$  השלילי.  
ג. בכיוון  $30^\circ$  מתחת לציר ה- $x$  השלילי.

- 3) גוף נופל נפילה חופשית מגובה של  $8$  מטרים מעל הקרקע. מסת הגוף היא  $3\text{kg}$ .  
א. חשב את עבודת כוח הכובד עד לפגיעה בקרקע.  
ב. חשב שוב את העבודה אם הגובה והמסה נתונים כפרמטרים:  $m, h$ .

- 4) גוף שמסתו  $m = 2\text{kg}$  מחליק על מישור משופע מגובה  $5$  מטרים ועד לתחתית המישור.  
זווית השיפוע של המישור היא  $50^\circ$ .



- א. חשב את העבודה שמבצע הנורמל על הגוף במהלך תנועתו.  
ב. חשב את עבודת כוח הכובד על הגוף.  
ג. חשב את עבודת החיכוך הקינטי אם ידוע שמקדם החיכוך הוא  $\mu_k = 0.2$ .



- 5) כוח כתלות במיקום

- נתון גרף של הכוח כתלות במיקום.  
א. מהי העבודה הכוללת שמבצע הכוח הבא?  
ב. מהי עבודת הכוח בשני המטרים האחרונים של התנועה?

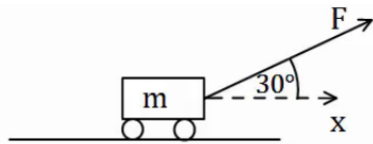
### תשובות סופיות

- |                           |                           |                     |
|---------------------------|---------------------------|---------------------|
| $W = 5 \cdot \sqrt{3}$ .ג | $W = 5 \cdot \sqrt{3}$ .ב | $W = 10$ .א (1)     |
| $W \approx -8.66j$ .ג     | $W \approx -8.66$ .ב      | $W = 0$ .א (2)      |
|                           | $W_g = mgh$ .ב            | $W_g = 240j$ .א (3) |
| $W_{fk} = -16.79j$ .ג     | $W_g = 100j$ .ב           | $W_N = 0$ .א (4)    |
|                           | $W = -6j$ .ב              | $W = 4j$ .א (5)     |

## אנרגיה קינטית והקשר לעבודה

### שאלות

#### (6) כוח מושך קרונית בזווית



כוח  $F = 50N$  מושך קרונית בזווית של  $30^\circ$  מעל ציר ה- $x$ . מסת הקרונית היא 3 ק"ג.

א. שרטט תרשים כוחות הפועלים על הקרונית.

ב. מצא את העבודה של כל כוח, אם ידוע שהקרונית התקדמה 5 מטרים בכיוון ציר ה- $x$ .

ג. מהי מהירות הקרונית לאחר 5 המטרים, אם התחילה לנוע ממנוחה?

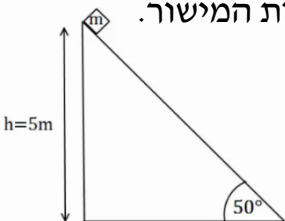
#### (7) המשך לדוגמא 4

גוף שמסתו  $m = 2kg$  מחליק על מישור משופע מגובה 5 מטרים ועד לתחתית המישור.

זווית השיפוע של המישור היא  $50^\circ$ . מקדם החיכוך הקינטי הוא  $\mu_k = 0.2$ .

א. מצא את עבודת הכוחות.

ב. מהי מהירות הגוף בתחתית המדרון, אם התחיל ממנוחה.

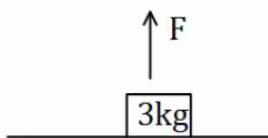


#### (8) כוח מושך גוף ישר למעלה

כוח  $F = 50N$  מושך גוף כלפי מעלה.

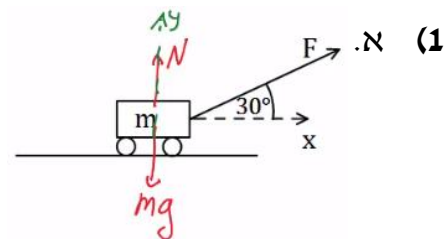
מצא את מהירות הגוף בגובה 8 מטרים מעל הקרקע.

מסת הגוף היא 3 ק"ג.



### תשובות סופיות

א.  $W_N = 0 = W_g$ ,  $W_F \approx 216.51j$     ב.  $v_F \approx 12.01 \frac{m}{sec}$     ג.



א.  $W_N = 0$ ,  $W_g = 100j$ ,  $W_{fk} = -16.79$     ב.  $v_F \approx 9.12 \frac{m}{sec}$

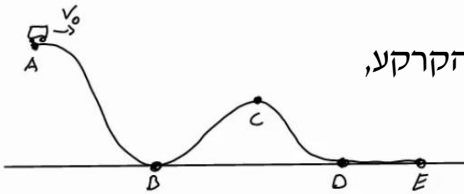
א.  $v_p \approx 10.33 \frac{m}{sec}$     ב.

## אנרגיה פוטנציאלית כובדית

### שאלות

#### (1) רכבת הרים

רכבת הרים מתחילה בנסיעה מהנקודה A הנמצאת בגובה 20 מטרים. מהירותה בנקודה A היא 5 מטרים לשנייה. מצא את מהירותה בנקודות B, D, E הנמצאות על הקרקע, ובנקודה C הנמצאת בגובה 10 מטרים.

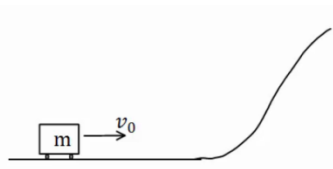


#### (2) עגלה עולה על גבעה

עגלה נעה בתחתית גבעה עם מהירות התחלתית של 20 מטר לשנייה. אין חיכוך בין העגלה לאדמה.

א. מהו הגובה המקסימלי אליו תגיע העגלה? לאחר שהגיעה לגובה המקסימלי מתחילה העגלה להתדרדר חזרה במורד הגבעה.

ב. מה תהיה מהירותה כשתגיע חזרה לתחתית?



### תשובות סופיות

$$v_B \approx 20.62 \frac{\text{m}}{\text{sec}} = v_E = v_D, \quad v_C \approx 15 \frac{\text{m}}{\text{sec}} \quad (1)$$

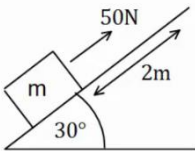
$$v_F = \pm v_0 \quad \text{ב.} \quad h_{\max} = 20\text{m} \quad \text{א.} \quad (2)$$

## אנרגיה כללית ומשפט עבודה-אנרגיה

### שאלות

#### (1) כוח מעלה במדרון משופע

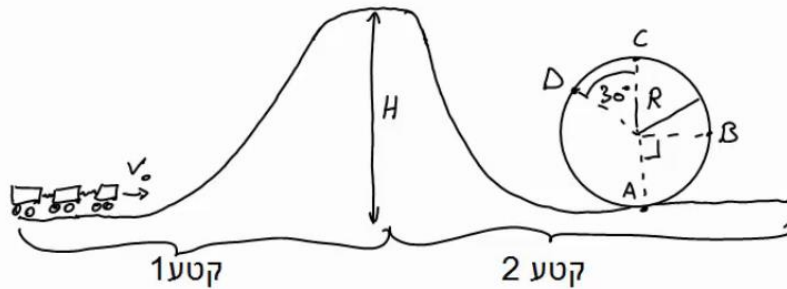
כוח של 50 ניוטון פועל על גוף במקביל למשטח משופע בעל זווית של  $30^\circ$ . מסת הגוף היא  $m = 4\text{kg}$  והוא מתחיל תנועתו ממנוחה. חשב את מהירות הגוף לאחר שהתקדם 2 מטרים במעלה המדרון (אין חיכוך).



#### (2) עוד רכבת הרים

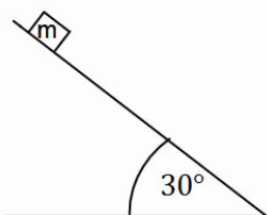
רכבת הרים מתחילה בנסיעה בצדו השמאלי של המסלול באיור. לרכבת מהירות התחלתית נמוכה  $v_0$ .

- בקטע הראשון כוח  $F$  מושך את הרכבת כלפי מעלה במהירות קבועה עד לשיא הגובה  $H$ . בשיא הגובה הכוח נפסק ולאחר מכן הרכבת נעצרת (באמצעות מעצור) למספר שניות, על מנת שהנוסעים יוכלו לפחד לקראת הנפילה. בקטע השני הרכבת נופלת (ללא הכוח  $F$ ) ומבצעת סיבוב אנכי - "לופ". התייחס למסת הרכבת והנתונים באיור כפרמטרים נתונים.
- מצא את העבודה הכוללת המבצע הכוח  $F$  על הרכבת.
  - מצא את מהירות הרכבת בכל הנקודות המצוינות באיור.



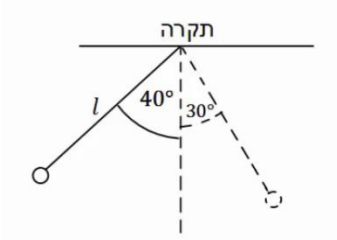
#### (3) מסה מחליקה במדרון

- מסה  $m = 4\text{kg}$  מונחת במנוחה בגובה  $h = 5\text{m}$  על מדרון משופע. שיפוע המדרון הוא  $30^\circ$ .
- מצא את מהירות המסה בתחתית המדרון אם אין חיכוך בינה למשטח.
  - חזור על סעיף א' עבור מקרה בו יש חיכוך קינטי ומקדם החיכוך הוא  $\mu_k = 0.2$ .
  - חזור על סעיף ב' אם בנוסף לחיכוך יש גם כוח  $F = 60\text{N}$ , במקביל למדרון ובכיוון תנועת המסה.



**4 מטוטלת**

מטוטלת בעלת אורך חוט  $\ell = 50\text{cm}$  תלויה מהתקרה. מרימים את המטוטלת לזווית של  $40^\circ$  ביחס לאנך מהתקרה ומשחררים ממנוחה.



- מהי עבודת כוח המתיחות לאורך התנועה?
- מהי מהירות המטוטלת בתחתית המסלול?
- מהי מהירות המטוטלת לאחר שעלתה לזווית של  $30^\circ$ ?
- מהי הזווית המקסימלית אליה תגיע המטוטלת?

**תשובות סופיות**

$$V_F \approx 5.48 \frac{\text{m}}{\text{sec}} \quad (1)$$

$$W_F = mgH \quad \text{א.} \quad (2)$$

$$v_F = 10 \frac{\text{m}}{\text{sec}} \quad \text{א.} \quad (3)$$

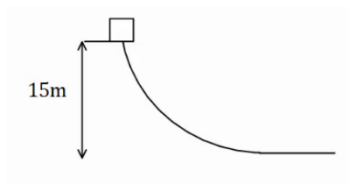
$$W_T = 0 \quad \text{א.} \quad (4)$$

$$\theta_{\max} = 40^\circ \quad \text{ד.}$$

$$v_C = \sqrt{2g(H-2R)}, \quad v_D = \sqrt{2g(H-1.87R)} \quad \text{ב.}$$

$$v_F \approx 19.11 \frac{\text{m}}{\text{sec}} \quad \text{ג.} \quad v_F \approx 8.08 \frac{\text{m}}{\text{sec}} \quad \text{ב.}$$

$$v_F \approx 1.03 \frac{\text{m}}{\text{sec}} \quad \text{ג.} \quad v_F \approx 1.55 \frac{\text{m}}{\text{sec}} \quad \text{ב.}$$

**עבודת החיכוך והחום****שאלה****1 גוף נופל ממסלול עקום**

גוף נופל ממנוחה ממעלה גבעה בגובה 15 מטר. בתחתית הגבעה מהירות הגוף היא 5 מטר לשנייה. כמה אנרגיה הלכה לאיבוד לחום? מסת הגוף היא 2 ק"ג.

**תשובה**

$$Q = 275 \text{ J} \quad (1)$$

## אנרגיה פוטנציאלית אלסטית – קפיץ

### שאלות

#### (1) מסה וקפיץ במישור אופקי

מסה  $m = 50\text{gr}$  נעה במהירות  $v_0 = 5 \frac{m}{\text{sec}}$  על משטח אופקי חלק.

המסה נעצרת על ידי קפיץ אופקי אידיאלי (חסר מסה) בעל קבוע קפיץ  $k = 10 \frac{N}{m}$ .

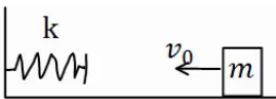
הקפיץ רפוי לפני פגיעת המסה.

א. מהי מהירות המסה כאשר הקפיץ מכווץ 5 ס"מ?

ב. מהו הכיוון המקסימלי אליו מגיע הקפיץ?

ג. חזור על סעיפים א' ו-ב' אם בין המסה למשטח יש חיכוך.

מקדם החיכוך הוא  $\mu_k = 0.2$  והמרחק ההתחלתי של המסה מקצה הקפיץ הוא 0.5m.



#### (2) מסה נופלת על קפיץ אנכי

מסה  $m = 5\text{gr}$  משוחררת ממנוחה מגובה  $h = 1\text{m}$  מעל הרצפה.

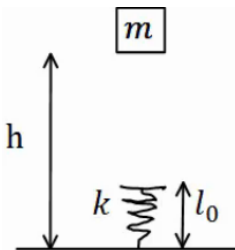
קפיץ אנכי אידיאלי מחובר לרצפה.

אורכו הרפוי של הקפיץ הוא  $\ell_0 = 10\text{cm}$ , וקבוע הקפיץ הוא  $k = 100 \frac{N}{m}$ .

א. מהי מהירות המסה רגע לפי פגיעתה בקפיץ?

ב. מהו הכיוון המקסימלי אליו יגיע הקפיץ?

ג. מהו הגובה המקסימלי אליו תגיע המסה בחזרה?



### תשובות סופיות

$$v \approx 4.72 \frac{m}{\text{sec}}, \quad \Delta x \approx 33\text{cm} \quad \text{ג.} \quad \Delta x \approx 35.4\text{cm} \quad \text{ב.} \quad v_F \approx 4.95 \frac{m}{\text{sec}} \quad \text{א.} \quad (1)$$

$$h_F = h_i \quad \text{ג.} \quad \Delta x_{\text{max}} = 3\text{cm} \quad \text{ב.} \quad v_F = 4.24 \frac{m}{\text{sec}} \quad \text{א.} \quad (2)$$

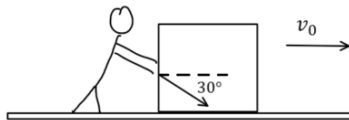
## עבודה ואנרגיה – תרגילים

### שאלות

#### (1) אדם דוחף ארגז בזווית

אדם דוחף ארגז, שמסתו 80 ק"ג, לאורך 2 מטרים על משטח אופקי. מקדם החיכוך הקינטי בין הארגז למשטח הוא 0.1. האדם דוחף את הארגז בכוח קבוע, שגודלו 400 ניוטון, בזווית של 30 מעלות לכיוון הרצפה.

לארגז ישנה גם מהירות התחלתית, שגודלה  $v_0 = 0.2 \frac{m}{s}$ ,

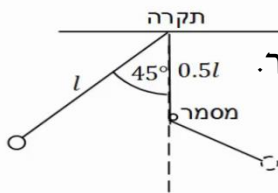


וכיוונה ימינה באיור.

- ציירו תרשים כוחות על הארגז.
- חשבו את העבודה שמבצע כל אחד מהכוחות.
- מהו הכוח השקול (גודל וכיוון) ומהי העבודה שמבצע הכוח השקול? ודאו כי התוצאה מתיישבת עם התוצאה של סעיף ב'.
- חשבו את מהירותו הסופית של הארגז, משיקולי אנרגיה.
- חשבו את תאוצתו של הארגז משיקולי כוחות ומצאו את מהירותו הסופית באמצעות התאוצה שחישבתם.

#### (2) מטוטלת עם מסמר

מטוטלת תלויה מהתקרה באמצעות חוט אידיאלי באורך  $\ell = 80\text{cm}$ . המטוטלת מוסטת לזווית של  $45^\circ$  ומשוחררת ממנוחה. בגובה  $0.5\ell$  מתחת לנקודת התליה של המטוטלת תקוע מסמר. מצא את הזווית המקסימלית אליה תגיע המטוטלת בצידה השני של התנועה.

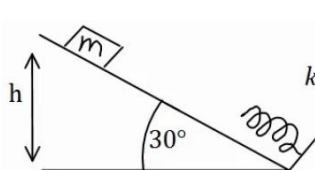


#### (3) גוף מחליק על מישור משופע ונתקע בקפיץ

מסה  $m = 20\text{gr}$  מחליקה מגובה  $h = 1\text{m}$ , וממנוחה, על מדרון משופע בזווית של  $30^\circ$ .

בתחתית המדרון המסה מתנגשת בקפיץ אידיאלי בעל קבוע קפיץ  $k = 100 \frac{N}{m}$

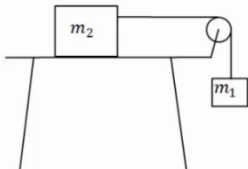
ואורך רפוי של 15 ס"מ.



- מהו הכיוון המקסימלי של הקפיץ ומהו הגובה המקסימלי אליו תחזור המסה אם המשטח חלק?  $k$
- חזור על סעיף א' אם קיים חיכוך בין המשטח למסה, ומקדם החיכוך הקינטי  $\mu_k = 0.1$ .
- הנח שהחיכוך הסטטי אינו חזק מספיק לעצור את המסה.

**(4) מסה על שולחן ומסה תלויה**

מסה,  $m_2 = 4\text{kg}$ , נמצאת על שולחן ומחוברת דרך חוט וגלגלת אידיאלית למסה,  $m_1 = 2\text{kg}$ , התלויה באוויר. גובה המסה  $m_1$  מעל הקרקע הוא  $h = 2\text{m}$ . המערכת מתחילה לנוע ממנוחה.



א. מצא את מהירות הפגיעה בקרקע של  $m_1$ , אם השולחן חלק.

ב. מצא את מהירות המסות כתלות בגובה המסה  $m_1$ .

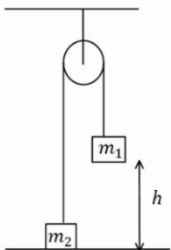
ג. חזור על סעיף א' כאשר קיים חיכוך עם השולחן,

ומקדם החיכוך הוא  $\mu_k = 0.2$ .

ד. כמה אנרגיה הלכה לאיבוד כחוסם במקרה של סעיף ג'? חשב בשתי צורות.

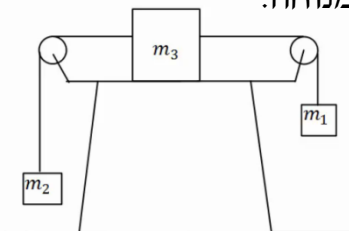
**(5) שתי מסות תלויות מהתקרה**

במערכת הבאה המסות תלויות מהתקרה באמצעות גלגלת אידיאלית. נתון  $m_1 > m_2$ , והגובה ההתחלתי של  $m_1$  הוא  $h$ . מצא את מהירות הפגיעה בקרקע של  $m_1$ , אם המערכת מתחילה ממנוחה.



**(6) מסה על שולחן ושתי מסות באוויר**

במערכת הבאה שלוש מסות.  $m_1 = 5\text{kg}, m_2 = 2\text{kg}, m_3 = 3\text{kg}$ . כל הגלגלות והחוטאים אידיאליים. המערכת מתחילה ממנוחה.



א. מצא את המהירות כתלות בהעתק של  $m_1$ .

הנח שהשולחן חלק.

ב. חזור על סעיף א' אם יש חיכוך עם השולחן

ומקדם החיכוך הקינטי הוא  $\mu_k = 0.2$ .

**(7) שתי מסות תלויות מהתקרה ודחיפה**

במערכת הבאה המסות תלויות מהתקרה באמצעות גלגלת אידיאלית.

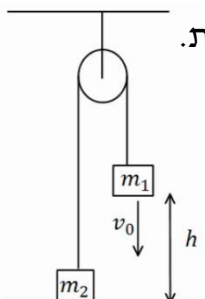
נתון  $m_1 < m_2$  והגובה ההתחלתי של  $m_1$  הוא  $h$ .

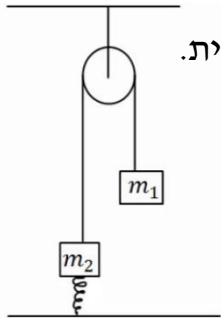
נותנים ל- $m_1$  מהירות התחלתית כלפי מטה שגודלה  $v_0$ .

א. מצא את הגובה המינימלי אליו תגיע  $m_1$ .

(הנח שהיא אינה פוגעת בקרקע).

ב. מצא את מהירות הפגיעה בקרקע של  $m_2$ .





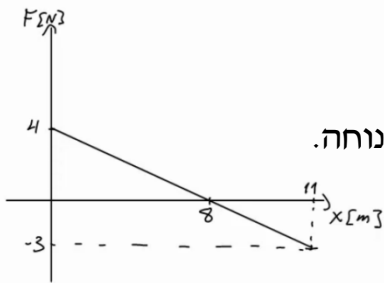
**8) שתי מסות תלויות מהתקרה וקפיץ**

במערכת הבאה המסות תלויות מהתקרה באמצעות גלגלת אידיאלית. המסה  $m_2$  מחוברת לרצפה באמצעות קפיץ אידיאלי. משחררים את המערכת ממנוחה במצב בו הקפיץ רפוי.

נתון:  $k = 10 \frac{N}{m}$ ,  $m_2 = 2\text{kg}$ ,  $m_1 = 4\text{kg}$ .

- א. מהי התארכות הקפיץ במצב שיווי משקל?
- ב. מהי התארכות המסות במצב שיווי משקל?
- ג. מהי ההתארכות המקסימלית של הקפיץ?

**9) גרף של כוח**



נתון גרף של כוח הפועל על גוף כתלות במיקום. הכוח הוא הכוח היחיד הפועל על הגוף. מסת הגוף היא  $m = 2\text{kg}$  והגוף מתחיל תנועתו ממנוחה.

- א. מצא את מהירות הגוף ב- $x = 18\text{m}$ .
- ב. מצא את מהירות הגוף ב- $x = 6\text{m}$ .

**10) כדור מקפץ מאבד אנרגיה**

כדור נופל ממנוחה לרצפה מגובה  $3\text{m}$ . בכל פעם שהכדור פוגע ברצפה הוא מאבד 8% מהאנרגיה שלו.

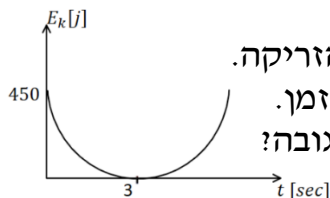
- א. מה הגובה המקסימאלי אליו יגיע הכדור לאחר הפגיעה הראשונה?
- ב. מה הגובה המקסימאלי אליו יגיע הכדור לאחר הפגיעה השלישית?
- ג. כמה פעמים יפגע הכדור ברצפה, עד שגובהו המקסימאלי יהיה קטן מ- $80\text{cm}$ ?

**11) זריקה אנכית עם גרף של אנרגיה קינטית**

כדור שמסתו  $1\text{kg}$  נזרק אנכית כלפי מעלה.

מישור הייחוס של האנרגיה הפוטנציאלית נבחר בנקודת הזריקה.

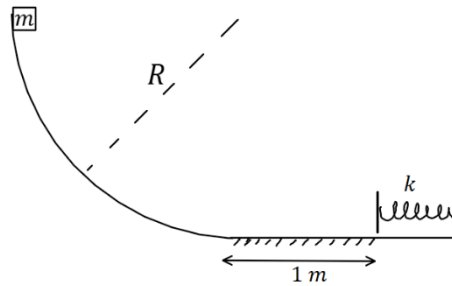
הגרף הנתון מתאר את האנרגיה הקינטית כפונקציה של הזמן.



- א. מהי מהירות הזריקה של הכדור ומתי הגיע לשיא הגובה?
- ב. מהו הגובה המקסימאלי אליו הגיע הכדור?
- ג. שרטט גרף של האנרגיה הפוטנציאלית של הכדור כפונקציה של הזמן. ציין על הגרף מהו הערך המירבי של האנרגיה ומהו הזמן בו חזר הכדור לקרקע.
- ד. חשב את עבודת כוח הכובד:
  - 1. מרגע הזריקה ועד שיא הגובה.
  - 2. מרגע הזריקה ועד שהכדור הגיע לגובה  $30\text{m}$  בדרכו חזרה.

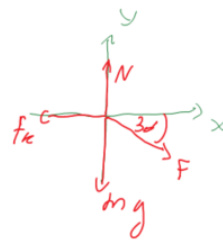
### 12) גוף מחליק על חצי מעגל ומכווץ קפיץ

- גוף בעל מסה  $m = 2\text{kg}$  משוחרר ממנוחה מקצה של מסילה חסרת חיכוך, בצורת רבע מעגל ברדיוס  $R = 2\text{m}$ . בתחתית המסילה הגוף מחליק על מישור אופקי, שאינו חלק, באורך 1 מטר. מקדם החיכוך הקינטי בין המישור לגוף הוא 0.3. בקצה הקטע עם החיכוך נמצא קפיץ רפוי; הגוף פוגע בקפיץ ומכווץ אותו לכיוון מקסימאלי של 0.1 מטר. החלק עליו נמצא הקפיץ חסר חיכוך.
- מהי מהירות הגוף ברגע פגיעתו בקפיץ?
  - מהו קבוע הקפיץ?
  - מהו הגובה המקסימאלי אליו יגיע הגוף, כאשר יחזור אל המסילה המעגלית בפעם הראשונה?



## תשובות סופיות

א. (1) ב.  $W_N = W_{mg} = 0$ ,  $W_F = 690\text{J}$ ,  $W_{f_k} = -200\text{J}$



ג. בכיוון ציר ה-x,  $\Sigma F = 250\text{N}$ ,  $W_{\Sigma F} = 490\text{J}$ . ד.  $v_F = 3.5 \frac{\text{m}}{\text{s}}$

א. (2)  $\theta_{\max} = 65.53^\circ$

א. הכיוון:  $x = 6.18\text{cm}$ , הגובה:  $h_F = 1\text{m}$  (3)

ב. הכיוון:  $\Delta x = 5.6\text{cm}$ , הגובה:  $h_F = 0.72\text{m}$

א. (4)  $v_{m_1} \approx 3.65 \frac{\text{m}}{\text{sec}}$  ב.  $v = \sqrt{\frac{40}{3}} - \frac{20}{3}h$  ג.  $v = \sqrt{8} \frac{\text{m}}{\text{sec}}$  ד.  $Q = 16\text{J}$

א. (5)  $v = \sqrt{\frac{2(m_1 - m_2)gh}{m_1 + m_2}}$

א. (6)  $v = \sqrt{6\Delta x}$  ב.  $v = \sqrt{4.8\Delta x}$

א. (7)  $h_{\min} = \frac{\frac{1}{2}(m_1 + m_2)v_0^2 + (m_1 - m_2)gh}{(m_1 - m_2)g}$  ב.  $|v_p| = |v_i| = |v_0|$

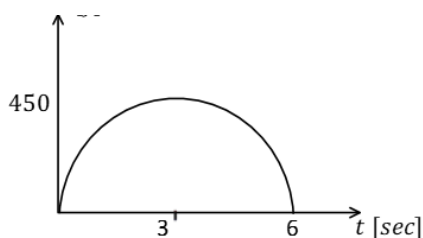
א. (8)  $x_0 = 2\text{m}$  ב.  $v \approx 2.58 \frac{\text{m}}{\text{sec}}$  ג.  $\Delta x_{\max} = 4\text{m}$

א. (9)  $v(x=18) = 3.00 \frac{\text{m}}{\text{sec}}$  ב.  $v(x=6) = 4.12 \frac{\text{m}}{\text{sec}}$

א. (10)  $h_{\max} = 2.76\text{m}$  ב.  $h_{\max} = 2.336\text{m}$  ג.  $n = 16$

א. (11)  $t = 3\text{sec}$ ,  $v_s = 30 \frac{\text{m}}{\text{s}}$  ב.  $45\text{m}$  ג.  $450$

ד.  $-450\text{J}$  2.  $-300\text{J}$



א. (12)  $5.83 \frac{\text{m}}{\text{s}}$  ב.  $6,800 \frac{\text{N}}{\text{m}}$  ג.  $1.4\text{m}$

## הספק

### שאלות

#### (1) דוגמה 1

- מכונית מתחילה לנסוע ממנוחה ומגיעה למהירות של 100 קמ"ש ב-10 שניות. מסת המכונית היא 1 טון. הניחו כי אין חיכוך עם האוויר.
- א. מהי העבודה שהתבצעה על המכונית?  
 ב. מהו ההספק של המנוע בהנחה שהוא קבוע ומנוצל במלואו (הנחה לא נכונה)?

#### (2) דוגמה 2

- אופנוע נוסע במהירות קבועה של 100 קמ"ש. כנגדו פועל כוח ההתנגדות מהאוויר של 300 ניוטון. מהו ההספק של המנוע, אם נניח שההספק מנוצל במלואו?

#### (3) הספק ממוצע לשנות מהירות

- איזה כוח קבוע יש להפעיל על מכונית בעלת מסה של 2 טון, כדי לשנות את מהירותה מ- $9 \frac{km}{hr}$  ל- $27 \frac{km}{hr}$  בתוך 4sec?  
 מהו ההספק הממוצע של כוח זה?

#### (4) רכבת צעצוע חשמלית

- רכבת צעצוע חשמלית מורכבת מ 10 קרונות. הקרון הראשון והשני מכילים מנוע חשמלי ושוקלים 2 ק"ג כל אחד. שאר הקרונות עמוסים בצעצועים ושוקלים 3 ק"ג כל אחד. כל אחד מן המנועים מייצר הספק קבוע של 0.2KW.
- א. כמה זמן ייקח לרכבת להגיע למהירות של 10 מטר לשנייה אם התחילה לנוע ממנוחה?  
 ב. מהי האנרגיה הקינטית של הקרון הראשון ומהי האנרגיה הקינטית של הקרון השני, כאשר הרכבת נעה במהירות שחישבת בסעיף א'?  
 ג. חשב את העבודה שביצע הכוח שפעל בחיבור בין הקרון הראשון לשני על הקרון השני בזמן ההאצה.  
 ד. חשב את העבודה שביצע הכוח שפעל בחיבור בין הקרון השני לשלישי על הקרון השלישי בזמן ההאצה.  
 ה. הרכבת מגיעה לעלייה עם שיפוע של 2 מעלות, מה צריך להיות ההספק המנועים (בהנחה שהם שווים) על מנת שהרכבת תישאר במהירות קבועה של 10 מטר לשנייה?



**(5) הספק כאשר נתון המיקום כתלות בזמן**

כוח יחיד פועל על גוף שמסתו 4kg, הכוח פועל בכיוון התנועה

והמיקום כתלות בזמן של הגוף הוא:  $x(t) = 2 + 3t + t^2$  ביחידות m.k.s.

א. מהי העבודה שמבצע הכוח במשך 3 השניות הראשונות של התנועה?

ב. מהו ההספק של הכוח ב-  $t = 2 \text{ sec}$  ?

**תשובות סופיות**

$$\Delta E_k \approx 385,800 \text{ j} = W_{\sum \vec{F}} \quad \text{א. (1)} \quad \text{ב. } p = 51.7 \text{ HP}$$

$$p = 11.18 \text{ HP} \quad \text{(2)}$$

$$F = 2500 \text{ N}, \quad \bar{p} = 16.76 \text{ HP} \quad \text{(3)}$$

$$\Delta t = 3.5 \text{ sec} \quad \text{א. (4)} \quad \text{ב. } E_{k_1=100 \text{ j}} = E_{k_2}$$

$$W_{3 \rightarrow 2} = 1200 \text{ j} \quad \text{ד. (5)}$$

$$W = 144 \text{ j} \quad \text{א. (5)} \quad \text{ה. } p = 97.7 \text{ W}$$

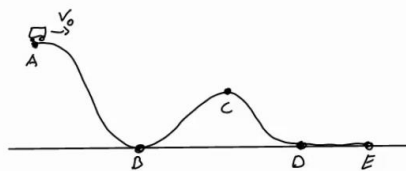
$$\text{ב. } p(t=2) = 56 \text{ W}$$

$$\text{ג. } W_{1 \rightarrow 2} = 600 \text{ j}$$

## אנרגיה פוטנציאלית-כובדית:

### שאלות:

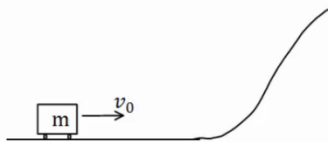
#### (1) רכבת הרים



רכבת הרים מתחילה בנסיעה מהנקודה A הנמצאת בגובה 20 מטרים. מהירותה בנקודה A היא 5 מטרים לשנייה. מצא את מהירותה בנקודות B, D, E הנמצאות על הקרקע, ובנקודה C הנמצאת בגובה 10 מטרים.

#### (2) עגלה עולה על גבעה

עגלה נעה בתחתית גבעה עם מהירות התחלתית של 20 מטר לשנייה. אין חיכוך בין העגלה לאדמה.



א. מהו הגובה המקסימלי אליו תגיע העגלה? לאחר שהגיעה לגובה המקסימלי מתחילה העגלה להתדרדר חזרה במורד הגבעה.  
 ב. מה תהיה מהירותה כשתגיע חזרה לתחתית?

### תשובות סופיות:

$$v_B \approx 20.62 \frac{\text{m}}{\text{sec}} = v_E = v_D, v_C \approx 15 \frac{\text{m}}{\text{sec}} \quad (1)$$

$$v_F = \pm v_0 \quad \text{ב.} \quad h_{\max} = 20\text{m} \quad \text{א.} \quad (2)$$

## הספק:

### שאלות:

#### (1) דוגמה 1

- מכונית מתחילה לנסוע ממנוחה ומגיעה למהירות של 100 קמ"ש ב-10 שניות. מסת המכונית היא 1 טון. הניחו כי אין חיכוך עם האוויר.
- א. מהי העבודה שהתבצעה על המכונית?
- ב. מהו ההספק של המנוע בהנחה שהוא קבוע ומנוצל במלואו (הנחה לא נכונה)?

#### (2) דוגמה 2

- אופנוע נוסע במהירות קבועה של 100 קמ"ש. כנגדו פועל כוח ההתנגדות מהאוויר של 300 ניוטון. מהו ההספק של המנוע, אם נניח שההספק מנוצל במלואו?

#### (3) הספק ממוצע לשנות מהירות

- איזה כוח קבוע יש להפעיל על מכונית בעלת מסה של 2 טון כדי לשנות את מהירותה מ- $9 \frac{\text{km}}{\text{hr}}$  ל- $27 \frac{\text{km}}{\text{hr}}$  בתוך 4 sec?
- מהו ההספק הממוצע של כוח זה?

#### (4) רכבת צעצוע חשמלית

- רכבת צעצוע חשמלית מורכבת מ 10 קרונוט. הקרון הראשון והשני מכילים מנוע חשמלי ושוקלים 2 ק"ג כל אחד. שאר הקרונוט עמוסים בצעצועים ושוקלים 3 ק"ג כל אחד. כל אחד מן המנועים מייצר הספק קבוע של 0.2KW.
- א. כמה זמן ייקח לרכבת להגיע למהירות של 10 מטר לשנייה, אם התחילה לנוע ממנוחה?
- ב. מהי האנרגיה הקינטית של הקרון הראשון ומהי האנרגיה הקינטית של הקרון השני, כאשר הרכבת נעה במהירות שחישבת בסעיף א'?
- ג. חשב את העבודה שביצע הכוח שפעל בחיבור בין הקרון הראשון לשני על הקרון השני בזמן ההאצה.
- ד. חשב את העבודה שביצע הכוח שפעל בחיבור בין הקרון השני לשלישי על הקרון השלישי בזמן ההאצה.
- ה. הרכבת מגיעה לעלייה עם שיפוע של 2 מעלות, מה צריך להיות ההספק המנועים (בהנחה שהם שווים), על מנת שהרכבת תישאר במהירות קבועה של 10 מטר לשנייה?



**5) הספק כאשר נתון מיקום כתלות בזמן**

כוח יחיד פועל על גוף שמסתו  $4\text{kg}$ , הכוח הפועל בכיוון התנועה והמיקום

כתלות בזמן של הגוף הוא:  $x(t) = 2 + 3t + t^2$  ביחידות m.k.s.

א. מהי העבודה שמבצע הכוח במשך 3 השניות הראשונות של התנועה?

ב. מהו ההספק של הכוח ב-  $t = 2\text{sec}$ ?

**תשובות סופיות:**

- (1)  $\Delta E_k \approx 385,800\text{J} = W_{\sum \vec{F}}$  א.      ב.  $p = 51.7\text{HP}$
- (2)  $p = 11.18\text{HP}$
- (3)  $F = 2500\text{N}$ ,  $\bar{p} \approx 16.76\text{HP}$
- (4)  $\Delta t = 3.5\text{sec}$  א.      ב.  $E_{k_1} = 100\text{J} = E_{k_2}$       ג.  $W_{1 \rightarrow 2} = 600\text{J}$
- ד.  $W_{3 \rightarrow 2} = 1200\text{J}$       ה.  $p = 97.7\text{W}$
- (5) א.  $W = 144\text{J}$       ב.  $p(t=2) = 56\text{W}$

# מכניקה לביולוגיה מולקולרית

## 711161001

פרק 11 - תרגילים לחזרה עד עבודה ואנרגיה כולל

תוכן העניינים

124	1. תנועה בקו ישר -שאלה עם גרף
126	2. תנועה במישור- רקטה ממסתור.
127	3. אנרגיות וזריקה משופעת- בוכנה עם קפיץ.
128	4. כוח מושך במורד מדרון.
129	5. חוק שני וחום- בלאגן שלם.

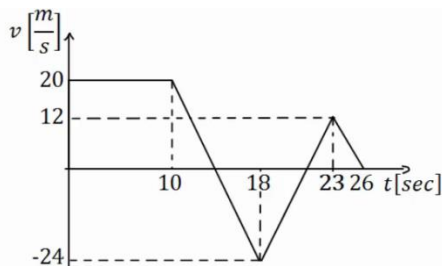
## תנועה בקו ישר – שאלה עם גרף:

### שאלות:

1) גוף נע לאורך ציר ה- $x$  כך שמהירותו לפי הזמן נתונה בגרף הבא.

הנח שהגוף מתחיל תנועתו מ- $x = 0$ .

א. מצא את תאוצת הגוף בזמנים:  $t = 2, 12, 17, 20, 24$ .



ב. שרטט גרף של תאוצת הגוף כתלות בזמן.

ג. מתי העתק הגוף מקסימלי? ומהו גודלו?

ד. באיזה מהירות קבועה צריך גוף אחר לנוע

על מנת שיעשה את אותו ההעתק הכולל

באותו זמן (26 שניות) כמו הגוף הנ"ל?

ה. רשום משוואת מהירות-זמן עבור הגוף.

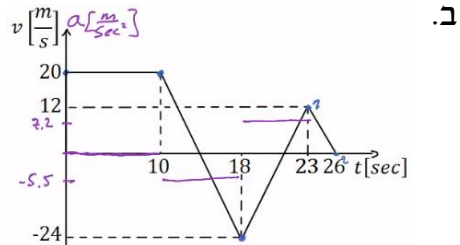
ו. רשום משוואת מיקום-זמן עבור הגוף.

ז. שרטט גרף מיקום-זמן עבור הגוף.

## תשובות סופיות:

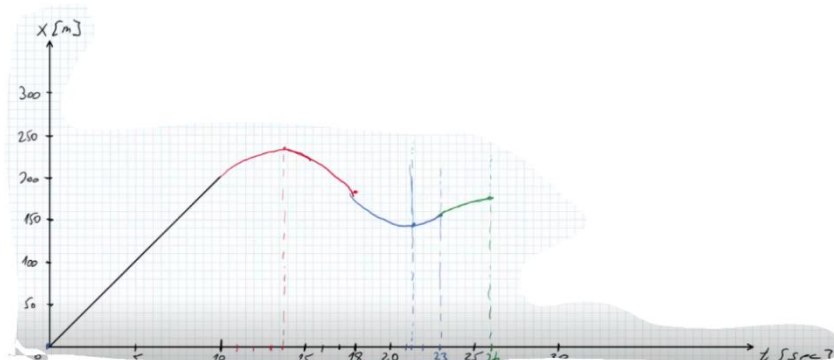
$$a(t=2)=0, a(t=12)=a(t=17)=-5.5, a(t=20)=7.2, a(t=24)=-4 \frac{\text{m}}{\text{sec}^2} \quad \text{א. (1)}$$

ג. בזמן:  $t \approx 13.64$ , הגודל:  $\Delta x_{\text{max}} = 236.4\text{m}$ .



$$v(t) = \begin{cases} 20 & 0 < t < 10 \\ 20 - 5.5(t-10) & 10 < t < 18 \\ -24 + 7.2(t-18) & 18 < t < 23 \\ 12 - 4(t-23) & 23 < t < 26 \end{cases} \quad \text{ה.} \quad \bar{v} \approx 6.62 \frac{\text{m}}{\text{sec}} \quad \text{ד.}$$

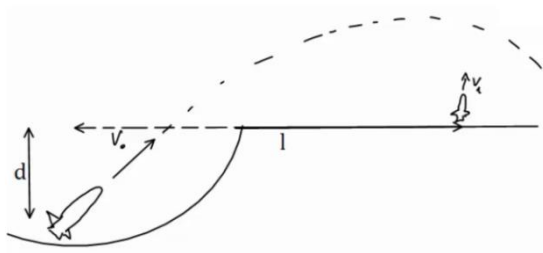
$$x(t) = \begin{cases} 20t & 0 < t < 10 \\ 200 + 20(t-10) + \frac{1}{2}(-5.5)(t-10)^2 & 10 < t < 18 \\ 184 + (-24)(t-18) + \frac{1}{2}7.2(t-18)^2 & 18 < t < 23 \\ 154 + 12(t-23) + \frac{1}{2}(-4)(t-23)^2 & 23 < t < 26 \end{cases} \quad \text{ו.}$$



## תנועה במישור – רקטה ממסתור:

### שאלות:

- (1) רקטה יוצאת מנקודת מסתור במהירות  $v_0$  ובזווית  $\theta$  ביחס לאופק. גובה המסתור הוא  $d$  מטרים מתחת לקרקע. במרחק אופקי  $l$  מנקודת הירי של הרקטה, יוצאת רקטה נוספת במהירות  $v_1$  כלפי מעלה. התייחס לפרמטרים בגוף השאלה כנתונים.
- א. מהו גובה הרקטה הראשונה כאשר היא חולפת מעל הרקטה השניה.  
 ב. מתי יש לירות את הרקטה השניה על מנת שתפגע ברקטה הראשונה (מספיק להגיע למשוואה ריבועית עם המשתנה והפרמטרים הנתונים).



### תשובות סופיות:

$$h = -d + v_0 \sin \theta \cdot \frac{l}{v_0 \cos \theta} - \frac{g}{2} \left( \frac{l}{v_0 \cos \theta} \right)^2 \quad \text{א. (1)}$$

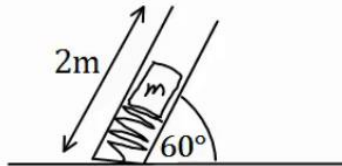
$$h = v_1(t_1 - t_0) - \frac{g}{2}(t_1 - t_0)^2 \quad \text{ב.}$$

## אנרגיות וזריקה משופעת – בוכנה עם קפיץ:

### שאלות:

- (1) מכניסים מסה 4kg לתוך בוכנה המכילה קפיץ רפוי. אורכו הרפוי של הקפיץ הוא כאורך הבוכנה 2m. הבוכנה נמצאת בזווית 60 מעלות ביחס לקרקע. לוחצים את המסה לתוך הבוכנה כך שהקפיץ מתכווץ 1 מטר ומשחררים. קבוע הקפיץ הוא:  $k = 200 \frac{\text{N}}{\text{m}}$ .

- מהי מהירות המסה ביציאה מהבוכנה?
- מהו הגובה המקסימלי אליו תגיע המסה?
- מהו המרחק מתחתית הבוכנה בו תפגע המסה בקרקע?
- מהי מהירות המסה בפגיעה, גודל וכיוון?



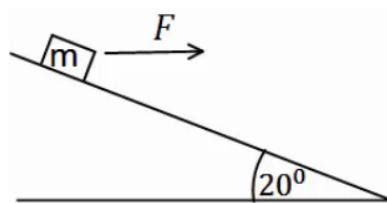
### תשובות סופיות:

- (1) א.  $v \approx 5.72 \frac{\text{m}}{\text{sec}}$     ב.  $y \approx 2.96\text{m}$     ג.  $x(t=1.26) \approx 4.6\text{m}$
- ד. מהירות:  $v_y(t=1.26) = -7.65 \frac{\text{m}}{\text{sec}}$ , גודל:  $|\vec{v}| \approx 8.17 \frac{\text{m}}{\text{sec}}$ , כיוון:  $\theta = 69.5^\circ$ .

## כוח מושך במורד מדרון:

### שאלות:

- (1) כוח אופקי  $F = 30\text{N}$  מושך מסה  $M = 4\text{kg}$  במורד מדרון משופע. זווית השיפוע היא  $20^\circ$ . בין המדרון למסה קיים חיכוך קינטי ומקדם החיכוך הוא  $\mu_k = 0.2$ .
- האם המסה מתנתקת מהמדרון?
  - מהי עבודת הכוח  $F$  אם הגוף נע 3 מטרים במורד המדרון?
  - מהי עבודת כוח הכובד באותה הדרך?
  - מהי עבודת החיכוך?
  - מהי עבודת הנורמל?
  - מהו השינוי באנרגיה הקינטית של הגוף?
  - מהי מהירות הגוף בסוף הקטע אם התחיל תנועתו ממהירות של 2 מטרים לשנייה?



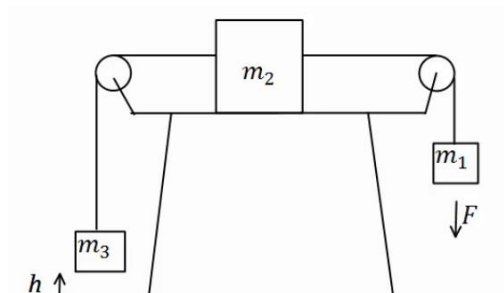
### תשובות סופיות:

- (1) א. לא. ב.  $W_F = 84.57\text{J}$  ג.  $W_g = 41.04$  ד.  $W_{fk} \approx -16.4\text{J}$
- ה.  $W_N = 0$  ו.  $\Delta E_k = 109.21\text{J}$  ז.  $v \approx 7.66 \frac{\text{m}}{\text{sec}}$

## חוק שני וחום – בלאגן שלם:

### שאלות:

- (1) במערכת הבאה גדלי המסות הן:  $m_1 = 1\text{kg}$ ,  $m_2 = 2\text{kg}$ ,  $m_3 = 3\text{kg}$  ברגע  $t = 0$ .  
 המערכת נמצאת במנוחה והגובה של  $m_3$  מעל הקרקע הוא  $h = 50\text{cm}$ .  
 באותו הרגע פועל כוח  $F = 32\text{N}$  על  $m_1$  במשך 2 שניות.  
 הנח ש-  $m_2$  לא פוגעת באף גלגלת במהלך התנועה ו-  $m_1$  לא פוגעת בקרקע.  
 בין  $m_2$  למשטח יש חיכוך ומקדם החיכוך הוא  $\mu_k = 0.2$ .  
 א. מהי תאוצת המערכת?  
 ב. מהו הגובה המקסימלי אליו מגיעה  $m_3$ ?  
 ג. מתי תפגע  $m_3$  ברצפה?  
 ד. כמה חום נוצר במהלך כל התנועה?



### תשובות סופיות:

(1) א.  $a = \frac{4}{3} \frac{\text{m}}{\text{sec}^2}$  ב.  $h_{\text{max}} \approx 4.06\text{m}$  ג.  $t = 4.41\text{sec}$  ד.  $Q = 30.44\text{J}$

# מכניקה לביולוגיה מולקולרית

## 711161001

פרק 12 - תנועה מעגלית

תוכן העניינים

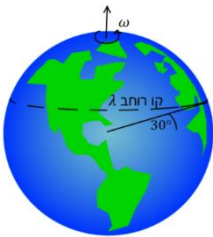
130	1. תיאוריה ודוגמאות
(ללא ספר)	2. תאוצה זוויתית
134	3. תרגילים נוספים

## תיאוריה ודוגמאות:

### שאלות:



- (1) חישוב מהירות זוויתית של מחוגי שעות  
 חשב את המהירות הזוויתית של מחוג השניות,  
 מחוג הדקות ומחוג השעות בשעון מחוגים.



- (2) חישוב מהירות זוויתית של כדור הארץ  
 א. חשב את המהירות הזוויתית של סיבוב כדור הארץ  
 סביב עצמו.  
 ב. מהי המהירות הקווית של אדם הנמצא בקו המשווה,  
 אם רדיוס כדור הארץ הוא בערך 6,400 ק"מ?  
 ג. מהי המהירות הקווית של אדם הנמצא בקו רחב  $\lambda = 30^\circ$  ?

### (3) אבן קשורה לחוט

אבן קשורה לחוט באורך  $l = 1.5\text{m}$  ומסתובבת במעגל אופקי עם מהירות

זוויתית של  $\omega = 3 \frac{\text{rad}}{\text{sec}}$ . התעלם מכוח הכובד.  $m = 2\text{kg}$ .

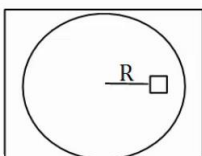
א. מהי המהירות הקווית של האבן?

ב. מהי המתוחות בחוט?

### (4) מסה על דיסק



מבט על



מסה  $M$  מונחת על דיסק החופשי להסתובב מעל שולחן אופקי.  
 המסה נמצאת במרחק  $R$  ממרכז הדיסק, ובין המסה למשטח  
 יש חיכוך. מסובבים את הדיסק במהירות זוויתית  $\omega$   
 ונתון כי המסה אינה זזה ביחס לדיסק.

א. האם החיכוך בין הדיסק למסה קינטי או סטטי?

ב. מהו גודלו וכיוונו של כוח החיכוך?

ג. מהי המהירות הזוויתית המקסימלית שבה ניתן לסובב  
 את הדיסק ככה שהמסה לא תחליק?

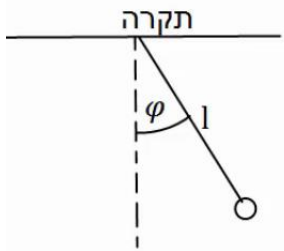
נתון  $\mu_s$ .

**(5) גוף מסתובב במהירות קבועה**

גוף מסתובב במעגל בעל רדיוס  $R = 3\text{m}$  במהירות קבועה  $v = 6 \frac{\text{m}}{\text{sec}}$ .

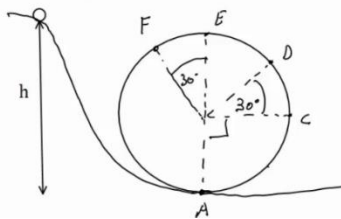
- מהי המהירות הזוויתית של הגוף?
- מהי התדירות וזמן המחזור של הגוף?
- כמה זמן לקח לגוף לעשות שניים וחצי סיבובים?

**(6) מטוטלת אופקית**



מטוטלת באורך  $l = 2\text{m}$  תלויה מהתקרה ומסתובבת במעגל אופקי. זווית החוט עם האנך לתקרה היא  $\varphi = 30^\circ$  והיא קבועה במהלך התנועה. מצא את זמן המחזור ותדירות הסיבוב של המטוטלת, אם ידוע שהתנועה קצובה.

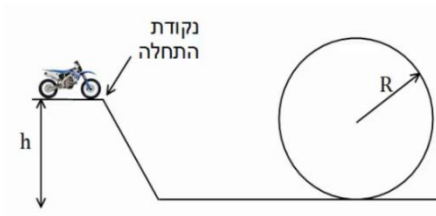
**(7) כדור בלופ**



כדור קטן מאוד מתחיל להתגלגל ממנוחה מגובה  $h = 6\text{m}$  ונכנס לתוך מעגל אנכי. נתון שהכדור משלים סיבוב ואין חיכוך בינו לבין הרצפה. רדיוס המעגל הוא  $R = 2\text{m}$ .

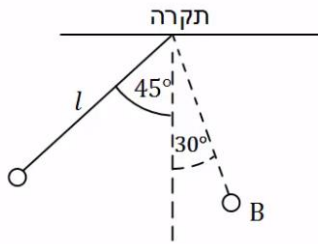
- מצא את מהירות הכדור בכל הנקודות באיור. (רמז: שימור אנרגיה).
- מצא את התאוצה הרדיאלית של הכדור באותן נקודות.
- מצא את התאוצה בכיוון המשיק באותן נקודות.
- מצא את גודל התאוצה הכוללת באותן נקודות.

**(8) רוכב אופנוע במעגל אנכי**



רוכב אופנוע מתחיל תנועתו מנקודת ההתחלה שבציר. מהי המהירות ההתחלתית המינימלית הנדרשת עבור הרוכב, כך שיוכל להשלים את הסיבוב האנכי?

הנח שהרוכב אינו משתמש במנוע לאחר נקודת ההתחלה. נתון:  $h, R$ .

**9) כוחות במטוטלת**

מטוטלת משוחררת ממנוחה מזווית של  $45^\circ$  מעלות.

אורך החוט הוא  $l$  והמסה היא  $m$ .

א. מהי מהירות המסה בתחתית המסלול?

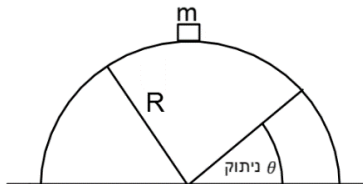
ב. מהי המתחיות בחוט ברגע זה?

ג. מהי מהירות המסה בנקודה B הנמצאת

בזווית  $30^\circ$  מעלות?

ומהי המתחיות בחוט באותה נקודה?

ד. מהי המתחיות בחוט בשיא הגובה וברגע השחרור?

**10) קופסה מחליקה על גבעה מעגלית**

קופסה במסה  $m$  מונחת על ראש גבעה בצורת

חצי מעגל ברדיוס  $R$ .

הקופסה מתחילה להחליק לאחד הצדדים

ממנוחה כאשר אין חיכוך בינה לבין הגבעה.

מצא באיזה זווית הקופסה תתנתק מהגבעה.

## תשובות סופיות:

$$(1) \quad \text{מחוג שניות: } 0.105 \frac{\text{rad}}{\text{sec}}, \text{ מחוג דקות: } 1.75 \cdot 10^{-3} \frac{\text{rad}}{\text{sec}}, \text{ מחוג שעות: } 7.27 \cdot 10^{-5} \frac{\text{rad}}{\text{sec}}$$

$$(2) \quad \text{א. } 7.27 \cdot 10^{-5} \frac{\text{rad}}{\text{sec}} \quad \text{ב. } 465 \frac{\text{m}}{\text{sec}} \quad \text{ג. } 400 \frac{\text{m}}{\text{sec}}$$

$$(3) \quad \text{א. } |\vec{v}| = \omega R = 4.5 \frac{\text{m}}{\text{sec}} \quad \text{ב. } T \approx 27 \text{N}$$

$$(4) \quad \text{א. סטטי.} \quad \text{ב. } f_s = M\omega^2 R \quad \text{ג. } \omega_{\max} = \sqrt{\frac{\mu_s g}{R}}$$

$$(5) \quad \text{א. } \omega = 2 \cdot \frac{1}{\text{sec}} \quad \text{ב. תדירות: } f \approx 0.32 \cdot \frac{1}{\text{sec}} \quad \text{זמן מחזור: } T = \pi \text{ sec} \quad \text{ג. } t \approx 7.85 \text{ sec}$$

$$(6) \quad \text{תדירות: } f \approx 0.382 \frac{1}{\text{sec}} \quad \text{זמן מחזור: } T = 2.61 \text{ sec}$$

$$(7) \quad \text{א. } v_A \approx 10.95 \frac{\text{m}}{\text{sec}}, v_C \approx 8.94 \frac{\text{m}}{\text{sec}}, v_D \approx 7.975 \frac{\text{m}}{\text{sec}}, v_E \approx 6.32 \frac{\text{m}}{\text{sec}}, v_F \approx 6.73 \frac{\text{m}}{\text{sec}}$$

$$\text{ב. } a_r = \frac{v^2}{R} \quad \text{וכן, לפי הנוסחה } a_{r_A} = 60 \frac{\text{m}}{\text{sec}^2}, a_{r_B} = 40 \frac{\text{m}}{\text{sec}^2}$$

$$\text{ג. } a_{\theta_A} = 0, a_{\theta_C} = -g, a_{\theta_D} = -10 \cdot \frac{\sqrt{3}}{2} \frac{\text{m}}{\text{sec}^2}, a_{\theta_E} = 0, a_{\theta_F} = 5 \frac{\text{m}}{\text{sec}^2}$$

$$\text{ד. } |\vec{a}| = \sqrt{a_x^2 + a_y^2} = \sqrt{a_r^2 + a_\theta^2}$$

$$(8) \quad v_{\min} = \sqrt{gR}$$

$$(9) \quad v = \sqrt{0.58g l} \quad \text{א.} \quad T = 1.58 \text{mg} \quad \text{ב.} \quad v_B = \sqrt{0.32g l}, T_B = 1.19 \text{mg} \quad \text{ג.}$$

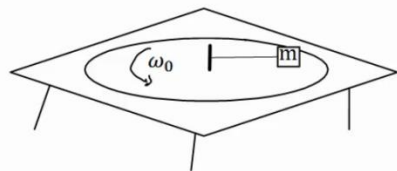
$$\text{ד. } T = \frac{1}{\sqrt{2}} \text{mg}$$

$$(10) \quad \theta = 41.8^\circ$$

## תרגילים נוספים:

### שאלות:

#### (1) מסה על דיסק קשורה בחוט



מסה  $m$  נמצאת על דיסק המסתובב על גבי שולחן. המסה קשורה בחוט למוט במרכז השולחן. המוט מסתובב ביחד עם כל הדיסק. נתון כי המסה מסתובבת עם הדיסק במהירות זוויתית  $\omega_0$ .

מהי המתיחות בחוט אם אורכו  $L$ ?

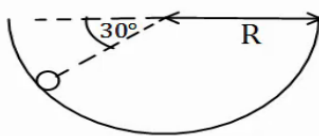
#### (2) קרוסלה בלונה פארק



במתקן בלונה פארק ישנה קרוסלה מסתובבת אליה קשורים כבלים עם כסאות, ראה תמונה. רדיוס "הכתר" הוא  $R = 5\text{m}$  אורך כל כבל הוא  $l = 4\text{m}$ . הזווית ביחס לאנך לרצפה בה נטוי כל כבל היא  $40^\circ$  מעלות.

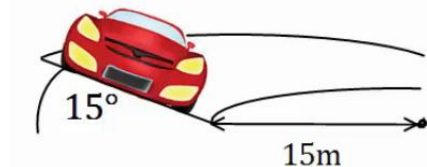
כמה זמן לוקח לקרוסלה להשלים סיבוב? שים לב שרדיוס הכתר הוא לא רדיוס הסיבוב.

#### (3) כדור בקערה כדורית



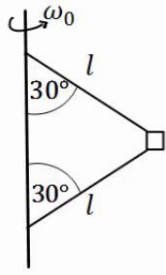
כדור קטן מונח בתוך קערה חצי כדורית בעלת רדיוס  $R$ . מניחים את הכדור בזווית של  $30^\circ$  מעלות ביחס לאופק ונותנים לו מהירות התחלתית לתוך הדף. מהו גודל המהירות ההתחלתית הדרוש, כך שהכדור יישאר בתנועה מעגלית בגובה קבוע?

#### (4) מכונית במחלף



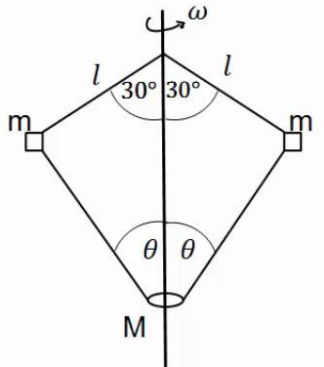
מכונית נוסעת על מחלף משופע. זווית השיפוע של המחלף היא  $15^\circ$  מעלות. רדיוס הסיבוב של המחלף הוא  $15$  מטרים. אם נניח שלמכונית אין חיכוך עם הכביש, מה המהירות בה צריכה לנסוע המכונית על מנת לא להחליק?

**(5) מסה קשורה לעמוד מסתובב**



בציור הבא מסה  $m$  קשורה דרך שני חוטים למוט, המסתובב במהירות זוויתית נתונה  $\omega_0$ . אורך החוטים זהה ונתון  $l$ . הזווית של החוטים עם המוט היא  $30^\circ$  מעלות. מהי המתיחות בכל חוט?

**(6) שתי מסות קשורות למוט מסתובב וחרוז**



בציור הבא 2 מסות זהות  $m = 200g$  קשורות למוט מסתובב, באמצעות חוטים באורך  $l = 20cm$ . המסות קשורות גם לחרוז בעל מסה  $M = 0.5kg$ , באמצעות שני חוטים נוספים באורך לא ידוע. החרוז חופשי לנוע לאורך המוט. המוט מסתובב במהירות זוויתית  $\omega = 20 \frac{rad}{sec}$  וכל המערכת איתו. הזוויות של החוטים עם המוט נתונות באיור. מהי המתיחות בכל חוט ומהי הזווית  $\theta$ ?

**(7) מסה על שולחן מסתובב קשורה לשתי מסות**

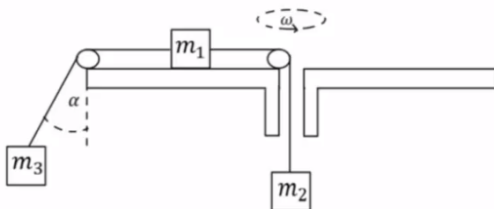
גוף שמסתו  $m_1 = 5kg$  מונח על דיסק חלק המסתובב במהירות זוויתית  $\omega = 2 \frac{rad}{sec}$ . הגוף קשור מצד אחד למסה  $m_2 = 3kg$  באמצעות חוט העובר דרך חור במרכז הדיסק. מצד שני הגוף קשור למסה  $m_3 = 1kg$  באמצעות חוט היוצא מקצה הדיסק בזווית  $\alpha$ , לא ידועה, ביחס לאנך מהדיסק. רדיוס הסיבוב של כל אחד מהגופים קבוע. נתון כי הרדיוס של  $m_1$  הוא  $R_1 = 0.3m$ .

א. ציירו את הכוחות הפועלים על כל גוף בנפרד.

ב. מהי המתיחות בכל חוט?

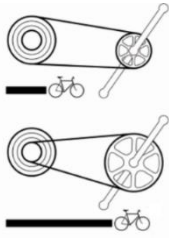
ג. מהי הזווית  $\alpha$ ?

ד. מהו  $R_3$ ?



**8) הילוכי אופניים**

הילוכים של אופניים מורכבים משני גלגלי שיניים ברדיוסים שונים ושרשרת המקיפה את שני הגלגלים. כאשר השרשרת מתוחה האורך שלה קבוע. מצאו את הקשר בין מהירות הסיבוב של גלגלי השיניים אם הרדיוסים שבהם מקיפה השרשרת כל אחד מהגלגלים ידועים.


**9) חוט נקרע במעגל אנכי גבוה\***

כדור קטן שמסתו  $m$  קשור לקצהו של חוט שאורכו  $l$ . הכדור מסתובב במעגל אנכי שמרכזו בגובה  $2l$  מעל הרצפה. כאשר החוט מתוח והכדור נמצא אנכית מעל ציר סיבוב מעניקים לו מהירות אופקית  $v_0$ .

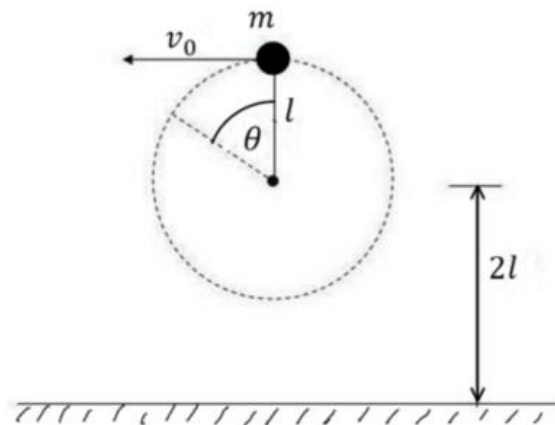
א. מה המהירות המינימלית  $v_0$  הנדרשת כדי שהכדור יבצע תנועה מעגלית שלמה?

ב. מעניקים לכדור מהירות התחלתית:  $v_0 = 1.5\sqrt{gl}$ .

אם החוט נקרע ברגע שמתחילתו עולה על  $5.25mg$  מצאו את הזווית  $\theta$  שבה יקרע החוט.

ג. מה המהירות הכדור ברגע שהחוט נקרע, אם נתון ש:  $l = 2m$ ?

ד. תוך כמה זמן מרגע קריעת החוט יפגע הכדור ברצפה?



## תשובות סופיות:

$$T = m\omega_0^2 L \quad (1)$$

$$t \approx 5.98 \text{ sec} \quad (2)$$

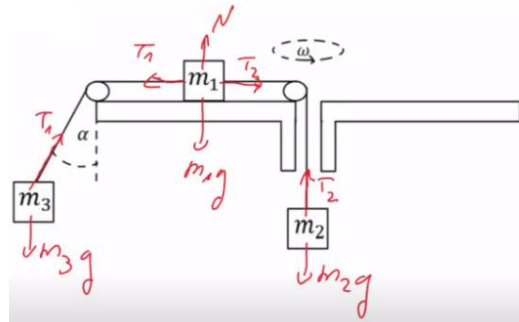
$$v_0 = \sqrt{\frac{3}{2}} Rg \quad (3)$$

$$v \approx 6.34 \frac{\text{m}}{\text{sec}} \quad (4)$$

$$T_1 = \frac{1}{2} m\omega_0^2 l + \frac{1}{\sqrt{3}} mg, \quad T_2 = \frac{1}{2} \left( m\omega_0^2 l - \frac{2}{\sqrt{3}} mg \right) \quad (5)$$

$$T_1 \approx 5.2 \text{ N}, T_2 \approx 5.95 \text{ N}, \theta \approx 65.16^\circ \quad (6)$$

$$T_1 = 24 \text{ N}, T_2 = 30 \text{ N} \quad \text{ב.} \quad \text{א.} \quad (7)$$



$$R_3 \approx 5.5 \text{ m} \quad \text{ד.}$$

$$\alpha \approx 65^\circ \quad \text{ה.}$$

$$\frac{\omega_1}{\omega_2} = \frac{r_2}{r_1} \quad (8)$$

$$0.3 \text{ sec} \quad \text{ז.} \quad 10 \frac{\text{m}}{\text{sec}} \quad \text{ח.} \quad 110^\circ \quad \text{ט.} \quad \sqrt{gl} \quad \text{י.} \quad (9)$$

# מכניקה לביולוגיה מולקולרית

## 711161001

פרק 13 - מתקף ותנע

תוכן העניינים

138	1. מתקף
139	2. תנע ושימור תנע
143	3. התנגשות אלסטית
144	4. התנגשות פלסטית ורתע
145	5. מקרים מיוחדים
146	6. תרגילים נוספים

## מתקף:

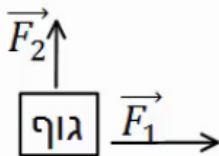
### שאלות:

#### (1) שחקן בועט בכדור

שחקן כדורגל בועט בכדור, הכוח הממוצע שמפעיל השחקן הוא 100 ניוטון בכיוון ציר ה- $x$ .  
 זמן המגע של השחקן עם הכדור הוא 0.2 שניות.  
 חשב את המתקף שהפעיל השחקן על הכדור.

#### (2) חישוב מתקף כולל

בציור הבא נתון גוף שפועלים עליו שני כוחות:  $\vec{F}_1 = 2\hat{x}$ ,  $\vec{F}_2 = 3\hat{y}$ .



זמן הפעולה של שני הכוחות הוא:  $\Delta t = 0.5 \text{ sec}$ .

א. חשב את המתקף של כל כוח בנפרד.

ב. מצא את וקטור המתקף הכולל. מהו גודלו וכיוונו?

ג. חשב את שקול הכוחות הפועל על הגוף ומצא

באמצעות שקול הכוחות את גודל המתקף הכולל.

### תשובות סופיות:

$$\vec{J} = 20\text{N}\hat{x} \quad (1)$$

$$\vec{J}_1 = 1 \cdot \hat{x}, \vec{J}_2 = 1.5 \cdot \hat{y} \quad (2)$$

ב.  $(1, 1.5)$ , גודל:  $|\vec{J}_T| \approx 1.8\text{N}\cdot\text{sec}$ , כיוון:  $\theta \approx 56.31^\circ$ .

ג.  $\sum \vec{F} = 2\hat{x} + 3\hat{y}$ , גודל:  $|\vec{J}_T| \approx 1.8\text{N}\cdot\text{sec}$ .

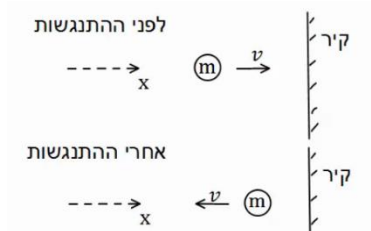
## תנע ושימור תנע:

### שאלות:

#### 1) כדור מתנגש בקיר

כדור בעל מסה  $m = 0.5\text{kg}$  נע במהירות  $v = 5 \frac{\text{m}}{\text{sec}}$  בכיוון ציר ה- $x$ .

ברגע מסויים הכדור מתנגש בקיר וחוזר חזרה באותה מהירות. התעלם מכוח הכובד.



א. מהו התנע של הכדור לפני ההתנגשות?

ב. מהו התנע של הכדור לאחר ההתנגשות?

ג. מהו השינוי בתנע?

ד. מהו המתקף שהפעיל הקיר על הכדור?

ה. מהו הכוח הנורמלי הממוצע שהפעיל הקיר

על הכדור, אם משך זמן ההתנגשות היה 0.2 שניה.

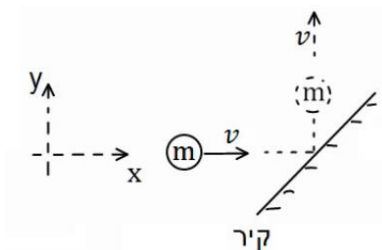
#### 2) כדור מתנגש בקיר משופע

כדור בעל מסה  $m = 0.2\text{kg}$  נע במהירות  $v = 3 \frac{\text{m}}{\text{sec}}$  בכיוון ציר ה- $x$ .

ברגע מסויים הכדור מתנגש בקיר משופע.

לאחר ההתנגשות הכדור נע בכיוון החיובי של ציר ה- $y$  באותו גודל של מהירות.

התעלם מכוח הכובד.



א. מהו התנע של הכדור לפני ההתנגשות?

ב. מהו התנע של הכדור לאחר ההתנגשות?

ג. מהו השינוי בתנע?

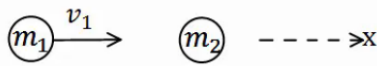
ד. מהו המתקף שהפעיל הקיר על הכדור?

ה. מהו הכוח הנורמלי הממוצע שהפעיל הקיר על הכדור,

אם משך זמן ההתנגשות היה 0.1 שנייה?

### (3) כדור מתנגש בכדור במנוחה

כדור 1 בעל מסה  $m_1 = 2\text{kg}$  נע במהירות  $v_1 = 20 \frac{\text{m}}{\text{sec}}$  בכיוון ציר ה- $x$ .



ברגע מסוים הכדור פוגע בכדור 2 הנמצא במנוחה.

מסת הכדור השני היא  $m_2 = 3\text{kg}$ .

לאחר הפגיעה, כדור 1 ממשיך במהירות  $u_1 = 5 \frac{\text{m}}{\text{sec}}$  בכיוון החיובי של ציר ה- $x$ .

- מהו התנע הכולל לפני ההתנגשות?
- השתמש בחוק שימור התנע ומצא את מהירותו של כדור 2 לאחר ההתנגשות.
- מהו המתקף שפעל על כדור 1?
- מהו המתקף שפעל על כדור 2?
- מהו המתקף שפעל על כל המערכת?

### (4) שני כדורים נעים אחד כלפי השני

שני כדורים נעים אחד כלפי השני ומתנגשים ברגע מסוים. מסות הכדורים והמהירות שלהם לפני ההתנגשות



הן:  $v_1 = 10 \frac{\text{m}}{\text{sec}}$ ,  $v_2 = 15 \frac{\text{m}}{\text{sec}}$ ,  $m_1 = 4\text{kg}$ ,  $m_2 = 3\text{kg}$ .

מהירותו של כדור 2 לאחר ההתנגשות היא:  $u_2 = 12 \frac{\text{m}}{\text{sec}}$ , בכיוון הפוך למהירותו לפני ההתנגשות.

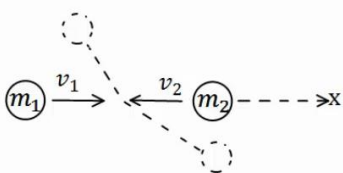
הנח שההתנגשות היא מצחית (כלומר, שהכדורים נשארים על אותו ציר לאחר ההתנגשות).

- מהו התנע הכולל לפני ההתנגשות?
- השתמש בחוק שימור התנע ומצא את מהירותו של כדור 1 לאחר ההתנגשות.
- מהו המתקף שפעל על כדור 1?
- מהו המתקף שפעל על כדור 2?
- מהו המתקף שפעל על כל המערכת?

### (5) התנגשות דו-מימדית

שני כדורים נעים אחד כלפי השני על ציר ה- $x$ .

מהירויות הכדורים ומסותיהן הן:  $v_1 = 10 \frac{\text{m}}{\text{sec}} \hat{x}$ ,  $v_2 = -5 \frac{\text{m}}{\text{sec}} \hat{x}$ ,  $m_1 = 3\text{kg}$ ,  $m_2 = 4\text{kg}$ .



הכדורים מתנגשים ולאחר ההתנגשות כדור אחד נע

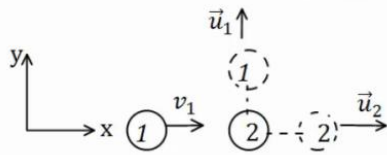
בזווית של 30 מעלות מתחת לציר ה- $x$  וכדור 2 נע

בזווית של 120 מעלות עם ציר ה- $x$  החיובי.

- מצא את גודל מהירויות הכדורים לאחר ההתנגשות.
- מה המתקף שפעל על כל כדור?

### 6 איזה התנגשות אפשרית

כדור מספר 1 נע במהירות חיובית על ציר ה- $x$ .  
ברגע מסוים הוא מתנגש בכדור מספר 2 הנמצא במנוחה.  
נתון כי לאחר ההתנגשות מהירותו של כדור 2



היא בכיוון ציר ה- $x$ .

א. האם יתכן כי מהירותו של כדור 1

לאחר ההתנגשות היא רק בכיוון ציר ה- $y$ ?

ב. האם יתכן כי מהירותו לאחר ההתנגשות

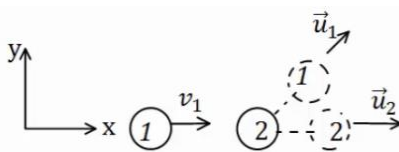
היא בזווית של 30 מעלות עם ציר ה- $x$ ?

ג. האם יתכן שכדור מספר 1 נע בכיוון החיובי

של ציר ה- $x$  לאחר ההתנגשות?

ד. האם יתכן כדור מספר 1 נע בכיוון השלילי של ציר ה- $x$  לאחר ההתנגשות?

ה. האם יתכן ששני הכדורים נעים בכיוון השלילי של ציר ה- $x$  לאחר ההתנגשות?

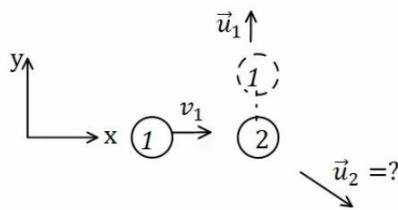


### 7 מציאת המהירות של כדור 2

כדור מספר 1 נע בכיוון החיובי של ציר ה- $x$ .

מסתו היא  $m_1 = 3\text{kg}$  ומהירותו היא  $v_1 = 12 \frac{\text{m}}{\text{sec}} \hat{x}$ .

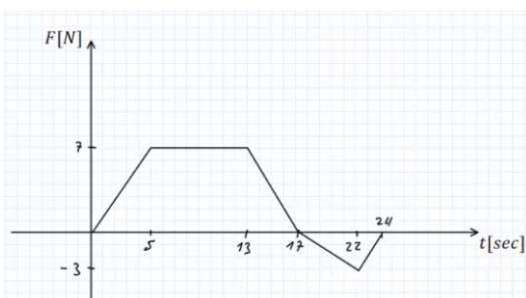
הכדור פוגע בכדור מספר 2 שמסתו היא  $m_2 = 4\text{kg}$   
הנמצא במנוחה.



מהירותו של כדור 1 לאחר ההתנגשות היא  $u_1 = 8 \frac{\text{m}}{\text{sec}}$  (בכיוון ציר ה- $y$  החיובי בלבד).

א. מצא את וקטור המהירות של כדור 2 לאחר ההתנגשות.

ב. מהו גודלה של המהירות ומהו כיוונה?



### 8 גרף של כוח כתלות בזמן

גוף בעל מסה של  $2\text{kg}$  נע לאורך קו ישר

בהשפעת כוח המשתנה בזמן.

גודלו של הכוח כתלות בזמן נתון בגרף.

הגוף התחיל תנועתו ממנוחה.

א. מצא את המתקף שפעל על הגוף עד

ל- $t = 17\text{sec}$ , מהי מהירות הגוף באותו הרגע?

ב. מצא את המתקף שפעל על הגוף עד לרגע  $t = 24\text{sec}$ , מהי מהירות הגוף

באותו הרגע?

ג. מהו המתקף שפעל על הגוף במשך הזמן  $17\text{sec} < t < 24\text{sec}$ ?

מה משמעות הסימן של המתקף?

## תשובות סופיות:

$$\Delta \vec{p} = -5 \text{kg} \frac{\text{m}}{\text{sec}} \hat{x} \quad \text{ג.} \quad \vec{p} = -2.5 \text{kg} \frac{\text{m}}{\text{sec}} \hat{x} \quad \text{ב.} \quad \vec{p} = 2.5 \text{kg} \frac{\text{m}}{\text{sec}} \hat{x} \quad \text{א.} \quad (1)$$

$$\vec{N} = -25 \text{kg} \frac{\text{m}}{\text{sec}^2} \hat{x} = -25 \text{N} \hat{x} \quad \text{ה.} \quad \vec{J}_T = \vec{J}_N = \Delta \vec{p} = -2.5 \text{kg} \frac{\text{m}}{\text{sec}} \hat{x} \quad \text{ד.}$$

$$(-0.6, 0.6) \quad \text{ג.} \quad \vec{p} = 0.6 \text{kg} \frac{\text{m}}{\text{sec}} \hat{y} \quad \text{ב.} \quad \vec{p} = 0.6 \text{kg} \frac{\text{m}}{\text{sec}} \hat{x} \quad \text{א.} \quad (2)$$

$$\vec{N} = (-6, 6) \text{N} \quad \text{ה.} \quad \vec{J}_N = (-0.6, 0.6) \text{kg} \frac{\text{m}}{\text{sec}} \quad \text{ד.}$$

$$\vec{J}_{T1} = -30 \hat{x} \text{N} \cdot \text{sec} \quad \text{ג.} \quad \vec{u}_2 = 10 \frac{\text{m}}{\text{sec}} \hat{x} \quad \text{ב.} \quad \vec{p}_T = 40 \hat{x} \text{N} \cdot \text{sec} \quad \text{א.} \quad (3)$$

$$0 \quad \text{ה.} \quad \vec{J}_{T2} = 30 \hat{x} \text{N} \cdot \text{sec} \quad \text{ד.}$$

$$\vec{J}_1 = -81 \hat{x} \text{N} \cdot \text{sec} \quad \text{ג.} \quad u_1 = -10.25 \frac{\text{m}}{\text{sec}} \quad \text{ב.} \quad \vec{p}_T = -5 \hat{x} \text{N} \cdot \text{sec} \quad \text{א.} \quad (4)$$

$$0 \quad \text{ה.} \quad \vec{J}_2 = 81 \hat{x} \text{N} \cdot \text{sec} \quad \text{ד.}$$

$$\vec{J}_1 = (-14.97, -8.67) \quad \text{ב.} \quad u_1 = 5.78 \frac{\text{m}}{\text{sec}}, u_2 = 2.5 \frac{\text{m}}{\text{sec}} \quad \text{א.} \quad (5)$$

$$\text{א. לא.} \quad \text{ב. לא.} \quad \text{ג. כן.} \quad \text{ד. כן.} \quad \text{ה. לא.} \quad (6)$$

$$\vec{u}_2 = (9, -6) \frac{\text{m}}{\text{sec}} \quad \text{א.} \quad \text{ב. גודל: } |\vec{u}_2| \approx 10.82 \frac{\text{m}}{\text{sec}}, \text{ כיוון: } \theta = 33.69^\circ. \quad (7)$$

$$J = 87.5 \text{N} \cdot \text{sec}, v_F(t = 17 \text{sec}) = 43.75 \frac{\text{m}}{\text{sec}} \quad \text{א.} \quad (8)$$

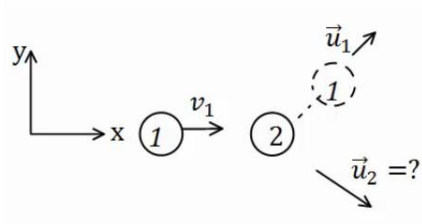
$$J = 77 \text{N} \cdot \text{sec}, v(t = 24 \text{sec}) = 38.5 \frac{\text{m}}{\text{sec}} \quad \text{ב.}$$

ג.  $J_{17 < t < 24} = -10.5$ , המשמעות של הסימן שהכוח שמפעיל את המתקף פועל בכיוון השלילי.

## התנגשות אלסטית:

### שאלות:

#### (1) התנגשות אלסטית



כדור בעל מסה  $m_1 = 2\text{kg}$  פוגע בכדור שני הנמצא במנוחה. מהירותו של הכדור הראשון לפני ההתנגשות היא  $v_1 = 20 \frac{\text{m}}{\text{sec}}$ .

נתון כי מהירותו של הכדור הראשון לאחר ההתנגשות היא  $u_1 = 10 \frac{\text{m}}{\text{sec}}$  בזווית של 45 מעלות ביחס לכיוון פגיעתו.

מצא את מהירות הכדור השני ומסתו, אם ידוע שההתנגשות היא אלסטית.

#### (2) התנגשות אלסטית מצחית



גוף בעל מסה  $m_1 = 5\text{kg}$  נע על ציר ה- $x$  ומתנגש בגוף אחר בעל מסה  $m_2 = 8\text{kg}$ , הנע על ציר ה- $x$  גם כן.

מהירויות הגופים לפני ההתנגשות הן:  $v_1 = 20 \frac{\text{m}}{\text{sec}} \hat{x}$ ,  $v_2 = 5 \frac{\text{m}}{\text{sec}} \hat{x}$ . בהתאמה.

ידוע שההתנגשות היא פלסטית ומצחית. מצא את מהירויות הגופים לאחר ההתנגשות.

### תשובות סופיות:


$$(1) \text{ מסה: } m_2 \approx 1.45\text{kg}, \text{ מהירות: } u_{2y} = -9.75 \frac{\text{m}}{\text{sec}}, u_{2x} = 17.86 \frac{\text{m}}{\text{sec}}$$

$$(2) u_2 \approx 16.54 \frac{\text{m}}{\text{sec}}, u_1 = 1.54 \frac{\text{m}}{\text{sec}}$$

## התנגשות פלסטית ורתע:

### שאלות:

#### (1) קליע נתקע בבול עץ



קליע נע במהירות  $v_1 = 100 \frac{\text{m}}{\text{sec}}$  לעבר בול עץ

הנמצא במנוחה. הקליע חודר לבול העץ ונתקע בתוכו.

מסת הקליע היא  $m = 20 \text{ gr}$  ומסת בול העץ היא  $M = 5 \text{ kg}$ .

מצא את המהירות המשותפת של הגופים לאחר הפגיעה.

#### (2) קליע נורה מרובה



כדור נורה מרובה הנמצא במנוחה.

מהירות הכדור לאחר הירי היא  $u_2 = 100 \frac{\text{m}}{\text{sec}}$ , ומסת הכדור היא  $m = 20 \text{ gr}$ .

מהי מהירות הרובה, אם מסת הרובה היא  $M = 3 \text{ kg}$ ?

#### (3) טיל מתפרק

טייל טס באוויר במהירות  $v = 540 \frac{\text{km}}{\text{hr}}$  בקו ישר, מסת הטייל היא  $M = 50 \text{ kg}$ .

ברגע מסוים הטייל מתפוצץ לשני חלקים. מסת החלק הראשון היא  $m_1 = 20 \text{ kg}$ . מצא את מהירות החלק השני במקרים הבאים:

א. מהירות החלק הראשון היא  $u_1 = 72 \frac{\text{km}}{\text{hr}}$  בכיוון הפוך לכיוון אליו נע

הטייל לפני הפיצוץ.

ב. מהירות החלק הראשון היא  $u_1 = 360 \frac{\text{km}}{\text{hr}}$  בכיוון 30 מעלות

מתחת לכיוון אליו עף הטייל לפני הפיצוץ.

### תשובות סופיות:

$$u = \frac{2}{5} \frac{\text{m}}{\text{sec}} \quad (1)$$

$$u_2 = -\frac{2}{3} \frac{\text{m}}{\text{sec}} \quad (2)$$

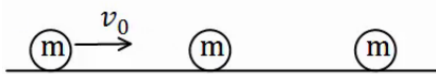
$$u_2 = 948 \frac{\text{km}}{\text{hr}} \quad \text{א.} \quad (3) \quad \text{ב.} \quad u_{2x} \approx 192.3 \frac{\text{m}}{\text{sec}}, \quad u_{2y} = 33.34 \frac{\text{m}}{\text{sec}}$$

## מקרים מיוחדים:

### שאלות:

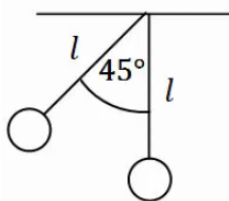
#### (1) פגיעה כפולה

- שלושה כדורים זהים נמצאים על מישור אופקי חלק. הכדור השמאלי נע במהירות  $v_0$  כלפי הכדור האמצעי. מצא את מהירויות כל אחד מהגופים לאחר כל התנגשות, אם:
- כל ההתנגשויות הן אלסטיות מצחיות.
  - כל ההתנגשויות הן פלסטיות.



#### (2) מטוטלת פוגעת במטוטלת

- שני כדורים זהים תלויים באמצעות חוטים בעלי אורך זהה  $l$ . מסיתים את הכדור השמאלי בזווית של  $45^\circ$  מעלות ומשחררים אותו ממנוחה.



- מהי מהירותו רגע לפני הפגיעה בכדור הימני?
- מהי מהירות הכדור השמאלי לאחר הפגיעה אם ההתנגשות היא אלסטית?
- מהי הזווית המקסימלית אליה יגיע הכדור לאחר הפגיעה?
- מה יקרה לאחר מכן?
- חזור על סעיפים ב', ג' אם ההתנגשות היא פלסטית.

#### (3) מקדם תקומה

- גוף בעל מסה  $m$  נע במהירות  $v$  על משטח אופקי חלק ומתנגש בגוף בעל מסה  $3m$  הנמצא במנוחה. נתון כי ההתנגשות חד ממדית ומקדם התקומה הוא  $0.8$ . מצא את מהירות הגופים לאחר ההתנגשות.

### תשובות סופיות:

- (1) א. הכדור הראשון והשני מהירותם  $0$ , והכדור השלישי מהירותו  $v_0$ .

ב.  $\tilde{u} = \frac{v_0}{3}$

(2) א.  $v = \sqrt{0.58gl}$     ב.  $u_2 = v = \sqrt{0.58gl}$     ג.  $\theta_{\max} = 45^\circ$

- ד. התהליך חוזר על עצמו לנצח.  
ה. (א)  $\theta \approx 21.95^\circ$ , (ב)  $u = \frac{1}{2}v$

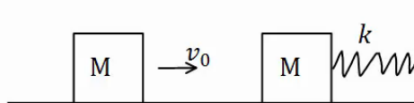
(3)  $u_1 = -0.35v$ ,  $u_2 = 0.45v$

## תרגילים נוספים:

### שאלות:

#### (1) שתי מסות וקפיץ

מסה  $M$  נעה במהירות  $v_0$  ומתנגשת במסה  $M$  נוספת הנמצאת במנוחה. המסה הנוספת מחוברת לקפיץ רפוי. קבוע הקפיץ, המהירות ההתחלתית והמסות נתונים.



מצא את הכיוון המקסימלי, אם:

א. ההתנגשות היא פלסטית.

ב. ההתנגשות אלסטית.

ג. חשב את המתקף שפעל על כל גוף בכל אחד מהמקרים.

#### (2) שלושה כדורים



שלושה כדורים מונחים על משטח אופקי חלק כפי שמתואר באיור.

הכדור השמאלי בעל מסה  $3m$  נע במהירות  $v$  ומתנגש התנגשות אלסטית בכדור בעל מסה  $m$  הנמצא במנוחה. שתי שניות לאחר מכן מתנגש הכדור בעל מסה  $m$  בכדור בעל מסה  $5m$  הנמצא במנוחה התנגשות פלסטית.

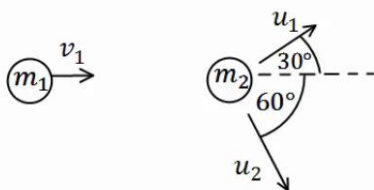
א. מהי מהירות הכדורים  $m$  ו- $3m$  לאחר ההתנגשות הראשונה?

ב. מהי המהירות המשותפת של הכדורים  $m$  ו- $5m$  לאחר ההתנגשות השנייה?

ג. כמה זמן חלף מרגע ההתנגשות הראשונה עד לרגע ההתנגשות השלישית,

זו של הכדור  $3m$  בכדורים הדבוקים?

#### (3) איבוד אנרגיה



כדור בעל מסה  $m_1 = 2\text{kg}$  ומהירות  $v_1 = 10 \frac{\text{m}}{\text{sec}}$ ,

מתנגש בכדור בעל מסה  $m_2 = 3\text{kg}$  הנמצא במנוחה.

לאחר ההתנגשות, הכדור הראשון נע בכיוון  $30^\circ$

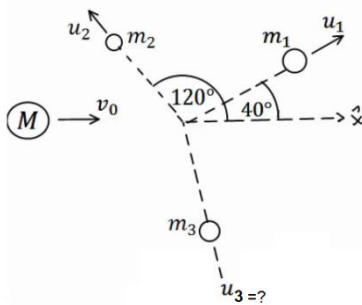
מעלות מעל לכיוון הפגיעה, והכדור השני נע בזווית  $60^\circ$  מעלות מתחת לכיוון הפגיעה (ראה איור).

א. מצא את מהירות הגופים לאחר ההתנגשות.

ב. האם ההתנגשות אלסטית?

אם לא, כמה אנרגיה אבדה בהתנגשות?

#### (4) פצצה



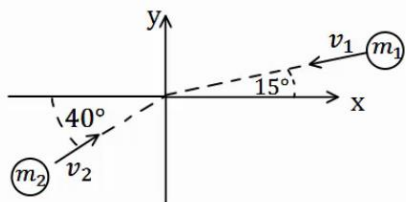
פצצה בעלת מסה  $M = 13\text{kg}$  נעה באוויר במהירות קבועה  $v_0 = 100 \frac{\text{m}}{\text{sec}}$ . ברגע מסוים הפצצה מתפוצצת לשלושה חלקים קטנים יותר. מסת החלק הראשון היא  $m_1 = 4\text{kg}$  והוא נע במהירות  $u_1 = 80 \frac{\text{m}}{\text{sec}}$  בזווית של 40 מעלות ביחס לכיוון המקורי.

מסת החלק השני היא  $m_2 = 2\text{kg}$  והוא נע במהירות  $u_2 = 10 \frac{\text{m}}{\text{sec}}$  בזווית של 120 מעלות ביחס לכיוון המקורי. מסת החלק השלישי היא  $7\text{kg}$ . מצא את מהירות החלקיק השלישי.

#### (5) שני גופים שני מימדים

שני גופים, בעלי מסות:  $m_1 = 2\text{kg}$ ,  $m_2 = 3\text{kg}$ , נעים לכיוון הראשית.

מהירויות הגופים הן:  $v_1 = 20 \frac{\text{m}}{\text{sec}}$ ,  $v_2 = 10 \frac{\text{m}}{\text{sec}}$ , בהתאמה, וכיוונם נתון באיור.

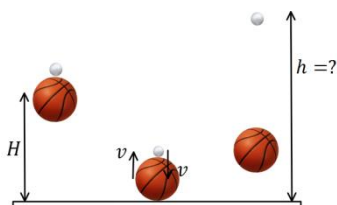


הגופים מתנגשים בראשית. מצא את מהירות הגופים לאחר ההתנגשות, אם:

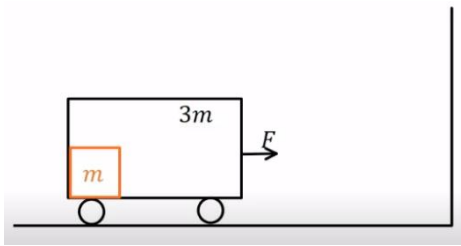
- ההתנגשות היא פלסטית.
- ההתנגשות היא אלסטית, והגוף נע בכיוון החיובי של ציר ה- $y$  לאחר ההתנגשות.

#### (6) כדור גולף על כדורסל

כדור גולף וכדור כדורסל מוחזקים במנוחה אחד מעל השני בגובה  $H = 1.5\text{m}$ .



משחררים אותם ליפול ממנוחה. מה יהיה הגובה המרבי אליו יגיע כדור הגולף, אם נניח שכל ההתנגשויות אלסטיות ומצחיות, מסת כדור הגולף היא  $m = 46\text{gr}$ , ומסת הכדורסל היא  $M = 624\text{gr}$ .



### 7) ארגז בתוך קרונית המתנגשת בקיר

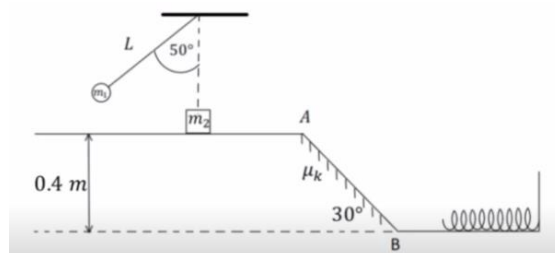
ארגז שמסתו  $m$  מונח בתוך קרונית סגורה בצמוד לדופן השמאלי של הקרונית. מסת הקרונית היא  $3m$  והיא מתחילה ממנוחה. מפעילים כוח  $F$  קבוע ימינה במשך  $T$  שניות. אין חיכוך בין הקרונית לקרקע. נתון:  $F, T, m$ .

- מהי מהירות הקרונית בתום הזמן  $T$ ?
- מהו הכוח  $N$  שהארגז מפעיל על הדופן השמאלית של הקרונית?
- בתום פעולת הכוח הקרונית מתנגשת בקיר התנגשות אלסטית לחלוטין. הארגז ממשיך את תנועתו מלפני ההתנגשות עד אשר הוא מתנגש בדופן הימנית של הקרונית התנגשות פלסטית. מהי מהירות הקרונית לאחר ההתנגשות השנייה בארגז?
- כמה אנרגיה הלכה לאיבוד בהתנגשות הפלסטית של הארגז בדופן הימנית?

### 8) מטוטלת פוגעת במסה שנע במדרון עם קפיץ

גוף בעל מסה  $m_1 = 1\text{kg}$  קשור לתקרה באמצעות חוט שאורכו  $L = 0.6\text{m}$ . מסיטים את החוט בזווית  $50^\circ$  מהאנך לתקרה ומשחררים ממנוחה. בתחתית המסלול של תנועתו מתנגש הגוף בגוף שני בעל מסה  $m_2 = 2\text{kg}$ . הנמצא במנוחה על משטח אופקי חלק. גובה המשטח מעל הקרקע הוא  $0.4\text{m}$ . מיד לאחר ההתנגשות גוף 1 מקבל מהירות של  $0.4 \frac{\text{m}}{\text{sec}}$  אחורה וגוף 2 נע קדימה. בנקודה A גוף 2 עובר למישור משופע לא חלק בעל מקדם חיכוך  $\mu_k = 0.1$  וזווית שיפוע  $30^\circ$ . בנקודה B גוף 2 חוזר למישור אופקי חלק בגובה הקרקע ומתנגש בקפיץ בעל קבוע  $k = 200 \frac{\text{N}}{\text{m}}$ .

- מהי המהירות של גוף 1 רגע לפני ההתנגשות?
- מהי המהירות של גוף 2 מיד לאחר ההתנגשות?
- מהי המהירות של גוף 2 בנקודה B?
- מהי ההתכווצות המקסימלית של הקפיץ?
- מהי המהירות של גוף 2 כאשר הקפיץ מכווץ בחצי מהכיווץ המקסימלי?



**9) כדור עולה על מדרון משולש**

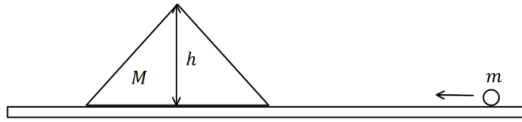
מדרון משולש בעל גובה  $h = 3\text{m}$  חופשי לנוע מעל משטח אופקי חלק (ללא חיכוך).

מסת המדרון היא:  $M = 15\text{kg}$ .

מגלגלים כדור בעל מסה  $m = 5\text{kg}$

על המשטח לכיוון המדרון.

התייחס לכדור כאל גוף נקודתי.



א. מה צריכה להיות המהירות שבה מגלגלים את הכדור כך שהוא יעצור

(ביחס למדרון) בדיוק לפני שהוא עובר את שיא הגובה של המדרון?

ב. מהי המהירות המדרון ברגע שהכדור מגיע לשיא הגובה?

ג. מהי המהירות הסופית של המדרון והכדור?

**10) טנק יורה פגזים ועולה במדרון\*\***

טנק שמסתו 800 ק"ג (טנק קל מאוד) נמצא

ברגע מסוים במנוחה על מדרון משופע בזווית

של 15 מעלות. הטנק יורה שני פגזים במרווח

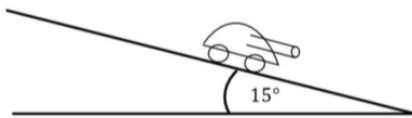
של 2 שניות בין הירי הראשון לשני.

מסת כל פגז היא 20 ק"ג והוא נורה במהירות

לוע של 400 מטר לשנייה במקביל ובמורד למדרון.

הניחו שלטנק גלגלים והחיכוך בינו למדרון זניח.

מה ההעתק המקסימאלי שיעשה הטנק במעלה המדרון?



## תשובות סופיות:

$$\Delta x_{\max} = \sqrt{\frac{m}{k} v_0^2} \quad \text{ב.} \quad \Delta x_{\max} = \sqrt{\frac{m}{k} \cdot \frac{1}{2} v_0^2} \quad \text{א.} \quad (1)$$

$$\vec{J}_1 = -mv_0 \hat{x}, \vec{J}_2 = mv_0 \hat{x} \quad \text{ב.} \quad \vec{J}_1 = -\frac{1}{2}mv_0 \hat{x}, \vec{J}_2 = \frac{1}{2}mv_0 \hat{x} \quad \text{א.} \quad \text{ג.}$$

$$t = 10 \text{ sec} \quad \text{ג.} \quad u = \frac{1}{4}v \quad \text{ב.} \quad u_2 = \frac{3}{2}v, u_1 = \frac{1}{2}v \quad \text{א.} \quad (2)$$

$$Q = 8.27 \text{ J} \quad \text{ב.} \quad \text{לא,} \quad u_1 = 8.66 \frac{\text{m}}{\text{sec}}, u_2 = 3.34 \frac{\text{m}}{\text{sec}} \quad \text{א.} \quad (3)$$

$$u_{3x} \approx 152 \frac{\text{m}}{\text{sec}}, u_{3y} \approx -32 \frac{\text{m}}{\text{sec}} \quad (4)$$

$$u_x \approx -3.13 \frac{\text{m}}{\text{sec}}, u_y \approx 1.79 \frac{\text{m}}{\text{sec}} \quad \text{א.} \quad (5)$$

$$u_{1x} \approx -7.83 \frac{\text{m}}{\text{sec}}, u_{1y} \approx -15.20 \frac{\text{m}}{\text{sec}}, u_2 = 13.11 \frac{\text{m}}{\text{sec}} \quad \text{ב.}$$

$$h \approx 12.3 \text{ m} \quad (6)$$

$$E = \frac{3F^2 T^2}{32m} \quad \text{ד.} \quad \tilde{u} = \frac{FT}{8m} \quad \text{ג.} \quad N = \frac{F}{4} \quad \text{ב.} \quad v(T) = \frac{F}{4m} T \quad \text{א.} \quad (7)$$

$$v_B = 2.853 \frac{\text{m}}{\text{sec}} \quad \text{ג.} \quad u_2 \approx 1.235 \frac{\text{m}}{\text{sec}} \quad \text{ב.} \quad v = 2.07 \frac{\text{m}}{\text{sec}} \quad \text{א.} \quad (8)$$

$$v = 2.47 \frac{\text{m}}{\text{sec}} \quad \text{ה.} \quad \Delta l_{\max} \approx 0.285 \text{ m} \quad \text{ד.}$$

$$u_1' = 2\sqrt{5} \frac{\text{m}}{\text{sec}}, u_2' = -2\sqrt{5} \frac{\text{m}}{\text{sec}} \quad \text{ג.} \quad u = \sqrt{5} \frac{\text{m}}{\text{sec}} \quad \text{ב.} \quad v_0 = 8.94 \frac{\text{m}}{\text{sec}} \quad \text{א.} \quad (9)$$

$$x(t = 5.82) \approx 60 \text{ m} \quad (10)$$

# מכניקה לביולוגיה מולקולרית

## 711161001

### פרק 14 - תנועה הרמונית


#### תוכן העניינים

151	1. תנועה מחזורית
152	2. תנועה הרמונית
156	3. קפיץ אנכי
157	4. תנועה הרמונית בתוספת של כוח קבוע
158	5. אנרגיה בתנועה הרמונית
159	6. מטוטלת מתמטית
(ללא ספר)	7. סיכום הפרק
160	8. תרגילים נוספים
(ללא ספר)	9. הוכחה לנוסחאות דרך תנועה מעגלית

## תנועה מחזורית:

### שאלות:

#### (1) כדור נע בין שני קירות



$$v_0 = 2 \frac{\text{m}}{\text{sec}}$$

כדור נע בין שני קירות במהירות

התנגשות הכדור עם הקירות היא אלסטית.

המרחק בין הקירות הוא  $L = 6\text{m}$ .

א. חשב את זמן המחזור של התנועה.

ב. דני ראה כי מיקום הגוף

ב-  $t = 1\text{sec}$  הוא  $2\text{m}$  מהקיר השמאלי.

דני חישב כמה זמן ייקח לכדור לפגוע בקיר הימני ולחזור לאותה הנקודה.

דני סימן את הזמן הזה ב-  $\tilde{T}$ , חשב מהו  $\tilde{T}$ .

ג. הסבר מדוע  $\tilde{T}$  הוא אינו זמן המחזור של התנועה, והסבר כיצד היה צריך

דני לבצע את החישוב על מנת לקבל את זמן המחזור הנכון.

### תשובות סופיות:

(1) א.  $T = 6\text{sec}$     ב.  $\tilde{T} = 4\text{sec}$     ג. ראה סרטון.

## תנועה הרמונית:

### שאלות:

#### 1) דוגמה לחישוב המיקום

גוף מחובר לקפיץ אופקי המחובר בצידו השני לקיר. הגוף נע הלוך וחזור על שולחן אופקי חסר חיכוך. דפנה מסתכלת על הגוף המתנדנד ומודדת את המרחק בין שתי הקצוות של התנועה.

- מהי אמפליטודת התנועה אם המרחק שמדדה דפנה הוא:  $0.4\text{m}$  ?  
ברגע מסוים, שהגוף מגיע למרחק המקסימאלי מהקיר, מפעילה דפנה סטופר המתחיל למדוד את הזמן מאפס. דפנה סופרת כל פעם שהגוף חוזר לנקודה שבה התחילה למדוד. דפנה ראתה כי לאחר 5 שניות הגוף הגיע בפעם העשירית בדיוק לנקודת ההתחלה.
- מהו זמן המחזור של התנועה?
- מהי התדירות והתדירות הזוויתית של התנועה?
- קבע את ראשית הצירים במרכז התנועה של הגוף, ורשום משוואה המתארת את מיקום הגוף ביחס לראשית, כתלות בזמן שמראה הסטופר של דפנה.

#### 2) מציאת המיקום מהזמן

- מסה  $m = 3\text{kg}$  קשורה לקפיץ אופקי בעל קבוע קפיץ  $k = 10 \frac{\text{N}}{\text{m}}$ . מסיטים את המסה מרחק  $d = 0.3\text{m}$  בכיוון החיובי מנקודת שיווי המשקל, ומשחררים ממנוחה.
- מהם התדירות וזמן המחזור של התנועה?
  - מהי האמפליטודה של התנועה?
  - רשום נוסחה המתארת את מיקום המסה כתלות בזמן.
  - מהו מיקום המסה ב-  $t_1 = 0.4\text{sec}$  ?

#### 3) מציאת הזמן מהמיקום

- מסה  $m = 2\text{kg}$  קשורה לקפיץ אופקי בעל קבוע קפיץ  $k = 30 \frac{\text{N}}{\text{m}}$ . מסיטים את המסה מרחק  $d = 15\text{cm}$  בכיוון החיובי מנקודת שיווי המשקל, ומשחררים ממנוחה.
- מצא את מיקום המסה כתלות בזמן.
  - מהו מיקום המסה ב-  $t_1 = 0.3\text{sec}$  וב-  $t_2 = 1.2\text{sec}$  ?
  - מהו הזמן בו המסה מגיעה אל נקודת שיווי המשקל, ומהו הזמן בו היא מגיעה לקצה השני?
  - מהם הזמנים בהם המסה מגיעה אל  $x = 7.5\text{cm}$  ? מדוע קיימים שניים?

**(4) חישוב המהירות**

גוף בעל מסה  $m = 0.5\text{kg}$  מתנדנד בתנועה הרמונית, כך שמיקומו כתלות בזמן הוא:  $x(t) = 0.4 \cos(2t)$ , במטרים.

- מהי התדירות הזוויתית והאמפליטודה של התנועה?
- מהי המהירות המקסימאלית של הגוף?
- רשום נוסחה למהירות כתלות בזמן של הגוף.
- מהי מהירות הגוף ב-  $t = 2\text{sec}$ , ומהי האנרגיה הקינטית שלו באותו הרגע?

**(5) חישובי פאזה**

דני רואה גוף מתנדנד בתנועה הרמונית בתדירות זוויתית  $\omega = 3 \frac{\text{rad}}{\text{sec}}$

ובמשרעת  $A = 0.2\text{m}$ .

דני התחיל למדוד את הזמן מהרגע בו הגוף נמצא בקצה השלילי.

- רשום ביטוי למיקום כפונקציה של הזמן שמודד דני.
- צייר גרף של המיקום כתלות בזמן שמודד דני.
- מתי היה צריך דני להתחיל למדוד את הזמן אם הוא רוצה שהפונקציה של המיקום תהפוך להיות פונקציית סינוס?

**(6) חישוב הפאזה מתנאי התחלה**

גוף בעל מסה  $m = 2\text{kg}$  מחובר לקפיץ בעל קבוע  $k = 4 \frac{\text{N}}{\text{m}}$ , ומתנדנד בתנועה

הרמונית על מישור חלק ואופקי.

- מהי התדירות הזוויתית של התנועה?
- מהם הפאזה והאמפליטודה של הגוף, אם ברגע תחילת הזמן הגוף היה

ב-  $x(t=0) = 0.2\text{m}$ , ובמהירות  $v = 6 \frac{\text{m}}{\text{sec}}$  בכיוון השלילי?

- רשום את נוסחאות המיקום והמהירות כתלות בזמן.
- חזור על סעיף ב' אם המיקום ההתחלתי הוא בנקודת שיווי המשקל.

**(7) מסה מתנגשת במסה המחוברת לקפיץ**

מסה  $m = 3\text{kg}$  מחוברת לקפיץ אופקי בעל קבוע קפיץ  $k = 9 \frac{\text{N}}{\text{m}}$ , ונמצאת על שולחן אופקי חלק. המסה נמצאת במנוחה (הקפיץ רפוי).

מסה זהה נוספת נעה במהירות  $v = 12 \frac{\text{m}}{\text{sec}}$  כלפי המסה הנייחת ומתנגשת בה

התנגשות פלסטית. הנח כי זמן ההתנגשות קצר מאוד.

לאחר ההתנגשות שתי המסות נעות בתנועה הרמונית.

א. מהי תדירות התנועה?

ב. מה תנאי ההתחלה של התנועה ההרמונית  $(x(t=0), v(t=0))$ ?

ג. מצא את המיקום כתלות בזמן של המסות מהרגע לאחר ההתנגשות.

## תשובות סופיות:

א.  $A = 0.2\text{m}$       ב.  $T = 0.5\text{sec}$       ג. תדירות:  $f = 2 \cdot \frac{1}{\text{sec}}$       (1)

תדירות זוויתית:  $\omega \approx 12.57 \frac{\text{rad}}{\text{sec}}$       ד.  $x(t) = 0.2 \cos(12.57 \cdot t)$

א. תדירות:  $f \approx 0.29 \frac{1}{\text{sec}}$ , זמן מחזור:  $T \approx 3.44\text{sec}$       ב.  $d = 0.3\text{m}$       (2)

ג.  $x(t) = 0.3 \cos(1.83 \cdot t)$       ד.  $x(t_1) \approx 0.22\text{m}$

א.  $x(t) = 0.15 \cos(3.87 \cdot t)$       ב.  $x(t_1) \approx 0.06$ ,  $x(t_2) = -0.01\text{m}$       (3)

ג. שיווי משקל:  $t_3 \approx 0.41\text{sec}$ , הקצה השני:  $t_4 \approx 0.82\text{sec}$ .

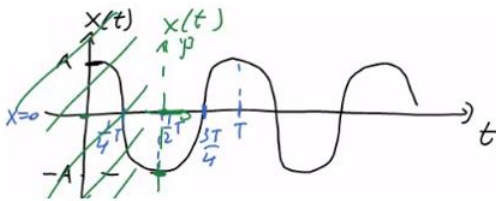
ד.  $\tilde{t}_1 \approx 0.27\text{sec}$ ,  $\tilde{t}_2 \approx 1.35\text{sec}$

א.  $A = 0.4\text{m}$ ,  $\omega = 2 \frac{\text{rad}}{\text{sec}}$       ב.  $|v_{\max}| = 0.8 \frac{\text{m}}{\text{sec}}$       (4)

ג.  $v(t) = -0.8 \cdot \sin(2 \cdot t) \frac{\text{m}}{\text{sec}}$       ד.  $v(t=2) \approx 0.61 \frac{\text{m}}{\text{sec}}$ ,  $E_k \approx 0.09\text{J}$

א.  $x(t) = 0.2 \cos(3 \cdot t + \pi)$       ב. שרטוט:      (5)

ג.  $t_0 = 1.57\text{sec}$



א.  $\omega = \sqrt{2} \frac{\text{rad}}{\text{sec}}$       ב.  $\varphi \approx 1.52\text{rad}$ ,  $A \approx 3.94\text{m}$       (6)

ג.  $x(t) = 3.94 \cos(\sqrt{2} \cdot t + 1.52)$ ,  $v(t) = -5.57 \sin(\sqrt{2} \cdot t + 1.52)$

ד.  $\varphi = \frac{\pi}{2}$ ,  $A \approx 4.24\text{m}$

א.  $\omega = \sqrt{\frac{3}{2}} \frac{\text{rad}}{\text{sec}}$       ב.  $x(t=0) = 0$ ,  $v(t=0) = -6 \frac{\text{m}}{\text{sec}}$       (7)

ג.  $x(t) = 4.90 \cos\left(\sqrt{\frac{3}{2}} \cdot t + \frac{\pi}{2}\right)$

## קפיץ אנכי:

### שאלות:

#### 1) קפיץ אנכי ותוספת מסה

גוף בעל מסה  $m = 1\text{kg}$  תלוי מהתקרה באמצעות קפיץ אנכי בעל

$$\text{קבוע } k = 50 \frac{\text{N}}{\text{m}} \text{ ואורך רפוי } l_0 = 30\text{cm}.$$

- א. מצא את המרחק של נקודת שיווי המשקל מהתקרה.  
 ב. מעמיסים על הקפיץ מסה נוספת  $m = 2\text{kg}$  המחוברת למסה הראשונה, מה תהיה נקודת שיווי המשקל החדשה?  
 כעת נניח כי מושכים את המסה הכוללת מנקודת שיווי המשקל כלפי מטה מרחק של  $d = 8\text{cm}$  ומשחררים אותה ממנוחה.  
 ג. מה תדירות התנועה של המסה?  
 ד. מצא את המיקום כתלות בזמן אם הכיוון החיובי של הציר האנכי הוא כלפי מטה.  
 ה. חזור על סעיף ד', אם הכיוון החיובי של הציר הוא כלפי מעלה.

#### 2) מסה משוחררת מנקודת רפיון

מסה  $m = 30\text{gr}$  תלויה מהתקרה באמצעות קפיץ אנכי בעל קבוע  $k = 1.5 \frac{\text{N}}{\text{m}}$ .

- המסה מוחזקת באוויר בנקודה שבה הקפיץ רפוי ומשוחררת ממנוחה.  
 א. מצא את נקודת שיווי המשקל.  
 ב. מצא את המיקום כתלות בזמן, אם הכיוון החיובי כלפי מטה.

### תשובות סופיות:

$$(1) \quad \text{א. } 0.5\text{m} \quad \text{ב. } 0.9\text{m} \quad \text{ג. } \omega \approx 4.08 \frac{\text{rad}}{\text{sec}} \quad \text{ד. } y(t) = 0.08 \cos(4.08 \cdot t)$$

$$\text{ה. } y(t) = 0.08 \cos(4.08 \cdot t + \pi)$$

$$(2) \quad \text{א. } y_0 = \frac{mg}{k} \quad \text{ב. } y(t) = 0.2 \cos(7.07 \cdot t + \pi)$$

## תנועה הרמונית בתוספת של כוח קבוע:

### שאלות:

#### (1) תוספת של כוח קבוע

גוף בעל מסה  $m = 0.2\text{kg}$  מחובר לקפיץ אופקי בעל קבוע  $k = 4 \frac{\text{N}}{\text{m}}$ .

הגוף נמצא במנוחה בנקודה שבה הקפיץ רפוי.

ב- $t = 0$  מתחיל לפעול על הגוף כוח קבוע בכיוון

החיובי  $F = 0.1\text{N}$ .

א. מצא את נקודת שיווי המשקל החדשה.

ב. מהי תדירות התנועה?

ג. מהם תנאי ההתחלה של הבעיה?

ד. מצא את המיקום כתלות בזמן.

#### (2) כוח מפסיק בפתאומיות

גוף מחובר לקפיץ אופקי בעל קבוע קפיץ  $k = 5 \frac{\text{N}}{\text{m}}$ .

הגוף נצפה מתנדנד בתנועה הרמונית באמפליטודה  $A = 0.3\text{m}$ .

ידוע שעל הגוף פועל כוח קבוע  $F = 2\text{N}$  בכיוון החיובי.

א. מצא היכן תהיה נקודת שיווי המשקל,

במידה והכוח יפסיק לפעול בפתאומיות.

ב. מצא מה תהיה אמפליטודת התנועה במידה

והכוח יפסיק לפעול, ברגע שהגוף נמצא בקצה החיובי של התנועה.

ג. חזור על סעיף ב' עבור הקצה השלילי.

ד. חזור על סעיף ב' אם הכוח הפסיק כאשר הגוף במרכז התנועה,

ומהירותו ברגע זה היא  $2 \frac{\text{m}}{\text{sec}}$ .

### תשובות סופיות:

$$(1) \quad \text{א. } 0.025\text{m} \quad \text{ב. } \omega = 4.47 \frac{\text{rad}}{\text{sec}} \quad \text{ג. } x(t=0) = -x_0, v(t=0) = 0$$

$$\text{ד. } x(t) = 0.025(4.47 \cdot t + \pi)$$

$$(2) \quad \text{א. } x_0 = -0.4\text{m} \quad \text{ב. } \tilde{A} = 0.7\text{m} \quad \text{ג. } \tilde{A} = 0.1$$

## אנרגיה בתנועה הרמונית:

### שאלות:

#### 1) חישובי אנרגיה

מסה  $m = 2\text{kg}$  מחוברת לקפיץ אופקי בעל קבוע  $k = 50 \frac{\text{N}}{\text{m}}$ .

מושכים את המסה מרחק  $d = 0.2\text{m}$  מנקודת שיווי המשקל, ומשחררים אותה ממנוחה.

- רשום את מיקום המסה כתלות בזמן מרגע השחרור.
- רשום את מהירות המסה כתלות בזמן מרגע השחרור.
- חשב את מיקום ומהירות המסה ברגעים  $t = 0, 1, 2\text{sec}$ .
- חשב את האנרגיה הקינטית, האנרגיה הפוטנציאלית והאנרגיה הכללית של המסה, בכל אחד מן הרגעים. הראה כי האנרגיה הכללית נשמרת.

#### תשובות סופיות:

$$x(t) = 0.2 \cos(5 \cdot t) \quad \text{א.} \quad v(t) = 1 \cdot \sin(5 \cdot t) \quad \text{ב.} \quad (1)$$

$$x(t=1) \approx 0.057\text{m}, \quad v(t=1) \approx 0.960 \frac{\text{m}}{\text{sec}} \quad \text{ג.}$$

$$x(t=2) \approx -0.168\text{m}, \quad v(t=2) \approx 0.544 \frac{\text{m}}{\text{sec}}; \quad x(t=0) \approx 0.2\text{m}, \quad v(t=0) \approx 0$$

$$t=0: E_k = 0, U = 1; \quad t=1: E_k = 0.922\text{J}, U = 0.081\text{J}; \quad t=2: E_k = 0.296\text{J}, U = 0.706\text{J} \quad \text{ד.}$$

## מטוטלת מתמטית:

### שאלות:

#### 1) חישוב אורך חוט

מצא מה צריך להיות אורך החוט של מטוטלת, על מנת שהזמן שייקח למסה לעבור מקצה אחד לקצה השני יהיה חצי שנייה.

### תשובות סופיות:

$$l \approx 0.25\text{m} \quad (1)$$

## תרגילים נוספים:

### שאלות:

#### (1) תרגיל 1

גוף בעל מסה  $m = 20\text{gr}$  מחובר לקפיץ אופקי בעל קבוע  $k = 4 \frac{\text{N}}{\text{m}}$ , וחופשי לנוע ללא חיכוך. הגוף מתנדנד בתנועה הרמונית כך שהמרחק בין הקצוות של התנועה הוא:  $d = 10\text{cm}$ .

- מהי האפליטודה של התנועה?
- מהי התדירות הזוויתית?
- מהו זמן המחזור?
- רשום נוסחה למיקום הגוף כתלות בזמן, אם הזמן נמדד מהרגע בו הגוף היה בקצה החיובי.
- רשום נוסחה למהירות הגוף כתלות בזמן.

#### (2) תרגיל 2

גוף בעל מסה  $m = 2\text{kg}$  מחובר לקפיץ אופקי בעל קבוע  $k = 4 \frac{\text{N}}{\text{m}}$ , וחופשי לנוע ללא חיכוך. מושכים את הגוף מנקודת שיווי המשקל למרחק של  $d = 0.2\text{m}$  ומשחררים ממנוחה.

- מהי התדירות הזוויתית?
- מהו זמן המחזור?
- מהי האפליטודה של התנועה?
- מהו מיקום הגוף כתלות בזמן מרגע השחרור?
- רשום נוסחה למהירות הגוף כתלות בזמן.
- חזור על כל הסעיפים עבור המקרה בו ברגע השחרור הגוף מקבל דחיפה קטנה המקנה לו מהירות התחלתית  $v_0 = 0.1 \frac{\text{m}}{\text{sec}}$ .

**3 תרגיל 3**

הגרף הבא מתאר את מיקומו כתלות בזמן של גוף הנע בתנועה הרמונית פשוטה.

- מהי אמפליטודת התנועה?
- מהו זמן המחזור?
- מהי התדירות הזוויתית?
- מהי הפאזה?
- רשום נוסחה למהירות כתלות בזמן.

**4 תרגיל 4**

גוף בעל מסה  $m = 1\text{kg}$  מחובר לקפיץ אופקי בעל קבוע קפיץ  $k = 3 \frac{\text{N}}{\text{m}}$ .

הגוף משוחרר ממנוחה במרחק  $d = 0.3\text{m}$  מנקודת שיווי המשקל.

- רשום נוסחה למיקום הגוף כתלות בזמן.
- מצא את מיקום הגוף ב-  $t = 3\text{sec}$ .
- מהי מהירות הגוף ב-  $t = 3\text{sec}$ .
- מהי תאוצת הגוף ב-  $t = 3\text{sec}$ .

**5 תרגיל 5**

מהירותו של גוף המתנדנד בתנועה הרמונית נתונה לפי הגרף הבא:

- מתי מגיע הגוף לנקודת שיווי המשקל בפעם הראשונה?
- האם תאוצת הגוף ב-  $t = 1\text{sec}$  מקסימאלית?
- האם ב-  $t = 1.5\text{sec}$  האנרגיה קינטית מרבית?
- מהו הכוח ב-  $t = 2.5\text{sec}$ ?
- כמה מחזורי תנועה עשה הגוף ב-4 השניות הראשונות של התנועה?

**6 תרגיל 6**

בגרף הבא נתונה התאוצה של גוף כתלות

במיקום של הגוף. מסת הגוף היא  $m = 20\text{g}$ .

- האם התנועה היא תנועה הרמונית? נמק.
- מהו קבוע הקפיץ?
- מהי אמפליטודת התנועה?

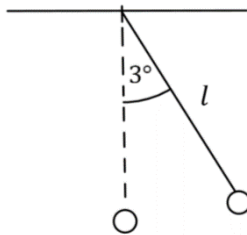
## 7 תרגיל (7)

גוף בעל מסה  $m = 2\text{kg}$  מחובר לקפיץ אופקי בעל קבוע קפיץ  $k = 40 \frac{\text{N}}{\text{m}}$ .

ב- $t = 0$  מיקום ומהירות הגוף הם:  $x = 20\text{cm}$ ,  $v = 0.4 \frac{\text{m}}{\text{sec}}$ .

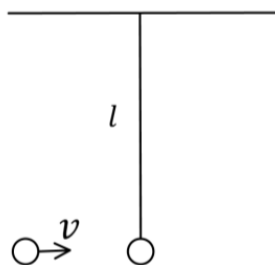
- רשום נוסחה למיקום הגוף כתלות בזמן.
- מתי מיקומו של הגוף הוא 5 ס"מ משמאל לנקודת שיווי המשקל בפעם הראשונה?
- מתי מהירות הגוף היא  $0.1 \frac{\text{m}}{\text{sec}}$  בכיוון החיובי?
- מהי התאוצה המקסימאלית של הגוף?

## 8 תרגיל (8)

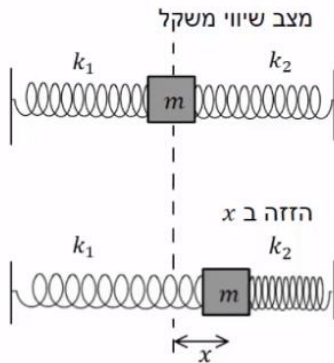


- מטוטלת מתמטית בעלת חוט באורך  $l = 1\text{m}$ , ומסה  $m = 100\text{gr}$  בקצה, משוחררת ממנוחה מזווית של  $3^\circ$ .
- מה תהיה התדירות הזוויתית של התנועה?
  - כמה זמן ייקח למטוטלת להגיע לנקודת שיווי המשקל?
  - מהי מהירות המסה בנקודת שיווי המשקל?
  - בנקודת שיווי המשקל מונחת מסה נוספת  $m = 25\text{gr}$ , הנמצאת במנוחה. מסת המטוטלת מתנגשת במסה הנוספת התנגשות פלסטית.
  - מתי מהירות הגופים מיד לאחר ההתנגשות?
  - מהי התדירות הזוויתית של התנועה לאחר ההתנגשות?
  - מהי הזווית המקסימאלית אליה תגיע המטוטלת לאחר ההתנגשות?

## 9 תרגיל (9)



- מטוטלת מתמטית בעלת חוט באורך  $l = 0.5\text{m}$ , ומסה  $m = 50\text{gr}$  בקצה, תלויה במנוחה.
- מסה  $m = 25\text{gr}$  נעה אופקית במהירות  $v = 0.6 \frac{\text{m}}{\text{sec}}$ , ומתנגשת במסת המטוטלת התנגשות פלסטית.
- מה תהיה התדירות הזוויתית של התנועה לאחר ההתנגשות, בהנחה שהתנדודות קטנות.
  - כמה זמן ייקח למטוטלת להגיע לשיא הגובה?
  - מתי מהירות הגופים מיד לאחר ההתנגשות?
  - מהי הזווית המקסימאלית אליה תגיע המטוטלת?

**(10) מסה עם קפיצים משני הצדדים**

לשני צדדיה של מסה  $m$  מחוברים שני קפיצים

שקבועי הכוח שלהם הם:  $k_1$  ו- $k_2$ .

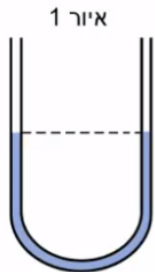
הגוף נמצא על משטח חלק. מזיזים את הגוף ימינה

מרחק  $x$ .

א. הראה כי כאשר מרפים ממנו הוא ינוע בתנועה

הרמונית פשוטה שקבועה הוא:  $k_1 + k_2$ .

ב. מהו זמן המחזור של התנועה?

**(11) צינור בצורת U**

איור 1

בתוך צינור גלילי בצורת האות U מצוי נוזל בשיווי משקל (איור 1).

אורך החלק המלא בנוזל הוא  $L$  ושטח החתך לאורך כל הצינור

הוא  $A$ . צפיפות הנוזל (מסה ליחידת נפח) היא  $\rho$ .

נושפים בזרוע השמאלית של הצינור כך שפני הנוזל יורדים

בשיעור  $d$ , ומרפים (איור 2).

א. תאר במילים את תנועת הנוזל בהנחה שלא פועלים עליו

כוחות חיכוך.

ב. הראה כי כאשר פני הנוזל נמצאים במרחק  $x$  ממצב שיווי

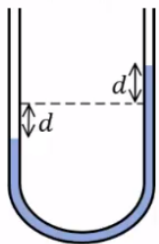
המשקל פועל על הנוזל כוח מחזיר:  $F = -2\rho Agx$ .

(הדרכה: חשב את מסת הנוזל העודפת בצד הגבוה ומשם

את כוח הכובד שהיא מפעילה על שאר הנוזל).

ג. בהנחה כי  $x \ll L$  הראה כי זמן המחזור של התנודה

$$\text{הוא: } T = \pi \sqrt{\frac{2L}{g}}$$



איור 2

**(12) מסה נופלת על קפיץ אנכי**

קפיץ אנכי מחובר לקרקע מצידו האחד וללוח אופקי

בצידו השני.

קבוע הקפיץ הוא:  $400 \frac{N}{m}$ . מסה של  $m = 2 \text{ kg}$

משוחררת ממנוחה מגובה של מטר אחד מעל הלוח,

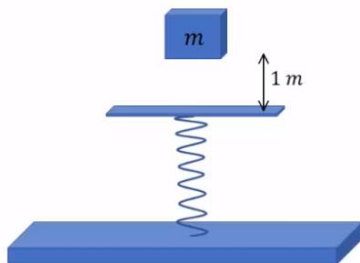
המסה נופלת נפילה חופשית ונדבקת ללוח.

מסת הלוח והקפיץ ניתנות להזנחה.

א. מהי ההתכווצות המרבית של הקפיץ?

ב. מהי תדירות תנודות המשקולת?

ג. מהי משרעת התנודות?



## תשובות סופיות:

- (1) א.  $A = 0.05\text{m}$     ב.  $\omega \approx 14.14 \frac{\text{rad}}{\text{sec}}$     ג.  $T \approx 0.444\text{sec}$   
 ד.  $x(t) = 0.05 \cdot \cos(14.14 \cdot t)$     ה.  $v(t) = -0.707 \cdot \sin(14.14 \cdot t)$
- (2) א.  $\omega = 1.41 \frac{\text{rad}}{\text{sec}}$     ב.  $T \approx 4.44\text{sec}$     ג.  $A = 0.2\text{m}$   
 ד.  $x(t) = 0.2 \cdot \cos(1.41 \cdot t)$     ה.  $v(t) = -0.282 \cdot \sin(1.41 \cdot t)$   
 ו.  $x(t) = 0.212 \cdot \cos(1.41 \cdot t + 0.341)$ ,  $T = 4.44\text{sec}$ ,  $A = 0.212\text{m}$ ,  $\omega = 1.41 \frac{\text{rad}}{\text{sec}}$   
 ז.  $v(t) = -0.299 \sin(1.41 \cdot t + 0.341)$
- (3) א.  $A = 2\text{m}$     ב.  $T = 7\text{sec}$     ג.  $\omega \approx 0.898 \frac{\text{rad}}{\text{sec}}$     ד.  $\varphi = 0$   
 ה.  $v(t) = -1.80 \cdot \sin(0.898 \cdot t + 0)$
- (4) א.  $x(t) = 0.3 \cos(\sqrt{3} \cdot t)$     ב.  $x(t=3) \approx 0.14\text{m}$   
 ג.  $v(t=3) \approx -0.46 \frac{\text{m}}{\text{sec}}$     ד.  $a(t=3) = -0.42 \frac{\text{m}}{\text{sec}^2}$
- (5) א.  $t = 0.5\text{sec}$     ב. כן.    ג. כן.    ד. 0    ה. 2
- (6) א. כן.    ב.  $k = 0.008 \frac{\text{N}}{\text{m}}$     ג.  $A \approx 3\text{m}$
- (7) א.  $x(t) = 0.22 \cos(\sqrt{20} \cdot t - 0.42)$     ב.  $t_1 = 0.5\text{sec}$     ג.  $t_1 \approx 0.07\text{sec}$
- (8) א.  $\omega = \sqrt{10} \frac{\text{rad}}{\text{sec}}$     ב.  $t \approx 0.5\text{sec}$     ג.  $v_{\max} = 0.165$     ד.  $u = 0.131 \frac{\text{m}}{\text{sec}}$   
 ה.  $\omega = \sqrt{10} \frac{\text{rad}}{\text{sec}}$     ו.  $\theta \approx 2.35^\circ$
- (9) א.  $\omega = \sqrt{20} \frac{\text{rad}}{\text{sec}}$     ב.  $t \approx 0.35\text{sec}$     ג.  $u = 0.2 \frac{\text{m}}{\text{sec}}$     ד.  $\theta = 5.12^\circ$
- (10) א. הוכחה.    ב.  $T = 2\pi \sqrt{\frac{\text{m}}{k_1 + k_2}}$
- (11) א. ראה סרטון.    ב. הוכחה.    ג. הוכחה.
- (12) א.  $\Delta x_{\max} = 0.37\text{m}$     ב.  $f = 2.25 \frac{1}{\text{sec}}$     ג.  $A \approx 0.32\text{m}$

# מכניקה לביולוגיה מולקולרית

## 711161001

פרק 15 - שאלות מבגרויות

תוכן העניינים

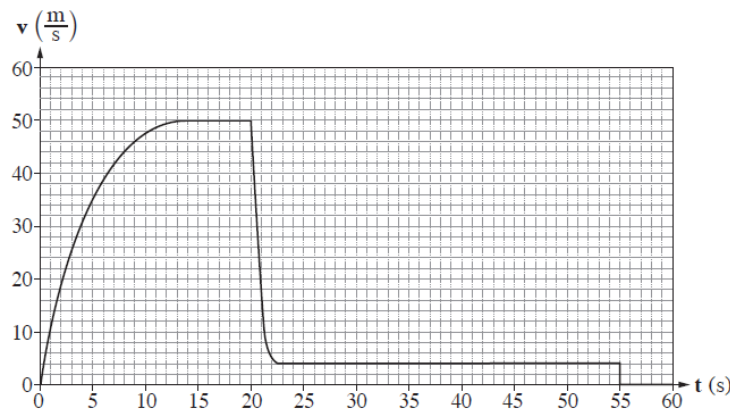
1. שאלות מבגרויות בנושא מכניקה ..... 165

## שאלות מבגרויות בנושא מכניקה:

שאלות:

מכניקה 2014:

- 1) צנחן קפץ ממטוס ברגע  $t = 0$ . בתוך כדי נפילתו הוא פתח את המצנח. הצנחן והמצנח ייחשבו גוף אחד שייקרא: "הצנחן". הגרף שלפניך מתאר את גודל הרכיב האנכי של מהירות הצנחן כפונקציה של הזמן.



- א. תאר במילים את תנועת הצנחן בפרק הזמן  $0 \leq t \leq 20 \text{ sec}$ .  
 בתשובתך התייחס לגודל הרכיב האנכי של מהירות הנפילה של הצנחן, ולגודל של תאוצתו.
- ב. ציין את הסיבה לשינוי הפתאומי בגודל הרכיב האנכי של המהירות בפרק הזמן  $20 \text{ sec} < t < 22 \text{ sec}$ .
- ג. הסבר איך היית מחשב בעזרת הגרף את המרחק האנכי שעבר הצנחן מרגע  $t = 0$  עד הרגע שהמצנח נפתח (אין צורך לחשב מרחק זה).
- ד. הראה מתוך הגרף שהגודל של תאוצת הנפילה החופשית בגובה שהצנחן קפץ ממנו הוא:  $g = 10 \frac{\text{m}}{\text{sec}^2}$  בקירוב.

- על הצנחן פועלים בתוך כדי נפילתו שני כוחות: כוח הכובד והתנגדות האוויר.
- ה. עבור כל אחד משני הכוחות קבע אם הוא גדל, קטן או נשאר קבוע בפרק הזמן  $0 \leq t < 20 \text{ sec}$ . הסבר את קביעותיך.
- ו. מסת הצנחן היא:  $m = 80 \text{ kg}$ . בפרק הזמן  $0 \leq t < 55 \text{ sec}$ , קבע את הגודל המרבי (המקסימלי) של הכוח השקול שפעל על הצנחן, ואת גודלו המזערי (המינימלי) של כוח זה. הסבר את קביעותיך.

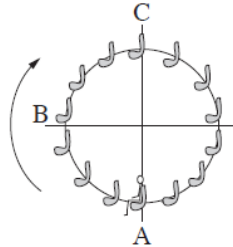
2) תפקיד המנוע במכונית הוא לסובב את גלגלי המכונית.

- א. מכונית מתחילה בנסיעה. מהו הכוח החיצוני שפועל על המכונית בכיוון תנועתה, וגורם להגדלת מהירותה? ציין מה מפעיל את הכוח הזה.
- ב. כאשר יש קרח על הכביש, המכונית אינה יכולה להגיע לתאוצה שהייתה מגיעה אליה אילו לא היה קרח על הכביש. הסבר מדוע.
- ג. מכונית נוסעת במהירות שגודלה  $90 \frac{\text{km}}{\text{hr}}$  ונבלמת. בזמן בלימתה גלגליה נעצרים, והמכונית מחליקה עד לעצירה מוחלטת.
- i. חשב את המרחק שתעבור המכונית מתחילת הבלימה ועד לעצירתה בשני מצבים:
- יש קרח על הכביש, ומקדם החיכוך הקינטי הוא:  $\mu_k = 0.1$ .
  - אין קרח על הכביש, ומקדם החיכוך הקינטי הוא:  $\mu_k = 0.8$ .
- ii. על סמך תשובותיך על תת סעיף (i) הסבר מדוע סוגרים לתנועה כבישים שהצטבר עליהם קרח.
- ד. מכונית שמסתה  $1,000\text{kg}$  נעה קדימה. ברגע מסוים הכוח הפועל על מכונית בכיוון תנועתה הוא:  $1,200\text{N}$ , והשקול של כל כוחות החיכוך הפועלים על המכונית בכיוון המנוגד לכיוון תנועתה הוא:  $400\text{N}$ . חשב את תאוצת המכונית ברגע זה.

מלבד הכוח שכתבת בתשובתך על סעיף א', על מכונית נוסעת פועלת גם התנגדות אוויר. התנגדות האוויר גדלה ככל שמהירות המכונית גדלה.

- ה. הכוח הפועל על מכונית בכיוון תנועתה מקנה לה תאוצה, וכך לכאורה מכונית יכולה להגיע לכל מהירות אם רק תאיץ די זמן. הסבר מדוע, בכל זאת, לכל מכונית יש מהירות מרבית (מקסימלית), והיא אינה יכולה לעבור מהירות זו בנסיעתה לאורך כביש אופקי.

3) לרגל חגיגות תחילת האלף השלישי נבנה בלונדון פארק שעשועים ובו גלגל ענק שקוטרו 120m, הנקרא "העין הלונדונית". גודל מהירות הסיבוב של הגלגל ענק הוא קבוע, וסיבוב אחד שלו נמשך 20 דקות. לפניך תצלום של הגלגל ענק ותרשים המתאר את האירוע הנדון בשאלה.



תרשים



(צילום: Crendo)

תצלום

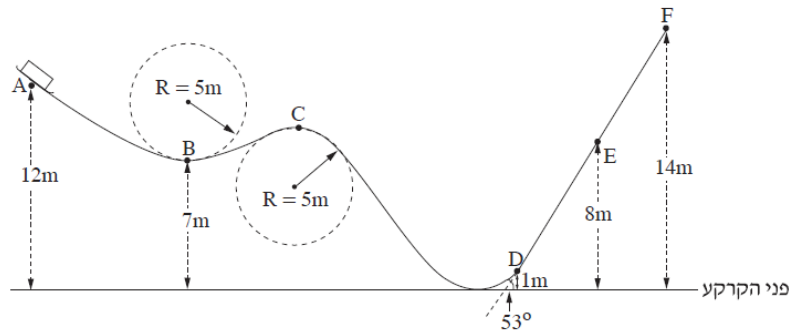
- על אחד הכיסאות של הגלגל ענק יושב ילד. מסת הכיסא עם הילד:  $M = 120\text{kg}$ . ראה במערכת "כיסא + ילד" גוף נקודתי, וענה על סעיפים א-ה.
- א. האם בזמן שהגלגל מסתובב התאוצה של המערכת "כיסא + ילד" שווה ל-0? נמק.
- ב. ענה על הסעיפים הבאים:
- קבע מהם הכוחות הפועלים על המערכת "כיסא + ילד" כאשר הגלגל מסתובב.
  - העתק למחברתך את הטבלה שלפניך. הוסף לטבלה שורה עבור כל אחד מן הכוחות שכתבת בתת סעיף (i), והשלם בה את הנתונים המתאימים לפי הכותרות.
- שים לב: הגלגל ענק מסתובב בכיוון השעון. הנקודות A, B ו-C מסומנות בתרשים.

כיוון הכוח			שם הכוח
בנקודה C	בנקודה B	בנקודה A	

iii. הוסף לטבלה שבמחברתך שורה עבור הכוח השקול, והשלם בה את הנתונים המתאימים.

- ברגע  $t = 0$  המערכת "כיסא + ילד" נמצאת בנקודה B והיא נעה כלפי מעלה.
- סרטט במחברתך גרף מקורב של המקום האנכי של המערכת "כיסא + ילד" כפונקציה של הזמן, במשך סיבוב שלם אחד של הגלגל.
  - חשב את שינוי האנרגיה המכנית של מערכת "כיסא + ילד" (ביחס לכדור הארץ), בפרק הזמן  $0 < t < 0.375T$ . הוא זמן המחזור של סיבוב הגלגל ענק.
  - קבע אם העבודה הכוללת הנעשית על המערכת "כיסא + ילד" בפרק הזמן המצוין בסעיף ד' היא חיובית, שלילית או שווה לאפס. נמק את קביעתך.

- 4) מסלול החלקה, הבנוי מקטעים ישרים ומקשתות של מעגלים ברדיוס  $5\text{m}$ , מכוסה שלג, לכן הוא נחשב חסר חיכוך. על המסלול, בנקודה A, נמצאת מזחלת שמסתה  $35\text{kg}$  (ראה תרשים). גיל, שמסתו  $65\text{kg}$ , התיישב במזחלת כשהיא במנוחה.



- א. המזחלת שוחררה ממנוחה והיא נעה לאורך המסילה בלי להתנתק ממנה. חשב את גודל מהירותה בנקודה B.
- ב. האם תשובתך לסעיף א' הייתה משתנה אילו נער אחר, שמסתו שונה מזו של גיל, היה מתיישב במזחלת? נמק.
- במזחלת מותקנים מאזני קפיץ, שהמשטח העליון שלהם מקביל למסלול בזמן התנועה. גיל יושב על המאזניים, רגליו באוויר והן אינן נשענות על המזחלת.
- ג. מה צריך להיות הגובה של נקודה C מעל פני הקרקע, כדי שגיל יהיה חסר משקל כאשר הוא חולף בנקודה זו? פרט את חישוביך.
- ד. חשב מה מורים המאזניים (ביחידות ניוטון) כאשר המזחלת חולפת בנקודה E.
- ביום חם פחתה כמות השלג לאורך הקטע DF, ובקטע זה היה חיכוך בין המסלול למזחלת. בעקבות החיכוך המזחלת נעצרה (רגעית) בנקודה E.
- ה. חשב את הגודל של כוח החיכוך שפעל על המזחלת בקטע DE.

## תשובות סופיות:

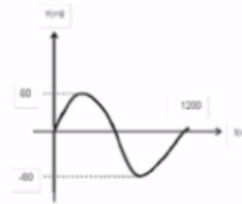
- (1) א. ראה סרטון. ב. השינוי במהירות נגרם ע"י פתיחת המצנח.  
 ג. ראה סרטון. ד. הוכחה.  
 ה. כוח הכובד-קבוע, התנגדות האוויר עולה ב-13 השניות הראשונות ולאחר מכן קבועה עד השנייה ה-20.  
 ו.  $F_{\min} = 0, F_{\max} = 2,400\text{N}$ .
- (2) א. כוח החיכוך של הכביש עם הגלגלים. ב. לקרח מקדם חיכוך נמוך.  
 ג. עם קרח:  $x = 312.5$ , בלי קרח:  $x = 39.06$ .  
 ii. כיוון שמרחק העצירה גדל משמעותית כמעט פי 10.  
 ד.  $a = 0.8$ . ה. ראה סרטון.
- (3) א. לא. ב. i. כוח הכובד וכוח הנורמל. ii.

כיוון הכוח			שם הכוח
בנקודה C	בנקודה B	בנקודה A	
מטה	מטה	מטה	כוח הכובד
מעלה	ימינה	מעלה	נורמל

iii.

כיוון הכוח			שם הכוח
בנקודה C	בנקודה B	בנקודה A	
מטה	ימינה	מעלה	הכוח השקול

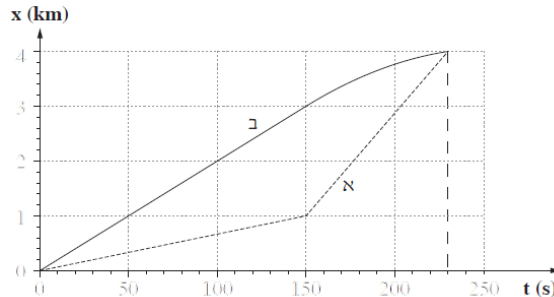
ג. סרטוט:  $y = 60\sin(\omega t)$ , ד. 50,916. ה. חיובית.



(4) א.  $v_B = 10 \frac{\text{m}}{\text{sec}}$ . ב. לא. ג.  $h_C = 9.5\text{m}$ . ד.  $N = 390\text{N}$ . ה.  $F = 456$ .

## 2013 קיץ מכניקה :

- (1) הגרף שלפניך מתאר את מקומן של שתי סירות, א' ו-ב', כפונקציה של הזמן. הסירות נעות במסלולים ישרים מקבילים.



א. הגדר את המושג "מהירות ממוצעת".

היעזר בגרף וענה על הסעיפים שלפניך.

- ב. הסירות שטות 230sec. קבע אם במשך פרק הזמן הזה המהירות הממוצעת של סירה א' גדולה מן המהירות הממוצעת של סירה ב', קטנה ממנה או שווה לה. נמק את קביעתך.

החל מהרגע  $t = 150\text{sec}$  ועד הרגע  $t = 230\text{sec}$  סירה ב' נעה בתאוצה קבועה.

ג. האם התאוצה חיובית או שלילית? נמק.

ד. חשב את גודל התאוצה של סירה ב' החל מהרגע  $t = 150\text{sec}$ .

- ה. סרטט במחברתך גרף מדויק של מהירות סירה ב' כפונקציה של הזמן, בפרק הזמן המתואר בגרף הנתון. ציין על הגרף שסרטטת את המהירות הסופית שסירה ב' הגיעה אליה.

- (2) גוף נופל ממנוחה מראש מגדל גבוה. גודלו של כוח החיכוך עם האוויר נתון על

ידי הביטוי:  $f = kv^2$ .  $k$  הוא קבוע התלוי במאפייני הגוף,  $v$  הוא מהירות הגוף.

א. מה הן היחידות של  $k$ ?

- ב. הגדר מהי "נפילה חופשית", וקבע אם תנועת הגוף הנתון היא נפילה חופשית. נמק את קביעתך.

- ג. סרטט במחברתך תרשים של כל הכוחות הפועלים על הגוף במהלך נפילתו, והסבר בעזרתו מדוע ייתכן שהחל מרגע מסוים הגוף נע במהירות קבועה.

נתון:  $m = 10\text{kg}$ ,  $k = 0.25$  (ביחידות שחישבת בסעיף א').

החל מרגע מסוים הגוף נע במהירות קבועה.

ד. חשב את גודל המהירות הקבועה של הגוף מרגע זה.

- ה. סרטט במחברתך גרף של מהירות הגוף כפונקציה של הזמן, מרגע שחרורו של הגוף ועד רגע פגיעתו בקרקע. בגרף זה אל תציין ערכים על ציר הזמן.

3) ענה על הסעיפים הבאים :

א. מכונית הנוסעת במהירות  $v_0$  על כביש ישר ואופקי מתחילה לבלום בתאוצה קבועה שגודלה  $a$ , ונעצרת לאחר שעברה  $l$  מטרים. פתח ביטוי המקשר בין ריבוע המהירות של המכונית של  $(v_0^2)$  לבין מרחק הבלימה  $l$ .

ב. בפעם אחרת המכונית נוסעת באותו כביש במהירות כפולה  $(2v_0)$ , ובולמת באותה תאוצה קבועה,  $a$ . חשב פי כמה השתנה מרחק הבלימה בפעם הזו, יחסית למרחק הבלימה המקורי,  $l$ .

לקראת החורף הוחלפו צמיגי המכונית, כדי שהמערכת למניעת החלקה תאפשר בלימה בתאוצה גדולה פי 1.5 מהתאוצה הקבועה  $a$ .

ג. המכונית נוסעת במהירות המקורית,  $v_0$ . חשב פי כמה השתנה מרחק הבלימה בפעם הזו יחסית למרחק הבלימה המקורי,  $l$ .

נתון כי המהירות המקורית של המכונית היא :  $v_0 = 15 \frac{m}{sec}$ , והמסה שלה

היא :  $m = 1500kg$ .

ד. חשב את הכמות הכוללת של האנרגיה שהפכה לחום, במהלך הבלימה המתוארת בסעיף א'.

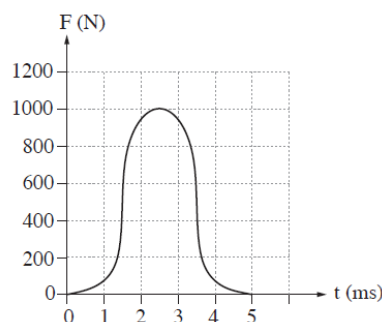
ה. שקול הכוחות הפועלים על המכונית במהלך הבלימה הוא קבוע, וגודלו :  $f = 3000N$ . חשב את מרחק הבלימה המקורי,  $l$ .

4) ענה על הסעיפים הבאים :

א. ניוטון כתב את החוק השני באמצעות הגודל "כמות התנועה",  $\vec{p} = m\vec{v}$ .

הראה שכאשר מסת הגוף קבועה :  $\frac{\Delta \vec{p}}{\Delta t} = m\vec{a}$ .

במשחק טניס מהירותו של הכדור משתנה בהשפעת הכוח שהמחבט מפעיל עליו. הגרף שלפניך מתאר את גודל הכוח שהמחבט מפעיל על הכדור, כפונקציה של הזמן במהלך חבטה אחת של שחקן טניס.



היעזר בגרף וענה על סעיפים ב' ו-ג'.

ב. חשב בקירוב את גודל השינוי שחל בתנע הכדור בעקבות חבטת המחבט.

נתון, מסת הכדור היא :  $m = 0.06\text{kg}$ .

השחקן חובט אופקית בכדור הנע כלפי מעלה במהירות של :  $v = 5 \frac{\text{m}}{\text{sec}}$ .

ג. חשב את מהירות הכדור (גודל וכיוון) מיד לאחר החבטה.

ד. כדור טניס מגיע לרצפה במהירות אנכית :  $v_1 = 12 \frac{\text{m}}{\text{sec}}$ , וחוזר כלפי מעלה

במהירות אנכית :  $v_2 = 12 \frac{\text{m}}{\text{sec}}$ .

לכל אחד מההיגדים i-iii קבע אם הוא נכון או לא נכון. נמק את קביעותיך.

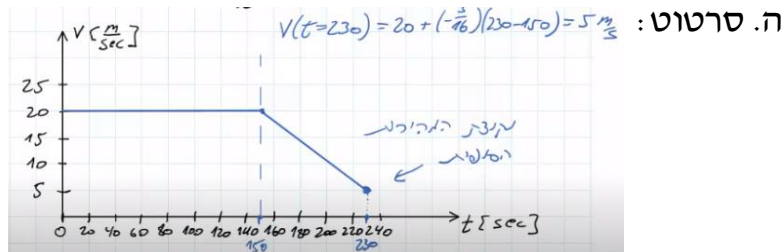
i. התנע של הכדור והתנע של כדור הארץ השתנו.

ii. התנע של הכדור השתנה, ואילו בתנע של כדור הארץ לא חל שום שינוי.

iii. התנע והאנרגיה הקינטית של הכדור השתנו.

## תשובות סופיות:


$$a = -\frac{3}{16} \frac{\text{m}}{\text{sec}^2} \quad \text{ד.} \quad \text{ג. שלילית.} \quad \text{ב. שווה.} \quad \text{א. } \bar{v} = \frac{\Delta x}{\Delta t} \quad (1)$$



$$k = \frac{\text{N} \cdot \text{sec}^2}{\text{m}^2} \quad \text{א.} \quad (2)$$

ב. נפילה חופשית היא כשהגוף נע בהשפעת כוח הכובד בלבד. תנועת הגוף הנתון היא לא נפילה חופשית.

ג. סרטוט:

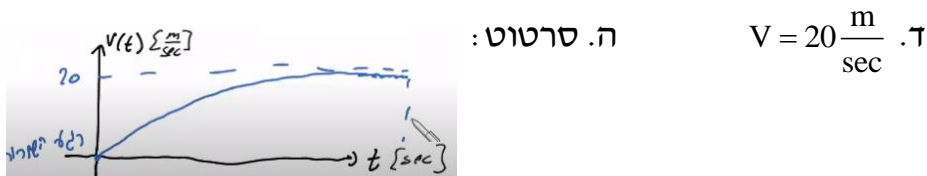


$$a = 0$$

$$\sum F = 0$$

$$mg = kv^2$$

$$v = \sqrt{\frac{mg}{k}}$$



$$Q = 168,750 \text{ J} \quad \text{ד.} \quad \Delta x = \frac{2}{3} l \quad \text{ג.} \quad \Delta x = l \cdot 4 \quad \text{ב.} \quad a = -\frac{V_0^2}{2l} \quad \text{א.} \quad (3)$$

$$l = 56.25 \text{ m} \quad \text{ה.}$$

$$\text{א. הוכחה.} \quad \text{ב. } \Delta P = 2 \text{ N} \cdot \text{sec} \quad \text{ג. } |v| \approx 33.7 \frac{\text{m}}{\text{sec}} \quad \text{ד. i. נכון.} \quad (4)$$

$$\text{ii. לא נכון.} \quad \text{iii. לא נכון.}$$

## מכניקה 2016:

1) שמעון והחתול שלו משחקים. שמעון הודף עכבר צעצוע על הרצפה. הצעצוע נע לאורך קו ישר מהנקודה A לכיוון הנקודה B (ראה תרשים). באותו רגע החתול מתחיל לרוץ מאותה הנקודה ולאותו כיוון. יש להזניח את התנגדות האוויר.



החתול האיץ ממנוחה בתאוצה קבועה של  $1 \frac{\text{m}}{\text{sec}^2}$ . לאחר 2 שניות הוא המשיך במהירות קבועה במשך 5 שניות נוספות, ובמהלך שנייה אחת נוספת הוא האט בקצב קבוע עד עצירתו בנקודה B.

- א. סרטט במחברתך גרף של מהירות החתול כפונקציה של הזמן.  
 ב. חשב את המרחק של הנקודה B מהנקודה A.

לאחר ששמעון הקנה לצעצוע מהירות התחלתית בנקודה A, הצעצוע הגיע לנקודה B שנייה וחצי לפני שהגיע לשם החתול. מקדם החיכוך  $\mu$  בין הצעצוע לרצפה קבוע.

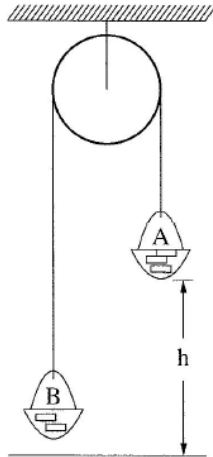
- ג. חשב את המהירות ההתחלתית של הצעצוע.  
 ד. סרטט במחברתך את תרשים הכוחות הפועלים על הצעצוע, וחשב את  $\mu$ .

בפעם אחרת חזר שמעון על המשחק והקנה לצעצוע את אותה המהירות ההתחלתית. הפעם מקדם החיכוך  $\mu'$  בין הצעצוע לרצפה גדול פי 2 ( $\mu' = 2\mu$ ).

ה. קבע באיזה מן הגדלים i-iv שלפניך לא חל שינוי בתנועת הצעצוע. נמק את קביעתך.

- i. התאוצה.  
 ii. הזמן עד העצירה.  
 iii. המרחק עד העצירה.  
 iv. המהירות הממוצעת.

2) לפניך 2 קטעים (קטע א' וקטע ב') של דוח מעבדה שהגיש צוות תלמידים. עליך לקרא כל אחד מן הקטעים ולענות על סעיפי השאלה שאחרי כל קטע.



נושא הניסוי: יישום החוק השני של ניוטון.  
 בתרשים מוצגת מערכת ("מכונת אטווד") המורכבת מגלגלת מקובעת לתקרה, ועליה כרוך חוט. בשני קצות החוט קשורים סלים A ו-B, ובתוכם מונחות משקולות. מסת הסל A עם המשקולות שבתוכו היא  $m_A$ , ומסת הסל B עם המשקולות שבתוכו היא  $m_B$ . הסל A (הכבד יותר) נמצא בגובה h מעל הרצפה (ראה תרשים). הסלים יכולים לנוע מעלה ומטה. במערכת זו מסת החוט והגלגלת וכל כוחות החיכוך זניחים. במהלך הניסוי משחררים את המערכת ממנוחה. באמצעות שרון עצר מודדים את זמן התנועה t של המערכת מרגע שחרורה ועד פגיעת הסל A ברצפה.  
 על פי מדידת הגובה והזמן מחשבים את התאוצה a של הסל A.

ניסוי 1.

מטרת הניסוי: לאמת את ההשערה שהסל A יורד בתאוצה קבועה. מהלך הניסוי: שחררנו את הסל A כמה פעמים, בכל פעם מגובה אחר, בלי לשנות את מסות הסלים. אחר כך חישבנו את התאוצה a. התוצאות והחישובים של שלוש מדידות מוצגים בטבלה:

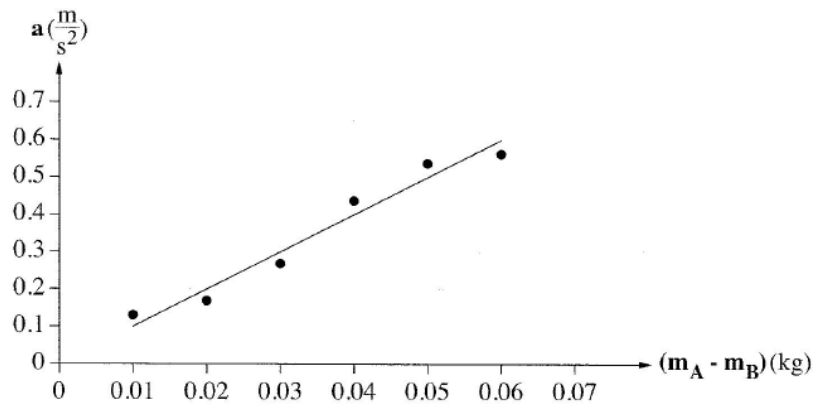
h (m)	t (s)	$a \left( \frac{m}{sec^2} \right)$
0.5	1.01	0.98
1	1.40	1.02
1.5	1.72	1.01

- הסבר בקצרה מדוע על פי חוקי ניוטון נכון להניח שהסל A יורד בתאוצה קבועה. בתשובתך על סעיף זה אין להתבסס על תוצאות המדידות.
- הראה כיצד חישבו התלמידים את התאוצה בניסוי זה.
- קבע אם הממצאים המוצגים בטבלה אכן מבססים את ההשערה שהסל A יורד בתאוצה קבועה. נמק את קביעתך.

ניסוי 2.

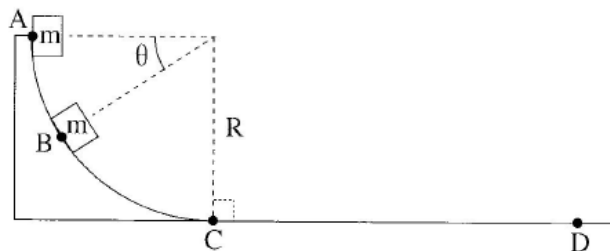
מטרת הניסוי: בדיקת התלות של התאוצה בהפרש המסות של הסלים, בעוד המסה הכוללת של המערכת נשארת קבועה. מהלך הניסוי: חזרנו על מדידת זמן התנועה כמה פעמים, ובכל פעם העברנו משקולת מהסל B לסל A.

תוצאות המדידות וקו למגמה מוצגים להלן:



- ד. סרטט במחברתך את תרשים הכוחות הפועלים על כל אחד מן הסלים. כתוב ליד כל כוח את שמו.
- ה. התבסס על חוקי ניוטון, ופתח משוואה המקשרת בין התאוצה ובין הפרש המסות של הסלים.
- ו. על פי הגרף שבקטע ב' והמשוואה שפיתחת בסעיף ה, חשב את המסה הכוללת  $(m_A + m_B)$  של הסלים במערכת. פרט את חישוביך.

- 3) גוף שמסתו  $m$  משוחרר ממנוחה בנקודה A, והוא נע לאורך מסלול ABCD (ראה תרשים). הקטע ABC חלק וצורתו רבע מעגל שרדיוסו R. הקטע CD הוא מישור מחוספס. יש להזניח את התנגדות האוויר.



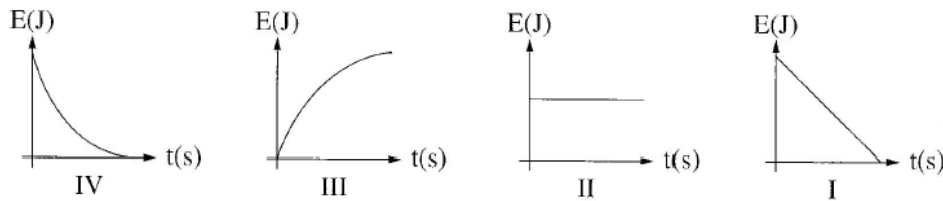
ענה על סעיפים א'-ג' באמצעות הפרמטרים:  $\theta$ ,  $g$ ,  $m$ ,  $R$  (כולם או חלקם).

- א. בטא את מהירותו של הגוף בנקודה B.
- ב. בטא את התאוצה הרדיאלית של הגוף בנקודה B.
- ג. בטא את התאוצה המשיקית של הגוף בנקודה B.

לאחר שהגוף עבר בנקודה C הוא נע בתאוצה קבועה עד שנעצר בנקודה D. נתון, מרחק העצירה:  $CD = 2R$ .

- ד. השתמש בשיקולי אנרגיה וחשב את מקדם החיכוך בין הגוף למישור המחוספס.

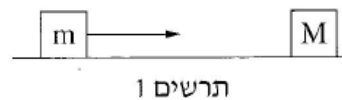
לפניך ארבעה גרפים המתארים אנרגיה מכנית כפונקציה של הזמן:



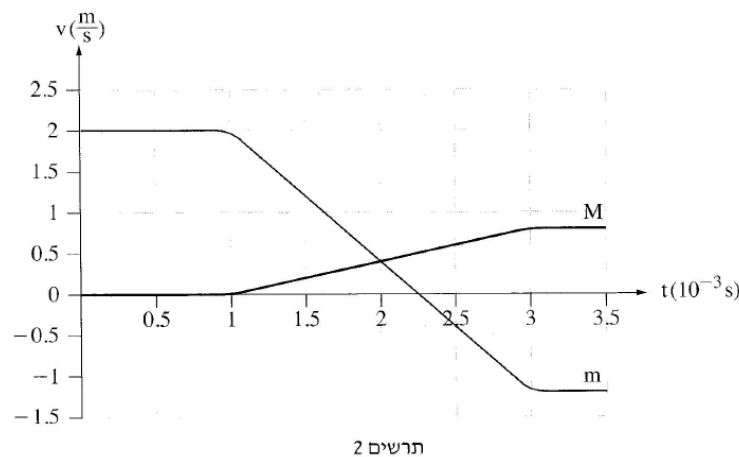
ה. ענה על הסעיפים הבאים:

- i. קבע איזה מן הגרפים I-IV מתאר נכון את האנרגיה המכנית של הגוף כפונקציה של הזמן, בקטע ABC.
- ii. קבע איזה מן הגרפים I-IV מתאר נכון את האנרגיה המכנית של הגוף כפונקציה של הזמן בקטע CD. נמק כל אחת משתי הקביעות.

4) תיבה שמסתה  $m = 0.5\text{kg}$  נעה ע משטח אופקי חלק לכיוון תיבה שמסתה M שנמצאת במנוחה (ראה תרשים 1).



שתי התיבות התנגשו התנגשות אלסטית (לחלוטין). בגרף שלפניך מוצגות המהירויות של שתי התיבות כפונקציה של הזמן. שים לב: הזמן בגרף נתון באלפיות שנייה.

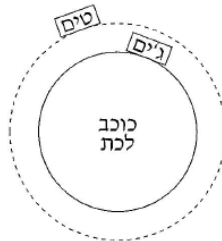


על פי הגרף ענה על הסעיפים האלה:

- א. תאר במילים את תנועתה של התיבה m בפרק הזמן המתואר בגרף.
- ב. חשב את מסת התיבה M.
- ג. חשב את הכוח השקול הממוצע שפעל על התיבה M בזמן ההתנגשות.

- ד. בגרף אפשר לראות שבזמן ההתנגשות, השיפועים של שתי העקומות שונים זה מזה בגודל ובסימן. התבסס על חוקי ניוטון והסבר שוני זה.
- ה. הוכח שההתנגשות הייתה אלסטית (לחלוטין).
- ו. החליפו את התיבה שמסתה  $M$  בתיבה אחרת שמסתה  $M'$ . ההתנגשות בין התיבות נשארה התנגשות אלסטית (לחלוטין). חשב מה צריך להיות הערך המרבי של מסת התיבה  $M'$ , כדי שתיבה  $m$  לא תשנה את כיוון תנועתה אחרי ההתנגשות.

- 5) בתרחיש דמיוני, שני אסטרונוטים טים וגיים חקרו כוכב לכת שלא נע סביב צירו. טים ישב על כיסא בתוך מעבורת שהקיפה את כוכב הלכת במסלול מעגלי במנוע כבוי. גיים ישב על כיסא בתוך רכב חלל שעמד על פני כוכב הלכת (ראה תרשים). לשני האסטרונוטים מסה זהה:  $m = 100\text{kg}$ .



- א. קבע מיהו האסטרונוט שהפעיל על כיסאו כוח גדול יותר: טים או גיים? נמק בלי חישוב.

- על הרצפה של רכב החלל שעמד על פני כוכב הלכת הותקן מד-משקל. כאשר גיים עמד עליו, הוריית המד-משקל הייתה  $2000\text{N}$ . גיים התחיל בנסיעה לאורך מסלול מעגלי על קו המשווה של כוכב הלכת. הוא הבחין שככל שהגביר את מהירותו, כך קטנה הוריית המד-משקל.
- ב. הסבר מדוע קטנה הוריית המד-משקל.

נתון, כאשר הגיע רכב החלל למהירות של:  $v = 1.25 \cdot 10^4 \frac{\text{m}}{\text{sec}}$ , הייתה הוריית

המד-משקל  $980\text{N}$ .

- ג. חשב את הרדיוס של כוכב הלכת.
- ד. חשב את מסתו של כוכב הלכת.
- ה. תאוצת המעבורת שהקיפה את כוכב הלכת בתנועה מעגלית קצובה הייתה  $a$ . נסמן ב-  $g^*$  את תאוצת הכובד בגובה שבו סובבת המעבורת סביב כוכב הלכת. קבע איזה מן ההיגדים i-iii שלפניך נכון. נמק קביעתך.

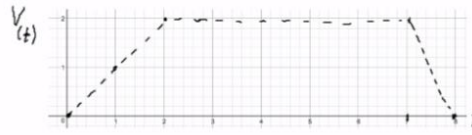
i.  $a > g^*$

ii.  $a = g^*$

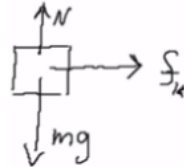
iii.  $a < g^*$

## תשובות סופיות:

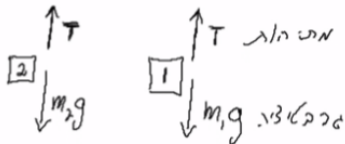
(1) א. סרטוט:  $V_0 = 4$  ג.  $13m$  ב.



ד. סרטוט:  $\mu = -\frac{8}{130}$ , ה. iv.



(2) א. סכום הכוחות קבוע ולכן התאוצה קבועה. ב. ראה סרטון. ג. הוכחה אמפירית. ד. סרטוט:



$$\mu = -\frac{8}{130}, \quad \text{ה. } \frac{g}{m_A + m_B} (m_A - m_B) = a_2, \quad \text{ג. } m_A + m_B = 1$$

(3) א.  $V^2 = 2gR \sin \theta$  ב.  $a_f = \frac{V^2}{R}$  ג.  $a_\theta = g \cos \theta$

ד.  $\mu = \frac{1}{2}$  ה. i. גרף II. ii. גרף I.

(4) א. ראה סרטון. ב.  $M = 2$  ג.  $F = 800N$

ד. ראה סרטון. ה. הוכחה. ג.  $\left(\frac{M}{m}\right)^2 = \frac{M}{m}$

(5) א. ג'ים. ב.  $N = mg - \frac{m}{R} V^2$  ג.  $R = 1.56 \cdot 10^7$

ד.  $M = 7.1 \cdot 10^{25}$  ה. היגד ii נכון.

# מכניקה לביולוגיה מולקולרית

## 711161001

פרק 16 - גלים

תוכן העניינים

1. גלים והתאבכות גלים ..... 180

## גלים והתאבכות גלים:

### שאלות:

#### (1) תרגול גל 1

פולס נע ימינה בחבל.



מתוארת צורתו בשני זמנים שונים:  $t = 0$ ,  $t = 2 \text{ sec}$ .

א. מה משרעת הפולס?

ב. מה מהירות התקדמותו?

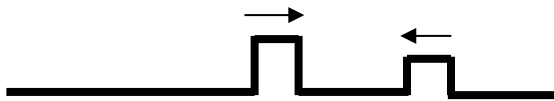
ג. מה כיוון תנועת החלקיק בחבל שנמצא בנקודה A ברגע  $t = 0$ ?

ד. מה כיוון תנועת החלקיק בחבל שנמצא בנקודה B ברגע זה?

#### (2) תרגול גל 2

מציירים בחבל שתי הפרעות כמתואר בתרשים:  $v = 10 \frac{\text{cm}}{\text{sec}}$ .

שרטט את החבל בזמנים הבאים:



א.  $t = 8 \text{ sec}$

ב.  $t = 16 \text{ sec}$

ג.  $t = 18 \text{ sec}$

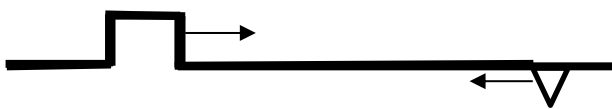
ד.  $t = 22 \text{ sec}$

#### (3) תרגול גל 3

בחבל מייצרים שתי הפרעות שונות בשני קצותיו שמתקדמות אחת לקראת

השנייה, כמתואר בתרשים:  $v = 0.5 \frac{\text{cm}}{\text{sec}}$ .

שרטט את צורת החבל בזמנים הבאים:



א.  $t = 8 \text{ sec}$

ב.  $t = 12 \text{ sec}$

ג.  $t = 13 \text{ sec}$

ד.  $t = 16 \text{ sec}$

#### (4) תרגול גל 4

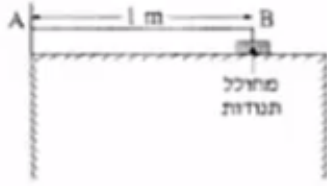
פולס משולש נע בחבל ומגיע לקצהו. שרטט את החבל + הפלוס במקרים הבאים:

א. קצה החבל קשור לקיר.

ב. קצה החבל מולבש על טבעת חופשיה למנוע על פני ציר שעובר דרכה.

ג. קצה החבל קשור לחבל כבד יותר.

ד. קצה החבל קשור לחבל קל יותר.

**5) תרגול גל עומד**


חוט AB, שאורכו 1m, קשור בקצהו B למחולל תנודות, ובקצהו A למוט קבוע (ראה תרשים).  
 כאשר תלמיד מפעיל את מחולל התנודות, נוצר בחוט AB גל, שמוחזר מהקצה A.  
 התלמיד מגדיל ברציפות את תדירות מחולל התנודות ורושם את התדירויות בכל פעם שנוצר בחוט AB גל עומד. תוצאות הניסוי רשומות בטבלה שלפניך:

$\frac{1}{\lambda} (\text{m}^{-1})$	$\lambda (\text{m})$	צורת הגל העומד	f - תדירות התנודות (Hz)
			24
			45
			67
			88

התייחס לנקודה B כנקודת צומת.

א. העתק את הטבלה למחברתך, ורשום בעמודה את אורך הגל  $\lambda$ , לכל אחד מארבעת הגלים העומדים שנוצרו בחוט?

ב. רשום בעמודה המתאימה בטבלה את הערך  $\frac{1}{\lambda}$  לכל אחד מארבעת הגלים,

וסרטט גרף של התדירות f כפונקציה של  $\frac{1}{\lambda}$ .

ג. מצא בעזרת הגרף את מהירות התפשטותו של גל בחוט AB.

ד. התלמיד ממשיך להגדיל את תדירות מחולל התנודות.

מהי התדירות הראשונה (הגבוהה מ-88Hz) שייווצר בה גל עומד בחוט AB? נמק.

**6) תרגול גל מחזורי 1**

מופיעים לפניכם גרפי העתק זמן והעתק מקום של חבל מסוים.

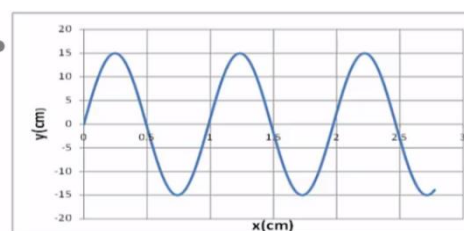
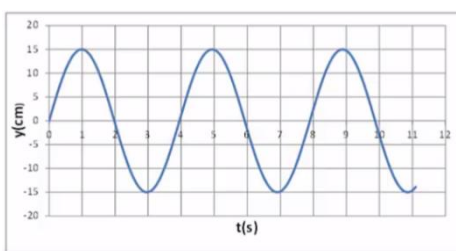
א. מהי משרעת הגל?

ב. מהו אורך הגל המתקדם בחבל?

ג. מה זמן המחזור של הגל?

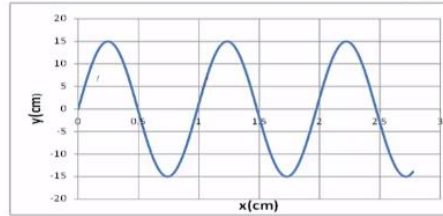
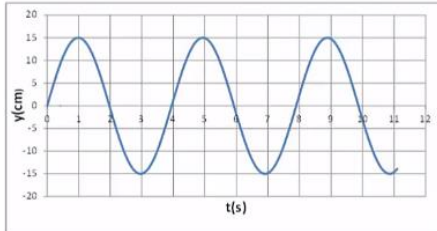
ד. מה מהירות הגל?

ה. לאיזה נקודה/נקודות בחבל יכול להתאים גרף ההעתק זמן (השמאלי)?



**7) תרגול גל מחזורי 2**

לפניכם גרף העתק-מקום והעתק-זמן של הגוף מהשאלה הקודמת. מכפילים את תדירות מחולל הגלים (מקור). שרטטו את גרף העתק-זמן והעתק-מקום החדשים.

**8) תרגול גל מחזורי 3**

- לפניך שני תצלומים (נראים זהים). הימני : גל מתקדם, השמאלי : גל עומד בקהל.
- קבע את אורך הגל של כל אחד מהגלים בחבל.
  - שרטט את החבל  $\frac{1}{4}$  זמן מחזור לאחר תצלום זה.
  - שרטט את החבל  $\frac{1}{2}$  זמן מחזור לאחר תצלום זה.
  - בחר בכל תצלום נקודה מימין ומשמאל למשרעת, וצייר את כיוון תנועתה מיד לאחר צילום זה.

**9) תרגיל 1**

מהירות גל במיתר מתוח 25 מטר בשנייה. קושרים את היתר בין שני כנים שהמרחק ביניהם 3 מטר. מניעים את המיתר בעזרת מתנד. באיזו תדירות יש לנדנד אותו כך שייווצר בו גל עומד עם 12 נקודות צומת (כולל הקצוות)?

- 45.8 הרץ.
- 70 הרץ.
- 8.3 הרץ.
- 75 הרץ.
- 80.7 הרץ.

**(10) תרגיל 2**

מיתר בעל אורך 90 ס"מ קשור בשני קצותיו. כשמנדנדים אותו בתדירות 150 הרץ, נוצר בו גל עומד עם 8 נקודות צומת (כולל הקצוות). מהירות גל במיתר הנ"ל:

א.  $15.3 \frac{\text{m}}{\text{sec}}$

ב.  $38.6 \frac{\text{m}}{\text{sec}}$

ג.  $17 \frac{\text{m}}{\text{sec}}$

ד.  $34.3 \frac{\text{m}}{\text{sec}}$

**(11) תרגיל 3**

מנדנדים מיתר מתוח הקשור בשני קצותיו בתדירות 100 הרץ. אורך המיתר 3 מטר. במיתר נוצר גל עומד עם 5 נקודות צומת (כולל הקצוות). מהי מהירות הגל במיתר?

א.  $150 \frac{\text{m}}{\text{sec}}$

ב.  $100 \frac{\text{m}}{\text{sec}}$

ג.  $330 \frac{\text{m}}{\text{sec}}$

ד.  $20 \frac{\text{m}}{\text{sec}}$

ה.  $340 \frac{\text{m}}{\text{sec}}$

**(12) תרגיל 4**

מיתר של גיטרה משמיע עם הפריטה עליו צליל בתדירות של 300 הרץ. אם רוצים להפיק מהמיתר צליל בעל תדירות של 900 הרץ:

א. אין כל דרך להפיק את התדירות הנ"ל מהמיתר.

ב. יש להקטין את המתיחות במיתר פי 3.

ג. יש לקצר את המיתר פי 3.

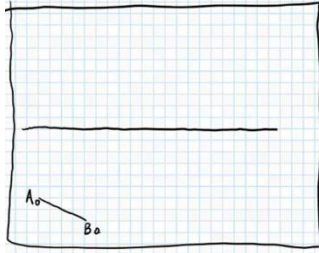
ד. יש להאריך את המיתר פי 3.

ה. יש להגדיל את המתיחות פי 2.

### 13) תרגיל החזרה גלים דו ממדיים

נתון אמבט גלים הבא בו מתקדם גל ישר  $A_0B_0$ . באמבט קיים גם מחסום.

- א. הוסף לתרשים חץ המתאר את כיוון התקדמות הגל  $A_0B_0$ .  
 ב. הוסף לתרשים את חזית הגל לאחר שהוחזרה מהמחסום.



- ג. הוסף לתרשים חיצים המתארים את זוויות פגיעת והחזרת הגל כפי שהן מוחזרות לאור.  
 ד. הוסף לתרשים חיצים המתארים את זוויות פגיעת והחזרת הגל כפי שהן מוחזרות לגלי מים.  
 ה. הוסיפו לתרשים את חזית הגל, ברגע שבו אמצע חזית הגל נוגעת במחסום.

### 14) תרגול מעבר תווך גלי מים

נתון אמבט גלים בו נע גל לפי התרשים הבא.

במרכז האמבט מוקם מחסום כך שגובה המים בחלק הימני נמוך יותר.

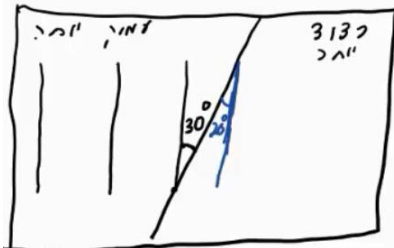
מקור גלים בקצה השמאלי של האמבט מייצר גל ישר מחזורי בתדירות 4 הרץ.

מהירות הגל במים בחלק העמוק היא 20 ס"מ לשנייה. הגל מתקדם ועובר לתווך הימני כמתואר בתרשים.

- א. מה מהירות גל המים בתווך הרדוד יותר?  
 ב. מהו אורך הגל  $\lambda_1$  בחלק העמוק?

ג. מהו אורך הגל  $\lambda_2$  בחלק הרדוד?

- ד. הוסיפו לתרשים (איכותית) עוד 2 אורכי גלים לאחר מעבר גל המים לתווך הרדוד.



### 15) תרגול אנרגיה ומשרעת של גל


גל מעגלי מתפשט באמבט גלים. משרעתו, כשהיה מעגל ברדיוס 3cm, הייתה 1cm.

א. פי כמה תהיה קטנה האנרגיה שלו כשיתפשט לרדיוס של 15cm?

ב. מה תהיה משרעתו במצב זה?

**16) התאבכות גלי מים – תרגיל 1**

נתון תרשים של אמבט גלים ובו 2 מקורות בעלי אורך גל זהה ושווי מופע.  
 קווים רציפים מייצגים שיא בגל וקווים מקווקוים – שפל.  
 זהו את קווי המקסימום והמינימום בתרשים.

**17) התאבכות גלי מים – תרגיל 2**

נתון אמבט גלים בו 2 מקורות שהמרחק ביניהם 7 ס"מ.  
 המקורות מכים במים במופע זהה בתדירות 20 הרץ.  
 מהירות התקדמות הגלים באמבט היא 25 ס"מ לשנייה.

- א. מה אורך הגל של הגלים שיוצרים המקורות?  
 ב. קבע, לגבי כל אחת מהנקודות הבאות: A, B, C, D בתרשים, האם היא על קו מקסימום, על קו מינימום או נקי ביניים:
- i. A - מרחקה מהמקור הראשון - 4 ס"מ ומהמקור השני - 2.8 ס"מ.
  - ii. B - מרחקה מהמקור הראשון - 5 ס"מ ומהמקור השני - 3.2 ס"מ.
  - iii. C - מרחקה מהמקור הראשון - 7 ס"מ ומהמקור השני - 3.4 ס"מ.
  - iv. D - מרחקה מהמקור הראשון - 8 ס"מ ומהמקור השני - 6.5 ס"מ.
- ג. כמה קווי מקסימום וכמה קווי מינימום יופיעו באמבט?

**18) שאלה 1 בהתאבכות גלי מים**

שני מקורות גל זהים A ו-B נמצאים בנקודות (0,0) ו-(6,0). המקורות משדרים באורך גל של 1cm לכל הכיוונים. על ציר y מתקבלת התאבכות בונה בנקודות הבאות (המספרים בס"מ):

- א. (0,1.1) (0,2.5) (0,4.5) (0,8) (0,17.5).
- ב. (0,1) (0,2) (0,4) (0,8) (0,16) (0,32).
- ג. (0,6) (0,12) (0,18) (0,24) (0,30).
- ד. (4,4.5) (4,8) (4,17.5) (3,2).
- ה. (0,4.2) (0,8.7) (0,16.5) (0,0).
- ו. (0,4.5) (0,8) (0,17.5).

**19) שאלה 2 בהתאבכות גלי מים**

שני מקורות גל זהים ושווי מופע ממוקמים בנקודות  $(0,0)$  ו- $(5,0)$  (הערכים בס"מ). אורך הגל של כל אחד מהם 2 ס"מ. היכן על ציר  $y$  תתקבל התאבכות בונה מסדר ראשון? (הערכים בס"מ).

- א.  $(5,2.5)$ .
- ב.  $(0,5.25)$ .
- ג.  $(0,6)$ .
- ד.  $(0,2.5)$ .
- ה.  $(0,-5.25)$ .

**20) שאלה 3 בהתאבכות גלי מים**

שני מקורות גל זהים A ו-B נמצאים בנקודות  $(0,5)$  ו- $(0,-5)$ . בנקודה  $(10,10)$  מתקבלת התאבכות בונה מסדר ראשון (כל המספרים נתונים בס"מ) אורך הגל הוא בקירוב:

- א. 8.5 ס"מ.
- ב. 5 ס"מ.
- ג. 7.3 ס"מ.
- ד. 15 ס"מ.
- ה. 6.8 ס"מ.

**21) שאלה 4 בהתאבכות גלי מים**

באמבט גלים ממוקמים שני מתנדים בשתי נקודות  $(4,2)$  ו- $(7,6)$ . המתנדים רוטטים בתדירות זהה ובאותו מופע. בנקודה  $(10,10)$  מתקבלת התאבכות בונה מסדר שלישי. מהו אורך הגל? (הגדלים המספריים במטרים).

- א. 1.67m.
- ב. 0.62m.
- ג. 2.79m.
- ד. 6.83m.
- ה. 1.23m.

**(22) התאבכות אור תרגיל 1**

מאירים בלייזר בעל אורך גל 500 ננומטר לוחית בעלת 2 סדקים בעלי  $d = 0.2\text{mm}$ . במרחק  $L = 3\text{m}$  נמצא מסך.

- מהו רוחב פס אור כל עוד אנחנו בזוויות קטנות?
- מהו מרחקו ממרכז התבנית של מרכז פס האור מסדר רביעי?
- מהו מרחקו ממרכז תבנית ההתאבכות של קו החושך מסדר שביעי?
- מה מרחקו ממרכז תבנית ההתאבכות של מרכז פס האור מסדר 200?


**(23) התאבכות אור תרגיל 2**

מאירים בלייזר ירוק בעל אורך גל לא ידוע על לוחית ובה 2 סדקים שהמרחק ביניהם 0.15 מ"מ. מניחים מסך שאורכו  $h = 1\text{m}$  במרחק 3 מטר מהלוחית כך שמרכז המסך בדיוק מול הסדקים. הזווית למקסימום מסדר חמישי נמדדת ושווה ל-1 מעלה.

- מה אורך הגל של הלייזר?
- מה מרחקו של המינימום מסדר חמישי ממרכז המסך?
- כמה קווי חושך התקבלו על המסך?
- אם נחליף המסך במסך ארוך מאוד שיונח באותו מיקום, כמה פסי אור ייווצרו על המסך?

**(24) התאבכות אור תרגיל 3**

לוקחים לייזר אדום בעל אורך גל לא ידוע ומציבים לפניו לוחית בעלת 2 סדקים שהמרחק ביניהם 0.25 מ"מ. ממקמים מסך במרחק 1.8 מטר מהלוחית. על המסך מתקבלת תבנית ההתאבכות הבאה, לצד סרגל שהודבק למסך מראש.




- מצא את אורך הגל של הלייזר בדרך המדויקת ביותר.
- איזה מהנקודות בצילום הינה נקודת המקסימום המרכזי?
- לאיזה נקודה בצילום מגיע אור שמרחקו מאחד הסדקים גדול ב-3 אורכי גל מאשר מרחקו מהסדק השני?
- לאיזה נקודה על המסך מגיע אור שמרחקו מאחד הסדקים גדול ב-4.5 אורכי גל מאשר מרחקו מהסדק השני?
- מהן 3 הדרכים אשר ניתן לצופף בהן את תבנית ההתאבכות?

**(25) התאבכות אור בסריג – תרגיל 4**

- מאירים בלייזר בעל אורך גל לא ידוע על סריג בעל קבוע של 100 חריצים למ"מ. מציבים מסך במרחק 1 מטר מהסריג כך שמרכזו מול מרכז הסריג ומול קרן הלייזר. אורך המסך 4 מטר.
- מיקומו של קו המקסימום הראשון נמדד ושווה ל-6.5 ס"מ ממרכז המסך.
- מהו אורך הגל של הלייזר?
  - מה מיקומו של קו המקסימום מסדר שני?
  - מה מיקומו של קו המקסימום מסדר חמישי?
  - כמה קווי מקסימום יתקבלו על המסך?
  - בהנחה שמחליפים מסך זה במסך ארוך מאוד באותו המיקום, כמה קווי מקסימום יתקבלו עליו?

**(26) התאבכות אור בסריג – תרגיל 5**

- מאירים בלייזר ירוק בעל אורך גל 550 ננומטר על סריג בעל קבוע לא ידוע, ומציבים מסך במרחק 2.5 מטר מהסריג.
- על המסך שעליו מודבק סרגל מתקבלת התמונה הבאה:



- מצאו את קבוע הסריג בדרך המדויקת ביותר.
- באיזה זווית ביחס לאנך האמצעי יתקבל קו המקסימום מסדר 20?
- מה יקרה לתבנית ההתאבכות אם נחליף את הלייזר הירוק בלייזר כחול?

**(27) התאבכות אור בסריג – תרגיל 6**

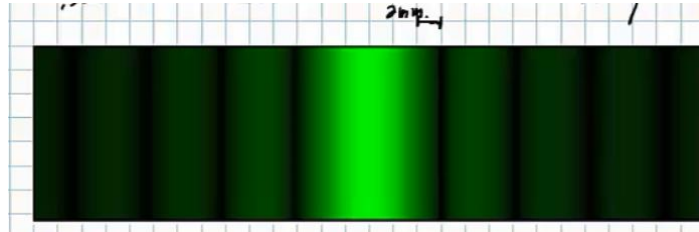
- אור לבן פוגע בסריג עקיפה בעל קבוע 300 חריצים למ"מ. מסך ארוך מונח במרחק 2 מטר מהסריג.
- מה רוחב הפס הצבעוני מסדר ראשון?
  - מה הזווית שנפתחת בין המקסימום האדום מסדר שני, והסגול מסדר שני?
  - הוכח שקיימת חפיפה בצבעים בין הסדר השני לסדר השלישי.

**(28) עקיפה מסדק יחיד – תרגיל 1**

- תלמיד מאיר בלייזר אדום בעל אורך גל 670 ננומטר סדק שרוחבו 0.3 מ"מ. תבנית עקיפה מתקבלת על מסך במרחק 1.5 מטר.
- מה רוחבו של המקסימום המרכזי?
  - מה רוחבו של מקסימום משני, מסדר נמוך?

**29) עקיפה מסדק יחיד – תרגיל 2**

לוקחים לייזר ירוק בעל אורך גל 530 ננומטר. מציבים אותו לפני סדק בעל רוחב לא ידוע, ועל מסך משבצות במרחק 3 מטר מהסדק מתקבלת תבנית ההתאבכות הבאה:

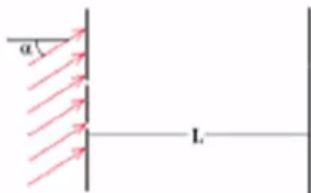


נתון שרוחב משבצת על הלוח הוא 2 מ"מ.

- מה רוחב הסדק?
- כמה קווי צומת יתקבלו על מסך ארוך מאוד?
- מה יקרה לתבנית ההתאבכות אם נגדיל את רוחב הסדק?

**30) שאלה בהתאבכות גלי אור**

דרך משטח מישורי עם שני סדקים צרים מאוד מעבירים גל מישורי בעל אורך גל  $\lambda$  המתקדם בכיוון היוצר זווית קטנה  $\alpha$  עם האנך למשטח (ראו ציור).



המרחק בין הסדקים הוא  $d$  כאשר  $d \gg \lambda$ . מודדים את העוצמה במרכז לוח מישורי הנמצא במרחק  $L \gg d$  מהמשטח עם הסדקים, כלומר בנקודה הנמצאת מול נקודת האמצע בין שני הסדקים. העוצמה הנמדדת היא 0.

מהי הזווית הקטנה ביותר  $\alpha$  המסבירה מדידה זו?

- $\alpha = 0$
- $\alpha = \frac{\lambda}{2d}$
- $\alpha = \frac{2\lambda}{\pi d}$
- $\alpha = \frac{2\lambda}{d}$
- $\alpha = \frac{2\pi\lambda}{d}$
- $\alpha = \frac{\lambda}{\pi d}$

**31 שאלה 2 בהתאבכות גלי אור**

שני גלים אלקטרומגנטיים העוברים כל אחד דרך סדק צר יוצרים תבנית התאבכות

על פני מסך רחוק. הגל העובר דרך הסדק הראשון מתואר ע"י:  $\vec{E}_1 = A_1 \cdot e^{i(kz - \omega t)} \hat{x}$ .

הגל העובר דרך הסדק השני מתואר ע"י:  $\vec{E}_2 = A_1 \cdot e^{i(kz - \omega t)} (-\hat{y})$ .

היחס בין העוצמה המקסימלית לעוצמה המינימלית הוא:

א.  $\sqrt{2}:1$ .

ב.  $1:0$ .

ג.  $1:1$ .

ד.  $2:1$ .

ה.  $4:1$ .

ו.  $3:2$ .

**32 שאלה 1 – גלי קול**

אם נניח, כי עוצמת סף השמע היא:  $10^{-16} \frac{W}{cm^2}$ .

מהי העוצמה ביחידות הני"ל בסף הכאב 140dB (כלומר, כמה  $\frac{W}{cm^2}$  יש ב-140dB)?

א.  $14 \cdot 10^{-16} \frac{W}{cm^2}$ .

ב.  $10^{-14} \frac{W}{cm^2}$ .

ג.  $140 \frac{W}{cm^2}$ .

ד.  $10^4 \frac{W}{cm^2}$ .

ה.  $10^{-2} \frac{W}{cm^2}$ .

**33 שאלה 2 – גלי קול**

פי כמה גדולה עוצמת קול של 100 דציבל מעוצמת קול של 10 דציבל?

א. פי 10.

ב. פי 100.

ג. פי 1,000.

ד. פי 10,000.

ה. פי 1,000,000.

ו. פי 1,000,000,000.

ז. פי 10,000,000,000.

### 34 שאלה 3 – גלי קול

אם עוצמת הקול המינימאלית שבני אדם מסוגלים לשמוע (סף השמע)

היא:  $10^{-16} \frac{W}{cm^2}$ , מהי עוצמת הקול באותן יחידות ב-130 דציבל (סף הכאב),

וכמה אנרגיה פוגעת בעור התוף החשוף לעוצמה הזו (130dB) במשך שעה? נתון ששטחו של עור התוף כ-0.7 סמ"ר.

א. העוצמה:  $10^{-13} \frac{W}{cm^2}$ , וסה"כ אנרגיה בשעה: 5.3J.

ב. העוצמה:  $10^{-3} \frac{W}{cm^2}$ , וסה"כ אנרגיה בשעה: 5.3J.

ג. העוצמה:  $130 \frac{W}{cm^2}$ , וסה"כ אנרגיה בשעה: 75J.

ד. העוצמה:  $1.3 \cdot 10^{-3} \frac{W}{cm^2}$ , וסה"כ אנרגיה בשעה: 2.52J.

ה. העוצמה:  $0.001 \frac{W}{cm^2}$ , וסה"כ אנרגיה בשעה: 2.52J.

### 35 שאלה 4 – גלי קול

אם נניח כי עוצמת סף השמע היא:  $10^{-16} \frac{W}{cm^2}$  (ווט לסמ"ר),

מהי העוצמה I ביחידות הנ"ל ב-120dB, וכמה אנרגיה E פוגעת בעור התוף של אוזנו של אדם, החשוף לעוצמת קול זו במשך 4 שעות? הניחו ששטחו של עור התוף 0.7 סמ"ר.

א.  $I = 12 \cdot 10^{-16} \frac{W}{cm^2}$  ו-  $E = 5.8 \text{Joule}$ .

ב.  $I = 13 \cdot 10^{-14} \frac{W}{cm^2}$  ו-  $E = 5.8 \text{Joule}$ .

ג.  $I = 10^{-4} \frac{W}{cm^2}$  ו-  $E = 1.01 \text{Joule}$ .

ד.  $I = 10^{-4} \frac{W}{cm^2}$  ו-  $E = 10.1 \text{Joule}$ .

ה.  $I = 120 \frac{W}{cm^2}$  ו-  $E = 1.2 \cdot 10^6 \text{Joule}$ .

**36) שאלה 5 – גלי קול**

כאשר אדם נחשף לקול בעוצמה של 20 דציבל בפרק זמן של שעה, כמות האנרגיה הכוללת המגיעה לעור התוף של אוזנו היא:  $2.5 \cdot 10^{-11} \text{ Joule}$ . מהי כמות האנרגיה הכוללת המגיעה לעור התוף כאשר האוזן נחשפת לקול בעוצמה של 120 דציבל למשך זמן של 20 דקות?

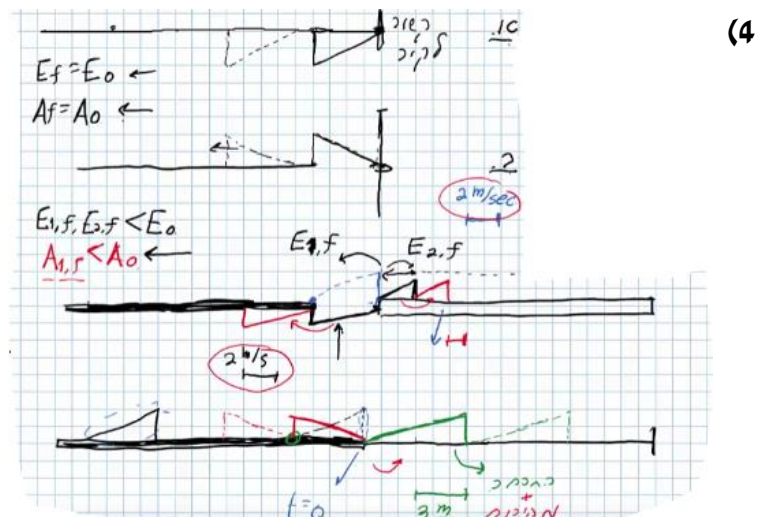
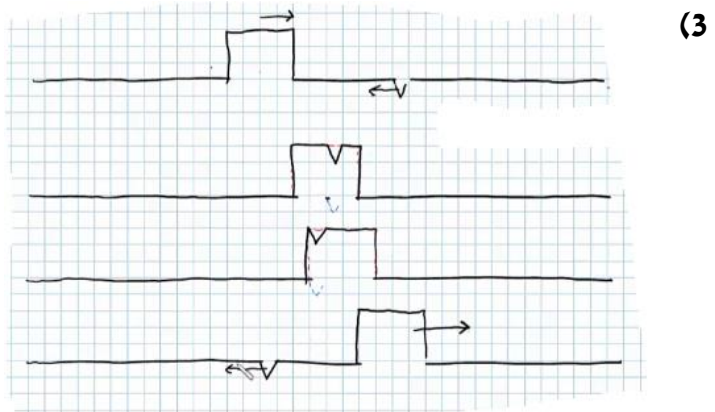
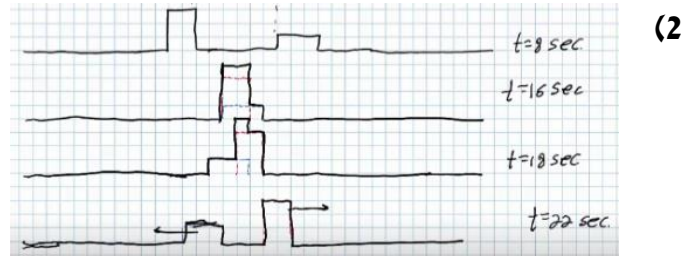
א.  $0.08 \text{ Joule}$ .ב.  $0.75 \text{ Joule}$ .ג.  $25 \text{ Joule}$ .ד.  $2.5 \cdot 10^{-5} \text{ Joule}$ .ה.  $5 \cdot 10^{-11} \text{ Joule}$ .**37) שאלה 6 – גלי קול**

כאשר אדם נחשף לקול בעוצמה של 20 דציבל בפרק זמן של שעה, כמות האנרגיה הכוללת המגיעה לעור התוף של אוזנו היא:  $2.5 \cdot 10^{-11} \text{ Joule}$ . מהי כמות האנרגיה הכוללת המגיעה לעור התוף כאשר האוזן נחשפת לקול בעוצמה של 120 דציבל למשך זמן של 30 דקות?

א.  $0.125 \text{ Joule}$ .ב.  $1.130 \text{ Joule}$ .ג.  $37.52 \text{ Joule}$ .ד.  $3.8 \cdot 10^{-5} \text{ Joule}$ .ה.  $7.5 \cdot 10^{-11} \text{ Joule}$ .

**תשובות סופיות:**

(1) א.  $A = 0.3\text{m}$  ב.  $V = 0.2 \frac{\text{m}}{\text{sec}}$  ג. למעלה. ד. למטה.

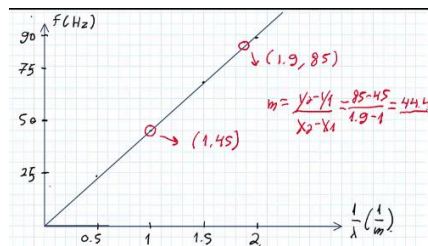


5 א.

$\frac{1}{\lambda} (\text{m}^{-1})$	$\lambda (\text{m})$	צורת הגל העומד	f - תדירות התנודות (Hz)
0.5	2		24
1	1		45
1.5	$\frac{2}{3}$		67
2	$\frac{1}{2}$		88

$f = 111 \text{ Hz}$  . ד  $f = v \frac{1}{\lambda}$  . ג

ב.

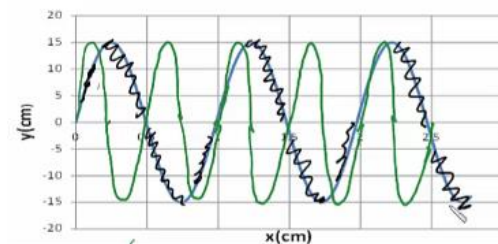


$v = 25 \frac{\text{cm}}{\text{sec}}$  . ד

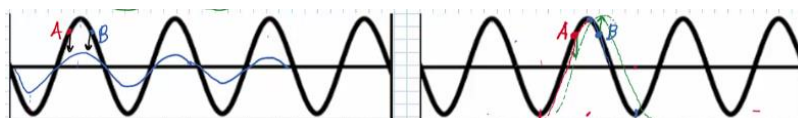
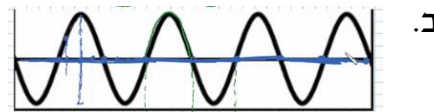
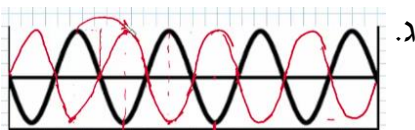
$t = 4$  . ג  $\lambda = 1 \text{ m}$  . ב  $A = 0.15 \text{ m}$  . א (6)

ה.  $(0.5, 0)$  ,  $(1.5, 0)$  ,  $(2.5, 0)$

הגל הירוק בשרטוט: (7)



8 א. מתקדם:  $\lambda_1 = 80 \text{ cm}$  , עומד:  $\lambda_2 = 80 \text{ cm}$  .




9 א.

10 ב.

11 א.

12 ג.



- (17) א. 1.2 ס"מ.  
 ב.i. A - נקי מקסימום מסדר ראשון.  
 ב.ii. B - נקי צומת מסדר שני.  
 ב.iii. C - נקי מקסימום מסדר שלישי, נקי על קו מקסימום.  
 ב.iv. D - נקי ביניים.  
 ג. 11 קווי מקסימום, 12 קווי מינימום.
- (18) א' מלאה ו-ו' חלקית.
- (19) ב' ו-ה.
- (20) ה.
- (21) א'.
- (22) א. 7.5 nm    ב. 3 ס"מ.    ג.  $\theta = 0.93^\circ$     ד.  $x_{200} = 1.73$
- (23) א. 524 נ"מ.    ב. 4.72 ס"מ.    ג. 94 קווי חושך.    ד. 573 פסי מקסימום.
- (24) א. 5 מ"מ.    ב.  $\lambda = 694$     ג.  $3\lambda$     ד.  $4.5\lambda$     ה. ראה סרטון.
- (25) א. 649 נ"מ.    ב. 13 ס"מ.    ג. 34.3 ס"מ.    ד. 27 קווים.    ה. 31 קווים.
- (26) א.  $282 \frac{\text{haritsim}}{\text{cm}}$     ב.  $18.1^\circ$
- ג.
- 
- (27) א. 0.188 מ'.    ב.  $10.9^\circ$     ג. הוכחה.
- (28) א. 6.7 מ"מ.    ב. 3.35 מ"מ.
- (29) א. 0.265 מ"מ.    ב. 1,000 קווי צומת בתבנית.  
 ג. האור ינוע בקווים ישרים ולא מבצע עקיפה.
- (30) ב'.
- (31) ג'.
- (32) ה.
- (33) ו'.
- (34) ה.
- (35) ג'.
- (36) א'.
- (37) א'.

# מכניקה לביולוגיה מולקולרית

## 711161001

פרק 17 - הידרו-סטטיקה והידרו-דינמיקה -

תוכן העניינים


1. הידרו-סטטיקה והידרו-דינמיקה ..... 197

## הידרו-סטטיקה והידרו-דינמיקה:

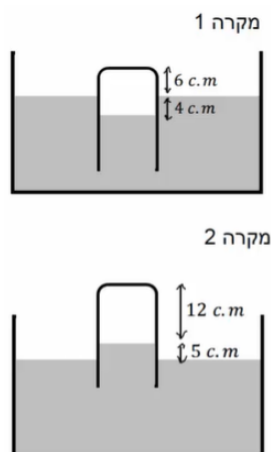
### שאלות:

- (1) מעבר יחידות בדוגמא של צפיפות מים מצא מהי צפיפות המים ביחידות של גרם לאינץ' מעוקב.

$$1000 \frac{\text{kg}}{\text{m}^3} \times \frac{1000\text{gr}}{1\text{kg}} \times \left( \frac{1\text{m}}{39.3\text{in}} \right)^3$$



- (2) שני כדורים קשורים בחוט בתוך המים שני כדורים בעלי נפח זהה  $V = 20\text{c.m}^3$  קשורים בחוט זה לזה. מניחים את הכדורים במים ולאחר זמן רב נמצא כולו בתוך המים ורק חצי מנפחו של כדור 2 שקע לתוך המים, ראה איור. המסה של כדור 1 גדולה פי 4 מזו של כדור 2. א. מהי המסה של כל כדור? ב. מהי צפיפות המסה של כל כדור?



- (3) צינורית במיכל כספית מיכל גדול מאוד מכיל כספית ונמצא בחדר לחץ בו לחץ האוויר אינו ידוע. טובלים במיכל צינורית זכוכית דקה הסגורה בחלקה העליון. כאשר מחזיקים את הקצה העליון של הצינורית בגובה 6 ס"מ מעל פני הכספית במיכל, גובה הכספית בצינורית הוא 4 ס"מ מתחת לפני הכספית במיכל. כאשר מחזיקים את הקצה העליון של הצינורית בגובה 17 ס"מ מעל פני הכספית במיכל, גובה הכספית בצינורית הוא 5 ס"מ מעל לפני הכספית במיכל. הנח שגובה פני הכספית במיכל קבוע. א. מהו לחץ האוויר בחדר? ב. באיזה גובה צריך להחזיק את קצה הצינורית מעל המיכל כך שפני הכספית בצינורית יהיו בגובה הכספית של המיכל?

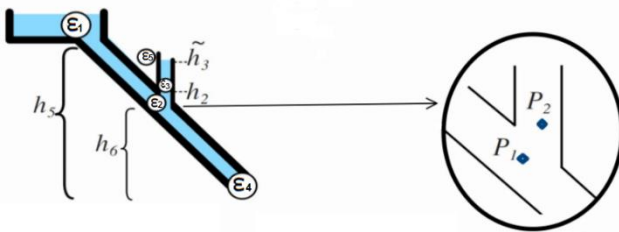
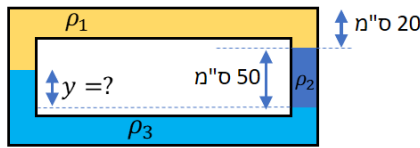
#### (4) שלושה נוזלים בצינור

האיור הבא מתאר צינור סגור שבתוכו שלושה נוזלים שונים.

צפיפויות הנוזלים הן:

$$\rho_1 = 800 \frac{\text{kg}}{\text{m}^3}, \rho_2 = 1000 \frac{\text{kg}}{\text{m}^3}, \rho_3 = 1200 \frac{\text{kg}}{\text{m}^3}$$

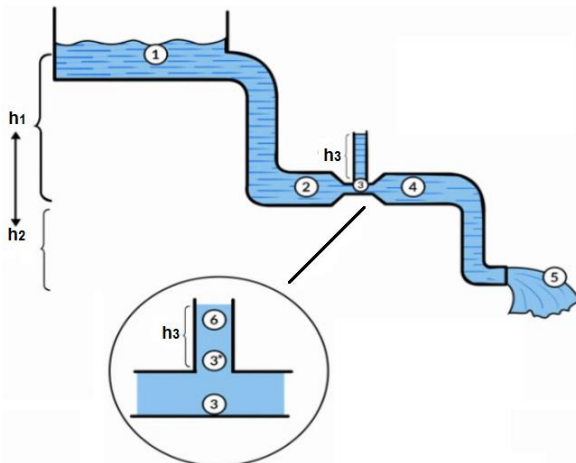
מצא את הגובה  $y$  באיור.



#### (5) מים בנפילה + צינורית מד-לחץ

נתונה המערכת שבשרטוט.

מצא את הלחצים בנקודות השונות.



#### (6) צינור ונטורי ללא חיכוך

נתונה זרימה על פי השרטוט

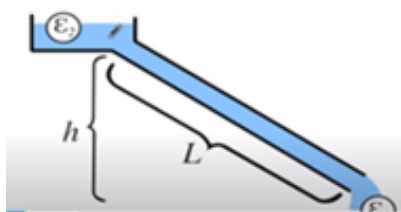
(מקדם הצמיגות ידוע).

בחלק מספר 3 שטח החתך של הצינור

הינו שליש מבשאר הצינור.

מצא את הלחץ בכל הנקודות 1-5 ומצא

את גובה עמוד המים מעל נקודה 3.



#### (7) איבוד אנרגיה עקב צמיגות

נתון נוזל בעל צמיגות ידועה.

מצא על פי הנתונים שבשרטוט, מהי מהירות

הזרימה בצינור אם נתון מקדם הצמיגות,

רדיוס הצינור, אורך הצינור וגובה מאגר.

#### (8) צינור ונטורי עם חיכוך

נתונה המערכת שבשרטוט.

שטח חתך הצינור בנקודה 3 כפול

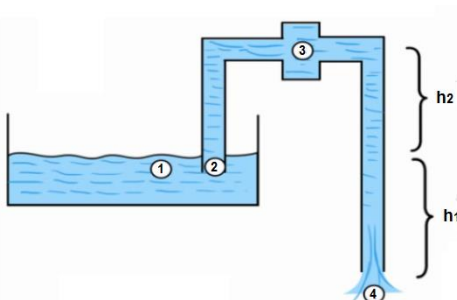
מבשאר הצינור.

א. מהי מהירות הזרימה בהנחה שאין

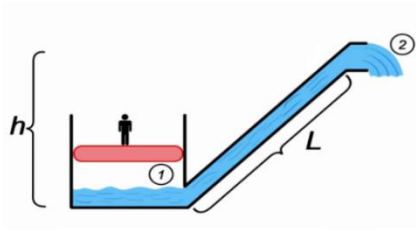
איבוד אנרגיה?

ב. מהי מהירות הזרימה אם נתון

מקדם הצמיגות?



### 9) לחץ ממשקל אדם ממלא בריכה



צינורית בקוטר  $d$  ואורך  $L$  מחוברת לתחתית בריכה רדודה. מעלים את הלחץ בבריכה ע"י כך שמניחים אדם בעל מסה  $m$  על משטח בגודל  $S$ , כך שהמשטח לוחץ את האוויר תחתיו מכובד משקל האדם (המשטח בדיוק בגודל הבריכה ויכול לנוע מעלה ומטה אך האזור תחתיו נשאר אטום).

תוך כמה זמן הבריכה תתרוקן אם נתון כי נפל המים בבריכה בתחילה הוא  $K$  וצמיגות המים היא  $1$ ?

### תשובות סופיות:

$$0.016 \frac{\text{gr}}{\text{in}^3} \quad (1)$$

$$\rho_1 = 1.6 \frac{\text{gr}}{\text{c.m}^3}, \rho_2 = 0.4 \frac{\text{gr}}{\text{c.m}^3} \quad \text{ב.} \quad m_2 = 8\text{gr}, m_1 = 32\text{gr} \quad \text{א.} \quad (2)$$

$$x = 10.8\text{c.m} \quad \text{ב.} \quad P_0 \approx 0.656\text{atm} \quad \text{א.} \quad (3)$$

$$y = 25\text{c.m} \quad (4)$$

(5) ראה סרטון.

$$, P_3 = P_2 - \frac{1}{2} \rho \cdot 8V^2, P_2 = P_4 = P_{\text{atm}} + \rho gh_2 - \frac{1}{2} \rho V^2, P_1 = P_5 = P_{\text{atm}} \quad (6)$$

$$P_3 = \rho g \tilde{h}_3 + P_{\text{atm}}$$

(7) ראה סרטון.

$$V^* = \sqrt{2gh_1} \quad \text{א.} \quad \text{ב. ראה סרטון.} \quad (8)$$

(9) ראה סרטון.

# מכניקה לביולוגיה מולקולרית

## 711161001

פרק 18 - חום והחוק הראשון של התרמודינמיקה

תוכן העניינים

200	1. חום טמפרטורה ואנרגיה פנימית.
201	2. קיבול חום ושיטת הקלורימטריה.
203	3. חום כמוס.
205	4. החוק הראשון וניתוח תהליכים פשוטים.
210	5. קיבול חום של גזים ועקרון החלוקה השווה.
211	6. הקשר בין לחץ ונפח בהתפשטות אדיאבטית.
214	7. הולכה הסעה וקרינה.
217	8. סיכום.

## חום טמפרטורה ואנרגיה פנימית:

סיכום כללי:

הערות	תיאור	הנוסחה
האנרגיה הפנימית של הגז תלויה רק בטמפרטורה	אנרגיה פנימית של גז אידיאלי מונואטומי n - מספר המולים $R = 8.314 \frac{\text{J}}{\text{mol} \cdot \text{K}}$ T - טמפרטורה בקלווין	$E_{\text{int}} = \frac{3}{2} nRT$
תלויה רק בטמפרטורה	עבור גז אידיאלי דו-אטומי	$E_{\text{int}} = \frac{5}{2} nRT$

שאלות:

(1) דוגמה - שורפים קלוריות

לאיזה גובה צריך לטפס אדם שמסתו 60 ק"ג בשביל לשרוף 100Cal (100kilocal)?

תשובות סופיות:

700m (1)

## קיבול חום ושיטת הקלורימטריה:

### סיכום כללי:

הערות	תיאור	הנוסחה
	c - קיבול חום סגולי ליחידת מסה	$Q = mc\Delta T$

### שאלות:

- דוגמה - מחממים ספל מים** (1)  
 ספל מים שוקל 200 גרם ועשוי מזכוכית.  
 כמה חום דרוש בשביל לחמם את הספל מטמפרטורת החדר ( $20^{\circ}\text{C}$ ) ל- $80^{\circ}\text{C}$  אם:  
 א. הספל ריק ממים.  
 ב. הספל מכיל 200 גרם מים (הנמצאים גם בטמפרטורת החדר בהתחלה).
- דוגמה - הקפה מתקרר** (2)  
 מוזגים 200 סמ"ק קפה בטמפרטורה של  $90^{\circ}\text{C}$  לכוס זכוכית בעלת מסה של 150 גרם הנמצאת בטמפרטורה של  $20^{\circ}\text{C}$ .  
 מה תהיה טמפרטורת הקפה בכוס במצב שיווי משקל?  
 הנח כי המערכת מבודדת בקירוב.
- דוגמה - מציאת קיבול חום באמצעות קלורימטר** (3)  
 נרצה למצוא את קיבול החום של תרכובת מתכות חדשה.  
 מחממים 100 גרם מהתרכובת ל- $500^{\circ}\text{C}$  ומעבירים אותה במהירות לתוך קלורימטר.  
 הקלורימטר מורכב ממיכל אלומיניום בעל מסה של 0.200kg המכיל 0.500kg מים בטמפרטורה של  $22.4^{\circ}\text{C}$ . הטמפרטורה הסופית הנמדדת על ידי המדחום היא  $40.8^{\circ}\text{C}$ .  
 מהו קיבול החום הסגולי של התרכובת?  
 ניתן להזניח את החום שהולך למדחום והחום שיוצא מהבידוד.
- תרגיל וניסוי - קומקום מחמם מים** (4)  
 קומקום חשמלי פועל בהספק של 1850 וואט.  
 כמה זמן ייקח לקומקום לחמם חצי ליטר של מים מטמפרטורה של  $22.2^{\circ}\text{C}$  ל- $100^{\circ}\text{C}$ ?

- (5) **תרגיל וניסוי - קומקום מחמם מים - הפעם עם הקומקום**  
 המשך של התרגיל הראשון, גם הפעם נחמם חצי ליטר מים באותו הקומקום  
 (1850W) אבל הפעם לא נחמם את הקומקום לפני הניסוי ונחשב שוב, כמה זמן  
 ייקח לחמם את המים?  
 טמפרטורת החדר היא  $21.9^{\circ}\text{C}$  מסת הקומקום היא 754 גרם ונניח כי הוא עשוי  
 נירוסטה וקיבול החום של נירוסטה הוא:  $0.500 \frac{\text{J}}{\text{kg}\cdot\text{K}}$ .

### תשובות סופיות:

- (1) א.  $10^4 \text{J}$       ב.  $6 \cdot 10^4 \text{J}$
- (2)  $81^{\circ}\text{C}$
- (3)  $911 \frac{\text{J}}{\text{kg}\cdot\text{C}}$
- (4) 90sec
- (5) 100sec

## חום כמוס:

### סיכום כללי:

הערות	תיאור	הנוסחה
$L_F$ - חום כמוס להתכה (מעבר ממוצק לנוזל או להיפך) $L_V$ - חום כמוס לרתיחה (מעבר מנוזל לגז או להיפך)	$L$ - החום הכמוס	$Q = m \cdot L$

### שאלות:

#### (1) דוגמה - קרח במים

מכניסים קוביית קרח בטמפרטורה של  $-15^{\circ}\text{C}$  ומסה של 300 גרם לתוך מיכל מים המכיל 1.5kg מים בטמפרטורה של  $20^{\circ}\text{C}$ .  
 מה תהיה הטמפרטורה הסופית של התערובת?

#### (2) דוגמה - מציאת חום כמוס של כספית

לוקחים 1kg כספית הנמצאת במצב מוצק ובטמפרטורת ההתכה שלה,  $-39^{\circ}\text{C}$ .  
 מניחים את הכספית בתוך קלורימטר המורכב ממיכל אלומיניום במסה של 0.40kg ומכיל 0.47kg מים בטמפרטורה של  $20^{\circ}\text{C}$ .  
 הכספית מותכת והטמפרטורה הסופית של התערובת היא  $12^{\circ}\text{C}$ .  
 מהו החום הכמוס הסגולי הדרוש להתכת כספית?  
 קיבול החום הסגולי של כספית במצב הנוזלי הוא:  $c = 140 \frac{\text{J}}{\text{kg}\cdot^{\circ}\text{C}}$ .

#### (3) תרגיל וניסוי - מתי יגמרו המים בסיר

מחממים 400ml מים על הגז בסיר נירוסטה שמשקלו 177 גרם.  
 מודדים את טמפרטורת המים פעם אחת ורואים שהיא  $60.0^{\circ}\text{C}$ .  
 16.68 שניות לאחר מכן הטמפרטורה היא  $63.3^{\circ}\text{C}$ .  
 א. מהו קצב מעבר החום למים?  
 מחממים את המים עד לנקודת הרתיחה  $100^{\circ}\text{C}$ .  
 ב. כמה זמן ייקח לכל המים בסיר להפוך לאדים?

**(4) רוכב אופניים**

רוכב אופניים שותה 7 ליטר מים במהלך רכיבה של 3 שעות.  
 נניח כי בקירוב כל האנרגיה של הרוכב הולכת לאידוי המים דרך זיעה.  
 כמה אנרגיה בקילו-קלוריות השתמש הרוכב בנסיעה?  
 (מכיוון שהיעילות של הגוף היא בערך 20% ההערכה שכל האנרגיה הולכת לחום היא לא רחוקה).

**(5) ברזל בקלורימטר**

מחממים חתיכה של 300 גרם ברזל ל-180 מעלות צלזיוס ושמים אותה בקלורימטר העשוי ממיכל אלומיניום בעל מסה של 90 גרם שמכיל 285 גרם גליצרין ב-12 מעלות צלזיוס. הטמפרטורה הסופית של התערובת היא 38 מעלות צלזיוס. הערך מהו קיבול החום הסגולי של גליצרין.

**תשובות סופיות:**

**(1)**  $2^{\circ}\text{C}$

**(2)**  $11 \frac{\text{kJ}}{\text{kg}}$

**(3)** א.  $300 \frac{\text{J}}{\text{sec}}$ . ב. בערך 40 דקות.

**(4)** 4500kcal

**(5)**  $2.3 \cdot 10^3 \frac{\text{J}}{\text{kg} \cdot \text{C}^{\circ}}$

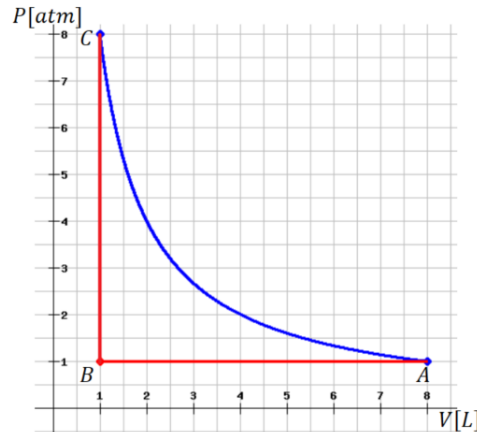
## החוק הראשון וניתוח תהליכים פשוטים:

### סיכום כללי:

הערות	תיאור	הנוסחה
<p>חום היא אנרגיה שעוברת רק בגלל הפרשי טמפרטורות. עבודה היא אנרגיה שעוברת מכל סיבה אחרת.</p> <p>אם המערכת מבצעת עבודה אז <math>W</math> יהיה חיובי ואם מתבצעת עבודה על המערכת אז <math>W</math> יהיה שלילי.</p> <p>אם חום נכנס למערכת אז <math>Q</math> חיובי ואם חום יוצא מהמערכת אז <math>Q</math> שלילי.</p>	החוק הראשון	$\Delta E_{int} = Q - W$
<p>כולל אנרגיה קינטית ופוטנציאלית של כל המערכת כגוף אחד (או של מרכז המסה שלה).</p> <p>בדרכ מתייחס למערכות מכניות כמו גופים קשיחים (אבן שנזרקת לדוגמה).</p>	חוק ראשון נוסחה מורחבת	$\Delta U + \Delta E_k + \Delta E_{int} = Q - W$
<p>מתרחש כאשר המערכת צמודה למאגר חום גדול והתהליך הוא קוויזיסטטי (מאוד איטי).</p>	$T = \text{const}$ $Q = W, \Delta E_{int} = 0$	תהליך איזותרמי - טמפרטורה קבועה
<p>מתרחש אם המערכת מבודדת או אם התהליך מהיר והחום לא מספיק לעבור.</p>	$\Delta E_{int} = W$	תהליך אדיאבטי - $Q = 0$
		תהליך איזוברי (לחץ קבוע) ואיזוכורי (נפח קבוע)
<p>חיובי כאשר הנפח גדל ושלילי כאשר הנפח קטן</p> <p>הנוסחה נכונה לגזים, נוזלים ולמוצקים</p>	<p><math>W</math> - עבודה שמבצעת המערכת על הסביבה</p> <p><math>P</math> - לחץ <math>V</math> - נפח</p>	$W = \int P dV$
<p>אי אפשר לצייר התפשטות חופשית בדיאגרמת <math>P-V</math> מכיוון שמשתני המצב לא מוגדרים במהלך ההתפשטות.</p>	תהליך שבו גז מתפשט במרחב בצורה אדיאבטית ומבלי לעשות עבודה.	התפשטות חופשית - (free expansion)

**שאלות:**

- (1) **דוגמה - חוק ראשון**  
מוסיפים למערכת של חום ועושים על המערכת עבודה של 1000J. מה השינוי באנרגיה הפנימית של המערכת?
- (2) **דוגמה - אנרגיה קינטית לחום**  
קליע במסה של 3.0 גרם חודר לתוך עץ במהירות של 300 מטר לשנייה. כמה חום נוסף למערכת קליע ועץ?
- (3) **דוגמה - חישוב חום בתהליך איזוברי ואיזוכורי**  
גז אידיאלי מתחיל מהמצב המתואר בנקודה A בגרף. דוחסים את הגז בתהליך איזוברי עד לנקודה B ולאחר מכן מחממים את הגז בתהליך איזוכורי עד לנקודה C. הגרף המחבר בין A ל-C הוא גרף איזותרמי.  
א. מהי העבודה הכוללת שנעשתה בכל התהליך A עד C?  
ב. מהו החום שנוסף לגז בכל התהליך?

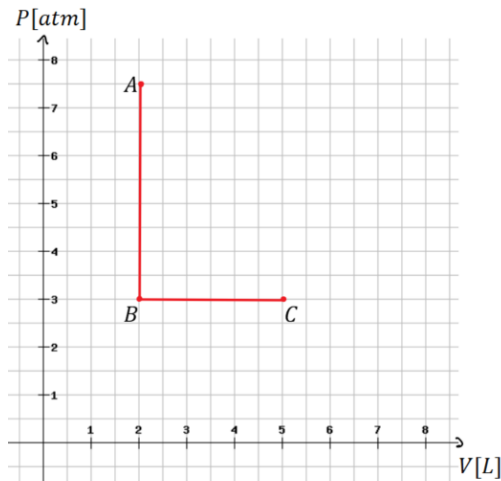


- (4) **דוגמה - עבודה של גז במנוע**  
במנוע 0.4 מול של גז אידיאלי מונואטומי מתרחבים במהירות ובצורה אדיאבטית כנגד הבוכנה. בתהליך, הטמפרטורה של הגז יורדת מ-1100K ל-400K. כמה עבודה ביצע הגז?
- (5) **מכונת בולמת**  
מכונת בולמת במשקל 1300 ק"ג נוסעת במהירות 80 קמ"ש. כמה חום נוצר במהלך הבלימה עד לעצירה מוחלטת? רשמו את התשובה בגאול ובקילו קלוריות.

**(6) תהליך נפח קבוע ולחץ קבוע**

גז אידיאלי עובר תהליך המורכב משני שלבים. בשלב הראשון, בגרף, AB, מאפשרים לחום לצאת מהגז תוך שמירה על נפח קבוע. כתוצאה מכך הלחץ של הגז יורד מ-7.5atm ל-3atm. בשלב השני, BC הגז מתרחב בלחץ קבוע מנפח 2.0L לנפח 5.0L ובכך חוזר לטמפרטורה שהייתה לו בתחילת כל התהליך. חשבו את :

- העבודה הכוללת שנעשתה על ידי הגז בתהליך.
- השינוי באנרגיה הפנימית של הגז.
- כמות החום הכוללת שיצאה או נכנסה לגז.



**(7) גז מתפשט איזותרמית**

1.50 מולים של גז אידיאלי בנפח  $2.50\text{m}^3$  ובטמפרטורה  $280^\circ\text{K}$  מתפשטים איזותרמית עד לנפח  $5.00\text{m}^3$ .  
 א. מהי העבודה שעושה הגז?  
 ב. מהו השינוי באנרגיה הפנימית של הגז?  
 ג. מהו החום שנוסף לגז?

**(8) גז מתפשט אדיאבטית**

שניים וחצי מולים של גז אידיאלי מונואטומי מתפשטים אדיאבטית ומבצעים  $1.3 \cdot 10^4$  J של עבודה בתהליך. מהו השינוי בטמפרטורה של הגז במהלך ההתפשטות?

**9) גז בתהליך ריבועי\***

גז אידיאלי עובר תהליך כפי שמתואר באיור, התהליך מתחיל במצב A ועושה סיבוב שלם עם השעון עד לחזרה למצב A.

בתהליך אחר שבו הגז עבר מהנקודה D לנקודה C בלחץ קבוע ידוע

$$\text{כי: } W_{D \rightarrow C} = 38 \text{ J}$$

בתהליך שלישי שהתרחש מהנקודה B לנקודה D ידוע כי:  $Q_{B \rightarrow D} = -85 \text{ J}$

$$\text{ו- } W_{B \rightarrow D} = -55 \text{ J} \text{ (סוג התהליך לא ידוע)}$$

$$\text{כמו כן ידוע כי: } E_B - E_A = 15 \text{ J ו- } P_A = 2.2 P_D$$

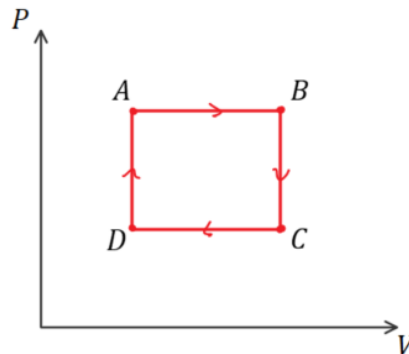
כל התהליכים התרכשו על אותו הגז.

א. תאר במילים כל שלב בתהליך הראשי, מהו סוג התהליך, האם נעשתה עבודה, האם האנרגיה הפנימית גדלה או קטנה, האם נכנס או יצא חום מהמערכת?

ב. מהי העבודה הכוללת שנעשתה על ידי הגז?

ג. מהי הנצילות של התהליך?

נצילות היא העבודה הכוללת שנעשתה חלקי החום שהושקע (כלומר נכנס לגז), כפול 100%.



## תשובות סופיות:

- (1) 2500J
- (2) 135J
- (3) א. -710J    ב. 710J
- (4) 3500J
- (5)  $Q = 3.2 \cdot 10^5 \text{ J} = 77 \text{ kcal}$
- (6) א. 910J    ב. 0    ג. 910J
- (7) א. 2420J    ב. 0    ג. 2420J
- (8)  $-0.042^\circ\text{K}$
- (9) א.  $A \rightarrow B$  - תהליך בלחץ קבוע, הגז עושה עבודה על הסביבה, האנרגיה הפנימית גדלה, נכנס חום למערכת.
- $B \rightarrow C$  - תהליך בנפח קבוע, לא נעשית עבודה, האנרגיה הפנימית קטנה, חום יוצא מהמערכת.
- $C \rightarrow D$  - תהליך בלחץ קבוע, נעשית עבודה על הגז, האנרגיה הפנימית קטנה, חום יוצא מהמערכת.
- $D \rightarrow A$  - תהליך בנפח קבוע, לא נעשית עבודה, האנרגיה הפנימית גדלה, חום נכנס למערכת. ב. 46J    ג. 40%

## קיבול חום של גזים ועקרון החלוקה השווה:

סיכום כללי:

הערות	תיאור	הנוסחה
	$-Q_P/Q_V$ - כמות החום שעוברת בתהליך בנפח/לחץ קבוע. $C_P/C_V$ - קיבול חום בנפח/לחץ קבוע (למול)	$Q_V = nC_V\Delta T$ $Q_P = nC_P\Delta T$
	$m_{mol}$ - מסה מולרית. $C_P/C_V$ - קיבול חום בנפח/לחץ קבוע (ליחידת מסה)	$C_V = m_{mol}c_V$ $C_P = m_{mol}c_P$
	ההפרש בין קיבול החום בלחץ קבוע לקיבול החום בנפח קבוע תמיד שווה לקבוע R	$C_P - C_V = R$

שאלות:

**(1) אנשים מחממים אולם קולנוע**

אולם קולנוע מכיל 1800 מקומות ישיבה. נפח האולם הוא:  $2.0 \cdot 10^4 \text{ m}^3$ . בערב הבכורה של הסרט "תרגיל חם" האולם היה מלא ומערכת האוורור התקלקלה. בכמה מעלות תעלה הטמפרטורה במשך השעתיים של הקרנת הסרט אם אדם ממוצע פולט חום בקצב של 70 וואט. הנח שהאוויר הוא גז אידיאלי דואטומי וטמפרטורת החדר היא בערך  $20^\circ\text{C}$ .

**(2) לחץ לינארי בטמפרטורה\***

גז אידיאלי דו אטומי מכיל 3.00 מולים בלחץ של 1.00 atm ובטמפרטורה של  $430^\circ\text{K}$ . הגז עובר תהליך שבו הלחץ שלו גדל לינארית עם הטמפרטורה. הטמפרטורה הסופית היא  $680^\circ\text{K}$  והלחץ הסופי הוא 1.80 atm. הנח שבכל התהליך יש 5 דרגות חופש פעילות.  
 א. מהו השינוי באנרגיה הפנימית של הגז?  
 ב. מהי העבודה שנעשתה על ידי הגז?  
 ג. החום שנוסף לגז?

תשובות סופיות:

(1)  $53^\circ\text{C}$

(2) א. 15600J    ב. -1720J    ג. 13900J

## הקשר בין לחץ ונפח בהתפשטות אדיאבטית:

סיכום כללי:

הערות	תיאור	הנוסחה
	הקשר בין לחץ ונפח בתהליך אדיאבטי קוויזיסטטי	$P \cdot V^\gamma = \text{const}$

שאלות:

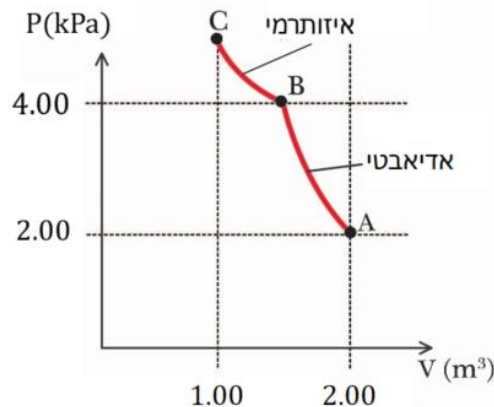
### 1) דוגמה - מכווצים גז אדיאבטית ואיזותרמית

גז אידיאלי מונואטומי עובר תהליך כפי שמתואר בגרף. התהליך מתחיל מהמצב A והגז עובר כיווץ אדיאבטי עד למצב B ומשם הוא מכווץ איזותרמית עד לנקודה C.

נתון:  $P_A = 2.00 \text{ kPa}$ ,  $V_A = 2.00 \text{ m}^3$ ,  $P_B = 4.00 \text{ kPa}$ ,  $V_C = 1.00 \text{ m}^3$ .  
 $P_C$  ו- $V_B$  אינם ידועים.

א. מצא את  $V_B$ .

ב. מהי העבודה הכוללת שנעשתה על הגז בתהליך?



### 2) לחץ וטמפרטורה בהתפשטות אדיאבטית

1.00 mol של גז מונואטומי אידיאלי בלחץ של 1.00 atm ובטמפרטורה של  $20^\circ\text{C}$  מתפשט אדיאבטית לנפח הגדול פי 2.25 מנפחו בהתחלה. מהם הלחץ והטמפרטורה הסופיים של הגז?

### 3) גז דו-אטומי מתפשט אדיאבטית

גז דו-אטומי מתפשט אדיאבטית.

הטמפרטורה בהתחלה היא  $15^\circ\text{C}$  והטמפרטורה בסוף היא  $-25^\circ\text{C}$ .

הנפח בהתחלה הוא:  $0.036 \text{ m}^3$ .

מהו נפח הגז בסוף התהליך?

**(4) גז עובר תהליך בשלושה שלבים**

1.00mol של גז אידיאלי מונואטומי שנמצא בלחץ 1.00atm עובר את התהליך הבא:

שלב 1 - הגז מתפשט אדיאבטית מ-  $T_A = 578^\circ\text{K}$  עד ל-  $T_B = 388^\circ\text{K}$ .

שלב 2 - הגז נדחס בלחץ קבוע עד שהטמפרטורה שלו מגיעה ל-  $T_C$ .

שלב 3 - הגז חוזר לטמפרטורה והלחץ הראשוניים שלו בתהליך של נפח קבוע.

א. שרטטו את התהליך בדיאגרמת  $P - V$ .

ב. מהו  $T_C$ ?

ג. חשבו את השינוי באנרגיה הפנימית, את העבודה שביצע הגז ואת החום

שנוסף לגז בכל שלב בנפרד ובתהליך כולו.

**(5) צבר אוויר עולה בגובה \*\***

צבר אוויר הוא אוסף של מולקולות בעלי משתני מצב אחידים (לחץ וטמפ'). כשצבר אוויר עולה בגובה הוא משנה את הלחץ שלו בהתאם ללחץ של האוויר

$$\text{מסביבו, ולפי הנוסחה: } \frac{dP}{dy} = -\rho g$$

כאשר  $\rho$  הוא צפיפות המסה של הצבר והוא תלוי בגובה.

במהלך התנועה כלפי מעלה, הנפח גדל, ומכיוון שאוויר הוא מוליך חום גרוע אפשר להניח שההתפשטות היא אדיאבטית.

א. הראה שעבור גז אידיאלי שעובר תהליך אדיאבטי:  $P^{1-\gamma}T^\gamma = \text{const}$

ב. הראה כי הקשר בין הלחץ לטמפרטורה של הצבר נתון לפי

$$\text{הנוסחה: } (1 - \gamma)(-\rho g) + \gamma \frac{P}{T} \frac{dT}{dy} = 0$$

ג. הראה כי התלות של הטמפרטורה בגובה היא:  $\frac{dT}{dy} = \frac{1-\gamma}{\gamma} \frac{mg}{k}$

כאשר  $m$  היא מסה ממוצעת של מולקולה ו- $k$  הוא קבוע בולצמן.

ד. בהינתן שאוויר הוא גז דו אטומי עם מסה ממוצעת של  $29u$ ,

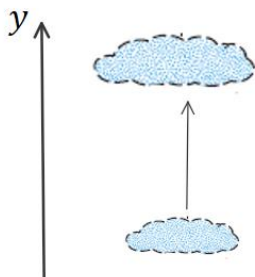
$$\text{הראה ש- } \frac{dT}{dy} = -9.8^\circ\text{C/k}$$

ה. בקליפורניה ישנם רוחות שמגיעות מההרים של מדבר סירה בנבדה.

גובה ההרים הוא כ-4000m. הרוחות מגיעות לעמק המוות שגובהו -100m,

ביחס לפני הים. אם טמפרטורת הרוח היא  $5^\circ\text{C}$  בהרים של נוודה מה תהיה

הטמפרטורה של הרוח בעמק?



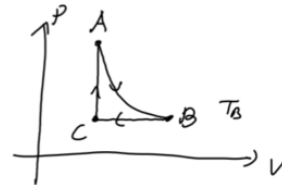
**תשובות סופיות:**

(1) א.  $1.32 \cdot \text{m}^3$  ב.  $3.4 \cdot 10^3 \text{ J}$

(2)  $P = 0.258 \text{ atm}$ ,  $T = -103^\circ \text{C}$

(3)  $0.052 \text{ m}^3$

(4) א. ב.  $214^\circ \text{K}$



ג. שלב AB:  $Q = 0$ ,  $\Delta E_{\text{int}} = -2370 \text{ J}$ ,  $W = 2370 \text{ J}$

שלב BC:  $Q = -2170 \text{ J}$ ,  $\Delta E_{\text{int}} = -2170 \text{ J}$ ,  $W = -1450 \text{ J}$

שלב CA:  $Q = 3030 \text{ J} = \Delta E_{\text{int}}$ ,  $W = 0$

כל התהליך:  $Q = 920 \text{ J}$ ,  $\Delta E_{\text{int}} = 0$ ,  $W = 920 \text{ J}$

(5) א. הוכחה. ב. הוכחה. ג. הוכחה. ד. הוכחה. ה.  $35^\circ \text{C}$

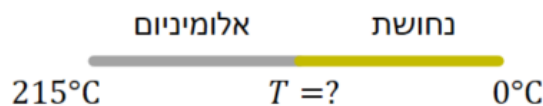
## הולכה הסעה וקרינה:

### סיכום כללי:

הערות	תיאור	הנוסחה
<p>אם אחד מהמשתנים אינו קבוע אז עוברים לנוסחה דיפרנציאלית</p> $\frac{dQ}{dt} = -kA \frac{dT}{dx}$ <p>המינוס בנוסחה אומר שקצב הולכת החום הוא בכיוון הפוך לגרדיאנט הטמפרטורה (כלומר קצב הולכת החום הוא מהטמפרטורה הגבוהה לנמוכה)</p>	<p><math>-\frac{\Delta Q}{\Delta t}</math> - קצב הולכת חום</p> <p><math>k</math> - מוליכות תרמית - תלוי בסוג החומר, מופיע בטבלה.</p> <p><math>A</math> - שטח חתך.</p> <p><math>l</math> - אורך.</p>	$\frac{\Delta Q}{\Delta t} = kA \frac{(T_1 - T_2)}{l}$
<p><math>R</math> גבוה אומר מבודד טוב. לשים לב ש-<math>R</math> תלוי גם באורך של החומר ולא רק בסוג.</p>	<p>R- value</p>	$R = \frac{l}{k}$
<p>שימו לב שהקצב תלוי בטמפרטורה ברביעית. <math>\epsilon</math> - תכונה של פני הגוף שקורן בגופים שחורים (לדוגמה פחם) <math>\epsilon \approx 1</math>, במתכות מבריקות <math>\epsilon \approx 0</math>.</p>	<p>משוואת סטפן בולצמן - קצב החום הנפלט מגוף ע"י קרינה.</p> $\sigma = 5.67 \cdot 10^{-8} \frac{W}{m^2 \cdot K^4}$ <p>קבוע סטפן בולצמן.</p> <p><math>T</math> - הטמפרטורה של הגוף הפולט.</p> <p><math>\epsilon</math> - קירון (אמיסיביות) <math>0 &lt; \epsilon &lt; 1</math></p>	$\frac{\Delta Q}{\Delta t} = \epsilon \sigma A T^4$
<p>האמיסיביות זהה לקליטה ופליטה. הקצב של קליטה קשור לטמפרטורה של הסביבה ברביעית.</p>	<p>קצב קליטה של קרינה. <math>T_2</math> - הטמפרטורה של הסביבה.</p>	$\frac{\Delta Q}{\Delta t} = \epsilon \sigma A T_2^4$
	<p>הנטו של קצב פליטת הקרינה (פליטה פחות קליטה) <math>T_1</math> - הטמפרטורה של הגוף הפולט. <math>T_2</math> - הטמפרטורה של הסביבה.</p>	$\frac{\Delta Q}{\Delta t} = \epsilon \sigma A (T_1^4 - T_2^4)$
<p>הקבוע הסולרי <math>1350 \frac{W}{m^2 \cdot s}</math></p> <p>האטמוספירה יכולה לספוג עד 70% מהקרינה.</p> <p>ביום בהיר הקבוע בערך <math>1000 \frac{W}{m^2 \cdot s}</math></p>	<p>כמות החום שסופג גוף כתוצאה מקרינת השמש ביום בהיר</p>	$\frac{\Delta Q}{\Delta t} = \left(1000 \frac{W}{m^2 \cdot s}\right) \epsilon A \cos \theta$

## שאלות:

- (1) **דוגמה - איבוד חום דרך חלונות בבית**  
 מקור רציני לאיבוד החום בבית הוא דרך החלונות.  
 חשבו את קצב איבוד החום דרך חלון זכוכית בגודל  $1.5\text{m} \times 1.0\text{m}$  ועובי  $2.8\text{mm}$   
 אם הטמפרטורה בצד הפנימי של החלון היא  $18^\circ\text{C}$  ובצד החיצוני היא  $17^\circ\text{C}$ .
- (2) **דוגמה - קירור באמצעות קרינה**  
 אדם יושב בחדר לובש בגד ים בלבד.  
 הקירות של החדר נמצאים בטמפרטורה של  $15^\circ\text{C}$ .  
 הערך את כמות החום שהאדם מאבד כתוצאה מקרינה.  
 הנח שטמפרטורת העור היא בערך  $34^\circ\text{C}$  ו- $\varepsilon = 0.70$ .  
 שטח הפנים של האדם שבמגע עם האוויר הוא:  $-1.5\text{m}^2$ .
- (3) **דוגמה - הערך את הרדיוס של הכוכב ביטלגוס**  
 כוכב הענק ביטלגוס פולט קרינה בקצב שהוא פי  $10^4$  גדול מהקצב של השמש שלנו.  
 הטמפרטורה על פני הכוכב ביטלגוס היא בערך חצי מזו של השמש.  
 הערך את הרדיוס של הכוכב אם  $\varepsilon = 1$  עבור השמש וביטלגוס ורדיוס השמש  
 הוא:  $R_s = 7 \cdot 10^8\text{m}$ . הנוסחה לשטח פני כדור היא:  $4\pi R^2$ .
- (4) **מוט נחושת עם טמפרטורות שונות בקצוות**  
 מוט נחושת באורך של  $42\text{c. m}$  וקוטר  $2.6\text{c. m}$  מוחזק בצד אחד בטמפרטורה  
 של  $320^\circ\text{C}$  ובצידו השני המוט טבול במים בטמפרטורה של  $20^\circ\text{C}$ .  
 חשבו את קצב מעבר החום במוט.
- (5) **מוט נחושת מחובר למוט אלומיניום**  
 מוט נחושת מחובר בקצה למוט אלומיניום, שני המוטות בעלי אותו שטח חתך  
 ואותו האורך. הקצה השני של האלומיניום נמצא בתוך תנור בטמפרטורה  
 קבועה של  $215^\circ\text{C}$  והקצה השני של הנחושת נמצא בתוך קרח בטמפרטורה  
 קבועה של  $0^\circ\text{C}$ .  
 חשבו את הטמפרטורה בנקודת החיבור של המוטות.



**(6) קרח נמס בצידנית**

צידנית בגודל  $20\text{ c. m} \times 30\text{ c. m} \times 50\text{ c. m}$  עשויה מקלקר. הקירות של הצידנית הן בעובי  $1.5\text{ c. m}$ . ממלאים את הצידנית בקרח ב- $0^{\circ}\text{C}$ . כמה זמן ייקח לקרח להתמוסס אם הצידנית נמצאת בחדר בו הטמפרטורה היא  $32^{\circ}\text{C}$ ?

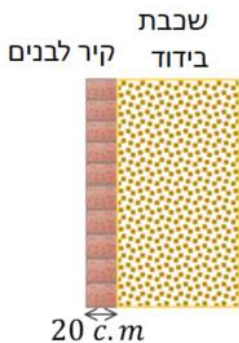
המוליכות התרמית של קלקר היא:  $0.033 \frac{\text{W}}{\text{m}\cdot\text{k}}$  והצפיפות של קרח

היא:  $9.17 \cdot 10^2 \frac{\text{kg}}{\text{m}^3}$ .

**(7) קרח נמס בשמש**

כמה זמן לוקח לשמש להמיס קוביית קרח ביום בהיר אם הקרח נמצא בטמפרטורה של  $0^{\circ}\text{C}$  וצורתו היא משטח ישר בגודל  $1.0\text{ m}^2$  ובעובי  $1.0\text{ c. m}$ . הנח שהזווית של הקרניים עם האנך למשטח היא  $30^{\circ}$  והאמסיביות של הקרח היא  $0.050$ .

**(8) איבוד חום דרך קיר עם שכבת בידוד**



בידוד של קיר מורכב משכבה של לבנים ברוחב של  $20\text{ c. m}$  שצמודה לשכבת בידוד נוספת בעלת:  $\text{-value} = 3 \frac{\text{m}^2 \cdot \text{s} \cdot \text{C}^{\circ}}{\text{J}} \cdot \text{R}$ . מהו קצב החום המועבר אם השטח של הקיר הוא  $15\text{ m}^2$  והפרש הטמפרטורות הוא  $30^{\circ}\text{C}$ .

**תשובות סופיות:**

(1)  $450 \frac{\text{J}}{\text{sec}}$

(2)  $120 \frac{\text{J}}{\text{sec}}$

(3)  $2.8 \cdot 10^{11} \text{ m}$

(4)  $140 \frac{\text{J}}{\text{sec}}$

(5)  $74^{\circ}\text{C}$

(6) בערך 58 שעות.

(7) בערך 20 שעות.

(8)  $140 \frac{\text{J}}{\text{sec}}$

## סיכום:

### טבלאות:

קיבול חום סגולי (Specific Heats) (ב 1 atm ו- 20°C אלא אם מצוין אחרת)		
Substance	Specific Heat, c	
	kcal/kg · C° (= cal/g · C°)	J/kg · C°
Aluminum	0.22	900
Alcohol(ryhyl)	0.58	2400
Copper	0.093	390
Glass	0.20	840
Iron or steel	0.11	450
Lead	0.031	130
Marble	0.21	860
Mercury	0.033	140
Silver	0.056	230
Wood	0.4	1700
Water		
Ice (-5°C)	0.50	2100
Liquid (15°C)	1.00	4186
Steam (110°C)	0.48	2010
Human body (average)	0.83	3470
Protein	0.4	1700

חום כמס (בלחץ של 1 atm)						
Substance	Melting Point (°C)	Heat of Fusion		Boiling Point (°C)	Heat of Vaporization	
		kcal/kg <sup>+</sup>	kJ/kg		kcal/kg <sup>+</sup>	kJ/kg
Oxygen	-218.8	3.3	14	-183	51	210
Nitrogen	-210.0	6.1	26	-195.8	48	200
Ethyl alcohol	-114	25	104	78	204	850
Ammonia	-117	8.0	33	-33.4	33	137
Water	0	79.7	333	100	539	2260
Lead	327	5.9	25	1750	208	870
Silver	961	21	88	2193	558	2300
Iron	1808	69.1	289	3023	1520	6340
Tungsten	3410	44	184	5900	1150	4800

קיבול חום של גזים ב 15°C						
Gas	Specific heats (kcal/kg · K)		Molar specific heats (cal/mol · K)		$C_V - C_P$ (cal/mol · K)	$\gamma = \frac{C_P}{C_V}$
	$c_V$	$c_P$	$C_V$	$C_P$		
Monoatomic						
He	0.75	1.15	2.98	4.97	1.99	1.67
Ne	0.148	0.246	2.98	4.97	1.99	1.67
Diatomic						
N <sub>2</sub>	0.177	0.248	4.96	6.95	1.99	1.40
O <sub>2</sub>	0.155	0.218	5.04	7.03	2.00	1.40
Triatomic						
CO <sub>2</sub>	0.153	0.199	6.80	8.82	2.03	1.30
H <sub>2</sub> O (100°C)	0.350	0.482	6.20	8.20	2.00	1.32

מוליכויות תרמיות		
Substance	Thermal Conductivity, k	
	kcal (s.m.C°)	J (s.m.C°)
Silver	10x10 <sup>-2</sup>	420
Copper	9.2x10 <sup>-2</sup>	380
Aluminum	5.0x10 <sup>-2</sup>	200
Steel	1.1x10 <sup>-2</sup>	40
Ice	5x10 <sup>-4</sup>	2
Glass	2.0x10 <sup>-4</sup>	0.84
Brick	2.0x10 <sup>-4</sup>	0.84
Concrete	2.0x10 <sup>-4</sup>	0.84
Water	1.4x10 <sup>-4</sup>	0.56
Human tissue	0.5x10 <sup>-4</sup>	0.2
Wood	0.3x10 <sup>-4</sup>	0.1
Fiberglass	0.12x10 <sup>-4</sup>	0.048
Cork	0.1x10 <sup>-4</sup>	0.042
Wood	0.1x10 <sup>-4</sup>	0.040
Goose down	0.06x10 <sup>-4</sup>	0.025
Polyurethane	0.06x10 <sup>-4</sup>	0.024
Air	0.055x10 <sup>-4</sup>	0.023

# מכניקה לביולוגיה מולקולרית

## 711161001

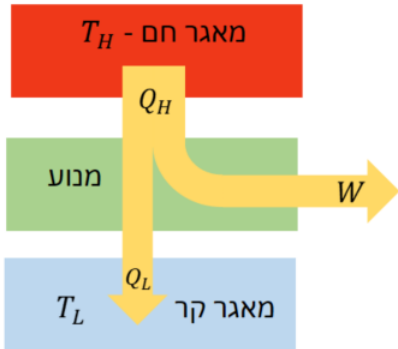
פרק 19 - החוק השני של התרמודינמיקה

תוכן העניינים

- 219 ..... 1. הקדמה לחוק השני של התרמודינמיקה ומנועי חום
- 222 ..... 2. תהליכים הפיכים ובלתי הפיכים ומנוע קרנו
- 225 ..... 3. מקררים מזגנים ומשאבות חום
- 227 ..... 4. אנטרופיה
- (ללא ספר) ..... 5. סיכום
- 231 ..... 6. פרשנות סטטיסטית לאנטרופיה והחוק השני

## הקדמה לחוק השני של התרמודינמיקה ומנועי חום:

סיכום כללי:

הערות	תיאור	הנוסחה
<p>שימו לב לסימנים! כל הסימנים חיוביים!</p> <p><math>T_H</math> ו-<math>T_L</math> נקראות טמפרטורות העבודה</p>	<p><math>Q_H</math> - כמות החום שיוצאת מהמאגר החם. <math>Q_L</math> - כמות החום שנכנסת אל המאגר הקר. <math>W</math> - העבודה שהמנוע מבצע על הסביבה.</p>	 <p><math>Q_H = W + Q_L</math></p>
		$\eta = \frac{W}{Q_H} = 1 - \frac{Q_L}{Q_H}$

שאלות:

**1) דוגמה - נצילות של מנוע מכונית**

- למנוע של מכונית יש נצילות של 20%. המנוע מפיק  $25\text{kJ}$  של עבודה כל שניה.  
 א. כמה חום דרוש להכניס למנוע כל שניה?  
 ב. כמה חום נפלט מהמנוע כל שניה?

**2) חישוב נצילות של מנוע חום**

- מנוע חום פולט  $6900\text{J}$  של חום כאשר הוא מבצע עבודה של  $2300\text{J}$ .  
 מה הנצילות של המנוע באחוזים?

**3) חום שפולטת תחנת כוח**

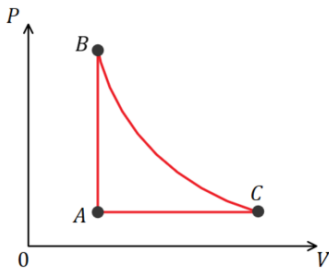
- תחנת כוח מייצרת  $560\text{MW}$  של הספק חשמלי.  
 העריכו את החום שנפלט כל שניה אם הנצילות של התחנה היא 35%.

**(4) מנוע 6 צילינדרים**

- למנוע עם 6 צילינדרים של אוטו יש נצילות של 24%. המנוע מספק 180J של עבודה בכל מחזור עבור כל צילינדר. המנוע עושה 25 מחזורים בשניה.
- מהי העבודה הכוללת שמבצע המנוע בשניה?
  - מהו החום שנוצר משריפת הדלק כל שניה?
  - אם האנרגיה הנוצרת מדלק היא 32MJ לליטר, לכמה זמן מחזיק מיכל דלק מלא המכיל 40 ליטר דלק?

**(5) מנוע הפיך עם גז ארגון**

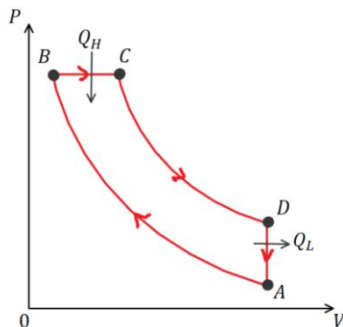
- מנוע הפיך מכיל 1.00mol של גז ארגון, גז מונואטומי כמעט אידיאלי. התהליך שעובר המנוע מתואר באיור כאשר הגז בהתחלה בנקודה A ב-STP. הנקודות B ו-C נמצאות על עקומה איזותרמית בטמפרטורה  $T = 433K$ . התהליך AB הוא תהליך בנפח קבוע והתהליך AC הוא תהליך בלחץ קבוע.



- האם המנוע מבצע את התהליך באיור עם כיוון השעון או נגד השעון?
- מהי הנצילות של המנוע?

**(6) מנוע בנזין אידיאלי**

- אפשר לתאר את הפעולה של מנוע דיזל בקירוב על ידי התהליך המחזורי באיור. אוויר נשאב לצילינדר בפעימת יניקה (לא חלק מהמחזור באיור). האוויר נדחס אדיאבטית, שלב AB. בנקודה B דלק דיזל מוזרק לתוך הצילינדר. הדלק נשרף ישר כי הטמפרטורה מאוד גבוהה. הבעירה היא יחסית איטית ובמהלך החלק הראשון של פעימת העבודה הגז מתפשט כמעט בנפח קבוע, שלב BC. בשלב השני של פעימת העבודה, אחרי שהבעירה מסתיימת, הגז מתפשט אדיאבטית, שלב CD. שלב DA מתאר את פעימת הפליטה.



- הראה שעבור מנוע שעובר את התהליך הנ"ל עם גז אידיאלי הנצילות האידיאלית היא:

$$\eta = 1 - \frac{(V_A/V_C)^{-\gamma} - (V_A/V_B)^{-\gamma}}{\gamma[(V_A/V_C)^{-1} - (V_A/V_B)^{-1}]}$$

- חשב את הנצילות אם הגז הוא אוטומי,  $V_A/V_B = 16$  ו- $V_A/V_C = 4.5$ .

**תשובות סופיות:**

- (1) א. 125kJ    ב. 100kJ
- (2) 25%
- (3) 1000J
- (4) א. 27000J    ב. 110000J    ג. 3.2hr
- (5) א. עם השעון.    ב. 9%
- (6) א. הוכחה.    ב. 55%

## תהליכים הפיכים ובלתי הפיכים ומנוע קרנו:

סיכום כללי:

הערות	תיאור	הנוסחה
<p>השטח שסגור בתוך הלולאה שווה לעבודה נטו שנעשית על ידי המנוע. מורכב מתהליכים הפיכים ולכן לא קיים במציאות, ניתן רק לשאוף אליו.</p>	מחזור קרנו	
<p>נקראת גם נצילות אידיאלית או מקסימאלית</p>	נצילות במנוע קרנו	$\eta_{\text{קרנו}} = 1 - \frac{T_L}{T_H}$

שאלות:

**(1) דוגמה - טענה לא הגיונית**

יצרן רכב טוען כי במנוע שייצר קצב הכניסה של החום הוא 9.1kJ בטמפרטורה של 162°C וקצב הפליטה של החום הוא 4.1kJ בטמפרטורה של 22°C. האם אתם מאמינים ליצרן?

**(2) דוגמה - נצילות של מנוע בעירה**

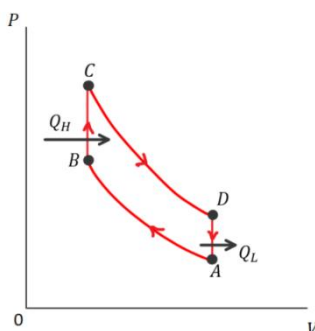
המחזור של מנוע בעירה מתואר באיור. הניחו שחומר העבודה הוא גז אידיאלי.

א. הראו כי הנצילות של המנוע

$$\eta = 1 - \left(\frac{V_A}{V_B}\right)^{1-\gamma}$$

ב. חשבו את הנצילות של המנוע אם יחס

הדחיסה הוא:  $\frac{V_A}{V_B} = 7.0$  והגז הוא דואטומי בדומה ל- $O_2$  או  $N_2$ .





**(3) מנוע חום עם חנקן נוזלי**

זה לא הכרחי שהמאגר החם של מנוע חום יהיה יותר חם מהסביבה. חנקן נוזלי זול בערך כמו בקבוק מים והטמפרטורה שלו היא בערך 77K. מה תהיה הנצילות המקסימלית של מנוע הפועל בין הטמפרטורה של חנקן נוזלי לטמפרטורת החדר 293K?

**(4) מנוע 1100W**

מנוע קרנו פועל בטמפרטורות 190°C ו- 25°C. ההספק של המנוע הוא 1100W. כמה חום פולט המנוע כל שניה?

**(5) מטפס הרים**

הניחו שאדם ששוקל 70kg צריך  $4.3 \cdot 10^3 \text{ kcal}$  של אנרגיה בשביל יום אחד של פעילות. העריכו את הגובה המקסימאלי שאותו אדם יכול לטפס על הר עם כמות זו של אנרגיה. כהערכה גסה אפשר להתייחס לאדם כמנוע הפועל בין טמפרטורות הגוף 37°C לטמפרטורת הסביבה 20°C.

**(6) טמפרטורת עבודה בנסיעה**

מכונית מייצרת עבודה בקצב של בערך  $7 \frac{\text{kJ}}{\text{sec}}$  כאשר היא נוסעת במהירות

קבועה של  $25 \frac{\text{m}}{\text{sec}}$  בכביש אופקי, זוהי עבודה כנגד כוח החיכוך.

המכונית יכולה לנסוע 14km לכל ליטר דלק.

מה הערך המינימלי של  $T_H$  אם  $T_L = 25^\circ\text{C}$  והאנרגיה הזמינה מליטר אחד של

דלק היא:  $3.2 \cdot 10^7 \text{ J}$ ?

**(7) חישובים במחזור קרנו**

מול אחד של גז מונואטומי עובר תהליך של מחזור קרנו,

כאשר  $T_H = 380^\circ\text{C}$  ו-  $T_L = 180^\circ\text{C}$ .

הלחץ ההתחלתי הוא 7.8atm.

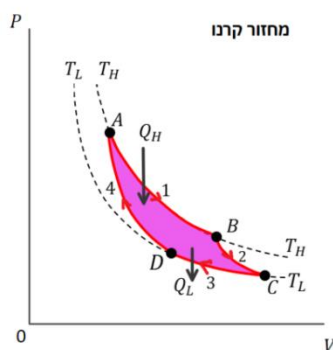
במהלך ההתרחבות האיזותרמית הנפח מוכפל.

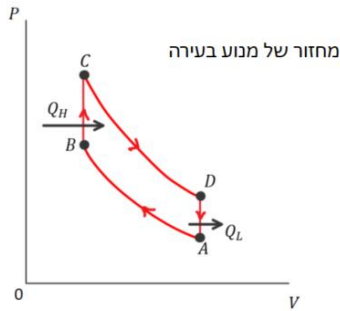
א. מהם הלחץ והנפח בנקודות: A, B, C, D?

ב. מצאו את  $Q$ ,  $W$  ו-  $\Delta E_{\text{int}}$  עבור כל שלב בתהליך.

ג. חשבו את הנצילות של המנוע באמצעות

$$\eta = 1 - \frac{T_L}{T_H} \quad \text{ו-} \quad \eta = 1 - \frac{Q_L}{Q_H}$$





**(8) יחס דחיסה במנוע בעירה**

במנוע שמתנהג בקירוב כמו המחזור של מנוע בעירה הדלק מוצת בסוף שלב הדחיסה האדיאבטית. טמפרטורת ההצתה של דלק מסוג אוקטן 95 היא  $280^{\circ}\text{C}$  ובהנחה שחומר העבודה הוא גז שמגיע מהאוויר (דו אטומי בטמפרטורה  $25^{\circ}\text{C}$ ) קבעו מהו יחס הדחיסה

המירבי  $\frac{V_A}{V_B}$ .

**תשובות סופיות:**

- (1) לא.
- (2) א. הוכחה. ב. 54%
- (3) 74%
- (4) 5000J
- (5) 1400m
- (6)  $400^{\circ}\text{K}$
- (7) א.  $P_B = 4 \cdot 10^5 \text{ Pa}$ ,  $V_B = 1.4 \cdot 10^{-2} \text{ m}^3$ ,  $P_A = 7.9 \cdot 10^5 \text{ Pa}$ ,  $V_A = 0.69 \cdot 10^{-2} \text{ m}^3$
- ב.  $P_D = 3.2 \cdot 10^5 \text{ Pa}$ ,  $V_D = 1.2 \cdot 10^{-2} \text{ m}^3$ ,  $P_C = 1.6 \cdot 10^5 \text{ Pa}$ ,  $V_C = 2.4 \cdot 10^{-2} \text{ m}^3$
- ג.  $\Delta E_{\text{int}_{BC}} = -2500 \text{ J}$ ,  $Q_{BC} = 0$ ,  $W_{BC} = 2500 \text{ J}$ ,  $\Delta E_{\text{int}_{AB}} = 0$ ,  $Q_{AB} = W_{AB} = 3800 \text{ J}$
- ד.  $\Delta E_{\text{int}_{DA}} = 2500 \text{ J}$ ,  $Q_{DA} = 0$ ,  $W_{DA} = -2500 \text{ J}$ ,  $\Delta E_{\text{int}_{CD}} = 0$ ,  $Q_{CD} = W_{CD} = -2600 \text{ J}$
- ה.  $\eta = 31\%$
- (8) 7.1

## מקררים מזגנים ומשאבות חום:

סיכום כללי:

הערות	תיאור	הנוסחה
	<p>מקדם היעילות של מקרר או מזגן</p>	$COP = \frac{Q_L}{W} = \frac{Q_L}{Q_H - Q_L}$
	<p>עבור מקרר או מזגן אידיאלי (לא מושלם)</p>	$COP_{ideal} = \frac{T_L}{T_H - T_L}$
<p>תמיד גדול מאחד</p>	<p>מקדם היעילות של משאבת חום</p>	$COP = \frac{Q_H}{W}$

שאלות:

**(1) דוגמה - מכינים קרח**

למקפיא יש מקדם יעילות של 3.6 והוא עובד בהספק של 200W. כמה זמן ייקח למקפיא להקפיא מגש קוביות קרח אם המגש הוכנס למקרר המכיל 400gr מים ב-0°C?

**(2) דוגמה - משאבת חום**

למשאבת חום מקדם יעילות של 3.0 והספק של 1200W.  
 א. כמה חום היא מוסיפה לחדר כל שניה?  
 ב. אם הופכים את פעולת המשאבה בקיץ כך שתשמש כמזגן, מה תצפו שיהיה מקדם היעילות שלה?

**(3) מקדם יעילות של מקרר אידיאלי**  
מקרר אידיאלי מחזיק את הטמפרטורה בתוכו ב- $4^{\circ}\text{C}$  כאשר הטמפרטורה בבית היא  $25^{\circ}\text{C}$ . מהו מקדם היעילות של המקרר?

**(4) מנוע קרנו עובד הפוך**  
למנוע אידיאלי (מנוע קרנו) יש נצילות של 37%. אם היה אפשר להפעיל את המנוע הפוך כך שיעבוד בתור משאבת חום, מה היה מקדם היעילות של המנוע?

**(5) מקרר קרנו אידיאלי מקפיא מים**  
"מקרר קרנו" (מנוע קרנו שעובד הפוך) מוציא חום מתא ההקפאה הנמצא בטמפרטורה של  $-15^{\circ}\text{C}$  ופולט אותו לחדר בטמפרטורה של  $25^{\circ}\text{C}$ .  
א. הראו כי אם מקדם היעילות של מקרר מוגדר לפי:  $\text{COP} = \frac{Q_L}{W}$   
אז מקדם היעילות של מקרר קרנו הוא:  $\text{COP}_{\text{ideal}} = \frac{T_L}{T_H - T_L}$ .  
ב. כמה עבודה מבצע המנוע לשנות  $0.6\text{kg}$  של מים ב- $25^{\circ}\text{C}$  לקרח ב- $-15^{\circ}\text{C}$ ? אם ההספק של המדחס במנוע הוא  $160\text{W}$ , מהו הזמן המינימלי הדרוש להקפיא מים מטמפרטורה של  $25^{\circ}\text{C}$  לקרח ב- $0^{\circ}\text{C}$ ?

**(6) משאבת חום לא אידיאלית**  
משאבת חום פועלת כמזגן ושומרת את הטמפרטורה בתוך הבניין על  $24^{\circ}\text{C}$  כאשר הטמפרטורה בחוץ היא  $40^{\circ}\text{C}$ .  
בשביל לבצע זאת המשאבה שואבת  $3 \cdot 10^7\text{J}$  חום בשעה מתוך הבניין ביעילות של 25% מהיעילות האידיאלית (זו של מקרר קרנו).  
א. מהו מקדם היעילות של המשאבה?  
ב. מהו ההספק של המדחס במשאבה? רשום תשובה בכוח סוס.

### תשובות סופיות:

- (1) בערך 3 דקות.  
(2) א.  $4600\text{J}$  ב. 2  
(3) 13  
(4) 2.7  
(5) א. הוכחה. ב.  $4.4 \cdot 10^4\text{J}$   
(6) א. 4.6 ב. 2.4HP

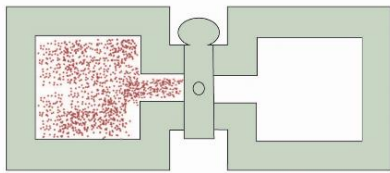
## אנטרופיה:

### סיכום כללי:

הערות	תיאור	הנוסחה
רק בטמפרטורה קבועה ובתהליך הפיך T - בקלווין!	Q - כמות החום שנכנסת למערכת	$\Delta S = \frac{Q}{T}$
	האנטרופיה היא משתנה מצב של המערכת	השינוי באנטרופיה לא תלוי בתהליך

### שאלות:

- (1) **דוגמה - שינוי באנטרופיה כשמערבבים מים**  
מערבבים 5kg מים ב-20°C עם 5kg מים ב-24°C.  
א. מה תהיה הטמפרטורה הסופית של המים המערבבים?  
ב. העריכו את השינוי באנטרופיה של כל המערכת.



- (2) **דוגמה - שינוי באנטרופיה בהתפשטות חופשית**  
גז מתפשט בצורה אדיאבטית וחופשית  
(כפי שמתואר בפרק הקודם בסרטון התפשטות  
חופשית) מנפח  $V_1$  לנפח  $V_2$ .  
א. חשבו את השינוי באנטרופיה של הגז.  
ב. מהו השינוי באנטרופיה של הסביבה?  
ג. הערך את השינוי באנטרופיה עבור  $n = 1.00$  ו- $V_2 = 2.00V_1$ .

- (3) **דוגמה - נחושת חמה נזרקת לתוך אגם**  
גוש נחושת חם בעל מסה של 2.00kg בטמפרטורה של  $T_1 = 840^\circ\text{K}$  נזרק לאגם  
גדול בטמפרטורה של  $T_2 = 280^\circ\text{K}$ .  
הניחו כי האגם מספיק גדול כך שהטמפרטורה שלו לא משתנה באופן מהותי.  
מהו השינוי באנטרופיה של:  
א. הנחושת.  
ב. האגם.  
ג. הכולל.

**(4) דוגמה - קוביית קרח נמסה**

קוביית קרח במסה של  $1.00\text{kg}$  ובטמפרטורה של  $0^{\circ}\text{C}$  נמצאת במגע עם מאגר חום גדול שהטמפרטורה שלו היא מעט מעל  $0^{\circ}\text{C}$ . כתוצאה מכך הקרח נמס מאוד לאט למים. מה השינוי באנטרופיה של:

א. הקרח.  
ב. המאגר.

**(5) שינוי באנטרופיה של מים שהופכים לאדים**

מהו השינוי באנטרופיה של  $150\text{gr}$  של מים ב- $100^{\circ}\text{C}$  שהופכים לאדים ב- $100^{\circ}\text{C}$ ?

**(6) קופסה מחליקה על משטח עם חיכוך**

קופסה בעלת מסה של  $6.5\text{kg}$  מחליקה על משטח אופקי לא חלק (קיים חיכוך קינטי). חשבו את השינוי באנטרופיה של היקום מתחילת תנועתה של הקופסה במהירות  $5\frac{\text{m}}{\text{sec}}$  ועד לעצירתה. הניחו שכל הגופים נמצאים בטמפרטורת החדר  $293\text{K}$ .

**(7) מים מתקררים ממאגר קרח**

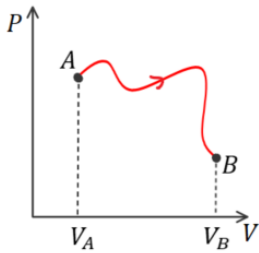
$1.0\text{L}$  של מים ב- $0^{\circ}\text{C}$  נמצאים במגע עם כמות גדולה של קרח ב- $10^{\circ}\text{C}$ . כתוצאה מכך המים קופאים ומתקררים גם ל- $10^{\circ}\text{C}$ . חשבו את השינוי הכולל באנטרופיה.

**(8) מוט ברזל נזרק למים**

מוט ברזל בעל מסה של  $1.8\text{kg}$  ובטמפרטורה של  $43^{\circ}\text{C}$  נזרק למיכל מים המצופה בקלקר. המיכל מכיל  $1.2\text{kg}$  מים בטמפרטורת החדר ( $20^{\circ}\text{C}$ ). מהו השינוי הכולל באנטרופיה?

**(9) גז אידיאלי מתפשט איזותרמית**

גז אידיאלי מתפשט איזותרמית  $T = 350^{\circ}\text{K}$  מנפח  $2.30\text{L}$  ולחץ  $6.9\text{atm}$  ללחץ  $1.0\text{atm}$ . מהו השינוי באנטרופיה של הגז?



**10) גז אידיאלי עובר תהליך מוזר**

גז אידיאלי המכיל  $n$  מולים עובר את התהליך המתואר באיור. הטמפרטורה בנקודות A ו-B זהה. חשבו את השינוי באנטרופיה של הגז בעקבות התהליך. נתונים:  $V_A$ ,  $nV_B$ .

**11) שני גזים מתערבבים**

1.00mol של גז חנקן ו-1.00mol של גז חמצן נמצאים בתאים נפרדים, זהים בגודלם, באותה הטמפרטורה ומבודדים מהסביבה. מחברים בין התאים והגזים (האידיאליים) מתערבבים. מהו השינוי באנטרופיה של:

- כל המערכת?
- של הסביבה?
- חזור על סעיף א' אם התא של אחד הגזים גדול פי שניים מהתא של השני.

**12) קיבול חום מולרי משתנה**

קיבול החום המולרי של אשלגן בטמפרטורות נמוכות משתנה עם הטמפרטורה לפי  $C_V = \alpha T + \beta T^3$  כאשר  $\alpha = 2.08 \frac{\text{mJ}}{\text{mol} \cdot \text{K}^2}$  ו-  $\beta = 2.57 \frac{\text{mJ}}{\text{mol} \cdot \text{K}^4}$ . מצאו את השינוי באנטרופיה של 0.25mol של אשלגן כאשר הטמפרטורה שלו יורדת מ-4.0K ל-2.0K בתהליך בנפח קבוע.

## תשובות סופיות:

$$(1) \quad \text{א. } 22^{\circ}\text{C} \quad \text{ב. } 1 \frac{\text{J}}{\text{K}}$$

$$(2) \quad \text{א. } \Delta S = nR \ln \frac{V_2}{V_1} \quad \text{ב. } \Delta S = 0 \quad \text{ג. } 5.76 \frac{\text{J}}{\text{K}}$$

$$(3) \quad \text{א. } -857 \frac{\text{J}}{\text{K}} \quad \text{ב. } 1560 \frac{\text{J}}{\text{K}} \quad \text{ג. } 703 \frac{\text{J}}{\text{K}}$$

$$(4) \quad \text{א. } -1220 \frac{\text{J}}{\text{K}} \quad \text{ב. } 1220 \frac{\text{J}}{\text{K}}$$

$$(5) \quad 910 \frac{\text{J}}{\text{K}}$$

$$(6) \quad 0.28 \frac{\text{J}}{\text{K}}$$

$$(7) \quad 48 \frac{\text{J}}{\text{K}}$$

$$(8) \quad 2.2 \frac{\text{J}}{\text{K}}$$

$$(9) \quad 8.8 \frac{\text{J}}{\text{K}}$$

$$(10) \quad nR \ln \frac{V_B}{V_A}$$

$$(11) \quad \text{א. } 5.8 \frac{\text{J}}{\text{K}} \quad \text{ב. } 0 \quad \text{ג. } 13 \frac{\text{J}}{\text{K}}$$

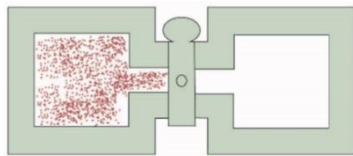
$$(12) \quad -11 \frac{\text{mJ}}{\text{K}}$$

## פרשנות סטטיסטית לאנטרופיה והחוק השני:

### סיכום כללי:

הערות	תיאור	הנוסחה
	k - קבוע בולצמן Ω - פונקציית המצבים המיקרוסקופיים	$S = k \ln \Omega$

### שאלות:



- (1) **דוגמה - התפשטות חופשית גישה סטטיסטית**  
 השתמשו במשוואה של בולצמן לאנטרופיה וחשבו את השינוי באנטרופיה במקרה של התפשטות חופשית של מול אחד של גז אידיאלי מנפח  $V$  לנפח  $2V$ .  
 הניחו ש- $\Omega$  אומרת את מספר המיקומים האפשריים של כל המולקולות. השוו לחישוב שנעשה בדוגמה הקודמת של התפשטות חופשית באמצעות הנוסחה של קלאוזיוס.

### (2) אנטרופיה להטלת 4 מטבעות

השתמשו בפונקציית המצבים  $\Omega$  וחשבו מה האנטרופיה בכל אחד מהמצבים המיקרוסקופיים שתוארו בדוגמה של הטלת 4 מטבעות.

מספר המצבים המיקרוסקופיים	המצבים המיקרוסקופיים המתאימים (H-ראש, T-זנב)	המצב המיקרוסקופי
1	HHHH	4 ראש
4	THHH, HTHH, HHTH, HHHT	3 ראש, 1 זנב
6	TTHH, THTH, HTTH, THHT, HTHT, HHTT	2 ראש, 2 זנב
4	HTTT, THTT, TTHT, TTTH	1 ראש, 3 זנב
1	TTTT	4 זנב

### (3) הטלת 5 מטבעות

- דני לקח 5 מטבעות והטיל אותם בצורה אקראית על השולחן.  
 א. רשמו טבלה ובה את מספר המצבים המיקרוסקופיים המתאימים לכל מצב מקרו.  
 ב. מהי ההסתברות שבהטלה יצאו 3 מטבעות ראש ו-2 זנב?  
 ג. מהי ההסתברות שכל המטבעות יפלו על זנב?  
 ד. מהי ההסתברות שבהטלה יפלו לפחות 3 מטבעות על זנב?

**(4) שינוי באנטרופיה בסידור 10 מטבעות**

על שולחן ישנם 10 מטבעות כאשר 9 מתוכם נמצאים עם הראש כלפי מעלה ואחד עם הזנב כלפי מעלה. הופכים 3 מטבעות שהיו עם הראש כלפי מעלה. מה השינוי באנטרופיה של המערכת? השווה לשינוי באנטרופיה של מערכת תרמודינמית מאחד הדוגמאות הקודמות. ניתן לחשב את פונקציית המצבים גם באמצעות מקדמי הבינום של ניוטון:  $\frac{n!}{k!(n-k)!}$  כאשר  $n$  הוא מספר המטבעות ו- $k$  מספר המטבעות עם הזנב (או הראש) כלפי מעלה.

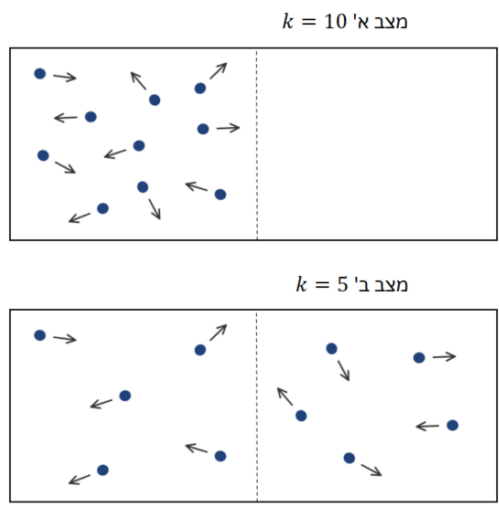
**(5) גז עם 10 אטומים בתיבה**

נניח שישנה מערכת דמויית גז המכילה  $n = 10$  אטומים במהירויות זהות. ה"גז" נמצא בתוך תיבה. נסמן את מספר האטומים הנמצאים בחציה השמאלית של התיבה ב- $k$ . מספר האפשרויות לסדר את האטומים כך ש- $k$  אטומים יהיו

בחצי השמאלי הוא:  $\frac{n!}{k!(n-k)!}$

נניח כי כל ערך של  $k$  מסמל מצב מיקרוסקופי של המערכת. במצב א' שבאיור כל 10 האטומים בצד שמאל של התיבה ( $k = 10$ ) ובמצב ב' שבאיור 5 בחצי הימני ו-5 בשמאלי ( $k = 5$ ).

- א. מהו השינוי באנטרופיה במעבר בין מצב א' למצב ב'? האם התהליך יכול להתרחש בצורה ספונטנית?
- ב. מהו השינוי באנטרופיה במעבר בין מצב ב' למצב א'? האם התהליך יכול להתרחש בצורה ספונטנית?



**תשובות סופיות:**

Rln(2) (1)

(2)

אנטרופיה	המצב המיקרוסקופי
0	4 ראש
$1.91 \cdot 10^{-23} \frac{J}{K}$	3 ראש, 1 זנב
$2.47 \cdot 10^{-23} \frac{J}{K}$	2 ראש, 2 זנב
$1.91 \cdot 10^{-23} \frac{J}{K}$	1 ראש, 3 זנב
0	4 זנב

.א (3)

מצב מקרוסקופי	המצבים המיקרוסקופיים	פונקציית המצבים $\Omega$
5-H, 0-T	HHHHH	1
4-H, 1-T	HHHHT, HHHHT, HHTHH, HTHHH, THHHH	5
3-H, 2-T	HHHTT, HHTHT, HTHHT, THHHT, HHTTH, HTTTH, THTHH, TTHHH, HTHTH, THHTH	10
2-H, 3-T	כמו 3-H, 2-T רק להחליף H ב-T	10
1-H, 4-T	כמו 4-H, 1-T רק להחליף H ב-T	5
0-H, 5-T	כמו 5-H, 0-T רק להחליף H ב-T	1

50% .ד

3.125% .ג

31.25% .ב

$4.2 \cdot 10^{-23} \frac{J}{K}$  (4)

.א.  $7.63 \cdot 10^{-23} \frac{J}{K}$ , .ב.  $-7.63 \cdot 10^{-23} \frac{J}{K}$ , .לא. (5)