

מכניקה קוונטית של אטומים



תוכן העניינים

1. תיאוריות מוקדמות של תורת הקוונטים ומבנה האטום 1
2. תורת הקוונטים 25
3. תורת הקוונטים חלק 2 (ללא ספר)
4. המודל הקוונטי לאטום המימן ספין והטבלה המחזורית (ללא ספר)

מכניקה קוונטית של אטומים

פרק 1 - תיאוריות מוקדמות של תורת הקוונטים ומבנה האטום

תוכן העניינים

1. תיאוריות מוקדמות של תורת הקוונטים ומבנה האטום 1
2. התיאוריה הפוטנית של האור והאפקט הפוטואלקטרי 4
3. אנרגיה מסה ותנע של פוטון 8
4. אפקט קומפטון 9
5. אינטראקציות של פוטונים ויצירת זוגות 11
6. דואליות גל חלקיק והאופי הגלי של החומר 13
7. סיכום ביניים התורה הפוטונית והשלכות (ללא ספר) 15
8. מודלים מוקדמים של האטום 15
9. מודל האטום של בוהר 16
10. סיכום חלק שני מודלים מוקדמים ומודל בוהר (ללא ספר) 20
11. שאלות ותרגילים נוספים 20

תיאוריות מוקדמות של תורת הקוונטים ומבנה האטום:

סיכום כללי:

ההנחה הקוונטית של פלאנק וקרינת גוף שחור.

		<p>גרף של קרינת גוף שחור כתלות באורך הגל ובטמפרטורות שונות</p>
λ_p - אורך הגל בשיא T - הטמפרטורה בקלווין	$\lambda_p T = 2.90 \cdot 10^{-3} m \cdot K$	<p>חוק ווין - Wien law</p>
קבוע בולצמן $k = 1.38 \cdot 10^{-23} J \cdot K^{-1}$ קבוע פלאנק $h = 6.626 \cdot 10^{-34} J \cdot s$	$I(\lambda, T) = \frac{2\pi hc^2 \lambda^{-5}}{e^{hc/\lambda kT} - 1}$	<p>נוסחת פלאנק לקרינת גוף שחור</p>
<u>ההנחה הקוונטית של פלאנק</u>	$E_{min} = hf$	<p>אנרגיה מינימלית של מטען בתנועה הרמונית באטום</p>
המספר הקוונטי $n = 1, 2, 3, \dots$	$E = nhf$	<p>אנרגיית המטען חייבת להיות כפולה שלמה של הערך המינימלי</p>

שאלות:

(1) **דוגמה - טמפרטורת השמש**
 הראו באמצעות חוק וויין כי הטמפרטורה על פני השמש היא באמת 6,000K אם ידוע שאורך הגל של האור הנראה הוא בערך 500nm.

(2) **דוגמה - טמפרטורת כוכב**
 טלסקופ גדול בחלל מזהה כוכב חדש. הקרינה שפולט הכוכב נקלטת בטלסקופ כאשר השיא של הקרינה הוא באורך גל של 90nm. מהי הטמפרטורה על פני הכוכב?

(3) **טמפרטורה של מתכת**
 מה הטמפרטורה של מתכת בשלב הריתוך אם שיא פליטת האור שלה באורך גל של 460nm.

(4) **הפרש אנרגיות של מולקולה רוטטת**
 מולקולת HCl רוטטת בתדירות של $8.1 \cdot 10^{13}$ Hz. חשבו את ההפרש בין שני ערכים צמודים של האנרגיות האפשריות לפי ההנחה הקוונטית של פלאנק לערכי האנרגיה באוסילציות. תנו תשובה בג'אול ובאלקטרון וולט.

(5) **חוק וויין וקבוע פלאנק מנוסחת הקרינה**


$$I(\lambda, T) = \frac{2\pi hc^2 \lambda^{-5}}{e^{hc/\lambda kT} - 1}$$
 נוסחת פלאנק לקרינת גוף שחור היא:
 א. * הראו, ללא שימוש בחוק וויין, כי קבוע $\lambda_p T =$ לעזרתכם פתרון המשוואה: $5e^{-x} = 5 - x$: $x = 4.966$.
 ב. השתמשו בחוק וויין וחשבו את קבוע פלאנק.
 ג. ** הראו כי הקרינה הנפלטת מגוף שחור פרופורציונית לטמפרטורה ברביעית - חוק סטפן - בולצמן.
 הדרכה: בשביל לחשב את הקרינה הכוללת הנפלטת יש לעשות אינטגרציה על כל אורכי הגל, אין צורך לפתור את האינטגרל עד הסוף.

תשובות סופיות:

- (1) הוכחה.
- (2) .32,000K
- (3) .6,300K
- (4) $.5.4 \cdot 10^{-20} \text{ J}$, 0.34eU
- (5) הוכחה.

התיאוריה הפוטונית של האור והאפקט הפוטואלקטרי:

סיכום כללי:

f - תדירות האור	$E = hf$	אנרגיה של פוטון יחיד
		<u>הניסוי הפוטואלקטרי</u>
W_0 - פונקציית העבודה של המתכת	$hf_0 = W_0$	תדירות סף
	$E_k = hf - W_0$	אנרגיה קינטית מקסימאלית של האלקטרונים
	$eV_0 = E_k$	מתח עצירה
<p><u>לפי התורה הגלית-אלקטרומגנטית</u></p> <p>1. עוצמת האור קשורה לגודל השדה הגדלת העוצמה תגדיל את האנרגיה הקינטית של האלקטרונים.</p> <p>2. התדירות לא משפיעה על האנרגיה של האלקטרונים.</p>	<p><u>לפי התורה הפוטונית</u></p> <p>1. עוצמת האור קשורה למספר הפוטונים ולא לאנרגיה של כל אחד מהם. הגדלת העוצמה תגדיל את מספר האלק' הנפלטים אבל לא את האנרגיה הקינטית שלהם.</p> <p>2. האנרגיה של הפוטון תלויה בתדירות.</p> <p>3. רק פוטון אחד נותן את כל האנרגיה שלו ולכן קיימת תדירות סף.</p>	השוואה לתורה הגלית

שאלות:

- (1) **דוגמה - חישוב אנרגיית פוטון באור כחול**
 חשבו את האנרגיה של פוטון באור כחול: $\lambda = 450\text{nm}$ באוויר (או וואקום).
- (2) **דוגמה - הערכה של מספר פוטונים מנורה**
 נסו להעריך כמה פוטונים פולטת נורה בהספק 100W כל שניה. הניחו שהנצילות של הנורה היא בערך 3% (כלומר רק 3% מהאנרגיה המושקעת בנורה כל שניה מנוצלת להפקה של אור). האור שיוצא מנורה לבנה הוא בכל אורכי הגל, ניתן לקחת לצורך ההערכה את אורך הגל באמצע הספקטרום של האור הנראה: $\lambda \approx 500\text{nm}$.
- (3) **דוגמה - חישוב אנרגיה של אלקטרונים נפלטים**
 מהי האנרגיה הקינטית המקסימאלית ומהי המהירות המקסימאלית של אלקטרונים הנפלטים מחומר שפונקציית העבודה שלו היא: $W_0 = 2.8\text{eV}$ אם אורך הגל של האור הפוגע במשטח הוא:
 א. $\lambda = 400\text{nm}$
 ב. $\lambda = 600\text{nm}$
- (4) **עקיפה של קרינת גמא**
 לפוטון בקרינת גמא יש אנרגיה של 380keV .
 א. מהו אורך הגל של הקרינה?
 ב. האם לדעתך הקרינה עושה עקיפה דרך פתחים טיפוסיים שאנחנו נתקלים ביום יום כמו פתח של דלת?
- (5) **איזו מתכת לא תפלוט אלקטרונים**
 פונקציות העבודה של סודיום, צסיום, נחושת וברזל הן: $2.1, 2.3, 4.5$ ו- 4.7 אלקטרון וולט בהתאמה. אלו מהמתכות לא תפלוט אלקטרונים כאשר פוגע בה אור מהתחום הנראה?
- (6) **פונקציית עבודה ומתח עצירה**
 בניסוי של האפקט הפוטואלקטרי נצפה כי לא זורם זרם כאשר אורך גל של האור הוא מעל ל- 540nm .
 א. מהי פונקציית העבודה של המתכת?
 ב. מהו מתח העצירה הדרושה אם מקרינים באור באורך גל של 450nm ?

7 ניסוי פוטואלקטרי

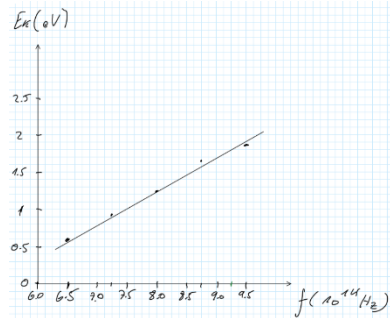
בניסוי פוטואלקטרי הקרינו אור בתדירויות שונות ומדדו את מתח העצירה. התוצאות של הניסוי מוצגות בטבלה הבאה:

$f(10^{14}\text{Hz})$	V(V)
6.50	0.6
7.25	0.91
8.00	1.23
8.75	1.54
9.50	1.85

- א. מצאו את האנרגיה הקינטית של האלקטרונים בפליטה ושרטטו גרף של אנרגיה זו כתלות בתדירות. השתמשו בנייר משבצות ורשמו נתונים בצורה מדויקת.
- ב. חשבו מתוך הגרף את קבוע פלאנק.
- ג. חשבו את פונקציית העבודה ותדירות הסף של המתכת.

תשובות סופיות:

- (1) .2.8eV
- (2) .8·10¹⁸ פוטונים
- (3) א. $3.2 \cdot 10^2 \frac{\text{m}}{\text{sec}}$
- (4) א. $3.3 \cdot 10^{-3} \text{ nm}$ ב. לא.
- (5) נחשת וברזל.
- (6) א. 2.3eV ב. 0.46V
- (7) א. ב. הוכחה.



$E_k = \text{eV}$
0.6eV
0.91eV
1.23eV
1.54eV
1.85eV

ג. $W_0 = 2.42\text{eV}$, $f = 5.84 \cdot 10^{14} \text{ Hz}$

אנרגיה מסה ותנע של פוטון:

סיכום כללי:

אנרגיה של פוטון יחיד	$E = hf$	f -תדירות האור
תנע של פוטון	$p = \frac{E}{c} = h \frac{f}{c} = \frac{h}{\lambda}$	
מסת מנוחה של פוטון	$m = 0$	

שאלות:

- (1) דוגמה - כוח שמפעילה נורה על נייר שחור
 בדוגמה "הערכה של מספר הפוטונים מנורה" חישבנו את מספר הפוטונים שיוצאים מנורה של 100W כל שניה (בערך 10^{19}). נניח כי כל הפוטונים האלו פוגעים בנייר שחור (ולא מוחזרים) חשבו את:
 א. התנע של פוטון יחיד.
 ב. הכוח שמפועל על הנייר.

- (2) דוגמה - יעילות של תהליך פוטוסינטזי
 בתהליך פוטוסינטזי פיגמנטים בצמח כמו כלורופיל סופגים אור שמש ובאמצעותו הופכים פחמן דו חמצני (CO_2) לפחמימות (וחמצן שנפלט).
 בשביל להפוך מולקולה אחת של CO_2 לפחממה הצמח משתמש ב-9 פוטונים. כלורופיל סופג אור בעיקר באורך גל של 670nm. אם ידוע שהאנרגיה המשתחררת בפירוק פחממה היא: $4.9 \frac{eV}{molecule}$, מה היעילות (או נצילות) של התהליך הפוטוסינטזי?

תשובות סופיות:

- (1) א. $1.3 \cdot 10^{-27} \frac{kg \cdot m}{sec}$ ב. $10^{-8} N$
 (2) 29%

אפקט קומפטון:

סיכום כללי:

λ - אורך הגל של הקרן הפוגעת λ' - אורך הגל של הקרן המפוזרת θ - זווית ביחס לכיוון הקרן הפוגעת $\frac{h}{m_e c}$ - אורך גל של האלקטרון החופשי	$\lambda' = \lambda + \frac{h}{m_e c} (1 - \cos \theta)$	הסחת קומפטון
--	--	--------------

שאלות:

(1) דוגמה - פיזור בכמה זוויות

קרני X באורך גל 0.162nm מפוזרות מסרט פחמן דק. מה יהיו אורכי הגל של הקרניים המפוזרות בזוויות?

- א. 0° .
- ב. 90° .
- ג. 180° .

(2) הסחה יחסית מקסימאלית

בפיזור קומפטון, מצאו את זווית הפיזור עבורה ההסחה (שינוי באורך הגל) היא מקסימאלית. מהי ההסחה היחסית המקסימאלית $\frac{\Delta\lambda}{\lambda}$ עבור פוטון באורך גל: $\lambda = 500\text{nm}$ מהתחום הנראה ועבור פוטון באורך גל: $\lambda = 0.1\text{nm}$ מתחום קרינת X.

(3) פיזור רב פעמי

קרני גמא שנוצרות קרוב למרכז השמש עוברות הרבה פיזורים בזוויות קטנות עד שהן מאבדות מספיק אנרגיה והופכות לקרניים בתחום הנראה. הניחו שלפוטון בקרן גמא יש אנרגיה של 1.0MeV והפוטון עובר סדרה של התנגשויות בזוויות של 0.5° בכל התנגשות. כמה התנגשויות צריך הפוטון לעבור בשביל שאורך הגל שלו ישתנה ל- 555nm.

תשובות סופיות:

- (1) א. 0.162nm ב. 0.164nm ג. 0.167
- (2) א. $\theta = \pi$ ב. 0.00097% ג. 4.9%
- (3) $6 \cdot 10^9$ התנגשויות.

אינטראקציות של פוטונים ויצירת זוגות:

סיכום כללי:

תנאים ביצירת זוגות:

1. חייב להיווצר זוג בשביל שיתקיים שימור מטען
2. אנרגיית הפוטון שווה לאנרגיית הזוג, יש להוסיף אנרגיית מנוחה יחסותית לכל חלקיק mc^2 .
3. בשביל ליצור זוג חייבת להיות אינטראקציה עם גוף נוסף (בד"כ גרעין) כדי שיהיה שימור תנע.
4. התהליך יכול גם לקרות הפוך ונקרא אינהלציה. לדוגמה פוזיטרון פוגש אלקטרון, הם נכחדים ויוצרים פוטון.

שאלות:

- (1) דוגמה - אנרגיה מינימלית ליצירת זוגות
מצאו מהי האנרגיה המינימלית (ב-eV) ליצירת זוג אלקטרון פוזיטרון?
מה אורך הגל של הפוטון במקרה זה?
- (2) חישוב אנרגיה קינטית ביצירת זוג
חשבו כמה אנרגיה קינטית כוללת תהיה ביצירת זוג של אלקטרון פוזיטרון מתוך פוטון בעל אנרגיה של: 2.8MeV.
- (3) אורך גל מקסימאלי ליצירת זוג
מהו אורך הגל המקסימאלי של פוטון היכול לייצר זוג של פרוטון ואנטי פרוטון (כל אחד במסה של: $1.67 \cdot 10^{-27}$ kg).
- (4) אלקטרון ופוזיטרון מייצרים שני פוטונים
אלקטרון ופוזיטרון נעים אחד כלפי השני במהירות: $10^5 \frac{m}{sec}$ כל אחד. הם מתנגשים, נעלמים ויוצרים שני פוטונים שנעים בכיוונים מנוגדים. מהן האנרגיה והתנע של כל פוטון?

תשובות סופיות:

(1) 1.02MeV ו- 1.2pm .

(2) 1.78MeV .

(3) $6.63 \cdot 10^{-16}\text{m}$.

(4) $E = 0.51\text{MeV}$, $p = 0.51 \frac{\text{MeV}}{c}$.

דואליות גל חלקיק והאופי הגלי של החומר:

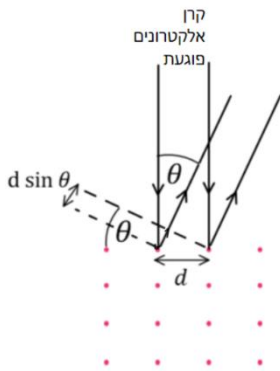
סיכום כללי:

$p = mv$	או	לא יחסותי	$\lambda = \frac{h}{p}$	אורך גל דה ברולי של חלקיק
$p = mv\gamma$		יחסותי		

שאלות:

(1) דוגמה - אורך גל של כדורסל
חשבו את אורך גל דה ברולי של כדורסל השוקל חצי קילוגרם ונזרק במהירות של 10 מטר לשנייה.

(2) דוגמה - אורך גל של אלקטרון ב-100 וולט
חשבו את אורך הגל של אלקטרון המואץ תחת הפרש פוטנציאלים של 100V.



(3) דוגמה - עקיפה של אלקטרונים
מקרינים קרן אלקטרונים בניצב למשטח של חומר מוצק. האטומים בחומר מסודרים בצורת סריג ריבועי כאשר המרווח בין האטומים לא ידוע ומסומן ב- d , ראו איור. מצאו את המרחק d אם האנרגיה הקינטית של האלקטרונים היא: $E_k = 80\text{eV}$ והזווית בה מתרחשת התאבכות בונה בפעם הראשונה היא 22° .
הניחו שהאנרגיה של האלקטרונים נמוכה וכי האלקטרונים עושים אינטראקציה רק עם השכבה החיצונית של החומר.

(4) כמה מתח לאורך גל
באיזה מתח צריך להאיץ אלקטרון כך שהוא יגיע לאורך גל של 0.6nm.

(5) אנרגיה ותנע מאורך גל
לאלקטרון אורך גל דה ברולי של: $\lambda = 3.2 \cdot 10^{-10}\text{m}$.
א. מהו התנע שלו?
ב. מהי מהירותו? האם היא יחסותית? רמת דיוק של 1% בגאמה.
ג. איזה מתח נדרש כדי להאיץ אותו למהירות כזו?

(6) רזולוציה של מיקרוסקופ אלקטרוני

מהו הגבול התיאורטי של הרזולוציה של מיקרוסקופ אלקטרוני שבו האלקטרונים מואצים במתח של 80keV . יש להשתמש בנוסחאות יחסיות.

(7) אנרגיה יחסית

אלקטרון בשפופרת טלויזיה (של פעם) מואץ במתח של 33keV .

א. האם האנרגיה של האלקטרון יחסית? לפי רמת דיוק של אחוז אחד בגמא.

ב. חשבו את אורך הגל של האלקטרון. האם צריך לדאוג מתופעות עקיפה?

גודל פתח השפופרת הוא 5cm .

תשובות סופיות:

(1) $1.3 \cdot 10^{-34}\text{ m}$

(2) $1.2 \cdot 10^{-10}\text{ m}$

(3) 3 A

(4) 4.17 V

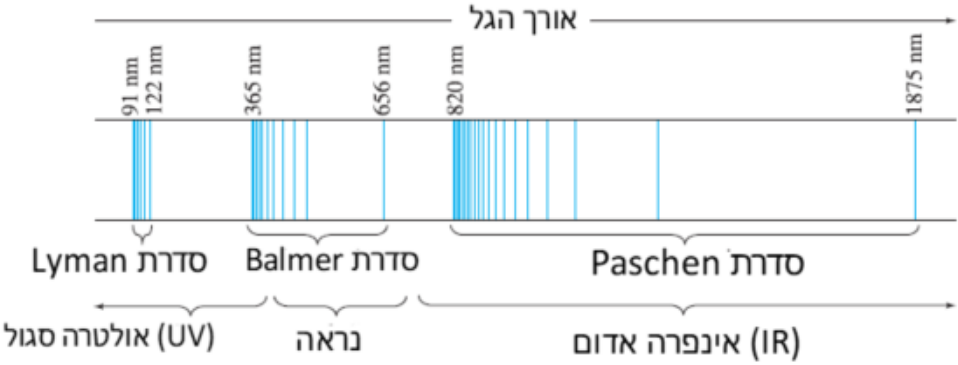
(5) א. $2.1 \cdot 10^{-24}\text{ kg} \cdot \text{sec}$. ב. $2.3 \cdot 10^6 \frac{\text{m}}{\text{sec}}$, לא יחסית. ג. 15 V .

(6) $4.2 \cdot 10^{-12}\text{ m}$

(7) א. כן. ב. $6.6 \cdot 10^{-12}\text{ m}$, אין צורך.

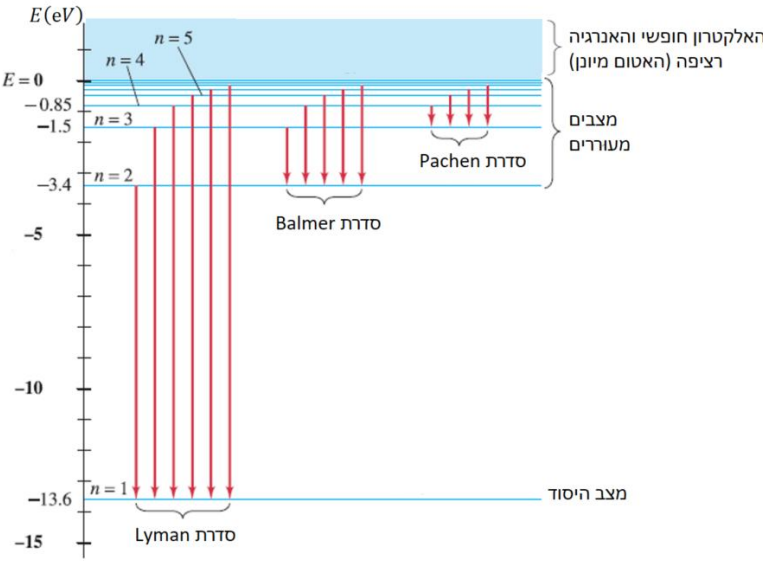
מודלים מוקדמים של האטום:

סיכום כללי:

<p>קבוע Rydberg</p> $\frac{1}{\lambda} = R \left(\frac{1}{n'^2} - \frac{1}{n^2} \right)$	$\frac{1}{\lambda} = R \left(\frac{1}{n'^2} - \frac{1}{n^2} \right)$	<p>נוסחה לאורכי הגל הנפלטים מאטום המימן</p>
 <p>The diagram shows the hydrogen emission spectrum with three series of lines: Lyman (91 nm, 122 nm), Balmer (365 nm, 656 nm), and Paschen (820 nm, 1875 nm). The Lyman series is labeled as UV (אולטרה סגול), Balmer as visible (נראה), and Paschen as IR (אינפרא אדום). The x-axis is labeled 'אורך הגל' (wavelength).</p>		
<p>1. מדוע הקרינה שנפלטת היא באורכי גל מסוימים בלבד. 2. אם האלקטרון בתאוצה כל הזמן הוא צריך לאבד אנרגיה כל הזמן ולקרוס לגרעין. אטומים לא היו צריכים להיות יציבים.</p>		<p>בעיות במודל הפלנטארי של ראתפורד</p>

מודל האטום של בוהר:

סיכום כללי:

<p>1. האלקטרונים יכולים לנוע רק במסלולים / רדיוסים ספציפיים מסביב לגרעין. המסלולים נקראים אורביטלים.</p> <p>2. האלקטרונים לא מאבדים אנרגיה בתנועה המעגלית (למרות שהם בתאוצה). בגלל שהאלקטרון לא מאבד אנרגיה במצבים stationary states אלו הם נקראים מצבים יציבים</p>	<p>הנחות המודל</p>	
	$hf = E_U - E_L$	<p>אנרגיית הפוטון שווה להפרש האנרגיות בין שני מצבים</p>
$n=1,2,3\dots$	$L = mvr_n = \frac{nh}{2\pi}$	<p>הנחה על התנע הזוויתי</p>
<p>Z - מספר הפוטונים</p> $r_1 = \frac{\epsilon_0 h^2}{\pi e^2 m_e} \approx 0.529 \cdot 10^{-10}$	$r_n = \frac{n^2}{Z} r_1$	<p>הרדיוסים האפשריים</p>
	$E = -\frac{Z^2 \cdot 13.6eV}{n^2}$	<p>האנרגיה של האלקטרון הנמצא במסלול ה-n</p>
 <p>טבלה של רמות האנרגיה באטום המימן</p>		

שאלות:

- (1) **דוגמה - אורך הגל של הקו הראשון של Paschen**
 השתמשו בטבלה שהוצגה בסרטון "קווי הספקטרום ממודל בוהר" ומצאו את אורך הגל של קו הספקטרום הראשון בסדרת Paschen. באיזה תחום של אורכי גל נמצא קו זה? (IR, UV או אור נראה).
- (2) **דוגמה - אורך גל מקסימלי בבליעה**
 גז מימן נמצא בשפופרת בלחץ נמוך ובטמפרטורת החדר (האלקטרונים במצב היסוד). מקרינים את הגז בקרינה עם ספקטרום רציף של אורכי גל. מהו אורך הגל הכי גבוה בספקטרום הבליעה ומהו אורך הגל אחריו? השתמשו בטבלה של רמות האנרגיה באטום המימן.
- (3) **דוגמה - אנרגיית ינון של יון הליום**
 He^+ הוא יון של הליום המכיל שני פרוטונים ואלקטרון אחד. השתמשו במודל בוהר וחשבו את אנרגיית היינון של He^+ , כלומר, כמה אנרגיה דרושה בשביל לנתק גם את האלקטרון היחיד שנשאר. מהו אורך הגל המקסימאלי של פוטון הגורם ליינון? הניחו שהאלקטרון במצב היסוד.
- (4) **דוגמה - אנרגיה של אטומים בטמפרטורת חדר**
 לפי התיאוריה הקינטית (תיאוריה בתרמודינמיקה), האנרגיה הקינטית הממוצעת של אטום בגז (אידיאלי) היא: $\bar{E}_k = \frac{3}{2}kT$ כאשר $k = 1.38 \cdot 10^{-23} \frac{J}{K}$. הוא קבוע בולצמן ו-T היא הטמפרטורה בקלווין. הסבירו מדוע בטמפרטורת החדר כמעט כל האטומים צריכים להיות במצב היסוד. (טמפרטורת החדר היא בערך 20 מעלות צלזיוס והטמפרטורה בקלווין שווה לטמפרטורה בצלזיוס פלוס 273).
- (5) **השוואה בין מעברים**
 נתונים שלושה מעברים בין רמות אנרגיה של אטום המימן לפי מודל בוהר כאשר n הוא המצב ההתחלתי ו-n' הוא המצב הסופי.
 I. $n = 1 \quad n' = 3$
 II. $n = 6 \quad n' = 2$
 III. $n = 4 \quad n' = 5$
 א. קבעו אילו מן המעברים הם בליעה ואילו פליטה.
 ב. באיזה מעבר מעורב הפוטון הכי אנרגטי?

- (6) **יינון אטום מעורר**
 כמה אנרגיה דרושה על מנת ליינן אטום מימן מעורר הנמצא במצב אנרגיה החמישי?
 החמישי?
- (7) **אורך גל של הקו השני**
 מצאו את אורך הגל של הקו השני בסדרת בלמר.
- (8) **מימן בולע פוטון של הליום מיונן**
 בשמש ישנם יונים של הליום - He^+ . יון של ההליום פולט פוטון במעבר מרמה 5 לרמה 2. האם אטום מימן הנמצא בשמש יוכל לבלוע את הפוטון בלי לבצע יינון? אם כן בין איזה רמות אנרגיה תתבצע הבליעה?
- (9) **אנרגיית יינון של ליתיום פלוס שתיים**
 חשבו את אנרגיית היינון (ממצב הייסוד) של אטום ליתיום החסר שני אלקטרונים Li^{2+} בעל $Z = 3$ לפי מודל בוהר.
- (10) **אנרגיה קינטית של אלקטרון במצב יסוד**
 מהי האנרגיה הפוטנציאלית והקינטית של אלקטרון במצב היסוד של אטום המימן?
- (11) **האם אטום המימן יחסותי**
 השתמשו בתוצאה של התרגיל הקודם "אנרגיה קינטית של אלקטרון במצב ייסוד" ובדקו האם יש צורך להשתמש בנוסחאות יחסותיות במודל בוהר.
- (12) **רדיוס אטום מעורר**
 אטום מימן מעורר יכול להיות תיאורטי בקוטר של 0.10mm. באיזה רמת אנרגיה נמצא אטום זה? ומהי האנרגיה של מצב זה?
- (13) **אנרגיה ותנז**
 מצאו את התנע הזוויתי של אלקטרון באטום המימן אם האנרגיה שלו היא $-1.5eV$.
- (14) **אלקטרונים פוגעים בגז מימן**
 קרן אלקטרונים בעלי אנרגיה של $12.1eV$ פוגעת בגז מימן הנמצא בטמפרטורת החדר (רוב האטומים במצב היסוד).
 מהו ספקטרום הפליטה שנצפה לראות מן הגז בעקבות פגיעת הקרן?

תשובות סופיות:

- (1) 300nm בתחום העל סגול (UV).
- (2) $\lambda_{\max} = 122\text{nm}$, $\lambda_2 = 103\text{nm}$.
- (3) 22.8nm.
- (4) ראה סרטון.
- (5) א. בליעה: I, פליטה: II, בליעה: III. ב. מעבר I.
- (6) 0.544eV.
- (7) 490nm.
- (8) לא יוכל לקלוט.
- (9) 122.4eV.
- (10) $K = 13.6\text{eV}$, $U = -27.2\text{eV}$.
- (11) אין צורך.
- (12) ברמה ה-972, האנרגיה היא: $-1.4 \cdot 10^{-1}\text{eV}$.
- (13) $3.17 \cdot 10^{-34}\text{kg} \cdot \frac{\text{m}^2}{\text{sec}}$.
- (14) אורכי הגל הנצפים הם: 103nm, 656nm, 122nm.

שאלות ותרגילים נוספים:

שאלות:

- (1) **טמפרטורה של כוכב**
איזה כוכב נמצא בטמפרטורה גבוהה יותר, כוכב הנראה כחול, אדום או צהוב?
- (2) **גופים שחורים בחושך**
אם קרינה נפלטת מכל גוף, למה אנחנו לא רואים אותם בחושך?
- (3) **צבע אור של נורה**
האם האור של נורה בטמפרטורה של 3000K יראה לבן כמו האור של השמש הנמצאת ב-6000K?
- (4) **חדר חושך**
למה בחדרי חושך מאירים בנורה אדומה כשמפתחים תמונה של שחור לבן? האם ניתן להשתמש באור אדום גם בפיתוח של תמונה בצבע?
- (5) **תדירות סף מעדיפה תיאוריה פוטונית**
הסבירו למה העובדה שיש תדירות סף באפקט הפוטואלקטרי מסתדרת עם התורה הפוטונית ולא עם התורה הגלית של האור?
- (6) **אנרגיה של אינפרה אדום לעומת על סגול**
א. האם לפוטון יחיד של קרן בתחום העל סגול יש תמיד יותר אנרגיה מפוטון יחיד של קרן בתחום האינפרה אדום?
ב. האם לקרן בתחום העל סגול יש תמיד יותר אנרגיה מקרן בתחום האינפרה אדום?
- (7) **האם נפלטים יותר אלקטרונים באורך גל נמוך**
מקרינים מתכת באמצעות אור באורך גל מסוים ומודדים את האנרגיה של האלקטרונים הנפלטים. מחליפים את הקרן האור לקרן אחרת, באותה העוצמה אך עם אורך גל גדול יותר. בהנחה שבשני המקרים נפלטים אלקטרונים מן המתכת:
א. האם מספר האלקטרונים הנפלט גדל / קטן או נשאר ללא שינוי?
ב. האם האנרגיה של האלקטרונים גדלה / קטנה או נשארת ללא שינוי?

- (8) **אורך גל של פוטון בפיזור**
 האם אורך הגל של פוטון בקרינת X המפוזר מאלקטרון גדל / קטן או לא משתנה?
- (9) **הבדל בין הפוטואלקטרי לקומפטון**
 באפקט קומפטון הפגיעה של הפוטון יכולה לגרום ליציאה של אלקטרון מהמתכת, במקרה כזה מה ההבדל בינו לאפקט הפוטואלקטרי?
- (10) **איך העוצמה יורדת עם המרחק לפי כל מודל**
 נניח כי ישנו מקור אור נקודתי, כיצד צריכה לרדת העוצמה של האור כתלות במרחק מהמקור לפי המודל הפוטוני וכיצד לפי המודל הגלי.
 האם ניתן להבחין בין המודלים בדרך זו?
- (11) **מהם ההבדלים בין פוטון לאלקטרון**
 ציינו את כל ההבדלים בין פוטון לאלקטרון.
- (12) **האם יש חמצן על כוכב**
 כיצד ניתן לדעת האם יש חמצן על פני השמש או על כוכבים בכלל?
- (13) **נכונות הנוסחה של אנרגיית הפוטון**
 השתמשו בשימור תנע והראו כי לפוטון הנפלט מאטום המימן יש קצת פחות אנרגיה מאשר החישוב שבנוסחה: $hf = E_U - E_L$.
- (14) **ספקטרום בליעה ופליטה בטמפרטורות שונות**
 נניח שניקח את ספקטרום הפליטה של גז מימן הנמצא בטמפרטורה מאוד גבוהה כך שחלק מהאטומים נמצאים במצב מעורר ונעביר אותו דרך גז מימן הנמצא בטמפרטורה החדר (האטומים לא מעוררים) כך שתתבצע בליעה.
 האם קווי הבליעה יהיו זהים לקווי הפליטה?
- (15) **אנרגיה מקסימלית להתנגשות אלסטית**
 מהי האנרגיה המקסימלית עבורה יתנגשו שני אטומי מימן הנמצאים במצב היסוד להתנגשות אלסטית?

(16) כמה פוטונים נכנסים לעין מנורה

נורה של 40W פולטת בערך 3% מהאנרגיה המושקעת בה כאור נראה באורך גל ממוצע של 550nm. האור נפלט בצורה אחידה לכל הכיוונים. העריכו כמה פוטונים פוגעים בעין של אדם הנמצא במרחק 10m מהנורה בכל שניה. קוטר האישון הוא 4.0mm.

(17) כמה פוטונים מגיעים מהשמש

עוצמת האור המגיע מן השמש היא: $I = 1350 \frac{W}{m^2}$. חשבו כמה פוטונים למטר מרובע לשנייה יש פוגעים בפני כדור הארץ מן השמש? קחו אורך גל ממוצע של 550nm.

(18) כוח של קרן לייזר

קרן לייזר באורך גל של: $\lambda = 633nm$ פוגעת בחיישן כוח. החיישן מודד כוח של: $F = 3.0nN$. כמה פוטונים פוגעים בחיישן כל שניה אם נניח שהפוטונים אינם מוחזרים?

(19) חלקיקי אלפא מתקרבים לגרעין

בחלק מהניסויים של רתפורד הוא השתמש בחלקיקי אלפא בעלי מטען $+2e$ עם אנרגיה של 3.6MeV. כמה קרוב יכלו החלקיקים להגיע למרכז גרעין של כסף המכיל מטען של $+47e$. התעלמו מהרתע של הגרעין.

(20) פוטנציאל עצירה בניסוי פוטואלקטרי

בניסוי פוטואלקטרי מקרינים מתכת באור באורך גל 440nm ומודדים כי פוטנציאל העצירה הוא 1.2V. מה יהיה פוטנציאל העצירה אם יחליפו את האור לאורך גל של 550nm.

(21) שינוי תדירות בפוטואלקטרי

בניסוי פוטואלקטרי פוטונים באנרגיה של 9.0eV פוגעים במתכת ומתח העצירה הנמדד הוא 5.0V.

א. מה תהיה האנרגיה המקסימאלית של האלקטרונים הנפלטים אם תדירות הפוטונים תקטן לחצי מהתדירות המקורית?

ב. חזרו על סעיף א אם התדירות תקטן לשליש מהתדירות המקורית.

(22) מודל בוהר לשמש וכדור הארץ

נסו ליישם את המודל של בוהר לכדור הארץ והשמש.

א. מהם הרדיוסים ורמות האנרגיה? יש להשתמש ב:

$$G = 6.67 \cdot 10^{-11} \frac{\text{m}^3}{\text{sec}^2 \text{kg}}, M_E = 5.97 \cdot 10^{24} \text{kg}, M_S = 2 \cdot 10^{30} \text{kg}$$

ב. חשבו את רמת האנרגיה שבה נמצא כדור הארץ אם המרחק מהשמש

$$\text{הוא: } r = 1.50 \cdot 10^{11} \text{m}$$

ג. * הראו כי ההבדל בין רמות האנרגיה זניח עבור מודל זה וניתן להתייחס לאנרגיה כרציפה.

(23) כוח על פנס

פנס קטן עובד בהספק של 5W כאשר כ-3% מנוצל לאור נראה. העריכו את הכוח המופעל על הפנס אם האור יוצא בכיוון אחד.

(24) זמן ואורך פלאנק

נסתכל על שלושה קבועים בסיסיים בטבע קבוע הגרביטציה:

$$h = 6.63 \cdot 10^{-34} \frac{\text{kg} \cdot \text{m}^2}{\text{sec}}, G = 6.67 \cdot 10^{-11} \frac{\text{m}^3}{\text{kg} \cdot \text{sec}^2}$$

$$\text{ומהירות האור: } c = 3 \cdot 10^8 \frac{\text{m}}{\text{sec}}$$

- א. מצאו קומבינציה מתמטית של הקבועים האלו שתהיה ביחידות של זמן. זמן זה נקרא זמן פלאנק t_p והוא נחשב לזמן המוקדם ביותר מרגע תחילת הייקום שבו ניתן להפעיל את חוקי הפיזיקה כפי שאנחנו מבינים כיום. חשבו את זמן זה.
- ב. מצאו קומבינציה מתמטית של הקבועים האלו שתהיה ביחידות של אורך. אורך זה נקרא אורך פלאנק λ_p והוא נחשב לאורך הקטן ביותר שבו ניתן להפעיל את חוקי הפיזיקה כפי שאנחנו מבינים כיום. חשבו את אורך זה.

תשובות סופיות:

- (1) כחול.
- (2) כי הקרינה הנפלטת היא לא בתחום הנראה.
- (3) לא, הוא יראה יותר צהוב אדום.
- (4) כי סרט שחור לבן לא מגיב לאור אדום, לא ניתן להשתמש באור אדום לפיתוח תמונה צבעונית.
- (5) לפי התורה הגלית האנרגיה של האור קשורה לעוצמת האור ולפי התורה הפוטונית לתדירות.
- (6) א. כן. ב. לא.
- (7) א. ללא שינוי. ב. קטנה.
- (8) גדל.
- (9) באפקט קומפטון הפוטון מפוזר באנרגיה יותר נמוכה לעומת הפוטואלקטרי שם תמיד כל הפוטון נבלע וכל האנרגיה שלו הולכת לאלקטרון.
- (10) לפי אחד חלקי המרחק בריבוע בשניהם ואי אפשר להבחין ביניהם.
- (11) משותף: תנע - לשניהם יש, דואליות גל חלקיק לשניהם (לשניהם יש אורך גל). שונה: פוטון נע רק במהירות האור, לפוטון אין מסת מנוחה, לפוטון אין מטען חשמלי.
- (12) לפי ספקטרום הפליטה.
- (13) ראה סרטון.
- (14) לא.
- (15) 10.2eV
- (16) 10^{10}
- (17) $3.7 \cdot 10^{21}$ פוטונים.
- (18) $2.9 \cdot 10^8$ פוטונים לשנייה.
- (19) $3.76 \cdot 10^{-14}$ m
- (20) 0.64V
- (21) א. 0.5eV. ב. לא תהיה פליטת אלקטרונים.
- (22) א. $r_n = 2.34 \cdot 10^{-138} \cdot n^2$, $E_n = -1.68 \cdot 10^{182} \cdot \frac{1}{n^2}$. ב. $n = 2.53 \cdot 10^{74}$.
- ג. ראה סרטון.
- (23) $5 \cdot 10^{-10}$ N
- (24) א. $t_p = \sqrt{\frac{Gh}{c^5}} = 1.35 \cdot 10^{-43}$ sec. ב. $\lambda_p = \sqrt{\frac{Gh}{c^3}} = 4.05 \cdot 10^{-35}$ m

מכניקה קוונטית של אטומים

פרק 2 - תורת הקוונטים

תוכן העניינים

1. הרצאות ותרגולים 25

הרצאות ותרגולים:

פונקציית הגל של החומר:

סיכום כללי:

- $|\psi(x)|$ היא פונקציית הגל של החומר.
- $|\psi(x)|^2$ היא צפיפות ההסתברות למצא חלקיק בנקודה מסוימת.
- ההסתברות שחלקיק נמצא בין x_1 ל- x_2 היא: $\int_{x_1}^{x_2} |\psi(x)|^2 dx$.
- נרמול: $\int_{-\infty}^{\infty} |\psi(x)|^2 dx = 1$.
- כאשר מתבצעת מדידה של החלקיק פונקציית הגל קורסת.
- מיקום ממוצע: $\langle x \rangle = \int_{-\infty}^{\infty} x |\psi(x)|^2 dx$.
- המיקום בעל ההסתברות הגבוה ביותר הוא נקודת המקסימום של פונקציית ההסתברות $|\psi(x)|^2$ (ניתן למצא אותו על ידי נגזרת).
- שונות: $\sigma^2 = \langle x^2 \rangle - \langle x \rangle^2$ כאשר $\langle x^2 \rangle = \int_{-\infty}^{\infty} x^2 |\psi(x)|^2 dx$.

שאלות:

- (1) דוגמה – חישוב ההסתברות לדעיכה אקספוננציאלית
 פונקציית הגל של חלקיק היא $4e^{-8x}$ עבור $x > 0$ ואפס עבור $x < 0$.
 מה הסיכוי למצא את החלקיק ב- $x > 0.03$.

(2) דוגמה – מצאו את המקדם

$$\psi(x) = \begin{cases} 0 & x < 0 \\ A \sin(20\pi x) & 0 \leq x \leq 0.05 \\ 0 & x > 0.05 \end{cases}$$

נתונה פונקציית הגל הבאה של חלקיק: $0 \leq x \leq 0.05$

מצאו את הקבוע A .

3) דוגמה – מצאו משתנים

נתונה פונקציית גל מנורמלת לחלקיק בעל מסה M : $\psi(x) = Ae^{-\alpha(x-x_0)^2}$. מצאו את:

- א. A .
- ב. $\langle x \rangle$.
- ג. המיקום המסתבר ביותר.
- ד. $\langle x^2 \rangle$.
- ה. Δx .

לעזרתכם: $\int_0^\infty x^2 e^{-bx^2} dx = \sqrt{\frac{\pi}{16b^3}}$; $\int_0^\infty e^{-bx^2} dx = \sqrt{\frac{\pi}{4b}}$

עקרון אי הוודאות של הייזנברג:

סיכום כללי:

הערות		
1. אי אפשר למדוד במדויק את המיקום והתנע באותו ציר בו זמנית. 2. אותה נוסחה לכל ציר בנפרד. 3. אין בעיה למדוד במדויק את התנע ב- X והמיקום ב- Y בו זמנית.	$\Delta x \Delta p_x \geq \frac{\hbar}{2}$ $\hbar = \frac{h}{2\pi} = 1.055 \cdot 10^{-34} J \cdot S$	אי ודאות מיקום תנע
1. ככל שמוודדים את הזמן בדיוק גבוה יותר כך הדיוק במדידת האנרגיה קטן. 2. האנרגיה נשמרת עד כדי אי הוודאות, הגופים יכולים להיות באנרגיות האסורות קלאסית.	$\Delta E \Delta t \geq \frac{\hbar}{2}$	אי ודאות זמן אנרגיה
	$\Delta L_z \Delta \theta \geq \frac{\hbar}{2}$	אי ודאות במדידת הזווית והתנע הזוויתי

שאלות:

4) דוגמה – מדידת מיקום

אלקטרון נע במהירות: $2.10 \cdot 10^6 \frac{m}{sec}$ שנמדדה בדיוק של 0.12%. מה הדיוק המקסימאלי שניתן להשיג במדידה סימולטנית של המיקום?

5) דוגמה – אי וודאות של טניס

מה היא אי הוודאות במדידת המיקום של כדור טניס בעל מסה של 150 גרם הנזרק במהירות: $35 \pm 2 \frac{m}{sec}$?

- (6) **אי ודאות במיקום נויטרון שנע**
 נויטרון נע במהירות: $(6.650 \pm 0.023) \cdot 10^5 \frac{\text{m}}{\text{sec}}$.
 באיזו רמת דיוק ניתן לדעת את המיקום שלו? $m_p = 1.67 \cdot 10^{-27} \text{kg}$.
- (7) **אנרגיה במצב מעורר**
 אלקטרון נשאר במצב מעורר באטום בערך 10^{-8}sec .
 מה אי הודאות באנרגיה של המצב באלקטרון וולט?
- (8) **אי ודאות יחסית בפליטת פוטון**
 זמן החיים של אטום במצב מעורר הוא בערך 10^{-9}sec . האטום יורד מהמצב המעורר ופולט פוטון באורך גל של 400nm , מצאו את אי הודאות היחסית באנרגיית הפוטון $\frac{\Delta E}{E}$ ובאורך הגל $\frac{\Delta \lambda}{\lambda}$.
- (9) **אי ודאות בשל קליע באקדח**
 קליע בעל מסה של 5gr נורה מאקדח במהירות אופקית של $180 \frac{\text{m}}{\text{sec}}$.
 א. מהו אורך הגל של הקליע?
 ב. מהי אי הודאות המינימלית במדידת המיקום של הקליע?
 ג. מהי אי הודאות המינימלית בתנע בכיוון האנכי של הקליע אם רדיוס הקנה הוא 0.60cm ?
- (10) **אי ודאות במסת נויטרון**
 לנויטרון חופשי: $m = 1.67 \cdot 10^{-27} \text{kg}$ יש זמן חיים של 886sec .
 מה אי הודאות במדידת המסה של הנויטרון (בק"ג)?
- (11) **אלקטרון יורד מצב באטום המימן**
 אלקטרון נמצא במצב המעורר הראשון ($=2n$) של אטום המימן בממוצע 10^{-8}sec לפני שהוא יורד למצב הייסוד ($=1n$).
 א. העריכו את אי הודאות באנרגיית האלקטרון במצב $=2n$.
 ב. מהי אי הודאות היחסית באנרגיית הפוטון הנפלט?
 ג. מהו אורך הגל ורוחב הפס של קו הספקטרום הנצפה מתהליך זה?

משוואת שרדינגר:

סיכום כללי:

משוואת שרדינגר עם תלות בזמן במימד אחד:

$$i\hbar \frac{\partial \Psi(x, t)}{\partial t} = -\frac{\hbar^2}{2m} \frac{\partial^2 \Psi(x, t)}{\partial x^2} + U(x, t)\Psi(x, t)$$

תנאים נוספים:

1. פסי מנורמלת.
2. פסי יכולה להיות פונקציה מורכבת.
3. פסי רציפה.
4. הגזרת של פסי רציפה למעט נקודות בהן הפוטנציאל מתבדר.

בתלת מימד:

$$i\hbar \frac{\partial \Psi(x, y, z, t)}{\partial t} = -\frac{\hbar^2}{2m} \vec{\nabla}^2 \Psi(x, y, z, t) + U(x, t)\Psi(x, y, z, t)$$

משוואת שרדינגר ללא תלות בזמן במימד אחד:

$$-\frac{\hbar^2}{2m} \frac{d^2 \psi}{dx^2} + U(x)\psi = E\psi$$

כאשר: $\Psi(x, t) = \psi(x)e^{-\frac{iEt}{\hbar}}$

- התרגילים של נושא זה מופעים בנושאים הבאים.

חלקיק חופשי ובור פוטנציאל:

סיכום כללי:

חלקיק חופשי – חלקיק שנע ללא השפעת כוחות: $U(x) = 0$.

פונקציית הגל של חלקיק חופשי: $\psi(x) = A \sin(kx)$.

חבילת גלים: $\psi(x) = \sum_n A_n \sin(k_n x) + B_n \cos(k_n x)$.

בור פוטנציאל אינסופי:

פונקציית הגל של המצב ה- n : $\psi_n(x) = \sqrt{\frac{2}{l}} \sin\left(\frac{\pi n}{l} x\right)$

האנרגיה של המצב ה- n : $E_n = \frac{h^2}{8ml^2} n^2, n = 1, 2, 3, \dots$

- לפי תורת הקוונטים קיימת אפשרות שהחלקיק יהיה במקום שבו האנרגיה הכוללת קטנה מהאנרגיה הפוטנציאלית, מצב שאינו אפשרי לפי המכניקה הקלאסית. באזור האסור פונקציית הגל דועכת אקספוננציאלית.

עקרונות לציור פונקציית גל:

- ציירו את פונקציית הפוטנציאל ואת אנרגיית החלקיק.
- עבור המצב ה- n ציירו גל עם $n-1$ נקודות צומת (לא כולל הקצוות).
- ככל שהאנרגיה הקינטית גדולה יותר כך האמפליטודה ואורך הגל קטנים יותר (ולהיפך).
- פונקציית הגל הולכת לאפס במיקום בו הפוטנציאל הולך לאינסוף.
- פונקציית הגל דועכת אקספוננציאלית במקומות האסורים קלאסית. ככל שהפרש בין האנרגיה הפוטנציאלית לאנרגיה הכללית גדול יותר כך הדעיכה מהירה יותר.

מיקום ממוצע: $\langle x \rangle = \int_{-\infty}^{\infty} x |\psi(x)|^2 dx$.

המיקום בעל ההסתברות הגבוהה ביותר הוא נקודת המקסימום של פונקציית ההסתברות $|\psi(x)|^2$ (ניתן למצוא אותו על ידי נגזרת).

שאלות:

12) דוגמה – אלקטרון חופשי עם אנרגיה ידועה

- אלקטרון עם אנרגיה $E = 3.7\text{eV}$ נע באופן חופשי במרחב.
 א. מהו אורך הגל של האלקטרון?
 ב. רשמו את פונקציית הגל של האלקטרון.
 אין צורך לנרמל את הפונקציה והניחו כי הפאזה היא אפס.

13) דוגמה – אלקטרון באמצע הקופסה

- אלקטרון נמצא במצב היסוד בתוך קופסה קשיחה באורך l .
 מצאו את ההסתברות שהאלקטרון נמצא במרחק $\frac{l}{8}$ ממרכז הקופסה (מימין או משמאל למרכז).

14) דוגמה – מיקום ממוצע ומסתבר במצב המעורער הראשון

- מצאו את המיקום הממוצע והמיקום המסתבר ביותר עבור חלקיק הנמצא במצב המעורער הראשון בתוך קופסה קשיחה באורך: $2.00 \cdot 10^{-10}\text{m}$.

15) דוגמה – חיידק בקופסה

- חיידק קטן בעל מסה של 10^{-13}kg מוגבל לזוז בין שני קירות קשיחים במרחק 0.1mm אחד מן השני.
 א. האריכו את המהירות המינימאלית של החיידק.
 ב. אם מהירות החיידק היא בערך $10^{-6}\frac{\text{m}}{\text{sec}}$, מהו המספר הקוונטי של המצב בו נמצא החיידק?

16) דוגמה – חלקיק בבור סופי

- חלקיק בעל מסה M נמצא בבור פוטנציאל הנתון לפי הפונקציה הבאה:

$$U(x) = \begin{cases} \infty & x < 0 \\ 0 & 0 \leq x \leq L \\ U_0 & L < x \end{cases}$$

אנרגיית החלקיק E נתונה וקטנה מ- U_0 .

- א. מצאו את פונקציית הגל בכל המרחב ללא מציאת המקדמים הקבועים של הפונקציה בכל תחום.
 ב. השתמשו בתנאי השפה (פונקציית הגל רציפה והנגזרת רציפה) בשביל למצא משוואה ממנה ניתן לחשב את הערכים האפשריים של האנרגיה. הראו כי מתקיים הקשר:

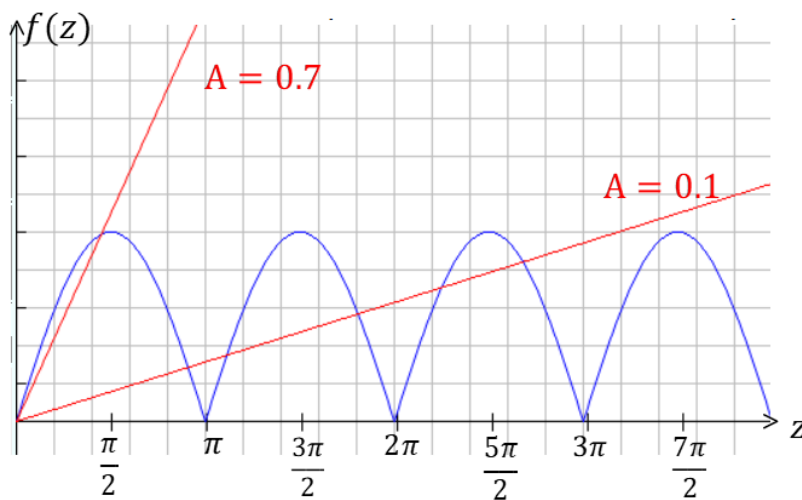
$$\alpha = \sqrt{\frac{2m(U_0 - E)}{\hbar^2}} \quad \text{ו-} \quad k = \sqrt{\frac{2mE}{\hbar^2}} \quad \text{כאשר} \quad \tan(kL) = -\frac{k}{\alpha}$$

ג. מצאו מהו תחום הערכים האפשריים של kL והראו כי :

$$|\sin(kL)| = \frac{\hbar k}{\sqrt{2mU_0}}$$

ד. כתבו את המשוואה של סעיף ג' באמצעות המשתנים : $z = kL$

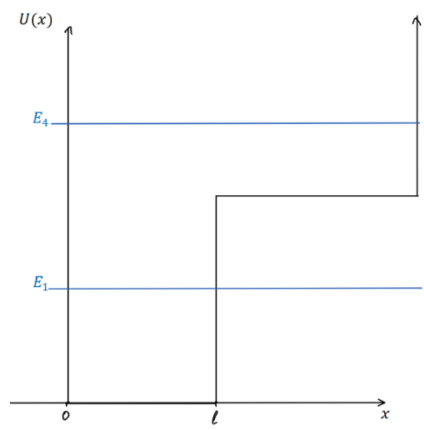
ו- $A = \frac{\hbar}{L\sqrt{2mU_0}}$ כעת ניתן לפתור את הבעיה באמצעות פתרון גרפי. הפתרונות הן נקודות החיתוך של הפונקציות משני צידי המשוואה. סמנו את נקודות הפתרון בגרף הבא עבור : $A = 0.1$ ו- $A = 0.7$. הקפידו על תחום ההגדרה של סעיף ג'.



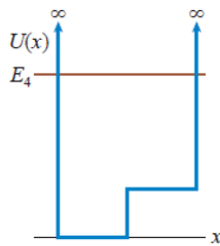
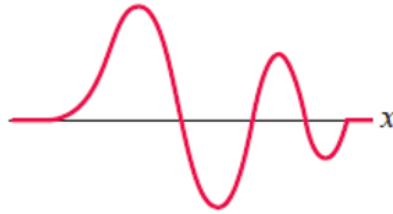
ה. מהו התנאי על A עבורו אין פתרון למשוואה? מה המשמעות הפיזיקאלית של מצב זה?

17) דוגמה – בור אינסופי עם מדרגה

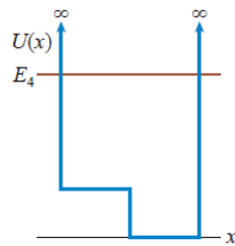
באיור נתונה פונקציית פוטנציאל של בור פוטנציאל אינסופי עם מדרגת פוטנציאל. ציירו את פונקציית הגל עבור האנרגיות E_1 ו- E_4 באיור.



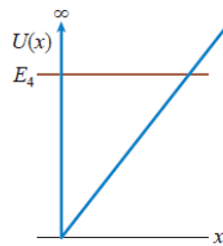
18) דוגמה – התאימו פוטנציאל לפונקציית הגל
 איזה מהגרפים הבאים מתאר את הפוטנציאל של פונקציית הגל הבאה :



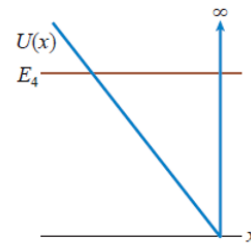
(1)



(2)



(3)



(4)

מנהור (tunneling):

סיכום כללי:

ההסתברות שהחלקיק יעבור את המחסום. $-l$ אורך המחסום $T \ll 1$ רק עבור	$T \approx 16 \frac{E}{U_0} \left(1 - \frac{E}{U_0}\right) e^{-2\alpha l}$ $\alpha = \frac{\sqrt{2m(U_0 - E)}}{\hbar}$	מקדם ההעברה
	$R = 1 - T$	מקדם החזרה

שאלות:

19) דוגמה – אלקטרון חודר מחסום

אלקטרון חופשי בעל אנרגיה של 40eV נע במרחב ונתקל במחסום פוטנציאל בעל אנרגיה של 60eV . מה ההסתברות שהאלקטרון יעבור את המחסום אם עובי המחסום הוא:

א. 1.0nm
 ב. 0.1nm

20) נתונים של אלקטרון חופשי

פונקציית הגל של אלקטרון חופשי היא: $\psi(x) = A \sin(\pi \cdot 10^{10} x)$ כאשר x במטרים. מצאו את:

א. אורך הגל והתנע של האלקטרון.
 ב. מהירות האלקטרון.
 ג. אנרגיית האלקטרון.

21) מהירות מינימלית בבור אינסופי

מהי המהירות המינימלית של אלקטרון הנמצא בבור פוטנציאל אינסופי ברוחב 0.30nm ?

22) אי ודאות במצב היסוד*

חלקיק נמצא במצב היסוד בתוך בור פוטנציאל אינסופי. הראו כי יחס אי הודאות מתקיים עבור מצב זה. עבור Δx ניתן לקחת את רוחב הבור (או יותר מדויק רוחב הבור חלקי 4π). התנע של החלקיק אמנם ידוע מתוך

האנרגיה אבל הכיוון שלו אינו ידוע, התנע יכול להיות חיובי או שלילי ולכן אי הודאות בתנע היא $2p$.

(23) הסתברות למצא אלקטרון בבור

אלקטרון נמצא בקופסה סגורה וקשיחה ברוחב 1.00nm . מה ההסתברות למצא את האלקטרון במרחק 0.10nm ממרכז הקופסה, מכל צד, עבור המצב:

א. $n = 1$

ב. $n = 4$

ג. $n = 20$

ד. השוו למקרה הקלאסי.

(24) בור אינסופי מוזז

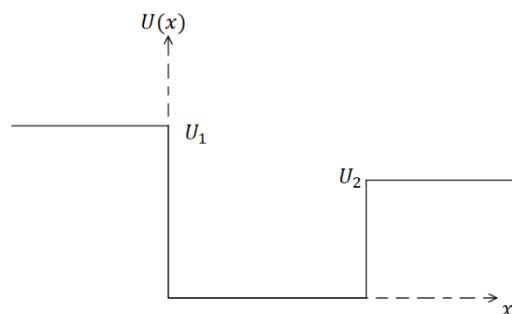
מצאו את פונקציות הגל עבור בור פוטנציאל אינסופי ברוחב l הנמצא מ- $x = -\frac{l}{2}$ ועד $x = \frac{l}{2}$ (במקום מ-0 עד l). האם רמות האנרגיה משתנות?

(25) בור סופי עם קירות שונים

חלקיק נמצא תחת הפוטנציאל הנתון באיור. שרטטו את פונקציית הגל עבור שלושת המצבים הבאים: א. החלקיק במצב המעורר הראשון ו- $E < U_2$.

ב. $U_2 < E < U_1$

ג. $U_1 < E$



(26) זרם פרוטונים עובר מחסום

זרם של 1.2mA המכיל פרוטונים באנרגיה 1.8MeV נתקל במחסום פוטנציאל בגובה 2.0MeV וברוחב $5.0 \cdot 10^{-14}\text{m}$. מהו הזרם המועבר?

אוסילטור הרמוני:

סיכום כללי:

פונקציות הגל:

$$\psi_1(x) = A_1 e^{-\frac{x^2}{2b^2}}$$

$$\psi_2(x) = A_2 \frac{x}{b} e^{-\frac{x^2}{2b^2}}$$

$$\psi_3(x) = A_3 \left(1 - \frac{2x^2}{b^2}\right) e^{-\frac{x^2}{2b^2}}$$

$$b = \sqrt{\frac{\hbar}{m\omega}}$$

רמות האנרגיה:

$$E_n = \left(n - \frac{1}{2}\right) \hbar\omega$$

$$n = 1, 2, 3, \dots$$

שאלות:

27 דוגמה – אלקטרון בתנודה הרמונית פולט פוטון

אלקטרון הנמצא באוסילטור הרמוני קוונטי פולט פוטון באורך גל של 400nm כאשר הוא יורד רמת אנרגיה אחת.

א. האם ניתן לדעת באיזה רמת אנרגיה היה האלקטרון?

ב. מהו "קבוע הקפיץ"?

28 דוגמה – איזה פונקציית הסתברות מתאימה

איזו פונקציית הסתברות מתאימה לחלקיק הנמצא תחת פוטנציאל של

$$?E = \frac{7}{2} \hbar\omega \text{ עם אנרגיה}$$



תרגילים נוספים:

שאלות:

(29) פונקציית חומר מול פונקציות גל אחרות
 השוו בין פונקציית הגל של החומר ψ לבין:
 א. פונקציית הגל של מיתר.
 ב. פונקציית גל של גל אלקטרומגנטי.

(30) מודל בוהר וקוונטים
 מה ההבדל בין המודל האטומי של בוהר למכניקת הקוונטים?
 רמז: עיקרון אי הוודאות.

(31) האם אפשר לאזן מחט
 האם אפשר לאזן מחט כך שהיא תעמוד על החוד שלה באופן מוחלט?

(32) ניוטון וקוונטים
 באיזה אופן התורה של ניוטון שונה מתורת הקוונטים?

(33) מיקום מדויק
 האם עקרון אי הוודאות מגביל את הדיוק שבו ניתן למדוד את המיקום של גוף?

(34) למי יש יותר סיכוי לעבור מחסום
 אטום מימן ואטום הליום בעלי אנרגיה זהה מתקרבים למחסום פוטנציאל ברוחב סופי עם אנרגיה פוטנציאלית גבוהה מהאנרגיה שלהם.
 למי סיכוי גדול יותר לעבור את המחסום?

(35) חיים של בוזון Z^0
 בוזונים הם שם לקבוצת חלקיקים נשאי כוח (עם ספין שלם). הבוזון Z^0 קשור ל"כוח החלש" (כוח שפועל בתוך הגרעין) ודועך מאוד מהר. האנרגיה הממוצעת שלו היא 91.9 GeV והרוחב במדידת האנרגיה הוא 2.5 GeV.
 מהו זמן החיים המוערך של הבוזון Z^0 ?

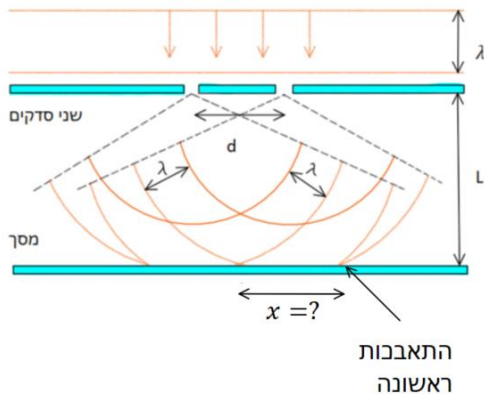
(36) כדור מקפץ

כדור קטן במסה 10^{-6} kg משוחרר ממנוחה בגובה 2 m מעל הרצפה. הכדור פוגע ברצפה וקופץ חזרה. לאחר כל פגיעה ברצפה הכדור מגיע חזרה ל-60% מהגובה הקודם בגלל איבוד אנרגיה בהתנגשות עם הרצפה. כמה פעמים צריך הכדור לפגוע ברצפה עד שאי הודאות במהירות שלו תהיה משמעותית (כלומר בסדר גודל של המהירות עצמה). הניחו שאי הודאות במדידת המיקום היא בסדר גודל של הגובה הנמדד.

(37) פונקציית גל נתונה

נתונה פונקציית הגל הבאה: $\psi(x) = b^{-\frac{1}{2}} \left| \frac{x}{b} \right|^{\frac{1}{2}} e^{-(x/b)^2/2}$, כאשר $nmb = 0.5$.

- בדקו כי פונקציית הגל מנורמלת.
- מהו המיקום המסתבר ביותר בו נמצא החלקיק בתחום $x > 0$?
- מה ההסתברות למצא את החלקיק בין $x = 0$ ל- 0.50 nm ?

**(38) נויטרונים בניסוי שני סדקים**

עורכים את ניסוי שני הסדקים עם נויטרונים בעלי אנרגיה של 0.0040 eV . המרחק בין הסדקים הוא $d = 0.70 \text{ mm}$ והמרחק למסך הוא $L = 1.0 \text{ m}$. מהו המרחק מהמרכז בו תופיע ההתאבכות הראשונה? $m_p = 1.67 \cdot 10^{-27} \text{ kg}$.

תשובות סופיות:

(1) .38%

(2) $A = 2\sqrt{10}$

(3) $A = \left(\frac{2\alpha}{\pi}\right)^{\frac{1}{4}}$ א. x_0 ב. x_0 ג. x_0

ד. $\left(\frac{\pi}{8192\alpha^3}\right)^{\frac{1}{4}} + x_0^2$ ה. $\left(\frac{\pi}{8192\alpha^3}\right)^{\frac{1}{8}}$

(4) $\Delta X \min = 2.3 \cdot 10^{-6} \text{ m}$

(5) $1.8 \cdot 10^{-34} \text{ m}$

(6) $1.37 \cdot 10^{-11} \text{ m}$

(7) $3 \cdot 10^{-8} \text{ eV}$

(8) $\frac{\Delta E}{E} = 4 \cdot 10^{-5} \%$, $\left|\frac{\Delta x}{\lambda}\right| = 4 \cdot 10^{-5} \%$

(9) א. $7.4 \cdot 10^{-34} \text{ m}$ ב. 10^{-32} m ג. $10^{-32} \text{ kg} \cdot \frac{\text{m}}{\text{sec}}$

(10) 10^{-51} kg

(11) א. $3 \cdot 10^{-8} \text{ eV}$ ב. $3 \cdot 10^{-9}$ ג. $\lambda = 122 \text{ nm}$, $|\Delta \lambda| \approx 4 \cdot 10^{-7} \text{ nm}$

(12) א. $6.38 \cdot 10^{-10} \text{ m}$ ב. $\psi(x) = A \sin(9.84 \cdot 10^{-9} \text{ m}^{-1} \cdot x)$

(13) .47.5%

(14) ממוצע: $\langle x \rangle = \frac{l}{2}$, מסתבר: $\frac{l}{4}$, $\frac{3l}{4}$

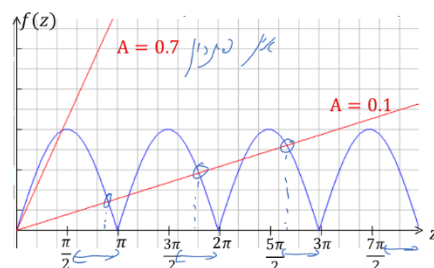
(15) א. $3 \cdot 10^{-17} \frac{\text{m}}{\text{sec}}$ ב. $3 \cdot 10^{-17}$

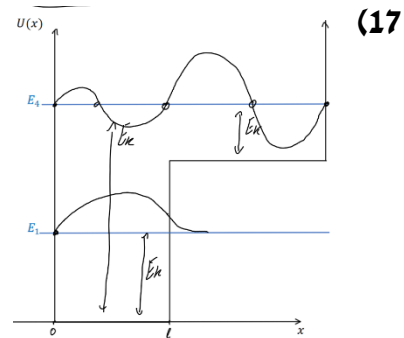
(16) א. $\alpha = \frac{\sqrt{2m(U_0 - E)}}{\hbar}$ - $k = \frac{\sqrt{2mE}}{\hbar}$ כאשר $\psi(x) = \begin{cases} Ae^{ikx} + Be^{-ikx} & x < 0 \\ Ce^{-\alpha x} & 0 < x < L \end{cases}$

ג. $\frac{\pi}{2} + \pi n < KL < \pi + \pi n$ $n = 0, 1, 2, \dots$ ב. הוכחה.

ד. $|\sin(z)| = Az$

ה.

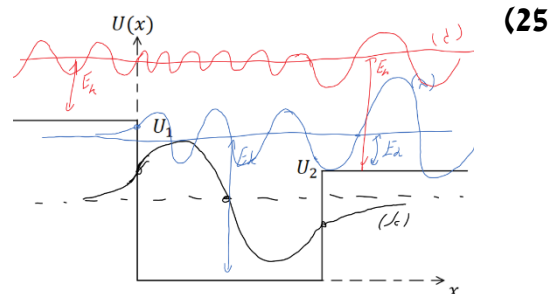




(18) 4.

(19) א. $4.86 \cdot 10^{-18}\%$ ב. 3.67% (20) א. $\lambda = 2 \cdot 10^{-10} \text{ m}$, $p = 3.3 \cdot 10^{-24} \text{ kg} \cdot \frac{\text{m}}{\text{sec}}$ ג. $3.64 \cdot 10^6 \frac{\text{m}}{\text{sec}}$ ד. 38 eV (21) $1.2 \cdot 10^6 \frac{\text{m}}{\text{sec}}$

(22) הוכחה.

(23) א. 0.387 ב. 0.153 ג. 0.2 ד. 0.2 (24) לא משתנות, $\sqrt{\frac{2}{l}} \sin\left(\frac{\pi n x}{l} + \frac{\pi n}{2}\right)$ (26) 96 nA (27) א. לא ב. $0.02 \frac{\text{N}}{\text{m}}$

(28) 4.

(29) א. חומר: פונקציה סקלרית, מתארת הסתברות וללא תווד.

מיתר: פונקציה סקלרית, מתארת תנודה, דרוש תווד.

ב. א"מ: פונקציה וקטורית, מתארת הסתברות ואת האמפליטודה של השדה החשמלי והמגנטי, ללא תווד.

(30) ראו סרטון.

(31) לא.

(32) בתורה של ניוטון ניתן לחשב את המיקום והתנע באופן מדויק בזמנית, כתוצאה מכך ניתן תיאורטית לצפות בדיוק את ההתנהגות של מערכת בעתיד. לפי תורת הקוונטים יש אי ודואות במדידות ולכן ניתן לצפות רק הסתברויות להתנהגות המערכת בעתיד.

(33) לא.

(34) מימין.

(35) $1.3 \cdot 10^{-25}$ sec

(36) .70

(37) א. הוכחה.

(38) $6.5 \cdot 10^{-7}$ m

ג. 63%.

ב. 0.35nm.

מכניקה קוונטית של אטומים

פרק 3 - תורת הקוונטים חלק 2

תוכן העניינים

1. הרצאות ותרגילים (ללא ספר)

מכניקה קוונטית של אטומים

פרק 4 - המודל הקוונטי לאטום המימן ספין והטבלה המחזורית

תוכן העניינים

1. הרצאות ותרגולים (ללא ספר)