

מתמטיקה לביולוגים חד חוגי מורחב



תוכן העניינים

1	מבוא מתמטי לקורס
(ללא ספר)	2. הפונקציה הממשית - תכונות בסיסיות ופונקציות נפוצות
32	3. הפונקציה הממשית - תכונות מתקדמות
51	4. גבול של פונקציה
64	5. רציפות של פונקציה - משפט ערך הביניים
77	6. הגדרת הנגזרת - גזירות של פונקציה - נגזרות חד-צדדיות
89	7. חישוב נגזרת של פונקציה
99	8. חישוב נגזרת של פונקציות מיוחדות
103	9. משיק, נורמל, נוסחת הקירוב הליניארי
114	10. כלל לופיטל
121	11. חקירת פונקציה
144	12. חקירת פונקציה ("שאלות מסביב")
148	13. משוואות - מציאת מספר הפתרונות, פתרון כללי ופתרון מקורב
154	14. משפטי הערך הממוצע של רול, לגראנז', קושי ודרבו
170	15. אינטגרלים מיידיים
173	16. אינטגרלים בשיטת "הנגזרת כבר בפנים"
175	17. האינטגרל המסוים, סכומי רימן
180	18. המשפט היסודי של החדו"א (גזירת האינטגרל)
182	19. פתרון וחקירת מערכת משוואות ליניאריות
192	20. מטריצות
208	21. דטרמיננטות
217	22. מרחבים וקטורים
223	23. ערכים עצמיים-וקטורים עצמיים-לכסון מטריצות - דימיון

תוכן העניינים

24. אי שוויונים אלגבריים 226

מתמטיקה לביולוגים חד חוגי מורחב

פרק 1 - מבוא מתמטי לקורס

תוכן העניינים

1	1. מבוא לתורת הקבוצות
7	2. המספרים האי-רציונליים
8	3. קבוצות חסומות וקבוצות לא חסומות
15	4. קבוצה צפופה
17	5. הערך השלם
19	6. סימן הסכימה
22	7. אינדוקציה
24	8. אי שוויונים מפורסמים
25	9. פתרון אי שוויונים
27	10. עצרת, המקדם הבינומי, הבינום של ניוטון
30	11. שדות

מבוא לתורת הקבוצות

שאלות

1) רשום את הטענות הבאות במילים ובדוק האם הן נכונות:

א. $\forall x \forall y : (x + y)^2 > 0$

ב. $\forall x \exists y : (x + y)^2 > 0$

ג. $\forall x \forall y \exists z : xz = \frac{y}{4}$

ד. $\forall x > 0, \forall y > 0, \sqrt{xy} \leq \frac{x+y}{2}$

ה. $\forall n \exists k, n^3 - n = 6k$ (k ו- n טבעיים).

2) רשום כל אחת מהטענות הבאות בסימנים לוגיים:

א. פתרון אי-השוויון $x^2 > 4$, הוא $x > 2$ או $x < -2$.

ב. אי השוויון $x^2 + 4 > 0$, מתקיים לכל x .

ג. לכל מספר טבעי n , המספר $n^3 - n$ מתחלק ב-6.

ד. עבור כל מספר x , $|x| < 1$ אם ורק אם $-1 < x < 1$.

3) רשמו במפורש את הקבוצות הבאות על ידי צומדיים או באמצעות קטעים,

ואת מספר איברי הקבוצה:

א. $A = \{x \in \mathbb{R} \mid x^2 < 16\}$

ב. $B = \{x \in \mathbb{Z} \mid x^2 < 16\}$

ג. $C = \{x \in \mathbb{N} \mid x^2 < 16\}$

ד. $D = \{x \in \mathbb{Z} \mid (x+4)(x-1) < 0\}$

ה. $E = \{x \in \mathbb{N} \mid x^3 + x^2 - 2x = 0\}$

ו. $F = \{x \in \mathbb{Z} \mid |x| \leq 4\}$

4) הגדר את הקבוצות הבאות על ידי פירוט כל איבריהן או על ידי רישומן בצורה:

$A = \{x \mid x \text{ מקיים תכונה מסוימת}\}$

א. קבוצת המספרים השלמים החיוביים האי-זוגיים.

ב. קבוצת המספרים הראשוניים בין 10 ל-20.

ג. קבוצת הנקודות במישור הנמצאות על מעגל שמרכזו בראשית ורדיוסו 4.

ד. קבוצת ריבועי המספרים 1, 2, 3, 4.

(5) ציין אילו מן הקבוצות הבאות שוות זו לזו:

א. $A = \{11, 13, 17, 19\}$

ב. $B = \{x \mid 10 < x < 20, x \text{ מספר ראשוני}\}$

ג. $C = \{11, 11, 17, 13, 19\}$

ד. $D = \{x \mid x = 4k, k \in \mathbb{Z}\}$

ה. $E = \{x \mid x = 2m, m \text{ שלם זוגי}\}$

(6) נתונה הקבוצה הבאה $A = \{1, 2, \{2\}, \{2, 5\}, 4, \{2, 4\}\}$.

מי מבין הטענות הבאות נכונה:

א. $5 \in A$ ב. $2 \in A$ ג. $\{2\} \in A$

ד. $\{2\} \subseteq A$ ה. $\{\{2\}\} \subseteq A$ ו. $\emptyset \in A$

ז. $\emptyset \subseteq A$ ח. $\{2, \{2\}\} \subseteq A$ ט. $\{2, 4\} \subseteq A$

י. $\{2, 4\} \in A$ יא. $\{\{2, 4\}\} \in A$ יב. $\{2, 5\} \subseteq A$

יג. $\{2, 5\} \in A$ יד. $\{1, 4\} \in A$

(7) מצא שתי קבוצות, A ו- B , המקיימות:

א. $A \in B$

ב. $A \subseteq B$

(8) נתונות הקבוצות הבאות:

$A = \{3, 4, 5, 6, 7, 8, 9\}$, $B = \{4, 6, 8, 10\}$, $C = \{3, 5, 7, 9\}$, $D = \{6, 7, 8\}$, $E = \{7, 8\}$

קבע איזה מבין הקבוצות לעיל יכולה להיות הקבוצה X :

א. $X \subseteq A$ וגם $X \not\subseteq D$.

ב. $X \subseteq D$ וגם $X \not\subseteq C$.

ג. $X \subseteq E$ וגם $X \not\subseteq A$.

(9) הוכח: $A \subseteq B \wedge B \subseteq C \Rightarrow A \subseteq C$.

(10) נתונות הקבוצות הבאות :

$$A = \{3, 4, 5, 6, 7, 8, 9\}, B = \{4, 6, 8, 10\}, C = \{3, 5, 7, 9\}, D = \{6, 7, 8\}$$

רשום את :

א. $A \cup B$

ב. $A \cap B$

ג. $(A \cup B) \cap C$

ד. $(B \cup C) \cap (B \cup D)$

ה. $(B \cap C) \cup (B \cap D)$

(11) נתונות הקבוצות הבאות :

$$A = [1, 4), B = (-2, 1), C = \{x \in \mathbb{R} \mid 0 \leq x \leq 4\}, D = \{x \in \mathbb{R} \mid 2^x = 0\}$$

רשום את :

א. $A \cup B$

ב. $A \cap B$

ג. $(A \cup B) \cap C$

ד. $(B \cup C) \cap (B \cup D)$

ה. $(B \cap C) \cup (B \cap D)$

(12) נתונות 3 קבוצות :

$$A = \{4, 5, 6, 7, 8\}, B = \{5, 6, 7, 8, 9\}, C = \{4, 5, 6, 10\}$$

א. חשב את $(A - B) - C$.

ב. חשב את $A - (B - C)$.

(13) נתון : $U = \{11, 12, 13, 14, 15, 16, 17, 18\}$, $A = \{12, 15, 18\}$, $B = \{13, 15, 17\}$

הדגם את כלל דה מורגן $(A \cup B)^c = A^c \cap B^c$.

(14) הוכח את כלל דה מורגן הראשון $(A \cup B)^c = A^c \cap B^c$.

(15) מצא את הקבוצה המשלימה, ביחס ל- \mathbb{R} , של הקבוצות הבאות :

א. $A = [1, \infty)$

ב. $B = (-\infty, 1) \cup (4, \infty)$

ג. $C = \{x \in \mathbb{R} \mid x^2 - 5x + 4 > 0\}$

ד. $D = \{x \in \mathbb{R} \mid |x - 1| < 2 \vee x > 4\}$

(16) הצג באמצעות דיאגרמת ון את הקבוצות הבאות:

- | | |
|----------------------------------|----------------------------------|
| א. $A \cap B$ | ב. $A \cup B$ |
| ג. A^c | ד. $A \cap B^c$ |
| ה. $A^c \cap B$ | ו. $A \cup B^c$ |
| ז. $A^c \cup B$ | ח. $A^c \cup B^c = (A \cap B)^c$ |
| ט. $A^c \cap B^c = (A \cup B)^c$ | |

(17) ענה על הסעיפים הבאים:

- א. הוכח כי $A \setminus B = A \cap B^c$.
הראה זאת גם בעזרת דיאגרמת ון.
- ב. נסמן: $X = C \setminus (A \cap B)$, $Y = (C \setminus A) \cup (C \setminus B)$.
הוכח כי $X = Y$.
- ג. נסמן: $X = A \setminus (B \cup C)$, $Y = (A \setminus B) \cap (A \setminus C)$.
הוכח כי $X = Y$.

(18) תהיינה X, Y, Z קבוצות כלשהן.

- טענה א': $X \cap Y \cap Z = (X \setminus Y) \cup (Y \setminus Z) \cup (Z \setminus X)$.
- טענה ב': $((X \cap Y) \cup Z)^c = (X^c \cup Y^c) \cap Z^c$.
- טענה ג': $X \setminus (Y \setminus Z) = (X \setminus Y) \setminus Z$.
- איזו טענה נכונה לכל בחירה של X, Y, Z ?

(19) הוכח כי אם הנקודה x_1 שייכת לסביבת ε של הנקודה x_0 , אז קיימת סביבת δ של x_1 שמוכלת בסביבת ε של הנקודה x_0 .

(20) הוכח שלכל שתי נקודות שונות קיימות סביבות זרות.

(21) הוכח כי אם x_0 לא שייכת לקטע הסגור $[a, b]$, אז קיימת סביבה של הנקודה x_0 אשר לא מכילה שום נקודה מהקטע $[a, b]$.

(22) הוכח כי אם $|x - x_0| < \varepsilon$, $|y - y_0| < \varepsilon$, אז $|xy - x_0y_0| < \varepsilon(|x_0| + |y_0| + \varepsilon)$.

תשובות סופיות

- (1) א. לכל x ולכל y מתקיים $(x+y)^2 > 0$. הטענה אינה נכונה.
 ב. לכל x קיים y , כך ש- $(x+y)^2 > 0$. הטענה אינה נכונה.
 ג. לכל x ולכל y קיים z כך ש- $xz = \frac{y}{4}$. הטענה אינה נכונה.
 ד. לכל x חיובי ולכל y חיובי מתקיים $\sqrt{xy} \leq \frac{x+y}{2}$. הטענה נכונה.
 ה. לכל n טבעי המספר $n^3 - n$ מתחלק ב-6. הטענה נכונה.
- (2) א. $x^2 > 4 \Rightarrow x > 2 \vee x < -2$ ב. $\forall x: x^2 + 4 > 0$
 ג. $\forall n \exists k: n^3 - n = 6k$ ד. $\forall x: |x| < 1 \Leftrightarrow -1 < x < 1$
- (3) א. $A = (-4, 4)$, בקבוצה אינסוף איברים.
 ב. $B = \{-3, -2, -1, 0, 1, 2, 3\}$, בקבוצה 7 איברים.
 ג. $C = \{1, 2, 3\}$, בקבוצה 3 איברים. ד. $D = \{-3, -2, -1, 0\}$, בקבוצה 4 איברים.
 ה. $E = \{0, 1\}$, בקבוצה 2 איברים.
 ו. $F = \{-4, -3, -2, -1, 0, 1, 2, 3, 4\}$, בקבוצה 9 איברים.
- (4) א. $A = \{x \mid x = 2n - 1, n \in \mathbb{N}\}$ ב. $B = \{11, 13, 17, 19\}$
 ג. $C = \{(x, y) \mid x^2 + y^2 = 4^2, x \in \mathbb{R}, y \in \mathbb{R}\}$ ד. $D = \{1, 4, 9, 16\}$
- (5) הקבוצות A, B ו- C שוות זו לזו, והקבוצות D ו- E שוות זו לזו.
- (6) א. לא נכון. ב. נכון. ג. נכון. ד. נכון. ה. נכון.
 ו. לא נכון. ז. נכון. ח. נכון. ט. נכון. י. נכון.
 יא. לא נכון. יב. לא נכון. יג. נכון. יד. לא נכון.
- (7) $A = \{1, 2\}$ $B = \{\{1, 2\}, 1, 2\}$
- (8) א. A, C ב. E, D ג. לא קיימת קבוצה כזאת.
- (9) שאלת הוכחה.
- (10) $A \cup B = \{3, 4, 5, 6, 7, 8, 9, 10\}$ (1), $A \cap B = \{4, 6, 8\}$ (2), $(A \cup B) \cap C = \{3, 5, 7, 9\}$ (3)
- $(B \cap C) \cup (B \cap D) = \{6, 8\}$ (4), $(B \cup C) \cap (B \cup D) = \{4, 6, 7, 8, 10\}$ (5)
- (11) $A \cup B = (-2, 4)$ (1), $A \cap B = \emptyset$ (2), $(A \cup B) \cap C = (0, 4)$ (3),
 $(B \cap C) \cup (B \cap D) = [0, 1)$ (4), $(B \cup C) \cap (B \cup D) = (-2, 1)$ (5)

12) א. ϕ ב. $\{4,5,6\}$

13) ללא פתרון.

14) שאלת הוכחה.

15) א. $A^c = (-\infty, 1)$ ב. $B^c = [1, 4]$ ג. $C^c = [1, 4]$

ד. $D^c = (-\infty, 1] \cup [3, 4]$

16) ראו בסרטון.

17) שאלת הוכחה.

18) טענה ב.

19) שאלת הוכחה.

20) שאלת הוכחה.

21) שאלת הוכחה.

22) שאלת הוכחה.

המספרים האי-רציונליים

שאלות

- (1) א. ידוע כי מספר טבעי בריבוע הוא זוגי. הוכח שהמספר זוגי.
 ב. הוכח כי $\sqrt{2}$ הוא מספר אי-רציונלי.
- (2) א. ידוע כי מספר בריבוע מתחלק ב-3. הוכח שהמספר מתחלק ב-3.
 ב. הוכח כי $\sqrt{3}$ הוא מספר אי-רציונלי.
- (3) א. ידוע כי מספר בשלישית הוא זוגי. הוכח שהמספר זוגי.
 ב. הוכח כי $\sqrt[3]{2}$ הוא מספר אי-רציונלי.
- (4) הוכח כי \sqrt{n} הוא מספר אי-רציונלי (בהנחה ש- n טבעי שאינו ריבוע של מספר).
- (5) הוכח או הפרך:
 א. מכפלת מספרים אי-רציונליים היא מספר אי-רציונלי.
 ב. סכום מספרים אי-רציונליים הוא מספר אי-רציונלי.
 ג. מנה של שני מספרים אי-רציונליים היא מספר אי-רציונלי.
 ד. סכום של מספר רציונלי ומספר אי-רציונלי הוא מספר אי-רציונלי.
- (6) א. הוכח כי $\sqrt{3} + \sqrt{2}$ הוא מספר אי-רציונלי.
 ב. הוכח כי $\sqrt{2} + \sqrt{3} + \sqrt{5}$ הוא מספר אי-רציונלי.
 ג. הוכח כי $\sqrt[3]{2} + \sqrt{3}$ הוא מספר אי-רציונלי.
- (7) א. יהי p מספר ראשוני ויהיו a, k מספרים טבעיים.
 הוכח כי: $p | a \Leftrightarrow p | a^k$.
 ב. הוכח: אם $n \neq N^k$, אז $\sqrt[k]{n}$ הוא מספר אי-רציונלי ($n, k, N \in \mathbb{N}$).
- הערת סימון: אם מספר a מתחלק במספר b מסמנים $b | a$,
 ואומרים גם " b מחלק את a ".

תשובות לכל שאלות ההוכחה מופיעות באתר GooL.co.il

קבוצות חסומות וקבוצות לא חסומות

שאלות

$$(1) \text{ נתונה הקבוצה } A = \left\{ \frac{n-1}{n} \mid n \in \mathbb{N} \right\}$$

- א. בדוק האם הקבוצה חסומה.
 ב. מצא את האינפימום, הסופרמום, המינימום והמקסימום של הקבוצה, במידה והם קיימים.

$$(2) \text{ נתונה הקבוצה } A = \left\{ \frac{1}{n^4 + 2n + 1} \mid n \in \mathbb{N} \right\}$$

- א. בדוק האם הקבוצה חסומה.
 ב. מצא את האינפימום, הסופרמום, המינימום והמקסימום של הקבוצה, במידה והם קיימים.

$$(3) \text{ נתונה הקבוצה } A = \left\{ \frac{n^4 + n^2 + 3}{2n^4 + 2n^2 + 8} \mid n \in \mathbb{N} \right\}$$

- א. בדוק האם הקבוצה חסומה.
 ב. מצא את האינפימום, הסופרמום, המינימום והמקסימום של הקבוצה, במידה והם קיימים.

$$(4) \text{ נתונה הקבוצה } A = \left\{ \frac{[cn]}{n} \mid n \in \mathbb{N}, 0 < c \in \mathbb{R} \right\}$$

- א. הוכח שהקבוצה חסומה מלמעלה ומצא את $\sup A$.
 ב. הוכח שהקבוצה חסומה מלמטה ומצא את $\inf A$.

$$(5) \text{ נתונה הקבוצה } A = \{n^5 - n + 4 \mid n \in \mathbb{N}\}$$

- א. בדוק האם הקבוצה חסומה.
 ב. מצא את האינפימום, הסופרמום, המינימום והמקסימום של הקבוצה, במידה והם קיימים.

6) נתונה הקבוצה $A = \{11 - 4^n \mid n \in \mathbb{N}\}$.

- א. בדוק האם הקבוצה חסומה.
 ב. מצא את האינפימום, הסופרמום, המינימום והמקסימום של הקבוצה, במידה והם קיימים.

7) נתונה הקבוצה $A = \left\{ \frac{4n-1}{5n} \mid n \in \mathbb{N} \right\}$.

- א. בדוק האם הקבוצה חסומה.
 ב. מצא את האינפימום, הסופרמום, המינימום והמקסימום של הקבוצה, במידה והם קיימים.

8) מצא את האינפימום, הסופרמום, המינימום והמקסימום של הקבוצות הבאות, במידה והם קיימים:

$$A = \left\{ (-1)^n + \frac{1}{n^2} \mid n \in \mathbb{N} \right\} \quad \text{א.}$$

$$B = \{x \in \mathbb{Z} \mid |x-1| \leq 1\} \quad \text{ב.}$$

$$C = \left\{ x \in \mathbb{R} \mid \frac{x^2-4}{(x-2)^2} \leq 0 \right\} \quad \text{ג.}$$

$$D = \left\{ x \in \mathbb{R} \mid x = 1 + \frac{n+1}{n+4} \sin \frac{n\pi}{2}, n \in \mathbb{N} \right\} \quad \text{ד.}$$

9) ענה על הסעיפים הבאים:

- א. נתונה קבוצה של מספרים ממשיים S . הוכח שאם קיים לקבוצה חסם עליון אז הוא יחיד.
 ב. הוכח שלקבוצה הריקה אין חסם עליון.

10) הוכח את הטענות הבאות:

- א. אם α הוא הסופרמום של הקבוצה A , אז לכל מספר ממשי $\varepsilon > 0$, קיים איבר $x \in A$, כך ש- $\alpha - \varepsilon < x \leq \alpha$.
 ב. אם β הוא האינפימום של הקבוצה A , אז לכל מספר ממשי $\varepsilon > 0$, קיים איבר $x \in A$, כך ש- $\beta \leq x < \beta + \varepsilon$.

(11) הוכח את הטענות הבאות :

- א. בין כל שני מספרים ממשיים קיים מספר ממשי.
(משפט הצפיפות של הממשיים)
- ב. עבור קטעים מהטיפוס : $(-\infty, b)$, (a, b) , $[a, b)$, לא קיים מקסימום.
- ג. עבור קטעים מהטיפוס : $(-\infty, \infty)$, (a, ∞) , $[a, \infty)$, לא קיים מקסימום.
- ד. עבור קטעים מהטיפוס : $(-\infty, b)$, (a, b) , $[a, b)$, הקצה הימני של הקטע הוא החסם העליון.
- ה. אם S היא קבוצה בעלת מקסימום, אז ל- S יש חסם עליון, ומתקיים $\max S = \sup S$.

(12) תהי A תת-קבוצה לא ריקה של \mathbb{R} , ויהי $x \in \mathbb{R}$.

$$d(x, A) = \inf \{|x - a| \mid a \in A\}$$

נגדיר את המרחק בין x ל- A על ידי :

אם $\alpha \in \mathbb{R}$ הוא החסם העליון של A , הראה כי $d(\alpha, A) = 0$.

(13) הוכח שקבוצת המספרים הטבעיים אינה חסומה מלמעלה.

(14) הוכח שקיימת קבוצה של מספרים רציונליים, אשר חסומה מלמעלה אך אין לה סופרמום רציונלי.

(15) ענה על הסעיפים הבאים :

- א. נניח ש- K קבוצה של מספרים ממשיים החסומה מלמטה.
נתבונן בקבוצה $-K = \{-x \mid x \in K\}$.
הוכח שהקבוצה $-K$ חסומה מלמעלה.
- ב. הוכח שלכל קבוצה לא-ריקה של מספרים ממשיים, החסומה מלמטה, קיים חסם תחתון.

(16) תהי T קבוצה חסומה מלעיל של מספרים ממשיים.

תהי S קבוצה חלקית לא ריקה של T .
הוכח כי :

- א. ל- T יש חסם עליון $\sup T$.
- ב. ל- S יש חסם עליון $\sup S$.
- ג. $\sup S \leq \sup T$.
- ד. אם S ו- T בעלות מקסימום, אז $\max S \leq \max T$.

- 17** יהיו A ו- B שתי קבוצות לא ריקות, חסומות מלעיל, של מספרים ממשיים.
 א. נניח כי לכל $x \in A$ קיים $y \in B$ כך ש- $x < y$.
 הוכח כי $\sup A \leq \sup B$.
 האם יהיה נכון לומר ש- $\sup A < \sup B$?
- ב. נניח שבנוסף לנתון בסעיף א', נתון כי לכל $y \in B$ קיים $x \in A$ כך ש- $y < x$.
 הוכח כי $\sup A = \sup B$.
- 18** נניח ש- A ו- B הן שתי קבוצות לא ריקות וחסומות של מספרים ממשיים,
 כך ש- $\sup A = \inf B$.
 הוכח שלכל מספר $\delta > 0$, קיים מספר x ב- A , ומספר y ב- B , כך ש- $x + \delta > y$.
- 19** נניח ש- A ו- B הן שתי קבוצות לא ריקות וחסומות של מספרים ממשיים,
 כך ש- $\sup A \leq \inf B$.
 נניח שלכל מספר $\delta > 0$ קיים מספר x ב- A , ומספר y ב- B , כך ש- $x + \delta > y$.
 הוכח כי $\sup A = \inf B$.
- 20** נניח ש- A קבוצה לא ריקה של מספרים ממשיים, שאין לה מקסימום,
 ונניח כי $x < \sup A$.
 הוכח שיש לפחות שני איברים בקבוצה A , שנמצאים בין x ל- $\sup A$.
- 21** תהי S קבוצה לא ריקה וחסומה מלעיל של מספרים ממשיים.
 הוכח כי אם $c \geq 0$, אז ל- $c \cdot S$ יש חסם עליון, ומתקיים $\sup(c \cdot S) = c \cdot \sup S$.
- 22** יהיו S ו- T קבוצות לא ריקות וחסומות מלעיל של מספרים ממשיים.
 הוכח כי הקבוצה $S + T$ היא בעלת חסם עליון ומתקיים:
 $\sup(S + T) = \sup S + \sup T$.
- 23** יהיו S ו- T קבוצות לא ריקות וחסומות מלעיל של מספרים ממשיים.
 א. הוכח כי הקבוצה $S \cup T$ היא בעלת חסם עליון.
 ב. הוכח כי $\sup(S \cup T) = \max\{\sup S, \sup T\}$.
- 24** תהיינה U, T, S קבוצות לא-ריקות וחסומות מלעיל של מספרים ממשיים.
 נניח כי לכל $s \in S$ ולכל $t \in T$ קיים $u \in U$, המקיים את התנאי: $u \geq s + t$.
 הוכח כי $\sup U \geq \sup T + \sup S$.

(25) הוכח את הטענות הבאות :

- א. אם S ו- T הן שתי קבוצות לא ריקות של מספרים ממשיים, כך שכל איבר של S אינו גדול משום איבר של T , אז קיימים $\sup S, \inf T$, ומתקיים: $\sup S \leq \inf T$.
- ב. לכל קבוצה לא-ריקה וחסומה S מתקיים: $\inf S \leq \sup S$. האם ייתכן שוויון ביניהן? באילו תנאים?

(26) ענה על הסעיפים הבאים :

- א. נסח והוכח את משפט ארכימדס.
- ב. נסח והוכח את תכונת ארכימדס.
- ג. הוכח שלכל מספר ממשי $\varepsilon > 0$ קיים מספר טבעי n , כך ש- $0 < \frac{1}{n} < \varepsilon$.
- ד. הוכח שלכל שני מספרים ממשיים α, β , המקיימים $\alpha < \beta$, קיים מספר טבעי n , כך ש- $\alpha < \alpha + \frac{1}{n} < \beta$ וגם $\alpha < \beta - \frac{1}{n} < \beta$.

(27) תהי A תת-קבוצה לא ריקה של \mathbb{R} ויהי $\alpha \in \mathbb{R}$ חסם מלעיל של A .

- נניח שלכל $n \in \mathbb{N}$ קיים $a_n \in A$, כך ש- $a_n > \alpha - \frac{1}{n}$.
- הוכח כי α הוא הסופרמום של A .

(28) הוכח שלכל מספר ממשי c קיים מספר שלם יחיד $m \in \mathbb{Z}$, כך ש- $m \leq c < m+1$. למספר m קוראים הערך השלם של c , ומסמנים $m = [c]$.

(29) יהיו a ו- b שני מספרים ממשיים המקיימים $|a-b| < \frac{1}{n}$, לכל מספר טבעי n . הוכח כי $a = b$.

(30) ענה על הסעיפים הבאים :

- א. לכל n טבעי נגדיר $I_n = [n, \infty)$. הוכח כי $\bigcap_{n=1}^{\infty} I_n = \emptyset$.
- ב. לכל n טבעי נגדיר $J_n = \left[-\frac{1}{n}, \infty\right)$. הוכח כי $\bigcap_{n=1}^{\infty} J_n \neq \emptyset$.

(31) ענה על הסעיפים הבאים :

א. לכל n טבעי נגדיר $I_n = [a_n, b_n]$.

נניח כי $I_{n+1} \subset I_n$ לכל n .

הוכח כי $\bigcap_{n=1}^{\infty} I_n \neq \emptyset$.

ב. לכל n טבעי נגדיר $I_n = \left(0, \frac{1}{n}\right)$.

הוכח כי $\bigcap_{n=1}^{\infty} I_n = \emptyset$.

ג. בסעיף ב' התקיים כי $I_{n+1} \subset I_n$ לכל n , וכן $\bigcap_{n=1}^{\infty} I_n = \emptyset$.

האם תוצאת סעיף ב' סותרת את תוצאת סעיף א'?

(32) לכל n טבעי נגדיר $I_n = \left(-\frac{1}{n}, \frac{1}{n}\right)$.

הוכח כי $\bigcap_{n=1}^{\infty} I_n = \{0\}$.

תשובות סופיות

- (1) א. הקבוצה חסומה. ב. $\min A = \inf A = 0, \sup A = 1$.
- (2) א. הקבוצה חסומה. ב. $\max A = \sup A = \frac{1}{4}, \inf A = 0$.
- (3) א. הקבוצה חסומה. ב. $\min A = \inf A = \frac{5}{12}, \sup A = \frac{1}{2}$.
- (4) א. הקבוצה חסומה. ב. $\sup A = c, \inf A = [c]$.
- (5) א. הקבוצה לא חסומה מלמעלה וחסומה מלמטה על ידי 4. ב. $\min A = 4$.
- (6) א. הקבוצה חסומה מלמעלה על ידי 7. הקבוצה לא חסומה מלמטה.
 ב. $\max A = 7$.
- (7) א. הקבוצה חסומה מלמעלה על ידי $\frac{4}{5}$, וחסומה מלמטה על ידי $\frac{3}{5}$;
 לכן, הקבוצה חסומה. ב. $\sup A = \frac{4}{5}, \min A = \frac{3}{5}$.
- (8) א. $\max A = \frac{5}{4}, \inf A = -1$. ב. $\min B = 0, \max B = 2$. ג. $\min C = -2, \sup C = 2$. ד. $\inf D = 0, \sup D = 2$.

שאלות 9-32 הן שאלות הוכחה.

לתשובות מלאות בסרטוני וידאו היכנסו ל-www.GooL.co.il

קבוצה צפופה

שאלות

- (1) הוכח שקבוצת הממשיים צפופה בקבוצת הממשיים.
- (2) הוכח שקבוצת הרציונליים צפופה בקבוצת הממשיים.
- (3) הוכח שקבוצת האי-רציונליים צפופה בקבוצת הממשיים.
- (4) הוכח שהקבוצה $A = \{\sqrt{10}q \mid q \in \mathbb{Q}\}$ צפופה ב- \mathbb{R} .
- (5) הוכח שהקבוצה $A = \{\sqrt{m} - \sqrt{n} \mid m, n \in \mathbb{N}\}$ צפופה ב- \mathbb{R} .
- (6) יש המגדירים קבוצה צפופה בממשיים כך:
תת-קבוצה S של \mathbb{R} היא צפופה (ב- \mathbb{R}),
אם לכל $x \in \mathbb{R}$ ולכל $\varepsilon > 0$ קיים $s \in S$, כך ש- $|s - x| < \varepsilon$.
הוכח שאם S תת-קבוצה של \mathbb{R} מקיימת את התכונה,
שלכל $a, b \in \mathbb{R}$ קיים $s \in S$, כך ש- $a < s < b$, אז S צפופה ב- \mathbb{R} .
- (7) הוכח שהקבוצה $A = \{q\sqrt{10} \mid 0 < q \in \mathbb{Q}\}$ צפופה ב- $[0, 1]$.
- (8) תהי A קבוצה של מספרים ממשיים, הצפופה בקטע $(1, \infty)$.
הוכח שהקבוצה $B = \left\{ \frac{a}{n} \mid a \in A, n \in \mathbb{N} \right\}$ צפופה בקטע $(0, 1)$.
- (9) תהי A קבוצה של מספרים ממשיים, הצפופה בקטע $[0, 1]$.
הוכח שהקבוצה $B = \{na \mid a \in A, n \in \mathbb{N}\}$ צפופה בקטע $[0, \infty)$.
- (10) הוכח, שקבוצת כל השברים העשרוניים הסופיים, שלא מופיעה בהם הספרה 4, אינה צפופה בקטע $I = [0, 1]$.

11) תהי A קבוצה של מספרים ממשיים, המוכלת בקטע $(1, \infty)$ וצפופה בו.

הוכח שהקבוצה $C = \left\{ \frac{a}{n^2(a+1)} : a \in A, n \in \mathbb{N} \right\}$ אינה צפופה בקטע $[0, 1]$.

12) תהי A קבוצה של מספרים ממשיים, המוכלת בקטע $[0, 1]$.

הוכח שהקבוצה $C = \left\{ \frac{a+1}{n^2} \mid a \in A, n \in \mathbb{N} \right\}$ אינה צפופה בקטע $[0, 1]$.

לתשובות מלאות בסרטוני וידאו היכנסו ל- www.GooL.co.il

הערך השלם

שאלות

1 פתור את המשוואות הבאות:

א. $[x+4]=10$

ב. $[x+4]=-10$

ג. $[x+4]^2=100$

ד. $[2x^2+1]=9$

ה. $[x^2+x-1]=-2$

ו. $[x^2-\ln x+e^x-x^5]=0.5$

2 פתור את המשוואה $[x+4]=2x+1$.

3 פתור את המשוואה $[16x^2+7]=8x+6$.

4 פתור את המשוואה $[x^2+x+4]=2x+6$.

5 פתור את המשוואות הבאות:

א. $[|x-4|+x]=4x+4$

ב. $[|x+1|-|x-1|]=x$

6 פתור את המשוואה $[4+[x+1]]=10$.

7 הוכיחו כי לכל x ממשי ו- m שלם מתקיים $[x+m]=[x]+m$.

8 פתור את אי-השוויונים הבאים:

א. $[x+4]<10$

ב. $[x+4]>-10$

ג. $[x+4]^2<100$

ד. $[x+4]\leq 10$

9 פתור את אי-השוויונים הבאים :

א. $[x]^2 - 5[x] + 6 \leq 0$

ב. $[x-1][x-2] + [x+10] > 3[x+2] + [2.44]$

10 הוכיחו, כי לכל x ו- y ממשיים, מתקיים :

א. $[x] + [y] \leq [x+y] \leq [x] + [y] + 1$

ב. $x < y \Rightarrow [x] \leq [y]$

תשובות סופיות

- 1 א. $6 \leq x < 7$ ב. $-14 \leq x < -13$ ג. $[6,7) \cup [14,-13)$
- ד. $(-\sqrt{4.5}, -2] \cup [2, \sqrt{4.5})$ ה. $-1 < x < 0$ ו. \emptyset
- 2 $x = 2.5, 3$
- 3 $x = \frac{1}{8}, \frac{1}{4}, \frac{3}{8}$
- 4 $x = -1, 2$
- 5 א. $x = 0$ ב. $x = 2, 0, -2$
- 6 $5 \leq x < 6$
- 7 שאלת הוכחה.
- 8 א. $x < 6$ ב. $x > -14$ ג. $-14 < x < 6$ ד. $x < 7$
- 9 א. $2 \leq x < 4$ ב. $x < 1$ or $x > 4$
- 10 שאלת הוכחה.

סימן הסכימה

שאלות

1) כתוב בפירוט את הסכומים הבאים :

א. $\sum_{n=0}^{10} 4^n$	ב. $\sum_{k=1}^4 2k$	ג. $\sum_{n=4}^{10} na_n$
ד. $\sum_{i=7}^{11} 4i^2 a_i$	ה. $\sum_{t=1}^8 tx^t$	ו. $\sum_{k=4}^{10} na_{k+1}$
ז. $\sum_{k=1}^{10} 4n$	ח. $\sum_{k=-1}^3 (k^2 + 1)$	ט. $\sum_{\ell=1}^3 (\ell^2 - x_{2\ell} - 4)$

2) כתוב את הסכומים הבאים בעזרת סימן הסכימה :

א. $1+2+4+8+16+32+64+128$
ב. $2+4+6+8+10+12+14+16+18+20$
ג. $1+3+5+7+9+11+13+15+17+19$
ד. $1 \cdot 2 + 2 \cdot 3 + 3 \cdot 4 + 4 \cdot 5 + 5 \cdot 6 + 6 \cdot 7 + 7 \cdot 8$
ה. $1 \cdot 2 + 3 \cdot 4 + 5 \cdot 6 + \dots + 43 \cdot 44$
ו. $3 \cdot 2 + 6 \cdot 3 + 9 \cdot 4 + 12 \cdot 5 + 15 \cdot 6 + 18 \cdot 7 + 21 \cdot 8$
ז. $5^2 + 7^2 + \dots + 27^2$
ח. $\frac{1}{1 \cdot 2} + \frac{1}{2 \cdot 3} + \frac{1}{3 \cdot 4} + \dots + \frac{1}{10 \cdot 11}$
ט. $\frac{2}{3} + \frac{6}{9} + \frac{10}{27} + \frac{14}{81} + \frac{18}{243}$
י. $4 + \frac{8}{5} + \frac{12}{25} + \frac{16}{125} + \frac{20}{625}$

3) חשב את הסכומים הבאים :

א. $\sum_{k=1}^{10} 4k$	ב. $\sum_{k=1}^{10} (2k + 4k^2)$	ג. $\sum_{k=10}^{24} k(k-1)$
ד. $\sum_{k=10}^{24} \frac{k^3 - k}{k+1}$	ה. $\sum_{k=4}^{10} (k-2)(k+2)$	ו. $\sum_{k=1}^{10} (2k^2 + 1)(k-2)$

* תוכל להיעזר בנוסחאות הבאות (שמוכחות בפרק זה תחת הנושא 'אינדוקציה'):

$$\sum_{k=1}^n k = \frac{n(n+1)}{2}, \quad \sum_{k=1}^n k^2 = \frac{n(n+1)(2n+1)}{6}, \quad \sum_{k=1}^n k^3 = \left[\frac{n(n+1)}{2} \right]^2$$

(4) חשב את הסכומים הבאים:

א. $\sum_{k=1}^{20} \frac{5 \cdot 4^k + 8^k}{2^k}$ ב. $\sum_{k=1}^{11} \frac{2 \cdot 4^{k+2} + 10^k}{0.4^k}$ ג. $\sum_{k=10}^{20} 2^{2k+10}$

* תוכל להיעזר בנוסחה הבאה: $\sum_{k=1}^n a^k = \frac{a(a^n - 1)}{a - 1}$ ($a \neq 1$)

(5) חשב את הסכומים הבאים:

א. $1^2 + 2^2 + 3^2 + \dots + 20^2$

ב. $4^2 + 5^2 + 6^2 + \dots + 24^2$

ג. $2^2 + 4^2 + 6^2 + \dots + 22^2$

ד. $1^2 + 3^2 + 5^2 + \dots + 17^2$

(6) הוכח כי:

א. $\sum_{k=1}^n \frac{2^{2k+4}}{k+2} = \sum_{k=0}^{n-1} \frac{2^{2k+6}}{k+3}$

ב. $\sum_{k=4}^{n-3} \frac{4k+17+2^{2k}}{k+1} = \sum_{k=8}^{n+1} \frac{4k+1+2^{2k-8}}{k-3}$

(7) חשב את הסכומים הבאים ללא פיצול הסכום:

א. $\sum_4^{11} k^2$ ב. $\sum_{10}^{20} 4^{2k}$

תשובות סופיות

$$(1) \quad \text{א. } 4^0 + 4^1 + 4^2 + 4^3 + 4^4 + 4^5 + 4^6 + 4^7 + 4^8 + 4^9 + 4^{10}$$

$$\text{ב. } 2 \cdot 1 + 2 \cdot 2 + 2 \cdot 3 + 2 \cdot 4$$

$$\text{ג. } 4a_4 + 4a_5 + 4a_6 + 4a_7 + 4a_8 + 4a_9 + 4a_{10}$$

$$\text{ד. } 4 \cdot 7^2 a_7 + 4 \cdot 8^2 a_8 + 4 \cdot 9^2 a_9 + 4 \cdot 10^2 a_{10} + 4 \cdot 11^2 a_{11} + 4 \cdot 7^2 a_7$$

$$\text{ה. } 1x^1 + 2x^2 + 3x^3 + 4x^4 + 5x^5 + 6x^6 + 7x^7 + 8x^8$$

$$\text{ו. } na_5 + na_6 + na_7 + na_8 + na_9 + na_{10} + na_{11}$$

$$\text{ז. } 4n + 4n + 4n + 4n + 4n + 4n + 4n + 4n + 4n + 4n$$

$$\text{ח. } ((-1)^2 + 1) + (0^2 + 1) + (1^2 + 1) + (2^2 + 1) + (3^2 + 1)$$

$$\text{ט. } (1^2 - x_2 - 4) + (2^2 - x_4 - 4) + (3^2 - x_6 - 4)$$

$$(2) \quad \text{א. } \sum_{k=0}^7 2^k \quad \text{ב. } \sum_{k=1}^{10} 2k \quad \text{ג. } \sum_{k=0}^9 (2k+1) \quad \text{ד. } \sum_{k=1}^7 k(k+1)$$

$$\text{ה. } \sum_{k=1}^{22} (2k-1)2k \quad \text{ו. } \sum_{k=1}^7 3k(k+1) \quad \text{ז. } \sum_{n=3}^{14} (2n-1)^2$$

$$\text{ח. } \sum_{n=1}^{10} \frac{1}{n(n+1)} \quad \text{ט. } \sum_{k=1}^5 \frac{4k-2}{3^k} \quad \text{י. } \sum_{k=1}^4 \frac{4k}{5^{k-1}}$$

$$(3) \quad \text{א. } 220 \quad \text{ב. } 1650 \quad \text{ג. } 4360$$

$$\text{ד. } 4360 \quad \text{ה. } 28 \quad \text{ו. } 4545$$

$$(4) \quad \text{א. } 5 \cdot (2^{21} - 2) + \frac{4}{3} (4^{20} - 1) \quad \text{ב. } 32 \cdot \frac{10(10^{11} - 1)}{10 - 1} + \frac{25(25^{11} - 1)}{25 - 1}$$

$$\text{ג. } 2^{10} \left[\frac{4(4^{20} - 1)}{4 - 1} - \frac{4(4^9 - 1)}{4 - 1} \right]$$

$$(5) \quad \text{א. } 2870 \quad \text{ב. } 4886 \quad \text{ג. } 2024 \quad \text{ד. } 969$$

(6) הוכחה.

$$(7) \quad \text{א. } 8 \cdot 8 + 6 \cdot \frac{8(8+1)}{2} + \frac{8(8+1)(2 \cdot 8 + 1)}{6} \quad \text{ב. } 4^{18} \cdot \frac{16(16^{11} - 1)}{16 - 1}$$

אינדוקציה

שאלות

(1) הוכח באינדוקציה כי $4 \cdot 10^n + 14 \cdot 19^n$ מתחלק ב-9 לכל n טבעי.

(2) הוכח באינדוקציה כי $\sum_{k=1}^n \sin kx = \frac{\sin \frac{n+1}{2} x \cdot \sin \frac{n}{2} x}{\sin \frac{x}{2}}$ ($k, n \in \mathbb{N}, x \in \mathbb{R}$).

(3) מצא את ה- n הטבעי הקטן ביותר עבורו מתקיים $2^n \geq n^2$, והוכח באינדוקציה שעבור כל n טבעי החל ממנו מתקיים אי-השוויון הנ"ל.

(4) הוכח את הסעיפים הבאים:

א. הוכח באינדוקציה כי $(1+x)^n \geq 1+nx$, לכל n טבעי ולכל $x \geq -1$ ממשי.
 הערה: אי השוויון הנ"ל נקרא אי שוויון ברנולי.

ב. הוכח כי $\left(1+\frac{1}{n}\right)^n < \left(1+\frac{1}{n+1}\right)^{n+1}$, לכל n טבעי.
 רמז: היעזר בתוצאת סעיף א'.

(5) הוכח באינדוקציה כי $(1-x)^n < \frac{1}{1+xn}$ לכל $0 < x < 1, n \in \mathbb{N}$.

(6) הוכח באינדוקציה כי $n! \leq \left(\frac{n+1}{2}\right)^n$, לכל $n \in \mathbb{N}$.
 רמז: היעזר במהלך הפתרון באי-שוויון ברנולי.

(7) נתון כי $a_{n+1} = \sqrt{a_n + 2}, a_1 = \sqrt{2}$.

הוכח באינדוקציה שלכל n טבעי מתקיים:

א. $a_n \leq 2$

ב. $a_n \leq a_{n+1}$

הערה: תרגיל זה מיועד רק למי שלמד מהי סדרה רקורסיבית.

(8) הוכח באינדוקציה שלכל n טבעי,

אם $a_{n+2} = 2a_{n+1} - a_n + 2, a_1 = -1, a_2 = 0$,

אז $a_n = n^2 - 2n$.

הערה: תרגיל זה מיועד רק למי שלמד מהי סדרה רקורסיבית.

9) הוכח באינדוקציה שלכל n טבעי,

$$\text{אם } a_{n+1} = 2a_n + 3a_{n-1}, a_1 = 1, a_2 = 1,$$

$$\text{אז } a_n = \frac{1}{6} \cdot 3^n - \frac{1}{2}(-1)^n.$$

הערה: תרגיל זה מיועד רק למי שלמד מהי סדרה רקורסיביות.

10) הוכח באינדוקציה כי $4^n - 1$ מתחלק ב-15, לכל n טבעי זוגי.

$$11) \text{ הוכח באינדוקציה כי } \begin{pmatrix} 0 & 0 \\ 0 & a \end{pmatrix}^n = \begin{pmatrix} 0 & 0 \\ 0 & a^n \end{pmatrix} \text{ (} n \in \mathbb{N}, a \in \mathbb{R} \text{).}$$

הערה: תרגיל זה מיועד רק למי שלמד כפל מטריצות (אלגברה לינארית).

הערה: תרגילים נוספים באינדוקציה תמצאו תחת הנושא "אי שוויונים מפורסמים"

בפרק זה, בשאלה 1 ובשאלה 3 סעיף ו'.

תשובות לכל שאלות ההוכחה מופיעות באתר GooL.co.il

אי שוויונים מפורסמים

שאלות

(1) ענה על הסעיפים הבאים:

א. הוכח שלכל שני מספרים ממשיים x, y המקיימים $x < 1, y > 1$, מתקיים $x + y > xy + 1$.

ב. הוכח באינדוקציה שלכל $n \geq 2$ טבעי:

אם $a_1 \cdot a_2 \cdots a_n = 1$, אז $a_1 + a_2 + \dots + a_n \geq n$ ($0 < a_i \in \mathbb{R}$).

(2) נסח והוכח את אי שוויון הממוצעים.

(3) הוכח שלכל $a, b \in \mathbb{R}$ מתקיים:

א. $|a + b| \leq |a| + |b|$ (אי שוויון המשולש)

ב. $|a - b| \leq |a| + |b|$

ג. $|a - b| \geq |b| - |a|$, $|a - b| \geq |a| - |b|$

ד. $|a - b| \geq ||a| - |b||$

ה. $|a + b| \geq ||a| - |b||$

ו. $|a_1 + a_2 + \dots + a_n| \leq |a_1| + |a_2| + \dots + |a_n|$ ($a_i \in \mathbb{R}$)

(4) ענה על הסעיפים הבאים:

א. נסח והוכח את אי שוויון קושי-שוורץ.

ב. הוכח כי אם $a_1 + \dots + a_n = 1$ אז $a_1^2 + a_2^2 + \dots + a_n^2 \geq \frac{1}{n}$ ($n \in \mathbb{N}, a_i \in \mathbb{R}$).

הערה: אי שוויון ברנולי מוכח בפרק זה תחת הנושא "אינדוקציה".

נוכיח שם גם כמה מסקנות מעניינות ממנו.

תשובות לכל שאלות ההוכחה מופיעות באתר GooL.co.il

פתרון אי שוויונים

שאלות

פתור את אי השוויונים הבאים:

$$(1) \quad x^2 - 12x > -32$$

$$(2) \quad (x-3)(x-7) \geq 8x - 56$$

$$(3) \quad 2x^2 + 2x + 24 \geq 0$$

$$(4) \quad \frac{x-1}{x^2-9} > 0$$

$$(5) \quad \frac{2x-1}{x-5} \leq 0$$

$$(6) \quad \frac{x^2 - 7x + 6}{-x^2 + 3x - 7} \geq 0$$

$$(7) \quad |x+2| < 3$$

$$(8) \quad |6-2x| < x$$

$$(9) \quad |2x+3| < 8 < |5-x|$$

$$(10) \quad x^2 - 6|x+1| - 1 > 0$$

$$(11) \quad |2x-6| + |x+5| > 14 - |1-x|$$

$$(12) \quad \sqrt{x+3} < 7$$

$$(13) \quad \frac{4}{\sqrt{2-x}} - \sqrt{2-x} < 2$$

$$(14) \quad \sqrt{x^2+x-6} < x-3$$

הערה: לא מומלץ להתעכב יותר מידי זמן על פתרון אי שוויונים.

תשובות סופיות

(1) $x < 4$ או $x > 8$

(2) $x \leq 7$ או $x \geq 11$

(3) כל x

(4) $-3 < x < 1$ או $x > 3$

(5) $\frac{1}{2} \leq x < 5$

(6) $1 \leq x \leq 6$

(7) $-5 < x < -1$

(8) $2 < x < 6$

(9) $-5\frac{1}{2} < x < -3$

(10) $x < -5$ או $x > 7$

(11) $x < -1$ או $x > 4$

(12) $-3 \leq x < 46$

(13) $x < 0.472$

(14) אין פתרון.

עצרת, המקדם הבינומי, הבינום של ניוטון

שאלות

(1) חשב, ללא מחשבון:

א. $\frac{4! \cdot 7!}{0! \cdot 10!}$

ב. $\frac{14! \cdot 20!}{10! \cdot 17!}$

(2) הוכח את הזהויות הבאות:

א. $(n-2)!(n^2 - n) = n!$

ב. $(n-1)!n^2 + n! = (n+1)!$

ג. $\frac{1}{(n-1)!} = \frac{(n+2)^2}{(n+2)!} + \frac{n^2 - 2}{(n+1)!}$

(3) חשב:

א. $\binom{5}{3}$ ב. $\binom{4}{1}$ ג. $\binom{10}{0}$ ד. $\binom{14}{11}$

(4) הוכח את הזהויות הבאות:

א. $\binom{n}{n} = \binom{n}{0} = 1$ ב. $\frac{k}{n} \binom{n}{k} = \binom{n-1}{k-1}$ ג. $\frac{n+1}{k+1} \binom{n}{k} = \binom{n+1}{k+1}$

(5) הוכח באינדוקציה שלכל $n \geq 2$ טבעי מתקיים:

$$\binom{1}{0} + \binom{2}{1} + \binom{3}{2} + \dots + \binom{n-1}{n-2} = \binom{n}{2}$$

(6) רשום את פיתוח הבינום בכל אחד מהסעיפים הבאים:

א. $(a+b)^4$ ב. $(x+2)^5$ ג. $(x-4)^3$

(7) ענה על הסעיפים הבאים:

א. הוכח $\binom{n}{k+1} + \binom{n}{k} = \binom{n+1}{k+1}$ לכל $k, n \in \mathbb{N}, 0 \leq k \leq n$

ב. נסח והוכח (באינדוקציה) את נוסחת הבינום.

8 הוכח שלכל $n \geq 1$ טבעי מתקיים :

$$\text{א. } \binom{n}{0} + \binom{n}{1} + \binom{n}{2} + \dots + \binom{n}{n} = 2^n$$

$$\text{ב. } \binom{n}{0} - \binom{n}{1} + \binom{n}{2} - \dots + (-1)^n \binom{n}{n} = 0$$

$$\text{ג. } \binom{n}{0} + 3\binom{n}{1} + 9\binom{n}{2} - \dots + 3^n \binom{n}{n} = 4^n$$

9 מצא את האיבר הרביעי בפיתוח הבינום $\left(\frac{1}{2a} + 2a^2\right)^{10}$.

10 בפיתוח של $(\sqrt[3]{a^2} + \sqrt{a})^{12}$, ישנו איבר שאחד מגורמיו הוא a^7 . מצא את מקום האיבר ואת ערכו.

11 מצא, בפיתוח של $\left(\frac{1}{x^2} + \sqrt{x}\right)^{10}$, איבר שאינו מכיל את x , וחשב את ערכו.

12 ענה על הסעיפים הבאים :

א. מצא, בפיתוח של $\left(\frac{\sqrt[3]{x}}{a} + \frac{b}{\sqrt[4]{x}}\right)^{18}$, את המקדם של $\frac{1}{x}$.

ב. חשב את סכום כל המקדמים בפיתוח, אם $a=b=1$.

13 המקדם של האיבר השלישי בפיתוח הבינום $(a+b)^n$, הוא 15. מצא את n .

תשובות סופיות

$$(1) \quad \text{א. } \frac{1}{30} \quad \text{ב. } \frac{1001}{285}$$

(2) שאלת הוכחה.

$$(3) \quad \text{א. } 10 \quad \text{ב. } 4 \quad \text{ג. } 1 \quad \text{ד. } 364$$

(4) הוכחה.

(5) הוכחה.

$$(6) \quad \text{א. } (a+b)^4 = a^4 + 4a^3b + 6a^2b^2 + 4ab^3 + b^4$$

$$\text{ב. } (x+2)^5 = x^5 + 10x^4 + 40x^3 + 80x^2 + 80x + 32$$

$$\text{ג. } (x-4)^3 = x^3 - 12x^2 + 48x - 64$$

(7) הוכחה.

(8) הוכחה.

$$(9) \quad T_4 = \frac{15}{2a}$$

$$(10) \quad T_7 = 924a^7$$

$$(11) \quad T_9 = 45$$

$$(12) \quad \text{א. } \frac{18564 \cdot b^{12}}{a^6} \quad \text{ב. } 2^{18}$$

$$(13) \quad n = 6$$

שדות

שאלות

1) בכל אחד מהסעיפים הבאים מוגדרות פעולות חיבור (\oplus) וכפל (\otimes) על R .

בדוק, בכל אחד מהסעיפים, אילו מבין אקסיומות השדה מתקיימות.

$$\begin{array}{lll} \text{א.} & x \oplus y = x + y + 4 & x \oplus y = x + y \\ \text{ב.} & x \otimes y = 2xy & x \otimes y = x + y \\ \text{ג.} & x \oplus y = y & x \otimes y = y^2 \end{array}$$

2) נתונה הקבוצה $Q[\sqrt{2}] = \{a + b\sqrt{2} \mid a, b \in Q\}$.

על קבוצה זו נגדיר פעולת חיבור ופעולת כפל באופן הבא:

$$(a + b\sqrt{2}) + (c + d\sqrt{2}) = (a + c) + (b + d)\sqrt{2}$$

$$(a + b\sqrt{2}) \cdot (c + d\sqrt{2}) = (ac + 2bd) + (ad + bc)\sqrt{2}$$

הוכח שהקבוצה $Q[\sqrt{2}]$, עם פעולות החיבור והכפל הנ"ל, מהווה שדה.

3) ענה על הסעיפים הבאים:

- הוכח שבשדה, האיבר 0 הוא יחיד.
- הוכח שבשדה, האיבר 1 הוא יחיד.
- הוכח שבשדה, האיבר הנגדי הוא יחיד.
- הוכח שבשדה, האיבר ההופכי הוא יחיד.

4) יהיו a, b איברים בשדה.

- הוכח כי $a + a = a \Leftrightarrow a = 0$.
- הוכח כי $a \cdot 0 = 0 \cdot a = 0$.
- הוכח כי $a \cdot b = 0 \Leftrightarrow a = 0 \vee b = 0$.

5) יהיו a ו- b איברים של שדה.

הוכח כי:

$$\text{א. } (-1) \cdot a = -a$$

$$\text{ב. } (-a)b = a(-b) = -ab$$

6) הוכח שבשדה, מתקיים חוק הצמצום.

כלומר, הוכח כי $ab = cb \Rightarrow a = c$, לכל a, b, c , בשדה ($b \neq 0$).

תשובות סופיות

השאלות בנושא זה הן שאלות הוכחה.

לתשובות מלאות בסרטוני וידאו היכנסו ל- www.GooL.co.il

מתמטיקה לביולוגים חד חוגי מורחב

פרק 2 - הפונקציה הממשית - תכונות בסיסיות ופונקציות נפוצות

תוכן העניינים

1. פונקציה - הגדרה ותכונות בסיסיות..... (ללא ספר)
2. הפונקציה הלינארית..... (ללא ספר)
3. הפונקציה הריבועית..... (ללא ספר)
4. הפונקציה המעריכית..... (ללא ספר)
5. הפונקציה הלוגריתמית..... (ללא ספר)
6. פונקציות מפורסמות נוספות..... (ללא ספר)
7. הזזות שיקופים מתיחות וכיווצים של פונקציה..... (ללא ספר)
8. הפונקציות הטריגונומטריות..... (ללא ספר)
9. הפונקציות הטריגונומטריות ההפוכות..... (ללא ספר)
10. הפונקציות ההיפרבוליות..... (ללא ספר)
11. הצגה פרמטרית של פונקציה..... (ללא ספר)
12. הצגה פולרית של עקום..... (ללא ספר)

מתמטיקה לביולוגים חד חוגי מורחב

פרק 3 - הפונקציה הממשית - תכונות מתקדמות

תוכן העניינים

32	1. תחום הגדרה של פונקציה
34	2. הרכבת פונקציות
37	3. הפונקציה ההפוכה
41	4. פונקציה זוגית ופונקציה אי זוגית
43	5. פונקציה מחזורית
46	6. פונקציה מפוצלת ופונקציה אלמנטרית
47	7. תרגילים משולבים

תחום הגדרה של פונקציה

שאלות

מצא את תחום ההגדרה של הפונקציות הבאות:

$$y = \frac{1}{x^2 - 4} \quad (2)$$

$$y = x^3 - x^2 - 4x + 1 \quad (1)$$

$$y = \frac{1}{x^3 - x} \quad (4)$$

$$y = \frac{4x + 1}{x^2 + 1} \quad (3)$$

$$y = \sqrt{x - 4} \quad (6)$$

$$y = \frac{x^2}{x^2 - x - 2} \quad (5)$$

$$y = \sqrt[3]{x^2 + x - 1} \quad (8)$$

$$y = \sqrt{x^2 + x - 2} \quad (7)$$

$$y = \ln(x^2 + x - 2) \quad (10)$$

$$y = \frac{1}{\sqrt{1 - |x|}} \quad (9)$$

$$y = e^{x^2 + x + 1} \quad (12)$$

$$y = \log x + \frac{1}{\log x} \quad (11)$$

$$y = \tan(10x) \quad (14)$$

$$y = \log_x(x + 4) \quad (13)$$

$$y = \arctan(x + 4) \quad (16)$$

$$y = \cot(4x) \quad (15)$$

$$y = \arccos(x + 1) \quad (18)$$

$$y = \arcsin(x - 4) \quad (17)$$

תשובות סופיות

(1) כל x .

(2) $x \neq \pm 2$

(3) כל x .

(4) $x \neq 0, 1, -1$

(5) $x \neq 2, -1$

(6) $x \geq 4$

(7) $x \leq -2, x \geq 1$

(8) כל x .

(9) $-1 < x < 1$

(10) $x < -2, x > 1$

(11) $x > 0, x \neq 1$

(12) כל x .

(13) $x > 0, x \neq 1$

(14) $x \neq \frac{\pi}{20} + \frac{\pi k}{10}$

(15) $x \neq \frac{\pi k}{4}$

(16) כל x .

(17) $3 < x < 5$

(18) $-2 < x < 0$

הרכבת פונקציות

שאלות

(1) נתונות הפונקציות הבאות: $f(x) = x - 4$, $g(x) = x^2$, $h(x) = \frac{4}{x}$.

חשב את הפונקציות המורכבות הבאות:

א. $f(g(1))$ ב. $h(g(f(5)))$ ג. $f(g(x))$
 ד. $h(f(x))$ ה. $f(f(x))$ ו. $h(h(x))$

(2) נתון: $f(x) = \frac{x-2}{x-1}$.

חשב $f(f(x))$ עבור $x=3$.

(3) נתון: $f(x) = \frac{x-3}{x+2}$, $g(x) = \frac{5-x}{x-7}$.

חשב $f(g(x)) + g(f(x))$ עבור $x=8$.

(4) נתון: $f(x) = x^2 - 7x$, $g(x) = \ln x$.

חשב $f(g(x))$ עבור $x = e^2$.

(5) נתון: $f(x) = e^{2x}$, $g(x) = \ln x$.

חשב $f(g(x))$ עבור $x=2$.

(6) נתון: $f(x) = \begin{cases} \frac{1}{x} & x > 0 \\ x^2 & x \leq 0 \end{cases}$, $g(x) = \begin{cases} x+3 & x > 4 \\ 3x & x \leq 4 \end{cases}$.

חשב $f(g(x))$, $g(f(x))$.

(7) נתונות הפונקציות:

$$f(x) = \begin{cases} 2x+4 & x \leq -1 \\ \sqrt{x+1} & x > -1 \end{cases} \quad g(x) = \begin{cases} x^2-4 & x < 1 \\ -x^2-2x-1 & x \geq 1 \end{cases}$$

מצא נוסחה עבור ההרכבה $z(x) = g(f(x))$.

(8) נתונות הפונקציות :

$$f(x) = \begin{cases} 2x+4 & x \leq -1 \\ \sqrt{x+1} & x > -1 \end{cases} \quad \text{ו-} \quad g(x) = \begin{cases} x^2 - 4 & x < 1 \\ -x^2 - 2x - 1 & x \geq 1 \end{cases}$$

א. מצא נוסחה עבור ההרכבה $h(x) = f(g(x))$.

ב. נתון ש- $n \in \mathbb{Z}$ ו- $h(n) \notin \mathbb{Z}$.

מה ניתן להסיק בוודאות?

1. $n \leq -3$

2. $n \geq 1$

3. n אי-זוגי שלילי.

4. אף תשובה אינה נכונה.

(9) נתון $f(x) = \frac{x}{\sqrt{1+x^2}}$

מצא את $f^n(x) = \underbrace{f(f(f(\dots(f(x))))}_{n \text{ Times}}$

תשובות סופיות

$$(1) \quad \text{א. } -3 \quad \text{ב. } 4 \quad \text{ג. } x^2 - 4 \quad \text{ד. } \frac{4}{x-4} \quad \text{ה. } x-8 \quad \text{ו. } x$$

$$(2) \quad 3$$

$$(3) \quad \frac{69}{13}$$

$$(4) \quad -10$$

$$(5) \quad 4$$

$$f(g(x)) = \begin{cases} \frac{1}{x+3} & x > 4 \\ \frac{1}{3x} & 0 < x \leq 4 \\ (3x)^2 & x \leq 0 \end{cases}, \quad g(f(x)) = \begin{cases} x^2 + 3 & x < 2 \\ 3x^2 & -2 \leq x \leq 0 \\ \frac{1}{x} + 3 & 0 < x < \frac{1}{4} \\ 3\frac{1}{x} & x \geq \frac{1}{4} \end{cases} \quad (6)$$

$$z(x) = \begin{cases} 4x^2 + 16x + 12 & x < -1.5 \\ -4x^2 - 20x - 25 & -1.5 \leq x \leq -1 \\ x - 3 & -1 < x < 0 \\ -x - 2 - 2\sqrt{x+1} & x \geq 0 \end{cases} \quad (7)$$

$$n \leq -3 \quad \text{ב.} \quad h(x) = \begin{cases} \sqrt{x^2 - 3} & x < -\sqrt{3} \\ 2x^2 - 4 & -\sqrt{3} \leq x < 1 \\ -2x^2 - 4x + 2 & x \geq 1 \end{cases} \quad \text{א.} \quad (8)$$

$$f^n(x) = \frac{x}{\sqrt{1+nx^2}} \quad (9)$$

הפונקציה ההפוכה

שאלות

בתרגילים הבאים הוכח שהפונקציה הנתונה היא חח"ע בתחום הגדרתה ומצא את הפונקציה ההפוכה לה. בנוסף, מצא את התמונה של הפונקציה.

$$f(x) = \frac{x+1}{x} \quad (2)$$

$$f(x) = \frac{x-1}{3} \quad (1)$$

$$f(x) = x^2 - 4, \quad x \geq 0 \quad (4)$$

$$f(x) = \frac{3x-2}{x-2} \quad (3)$$

בתרגילים הבאים, בדוק האם הפונקציה היא חח"ע. בנוסף, מצא את התמונה של הפונקציה:

$$f(x) = \sqrt{1-x^2} \quad (7)$$

$$f(x) = x^2 - x \quad (6)$$

$$f(x) = x + \frac{1}{x} \quad (5)$$

בתרגילים הבאים, בדוק האם הפונקציה היא חח"ע, אם כן, מצא את הפונקציה ההפוכה ואת התמונה של הפונקציה.

$$f(x) = \left(\frac{2x-1}{2x+1} \right)^3 \quad (10)$$

$$y = \frac{x^2+3}{2x-1} \quad (9)$$

$$f(x) = \frac{1}{\sqrt{1-x}} \quad (8)$$

$$(11) \text{ נתונה } f(x) = \frac{x+2}{\sqrt{x-1}}. \text{ האם הפונקציה היא חח"ע?}$$

מצא את התמונה של הפונקציה.

(12) עבור כל אחת מהפונקציות הבאות, מצא את תחום ההגדרה, הטווח והתמונה וקבע האם היא פונקציה על:

$$א. \quad f(x) = \frac{x-1}{3}; \quad f: \mathbb{R} \rightarrow \mathbb{R}$$

$$ב. \quad f(x) = \frac{x+1}{x}; \quad f: \mathbb{R} \setminus \{0\} \rightarrow \mathbb{R}$$

$$ג. \quad f(x) = \frac{3x-2}{x-2}; \quad f: \mathbb{R} \setminus \{2\} \rightarrow \mathbb{R} \setminus \{3\}$$

$$ד. \quad f(x) = x^2 - 4; \quad f: [0, \infty) \rightarrow \mathbb{R}$$

13 עבור כל אחת מהפונקציות הבאות מצא תחום הגדרה, טווח ותמונה. בנוסף, קבע האם הפונקציה הנתונה היא על.

$$f(x) = \frac{1}{x^2 + 1} \quad f: \mathbb{R} \rightarrow \mathbb{R} \quad \text{א.}$$

$$g(x) = \frac{1}{x^2 + 1} \quad f: \mathbb{R} \rightarrow (0, 1] \quad \text{ב.}$$

$$h(x) = \frac{1}{x^2 + 1} \quad f: (1, \infty) \rightarrow (0, 1] \quad \text{ג.}$$

14 תהיינה שתי פונקציות $f: A \rightarrow B$, $g: B \rightarrow C$.

תהא $h: A \rightarrow C$ ההרכבה, המוגדרת על ידי $h(x) = g(f(x))$. הוכח או הפרך כל אחת מהטענות הבאות:

א. אם f ו- g חח"ע אז h חח"ע.

ב. אם f ו- g חח"ע אז h על.

ג. אם f ו- g על אז h על.

ד. אם f ו- g על אז h חח"ע.

ה. אם f חח"ע ו- g על אז h חח"ע.

ו. אם f חח"ע ו- g על אז h על.

ז. אם f על ו- g חח"ע אז h חח"ע.

ח. אם f על ו- g חח"ע אז h על.

15 תהיינה שתי פונקציות $f: A \rightarrow B$, $g: B \rightarrow C$.

תהא $h: A \rightarrow C$ ההרכבה, המוגדרת על ידי $h(x) = g(f(x))$. נתון כי h על.

הוכח או הפרך כל אחת מהטענות הבאות:

א. f חח"ע.

ב. f על.

ג. g חח"ע.

ד. g על.

16) תהיינה שתי פונקציות $f: A \rightarrow B$, $g: B \rightarrow C$.

תהא $h: A \rightarrow C$ ההרכבה, המוגדרת על ידי $h(x) = g(f(x))$.

נתון כי h חח"ע.

הוכח או הפרך כל אחת מהטענות הבאות:

א. g על.

ב. f על.

ג. g חח"ע.

ד. f חח"ע.

תשובות סופיות

- (1) $f^{-1}(x) = 3x + 1$, כל y .
- (2) $f^{-1}(x) = \frac{1}{x-1}$, $y \neq 1$.
- (3) $f^{-1}(x) = \frac{2x-2}{x-3}$, $y \neq 3$.
- (4) $f^{-1}(x) = \sqrt{x+4}$, $y \geq -4$.
- (5) לא חח"ע. תמונה: $y \leq -2$ או $y \geq 2$.
- (6) לא חח"ע. תמונה: $y \geq -\frac{1}{4}$.
- (7) לא חח"ע. תמונה $0 \leq y \leq 1$.
- (8) כן חח"ע. תמונה: $y > 0$. פונקציה הפוכה: $x > 0$, $f^{-1}(x) = 1 - \frac{1}{x^2}$.
- (9) לא חח"ע. תמונה: $y \geq 2.3$ או $y \leq -1.3$.
- (10) כן חח"ע. תמונה: $y \neq 1$. פונקציה הפוכה: $f^{-1}(x) = \frac{1}{1-\sqrt[3]{x}} - \frac{1}{2}$.
- (11) לא חח"ע. תמונה: $y \geq \frac{6}{\sqrt{3}}$.
- (12) א. תחום הגדרה, טווח ותמונה: \mathbb{R} ; על.
 ב. תחום הגדרה $\mathbb{R} \setminus \{0\}$, טווח \mathbb{R} , תמונה: $\mathbb{R} \setminus \{0\}$; לא על.
 ג. תחום הגדרה $\mathbb{R} \setminus \{2\}$, טווח ותמונה: $\mathbb{R} \setminus \{3\}$; על.
 ד. תחום הגדרה $[0, \infty)$, טווח \mathbb{R} , תמונה: $[-4, \infty)$; לא על.
- (13) א. תחום הגדרה וטווח: \mathbb{R} , תמונה: $(0, 1]$; לא על.
 ב. תחום הגדרה \mathbb{R} , טווח ותמונה: $(0, 1]$; על.
 ג. תחום הגדרה $(1, \infty]$, טווח $(0, 1]$, תמונה: $(0, 0.5)$; לא על.
- (14) שאלת הוכחה.
- (15) שאלת הוכחה.
- (16) שאלת הוכחה.

פונקציה זוגית ואי זוגית

שאלות

מצא איזה מבין הפונקציות בשאלות 1-8 הן אי זוגיות ואיזה זוגיות:

$$y = 1 \quad (3) \qquad y = x^4 + x^{10} \quad (2) \qquad y = 4x^3 \quad (1)$$

$$y = 2^x \quad (6) \qquad y = x^2 + \sin^2 x \quad (5) \qquad y = \frac{1}{x} \quad (4)$$

$$y = \sin x \cdot \cos x \quad (8) \qquad y = \ln x + x^2 \quad (7)$$

(9) נתונה פונקציה אי-זוגית $f: \mathbb{R} \rightarrow \mathbb{R}$.

$$\text{נסמן: } k(x) = -f(x), \quad z(x) = f(x^2)$$

בדוק, עבור כל אחת מהפונקציות k, z , האם היא זוגית או אי-זוגית.

(10) נתונה פונקציה אי-זוגית $f: \mathbb{R} \rightarrow \mathbb{R}$, ופונקציה זוגית $g: \mathbb{R} \rightarrow \mathbb{R}$.

$$\text{נסמן: } k(x) = -f(x^3) \text{ ו- } z(x) = -g(x^3)$$

טענה א': $z(x)$ אי-זוגית.

טענה ב': $k(x)$ אי-זוגית.

איזו טענה נכונה?

(11) נתונה פונקציה אי-זוגית $f: \mathbb{R} \rightarrow \mathbb{R}$ ונתונה פונקציה זוגית $g: \mathbb{R} \rightarrow \mathbb{R}$

$$\text{נסמן: } k(x) = f(-x) + x^{11}g(|x|), \quad z(x) = -g(-4x) \cdot f(x^4)$$

בדוק, עבור כל אחת מהפונקציות k, z , האם היא זוגית או אי-זוגית.

(12) הוכח כי:

- א. סכום פונקציות זוגיות היא פונקציה זוגית
- ב. מכפלת פונקציות זוגיות היא פונקציה זוגית.
- ג. מנת פונקציות זוגיות היא פונקציה זוגית.
- ד. הרכבה של פונקציות זוגיות היא פונקציה זוגית.
- ה. הרכבה של פונקציות אי-זוגיות היא פונקציה אי-זוגית.

תשובות סופיות

שאלות 1-8 : זוגית : 2,3,5,8 ; אי-זוגית : 1,4 ; כללית : 6,7.

(9) k אי-זוגית, z זוגית.

(10) טענה ב'.

(11) k אי-זוגית, z זוגית.

(12) שאלת הוכחה.

פונקציה מחזורית

שאלות

מצא את המחזור של כל אחת מהפונקציות בשאלות 1-20 :

$$y = 1 + 14 \cos 20x \quad (2)$$

$$y = -1 + 14 \sec 2x \quad (4)$$

$$y = \cos^2 2x \quad (6)$$

$$y = (\sin x + \cos x)^2 \quad (8)$$

$$y = \cot^2 x \quad (10)$$

$$y = \sin 4x + \sin 14x \quad (12)$$

$$y = \cos 2x \cos x \quad (14)$$

$$y = \sin^4 x \quad (16)$$

$$y = |\sin x| \quad (18)$$

$$y = \cot x - \tan x \quad (20)$$

$$y = 1 + 10 \sin(0.5x + 4) \quad (1)$$

$$y = -4 + 20 \tan 4x \quad (3)$$

$$y = \sin^2 4x \quad (5)$$

$$y = \cos^4 x - \sin^4 x \quad (7)$$

$$y = \cos^4 x + \sin^4 x \quad (9)$$

$$y = \sin \frac{x}{4} + \cos \frac{x}{10} \quad (11)$$

$$y = \sin 4x + \sin 14x + \sin x \quad (13)$$

$$y = \sin^3 x \quad (15)$$

$$y = \frac{\sin 5x}{\cos 2x \cos 3x} \quad (17)$$

$$y = \sin^2 x + \cos^2 x \quad (19)$$

הוכח שהפונקציות בשאלות 21-26 אינן מחזוריות :

$$y = x \sin x \quad (23)$$

$$y = x + \cos x \quad (22)$$

$$y = x + \sin x \quad (21)$$

$$y = \cos 5x + \cos \sqrt{5x} \quad (26)$$

$$y = \frac{\sin x}{x} \quad (25)$$

$$y = x^2 \cos x \quad (24)$$

הערה : בשאלות 21 ו-22 נדרש ידע בחקירת פונקציה.

(27) הוכח :

אם $f(x)$ מחזורית בעלת מחזור p ,

אז $y = a + b \cdot f(cx + d)$ מחזורית בעלת מחזור $\frac{p}{c}$.

(28) הוכח : אם T הוא מחזור של $f(x)$, אז לכל n שלם $f(x + nT) = f(x)$.

(29) נתון כי f, g מוגדרות לכל x ובעלת מחזור p_1, p_2 , בהתאמה.

נתון כי היחס $\frac{p_1}{p_2}$ הוא מספר רציונלי.

הוכח כי גם הפונקציות $f \pm g, f \cdot g, \frac{f}{g}$ ($g \neq 0$) הן מחזוריות.

(30) נתונה הפונקציה $f(x) = x - [x]$.

א. שרטט את גרף הפונקציה.

ב. על סמך הגרף, מהו מחזור הפונקציה?

ג. הוכח את תשובתך מסעיף ב.

(31) נתונה הפונקציה $f(x) = x$ בקטע $[0,1]$.

צייר את גרף הפונקציה המחזורית והאי-זוגית $g(x)$, המוגדרת לכל x ,

שהיא בעלת מחזור 2 ומתלכדת עם $f(x)$ בקטע $[0,1]$, ורשום נוסחה עבור f .

(32) נתונה הפונקציה $f(x) = x^2$ בקטע $[0,1]$.

צייר את גרף הפונקציה המחזורית והזוגית $g(x)$, המוגדרת לכל x ,

שהיא בעלת מחזור 2 ומתלכדת עם $f(x)$ ב- $[0,1]$, ורשום נוסחה עבור g .

תשובות סופיות

- (1) 4π (2) $\frac{\pi}{10}$ (3) $\frac{\pi}{4}$ (4) π (5) $\frac{\pi}{4}$
- (6) $\frac{\pi}{2}$ (7) π (8) π (9) $\frac{\pi}{2}$ (10) π
- (11) 40π (12) π (13) 2π (14) 2π (15) 2π
- (16) π (17) π (18) π

(19) הפונקציה היא למעשה $y = 1$, כלומר פונקציה קבועה ולכן מחזורית. כל מספר חיובי הוא מחזור שלה ואין לה מחזור קטן ביותר.

(20) $\frac{\pi}{2}$

(21) הוכחה.

(22) הוכחה.

(23) הוכחה.

(24) הוכחה.

(25) הוכחה.

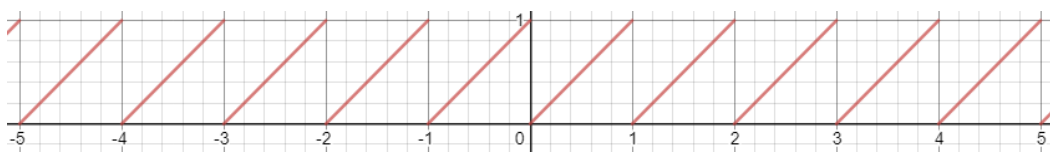
(26) הוכחה.

(27) הוכחה.

(28) הוכחה.

(29) הוכחה.

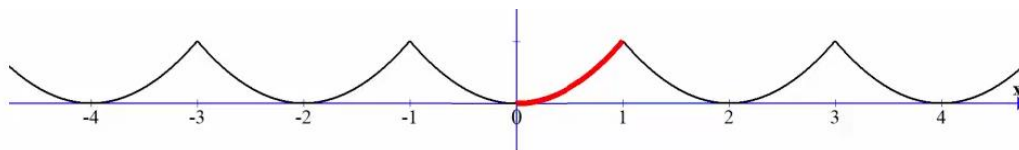
(30) א.



ב. 1 ג. הוכחה.

(31) $g(x) = x - k$, עבור k שלם, זוגי.

(32) $g(x) = (x - k)^2$, עבור k שלם, זוגי.



פונקציה מפוצלת ופונקציה אלמנטרית

שאלות

רשום כל אחת מהפונקציות 1-4 כפונקציה מפוצלת ושרטט את גרף הפונקציה:

$$y = 3|x+1| \quad (2)$$

$$y = |x-2| \quad (1)$$

$$y = \frac{|x|}{x} \quad (4)$$

$$y = x^2 + 2|x-1| \quad (3)$$

$$(5) \quad \text{נתונה הפונקציה } f(x) = \begin{cases} x^2 & 0 \leq x \leq 4 \\ -x & x < 0 \end{cases}$$

א. חשב $f(1)$, $f(4)$, $f(-4)$, $f(0)$, $f(7)$.

ב. שרטט את גרף הפונקציה.

ג. בדוק האם הפונקציה זוגית, אי-זוגית או כללית.

תשובות סופיות

$$y = \begin{cases} 3x+3 & x \geq -1 \\ -3x-3 & x < -1 \end{cases} \quad (2)$$

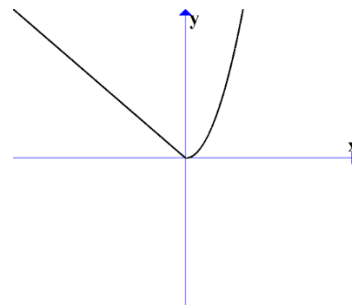
$$y = \begin{cases} x-2 & x \geq 2 \\ 2-x & x < 2 \end{cases} \quad (1)$$

$$y = \begin{cases} 1 & x > 0 \\ -1 & x < 0 \end{cases} \quad (4)$$

$$y = \begin{cases} x^2 + 2x - 2 & x \geq 1 \\ x^2 - 2x + 2 & x < 1 \end{cases} \quad (3)$$

$$(5) \quad \text{א. } f(1) = 1, f(4) = 16, f(-4) = 4, f(0) = 0, f(7) = \text{undefind}$$

ב. ג. הפונקציה כללית.



תרגילים משולבים

שאלות

$$(1) \text{ נתונה הפונקציה } f(x) = \begin{cases} x+1 & x > 1 \\ x^3+1 & -1 \leq x \leq 1 \\ x+1 & x < -1 \end{cases}$$

שרטט את הפונקציה, וקבע האם היא :

א. עולה.

ב. יורדת.

ג. אי-זוגית.

ד. זוגית.

ה. חסומה.

ו. לא חסומה.

ז. חח"ע.

ח. על \mathbb{R} .

הערה: ניתן להתבסס על הציור כנימוק.

$$(2) \text{ נתונה הפונקציה } f(x) = \begin{cases} \frac{2}{x} & x > 1 \\ x^5+1 & -1 \leq x \leq 1 \\ x+1 & x < -1 \end{cases}$$

בכל אחד מהסעיפים הבאים יש טענה.

קבע האם הטענה נכונה או לא נכונה.

א. הפונקציה מונוטונית עולה ממש.

ב. הפונקציה על \mathbb{R} .

ג. הפונקציה אי-זוגית.

ד. הפונקציה זוגית.

ה. הפונקציה חח"ע.

הערה: ניתן לשרטט ולהתבסס על הציור כנימוק.

(3) נתונה פונקציה $f: \mathbb{R} \rightarrow \mathbb{R}$, זוגית ומונוטונית עולה ממש, ופונקציה $g: \mathbb{R} \rightarrow \mathbb{R}$, אי-זוגית ומונוטונית יורדת ממש.

$$\text{נסמן: } z(x) = -g(x^3) \text{ ו- } k(x) = -f(x^3).$$

טענה א': $k(x)$ מונוטונית עולה ממש.

טענה ב': $z(x)$ מונוטונית עולה ממש.

טענה ג': $h(x) = k(x)z(x)$ זוגית.

מי מבין הטענות נכונה?

(4) נתונות שתי פונקציות, $f, g: [0,1] \rightarrow [0,1]$.

נתון ש- f מונוטונית עולה ממש, ואילו g מונוטונית יורדת חלש,

אך אינה יורדת ממש.

תהי $h(x) = f(g(x))$.

איזו טענה נכונה?

א. h יורדת חלש.

ב. h עולה ממש.

ג. h עולה חלש, אך אינה עולה ממש.

ד. h אינה חסומה בהכרח.

$$\text{(5) נתונות הפונקציות } f(x) = \begin{cases} x+4 & x \leq 0 \\ \sqrt{x} & x > 0 \end{cases} \text{ ו- } g(x) = \begin{cases} x^2-4 & x < 0 \\ -x^2-2x-1 & x \geq 0 \end{cases}$$

תהי $h(x) = f(g(x))$.

א. מצא את h בקטע $[-2,0)$.

ב. קבע האם h חח"ע בקטע $[-2,0)$.

ג. קבע האם h חסומה בקטע $[-2,0)$.

ד. קבע האם $h: [-2,0) \rightarrow [0,4]$ היא על.

* בסעיפים ב-ד ניתן להסתמך על גרף הפונקציה.

(6) נתונות פונקציות המוגדרות על כל \mathbb{R} : $f(x) = x^3$, $g(x) = (-1)^{\lfloor x \rfloor}$.

קבע מי מבין הטענות הבאות נכונה.

הפונקציה $h(x) = f(g(x))$ היא:

א. חסומה.

ב. אי-זוגית.

ג. חח"ע.

ד. מונוטונית.

7 נתונות פונקציות המוגדרות על כל \mathbb{R} : $f(x) = x^3$, $g(x) = -\lfloor x \rfloor$.

א. בדוק את מונוטוניות $z(x) = f(g(x))$.

ב. בדוק את מונוטוניות $k(x) = g(f(x))$.

ג. בדוק האם $h(x) = \sqrt[3]{f(x)} - g(-x)$ חסומה.

תזכורת לסעיפים א+ב:

אם $a < b \Leftrightarrow f(a) \geq f(b)$ אז הפונקציה f יורדת חלש.

8 נתונות פונקציות המוגדרות על כל \mathbb{R} : $f(x) = (3\lfloor x \rfloor)^3 + 27\lfloor x \rfloor$
 $g(x) = f(x) + x^3 - 28$

הוכח או הפרך כל אחת מהטענות הבאות:

א. הפונקציה f עולה ממש וחח"ע.

ב. הפונקציה g עולה ממש וחח"ע.

9 מצא את הפונקציה ההפוכה לפונקציה $f(x) = \frac{1}{2}(e^x - e^{-x})$,

וקבע את תחום הגדרתה.

הוכח שהפונקציה על \mathbb{R} .

הערה: הפונקציה לעיל נקראת סינוס היפרבולי.

10 חקור את מונוטוניות הפונקציה $f(x) = \frac{2x+3}{3x-1}$.

הערה: אין להשתמש בנגזרות.

11 נתונה הפונקציה $f(x) = \sqrt{2+x-x^2}$.

א. מצא את תחום ההגדרה של הפונקציה.

ב. מצא את התמונה של הפונקציה.

ג. הוכח שהפונקציה חסומה.

ד. מצא את תחומי העלייה והירידה של הפונקציה.

תשובות סופיות

- (1) א. כן. ב. לא. ג. לא. ד. לא. ה. לא. ו. כן.
ז. כן. ח. כן.
- (2) אף טענה אינה נכונה.
- (3) טענה ב' נכונה.
- (4) טענה א' נכונה.
- (5) א. $h(x) = x^2$ ב. הפונקציה חח"ע בקטע.
ג. הפונקציה חסומה בקטע. ד. הפונקציה לא על.
- (6) א. הפונקציה חסומה. ב. הפונקציה לא זוגית ולא אי זוגית.
ג. הפונקציה לא חח"ע. ד. הפונקציה לא מונוטונית.
- (7) א. הפונקציה $z(x)$ יורדת חלש. ב. הפונקציה $k(x)$ יורדת חלש.
ג. הפונקציה חסומה.
- (8) שאלת הוכחה.
- (9) $f^{-1}(x) = \ln(x + \sqrt{x^2 + 1})$; תחום הגדרתה: כל x .
- (10) ראו באתר.
- (11) א. $-1 \leq x \leq 2$ ב. $0 \leq y \leq \frac{3}{2}$ ג. שאלת הוכחה.
- ד. $-1 \leq x < \frac{1}{2}$ עלייה, $\frac{1}{2} < x \leq 2$ ירידה.

מתמטיקה לביולוגים חד חוגי מורחב

פרק 4 - גבול של פונקציה

תוכן העניינים

1. הסבר כללי	(ללא ספר)
2. הצבה	51
3. צמצום	52
4. הכפלה בצמוד	53
5. גבולות טריגונומטריים	54
6. פונקציה שואפת לאינסוף	55
7. איקס שואף לאינסוף	56
8. הגבול של אוילר	58
9. כלל הסנדויץ	59
10. גבול של פונקציה מפוצלת	60
11. גבול לפי הגדרה	61

הצבה

שאלה

חשב את הגבולות בסעיפים א-ד:

$$\lim_{x \rightarrow 10} \frac{x+1}{x+2} \quad \text{ב.}$$

$$\lim_{x \rightarrow 4} x^2 + x + 1 \quad \text{א.}$$

$$\lim_{x \rightarrow 100} 20 \quad \text{ד.}$$

$$\lim_{x \rightarrow 1^+} \sqrt{x+3} \quad \text{ג.}$$

תשובה

ד. 20

ג. 2

ב. $\frac{11}{12}$

א. 21

צמצום

שאלות

חשב את הגבולות בשאלות 1-9:

$$\lim_{x \rightarrow -5} \frac{2x^2 - 50}{2x^2 + 3x - 35} \quad (2)$$

$$\lim_{x \rightarrow 3} \frac{x^2 - x - 6}{x^2 - 9} \quad (1)$$

$$\lim_{x \rightarrow 1} \frac{x^n - x}{x - 1} \quad (4)$$

$$\lim_{x \rightarrow 1} \frac{x^7 - x}{x - 1} \quad (3)$$

$$\lim_{x \rightarrow 2} \frac{x^4 - 16}{x - 2} \quad (6)$$

$$\lim_{x \rightarrow \frac{1}{2}} \frac{2x^2 - 5x + 2}{6x^2 - 5x + 1} \quad (5)$$

$$\lim_{x \rightarrow 3} \frac{x^3 - 27}{x - 3} \quad (8)$$

$$\lim_{x \rightarrow -1} \frac{x^3 + 1}{x + 1} \quad (7)$$

$$\lim_{x \rightarrow 4} \frac{x^2 - 16}{x^3 - 4x^2 + x - 4} \quad (9)$$

תשובות סופיות

-3 (5)	$n-1$ (4)	6 (3)	$\frac{10}{8.5}$ (2)	$\frac{5}{6}$ (1)
	$\frac{8}{17}$ (9)	27 (8)	3 (7)	32 (6)

הכפלה בצמוד

שאלות

חשב את הגבולות בשאלות 1-8 :

$$\lim_{x \rightarrow 1} \frac{1 - \sqrt{x}}{1 - x} \quad (1)$$

$$\lim_{x \rightarrow 3} \frac{3 - \sqrt{x+6}}{2x - 6} \quad (3)$$

$$\lim_{x \rightarrow 4} \frac{\sqrt{2x+1} - \sqrt{x+5}}{x - 4} \quad (5)$$

$$\lim_{x \rightarrow 1} \frac{1 - \sqrt[3]{x}}{1 - x} \quad (7)$$

$$\lim_{x \rightarrow 3} \frac{x - 3}{\sqrt{x+1} - 2} \quad (2)$$

$$\lim_{x \rightarrow 1} \frac{\sqrt{x^2 + x + 2} - 2}{x^2 - 1} \quad (4)$$

$$\lim_{x \rightarrow 1} \frac{2 - \sqrt{3x+1}}{1 - \sqrt{2x-1}} \quad (6)$$

$$\lim_{x \rightarrow -2} \frac{\sqrt{x^2 + 5} - 3}{\sqrt{x^2 + x + 2} + x} \quad (8)$$

תשובות סופיות

$$\frac{1}{2} \quad (1)$$

$$\frac{1}{6} \quad (5)$$

$$4 \quad (2)$$

$$\frac{3}{4} \quad (6)$$

$$-\frac{1}{12} \quad (3)$$

$$\frac{1}{3} \quad (7)$$

$$\frac{3}{8} \quad (4)$$

$$-\frac{8}{3} \quad (8)$$

גבולות טריגונומטריים

שאלות

חשב את הגבולות בשאלות 1-9 (היעזר בגבול הטריגונומטרי $\lim_{x \rightarrow 0} \frac{\sin x}{x} = 1$):

$$\lim_{x \rightarrow 0} \frac{\sin(3x)}{\sin(4x)} \quad (2)$$

$$\lim_{x \rightarrow 0} \frac{\sin(3x)}{4x} \quad (1)$$

$$\lim_{x \rightarrow 0} \frac{1 - \cos x}{x^2} \quad (4)$$

$$\lim_{x \rightarrow 0} \frac{x \cos x}{\sin 2x} \quad (3)$$

$$\lim_{x \rightarrow 0} \frac{\sqrt{1 + \sin x} - \sqrt{\cos x}}{x} \quad (6)$$

$$\lim_{x \rightarrow 0} \frac{\tan x - \sin x}{x^3} \quad (5)$$

$$\lim_{x \rightarrow 0} \frac{3 \sin x - \sin 3x}{x^3} \quad (8)$$

$$\lim_{x \rightarrow 0} \frac{1 - \cos(1 - \cos x)}{x^4} \quad (7)$$

$$\lim_{x \rightarrow 0} \frac{1 - \sqrt{\cos x}}{x^2} \quad (9)$$

תשובות סופיות

$$\frac{1}{2} \quad (5)$$

$$\frac{1}{2} \quad (4)$$

$$\frac{1}{2} \quad (3)$$

$$\frac{3}{4} \quad (2)$$

$$\frac{3}{4} \quad (1)$$

$$\frac{1}{4} \quad (9)$$

$$4 \quad (8)$$

$$\frac{1}{8} \quad (7)$$

$$\frac{1}{2} \quad (6)$$

פונקציה שואפת לאינסוף

שאלות

חשב את הגבולות בשאלות 1-12 :

$$\lim_{x \rightarrow 2} \frac{(x-1)^2}{x-2} \quad (2)$$

$$\lim_{x \rightarrow 0} \frac{x^2 + 4}{x} \quad (1)$$

$$\lim_{x \rightarrow 2} \frac{x^2 - 1}{(x-2)(x-5)} \quad (4)$$

$$\lim_{x \rightarrow 2} \frac{-x^2}{(2-x)^2} \quad (3)$$

$$\lim_{x \rightarrow 2^-} -\frac{1}{2} \ln(2-x) \quad (6)$$

$$\lim_{x \rightarrow 0^+} \frac{\ln x}{x} \quad (5)$$

$$\lim_{x \rightarrow 0} e^{\frac{1}{x}} \quad (8)$$

$$\lim_{x \rightarrow 0^+} \left((\ln x)^2 + 2 \ln x - 3 \right) \quad (7)$$

$$\lim_{x \rightarrow 0^-} \frac{1}{1 + 2^{\frac{1}{x}}} \quad (10)$$

$$\lim_{x \rightarrow 0^+} \frac{1}{1 + 2^{\frac{1}{x}}} \quad (9)$$

$$\lim_{x \rightarrow 0^+} \ln x \cdot \cot x \quad (12)$$

$$\lim_{x \rightarrow 0} \frac{1}{1 + 2^{\frac{1}{x}}} \quad (11)$$

תשובות סופיות

ϕ (4)	$-\infty$ (3)	ϕ (2)	ϕ (1)
ϕ (8)	∞ (7)	∞ (6)	$-\infty$ (5)
$-\infty$ (12)	ϕ (11)	1 (10)	0 (9)

x שואף לאינסוף

שאלות

חשב את הגבולות בשאלות 1-26 :

$$\lim_{x \rightarrow -\infty} \arctan x + e^x \quad (2)$$

$$\lim_{x \rightarrow -\infty} \frac{x^4 + 2x^2 + 6}{3x^3 + 10x} \quad (4)$$

$$\lim_{x \rightarrow \infty} \left(\frac{x^2 - 5x + 6}{2x + 10} - \frac{x}{2} \right) \quad (6)$$

$$\lim_{x \rightarrow -\infty} \frac{\sqrt{x^2 + 1}}{x} \quad (8)$$

$$\lim_{x \rightarrow \infty} \frac{\sqrt[3]{x^4 + 2x^2 + 6 + 27x^6}}{\sqrt{3x^3 + 10x + 4x^4}} \quad (10)$$

$$\lim_{x \rightarrow \infty} \frac{16^x + 4^{x+1}}{2^{4x+2} + 2^{x+3}} \quad (12)$$

$$\lim_{x \rightarrow \infty} \frac{4 \cdot 9^x + 3^{x+1}}{81^{0.5x} + 3^{x+3}} \quad (14)$$

$$\lim_{x \rightarrow \infty} \sqrt{\frac{4x^2 + 2}{x^2 + 1000x}} \quad (16)$$

$$\lim_{x \rightarrow \infty} e^{\frac{x^4 + 2x^2 + 6}{3x^4 + 10x}} \quad (18)$$

$$\lim_{x \rightarrow \infty} \sqrt[5]{\frac{ax + 1}{bx + 2}} \quad (20)$$

$$\lim_{x \rightarrow \infty} (\sqrt{x^2 + kx} - x) \quad (22)$$

$$\lim_{x \rightarrow -\infty} (\sqrt{x^2 + x + 1} + x) \quad (24)$$

$$\lim_{x \rightarrow \infty} (\sqrt{x^2 + ax} - \sqrt{x^2 + bx}) \quad (26)$$

$$\lim_{x \rightarrow \infty} (e^{-x})^{\ln x} \quad (1)$$

$$\lim_{x \rightarrow \infty} \frac{4x^2 + 2}{x^2 + 1000x} \quad (3)$$

$$\lim_{x \rightarrow \infty} \frac{x^4 + 2x^2 + 6}{3x^5 + 10x} \quad (5)$$

$$\lim_{x \rightarrow \infty} \frac{\sqrt{x^2 + 1}}{x} \quad (7)$$

$$\lim_{x \rightarrow -\infty} \frac{\sqrt{9x^6 - 5x}}{x^3 - 2x^2 + 1} \quad (9)$$

$$\lim_{x \rightarrow \infty} \frac{\sqrt{x+2} - \sqrt{3x-3}}{\sqrt{4x+1} - \sqrt{5x-1}} \quad (11)$$

$$\lim_{x \rightarrow -\infty} \frac{16^x + 4^{\frac{x+1}{2}}}{2^{4x+2} + 2^{x+3}} \quad (13)$$

$$\lim_{x \rightarrow -\infty} \frac{4 \cdot 9^x + 3^{x+1}}{81^{0.5x} + 3^{x+3}} \quad (15)$$

$$\lim_{x \rightarrow \infty} \ln \left(\frac{3x^3 - 5x - 1}{x^3 - 2x^2 + 1} \right) \quad (17)$$

$$\lim_{x \rightarrow -\infty} \sin \left(\frac{x^4 + 2x^2 + 6}{3x^5 + 10x} \right) \quad (19)$$

$$\lim_{x \rightarrow \infty} (\sqrt{x^2 + 5x} - x) \quad (21)$$

$$\lim_{x \rightarrow \infty} (\sqrt{x^2 + x + 1} - x) \quad (23)$$

$$\lim_{x \rightarrow \infty} (\sqrt{x^4 + x^2 + 1} - x^2) \quad (25)$$

תשובות סופיות

- (1) 0 (2) $-\frac{\pi}{2}$ (3) 4 (4) $-\infty$
 (5) 0 (6) -5 (7) 1 (8) -1
 (9) -3 (10) 1.5 (11) $\frac{1-\sqrt{3}}{2-\sqrt{5}}$ (12) $\frac{1}{4}$
 (13) 0 (14) 4 (15) $\frac{1}{9}$ (16) 2
 (17) $\ln 3$ (18) $e^{\frac{1}{3}}$ (19) 0
 (20) אם $b \neq 0$: $\lim = \sqrt[b]{\frac{a}{b}}$ אם $b = 0, a > 0$: ∞ אם $b = 0, a < 0$: $-\infty$
 (21) 2.5 (22) $\frac{k}{2}$ (23) $\frac{1}{2}$ (24) $-\frac{1}{2}$
 (25) $\frac{1}{2}$ (26) $\frac{a-b}{2}$

הגבול של אוילר

שאלות

חשב את הגבולות בשאלות 9-1:

(היעזר בגבול של אוילר: $\lim_{x \rightarrow 0} (1+x)^{\frac{1}{x}} = e$: $\lim_{x \rightarrow \infty} (1 + \frac{1}{x})^x = e$)

$$\lim_{x \rightarrow \infty} \left(1 + \frac{1}{x^2}\right)^x \quad (2) \qquad \lim_{x \rightarrow \infty} \left(1 + \frac{1}{2x}\right)^x \quad (1)$$

$$\lim_{x \rightarrow \infty} \left(1 - \frac{1}{x^2}\right)^{x^2-1} \quad (4) \qquad \lim_{x \rightarrow \infty} \left(\frac{x+2}{x}\right)^x \quad (3)$$

$$\lim_{x \rightarrow 0} (1 + \sin x)^{\frac{1}{x}} \quad (6) \qquad \lim_{x \rightarrow \infty} \left(\frac{2x+3}{2x-3}\right)^x \quad (5)$$

$$\lim_{x \rightarrow \infty} \left(\frac{x^2 + 4x + 1}{x^2 + x + 2}\right)^{10x} \quad (8) \qquad \lim_{x \rightarrow \infty} \left(\frac{x^2 + x + 1}{x^2 + x + 4}\right)^{4x^2} \quad (7)$$

$$\lim_{x \rightarrow \infty} \left(1 + \tan \frac{1}{x}\right)^x \quad (9)$$

תשובות סופיות

$$e^3 \quad (5) \qquad e^{-1} \quad (4) \qquad e^2 \quad (3) \qquad 1 \quad (2) \qquad e^{\frac{1}{2}} \quad (1)$$

$$e \quad (9) \qquad e^{30} \quad (8) \qquad e^{-12} \quad (7) \qquad e \quad (6)$$

כלל הסנדוויץ'

שאלות

חשב את הגבולות בשאלות 10-1 :

$$\lim_{x \rightarrow \infty} \frac{\cos(2x+1)}{x} \quad (2) \qquad \lim_{x \rightarrow \infty} \frac{\sin x}{x} \quad (1)$$

$$\lim_{x \rightarrow \infty} \frac{3x^2 + x + \sin 2x}{x^2 + \cos 3x} \quad (4) \qquad \lim_{x \rightarrow \infty} \frac{3x + \sin x}{4x + \cos x} \quad (3)$$

$$\lim_{x \rightarrow 0} x^2 \cdot \cos(\ln x^2) \quad (6) \qquad \lim_{x \rightarrow 0} x \cdot \sin\left(\frac{1}{x}\right) \quad (5)$$

$$\lim_{x \rightarrow \infty} \sqrt[x]{2^x + 3^x + 4^x} \quad (8) \qquad \lim_{x \rightarrow \infty} \frac{3x + \arctan(2x-3)}{4x + \arctan(x - \ln x)} \quad (7)$$

$$\lim_{x \rightarrow 0^+} \frac{1}{x} [x] \quad (10) \qquad \lim_{x \rightarrow \infty} \frac{1}{x} [x] \quad (9)$$

(11) נתונה פונקציה $z: \mathbb{R} \rightarrow \mathbb{R}$, המקיימת $\lim_{x \rightarrow 2} z(x) = 4$,

ונתונה פונקציה $f: \mathbb{R} \rightarrow \mathbb{R}$, המקיימת $4z(x) \leq f(x) \leq (z(x))^2$ לכל x .

חשב את הגבולות הבאים:

$$\lim_{x \rightarrow 2} f(x), \quad \lim_{x \rightarrow 2} \tan(z(x)), \quad \lim_{x \rightarrow -\sqrt{2}} (z(x^2) - x^2), \quad \lim_{x \rightarrow \infty} \frac{\cos(z(x))}{x}$$

תשובות סופיות

$$0 \quad (5) \qquad 3 \quad (4) \qquad \frac{3}{4} \quad (3) \qquad 0 \quad (2) \qquad 0 \quad (1)$$

$$0 \quad (10) \qquad 1 \quad (9) \qquad 4 \quad (8) \qquad \frac{3}{4} \quad (7) \qquad 0 \quad (6)$$

$$\lim_{x \rightarrow \infty} \frac{\cos(z(x))}{x} = 0 \qquad \lim_{x \rightarrow 2} f(x) = 16 \quad (11)$$

$$\lim_{x \rightarrow -\sqrt{2}} (z(x^2) - x^2) = 2 \qquad \lim_{x \rightarrow 2} \tan(z(x)) = \tan 4$$

גבול של פונקציה מפוצלת

שאלות

חשב את הגבול $\lim_{x \rightarrow a} f(x)$ של הפונקציות בשאלות 1-6:

$$(a=0), f(x) = \begin{cases} \frac{\sin 4x}{x} & x > 0 \\ 4 + e^x & x < 0 \end{cases} \quad (1)$$

$$(a=1), f(x) = \begin{cases} \frac{x^2 + x - 2}{x - 1} & x > 1 \\ \frac{x - 1}{\sqrt{x} - 1} & x < 1 \end{cases} \quad (2)$$

$$(a=0), f(x) = \frac{|x|}{x} \quad (3)$$

$$(a=\infty), f(x) = \frac{|x|}{x} \quad (4)$$

$$(a=-\infty), f(x) = \frac{|x|}{x} \quad (5)$$

$$\lim_{x \rightarrow 1} \frac{|1-x|}{x^2 + x - 2} \quad \text{א.} \quad (6)$$

$$\lim_{x \rightarrow 4} \frac{|1-x|}{x^2 + x - 2} \quad \text{ב.}$$

תשובות סופיות

(1) 4 (2) ϕ (3) ϕ (4) 1 (5) -1

(6) א. אין גבול. ב. $\frac{1}{6}$

גבול לפי הגדרה

שאלות

בשאלות 1-6, על פי הגדרת הגבול, הוכח:

$$\lim_{x \rightarrow 24} \sqrt{x+1} = 5 \quad (3)$$

$$\lim_{x \rightarrow 4} x^2 + x = 20 \quad (2)$$

$$\lim_{x \rightarrow 2} 7x + 14 = 28 \quad (1)$$

$$\lim_{x \rightarrow \alpha} \sin x = \sin \alpha \quad (6)$$

$$\lim_{x \rightarrow 2} \frac{x^2 - x}{x^2 - 2} = 1 \quad (5)$$

$$\lim_{x \rightarrow 4} \frac{1}{\sqrt{x+2}} = \frac{1}{4} \quad (4)$$

$$(7) \text{ חשב, על פי הגדרת הגבול: } \lim_{x \rightarrow 1} \frac{x+1}{x^2-1}$$

הוכח, על פי הגדרת הגבול, את המקרים 8-11:

$$\lim_{x \rightarrow \infty} \frac{x+7}{x+2} = 1 \quad (9)$$

$$\lim_{x \rightarrow 2} \frac{3+x}{x^2+1} = 1 \quad (8)$$

$$\lim_{x \rightarrow \infty} \frac{3x^2-1}{x^2+x+1} = 3 \quad (11)$$

$$\lim_{x \rightarrow \infty} \frac{3-4x}{2x+1} = -2 \quad (10)$$

$$(12) \text{ נתונה פונקציה } f(x) \text{ המקיימת: } \lim_{x \rightarrow \infty} f(x) = -5$$

הוכח כי קיים $M > 0$ ממשי כלשהו, כך שעבור כל $x > M$ מתקיים $f(x) < -4$.

$$(13) \text{ נתונה פונקציה } f(x) \text{ המקיימת: } \lim_{x \rightarrow \infty} f(x) = 5$$

הוכח כי קיים $M > 0$ ממשי כלשהו, כך שעבור כל $x > M$ מתקיים $f^2(x) > 16$.

$$(14) \text{ נניח } f \text{ פונקציה ממשית וחיובית בתחום } [a, \infty) \text{ המקיימת } \lim_{x \rightarrow \infty} f(x) = 0$$

$$\text{הוכח שמתקיים } \lim_{x \rightarrow \infty} \sqrt{f(x)} = 0$$

$$(15) \text{ נתון הגבול הבא: } \lim_{x \rightarrow \infty} \frac{x^2 + 2x}{x^2 + 3x + 2} = 1$$

מצא ערך של $M > 0$, עבורו לכל $x > M$ הביטוי שבגבול קרוב לערך הגבול עד כדי 0.1 (במילים אחרות, מצא M , כך ש- $|f(x) - L| < 0.1$).

$$(16) \text{ מגדירים את הפונקציה הבאה: } f(x) = \begin{cases} 2 & x \in \mathbb{Z} \\ -1 & x \in \mathbb{R} / \mathbb{Z} \end{cases}$$

האם הגבולות קיימים? הוכח את תשובותיך בהסתמך על הגדרת הגבול.

$$\text{א. } \lim_{x \rightarrow \infty} f(x) \quad \text{ב. } \lim_{x \rightarrow 2.5} f(x) \quad \text{ג. } \lim_{x \rightarrow \pi} f(x)$$

$$(17) \text{ בהינתן הגבול } \lim_{x \rightarrow 1} \frac{2x+4}{x+11} = \frac{1}{2} \text{ מצא } \delta > 0 \text{ , כך שלכל } x \in \mathbb{R}$$

$$\text{המקיים } |x-1| < \delta \text{ , אי-השוויון } \left| \frac{2x+4}{x+11} - \frac{1}{2} \right| < \frac{1}{100} \text{ מתקיים.}$$

(18) הוכח או הפרך את הטענות הבאות:

$$\text{א. אם } \lim_{x \rightarrow \infty} (f(x) - g(x)) = 0 \text{ , אז } \lim_{x \rightarrow \infty} (f^2(x) - g^2(x)) = 0$$

$$\text{ב. אם } \lim_{x \rightarrow x_0} (f(x) - g(x)) = 0 \text{ , אז } \lim_{x \rightarrow x_0} (f^2(x) - g^2(x)) = 0$$

$$\text{ג. אם } \lim_{x \rightarrow x_0} |f(x)| = L \text{ , אז: הגבול } \lim_{x \rightarrow x_0} f(x) \text{ קיים ושווה ל-} L \text{ או } -L$$

$$\text{ד. אם הגבולות } \lim_{x \rightarrow x_0} (f(x) + g(x)) \text{ ו-} \lim_{x \rightarrow x_0} f(x) \text{ קיימים,}$$

$$\text{אז גם הגבול } \lim_{x \rightarrow x_0} g(x) \text{ קיים.}$$

$$(19) \text{ רוצים להוכיח כי } \lim_{x \rightarrow 2} \frac{x+2}{x+3} \neq 1 \text{ לפי ההגדרה.}$$

$$(20) \text{ רוצים להוכיח כי } \lim_{x \rightarrow 4} \frac{2x+1}{x+10} \neq 1 \text{ לפי ההגדרה.}$$

$$(21) \text{ הוכח שאם } \lim_{x \rightarrow 0} f(x) = 3 \text{ , אז קיימת סביבה נקובה של } 0 \text{ שבה } f(x) > 2$$

(22) הוכח שאם $\lim_{x \rightarrow x_0} f(x) > L$, אז קיימת סביבה נקובה של x_0 שבה $f(x) > L$.

תשובות סופיות

(7) $\pm\infty$

תשובות לשאר השאלות נמצאות באתר: GOOL.co.il

מתמטיקה לביולוגים חד חוגי מורחב

פרק 5 - רציפות של פונקציה - משפט ערך הביניים

תוכן העניינים

64	1. רציפות של פונקציה
70	2. משפט ערך הביניים
74	3. תכונות נוספות של פונקציות רציפות
76	4. שיטת החצייה

רציפות של פונקציה

שאלות

בשאלות 1-6: בדוק את רציפות הפונקציות בנקודת התפר¹ שלהן, ובשאלות 1 ו-2, שרטט גם את גרף הפונקציה:

$$f(x) = \begin{cases} x & x \geq 1 \\ x^2 & x < 1 \end{cases} \quad (2)$$

$$f(x) = \begin{cases} x+1 & x \leq 2 \\ 5-x & x > 2 \end{cases} \quad (1)$$

$$f(x) = \begin{cases} \sin x & x < 0 \\ x^2 & 0 \leq x < 1 \\ 2-x & 1 \leq x < 2 \\ x-3 & x < 0 \end{cases} \quad (4)$$

$$f(x) = \begin{cases} \frac{1}{x} & x \leq 1 \\ |x-2| & 1 < x < 2 \\ 1 & x = 2 \\ x-2 & x > 2 \end{cases} \quad (3)$$

$$f(x) = \begin{cases} \frac{\sin x}{x} & x > 0 \\ 2 & x = 0 \\ 1+e^{\frac{1}{x}} & x < 0 \end{cases} \quad (6)$$

$$f(x) = \begin{cases} \frac{\sin 4x}{x} & x > 0 \\ 4+e^{\frac{1}{x}} & x < 0 \end{cases} \quad (5)$$

(7) עבור כל אחת מהפונקציות בשאלות 3-6: רשום עבור כל נקודת אי רציפות מאיזה סוג היא. בנוסף, הדגם פונקציה בעלת נקודת אי רציפות מסוג שני.

בשאלות 8-11: מה צריך להיות הערך הקבוע של k , על מנת שהפונקציות תהיינה רציפות לכל x :

$$f(x) = \begin{cases} \frac{x^2 + 2x - 3}{x-1} & x \neq 1 \\ k & x = 1 \end{cases} \quad (9)$$

$$f(x) = \begin{cases} kx^2 + x - 2 & x \leq 2 \\ 5kx - 6 & x > 2 \end{cases} \quad (8)$$

$$f(x) = \begin{cases} 2x - k & x \leq 0 \\ x^{2x} & x > 0 \end{cases} \quad (11)$$

$$f(x) = \begin{cases} \frac{\sqrt{x^2 + 5} - 3}{x-2} & x \neq 2 \\ k & x = 2 \end{cases} \quad (10)$$

הערה: שאלה 11 ניתן לפתור רק לאחר שלומדים את כלל לופיטל.

¹ נקודת התפר היא הנקודה בה נוסחת הפונקציה משתנה.

בשאלות 12-15: מה צריכים להיות הערכים של הקבועים a ו- b , על מנת שהפונקציות תהיינה רציפות בתחום הגדרתן?

$$f(x) = \begin{cases} ax+b & x \leq 0 \\ \frac{\sin x}{2x} & 0 < x < \pi \\ a \cos x & x \geq \pi \end{cases} \quad (12)$$

$$f(x) = \begin{cases} a\sqrt[3]{x} + x^2 & x < -1 \\ bx^2 + x - 1 & -1 \leq x \leq 1 \\ 4 \frac{\sqrt{x-1+a} - \sqrt{a}}{\sqrt{a}(x-1)} & x > 1 \end{cases} \quad (13)$$

$$f(x) = \begin{cases} \frac{1}{x^{1-x}} & x > 1 \\ (x-1)\ln(x+1) + b & 0 \leq x \leq 1 \\ a \frac{2^x - 2}{2^x + 4} & x < 0 \end{cases} \quad (14)$$

$$f(x) = \begin{cases} \frac{1}{1+e^{\frac{1}{1-x}}} & x < 1 \\ ax^2 + b & 1 \leq x \leq 2 \\ (x-1)^{\frac{1}{x-2}} & x > 2 \end{cases} \quad (15)$$

הערה: שאלות 14-15 ניתן לפתור רק לאחר שלומדים את כלל לופיטל.

(16) הוכח או הפרך:

- סכום שתי פונקציות לא רציפות הוא פונקציה לא רציפה.
- הפרש שתי פונקציות לא רציפות הוא פונקציה לא רציפה.
- מכפלת שתי פונקציות לא רציפות היא פונקציה לא רציפה.
- מנתן של שתי פונקציות לא רציפות היא פונקציה לא רציפה.

(17) ידוע ש- f רציפה ו- g לא רציפה. האם $f+g$ רציפה? הוכח את טענתך.

$$(18) \text{ תהי } f(x) = \begin{cases} |x|-1 & |x+1| \geq 4 \\ 2 & |x+1| < 4 \end{cases}$$

- א. שרטטו את גרף הפונקציה.
 ב. מצאו את נקודות האי רציפות של הפונקציה ואת סוגן (במידה ויש).
 ג. תהי $g(x) = x + \frac{1}{x}$, ותהי $f(x)$ מוגדרת וחיובית לכל x . האם ההרכבה $g(f(x))$ בהכרח רציפה לכל x ?

(19) תהי f פונקציה חסומה בקטע $(0,1)$.

$$g(x) = \begin{cases} f(x) & 0 < x < 1 \\ x^2 & 1 \leq x < 2 \end{cases} \text{ על ידי } (0,2) \text{ בקטע}$$

- א. האם יתכן שהנקודה $x_0 = 1$ היא נקודת אי-רציפות סליקה של g ? נמק.
 ב. האם g חסומה בקטע $(0,2)$? נמק.

(20) תהי $f: \mathbb{R} \rightarrow (0, \infty)$ פונקציה שמקיימת $f(x+y) = f(x)f(y)$, לכל $x, y \in \mathbb{R}$.
 נניח ש- f רציפה ב- $x=0$.
 הוכח ש- f רציפה לכל x .

(21) תהי $f: \mathbb{R} \rightarrow (0, \infty)$ פונקציה שמקיימת $f(x+y) = [f(x)f(y)]^2$, לכל $x, y \in \mathbb{R}$.
 נניח ש- f רציפה ב- $x=0$.
 הוכח ש- f רציפה לכל x .

(22) יהיו $f, g: \mathbb{R} \rightarrow \mathbb{R}$ פונקציות רציפות המקיימות $f(a) \neq g(a)$, עבור a ממשי מסוים.
 הראה שקיימת סביבה של a , שבה $f(x) \neq g(x)$.

הערה

תרגיל זה מכיל בתוכו גם את הטענה הבאה:
 תהי $f: \mathbb{R} \rightarrow \mathbb{R}$ פונקציה רציפה המקיימת $f(a) \neq 0$, עבור a ממשי מסוים.
 הראה שקיימת סביבה של a , שבה $f(x) \neq 0$.
 פשוט לקחנו $g(x) = 0$.
 בטענה זו נשתמש בשאלה האחרונה תחת הנושא 'משפט ערך הביניים', בסעיף האחרון.

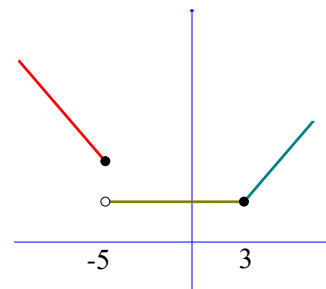
(23) נתונה הפונקציה $f(x) = x - \frac{1}{2} \lfloor 2x \rfloor$.

הוכח או הפרך :

- א. הפונקציה f חסומה לכל x .
- ב. הפונקציה f רציפה לכל x .
- ג. הפונקציה f מונוטונית לכל x .
- ד. הפונקציה f זוגית או אי-זוגית לכל x .

תשובות סופיות

- (1) רציפה.
 (2) רציפה.
 (3) רציפה בנקודה $x=1$, לא רציפה בנקודה $x=2$.
 (4) רציפה בנקודות $x=0,1$, לא רציפה בנקודה $x=2$.
 (5) לא רציפה.
 (6) לא רציפה.
 (7) 5. סליקה. 6. סליקה. 4. סוג ראשון. 3. סליקה.
 (8) $k=1$
 (9) $k=4$
 (10) $k=\frac{2}{3}$
 (11) $k=-1$
 (12) $a=0, b=\frac{1}{2}$
 (13) $a=2, b=1$ או $a=1, b=2$
 (14) $a=-2e^{-1}, b=e^{-1}$
 (15) $a=\frac{e}{3}, b=-\frac{e}{3}$
 (16) הוכחה.
 (17) הוכחה.
 (18) א.



- ב. הפונקציה רציפה לכל $x \neq -5$. ב-5 יש אי רציפות מסוג ראשון. ג. לא.
 (19) א. לא. ב. כן.

(20) הוכחה.

(21) הוכחה.

(22) הוכחה.

(23) א. טענה נכונה. ב. טענה לא נכונה. ג. טענה לא נכונה. ד. טענה לא נכונה.

משפט ערך הביניים

שאלות

בשאלות 1-4 הוכח שלמשוואה יש לפחות פתרון אחד :

$$(1) \quad x^3 + 4x - 1 = 0$$

$$(2) \quad x^2 = -\ln x$$

$$(3) \quad x - 0.25 \sin x = 7$$

$$(4) \quad x^3 + bx^2 + cx + d = 0$$

בשאלות 5-6 הוכח שלמשוואה יש לפחות שני פתרונות :

$$(5) \quad e^x - 5x = 0$$

$$(6) \quad 4x^3 + 5x - \frac{1}{x} = 0$$

(7) ענה על הסעיפים הבאים :

א. תהי f פונקציה רציפה לכל x , המקיימת : $f(0) = 1$, $f(1) = 2$.

הוכח שלמשוואה $f(x) + \sin x = 4x$ יש לפחות פתרון אחד.

ב. תהי $f : \mathbb{R} \rightarrow [-4, 4]$ פונקציה רציפה.

הוכח שלמשוואה $2x + f(x) = 1$ יש לפחות פתרון אחד.

(8) מצא קטע, שאורכו אינו עולה על יחידה אחת,

בו למשוואה $x^2 = 10 - \frac{1}{x}$ יש פתרון.

$$(9) \quad \text{נגדיר } f(x) = x^2 + \frac{1}{x-1}$$

א. חשב את $f(0)$, $f(2)$.

ב. האם ניתן להסיק לפי משפט ערך הביניים שלמשוואה $x^2 + \frac{1}{x-1} = 0$

יש פתרון בקטע $(0, 2)$?

10 תהיינה f, g פונקציות רציפות ב- $[a, b]$ המקיימות $f(a) < g(a), f(b) > g(b)$
 הוכח שקיימת נקודה $a < c < b$ שבה $f(c) = g(c)$.

11 נתונה פונקציה רציפה בקטע סגור $[a, b]$ שהוא חלקי לתחום הגדרתה.
 נניח ש- $f([a, b]) \subseteq [a, b]$
 הוכח כי קיימת נקודה $c \in [a, b]$ כך ש- $f(c) = c$
 נקודה c כנ"ל נקראת "נקודת שִׁבְת" של הפונקציה.

12 נתונה פונקציה רציפה $f: [0, 1] \rightarrow [0, 1]$
 הוכח כי קיימת נקודה $c \in [0, 1]$ כך ש- $f(c) = c^{1.5}$.

13 נתונה פונקציה רציפה $f: [0, 1] \rightarrow \mathbb{R}$ המקיימת $f(0) = f(1)$
 א. הוכח כי קיימת נקודה $c \in [0, 0.5]$ כך ש- $f(c) = f(c + 0.5)$
 ב. הוכח כי קיימות נקודות $c, d \in [0, 1]$ כך ש- $f(c) = f(d)$.

14 נתונה פונקציה רציפה $f: [0, 2] \rightarrow \mathbb{R}$ המקיימת $f(0) < f(2) < f(1)$
 הוכח כי קיימים $c_1, c_2 \in [0, 2]$ כך ש- $f(c_1) = f(c_2)$.

15 נתונה פונקציה רציפה $f: [0, 8] \rightarrow \mathbb{R}$ המקיימת $f(0) = f(8)$
 הוכח כי קיימות נקודות $c_1, c_2, c_3, c_4 \in [0, 8]$ כך ש-
 $f(c_1) = f(c_2), f(c_3) = f(c_4)$

16 הוכח שהפונקציה $f(x) = x + \sin x$ היא על \mathbb{R} .

17 הוכח שהפונקציה $f(x) = x \cdot \sin x$ היא על \mathbb{R} .

18 תהי $f: \mathbb{R} \rightarrow \mathbb{R}$ פונקציה רציפה ומחזורית עם מחזור 2π
 הוכח שקיים $x_0 \in \mathbb{R}$ כך ש- $f(x_0 + \pi) = f(x_0)$.

19 יהיו $0 \leq a_1, \dots, a_n \leq 1$ קבועים המקיימים $a_1 + \dots + a_n = 1$
 הוכיחו כי למשוואה $|x - a_1| + \dots + |x - a_n| = \frac{n}{2}$ יש לפחות פתרון אחד.

(20) ענה על הסעיפים הבאים :

- א. תהי $f: \mathbb{R} \rightarrow \mathbb{R}$ פונקציה חח"ע ורציפה. הוכח כי f עולה ממש או יורדת ממש.
 ב. תהי $f: \mathbb{R} \rightarrow [0, \infty)$ פונקציה חח"ע ועל. הוכח כי f לא רציפה ב- \mathbb{R} .

(21) תהי $f: \mathbb{R} \rightarrow [-1, 1]$ פונקציה רציפה.

הוכח כי קיימים אינסוף ערכים של x , שעבורם $f(x) = \sin x$.

(22) יהי P פולינום ממעלה זוגית, מהצורה $P(x) = x^n + a_{n-1}x^{n-1} + \dots + a_0$, ונניח כי $a_0 < 0$.

הוכח כי ל- P ישנם לפחות שני שורשים ממשיים, שונים זה מזה.

(23) יהיו f, g פונקציות רציפות המקיימות :

$\lim_{x \rightarrow \infty} f(x) = k, \lim_{x \rightarrow -\infty} f(x) = -k, \lim_{x \rightarrow \infty} g(x) = -k, \lim_{x \rightarrow -\infty} g(x) = k$, כאשר $0 < k \in \mathbb{R}$.
 הוכח כי קיים לפחות פתרון אחד למשוואה $f(x) = g(x)$.

(24) ענה על הסעיפים הבאים :

א. תהי f פונקציה רציפה בקטע (a, b) , ותהיינה x_1, \dots, x_n (כאשר $n > 1$) נקודות כלשהן ב- (a, b) .

הוכח שקיימת נקודה c בקטע (a, b) , כך ש- $f(c) = \frac{1}{n}(f(x_1) + \dots + f(x_n))$.

ב. תהי f פונקציה רציפה בקטע (a, b) .

האם לכל $c \in (a, b)$, ניתן למצוא נקודות x_1, \dots, x_n , שונות זו מזו,

כאשר $n > 1$, כך ש- $f(c) = \frac{1}{n}(f(x_1) + \dots + f(x_n))$?

הוכח את תשובתך.

(25) תהי f פונקציה רציפה בקטע פתוח (a, b) .

נניח כי: $\lim_{x \rightarrow a^+} f(x) = -\infty, \lim_{x \rightarrow b^-} f(x) = \infty$.

הראה כי תמונת הקטע (a, b) היא \mathbb{R} .

(26) תהי $f: \mathbb{R} \rightarrow \mathbb{R}$ פונקציה רציפה, המקיימת $f(0) = -1$, $f(1) = 4$.

תהי $S = \{x \in [0,1] \mid f(x) = 0\}$.

א. הוכח ש- S לא ריקה.

ב. הוכח שלקבוצה S יש חסם עליון, שנסמנו α .

ג. הוכח כי $\alpha \in (0,1]$.

ד. הוכח כי $f(\alpha) = 0$.

(27) תהי $f: [a,b] \rightarrow \mathbb{R}$ רציפה, כך ש- $f(a) = f(b)$.

הוכח שקיימים $a < x_1 < x_2 < b$, כך ש- $f(x_1) = f(x_2)$.

תשובות סופיות

(8) $[0.1,1]$

(9) א. $f(0) = -1$, $f(2) = 5$. ב. לא.

שאלות 1-7 ושאלות 10-27 הן שאלות הוכחה.

לתשובות מלאות בסרטוני וידאו היכנסו לאתר GooL.co.il

תכונות נוספות של פונקציות רציפות

שאלות

- (1) קבע בכל סעיף, האם הטענה נכונה או לא נכונה. הוכח את תשובתך. קיימת פונקציה המוגדרת בקטע $[0,1]$, שהיא:
- א. חח"ע, אבל לא מונוטונית.
 - ב. מונוטונית, אבל לא רציפה.
 - ג. מונוטונית, אבל לא חסומה.
 - ד. חסומה, אבל לא רציפה.
 - ה. רציפה, אבל לא חסומה.
 - ו. הופכת מחיובית לשלילית מבלי לעבור דרך האפס.
 - ז. מקבלת מקסימום ומינימום אבל לא רציפה.
 - ח. רציפה אבל לא מקבלת מקסימום.
 - ט. חסומה, שתמונתה אינו קטע.
 - י. רציפה, שתמונתה אינה קטע.
- יא. אינה רציפה בקטע זה, אבל בעלת התכונה, שתמונת הקטע $[0,1]$, על ידי f , היא קטע.
- (2) תהי $f: [a,b] \rightarrow \mathbb{R}$ פונקציה רציפה, המקיימת $f(x) > 0$ לכל $x \in [a,b]$. הוכח שקיים $\alpha > 0$, כך ש- $f(x) \geq \alpha$ לכל $x \in [a,b]$.
- (3) תהי $f: [0, \infty) \rightarrow \mathbb{R}$ פונקציה רציפה, ונניח כי $\lim_{x \rightarrow \infty} f(x)$ קיים. הוכח ש- f חסומה.
- (4) יהיו $f, g: \mathbb{R} \rightarrow \mathbb{R}$ פונקציות רציפות. נתון שלכל שתי נקודות x_1, x_2 , המקיימות $x_1 < x_2$, קיימת נקודה x_3 כך ש- $x_1 < x_3 < x_2$, שעבורה $f(x_3) = g(x_3)$. הוכח כי $f(x) = g(x)$ לכל x .
- (5) תהי $f: [0,1] \rightarrow (0,1)$ פונקציה על. הוכח ש- f לא רציפה ב- $[0,1]$.
- (6) תהי $f: \mathbb{R} \rightarrow \mathbb{R}$ פונקציה רציפה, שמקיימת $f(x) = f(x^2)$ לכל $x \in \mathbb{R}$. הוכח ש- f פונקציה קבועה.

(7) תהי $f: \mathbb{R} \rightarrow \mathbb{R}$ פונקציה רציפה, שמקיימת $f(x+y) = f(x) + f(y)$,
 לכל $x, y \in \mathbb{R}$.
 הוכח כי $f(x) = f(1)x$, לכל $x \in \mathbb{R}$.

(8) תהי $f(x)$ פונקציה המוגדרת בקטע (a, b) , ונניח שקיים קבוע ממשי K ,
 כך שלכל שתי נקודות, x_1 ו- x_2 , בקטע (a, b) , מתקיים **תנאי ליפשיץ**:
 $|f(x_1) - f(x_2)| \leq K |x_1 - x_2|$
 הוכח כי $f(x)$ רציפה בקטע (a, b) .
 * נסה להוכיח בשתי דרכים שונות.

(9) הוכח שלכל פולינום ממעלה זוגית יש נקודת מינימום מוחלט.
 באריכות:
 הוכח שאם f פולינום ממעלה זוגית, אז קיימת נקודה $x_0 \in \mathbb{R}$,
 כך ש- $f(x) \geq f(x_0)$, לכל $x \in \mathbb{R}$.

(10) בסעיפים א ו-ב הוכח:

- א. שלכל מספר ממשי, קיימת סדרה של רציונליים שמתכנסת אליו.
 ב. שלכל מספר ממשי, קיימת סדרה של אי-רציונליים שמתכנסת אליו.
 ג. תהי $f(x) = \begin{cases} 1 & x \in \mathbb{Q} \\ 0 & x \notin \mathbb{Q} \end{cases}$. הוכח שהפונקציה לא רציפה בכל נקודה $x \in \mathbb{R}$.
 הערה: הפונקציה הנ"ל נקראת פונקציית דיריכלה.

(11) הוכח או הפרך:

- א. אם $f(x)$ רציפה בנקודה c , אז $|f(x)|$ רציפה בנקודה c .
 ב. אם $|f(x)|$ רציפה בנקודה c , אז $f(x)$ רציפה בנקודה c .

בשאלות **12-13** הוכח:

- (12)** אם f רציפה ב- x_0 , אז קיימת סביבה של x_0 , בה f חסומה.
(13) אם f רציפה ב- x_0 , ואם $f(x_0) > 0$, אז קיימת סביבה של x_0 , שבה $f(x) > 0$.

תשובות סופיות

לתשובות מלאות בסרטוני וידאו היכנסו לאתר GooL.co.il

שיטת החצייה

שאלות

(1) נתונה המשוואה $x^3 - 2x^2 - x + 2 = 0$. בעזרת שיטת החצייה בקטע $[-2, 3]$, מצא שורש מקורב של המשוואה על ידי 6 איטרציות. מהו קירוב השורש?

(2) נתונה המשוואה: $x^3 - x - 2 = 0$.
 א. מצא קטע שאורכו לא עולה על 1, המכיל שורש של המשוואה.
 ב. כמה איטרציות של שיטת החצייה יש לבצע, כדי למצוא קירוב של השורש בדיוק של 0.001?
 ג. חשבו את השורש שמצאתם בדיוק של 0.001.

הערה: בסרטון ההסבר של שיטת החצייה יש תרגיל נוסף.

תשובות סופיות

(1) 0.07
 (2) א. $[1, 2]$ ב. 10 ג. $x = 1.520$

מתמטיקה לביולוגים חד חוגי מורחב

פרק 6 - הגדרת הנגזרת - גזירות של פונקציה - נגזרות חד-צדדיות

תוכן העניינים

77	1. הגדרת הנגזרת וגזירות של פונקציה
84	2. נגזרות חד צדדיות

הגדרת הנגזרת, גזירות של פונקציה

לתשומת לבך

בפרק זה אנו מניחים שהנך יודע לגזור פונקציות לפי נוסחאות גזירה כפי שנלמד בבית הספר. במידה והנחה זו שגויה, עבור ראשית לפרק הבא, למד את הנושא, ורק כשסיימת חזור לכאן.

שאלות*

בשאלות 1-6 חשב את הנגזרת של הפונקציה הנתונה על פי ההגדרה:

$$f(x) = \sin 4x \quad (3) \qquad f(x) = \frac{1}{x+1} \quad (2) \qquad f(x) = x^2 + 4x + 1 \quad (1)$$

$$f(x) = \sqrt{x+10} \quad (6) \qquad f(x) = \ln x \quad (5) \qquad f(x) = e^x \quad (4)$$

$$f(x) = x(x-1)(x-2)(x-3)\cdots(x-44) \quad (7) \text{ חשב את } f'(0), \text{ אם נתון כי}$$

$$f(x) = 2x(|x|+1)\sqrt{1+x+x^2} \quad (8) \text{ חשב את } f'(0), \text{ אם נתון כי}$$

$$z(0) = 1, \lim_{x \rightarrow 0} z(x) = 4 \text{ כאשר } f(x) = x \cdot z(x) \text{ אם נתון כי } f'(0) \text{ חשב את } f'(0) \quad (9)$$

$$f(x) = \begin{cases} \sqrt[3]{x-1} & x > 0 \\ -(x+1)^2 & x \leq 0 \end{cases} \quad (10) \text{ נתונה הפונקציה:}$$

א. מצא את כל הנקודות בהן הפונקציה רציפה.

ב. בדוק על פי הגדרת הנגזרת האם הפונקציה הנתונה גזירה בנקודה $x=1$. האם קיים משיק בנקודה זו?

$$f(x) = \begin{cases} x^n \sin \frac{1}{x} & x \neq 0 \\ 0 & x = 0 \end{cases} \quad (11) \text{ נתונה הפונקציה: } (n \text{ טבעי}).$$

א. עבור אילו ערכים של n הפונקציה גזירה בנקודה $x=0$?

ב. עבור אילו ערכים של n הפונקציה גזירה ברציפות בנקודה $x=0$?

* בפרק זה חל איסור להשתמש בכלל לופיטל.

$$(12) \text{ נתונה הפונקציה: } f(x) = \begin{cases} x^n \arctan \frac{1}{x} & x \neq 0 \\ 0 & x = 0 \end{cases} \quad (n \text{ טבעי}).$$

- א. עבור אילו ערכים של n הפונקציה גזירה בנקודה $x = 0$?
 ב. עבור אילו ערכים של n הפונקציה גזירה ברציפות בנקודה $x = 0$?

(13) חשב את הגבולות הבאים:

$$\text{א. } \lim_{x \rightarrow 0} \frac{\ln(4+x) - \ln 4}{x} \quad \text{ב. } \lim_{x \rightarrow 0} \frac{e^{1+x} - e}{x}$$

(14) נתון כי f גזירה בנקודה x_0 . הוכח כי:

$$\text{א. } f'(x_0) = \lim_{x \rightarrow x_0} \frac{f(x) - f(x_0)}{x - x_0}$$

$$\text{ב. } 2x_0 f(x_0) - x_0^2 f'(x_0) = \lim_{x \rightarrow x_0} \frac{x^2 f(x_0) - x_0^2 f(x)}{x - x_0}$$

(15) נתון כי f גזירה וזוגית. הוכח כי f' אי זוגית.

(16) נתונה פונקציה המוגדרת ב- $[a, b]$ ומקיימת לכל x, y ב- $[a, b]$:

$$|f(x) - f(y)| \leq |x - y|^2$$

הוכח כי f גזירה ב- $[a, b]$ וחשב את נגזרתה.

$$(17) \text{ נתונה הפונקציה: } f(x) = \begin{cases} x^2 & x \in \mathbb{Q} \\ x^3 & x \notin \mathbb{Q} \end{cases}$$

חשב את $f'(x)$ על פי ההגדרה.

$$(18) \text{ נתונה הפונקציה: } f(x) = \begin{cases} (x-1)^2 & x \in \mathbb{Q} \\ 0 & x \notin \mathbb{Q} \end{cases}$$

חשב את $f'(x)$ על פי ההגדרה.

$$(19) \text{ נתונה הפונקציה } f(x) = |\sin^5 x|$$

א. חשב את $f'(x)$.

ב. מצא את כל הנקודות עבורן $f'(x) = 0$.

* בפרק זה חל איסור להשתמש בכלל לופיטל.

(20) הוכח או הפרך :

- א. אם h גזירה ב- x_0 ו- g אינה גזירה ב- x_0 , אז $f = g + h$ אינה גזירה ב- x_0 .
- ב. אם h אינה גזירה ב- x_0 ו- g אינה גזירה ב- x_0 , אז $f = g + h$ אינה גזירה ב- x_0 .
- ג. אם h אינה גזירה ב- x_0 ו- g אינה גזירה ב- x_0 , אז $f = g \cdot h$ אינה גזירה ב- x_0 .
- ד. אם h גזירה ב- x_0 ו- g אינה גזירה ב- x_0 , אז $f = g \cdot h$ אינה גזירה ב- x_0 .

(21) הוכח או הפרך :

- א. אם f גזירה, אז $\lim_{n \rightarrow \infty} n \left[f\left(x + \frac{1}{n}\right) - f(x) \right] = f'(x)$.
- ב. אם הגבול $\lim_{n \rightarrow \infty} n \left[f\left(x + \frac{1}{n}\right) - f(x) \right]$ קיים וסופי, אז f גזירה.

(22) הוכח או הפרך :

- א. אם f גזירה ב- (a, b) ו- $\lim_{x \rightarrow a^+} f(x) = \infty$, אז $\lim_{x \rightarrow a^+} f'(x) = \infty$.
- ב. אם f גזירה ב- (a, b) ו- $\lim_{x \rightarrow a^+} f'(x) = \infty$, אז $\lim_{x \rightarrow a^+} f(x) = \infty$.

(23) נתון כי $f(x)$ רציפה ב- $x = 4$, ומקיימת $\lim_{x \rightarrow 4} \frac{f(x) - \pi - 10(x-4)}{x-4} = 0$

הוכח ש- f גזירה ב- $x = 4$, וחשב את $f'(4)$.

(24) תהי f פונקציה רציפה בסביבת הנקודה $x = 0$ המקיימת $\lim_{x \rightarrow 0} \frac{f(x)}{x} = 0$

א. הוכח כי $f(0) = 0$.

ב. הוכח כי f גזירה ב- $x = 0$ ו- $f'(0) = 0$.

(25) תהי f פונקציה גזירה על כל הישר, ונתון כי $f(0) = 0$ ו- $f'(0) = k$

הוכח כי $\lim_{x \rightarrow \infty} x f\left(\frac{1}{x}\right) = k$

(26) תהי $f: \mathbb{R} \rightarrow \mathbb{R}$ פונקציה גזירה בנקודה x_0

א. אם $f(x_0) \neq 0$, הוכח שגם $|f|$ גזירה ב- x_0 .

ב. אם $f(x_0) = 0$, הראה שייתכן כי $|f|$ גזירה ב- x_0 וייתכן שלא.

(27) תהינה $f, g: \mathbb{R} \rightarrow \mathbb{R}$ פונקציות גזירות בנקודה x_0 .

נגדיר $h(x) = \max\{f(x), g(x)\}$ לכל $x \in \mathbb{R}$.

הראה שאם $f(x_0) \neq g(x_0)$, אז h גזירה ב- x_0 .

(28) תהי f פונקציה זוגית ב- \mathbb{R} .

הוכח כי אם f גזירה ב- 0 , אז $f'(0) = 0$.

הערה: פתור בשתי דרכים שונות.

(29) נתונה פונקציה $f: (0, \infty) \rightarrow \mathbb{R}$ המקיימת $f(xy) = f(x) + f(y)$,

לכל $x, y \in (0, \infty)$.

נתון כי f גזירה בנקודה $x=1$.

א. הוכח כי $f(1) = 0$ ו- $f\left(\frac{x}{y}\right) = f(x) - f(y)$.

ב. הראה כי f גזירה, ושכלל $x > 0$, $f'(x) = \frac{f'(1)}{x}$.

(30) נתון כי f פונקציה גזירה המקיימת $f\left(\frac{x+y}{2}\right) = \frac{f(x)+f(y)}{2}$.

הוכח ש- f פונקציה לינארית.

(31) ענה על הסעיפים הבאים:

א. הוכח את הטענה הבאה:

אם f גזירה ב- x_0 , אז $f'(x_0) = \lim_{n \rightarrow \infty} \frac{f(x_0 + a_n) - f(x_0)}{a_n}$

לכל סדרה $a_n \rightarrow 0$.

ב. תהי $f: \mathbb{R} \rightarrow \mathbb{R}$ פונקציה גזירה בנקודה $x_0 = 1$, ו- $f(1) = 1$.

הראה שאם $k \in \mathbb{N}$, אז

$\lim_{n \rightarrow \infty} n \left[\left(f\left(1 + \frac{1}{n}\right) + f\left(1 + \frac{2}{n}\right) + \dots + f\left(1 + \frac{k}{n}\right) \right) - k \right] = \frac{k(k+1)}{2} f'(1)$

ג. חשב את הגבול $\lim_{n \rightarrow \infty} n \left[e^{\frac{1}{n}} + e^{\frac{2}{n}} + \dots + e^{\frac{10}{n}} - 10 \right]$.

32) ענה על הסעיפים הבאים :

א. הוכח שפונקציית דיריכלה $D(x) = \begin{cases} 1 & x \in \mathbb{Q} \\ 0 & x \notin \mathbb{Q} \end{cases}$ לא גזירה בכל מקום.

ב. הוכח שהפונקציה $f(x) = (x-1)^2 D(x)$ גזירה רק בנקודה $x=1$.

33) תהי f פונקציה גזירה ב- x_0 .

א. הוכח כי $f'(x_0) = \lim_{h \rightarrow 0} \frac{f(x_0+h) - f(x_0-h)}{2h}$.

ב. תן דוגמה של פונקציה רציפה f , באופן שהגבול בסעיף אי קיים, אך $f'(x_0)$ אינו קיים.

ג. הבע באמצעות $f'(x_0)$ את הגבול $\lim_{h \rightarrow 0} \frac{f(x_0-2h) - f(x_0+3h)}{h}$.

34) תהי f פונקציה גזירה פעמיים ב- x_0 .

א. הוכח כי $f''(x_0) = \lim_{h \rightarrow 0} \frac{f(x_0+h) - 2f(x_0) + f(x_0-h)}{h^2}$.

ב. תן דוגמה של פונקציה f , באופן שהגבול בסעיף אי קיים, אך $f''(x_0)$ אינו קיים.

הערה: פתור את סעיף אי רק אחרי שלמדת את כלל לופיטל.

תשובות סופיות

$$f'(x) = 4 \cos 4x \quad (3) \quad f(x) = -\frac{1}{(x+1)^2} \quad (2) \quad f'(x) = 2x + 4 \quad (1)$$

$$f(x) = \frac{1}{2\sqrt{x+10}} \quad (6) \quad f(x) = \frac{1}{x} \quad (5) \quad f'(x) = e^x \quad (4)$$

$$4 \quad (9) \quad 2 \quad (8) \quad !44 \quad (7)$$

(10) א. רציפה לכל x . ב. לא גזירה בנקודה $x=1$. קיים משיק אנכי בנקודה.

$$n > 2 \quad \text{ב.} \quad n > 1 \quad \text{א.} \quad (11)$$

$$n > 1 \quad \text{ב.} \quad n > 1 \quad \text{א.} \quad (12)$$

$$e \quad \text{ב.} \quad \frac{1}{4} \quad \text{א.} \quad (13)$$

(14) הוכחה.

(15) הוכחה.

(16) שאלת הוכחה. $f'' = 0$

(17) הפונקציה גזירה רק ב- $x=0$, ומתקיים: $f'(0) = 0$.

(18) הפונקציה גזירה רק ב- $x=1$, ומתקיים: $f'(1) = 0$.

$$f'(x) = \begin{cases} 5 \sin^4 x \cos x & 2n\pi < x < (2n+1)\pi \\ 0 & x = n\pi \\ -5 \sin^4 x \cos x & (2n+1)\pi < x < (2n+2)\pi \end{cases} \quad \text{א.} \quad (19)$$

ב. $x = \frac{\pi}{2}n$

(20) שאלת הוכחה או הפרד.

(21) שאלת הוכחה או הפרד.

(22) שאלת הוכחה או הפרד.

(23) שאלת הוכחה.

(24) שאלת הוכחה.

(25) שאלת הוכחה.

(26) שאלת הוכחה.

(27) שאלת הוכחה.

(28) שאלת הוכחה.

(29) שאלת הוכחה.

(30) שאלת הוכחה.

(31) א. שאלת הוכחה. ב. שאלת הוכחה. ג. 55

(32) שאלת הוכחה.

33 א. שאלת הוכחה. ב. $f(x) = |x|$. ג. $-5f'(x_0)$

34 א. שאלת הוכחה. ב. $f(x) = \operatorname{sgn}(x) = \begin{cases} -1 & x < 0 \\ 0 & x = 0 \\ 1 & x > 0 \end{cases}$

לפתרונות מלאים בווידאו היכנסו לאתר www.GooL.co.il

נגזרות חד-צדדיות

שאלות

1) תאר שתי דרכים שונות לבדיקת גזירות של פונקציה מפוצלת בנקודות התפר שלה (נקודה שבה מתחלפת נוסחת הפונקציה).

השתמש בפונקציה $f(x) = \begin{cases} x^2 + 8x & x \geq 2 \\ x^3 + 12 & x < 2 \end{cases}$ על מנת להדגים שתי שיטות אלה.

בנוסף, הסבר מתי עליך להשתמש בכל אחת מהשיטות שתיארת.

בשאלות 2-9 בדוק גזירות הפונקציות הבאות בתחום הגדרתן, בכל דרך שתבחר. בנוסף, רשום נוסחה עבור הנגזרת של כל אחת מהפונקציות:

$$f(x) = \begin{cases} x^2 - 5x & x \geq 2 \\ x^3 - 14 & x < 2 \end{cases} \quad (3) \qquad f(x) = \begin{cases} x^2 - 4x & x \geq 2 \\ x^3 - 14 & x < 2 \end{cases} \quad (2)$$

$$f(x) = \begin{cases} \ln(1+2x) & -0.5 < x < 0 \\ x^2 + 2x & x \geq 0 \end{cases} \quad (5) \qquad f(x) = \begin{cases} x^2 + 8x & x \geq 2 \\ x^3 + 12 & x < 2 \end{cases} \quad (4)$$

$$f(x) = 3x^2 + x|x| + 1 \quad (7) \qquad f(x) = 2 + 4|x-1| \quad (6)$$

$$f(x) = \begin{cases} x^2 \sin \frac{1}{x} & x > 0 \\ 0 & x \leq 0 \end{cases} \quad (9) \qquad f(x) = \begin{cases} x \sin \frac{1}{x} & x > 0 \\ 0 & x \leq 0 \end{cases} \quad (8)$$

10) בדוק האם הפונקציה משאלה 5 גזירה פעמיים בנקודה $x=0$.

$$f(x) = \begin{cases} \sqrt[3]{x+1} & x \geq -1 \\ \frac{1}{x} + a & x < -1 \end{cases} \quad (11) \text{ נתונה הפונקציה:}$$

א. עבור איזה ערך של הקבוע a הפונקציה רציפה בנקודה $x=-1$?

ב. עבור ערך ה- a שקיבלת בסעיף א', בדוק על פי הגדרת הנגזרת האם

הפונקציה הנתונה גזירה בנקודה $x=-1$.

האם קיים משיק בנקודה זו?

* בפרק זה חל איסור להשתמש בכלל לופיטל.

12 מצא עבור אלו ערכים של הקבועים a ו- b הפונקציה הבאה גזירה בנקודת

$$\text{התפר: } f(x) = \begin{cases} \ln^3 x & 0 < x \leq e \\ ax + b & x > e \end{cases}$$

עבור ערכים אלו, רשום נוסחה עבור הנגזרת.

13 מצא עבור אלו ערכים של הקבועים a ו- b הפונקציה הבאה גזירה בנקודת

$$\text{התפר: } f(x) = \begin{cases} e^x & 0 < x \leq 1 \\ ax + b & x > 1 \end{cases}$$

עבור ערכים אלו, רשום נוסחה עבור הנגזרת.

$$\text{14 נתונה הפונקציה: } f(x) = \begin{cases} x^2 \sin \frac{1}{x} + 4x & x < 0 \\ px + q & x \geq 0 \end{cases}$$

קבע עבור אילו ערכים של הקבועים p ו- q הפונקציה הנתונה:
א. רציפה. ב. גזירה.

15 חשב את $f'(0)$, עבור הפונקציה: $f(x) = |x^4 - x^3 + \sin(10x) - 1|$

$$\text{16 נתונה הפונקציה: } f(x) = \begin{cases} \sqrt{|\cos \pi x|} & x \in \mathbb{Q} \\ 0 & x \notin \mathbb{Q} \end{cases}$$

הוכח שהפונקציה לא גזירה לכל x ממשי.

תזכורת (הערך השלם)

פונקציית הערך השלם $[x]$ מחזירה לכל מספר ממשי x את המספר השלם הגדול ביותר, שקטן או שווה ל- x (מעגלת כלפי מטה). למשל: $[-4.1] = -5$, $[4.1] = 4$.

17 נתונה הפונקציה $f(x) = [x] - [-x]$.
חשב את $f'(x)$.

18 נתונה הפונקציה $f(x) = [x] \sin(\pi x)$.
חשב את $f'(x)$ על פי ההגדרה.

19 נתונה הפונקציה $f(x) = [x](1 - \cos(\pi x))$.
חשב את $f'(x)$.

(20) הוכח שאם f היא פונקציה המקיימת $|f(x)| \leq x^2$ לכל x , אז f גזירה ב- $x=0$.

(21) תהי f פונקציה רציפה ב- $x_0=0$. הוכח כי הפונקציה $z(x) = |x|f(x)$ גזירה ב- $x_0=0$ אם ורק אם $f(0) = 0$.

(22) יהיו f ו- g שתי פונקציות המוגדרות בסביבה מלאה של $x_0 \in \mathbb{R}$. הוכח או הפרך:

$$\text{א. אם } f(x_0) = g(x_0) \text{ ו-} f'_-(x_0) = g'_+(x_0),$$

אז הפונקציה z , המוגדרת על ידי $z(x) = \begin{cases} f(x) & x \leq x_0 \\ g(x) & x \geq x_0 \end{cases}$, גזירה ב- x_0 .

ב. אם $f: \mathbb{R} \rightarrow \mathbb{R}$ לא גזירה ב- x_0 ו- $g: \mathbb{R} \rightarrow \mathbb{R}$ גזירה ב- \mathbb{R} , אז $g \circ f$ איננה גזירה ב- \mathbb{R} .

ג. אם g גזירה מימין ב- x_0 והפונקציה f מוגדרת בסביבה מלאה של x_0 , אז $g(x_0)$ וגזירה מימין ב- $g(x_0)$, אזי $f \circ g$ גזירה מימין ב- x_0 .

הערה: אין קשר בין הסעיפים.

(23) תהיינה f ו- g פונקציות המוגדרות ב- \mathbb{R} . נתון ש- g היא פונקציה רציפה ב- \mathbb{R} , ולכל $x > y$

$$\frac{f(x) - f(y)}{x - y} = g\left(\frac{x + y}{2}\right)$$

הוכח כי f גזירה ב- \mathbb{R} , ושלכל x ממשי מתקיים $f'(x) = g(x)$.

תשובות סופיות

$$f'(x) = \begin{cases} 2x+8 & x \geq 2 \\ 3x^2 & x < 2 \end{cases} \quad (1)$$

$$f'(x) = \begin{cases} 2x-4 & x > 2 \\ 3x^2 & x < 2 \end{cases} \quad (2)$$

$$f'(x) = \begin{cases} 2x-5 & x > 2 \\ 3x^2 & x < 2 \end{cases} \quad (3)$$

$$f'(x) = \begin{cases} 2x+8 & x \geq 2 \\ 3x^2 & x < 2 \end{cases} \quad (4)$$

$$f'(x) = \begin{cases} \frac{2}{1+2x} & -0.5 < x < 0 \\ 2x+2 & x \geq 0 \end{cases} \quad (5)$$

$$f'(x) = 4 \quad (x > 1) \quad , \quad f'(x) = -4 \quad (x < 1) \quad (6)$$

$$f'(x) = 8x \quad (x \geq 0) \quad , \quad f'(x) = 4x \quad (x < 0) \quad (7)$$

$$f(x) = \begin{cases} \sin \frac{1}{x} - \frac{1}{x} \cos \frac{1}{x} & x > 0 \\ 0 & x < 0 \end{cases} \quad (8)$$

$$f(x) = \begin{cases} 2x \sin \frac{1}{x} - \cos \frac{1}{x} & x > 0 \\ 0 & x \leq 0 \end{cases} \quad (9)$$

(10) לא גזירה פעמיים בנקודה $x=0$.

(11) א. $a=1$ ב. לא גזירה. לא קיים משיק.

$$f'(x) = \begin{cases} \frac{3}{x} \ln^2 x & 0 < x < e \\ \frac{3}{e} & x \geq e \end{cases} \quad a = 3/e \quad b = -2 \quad (12)$$

$$f'(x) = \begin{cases} e^x & 0 < x < 1 \\ e & x \geq 1 \end{cases} \quad a = e \quad b = 0 \quad (13)$$

(14) א. $q=0$ ב. $q=0, p=4$

(15) -10

(16) הוכחה.

$$f'(x) = \begin{cases} 0 & x \notin \mathbb{Z} \\ \text{undefined} & x \in \mathbb{Z} \end{cases} \quad (17)$$

$$f'(x) = \begin{cases} [x] \cos(\pi x) \pi & x \notin \mathbb{Z} \\ \text{undefined} & x \in \mathbb{Z} \end{cases} \quad (18)$$

$$f'(x) = \begin{cases} [x] \sin \pi x & x \notin \mathbb{Z} \\ 0 & x \in \mathbb{Z}, x \text{ even} \\ \text{undefined} & x \in \mathbb{Z}, x \text{ odd} \end{cases} \quad (19)$$

לפתרונות מלאים בווידאו של שאלות 20-23 היכנסו לאתר www.GooL.co.il

מתמטיקה לביולוגים חד חוגי מורחב

פרק 7 - חישוב נגזרת של פונקציה

תוכן העניינים

1. כללי הגזירה (ללא ספר) 89
2. תרגול בכללי הגזירה (ללא ספר) 93
3. תרגילים נוספים לפי סוגים (ללא ספר) 95
4. גזירה סתומה 98
5. כלל השרשרת 98
6. גזירה לוגריתמית 98

תרגול בכללי הגזירה

שאלות

גזור פעמיים את הפונקציות הבאות (בשאלות 27-35 מצא רק את הנגזרת הראשונה):

$$f(x) = \frac{2x^2}{(x+1)^2} \quad (3) \quad f(x) = \frac{x^2 - 5x + 6}{2x + 10} \quad (2) \quad f(x) = \frac{x^2 + 2x + 4}{2x} \quad (1)$$

$$f(x) = \left(\frac{x+1}{x-1}\right)^3 \quad (6) \quad f(x) = \frac{x^3}{(x+1)^2} \quad (5) \quad f(x) = \frac{x^3}{x^2 - 4} \quad (4)$$

$$f(x) = x \cdot \ln x \quad (9) \quad f(x) = \frac{\ln x}{\sqrt{x}} \quad (8) \quad f(x) = \frac{\ln x}{x} \quad (7)$$

$$f(x) = \ln^2 x + 2 \ln x - 32 \quad (12) \quad f(x) = \ln \sqrt{\frac{1}{2-x}} \quad (11) \quad f(x) = x^2 \cdot \ln x \quad (10)$$

$$f(x) = (x+2) \cdot e^{\frac{1}{x}} \quad (15) \quad f(x) = e^{\frac{1}{x}} \quad (14) \quad f(x) = \ln^2 x + \frac{1}{\ln^2 x} \quad (13)$$

$$f(x) = \sqrt[3]{x^2 - 1} \quad (18) \quad f(x) = \sqrt[3]{x^2} \quad (17) \quad f(x) = x \cdot e^{-2x^2} \quad (16)$$

$$f(x) = \cos(x^4) \quad (21) \quad f(x) = \sin(x^3) \quad (20) \quad f(x) = \sqrt[3]{x^2} (1-x) \quad (19)$$

$$f(x) = \ln(\cos x^2) \quad (24) \quad f(x) = \tan(x^2) \quad (23) \quad f(x) = \sin^3 x \quad (22)$$

$$f(x) = (x+1)^{\sin x} \quad (27) \quad f(x) = \arctan(x^2) \quad (26) \quad f(x) = \arcsin(2x+3) \quad (25)$$

$$y = x^{\ln x} \quad (30) \quad f(x) = (\cos x)^{\ln x} \quad (29) \quad f(x) = (\sin x)^x \quad (28)$$

$$y = \left(\sqrt{x} + \frac{1}{x}\right)^{\sqrt{x}} \quad (33) \quad y = x^{\sqrt{x}} \quad (32) \quad y = \sqrt[3]{x} \quad (31)$$

$$y = (x+1)^{(x+1)} \quad (35) \quad y = (x^2 + 1)^x \quad (34)$$

הערה: בשאלות 28 ו-29 נציג שתי דרכי פתרון. מומלץ לצפות בשתייהן.

תשובות סופיות

$$f'(x) = \frac{2x^2 - 8}{4x^2}, \quad f''(x) = \frac{4}{x^3} \quad (1)$$

$$f'(x) = \frac{2x^2 + 20x - 62}{(2x+10)^2}, \quad f''(x) = \frac{448}{(2x+10)^3} \quad (2)$$

$$f'(x) = \frac{4x}{(x+1)^3}, \quad f''(x) = \frac{4(1-2x)}{(x+1)^4} \quad (3)$$

$$f'(x) = \frac{x^2(x^2-12)}{(x^2-4)^2}, \quad f''(x) = \frac{4x \cdot (2x^2+24)}{(x^2-4)^3} \quad (4)$$

$$f'(x) = \frac{x^2(x+3)}{(x+1)^3}, \quad f''(x) = \frac{6x}{(x+1)^4} \quad (5)$$

$$f'(x) = -\frac{6(x+1)^2}{(x-1)^4}, \quad f''(x) = 12 \frac{(x+1)(x+3)}{(x-1)^5} \quad (6)$$

$$f'(x) = \frac{1 - \ln x}{x^2}, \quad f''(x) = \frac{2 \ln x - 3}{x^3} \quad (7)$$

$$f'(x) = \frac{2 - \ln x}{2x^{1.5}}, \quad f''(x) = \frac{3 \ln x - 8}{4x^{2.5}} \quad (8)$$

$$f'(x) = \ln x + 1, \quad f''(x) = \frac{1}{x} \quad (9)$$

$$f'(x) = x(2 \ln x + 1), \quad f''(x) = 2 \ln x + 3 \quad (10)$$

$$f'(x) = \frac{1}{2(2-x)}, \quad f''(x) = \frac{1}{(4-2x)^2} \quad (11)$$

$$f'(x) = \frac{2}{x}(\ln x + 1), \quad f''(x) = \frac{-2 \ln x}{x^2} \quad (12)$$

$$f'(x) = \frac{2}{x} \left[\frac{(\ln x)^4 - 1}{(\ln x)^3} \right], \quad f''(x) = -\frac{2}{x^2} \left\{ \frac{(\ln x)^5 - (\ln x)^4 - (\ln x) - 3}{(\ln x)^4} \right\} \quad (13)$$

$$f'(x) = e^{\frac{1}{x}} \cdot \left(-\frac{1}{x^2}\right), \quad f''(x) = e^{\frac{1}{x}} \left(\frac{1+2x}{x^4}\right) \quad (14)$$

$$f'(x) = e^{\frac{1}{x}} \left(\frac{x^2 - x - 2}{x^2}\right), \quad f''(x) = e^{\frac{1}{x}} \left(\frac{5x+2}{x^4}\right) \quad (15)$$

$$f'(x) = e^{-2x^2} (1-4x^2), \quad f''(x) = -4xe^{-2x^2} (3-4x^2) \quad (16)$$

$$f'(x) = \frac{2}{3 \cdot \sqrt[3]{x}}, \quad f''(x) = -\frac{2}{9 \cdot \sqrt[3]{x^4}} \quad (17)$$

$$f'(x) = \frac{2x}{3\sqrt[3]{(x^2-1)^2}}, \quad f''(x) = \frac{2}{3} \cdot \frac{-\frac{1}{3}x^2 - 1}{(x^2-1)^{5/3}} \quad (18)$$

$$f'(x) = \frac{2-5x}{3\sqrt[3]{x}}, \quad f''(x) = -\frac{2}{9} \cdot \frac{1+5x}{\sqrt[3]{x^4}} \quad (19)$$

$$f'(x) = \cos(x^3) \cdot 3x^2, \quad f''(x) = -9x^4 \sin(x^3) + 6x \cdot \cos(x^3) \quad (20)$$

$$f'(x) = -\sin(x^4) \cdot 4x^3, \quad f''(x) = -16x^6 \cos(x^4) - 12x^2 \cdot \sin(x^4) \quad (21)$$

$$f'(x) = 3\sin^2 x \cdot \cos x, \quad f''(x) = 6\sin x \cos^2 x - 3\sin^3 x \quad (22)$$

$$f'(x) = \frac{2x}{\cos^2(x^2)}, \quad f''(x) = \frac{2 \cdot \cos^2(x^2) - 8x^2 \cos(x^2) \sin(x^2)}{\cos^4(x^2)} \quad (23)$$

$$f'(x) = \tan(x^2) \cdot (-2x), \quad f''(x) = \frac{-4x^2}{\cos^2(x^2)} - 2 \tan(x^2) \quad (24)$$

$$f'(x) = \frac{1}{\sqrt{1-(2x+3)^2}} \cdot 2, \quad f''(x) = \frac{4(2x+3)}{(1-(2x+3)^2)^{1.5}} \quad (25)$$

$$f'(x) = \frac{2x}{1+x^4}, \quad f''(x) = \frac{2-6x^4}{(1+x^4)^2} \quad (26)$$

$$f'(x) = x^{\sin x} \left(\cos x \cdot \ln(x+1) + \frac{\sin x}{x+1} \right) \quad (27)$$

$$f'(x) = (\sin x)^x (\ln(\sin x) + \cot x \cdot x) \quad (28)$$

$$f'(x) = (\cos x)^{\ln x} \cdot \left(\frac{\ln(\cos x)}{x} - \tan x \cdot \ln x \right) \quad (29)$$

$$y' = x^{\ln x} \left(\frac{2 \ln x}{x} \right) \quad (30)$$

$$y' = x^{\frac{1}{x}-2} (1 - \ln x) \quad (31)$$

$$y' = \frac{1}{\sqrt{x}} \cdot x^{\sqrt{x}} \left(\frac{\ln x}{2} + 1 \right) \quad (32)$$

$$y' = \left(\sqrt{x} + \frac{1}{x} \right)^{\sqrt{x}} \left(\frac{1}{2\sqrt{x}} \cdot \ln \left(\sqrt{x} + \frac{1}{x} \right) + \frac{1}{\sqrt{x + \frac{1}{x}}} \left(\frac{1}{2\sqrt{x}} - \frac{1}{x^2} \right) \cdot \sqrt{x} \right) \quad (33)$$

$$y' = (x^2 + 1)^x \left(1 \cdot \ln(x^2 + 1) + \frac{1}{x^2 + 1} \cdot 2x \cdot x \right) \quad (34)$$

$$y' = (x+1)^{(x+1)} [\ln(x+1) + 1] \quad (35)$$

גזירה סתומה

שאלות

- (1) גזור את הפונקציה הסתומה: $x^2 + y^5 - 1 = 1$.
- (2) גזור את הפונקציה הסתומה: $4 \ln x + 10 \ln y = y^2$.
- (3) גזור את הפונקציה הסתומה: $\sqrt{x} + \sqrt{y} = \sqrt{xy}$.
- (4) מצא את משוואת המשיק למעגל $x^2 + y^2 = 25$, בנקודה $(3, 4)$.
- (5) מצא את משוואת הישר, המשיק לגרף הפונקציה הסתומה $xy^2 + y - x = xy$, דרך הנקודה $(1, 1)$.
- (6) מצא את משוואת הישר, המשיק לגרף הפונקציה הסתומה $x^2 y + e^{y^2 - 4x} = \ln x + 1$, דרך הנקודה $(1, 2)$, הנמצאת על גרף הפונקציה.
- (7) מצא את משוואת הישר, המשיק לגרף הפונקציה הסתומה $\sqrt{xy + y} + x^2 y = xy^2$, דרך הנקודה $(1, 2)$, הנמצאת על גרף הפונקציה.
- (8) מצא את משוואת הישר, המשיק לגרף הפונקציה הסתומה $e^{xy^2} + y = y^2 - 1$, דרך הנקודה $(0, 2)$, הנמצאת על גרף הפונקציה.
- (9) נתונה הפונקציה הסתומה $x + y \cdot e^y = xy^2 + x^2$.
 א. מצא את הנקודות על גרף הפונקציה, בהן $y = 0$.
 ב. מצא את משוואת הישרים המשיקים של גרף הפונקציה, בנקודות שמצאת בסעיף א.
- (10) גזור את הפונקציה הסתומה: $x^y - xy = 10$.
- (11) גזור את הפונקציה הסתומה: $x^y - y^x = 1$.
- (12) נתונה פונקציה סתומה $xy - y^3 + x^2 - x = 0$. מצא את ערך y^n בנקודה בה $y = 1$.

- (13)** נתון כי המשוואה $h(y) - x + 1 = 2x^3 + 4e^y + 2y$,
 מגדירה את $y = y(x)$ כפונקציה סתומה של x .
 נתון כי $h(y)$ גזירה ברציפות ויורדת.
 הוכיחו כי $y(x)$ יורדת חזק.

תשובות סופיות

$$5y^4 - 1 \neq 0, \quad y' = \frac{-2x}{5y^4 - 1} \quad (1)$$

$$\frac{10}{y} - 2y \neq 0, \quad y' = \frac{-\frac{4}{x}}{\frac{10}{y} - 2y} \quad (2)$$

$$\sqrt{x} \neq 0, \quad \sqrt{x} \neq 1, \quad y' = \frac{\sqrt{y} - 1}{2\sqrt{x}} \cdot \frac{2\sqrt{y}}{1 - \sqrt{x}} \quad (3)$$

$$y = -\frac{3}{4}x + \frac{25}{4} \quad (4)$$

$$y = \frac{1}{2}x + \frac{1}{2} \quad (5)$$

$$y = \frac{1}{5}x + 1\frac{4}{5} \quad (6)$$

$$y = \frac{1}{5}x + 1\frac{5}{6} \quad (7)$$

$$y = \frac{4}{3}x + 2 \quad (8)$$

- (9)** א. $(0,0)$, $(1,0)$ ב. בראשית הצירים: $y = -x$, המשוואה השנייה: $y = x - 1$.

$$x^y \cdot \ln x - x \neq 0, \quad y' = \frac{y - x^y \cdot \frac{y}{x}}{x^y \cdot \ln x - x} \quad (10)$$

$$x^y \ln x - y^x \cdot \frac{x}{y} \neq 0, \quad y' = \frac{-x^y \cdot \frac{y}{x} + y^x \cdot \ln y}{x^y \ln x - y^x \cdot \frac{x}{y}} \quad (11)$$

$$-1 \quad (12)$$

- (13)** שאלת הוכחה.

כלל השרשרת

שאלות

- (1) נתונה פונקציה $f(x)$, המקיימת $f'(4) = 10$.
נגדיר פונקציה חדשה: $g(x) = f(x^2)$.
חשב את $g'(2)$.

- (2) נתונה פונקציה $f(x)$, המקיימת $f'(2) = 4$.
נגדיר פונקציה חדשה: $g(x) = f\left(\frac{1}{x}\right)$.
א. חשב את $g'(0.5)$.
ב. נתון בנוסף כי f עולה. הוכח כי g יורדת.

- (3) נתונה פונקציה $f(x)$, המקיימת $f'(1) = e$.
נגדיר פונקציה חדשה: $g(x) = x^2 + f(\ln x)$.
א. חשב את $g'(e)$.
ב. הוכח שהפונקציה g עולה בנקודה $x = e$.
ג. חשב את הגבול $\lim_{h \rightarrow 0} \frac{g(e+h) - g(e)}{h}$.

- (4) נתונה פונקציה $f(x)$, המקיימת $f(1) = -2$, $f'(1) = e$.
נגדיר פונקציה חדשה: $g(x) = f^2(\ln x)$.
א. חשב את $g'(e)$.
ב. האם g עולה או יורדת, בנקודה $x = e$?
ג. נתון כי f שלילית ועולה. מה ניתן לומר על g ?

(5) נתונה פונקציה, $f(x)$, יורדת וחיובית.

$$. g(x) = \sqrt{f(x^2) + 4} \text{ נגדיר פונקציה חדשה}$$

מי מהבאים נכון?

א. g עולה לכל x .

ב. g יורדת לכל x .

ג. g עולה לכל $x > 0$.

ד. g יורדת לכל $x > 0$.

$$. g(x) = \frac{f^2(\sqrt{x}) - 1}{f(\sqrt{x})} \text{ נתונה הפונקציה} \quad (6)$$

ידוע כי $f(10) = f'(10) = 4$. חשב $g'(100)$.

$$. g(x) = \frac{f\left(\frac{1}{x}\right) + 4}{f\left(\frac{1}{x^2}\right)} \text{ נתונה הפונקציה} \quad (7)$$

ידוע כי $f(1) = 1$, $f'(1) = 4$. חשב $g'(1)$.

$$. g(x) = \frac{f^2(\ln x)}{f(\ln x) + 1} \text{ נתונה הפונקציה} \quad (8)$$

ידוע כי $f(0) = 1$, $f'(0) = 2$. חשב $g'(1)$.

$$. g(x) = \frac{f^{10}(4x) + 1}{f\left(\frac{4}{x}\right) + 1} \text{ נתונה הפונקציה} \quad (9)$$

ידוע כי $f(4) = 1$, $f'(4) = 2$. חשב $g'(1)$.

$$. g(x) = \frac{\sqrt[4]{f^7(x^2)}}{f(x^4)} \text{ נתונה הפונקציה} \quad (10)$$

ידוע כי $f(1) = 1$, $f'(1) = 4$. חשב $g'(1)$.

תשובות סופיות

		40	(1)
	ב. הוכחה.	-16	(2)
ג. $2e+1$	ב. הוכחה.	$2e+1$	(3)
ג. $g'(x) < 0$	ב. יורדת.	-4	(4)
		ד	(5)
		$\frac{17}{80}$	(6)
		36	(7)
		$\frac{8}{9}$	(8)
		44	(9)
		-2	(10)

גזירה לוגריתמית

שאלות

גזור את הפונקציות הבאות:

$$y = \sqrt[4]{\frac{10x-1}{x+1}} \cdot \sqrt{(2x+1)^7} \quad (1)$$

$$y = \left(\sqrt[4]{10x+1}\right)^{2x} \quad (2)$$

$$y = \frac{(x+2)^{3x+4} \cdot (5x+6)}{(7x+8) \cdot (9x+10)} \quad (3)$$

תשובות סופיות

$$y' = y \left[\frac{1}{4} \frac{1}{10x-1} \cdot 10 + \frac{7}{10} \frac{1}{2x+1} \cdot 2 - \frac{1}{4} \frac{1}{x+1} \right] \quad (1)$$

$$y' = \left((10x+1)^{\frac{1}{4}} \right)^{2x} \cdot \frac{1}{4} \left[2^x \cdot \ln 2 \cdot \ln(10x+1) + \frac{1}{10x+1} \cdot 10 \cdot 2^x \right] \quad (2)$$

$$y' = y \left[3 \cdot \ln(x+2) + \frac{1}{x+2} (3x+4) + \frac{1}{5x+6} \cdot 5 - \frac{1}{7x+8} \cdot 7 - \frac{1}{9x+10} \cdot 9 \right] \quad (3)$$

מתמטיקה לביולוגים חד חוגי מורחב

פרק 8 - חישוב נגזרת של פונקציות מיוחדות

תוכן העניינים

99	1. נגזרת הפונקציה ההפוכה
100	2. נגזרת מסדר גבוה
101	3. נוסחת לייבניץ
102	4. גזירה פרמטרית

נגזרת הפונקציה ההפוכה

שאלות

הוכח, בעזרת כלל הנגזרת של הפונקציה ההפוכה, את הנוסחאות הבאות:

$$(\sqrt{x})' = \frac{1}{2\sqrt{x}} \quad (1)$$

$$(\arcsin x)' = \frac{1}{\sqrt{1-x^2}} \quad (2)$$

$$(\arctan x)' = \frac{1}{1+x^2} \quad (3)$$

לתשובות מלאות בסרטוני וידאו היכנסו GooL.co.il

נגזרת מסדר גבוה

שאלות

חשב את הנגזרת ה- n , $f^{(n)}(x)$, של הפונקציות הבאות:

$$y = \frac{1}{x+a} \quad (1)$$

$$y = \frac{2x+3}{x^2-3x+2} \quad (2)$$

$$y = \frac{x}{(x^2-1)(x-2)} \quad (3)$$

$$y = \frac{x^4}{x^2-1} \quad (4)$$

תשובות סופיות

$$y^{(n)} = (-1)^n \cdot n! \cdot (x+a)^{-n-1} \quad (1)$$

$$y^{(n)} = (-1)^n \cdot n! \cdot \left(-5(x-1)^{-n-1} + 7(x-2)^{-n-1} \right) \quad (2)$$

$$y^{(n)} = (-1)^n \cdot n! \cdot \left(-\frac{1}{2}(x-1)^{-n-1} - \frac{1}{6}(x+1)^{-n-1} + \frac{2}{3}(x-2)^{-n-1} \right) \quad (3)$$

$$y' = 2x - \frac{1}{2} \left((x-1)^{-2} - (x+1)^{-2} \right), \quad y'' = 2 + \left((x-1)^{-3} - (x+1)^{-3} \right) \quad (4)$$

$$y^{(n)} = \frac{1}{2} (-1)^n \cdot n! \cdot \left((x-1)^{-n-1} - (x+1)^{-n-1} \right), (n > 2)$$

נוסחת לייבניץ

שאלות

חשב את הנגזרת העשירית, $y^{(10)}$, של הפונקציות הבאות:

$$y = x^3 e^x \quad (1)$$

$$y = x^3 \sin 5x \quad (2)$$

תשובות סופיות

$$(e^x \cdot x^3)^{(10)} = e^x [x^3 + 103x^2 + 456x + 120 \cdot 6] \quad (1)$$

$$(\sin 5x \cdot x^3)^{(10)} = -5^{10} x^3 \sin 5x + 6 \cdot 5^{10} x^2 \cos 5x + 54 \cdot 5^9 x \sin 5x - 24 \cdot 5^9 \cos 5x \quad (2)$$

גזירה פרמטרית

שאלה

1) חשב את הנגזרות הראשונה והשנייה של הפונקציה הבאה,

$$\begin{cases} x(t) = t - \sin t \\ y(t) = t \cos t \end{cases} \quad \text{הנתונה בצורה פרמטרית:}$$

תשובה

$$y' = \frac{\cos t - \sin t \cdot t}{1 - \cos t}, \quad y'' = \frac{(-t \cos t - 2 \sin t)(1 - \cos t) - \sin t(\cos t - t \sin t)}{(1 - \cos t)^3} \quad (1)$$

מתמטיקה לביולוגים חד חוגי מורחב

פרק 9 - משיק, נורמל, נוסחת הקירוב הליניארי

תוכן העניינים

103	1. המשיק
106	2. בעיות משיקים
108	3. בעיות משיקים עם נוסחת המשיק
111	4. הנורמל
112	5. זווית שבין שתי עקומות
113	6. נוסחת הקירוב הליניארי - דיפרנציאל שלם

המשיק

שאלות

- (1) מצא את שיפוע הפונקציה
 א. $f(x) = 2x^3 - 7x$, בנקודה $(2, 2)$.
 ב. $f(x) = \frac{1}{x^2 - 3}$, בנקודה $x = -2$.
- (2) נתונה הפונקציה $f(x) = \sqrt{ax}$, כאשר $a > 0$.
 המשיק לגרף הפונקציה בנקודה שבה $x = \frac{1}{2}$, הוא בעל שיפוע 1.
 מצא את הקבוע a .
- (3) הישר $2y - 3x = 3$ משיק לגרף הפונקציה $h(x) = 3\sqrt{x}$.
 מצא את נקודת ההשקה.
- (4) שיפוע המשיק לפונקציה $f(x) = a \cdot 3^{2x-1} + 3^{x-b}$, בנקודה $(1, 15)$, הוא $21 \ln 3$.
 מצא את ערכי הפרמטרים a ו- b .
- (5) שיפוע המשיק לפונקציה $f(x) = \frac{\ln^2 x + a}{\ln x + b}$, בנקודה $\left(\frac{1}{e}, -1\right)$, הוא $\frac{e}{3}$.
 מצא את ערכי הפרמטרים a ו- b .
- (6) לאילו ערכי k ישק הישר $y = -5x + 6$, לגרף הפונקציה
 $f(x) = x^3 - 2x^2 - 4x + k$? לכל ערך k כזה מצא את נקודת ההשקה.
- (7) נתונה הפונקציה $f(x) = x^2 - 4x + 5$.
 א. שרטט את גרף הפונקציה ואת המשיקים לגרף בנקודות $x = 3$ ו- $x = 1$.
 ב. חשב את הזווית שיוצר כל אחד מהמשיקים בסעיף א', עם הכיוון החיובי של ציר ה- x .

(8) נתונה הפונקציה $f(x) = \frac{2x^2 + 1}{x - 2}$.

מצא את הנקודות על גרף הפונקציה, שהמשיק דרכן יוצר זווית של 45° עם הכיוון החיובי של ציר ה- x .

(9) נתונה הפונקציה $f(x) = x^3 - 2x^2 + 5$.

מצא את שיעורי ה- x של הנקודות, שהמשיק דרכן לגרף הפונקציה יוצר זווית של 135° עם הכיוון החיובי של ציר ה- x .

(10) פונקציה $f(x)$ גזירה ברציפות ב- 0 ומקיימת $f(0) = 0$.

ידוע שבראשית הצירים הזווית בין המשיק לגרף הפונקציה לבין הכיוון החיובי של ציר ה- x היא 30° .

חשב את הגבול $\lim_{x \rightarrow 0} \frac{f(x)}{x}$.

(11) מצא את הזווית שיוצר המשיק לגרף הפונקציה $f(x) = \sqrt[3]{x^2} = x^{\frac{2}{3}}$

עם הכיוון החיובי של ציר ה- x , בנקודות $x = 1$ ו- $x = 0$.

תשובות סופיות

(1) א. 17 ב. 4

(2) $a = 2$

(3) $(1, 3)$

(4) $a = 2, b = -1$

(5) $a = 2, b = -2$

(6) לערך $k = 6$, בנקודה $x = 1$; לערך $k = \frac{158}{27}$, בנקודה $x = \frac{1}{3}$.

(7) א. ראו באתר. ב. $\alpha = 63.43^\circ, \beta = 116.56^\circ$

(8) $x = 5, x = -1$

(9) $x = 1, x = \frac{1}{3}$

(10) $\frac{1}{\sqrt{3}}$

(11) $\alpha = 33.69^\circ, \beta = 90^\circ$

בעיות משיקים

שאלות

(1) הישר $y = 4x + b$ משיק לגרף הפונקציה $f(x) = \frac{2}{x^2} + 3$.

מצא את b ואת נקודת ההשקה.

(2) הישר $y = 3x$ משיק לגרף הפונקציה $f(x) = x\sqrt{x} + b$.

מצא את b ואת נקודת ההשקה.

(3) הישר $y = ax + \frac{1}{2}$ משיק לגרף הפונקציה $g(x) = \frac{2}{x+c}$ בנקודה $x = 0$.

מצא את a ו- c .

(4) הישר $y = x + b$ משיק לגרף הפונקציה $f(x) = e^x$.

מצא את b ואת נקודת ההשקה.

(5) מצא את משוואת המשיק לגרף הפונקציה $f(x) = \ln x$ בנקודה $x = e$.

בשאלות 6-7 מצא את נקודת ההשקה, ואת משוואת המשיק לגרף העקומה, העובר דרך הנקודה הנתונה:

(6) $(2, -3)$, $y = x^2 - 2x + 1$

(7) $(-3, 1)$, $y = \sqrt{x}$

(8) מצא את משוואת המשיקים המשותפים לפונקציות $y = x^2$ ו- $y = -\frac{1}{4}x^2 - 5$.

(9) הפונקציות $y = \frac{1}{x}$ ו- $y = -\frac{1}{2}x^2 + k$ משיקות זו לזו.

מצא את k ואת נקודת ההשקה.

תשובות סופיות

- (1) נקודת ההשקה היא $(-1,5)$ ומשוואת המשיק היא $y = 4x + 9$.
- (2) נקודת ההשקה היא $(4,12)$ ו- $b = 4$.
- (3) נקודת ההשקה היא $\left(0, \frac{1}{2}\right)$ ומשוואת המשיק היא $y = -\frac{1}{8}x + \frac{1}{2}$.
- (4) נקודת ההשקה היא $(0,1)$ ומשוואת המשיק היא $y = x + 1$.
- (5) משוואת המשיק היא $y = \frac{1}{e}x$.
- (6) $y = 6x - 15, (4,9)$; $y = -2x + 1, (0,1)$
- (7) המשיק $(9,3)$, $y = \frac{1}{6}x + \frac{3}{2}$.
- (8) $y = 2x - 1, y = -2x - 1$
- (9) נקודת ההשקה $(1,1)$, $k = 1.5$.

בעיות משיקים עם נוסחת המשיק

שאלות

- (1) מצא את משוואת המשיק לפונקציה $f(x) = 2(4x+3)^3$, בנקודה $x = -1$.
- (2) מצא את משוואת המשיק לפונקציה $f(x) = x^4 - 2x$, ששיפועו 2.
- (3) מצא את משוואת המשיק לגרף הפונקציה $f(x) = x^3 + 1$, בנקודה $x = 0$.
- (4) מצא את משוואת המשיק לגרף הפונקציה $f(x) = \frac{x^3 + 3x - 1}{x^2 - 2}$, בנקודה $x_1 = 1$.
- (5) שיפוע המשיק לפונקציה $f(x) = \frac{2}{ax+3}$, בנקודה $y = 2$, הוא -4.
מצא את ערכו של הפרמטר a ואת משוואת המשיק.
- (6) מצא את משוואות המשיקים לפונקציה $f(x) = \frac{1}{3x^3}$, היוצרים זווית של 135° עם הכיוון החיובי של ציר ה- x .
- (7) מצא את משוואת המשיק לפונקציה $f(x) = \frac{4}{\sqrt{x-1}}$, ששיפועו -2.
- (8) מצא את משוואת המשיק לגרף הפונקציה $f(x) = \frac{x-3}{\sqrt{x^2-x+2}}$, בנקודה $x_1 = 2$.
- (9) שיפוע המשיק לגרף הפונקציה $f(x) = \frac{a}{\sqrt{bx-1}}$, בנקודה $(1,6)$, הוא -6.
מצא את ערכי הפרמטרים a ו- b , ואת משוואת המשיק.
- (10) נתונה הפונקציה $y = e^{2x} + 3ex$, והעבירו לה משיק בנקודה $x = 2$.
מצא את משוואת המשיק.

11 מצא את משוואת המשיק לפונקציה $f(x) = e^{2x} + xe^{-x}$, בנקודה $x = 0$.

12 מצא את משוואות המשיקים לפונקציה $f(x) = (e+1)e^x - e^{2x}$, בנקודות החיתוך של הפונקציה עם הישר $y = e$.

13 לפונקציה $g(x) = \frac{\ln x^2}{x}$ העבירו משיק בנקודה שבה $x = e^2$. מצא את משוואת המשיק.

14 מצא את משוואת המשיק לגרף הפונקציה $y = x \cdot \ln(x^2 + 1)$, בנקודה $x = 1$.

15 הגרפים של $f(x) = \ln x$ ו- $g(x) = 1 - x$ נחתכים בנקודה A , ברביע הראשון. בנקודה A העבירו משיק. מצא את משוואת המשיק והוכח שהמשיק עובר דרך ראשית הצירים.

16 מצא את משוואת הישר המשיק לגרף הפונקציה הסתומה $xy^2 + y - x = xy$, דרך הנקודה (1,1) , הנמצאת על גרף הפונקציה.

17 מצא את משוואת הישר המשיק לגרף הפונקציה הסתומה $x^2y + e^{y^2-4x} = \ln x + 1$, דרך הנקודה (1,2) , הנמצאת על גרף הפונקציה.

18 מצא את משוואת המשיק למעגל $x^2 + y^2 = 25$ בנקודה (3,4) .

תשובות סופיות

$$y = 24x + 22 \quad (1)$$

$$y = 2x - 3 \quad (2)$$

$$y = 1 \quad (3)$$

$$y = -12x + 9 \quad (4)$$

$$a = 2, \quad y = -4x - 2 \quad (5)$$

$$y = -x + 1\frac{1}{3}, \quad y = -x - 1\frac{1}{3} \quad (6)$$

$$y = -2x + 8 \quad (7)$$

$$y = \frac{11}{16}x - \frac{30}{16} \quad (8)$$

$$a = 6, \quad b = 2, \quad y = -6x + 12 \quad (9)$$

$$y = (2e^4 + 3e)x - 3e^4 \quad (10)$$

$$y = 3x + 1 \quad (11)$$

$$y = (-e^2 + e)x + e^2, \quad y = (e - 1)x + e \quad (12)$$

$$y = -\frac{2}{e^4}x + \frac{6}{e^2} \quad (13)$$

$$y = (\ln 2 + 1)x - 1 \quad (14)$$

$$y = \frac{1}{e}x \quad (15)$$

$$y = \frac{1}{2}x + \frac{1}{2} \quad (16)$$

$$y = \frac{1}{5}x + 1\frac{4}{5} \quad (17)$$

$$y = -\frac{3}{4}x + \frac{25}{4} \quad (18)$$

הנורמל

שאלות

(1) מצא את משוואת הישר, הנורמל לגרף הפונקציה $f(x) = \sqrt{2x-2}$, בנקודה $(3,2)$.

(2) מצא את משוואת הנורמל לגרף הפונקציה $f(x) = x^4$, המאונך לישר העובר דרך הנקודות $(5,0)$ ו- $(2,4)$.

(3) משוואת נורמל לגרף הפונקציה $f(x) = x^3 - 2x^2 + 1$, בנקודה מסוימת, היא $4y + x = 6$. מצא את הנקודה.

תשובות סופיות

(1) $y = -2x + 8$

(2) $y = -\frac{1}{4}x + \frac{5}{4}$

(3) $(2,1)$

זווית שבין שתי עקומות

שאלות

(1) מצא את הזווית בין הפונקציות $y = f(x) = x^2$ ו- $y = g(x) = \frac{1}{x}$.

(2) מצא את הזווית בין המעגל $x^2 + y^2 = 8$ והפרבולה $y^2 = 2x$.

(3) הוכח שהאליפסה $x^2 + 2y^2 = 8$ וההיפרבולה $x^2 - y^2 = 2$ נחתכות בזווית ישרה.

תשובות סופיות

(1) 71.57°

(2) 71.56°

(3) שאלת הוכחה.

נוסחת הקירוב הלינארי – דיפרנציאל שלם

שאלות

(1) חשב בקירוב, בעזרת נוסחת הקירוב הלינארית, את הגדלים הבאים:
 $\sqrt{5}, \sqrt{8}, \sqrt{27}$

(2) חשב בקירוב, בעזרת נוסחת הקירוב הלינארית, את הגדלים הבאים:
 $\ln 2, \sqrt[3]{9}$

תשובות סופיות

$$\sqrt{5} \cong 2.25, \sqrt{8} \cong 2\frac{5}{6}, \sqrt{27} = 5\frac{1}{5} \quad (1)$$

$$\ln 2 \cong 1, \sqrt[3]{9} \cong 2\frac{1}{12} \quad (2)$$

מתמטיקה לביולוגים חד חוגי מורחב

פרק 10 - כלל לופיטל

תוכן העניינים

- 114 1. גבול מהצורה אפס חלקי אפס ואינסוף חלקי אינסוף.
- 117 2. גבול מהצורה אפס כפול אינסוף.
- 118 3. גבול מהצורה אינסוף פחות אינסוף.
- 119 4. גבול מהצורה אחד בחזקת אינסוף.
- 120 5. מקרים בהם כלל לופיטל נכשל.

גבול מהצורה אפס חלקי אפס ואינסוף חלקי אינסוף

שאלות

גבולות מהצורה $\frac{0}{0}$ ו- $\frac{\infty}{\infty}$

חשב את הגבולות הבאים (ביטויים רציונאליים):

$$\lim_{x \rightarrow 1} \frac{x^n - x}{x - 1} \quad (3) \qquad \lim_{x \rightarrow -5} \frac{2x^2 - 50}{2x^2 + 3x - 35} \quad (2) \qquad \lim_{x \rightarrow 3} \frac{x^2 - x - 6}{x^2 - 9} \quad (1)$$

חשב את הגבולות הבאים (ביטויים אי-רציונאליים):

$$\lim_{x \rightarrow 3} \frac{\sqrt{x^2 + 7} - 4}{\sqrt{x} - 2 - 1} \quad (6) \qquad \lim_{x \rightarrow 4} \frac{\sqrt{2x+1} - \sqrt{x+5}}{x - 4} \quad (5) \qquad \lim_{x \rightarrow 3} \frac{x - 3}{\sqrt{x+1} - 2} \quad (4)$$

$$\lim_{x \rightarrow \infty} \frac{\sqrt{1 - \frac{3}{x}} - 1}{\frac{1}{x}} \quad (8) \qquad \lim_{x \rightarrow 1} \frac{\sqrt[3]{2x^2 - 1} - \sqrt{x}}{x - 1} \quad (7)$$

חשב את הגבולות הבאים (פונקציות חזקות):

$$\lim_{x \rightarrow 0} \frac{a^x - b^x}{x} \quad (a, b > 0) \quad (10) \qquad \lim_{x \rightarrow 0} \frac{e^x - 1}{x} \quad (9)$$

$$\lim_{x \rightarrow 0} \frac{2e^x - x^2 - 2x - 2}{2x^3} \quad (12) \qquad \lim_{x \rightarrow 0} \frac{e^x - x - 1}{x^2} \quad (11)$$

חשב את הגבולות הבאים (פונקציות לוגריתמיות):

$$\lim_{x \rightarrow 0} \frac{\ln^2(x+1) + x}{x} \quad (15) \qquad \lim_{x \rightarrow \infty} \frac{\ln\left(\frac{x^2+1}{x^2-1}\right)}{\frac{1}{x^2}} \quad (14) \qquad \lim_{x \rightarrow 1} \frac{\ln x - x + 1}{x^2 - 2x + 1} \quad (13)$$

חשב את הגבולות הבאים (פונקציות טריגונומטריות):

$$\lim_{x \rightarrow 0} \frac{\sin(ax)}{\sin(bx)} \quad (18)$$

$$\lim_{x \rightarrow 0} \frac{\sin(ax^2)}{bx^2} \quad (17)$$

$$\lim_{x \rightarrow 0} \frac{\tan x}{x} \quad (16)$$

$$\lim_{x \rightarrow 0} \frac{\tan x - \sin x}{x^3} \quad (20)$$

$$\lim_{x \rightarrow 0} \frac{x - \sin x}{x^3} \quad (19)$$

חשב את הגבולות הבאים (שאלות משולבות):

$$\lim_{x \rightarrow 0} \frac{1 - \cos(1 - \cos x)}{x^4} \quad (22)$$

$$\lim_{x \rightarrow 0} \frac{\sqrt{1 + \sin x} - \sqrt{\cos x}}{x} \quad (21)$$

$$\lim_{x \rightarrow 0} \frac{\sin^2 x - \sin(x^2)}{x^4} \quad (24)$$

$$\lim_{x \rightarrow 0} \frac{e^x \sin x - x(1+x)}{x^3} \quad (23)$$

$$\lim_{x \rightarrow 0} \frac{\arctan(x^2 + 3x)}{\arcsin(x^2 - 4x)} \quad (26)$$

$$\lim_{x \rightarrow 0} \frac{\ln(\cos x^2)}{x^4} \quad (25)$$

$$\lim_{x \rightarrow 0} \frac{\sin x}{\sinh x} \quad (28)$$

$$\lim_{x \rightarrow \infty} \tanh x \quad (27)$$

$$\lim_{x \rightarrow \infty} \frac{x^2 + 1}{2x^2 + x + 3} \quad (30)$$

$$\lim_{x \rightarrow 0} \frac{2 \cosh x - 2}{1 - \cos 2x} \quad (29)$$

$$\lim_{x \rightarrow \infty} \frac{\ln x + x + 1}{e^x} \quad (32)$$

$$\lim_{x \rightarrow \infty} \frac{e^x}{x} \quad (31)$$

$$\lim_{x \rightarrow 0^+} \frac{\ln(\sin x)}{\ln(\tan x)} \quad (34)$$

$$\lim_{x \rightarrow \infty} \frac{(\ln x)^2 + 2 \ln x - 3}{x} \quad (33)$$

$$\lim_{x \rightarrow 0^-} \frac{e^{\frac{1}{x}}}{x} \quad (35)$$

תשובות סופיות

$\frac{1}{6}$ (5)	4 (4)	$n-1$ (3)	$\frac{20}{17}$ (2)	$\frac{5}{6}$ (1)
$\ln \frac{a}{b}$ (10)	1 (9)	$-\frac{3}{2}$ (8)	$\frac{5}{6}$ (7)	$\frac{3}{2}$ (6)
1 (15)	2 (14)	$-\frac{1}{2}$ (13)	$\frac{1}{6}$ (12)	$\frac{1}{2}$ (11)
$\frac{1}{2}$ (20)	$\frac{1}{6}$ (19)	$\frac{a}{b}$ (18)	$\frac{a}{b}$ (17)	1 (16)
$-\frac{1}{2}$ (25)	$-\frac{1}{3}$ (24)	$\frac{1}{3}$ (23)	$\frac{1}{8}$ (22)	$\frac{1}{2}$ (21)
$\frac{1}{2}$ (30)	$\frac{2}{3}$ (29)	1 (28)	1 (27)	$-\frac{3}{4}$ (26)
0 (35)	∞ (34)	0 (33)	∞ (32)	$\frac{1}{2}$ (31)

גבול מהצורה אפס כפול אינסוף

גבולות מהצורה $\infty \cdot 0$

חשב את הגבולות הבאים:

$$\lim_{x \rightarrow \infty} x^2 e^{-x} \quad (2) \qquad \lim_{x \rightarrow \infty} \frac{1}{x} \cdot e^x \quad (1)$$

$$\lim_{x \rightarrow 0^+} \tan x \cdot \ln x \quad (4) \qquad \lim_{x \rightarrow \infty} \frac{1}{x} \cdot \ln x \quad (3)$$

$$\lim_{x \rightarrow 0^+} x \cdot \ln x \quad (6) \qquad \lim_{x \rightarrow 0} (1 - \cos x) \cot x \quad (5)$$

$$\lim_{x \rightarrow \infty} x \cdot \ln \left(\frac{x+3}{x-3} \right) \quad (8) \qquad \lim_{x \rightarrow 3^+} (x^2 - 9) \cdot \ln(x-3) \quad (7)$$

$$\lim_{x \rightarrow \infty} x \cdot \left[\sqrt{1 + \frac{5}{x}} - 1 \right] \quad (9)$$

תשובות סופיות

0 (5)	0 (4)	0 (3)	0 (2)	∞ (1)
	$\frac{5}{2}$ (9)	6 (8)	0 (7)	0 (6)

גבול מהצורה אינסוף פחות אינסוף

שאלות

גבולות מהצורה $\infty - \infty$

חשב את הגבולות הבאים:

$$\lim_{x \rightarrow 0} \left(\frac{1}{\sin x} - \frac{1}{x} \right) \quad (1)$$

$$\lim_{x \rightarrow 1} \left(\frac{1}{\ln x} - \frac{1}{x-1} \right) \quad (2)$$

$$\lim_{x \rightarrow 0^+} [\ln(3x) - \ln(\sin 5x)] \quad (3)$$

$$\lim_{x \rightarrow \infty} \sqrt{x^2 + x + 1} - x \quad (4)$$

$$\lim_{x \rightarrow -\infty} \sqrt{x^2 + x + 1} + x \quad (5)$$

$$\lim_{x \rightarrow \infty} \left(\sqrt[6]{x^6 + x^5} - \sqrt[6]{x^6 - x^5} \right) \quad (6)$$

תשובות סופיות

$$0 \quad (1)$$

$$\frac{1}{2} \quad (2)$$

$$\ln \frac{3}{5} \quad (3)$$

$$\frac{1}{2} \quad (4)$$

$$-\frac{1}{2} \quad (5)$$

$$\frac{1}{3} \quad (6)$$

גבול מהצורה אחד בחזקת אינסוף

שאלות

גבולות מהצורה: $1^{\pm\infty}$, $0^{\pm\infty}$, ∞^0

חשב את הגבולות הבאים:

$\lim_{x \rightarrow 2^+} (2x-4)^{x-2}$ (3)	$\lim_{x \rightarrow 0^+} (ax)^x, (a > 0)$ (2)	$\lim_{x \rightarrow 1} x^{\frac{1}{x-1}}$ (1)
$\lim_{x \rightarrow 0} (1 + \tan 3x)^{\frac{1}{x}}$ (6)	$\lim_{x \rightarrow 0^+} x^{\sin x}$ (5)	$\lim_{x \rightarrow \infty} \left(\frac{x^2+1}{x^2-1} \right)^{x^2}$ (4)
$\lim_{x \rightarrow 0^+} (\sin x)^{\tan x}$ (9)	$\lim_{x \rightarrow 0} (\cos x^2)^{\frac{1}{x^4}}$ (8)	$\lim_{x \rightarrow 0} \left(\frac{\tan x}{x} \right)^{\frac{1}{x^2}}$ (7)
$\lim_{x \rightarrow 0^+} (x + \sin x)^{\tan x}$ (12)	$\lim_{x \rightarrow 0} (x+1)^{\cot x}$ (11)	$\lim_{x \rightarrow 0^+} x^{\tan x}$ (10)
	$\lim_{x \rightarrow 0} \left(\frac{\sin x}{x} \right)^{\frac{1}{x^2}}$ (14)	$\lim_{x \rightarrow 0^+} (1+x^2)^{\cot^2 x}$ (13)

תשובות סופיות

e^2 (5)	1 (4)	1 (3)	1 (2)	e (1)
1 (10)	$e^{-1/2}$ (9)	$e^{1/3}$ (8)	e^3 (7)	1 (6)
	e (14)	1 (13)	e (12)	1 (11)

מקרים בהם כלל לופיטל נכשל

שאלות

כל אחד מהגבולות הבאים הוא מן הסוג $\left[\frac{\infty}{\infty} \right]$.

הראה זאת והסבר מדוע, למרות כך, כלל לופיטל אינו ישים. לבסוף, חשב את הגבול.

$$\lim_{x \rightarrow \infty} \frac{3x + \sin x}{4x + \cos x} \quad (3)$$

$$\lim_{x \rightarrow \infty} \frac{16^x + 4^{x+1}}{2^{4x+2} + 2^{x+3}} \quad (2)$$

$$\lim_{x \rightarrow \infty} \frac{\sqrt{x^2 + 1}}{x} \quad (1)$$

תשובות סופיות

$$\frac{3}{4} \quad (3)$$

$$\frac{1}{4} \quad (2)$$

$$1 \quad (1)$$

מתמטיקה לביולוגים חד חוגי מורחב

פרק 11 - חקירת פונקציה

תוכן העניינים

121	1. מושגי יסוד
122	2. חקירת פולינום
123	3. חקירת פונקציה רציונלית
127	4. חקירת פונקציה מעריכית
130	5. חקירת פונקציה לוגריתמית
134	6. חקירת פונקציה עם שורשים
135	7. חקירת פונקציה לא גזירה - שורש וערך מוחלט
138	8. חקירת פונקציה טריגונומטרית
142	9. חקירת פונקציות טריגונומטריות הפוכות

הערות

1. בשאלות החקירה בפרק זה יש לחקור לפי השלבים הבאים:
 - תחום הגדרה ורציפות.
 - נקודות חיתוך עם הצירים.
 - זוגיות ואי-זוגיות.
 - אסימפטוטות אנכיות, אופקיות ומשופעות.
 - תחומי עלייה וירידה.
 - נקודות קיצון.
 - תחומי קמירות וקעירות.
 - נקודות פיתול.
 - שרטוט סקיצה של גרף הפונקציה.
2. יש האומרים על פונקציה קמורה שהיא קעורה כלפי מעלה ועל פונקציה קעורה שהיא קעורה כלפי מטה. אלה מינוחים שמקובלים בדרך כלל בתיכון.
3. ברוב המוסדות האקדמיים לומדים למצוא אסימפטוטה משופעת, שכוללת בתוכה גם את האפשרות לאסימפטוטה אופקית. יחד עם זאת, בחלק מהמוסדות לומדים רק אסימפטוטה אופקית, ולכן בכל חקירה אני מוצא גם אסימפטוטה משופעת וגם אופקית. צפו בפתרון רק בחלק ברלוונטי עבורכם.
4. בחלק מהחקירות אציין בשאלה שאין צורך לעבור על כל שלבי החקירה. שימו לב לזה.
5. אני ממליץ על תוכנה חינמית בשם Graph, שניתן להוריד [מכאן](#). בעזרתה תוכלו לשרטט כל פונקציה בקלות ולבדוק את תשובותיכם.

חקירת פולינום

שאלות

חקור את הפונקציות הבאות חקירה מלאה:

$$f(x) = x^4 - 2x^3 \quad (2)$$

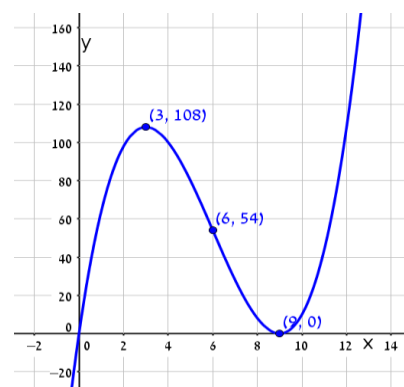
$$f(x) = x(x-9)^2 \quad (1)$$

תשובות סופיות

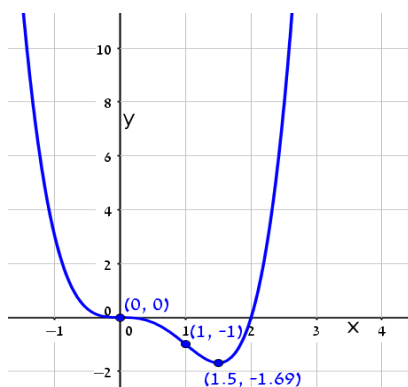
- (1) תחום הגדרה: כל x . נקודות חיתוך עם ציר ה- y : 0 , עם ציר ה- x : 0 ו- 9 .
 נקודות קיצון: מינימום: $(9, 0)$, מקסימום: $(3, 108)$.
 תחום עלייה: $x < 3$ or $x > 9$, ירידה: $3 < x < 9$.
 תחום קמירות: $x > 6$, קעירות: $x < 6$.
 נקודת פיתול: $(6, 54)$.
- (2) תחום הגדרה: כל x . נקודות חיתוך עם ציר ה- y : 0 , עם ציר ה- x : 0 ו- 1 .
 נקודות קיצון: מינימום: $(1.5, \frac{-27}{16})$.
 תחום עלייה: $x > 1.5$, ירידה: $x < 1.5$.
 תחום קמירות: $x < 0$ or $x > 1$, קעירות: $0 < x < 1$.
 נקודות פיתול: $(0, 0)$, $(1, -1)$.

גרפים

(1)



(2)



חקירת פונקציה רציונלית

שאלות

חקור את הפונקציות הבאות חקירה מלאה:

$$f(x) = \frac{2x^2}{(x+1)^2} \quad (2)$$

$$f(x) = \frac{x-1}{x^2} \quad (1)$$

$$f(x) = \frac{x^3}{(x+1)^2} \quad (4)$$

$$f(x) = \frac{x^3}{x^2-4} \quad (3)$$

$$f(x) = \frac{x^2-1}{(x-2)(x-5)} \quad (6)$$

$$f(x) = \left(\frac{x+1}{x-1}\right)^3 \quad (5)$$

$$f(x) = \frac{x^3-x^2}{x^2-1} \quad (8)$$

$$f(x) = \frac{x^2-4x+3}{x^2-4} \quad (7)$$

הערות

1. בשאלה 6 יש למצוא נקודת פיתול, רק אם למדת לפתור משוואה ממעלה שלישית.
2. בשאלה 7 יש למצוא נקודת פיתול, רק אם למדת לפתור משוואות בדרך נומרית. למשל, בשיטת ניוטון-רפסון.
3. בשאלה 8 מצאתי רק אסימפטוטה אופקית ולא משופעת. מומלץ למצוא גם אסימפטוטה משופעת. פונקציה כמעט זהה יש בסרטון ההסבר על אסימפטוטה משופעת. בכל אופן מקבלים שם אסימפטוטה משופעת $y = x - 1$.

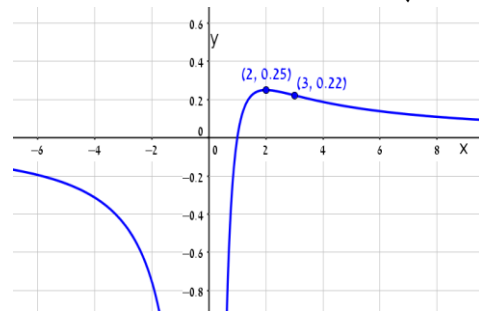
תשובות סופיות

- (1) תחום הגדרה ורציפות: לכל $x \neq 0$. זוגיות: לא זוגית ולא אי-זוגית (כללית).
נקודות חיתוך עם ציר ה- y : אין, עם ציר ה- x : 1.
אסימפטוטה אנכית: הישר $x=0$, משופעת ואופקית: הישר $y=0$ ב- $\pm\infty$.
נקודות קיצון: מקסימום: $(2, 0.25)$. נקודת פיתול: $\left(3, \frac{2}{9}\right)$.
תחום עלייה: $0 < x < 2$, ירידה: $x > 2$ or $x < 0$.
תחום קמירות: $x > 3$, קעירות: $0 < x < 3$ or $x < 0$.
- (2) תחום הגדרה ורציפות: לכל $x \neq -1$. זוגיות: לא זוגית ולא אי-זוגית (כללית).
נקודות חיתוך עם ציר ה- y : 0, עם ציר ה- x : 0.
אסימפטוטה אנכית: הישר $x=-1$, משופעת ואופקית: הישר $y=2$ ב- $\pm\infty$.
נקודות קיצון: מינימום: $(0, 0)$. נקודת פיתול: $\left(\frac{1}{2}, \frac{2}{9}\right)$.
תחום עלייה: $x < -1$ or $x > 0$, ירידה: $-1 < x < 0$.
תחום קמירות: $-1 < x < \frac{1}{2}$ or $x < -1$, קעירות: $x > \frac{1}{2}$.
- (3) תחום הגדרה ורציפות: לכל $x \neq \pm 2$. זוגיות: אי-זוגית (סימטרית ביחס לראשית).
נקודות חיתוך עם ציר ה- y : 0, עם ציר ה- x : 0.
אסימפטוטה אנכית: הישרים $x=2$, $x=-2$, משופעת: הישר $y=x$ ב- $\pm\infty$,
אופקית: אין.
נקודות קיצון: מינימום: $(-\sqrt{12}, -\sqrt{27})$, מקסימום: $(\sqrt{12}, \sqrt{27})$.
תחום עלייה: $x < -\sqrt{12}$ or $x > \sqrt{12}$, ירידה: $-\sqrt{12} < x < \sqrt{12}$ and $x \neq \pm 2$.
נקודת פיתול: $(0, 0)$.
תחום קמירות: $-2 < x < 0$ or $x > 2$, קעירות: $0 < x < 2$ or $x < -2$.
- (4) תחום הגדרה ורציפות: לכל $x \neq -1$. זוגיות: לא זוגית ולא אי-זוגית (כללית).
נקודות חיתוך עם ציר ה- y : 0, עם ציר ה- x : 0.
אסימפטוטה אנכית: הישר $x=-1$, משופעת: הישר $y=x-2$ ב- $\pm\infty$,
אופקית: אין, כי הפונקציה רציונלית, שבה מעלת המונה גדולה ממעלת המכנה.
נקודות קיצון: מקסימום: $\left(-3, -\frac{27}{4}\right)$.
תחום עלייה: $x > -1$ or $x < -3$, ירידה: $-3 < x < -1$.
נקודת פיתול: $(0, 0)$.
תחום קמירות: $x > 0$, קעירות: $-1 < x < 0$ or $x < -1$.

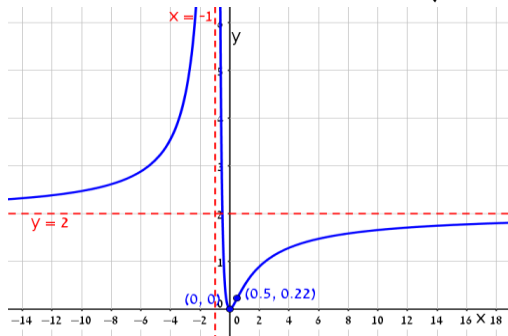
- (5) תחום הגדרה ורציפות: לכל $x \neq 1$. זוגיות: לא זוגית ולא אי-זוגית (כללית).
נקודות חיתוך עם ציר ה- y : -1 , עם ציר ה- x : -1 .
אסימפטוטה אנכית: הישר $x=1$, משופעת ואופקית: הישר $y=1$ ב- $\pm\infty$.
נקודות קיצון: אין; הפונקציה יורדת בכל תחום הגדרתה.
נקודות פיתול: $(-1,0)$, $\left(-3, \frac{1}{8}\right)$.
- תחום קמירות: $-3 < x < -1$ & $x > 1$, קעירות: $-1 < x < 1$ or $x < -3$.
- (6) תחום הגדרה ורציפות: לכל $x \neq 2$, $x \neq 5$. זוגיות: כללית.
נקודות חיתוך עם ציר ה- y : $y = -\frac{1}{10}$, עם ציר ה- x : ± 1 .
אסימפטוטה אנכית: הישרים $x=2$, $x=5$, משופעת ואופקית: הישר $y=1$ ב- $\pm\infty$.
נקודות קיצון: מקסימום: $(2.78, -3.88)$, מינימום: $(0.36, -0.11)$.
תחום עלייה: $0.36 < x < 2$ or $2 < x < 2.78$,
ירידה: $x < 0.36$ or $2.78 < x < 5$ or $x > 5$. נקודת פיתול: $(-1,0)$.
תחום קמירות: $-1 < x < 2$ or $x > 5$, קעירות: $2 < x < 5$ or $x < -1$.
- (7) תחום הגדרה ורציפות: לכל $x \neq \pm 2$. זוגיות: כללית.
נקודות חיתוך עם ציר ה- y : $y = -\frac{3}{4}$, עם ציר ה- x : $x=1$, $x=3$.
אסימפטוטה אנכית: הישרים $x=2$, $x=-2$, משופעת ואופקית: הישר $y=1$ ב- $\pm\infty$.
נקודות קיצון: אין; כי למשוואה הריבועית שקיבלנו אין פתרון.
תחום עלייה: הפונקציה עולה בכל תחום הגדרתה.
נקודת פיתול: $(0.85, -0.09)$.
- תחום קמירות: $0.85 < x < 2$ or $x < -2$, קעירות: $-2 < x < 0.85$ or $x > 2$.
- (8) תחום הגדרה ורציפות: לכל $x \neq 1$, $x \neq -1$.
נקודות חיתוך עם ציר ה- y : 0 , עם ציר ה- x : 0 .
אסימפטוטה אופקית: אין, אנכית: הישר $x=-1$.
נקודות קיצון: מקסימום: $(-2, -4)$, מינימום: $(0,0)$.
תחום עלייה: $0 < x < 1$ or $x < -2$ or $x > 1$, ירידה: $-1 < x < 0$ or $-2 < x < -1$.
נקודת פיתול: אין.
תחום קמירות: $-1 < x < 1$ or $x > 1$, קעירות: $x < -1$.

גרפים

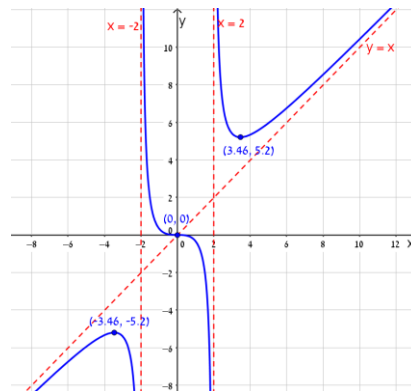
(1)



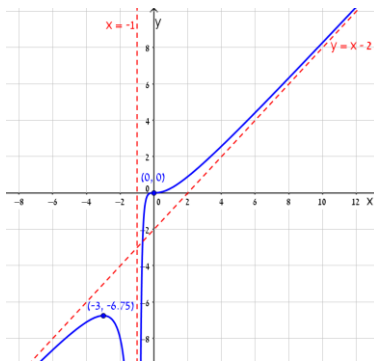
(2)



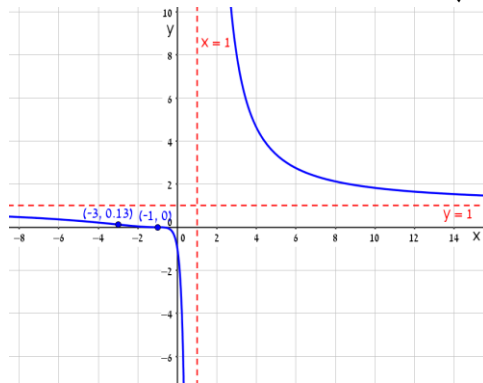
(3)



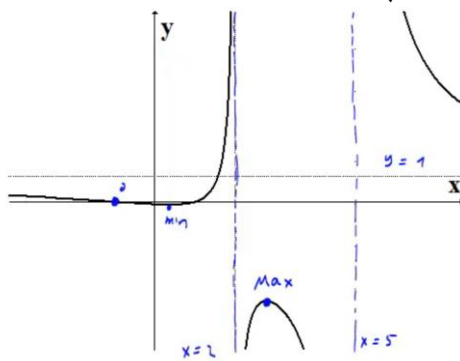
(4)



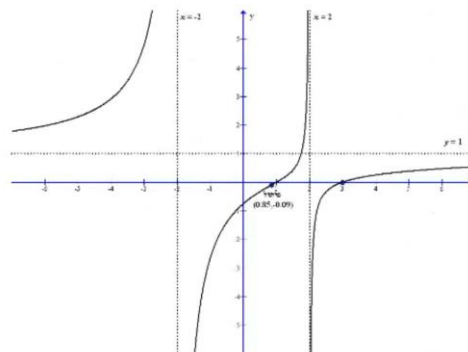
(5)



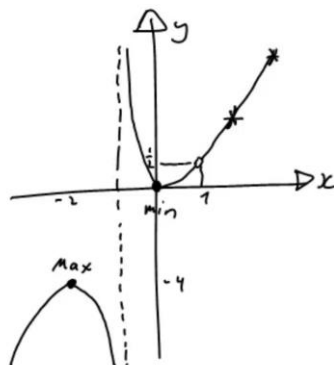
(6)



(7)



(8)



חקירת פונקציה מעריכית

שאלות

חקור את הפונקציות הבאות חקירה מלאה:

$$f(x) = x - e^x \quad (1)$$

$$f(x) = e^{\frac{1}{x}} \quad (2)$$

$$f(x) = (x+2) \cdot e^{\frac{1}{x}} \quad (3)$$

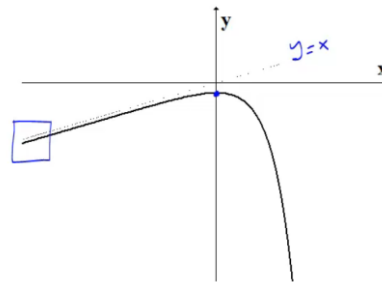
$$f(x) = x \cdot e^{-2x^2} \quad (4)$$

תשובות סופיות

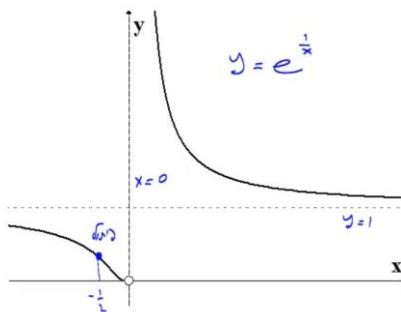
- (1) תחום הגדרה ורציפות: לכל x . זוגיות: כללית.
 נקודות חיתוך עם ציר ה- y : -1 , עם ציר ה- x : אין (ראו בהרחבה בסרטון).
 אסימפטוטה אנכית: אין, משופעת: הישר $y=x$ ב- $-\infty$ בלבד.
 נקודות קיצון: מקסימום: $(0, -1)$. תחום עלייה: $x < 0$, ירידה: $x > 0$.
 נקודת פיתול: אין. תחום קמירות: קעורה לכל x .
- (2) תחום הגדרה ורציפות: לכל $x \neq 0$. זוגיות: כללית.
 נקודות חיתוך עם ציר ה- y : אין, עם ציר ה- x : אין.
 אסימפטוטה אנכית (חד-צדדית): $x=0$, משופעת ואופקית: הישר $y=1$ ב- $\pm\infty$.
 נקודות קיצון: אין.
 תחום עלייה וירידה: הפונקציה יורדת בתחום הגדרתה.
 נקודת פיתול: $(-0.5, e^{-2})$.
- (3) תחום הגדרה ורציפות: לכל $x \neq 0$. זוגיות: כללית.
 נקודות חיתוך עם ציר ה- y : אין, עם ציר ה- x : -2 .
 אסימפטוטה אנכית (חד-צדדית): $x=0$, משופעת: הישר $y=x+3$ ב- $\pm\infty$.
 נקודות קיצון: אין. נקודות קיצון: מקסימום: $(-1, e^{-1})$, מינימום: $(2, 4e^{\frac{1}{2}})$.
 תחום עלייה: $x > 2$ or $x < -1$, ירידה: $0 < x < 2$ or $-1 < x < 0$.
 נקודת פיתול: $(-0.4, 1.6e^{-2.5})$.
- (4) תחום הגדרה ורציפות: לכל x . זוגיות: אי-זוגית (סימטרית ביחס לראשית).
 נקודות חיתוך עם ציר ה- y : 0 , עם ציר ה- x : 0 .
 אסימפטוטה אנכית: אין, משופעת (אופקית): הישר $y=0$ ב- $\pm\infty$.
 נקודות קיצון: מקסימום: $(\frac{1}{2}, \frac{1}{2}e^{-\frac{1}{2}})$, מינימום: $(-\frac{1}{2}, -\frac{1}{2}e^{-\frac{1}{2}})$.
 תחום עלייה: $-\frac{1}{2} < x < \frac{1}{2}$, ירידה: $x > \frac{1}{2}$ or $x < -\frac{1}{2}$.
 נקודות פיתול: $(0, 0)$, $(-\sqrt{\frac{3}{4}}, -\sqrt{\frac{3}{4}}e^{-1.5})$, $(\sqrt{\frac{3}{4}}, \sqrt{\frac{3}{4}}e^{-1.5})$.
 תחום קמירות: $-\sqrt{\frac{3}{4}} < x < 0$ or $x > \sqrt{\frac{3}{4}}$, תחום קעירות:
 $x < -\sqrt{\frac{3}{4}}$ or $0 < x < \sqrt{\frac{3}{4}}$

גרפים

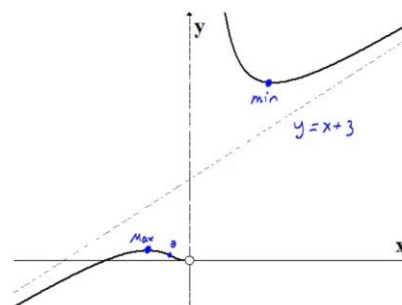
(1)



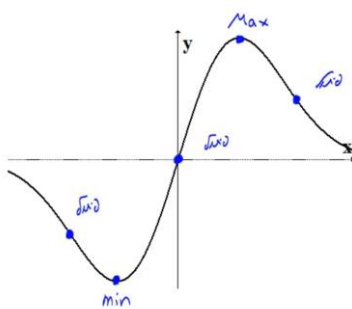
(2)



(3)



(4)



חקירת פונקציה לוגריתמית

שאלות

חקור את הפונקציות הבאות חקירה מלאה:

$$f(x) = \frac{\ln x}{x} \quad (1)$$

$$f(x) = \frac{\ln x}{\sqrt{x}} \quad (2)$$

$$f(x) = \ln \sqrt{\frac{1}{2-x}} \quad (3)$$

$$f(x) = x \cdot \ln x \quad (4)$$

$$f(x) = \ln^2 x + 2 \ln x - 3 \quad (5)$$

$$f(x) = 4 \ln^2 x - 4 \ln x - 3 \quad (6)$$

$$f(x) = \ln^2 x + \frac{1}{\ln^2 x} \quad (7)$$

הערה

בשאלה 7 יש למצוא נקודת פיתול רק אם למדת לפתור משוואות בדרך נומרית. למשל, בשיטת ניוטון-רפסון.

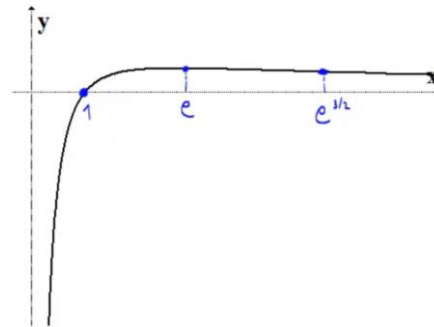
תשובות סופיות

- (1) תחום הגדרה ורציפות: לכל $x > 0$. זוגיות: כללית.
 נקודות חיתוך עם ציר ה- y : אין, עם ציר ה- x : 1.
 אסימפטוטה אנכית: הישר $x = 0$, משופעת ואופקית: הישר $y = 0$ ב- ∞ .
 נקודות קיצון: מקסימום: $\left(e, \frac{1}{e}\right)$.
 תחום עלייה: $0 < x < e$, ירידה: $x > e$.
 נקודת פיתול: $\left(e^{1.5}, \frac{1.5}{e^{1.5}}\right)$.
 תחום קמירות: $x > e^{1.5}$, קעירות: $0 < x < e^{1.5}$.
- (2) תחום הגדרה ורציפות: לכל $x > 0$. זוגיות: כללית.
 נקודות חיתוך עם ציר ה- y : אין, עם ציר ה- x : 1.
 אסימפטוטה אנכית (חד-צדדית): הישר $x = 0$,
 משופעת ואופקית: הישר $y = 0$ ב- ∞ .
 נקודות קיצון: מקסימום: $\left(e^2, \frac{2}{e}\right)$.
 תחום עלייה: $0 < x < e^2$, ירידה: $x > e^2$.
 נקודת פיתול: $\left(e^{\frac{8}{3}}, \frac{\frac{8}{3}}{\sqrt{e^{\frac{8}{3}}}}\right)$. תחום קמירות: $0 < x < e^{\frac{8}{3}}$, קעירות: $x > e^{\frac{8}{3}}$.
- (3) תחום הגדרה ורציפות: לכל $x < 2$. זוגיות: כללית.
 נקודות חיתוך עם ציר ה- y : $y = -\frac{1}{2} \ln 2$, עם ציר ה- x : 1.
 אסימפטוטה אנכית: הישר $x = 2$, משופעת: אין.
 נקודות קיצון: אין.
 תחום עלייה: עולה בכל תחום הגדרתה.
 נקודת פיתול: אין. קמורה בכל תחום הגדרתה.
- (4) תחום הגדרה ורציפות: לכל $x > 0$. זוגיות: כללית.
 נקודות חיתוך עם ציר ה- y : אין, עם ציר ה- x : 1.
 אסימפטוטה אנכית: אין, משופעת: אין.
 נקודות קיצון: מינימום: $(e^{-1}, -e^{-1})$.
 תחום עלייה: $x > e^{-1}$, ירידה: $0 < x < e^{-1}$.
 נקודת פיתול: אין. קמורה בכל תחום הגדרתה.

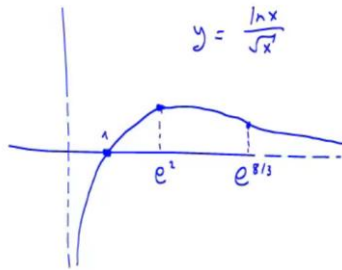
- (5) תחום הגדרה ורציפות: לכל $x > 0$. זוגיות: כללית.
 נקודות חיתוך עם ציר ה- y : אין, עם ציר ה- x : $x = e^1$, $x = e^{-3}$.
 אסימפטוטה אנכית: $x = 0$, משופעת ואופקית: אין.
 נקודות קיצון: מינימום: $(e^{-1}, -4)$.
 תחום עלייה: $x > e^{-1}$, ירידה: $0 < x < e^{-1}$.
 נקודת פיתול: $(1, -3)$. תחום קמירות: $x > 1$, קעירות: $0 < x < 1$.
- (6) תחום הגדרה ורציפות: לכל $x > 0$. זוגיות: כללית.
 נקודות חיתוך עם ציר ה- y : אין, עם ציר ה- x : $x = e^{1.5}$, $x = e^{-0.5}$.
 אסימפטוטה אנכית: $x = 0$, משופעת ואופקית: אין.
 נקודות קיצון: מינימום: $(e^{\frac{1}{2}}, -4)$.
 תחום עלייה: $x > e^{\frac{1}{2}}$, ירידה: $0 < x < e^{\frac{1}{2}}$.
 נקודת פיתול: $(e^{1.5}, 0)$. תחום קמירות: $0 < x < 1.5$, קעירות: $x > 1.5$.
- (7) תחום הגדרה ורציפות: לכל $x > 0$, $x \neq 1$. זוגיות: כללית.
 נקודות חיתוך עם ציר ה- y : אין, עם ציר ה- x : אין.
 אסימפטוטה אנכית: $x = 1$, משופעת ואופקית: אין.
 נקודות קיצון: מינימום: $(e^{-1}, 2)$, $(e, 2)$.
 תחום עלייה: $x > e$ or $e^{-1} < x < 1$, ירידה: $1 < x < e$ or $x < e^{-1}$.
 נקודת פיתול: $(5.15, 3.06)$.
 תחום קמירות: $1 < x < 5.15$ or $0 < x < 1$, קעירות: $x > 5.15$.

גרפים

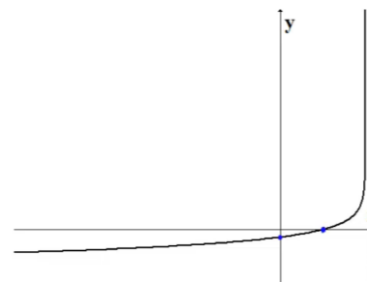
(1)



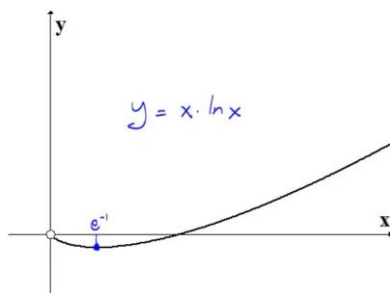
(2)



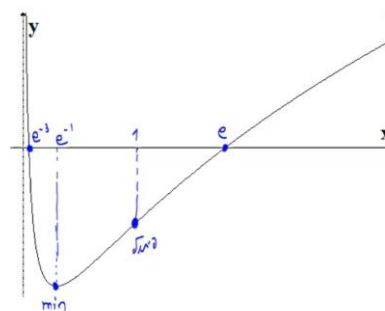
(3)



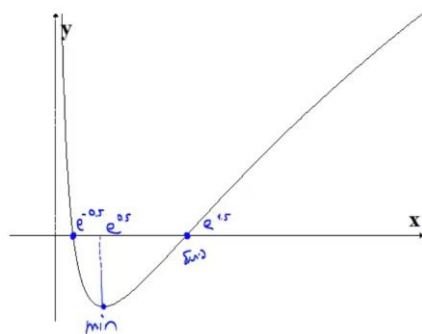
(4)



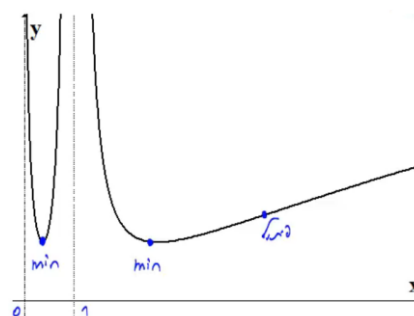
(5)



(6)



(7)



חקירת פונקציה עם שורשים

שאלה

(1) חקור את הפונקציה הבאה חקירה מלאה: $f(x) = \frac{1}{\sqrt{x^2+1}}$.

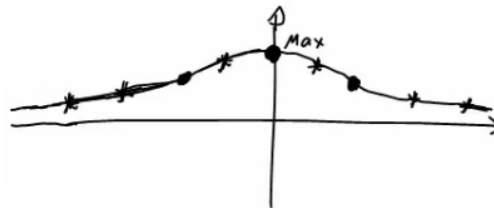
תשובה

- (1) תחום הגדרה ורציפות: לכל x .
 נקודות חיתוך עם ציר ה- y : 1 , עם ציר ה- x : אין.
 אסימפטוטה אנכית: אין, אופקית: $y = 0$.
 נקודות קיצון: מקסימום: $(0,1)$. תחום עלייה: $x < 0$, ירידה: $x > 0$.

נקודות פיתול: $\left(\sqrt{\frac{1}{2}}, \frac{1}{\sqrt{\frac{1}{2}}}\right), \left(-\sqrt{\frac{1}{2}}, \frac{1}{\sqrt{\frac{1}{2}}}\right)$

תחום קמירות: $x < -\sqrt{\frac{1}{2}}$ or $x < \sqrt{\frac{1}{2}}$, קעירות: $-\sqrt{\frac{1}{2}} < x < \sqrt{\frac{1}{2}}$

גרף:



חקירת פונקציה לא גזירה – שורש וערך מוחלט

שאלות

חקור את הפונקציות הבאות חקירה מלאה:

$$f(x) = \sqrt[3]{x^2}(1-x) = x^{\frac{2}{3}} - x^{\frac{5}{3}} \quad (1)$$

$$f(x) = \left(\sqrt[3]{x^2} - 1\right)^2 \quad (2)$$

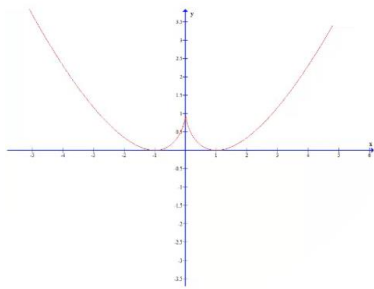
$$f(x) = \sqrt[3]{x^2 - 1} \quad (3)$$

$$f(x) = \frac{|x-3|}{x-2} \quad (4)$$

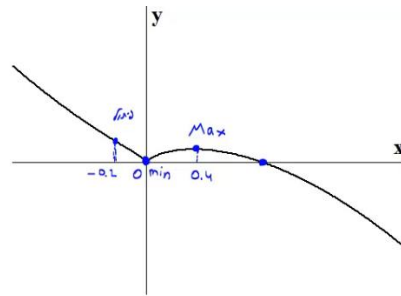
תשובות סופיות

- (1) תחום הגדרה ורציפות: לכל x . זוגיות: כללית.
נקודות חיתוך עם ציר ה- y : 0 , עם ציר ה- x : 0 או 1 .
אסימפטוטה אנכית: אין, אופקית: אין.
נקודות קיצון: מקסימום: $\left(\frac{2}{5}, 0.326\right)$, מינימום: $(0, 0)$.
תחום עלייה: $0 < x < \frac{2}{5}$, ירידה: $x < 0$ or $x > \frac{2}{5}$.
נקודות פיתול: $(-0.2, 0.41)$.
תחום קמירות: $x < -0.2$, קעירות: $-0.2 < x < 0$ or $x > 0$.
- (2) תחום הגדרה ורציפות: לכל x .
נקודות חיתוך עם ציר ה- y : 1 , עם ציר ה- x : -1 או 1 .
אסימפטוטה אנכית: אין, אופקית: אין.
נקודות קיצון: מקסימום: $(0, 1)$, מינימום: $(-1, 0)$, $(1, 0)$.
תחום עלייה: $-1 < x < 0$ or $x > 1$, ירידה: $x < -1$ or $0 < x < 1$.
נקודות פיתול: אין.
תחום קמירות: קמורה לכל x .
תחום הגדרה ורציפות: לכל x . זוגיות: זוגית.
נקודות חיתוך עם ציר ה- y : -1 , עם ציר ה- x : ± 1 .
אסימפטוטה אנכית: אין, אופקית: אין.
נקודות קיצון: מינימום: $(0, -1)$.
תחום עלייה: $0 < x < 1$ or $x > 1$, ירידה: $x < -1$ or $-1 < x < 0$.
נקודות פיתול: $(1, 0)$, $(-1, 0)$.
תחום קמירות: $-1 < x < 1$, קעירות: $x > 1$ or $x < -1$.
- (3) תחום הגדרה ורציפות: לכל $x \neq 2$. זוגיות: כללית.
נקודות חיתוך עם ציר ה- y : -1.5 , עם ציר ה- x : 3 .
אסימפטוטה אנכית: הישר $x = 2$,
משופעת ואופקית: הישר $y = 1$ ב- ∞ , ו- $y = -1$ ב- $-\infty$.
נקודות קיצון: מינימום: $(3, 0)$.
תחום עלייה: $x > 3$, ירידה: $2 < x < 3$ or $x < 2$.
נקודות פיתול: $(3, 0)$.
תחום קמירות: $2 < x < 3$, קעירות: $x > 3$ or $x < 2$.

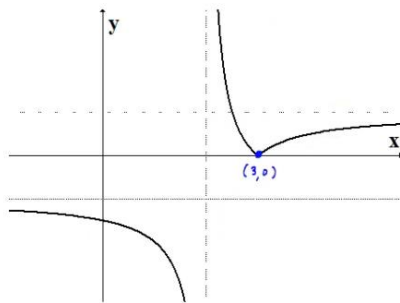
גרפים



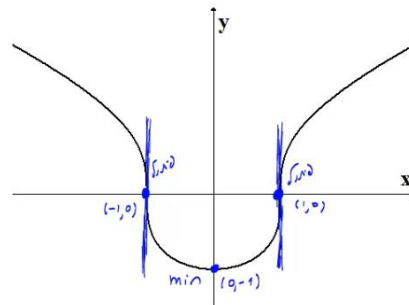
(2)



(1)



(4)



(3)

חקירת פונקציה טריגונומטרית

שאלות

(1) נתונה הפונקציה: $f(x) = x + 2\cos x$ בתחום $[0, 2\pi]$.
חקור לפי הסעיפים הבאים:

- מציאת תחום ההגדרה של הפונקציה.
- מציאת נקודות הקיצון של גרף הפונקציה.
- תחומי עלייה וירידה של גרף הפונקציה.
- מציאת נקודת החיתוך של גרף הפונקציה עם ציר ה- y .
- מציאת אסימפטוטות המקבילות לצירים.
- מציאת נקודות פיתול.
- מציאת תחומי הקעירות כלפי מעלה ומטה.
- שרטוט סקיצה של גרף הפונקציה.

(2) נתונה הפונקציה: $f(x) = 4x - 3\tan x$ בתחום $\left[-\frac{\pi}{6}, \frac{2\pi}{3}\right]$.

- חקור את הפונקציה על פי הסעיפים הבאים:
- מציאת תחום ההגדרה של הפונקציה.
 - מציאת נקודות הקיצון של גרף הפונקציה.
 - תחומי עלייה וירידה של גרף הפונקציה.
 - מציאת נקודת החיתוך של גרף הפונקציה עם ציר ה- y .
 - מציאת אסימפטוטות אנכיות.
 - מציאת נקודות פיתול.
 - מציאת תחומי קעירות כלפי מעלה ומטה.
 - שרטוט סקיצה של גרף הפונקציה.

(3) נתונה הפונקציה: $f(x) = \frac{1}{\cos x} + \frac{1}{\sin x}$ בתחום $[0, \pi]$.
חקור לפי הסעיפים הבאים:

- מציאת תחום ההגדרה של הפונקציה.
- מציאת נקודות הקיצון של גרף הפונקציה.
- תחומי עלייה וירידה של גרף הפונקציה.
- מציאת נקודת החיתוך של גרף הפונקציה עם ציר ה- x בתחום הנתון.
- מציאת אסימפטוטות המקבילות לצירים.
- שרטוט סקיצה של גרף הפונקציה.

4 נתונה הפונקציה: $f(x) = \cos^2 x - \cos x - 2$ בתחום: $0 \leq x \leq 2\pi$.

- מצא את נקודות החיתוך של גרף הפונקציה עם הצירים.
- מצא את נקודות הקיצון של גרף הפונקציה וקבע את סוגן.
- כתוב את תחומי העלייה והירידה של הפונקציה.
- שרטט סקיצה של גרף הפונקציה.

5 נתונה הפונקציה הבאה: $y = (\sin x + 1) \cdot \cos x$ בתחום: $0 \leq x \leq 1.5\pi$.

- מצא את נקודות החיתוך של גרף הפונקציה עם הצירים.
- מצא את נקודות הקיצון של גרף הפונקציה.
- שרטט סקיצה של גרף הפונקציה.
- כמה פתרונות יש למשוואה: $\cos x \cdot (\sin x + 1) = 1$ בתחום הנתון?

6 נתונה הפונקציה: $f(x) = \sin^2 x + \cos x - 1$.

- מצא את נקודות החיתוך עם הצירים ואת נקודות הקיצון של הפונקציה בתחום $[0, \pi]$.
- הוכח שהפונקציה זוגית.
- שרטט את הפונקציה בתחום $[-\pi, \pi]$.

7 נתונה הפונקציה: $f(x) = \tan 2x - 8 \sin 2x$ בתחום: $-0.25\pi < x < 0.25\pi$.

- מצא את נקודות החיתוך של גרף הפונקציה עם הצירים בתחום הנתון.
- כתוב את האסימפטוטות האנכיות של גרף הפונקציה.
- מצא את נקודות הקיצון של גרף הפונקציה בתחום הנתון.
- שרטט סקיצה של גרף הפונקציה בתחום הנתון.

חקור את הפונקציות הבאות חקירה מלאה:

$$[0, 2\pi], \quad f(x) = 8 \cos x + 2 \cos 2x - 3 \quad (8)$$

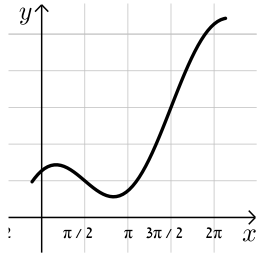
$$[0, \pi], \quad f(x) = 2 \cos^2 x - \sin 2x \quad (9)$$

תשובות סופיות

(1) א. $0 < x < 2\pi$.

ב. $\max(2\pi, 2\pi + 2)$ קצה, $\min\left(\frac{5}{6}\pi, \frac{5}{6}\pi - \sqrt{3}\right)$, $\max\left(\frac{\pi}{6}, \frac{\pi}{6} + \sqrt{3}\right)$, $\min(0, 2)$ קצה.

ג. תחומי עלייה: $\frac{5\pi}{6} < x < 2\pi$ או $0 < x < \frac{\pi}{6}$, תחומי ירידה: $\frac{\pi}{6} < x < \frac{5\pi}{6}$.



ד. $(0, 2)$. ה. אין. ו. $\left(\frac{\pi}{2}, \frac{\pi}{2}\right), \left(\frac{3\pi}{2}, \frac{3\pi}{2}\right)$.

ז. קעירות כלפי מעלה: $\frac{\pi}{2} < x < \frac{3\pi}{2}$,

קעירות כלפי מטה: $0 < x < \frac{\pi}{2}$ או $\frac{3\pi}{2} < x < 2\pi$.

(2) א. $-\frac{\pi}{6} \leq x \leq \frac{2}{3}\pi$ וגם $x \neq \frac{\pi}{2}$.

ב. $\min\left(\frac{2}{3}\pi, 13.57\right)$ קצה, $\max\left(\frac{\pi}{6}, 0.36\right)$, $\min\left(-\frac{\pi}{6}, -0.36\right)$ קצה.

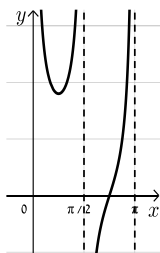
ג. תחומי עלייה: $-\frac{\pi}{6} \leq x \leq \frac{\pi}{6}$, תחומי ירידה: $\frac{\pi}{6} \leq x \leq \frac{2}{3}\pi$ וגם $x \neq \frac{\pi}{2}$.



ד. $(0, 0)$. ה. אנכית: $x = \frac{\pi}{2}$. ו. $(0, 0)$.

ז. קעירות כלפי מעלה: $\frac{\pi}{2} \leq x \leq \frac{2}{3}\pi$ או $-\frac{\pi}{6} \leq x \leq 0$,

קעירות כלפי מטה: $0 < x < \frac{\pi}{2}$.

(3) א. $0 < x < \frac{\pi}{2}$; $\frac{\pi}{2} < x < \pi$. ב. $\min\left(\frac{\pi}{4}, 2\sqrt{2}\right)$.

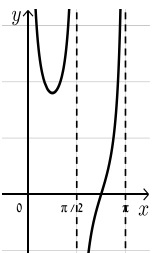
ג. תחומי עלייה: $\frac{\pi}{2} < x < \pi$, $\frac{\pi}{4} < x < \frac{\pi}{2}$, תחומי ירידה: $0 < x < \frac{\pi}{4}$.

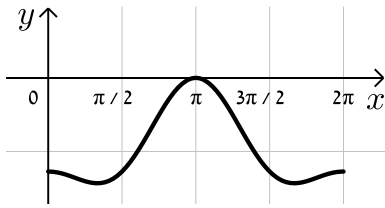
ד. $\left(\frac{3}{4}\pi, 0\right)$. ה. אנכית: $x = \pi$, $x = \frac{\pi}{2}$, $x = 0$.

(4) א. $(\pi, 0), (0, -2)$.

ב. $\max\left(\frac{\pi}{3}, -2.25\right)$, $\max(2\pi, -2)$, $\max(0, -2)$, $\min\left(\frac{\pi}{3}, -2.25\right)$, $\max(\pi, 0)$.

ג. עולה: $\frac{\pi}{3} < x < \pi$, $1\frac{2}{3}\pi < x < 2\pi$; יורדת: $\pi < x < 1\frac{2}{3}\pi$, $0 < x < \frac{\pi}{3}$. גרף:

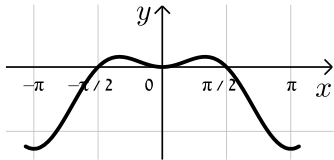




5 א. $(\frac{\pi}{2}, 0)$, $(\frac{3\pi}{2}, 0)$, $(0, 1)$

ב. $(0, 1)$, $(\frac{\pi}{6}, 1.29)$, $(\frac{5\pi}{6}, -1.29)$, $(1.5\pi, 0)$

ד. 2 פתרונות.

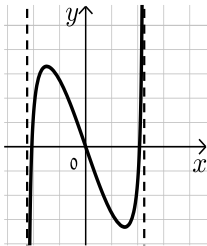


6 א. חיתוך: $(0, 0)$, $(\frac{\pi}{2}, 0)$; קיצון: $\min(\pi, -2)$ קצה,

$\max(\frac{\pi}{3}, \frac{1}{4})$ קצה.

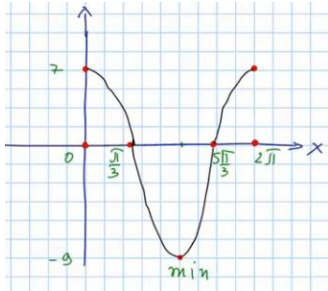
7 א. $(0, 0)$, $(\pm 0.23\pi, 0)$ ב. $x = \pm 0.25\pi$

ג. $\min(\frac{\pi}{6}, -\sqrt{27})$, $\max(-\frac{\pi}{6}, \sqrt{27})$



8 נקודות חיתוך עם ציר ה-y: 7, עם ציר ה-x: $x = \frac{\pi}{3}$, $x = \frac{5\pi}{3}$, $x = 7$

נקודות קיצון: מינימום: $(\pi, -9)$, מקסימום: $(0, 7)$, $(2\pi, 7)$



נקודות פיתול: $x = \frac{\pi}{3}$, $x = \frac{5\pi}{3}$

תחום קמירות: $\frac{\pi}{3} < x < \frac{5\pi}{3}$

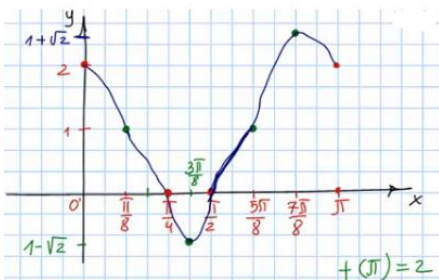
קעירות: $0 < x < \frac{\pi}{3}$ or $\frac{5\pi}{3} < x < 2\pi$

תחום עלייה: $x > 3$, ירידה: $x < 2$ or $2 < x < 3$

9 נקודות חיתוך עם ציר ה-y: 2, עם ציר ה-x: $x = \frac{\pi}{4}$, $x = \frac{\pi}{2}$

נקודות קיצון: מינימום: $(\frac{3\pi}{8}, 1 - \sqrt{2})$, מקסימום: $(\frac{7\pi}{8}, 1 + \sqrt{2})$

תחום עלייה: $\frac{3\pi}{8} < x < \frac{7\pi}{8}$, ירידה: $0 < x < \frac{3\pi}{8}$ or $\frac{7\pi}{8} < x < \pi$



נקודות פיתול: $(\frac{\pi}{8}, 1)$, $(\frac{5\pi}{8}, 1)$

תחום קמירות: $\frac{\pi}{8} < x < \frac{5\pi}{8}$

קעירות: $0 < x < \frac{\pi}{8}$ or $\frac{5\pi}{8} < x < \pi$

חקירת פונקציות טריגונומטריות הפוכות

חקור את הפונקציות הבאות חקירה מלאה:

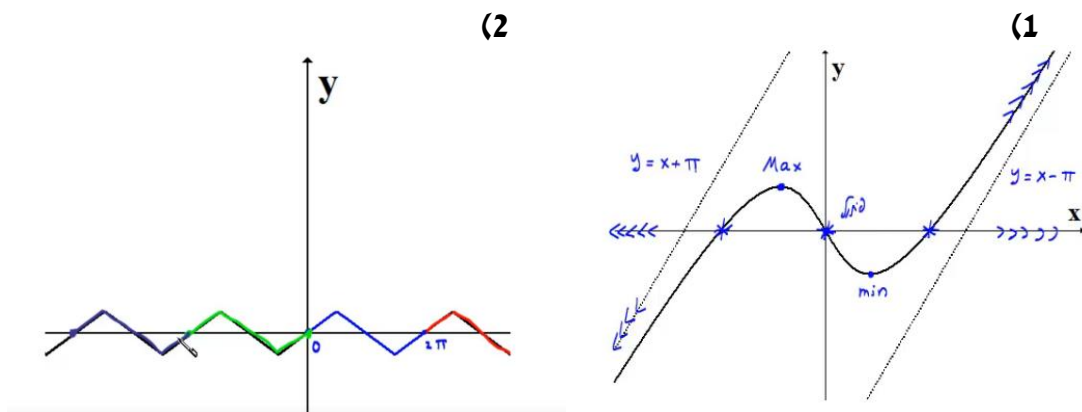
$$f(x) = \arcsin(\sin x) \quad (2)$$

$$f(x) = x - 2 \arctan x \quad (1)$$

תשובות סופיות

- (1) תחום הגדרה ורציפות: לכל x . זוגיות: אי-זוגית.
 נקודות חיתוך עם ציר ה- y : 0 .
 אסימפטוטה אנכית: אין,
 משופעת: הישר $y = x + \pi$ ב- $-\infty$, אופקית: אין.
 נקודות קיצון: מקסימום: $(-1, 0.575)$, מינימום: $(1, -0.575)$.
 תחום עלייה: $x < -1$ or $x > 1$, ירידה: $-1 < x < 1$.
 נקודות פיתול: $(0, 0)$.
 תחום קמירות: $x > 0$, קעירות: $x < 0$.
- (2) תחום הגדרה ורציפות: לכל x . זוגיות: אי-זוגית.
 מחזוריות: כן, ממחזור 2π .
 נקודות חיתוך עם ציר ה- y : 0 , עם ציר ה- x : $x = 0, \pi, 2\pi$.
 אסימפטוטה אנכית: אין,
 משופעת: הישר $y = x + \pi$ ב- $-\infty$, אופקית: אין.
 נקודות קיצון: מקסימום: $(\frac{\pi}{2}, \frac{\pi}{2})$, מינימום: $(\frac{3\pi}{2}, -\frac{\pi}{2})$.
 תחום עלייה: $0 \leq x \leq \frac{\pi}{2}$ or $\frac{3\pi}{2} < x < 2\pi$, ירידה: $\frac{\pi}{2} < x < \frac{3\pi}{2}$.
 נקודות פיתול: אין.

גרפים



מתמטיקה לביולוגים חד חוגי מורחב

פרק 12 - חקירת פונקציה ("שאלות מסביב")

תוכן העניינים

- 144 1. חקירת פונקציה - שאלות מסביב
- 147 2. הוכחת אי שוויונים

חקירת פונקציות – "שאלות מסביב"

שאלות

(1) נתונה הפונקציה $f(x) = ax^3 + x^2$. ידוע שהנקודה $x = 1$ נקודת קיצון. מצא את הקבוע a .

(2) נתונה הפונקציה $f(x) = ax^3 + bx^2$. ידוע שהנקודה $(1, 2)$ נקודת קיצון. מצא את הקבועים a, b .

(3) נתונה הפונקציה $f(x) = ax^3 + x^2$. ידוע שהנקודה $x = 1$ נקודת פיתול. מצא את הקבוע a .

(4) נתונה הפונקציה $f(x) = ax^3 + bx^2$. ידוע שהנקודה $(1, 2)$ נקודת פיתול. מצא את הקבועים a, b .

(5) נתונה הפונקציה $f(x) = ax^3 + x^2$. שיפוע המשיק לגרף הפונקציה בנקודה $x = 3$ הוא 33. מצא את a .

(6) נתונה הפונקציה $f(x) = ax^3 + bx^2$. שיפוע המשיק לגרף הפונקציה בנקודה $(3, 9)$ הוא 12. מצא את a, b .

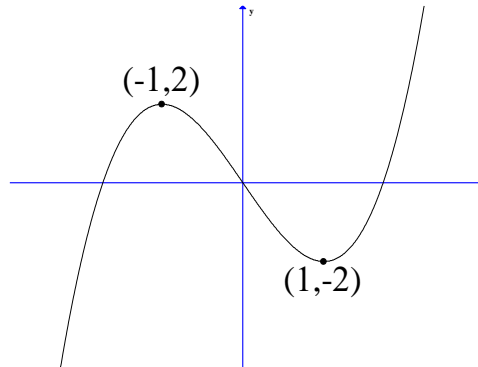
(7) נתונה הפונקציה $f(x) = \frac{ax^3 + x^2}{2x^3 + x + 6}$. ידוע שהישר $y = 4$ אסימפטוטה לגרף הפונקציה. מצא את a .

(8) נתונה הפונקציה $f(x) = \frac{ax^2 + bx + 4}{x}$. ידוע שהישר $y = 0.5x + 1$ אסימפטוטה לגרף הפונקציה. מצא את a ואת b .

9 נתונה הפונקציה $f(x) = \frac{x^2 + 2x + 4}{x^2 + ax + 6}$

ידוע שהישר $x = 1$ אסימפטוטה לגרף הפונקציה.
מצא את a .

שאלות 10-17 מתייחסות לגרף הפונקציה $f(x) = x^3 - 3x$:



10 מהו מספר הפתרונות של המשוואה $f(x) = 5$?

11 מהו מספר הפתרונות של המשוואה $f(x) = 2$?

12 מהו מספר הפתרונות של המשוואה $f(x) = 0.5$?

13 עבור איזה ערך של k , למשוואה $f(x) = k$ יש בדיוק פתרון אחד?

14 עבור איזה ערך של k , למשוואה $f(x) = k$ יש בדיוק שני פתרונות?

15 עבור איזה ערך של k , למשוואה $f(x) = k$ יש בדיוק שלושה פתרונות?

16 האם קיים ערך של k , עבורו למשוואה $f(x) = k$ אין פתרון?

17 מצא את התחומים בהם הפונקציה היא חח"ע.

תשובות סופיות

$$a = -\frac{2}{3} \quad (1)$$

$$a = -4, b = 6 \quad (2)$$

$$a = -\frac{1}{3} \quad (3)$$

$$a = -1, b = 3 \quad (4)$$

$$a = 1 \quad (5)$$

$$a = \frac{2}{3}, b = -1 \quad (6)$$

$$a = 8 \quad (7)$$

$$a = \frac{1}{2}, b = 1 \quad (8)$$

$$a = -7 \quad (9)$$

$$1 \quad (10)$$

$$2 \quad (11)$$

$$3 \quad (12)$$

$$k < -2, k > 2 \quad (13)$$

$$k = \pm 2 \quad (14)$$

$$-2 < k < 2 \quad (15)$$

$$\text{לא} \quad (16)$$

$$x < -1, -1 < x < 1, x > 1 \quad (17)$$

הוכחת אי שוויונים

שאלות

הוכח את אי השוויונים הבאים לגבי התחום הרשום לידם:

$$(1) \quad (-\infty < x < \infty), \quad 8x^3 \leq 3x^4 + 6x^2$$

$$(2) \quad \left(0 < x < \frac{\pi}{3}\right), \quad x < 2\sin x$$

$$(3) \quad (x > 0), \quad \sqrt{x+1} < 1 + \frac{x}{2}$$

$$(4) \quad (x \geq 0), \quad \ln(x+1) \leq x$$

$$(5) \quad \text{נתון כי } f \text{ רציפה לכל } x \geq 0, \quad f'(x) > 0 \text{ לכל } x > 0, \text{ וכן } f(0) = 0.$$

$$\text{הוכיחו כי לכל } x > 0 \text{ מתקיים: } f(x) - \frac{1}{2}(f(x))^2 < \ln(1 + f(x)).$$

לתשובות מלאות בסרטוני וידאו היכנסו ל- www.GooL.co.il

מתמטיקה לביולוגים חד חוגי מורחב

פרק 13 - משוואות - מציאת מספר הפתרונות, פתרון כללי ופתרון מקורב

תוכן העניינים

- 148 1. מציאת מספר הפתרונות של משוואה
- 151 2. פתרון משוואות פולינומיאליות
- 153 3. שיטת ניוטון-רפסון לפתרון מקורב של משוואות

מציאת מספר הפתרונות של משוואה

שאלות

הוכח שלמשוואות בשאלות 1-4 יש בדיוק פתרון אחד:

$$x^3 + 4x - 1 = 0 \quad (1)$$

$$x^2 = -\ln x \quad (2)$$

$$x - 0.25 \sin x = 7 \quad (3)$$

$$-4x^3 + 21x^2 - 48x + 28 = 0 \quad (4)$$

(5) נתונה המשוואה $ax^3 + bx^2 + cx + d = 0$, ונתון כי $b^2 < 3ac$. מהו מספר הפתרונות של המשוואה? הוכח את תשובתך.

עבור כל אחת מהמשוואות 6-9, מצא את מספר הפתרונות ופתור אותה:

$$e^{x-1} = x \quad (6)$$

$$\arctan x - x = 0 \quad (7)$$

$$\ln(x+5) - 4 = x \quad (8)$$

$$x^2 + x \sin x = 1 - \cos x \quad (9)$$

(10) תהי f פונקציה גזירה לכל x , המקיימת: $f(0) = 1$, $f(1) = 2$, $f'(x) \leq 1$. הוכח שלמשוואה $f(x) + \sin x = 4x$ יש בדיוק פתרון אחד.

הוכח שלמשוואות בשאלות 11-13 יש בדיוק שני פתרונות:

$$1 + 4x^4 = 8x^3 \quad (13) \quad 4x^3 + 5x - \frac{1}{x} = 0 \quad (12) \quad e^x - 5x = 0 \quad (11)$$

בכל אחת מהמשוואות 14-17, מצא קשר בין הפרמטרים, על מנת שלמשוואות יהיה בדיוק פתרון אחד (הנח שכל הפרמטרים שונים מאפס):

$$ax^2 + bx + c = 0 \quad (14)$$

$$ax^3 + bx^2 + cx + d = 0 \quad (15)$$

$$x + a \cos(bx) = 1 \quad (16)$$

$$(n > 4, \text{ odd}) \quad ax^n + bx^{n-2} + cx^{n-4} - d = 0 \quad (17)$$

(18) הוכיחו שלמשוואה $x^2 + x^3 + 5x = 1$ יש לפחות פתרון אחד ולכל היותר פתרון אחד.
 הערה: שאלה זו עליך לפתור תוך שימוש במשפט רול.

תשובות סופיות

- (1) שאלת הוכחה.
- (2) שאלת הוכחה.
- (3) שאלת הוכחה.
- (4) שאלת הוכחה.
- (5) פתרון יחיד.
- (6) $x = 1$
- (7) $x = 0$
- (8) $x = -4$
- (9) $x = 0$
- (10) שאלת הוכחה.
- (11) שאלת הוכחה.
- (12) שאלת הוכחה.
- (13) שאלת הוכחה.
- (14) $b^2 - 4ac = 0$
- (15) $4b^2 - 12ac < 0$
- (16) $\frac{1}{ab} < -1, \frac{1}{ab} > 1$
- (17) $b^2(n-2)^2 - 4anc(n-4) < 0$
- (18) שאלת הוכחה.

פתרון משוואות פולינומיאליות

שאלות

צמצם עד כמה שניתן את השברים האלגבריים בשאלות 1-3 :

$$\frac{x^3 - x^2 + x - 1}{x - 1} \quad (1)$$

$$\frac{4x^4 + 6x^3 + 31x^2 + 99x + 10}{x^2 - x + 10} \quad (2)$$

$$\frac{4x^2 + x - 1}{x - 2} \quad (3)$$

פתור את המשוואות הבאות :

$$k^4 + 3k^3 - 15k^2 - 19k + 30 = 0 \quad (4)$$

$$k^3 + 2k^2 - 3k + 20 = 0 \quad (5)$$

$$k^5 + 3k^4 + 2k^3 - 2k^2 - 3k - 1 = 0 \quad (6)$$

$$k^3 - 6k^2 + 12k - 8 = 0 \quad (7)$$

$$k^6 - 3k^4 + 3k^2 - 1 = 0 \quad (8)$$

$$k^3 - k^2 + k - 1 = 0 \quad (9)$$

$$k^4 - 3k^3 + 6k^2 - 12k + 8 = 0 \quad (10)$$

$$7x^3 - 33x^2 + 21x + 61 = 0 \quad (11)$$

תשובות סופיות

$$x^2 + 1 \quad (1)$$

$$0 \quad (2)$$

$$4x + 9 + \frac{17}{x-2} \quad (3)$$

$$k_1 = 1, \quad k_2 = -2, \quad k_3 = 3, \quad k_4 = -5 \quad (4)$$

$$k_1 = -4, \quad k_{2,3} = 1 \pm 2i \quad (5)$$

$$k_1 = 1, \quad k_2 = -1, \quad k_3 = -1, \quad k_4 = -1, \quad k_5 = -1 \quad (6)$$

$$k_1 = 2, \quad k_2 = 2, \quad k_3 = 2 \quad (7)$$

$$k_1 = 1, \quad k_2 = -1, \quad k_3 = 1, \quad k_4 = -1, \quad k_5 = 1, \quad k_6 = -1 \quad (8)$$

$$k_1 = 1, \quad k_{2,3} = \pm i \quad (9)$$

$$k_1 = 1, \quad k_2 = 2, \quad k_{3,4} = \pm 2i \quad (10)$$

$$(11) \text{ פתרון מקורב: } x = 0.8459.$$

שיטת ניוטון-רפסון לפתרון מקורב של משוואות

שאלות

פתור את המשוואות הבאות (שאלה 2 בשיטת ניוטון-רפסון):

$$1 + 4x^4 = 8x^3 \quad (1)$$

$$-4x^3 + 21x^2 - 48x + 28 = 0 \quad (2)$$

תשובות סופיות

$$(1) \text{ פתרון מדויק } x = -1$$

$$(2) \text{ פתרונות מקורבים: } x = 0.5576, x = 1.9672$$

מתמטיקה לביולוגים חד חוגי מורחב

פרק 14 - משפטי הערך הממוצע של רול, לגראנז', קושי ודרבו

תוכן העניינים

154	1. משפט רול
158	2. משפט לגראנז' - הוכחת אי שוויונים בקטע $[a, b]$
160	3. משפט לגראנז' - הוכחת אי שוויונים בקטע $[0, x]$
161	4. משפט לגראנז' - הוכחת אי שוויונים עם מספרים
162	5. משפט לגראנז' - שאלות כלליות
165	6. משפט הערך הממוצע המוכלל של קושי
167	7. משפט דרבו

משפט רול

שאלות

(1) בדוק האם הפונקציה הנתונה, $f(x)$ בקטע הנתון, מקיימת את תנאי משפט רול, ומצא את כל ערכי c המקיימים את מסקנת משפט רול:

א. $f(x) = x^3 - 3x^2 + 2x$ $[0, 2]$

ב. $f(x) = \frac{x^2 - 1}{x - 2}$ $[-1, 1]$

(2) נתון ש- $f(x) = \frac{1}{(x-3)^2}$

הראה ש- $f(1) = f(5)$, אך אין נקודה c , כך ש- $f'(c) = 0$.
האם הדבר סותר את משפט רול? נמק.

(3) תהי f פונקציה גזירה פעמיים ב- \mathbb{R} ,
ונניח שקיימות שלוש נקודות שונות, x_0, x_1, x_2 , עבורן $f(x_0) = f(x_1) = f(x_2)$.
הוכח שקיים c ממשי, כך ש- $f''(c) = 0$.

(4) תהי $f: (0, 1) \rightarrow \mathbb{R}$ גזירה 3 פעמים.
נניח שלכל n טבעי מתקיים $f\left(\frac{1}{n}\right) = 0$.
הוכח שקיימת $x_0 \in (0, 1)$, כך ש- $f'''(x_0) = 0$.

(5) תהי $f: [a, b] \rightarrow \mathbb{R}$ גזירה 3 פעמים.
נניח שמתקיים $f(a) = f(b) = f'(a) = f'(b) = 0$.
הראה שלמשוואה $f'''(x) = 0$ יש פתרון.

(6) נתון כי $f: \mathbb{R} \rightarrow \mathbb{R}$ גזירה פעמיים.
נתון בנוסף כי f פונקציה זוגית שיש לה נקודת מינימום מקומית ב- $x_0 = 2$.
הוכח כי יש שתי נקודות שונות בהן הנגזרת השנייה מתאפסת.

- (7) נתונה פונקציה f , גזירה ב- \mathbb{R} .
 תהי g מוגדרת על ידי $g(x) = (x^2 - 1)f(x)$.
 הראה כי g גזירה ב- \mathbb{R} , והוכח כי הנגזרת, g' , מתאפסת לפחות פעם אחת בקטע $(-1, 1)$.
- (8) הוכח:
 אם f גזירה ב- \mathbb{R} ו- $f(1) = 0$, אז הפונקציה $g(x)$, המוגדרת על ידי $g(x) = xf(x)$, גזירה ב- \mathbb{R} , וישנו פתרון ממשי למשוואה $g'(x) = 0$.
- (9) תהי $f: [0, 1] \rightarrow \mathbb{R}$ פונקציה גזירה, כך ש- $f(0) = 0$ ו- $f(x) > 0$ לכל $0 < x \leq 1$.
 הוכח שקיים $c \in (0, 1)$, כך ש- $\frac{f'(1-c)}{f(1-c)} = 2 \frac{f'(c)}{f(c)}$.
- (10) אם $c_0 + \frac{c_1}{2} + \dots + \frac{c_{n-1}}{n} + \frac{c_n}{n+1} = 0$, $(c_i \in \mathbb{R})$
 הוכח שלמשוואה $c_0 + c_1x + \dots + c_{n-1}x^{n-1} + c_nx^n = 0$ יש לפחות פתרון אחד בקטע $(0, 1)$.
- (11) תהי $f: [0, 1] \rightarrow \mathbb{R}$ פונקציה גזירה, כך ש- $f(0) = 0$, $f(1) = 1$.
 הראה שלמשוואה $f'(x) = 2x$ קיים פתרון בקטע $(0, 1)$.
- (12) תהיינה $f, g: \mathbb{R} \rightarrow \mathbb{R}$ פונקציות גזירות.
 נניח שלכל x ממשי מתקיים $f'(x)g(x) \neq g'(x)f(x)$.
 הראה שבין כל שני שורשים של f קיים לפחות שורש אחד של g .
- (13) תהי $f: [0, 1] \rightarrow \mathbb{R}$ פונקציה גזירה,
 כך ש- $f(0) = f(1) = 0$ ו- $f'(0) > 0$, $f'(1) > 0$.
 א. הוכח שקיימת סביבה שמאלית של 1, שבה הפונקציה הנתונה שלילית.
 ב. הוכח שקיימת סביבה ימנית של 0, שבה הפונקציה הנתונה חיובית.
 ג. הוכח שהנגזרת של הפונקציה מתאפסת לפחות פעמיים בקטע $(0, 1)$.

14 ענה על הסעיפים הבאים :א. תהי $f: (-1, 2) \rightarrow \mathbb{R}$ גזירה פעמיים.

$$f\left(\frac{1}{n}\right) = 1 \text{ טבעי } n$$

. חשב את $f''(0)$.ב. תהי $f: (-1, 2) \rightarrow \mathbb{R}$ גזירה פעמיים, כך ש- $f''(0) > 0$.

$$f\left(\frac{1}{n}\right) \neq 1 \text{ טבעי } n$$

. הוכח שקיים n טבעי, כך ש- $f\left(\frac{1}{n}\right) \neq 1$.**15** תהי $f: (-1, 2) \rightarrow \mathbb{R}$ גזירה פעמיים.

$$f\left(1 - \frac{1}{n}\right) = 1 \text{ טבעי } n$$

. חשב את $f''(1)$.**16** נתון כי f, g גזירות לכל x וכי $f'(x)g(x) + g'(x)f(x) \neq 0$ ב- \mathbb{R} .הוכח שלמשוואה $f(x)g(x) = A$ יש לכל היותר פתרון אחד. A קבוע כלשהו.**17** נתון כי f גזירה לכל x וכי $f'(x)$ חד-חד ערכית ב- \mathbb{R} .תהי x_0 נקודה כלשהי.הוכח כי לגרף של $y = f(x)$ ולישר המשיק בנקודה x_0 יש נקודה משותפתאחת ויחידה - x_0 .במילים אחרות: הוכח כי הגרף של $y = f(x)$ נמצא כולו מעל המשיק או

מתחתיו.

18 נתון כי f גזירה פעמיים בקטע (a, b) , ולכל $x \in (a, b)$ מתקיים

$$(f'(x))^2 \neq f(x) \cdot f''(x)$$

נתון שלמשוואה $f'(x) = 0$ יש שלושה פתרונות בקטע.הוכח שלמשוואה $f(x) = 0$ יש לפחות שני פתרונות בקטע.תן דוגמה לפונקציה f המקיימת $(f'(x))^2 \neq f(x) \cdot f''(x)$.

תשובות סופיות

- (1) א. כן, $1 \pm \frac{1}{\sqrt{3}}$ ב. כן, $2 - \sqrt{3}$
- (2) לא, מכיוון שהפונקציה לא רציפה בנקודה $x = 3$.
- (14) א. 0 ב. הוכחה.
- (15) 0

לתשובות מלאות בסרטוני וידאו היכנסו לאתר www.GooL.co.il

משפט לגראנז' – הוכחת אי שוויונים בקטע $[a, b]$

שאלות

הוכח את אי השוויונים הבאים בתחום הרשום לידם:

$$(0 < a < b) \quad \frac{b-a}{b} < \ln\left(\frac{b}{a}\right) < \frac{b-a}{a} \quad (1)$$

$$(0 < a < b) \quad \frac{b-a}{2\sqrt{b}} < \sqrt{b} - \sqrt{a} < \frac{b-a}{2\sqrt{a}} \quad (2)$$

$$(a < b) \quad (a-b)e^{-a} < e^{-b} - e^{-a} < (a-b)e^{-b} \quad (3)$$

$$\left(0 < a < b < \frac{\pi}{2}\right) \quad \frac{b-a}{\cos^2 a} < \tan b - \tan a < \frac{b-a}{\cos^2 b} \quad (4)$$

$$(0 < a < b) \quad \frac{b-a}{1+b^2} < \arctan b - \arctan a < \frac{b-a}{1+a^2} \quad (5)$$

$$(0 < a < b < 1) \quad \frac{b-a}{\sqrt{1-a^2}} < \arcsin b - \arcsin a < \frac{b-a}{\sqrt{1-b^2}} \quad (6)$$

$$(0 < a < b) \quad \frac{b-a}{\sqrt{1+b^2}} < \frac{\operatorname{arcsinh}(b) - \operatorname{arcsinh}(a)}{b-a} < \frac{b-a}{\sqrt{1+a^2}} \quad (7)$$

$$(0 < a < b < 1) \quad \frac{b-a}{1-a^2} < \operatorname{arctanh}(b) - \operatorname{arctanh}(a) < \frac{b-a}{1-b^2} \quad (8)$$

$$(0 < a < b) \quad \sqrt[n]{b} \cdot \frac{b-a}{n \cdot b} < \sqrt[n]{b} - \sqrt[n]{a} < \sqrt[n]{a} \cdot \frac{b-a}{n \cdot a} \quad (9)$$

$$(1 < a < b) \quad \frac{2b(b-a)}{b^2+1} < \ln\left(\frac{b^2+1}{a^2+1}\right) < \frac{2a(b-a)}{a^2+1} \quad (10)$$

$$(1 < a < b < 3) \quad \ln b - \ln a + \frac{1}{b} - \frac{1}{a} \leq \frac{1}{4}(b-a) \quad (11)$$

$$(x_1 < x_2) \quad |\sin x_2 - \sin x_1| \leq |x_2 - x_1| \quad (12)$$

$$(x_1 < x_2) \quad |\cos x_2 - \cos x_1| \leq |x_2 - x_1| \quad (13)$$

$$(x < y) \quad |\arctan y - \arctan x| \leq |y - x| \quad (14)$$

לתשובות מלאות בסרטוני וידאו היכנסו לאתר www.GooL.co.il

משפט לגראנז' – הוכחת אי שוויונים בקטע $[0, x]$

שאלות

הוכח את אי השוויונים הבאים בתחום הרשום לידם:

$$\left(0 < x < \frac{\pi}{2}\right) x < \tan x < \frac{x}{\cos^2 x} \quad (1)$$

$$(x > 0) \frac{x}{1+x^2} < \arctan x < x \quad (2)$$

$$(0 < x < 1) x < \arcsin x < \frac{x}{\sqrt{1-x^2}} \quad (3)$$

$$(x > 0) \frac{x}{\sqrt{1+x^2}} < \operatorname{arcsinh}(x) < x \quad (4)$$

$$(0 < x < 1) x < \operatorname{arctanh}(x) < \frac{x}{1-x^2} \quad (5)$$

$$(x > 0) \frac{x}{1+x} < \ln(1+x) < x \quad (6)$$

$$(x > 0) 1+x < e^x < 1+xe^x \quad (7)$$

$$(x > 0) \sin x \leq x \quad (8)$$

$$\left(0 < x < \frac{\pi}{3}\right) \tan x < 4x \quad (9)$$

לתשובות מלאות בסרטוני וידאו היכנסו לאתר www.GooL.co.il

משפט לגראנז' – הוכחת אי-שוויונים עם מספרים

שאלות

הוכח את אי-השוויונים הבאים :

$$\frac{1}{3} < \ln\left(\frac{3}{2}\right) < \frac{1}{2} \quad (1)$$

$$\frac{1}{2\sqrt{2}} + 1 < \sqrt{2} < 1.5 \quad (2)$$

$$\frac{3}{25} + \frac{\pi}{4} < \arctan\left(\frac{4}{3}\right) < \frac{1}{6} + \frac{\pi}{4} \quad (3)$$

$$\frac{\sqrt{3}}{15} + \frac{\pi}{6} < \arcsin(0.6) < \frac{1}{8} + \frac{\pi}{6} \quad (4)$$

לתשובות מלאות בסרטוני וידאו היכנסו לאתר www.GooL.co.il

משפט לגראנז' – שאלות כלליות

שאלות

- (1) תהי $f(x)$ פונקציה גזירה לכל x , המקיימת $|f'(x)| \leq 5$.
 ידוע כי $f(1) = 3$, $f(4) = 18$.
 הוכח כי $f(2) = 8$.
- (2) תהי $f(x)$ פונקציה גזירה לכל x , המקיימת $|f'(x)| \leq 7$.
 ידוע כי $f(1) = 3$, $f(4) = 18$.
 הוכח כי $4 \leq f(2) \leq 10$.
- (3) תהי f פונקציה גזירה פעמיים בקטע $[a, b]$, ונניח ש- $f(a) = f(b) = 0$.
 וכן שקיימת נקודה c , כאשר $c \in (a, b)$, כך ש- $f(c) > 0$.
 הוכח שקיימת נקודה m בקטע (a, b) , כך ש- $f''(m) < 0$.
- (4) תהי f פונקציה גזירה בקטע (a, b) , כך ש- f' חסומה בקטע (a, b) .
 א. הוכח שקיים $M > 0$, כך שלכל x ו- y ב- (a, b) מתקיים:
 $|f(y) - f(x)| \leq M|y - x|$
 ב. הוכח ש- f רציפה במידה שווה ב- (a, b) .
 כלומר, הוכח שלכל $\varepsilon > 0$ קיים $\delta > 0$, כך שלכל x ו- y ב- (a, b) ,
 המקיימים $|x - y| < \delta$, מתקיים $|f(x) - f(y)| < \varepsilon$.
- (5) נניח כי f רציפה ב- $[0, \infty)$ וגזירה ב- $(0, \infty)$.
 כמו כן, $f(0) = 0$, ו- f' מונוטונית עולה.
 א. הוכח כי $f'(x) > \frac{f(x)}{x}$ ב- $(0, \infty)$.
 ב. הוכח כי $g(x) = \frac{f(x)}{x}$ מונוטונית עולה ב- $(0, \infty)$.

(6) תהיינה f, g פונקציות רציפות ב- $[a, \infty)$ וגזירות ב- (a, ∞) .
נתון כי: $f(a) = g(a)$ ו- $f'(x) \leq g'(x)$ לכל $x > a$.
הוכח כי: $f(x) \leq g(x)$ לכל $x \geq a$.

(7) נניח כי f גזירה ב- $(0, \infty)$.

א. נתון כי $\lim_{x \rightarrow \infty} f'(x) = 0$.

הוכח כי $\lim_{x \rightarrow \infty} [f(x+1) - f(x)] = 0$.

ב. נתון כי $\lim_{x \rightarrow \infty} f'(x) > 0$.

הוכח כי $\lim_{x \rightarrow \infty} f(x) = \infty$.

(8) ענה על הסעיפים הבאים:

א. נתון: f גזירה ב- \mathbb{R} , K קבוע ממשי.

הוכח: $\lim_{x \rightarrow \infty} \frac{f(x)}{x} = K \Leftrightarrow \lim_{x \rightarrow \infty} f'(x) = K$.

ב. ללא שימוש בכלל לופיטל, חשב את הגבול $\lim_{x \rightarrow \infty} \frac{\ln x}{x}$.

(9) נניח כי f גזירה ב- \mathbb{R} .

האם נכון לומר כי מתקיים $\lim_{x \rightarrow \infty} f'(x) = \infty \Leftrightarrow \lim_{x \rightarrow \infty} \frac{f(x)}{x} = \infty$?

הוכח או הפרך את תשובתך.

הערה: למרות שתרגיל זה אפתור ללא שימוש במשפט לגראנז', הכנסתי אותו כאן בזכות הקשר שלו לשאלה הקודמת.

(10) תהי $f: [0, 1] \rightarrow \mathbb{R}$ פונקציה גזירה, כך ש- $|f'(x)| < 1$ לכל $0 \leq x \leq 1$.

הוכח שקיים לכל היותר c אחד ב- $[0, 1]$, כך ש- $f(c) = c$.

(11) תהי $f: [0, 1] \rightarrow [0, 1]$ פונקציה גזירה, כך ש- $f'(x) < 0$ לכל $0 \leq x \leq 1$.

הוכח שקיים בדיוק c אחד ב- $[0, 1]$, כך ש- $f(c) = c^2$.

(12) תהי f פונקציה גזירה ב- $[a, b]$.

הוכח שקיימים $c_1, c_2, c_3 \in (a, b)$, כך ש- $c_2 \neq c_3$ ו- $f'(c_1) = \frac{f'(c_2) + f'(c_3)}{2}$.

(13) תהי $f: [0,1] \rightarrow \mathbb{R}$ פונקציה גזירה פעמיים. נניח שהישר, המחבר את הנקודות $(0, f(0))$ ו- $(1, f(1))$, חותך את הגרף של f בנקודה $(a, f(a))$, כאשר $0 < a < 1$. הוכח שקיים $x_0 \in [0,1]$, כך ש- $f''(x_0) = 0$.

(14) תהי $f: [a,b] \rightarrow \mathbb{R}$ פונקציה רציפה. נניח ש- f גזירה ב- (a,b) ו- $\lim_{x \rightarrow a^+} f'(x) = L$, כאשר $L \in \mathbb{R}$. הוכח כי $f'_+(a) = L$ קיים וש- $f'_+(a) = L$.

(15) תהי $f: [0,1] \rightarrow \mathbb{R}$ פונקציה גזירה שמקיימת $f(0) = 0$. נניח שלכל $x \in [0,1]$ מתקיים $|f'(x)| \leq |f(x)|$. הוכח כי $f(x) = 0$ לכל $x \in [0,1]$.

(16) נתון כי f רציפה בקטע $[a,b]$ וגזירה בקטע (a,b) .
 א. ידוע כי $f'(x) = 0$ לכל $x \in (a,b)$. הוכח כי f קבועה ב- $[a,b]$.
 ב. ידוע כי $f'(x) = m$ לכל $x \in (a,b)$. הוכח כי f לינארית ב- $[a,b]$.

(17) ענה על הסעיפים הבאים:
 א. נתון כי f, g רציפות בקטע $[a,b]$ וגזירות בקטע (a,b) . ידוע כי $f'(x) = g'(x)$ לכל $x \in (a,b)$. הוכח כי $f(x) = g(x) + c$ ב- $[a,b]$.
 ב. הוכח כי $\arccos(x) = \frac{\pi}{2} - \arcsin(x)$.

(18) נתון כי f גזירה בקטע (a,b) , ו- $\lim_{x \rightarrow a^+} f(x) = \infty$. הוכח כי f' לא חסומה בקטע.

תשובות סופיות

8. ב. 0

לתשובות מלאות בסרטוני וידאו היכנסו לאתר www.GooL.co.il

משפט הערך הממוצע המוכלל של קושי

שאלות

(1) הוכח שלכל $1 \leq a < b$ מתקיים $n(\ln b - \ln a) < b^n - a^n$, כאשר $n \in \mathbb{N}$.

(2) הוכח, כי עבור כל a, b , המקיימים $0 < a < b < 1$,

$$\frac{a}{1+a^2} < \frac{\arctan b - \arctan a}{\ln b - \ln a} < \frac{b}{1+b^2}$$

מתקיים

(3) הוכח, כי עבור כל a, b , המקיימים $1 < a < b$,

$$\frac{2\sqrt{b}}{1+b^2} < \frac{\arctan b - \arctan a}{\sqrt{b} - \sqrt{a}} < \frac{2\sqrt{a}}{1+a^2}$$

מתקיים

(4) הוכח כי $|\tan y - \tan x| \leq 8|\sin x - \sin y|$ לכל $x, y \in [0, \frac{\pi}{3}]$.

(5) הוכח כי $\arctan x > \ln(1+x)$ לכל $x \in (0,1)$.

(6) הוכח שלכל $x \neq 0$ מתקיים $1 - \frac{1}{2}x^2 < \cos x$.

(7) תהי f פונקציה רציפה ב- $[0,1]$ וגזירה ב- $(0,1)$.

הוכח שבקטע $(0,1)$ קיים פתרון למשוואה $f(1) - f(0) = \frac{f'(x)}{2x}$.

(8) תהי f פונקציה רציפה ב- $[0,1]$ וגזירה ב- $(0,1)$, ויהי n מספר טבעי כלשהו.

הוכח שקיים $0 < c < 1$, המקיים $f(1) - f(0) = \frac{f'(c)}{nc^{n-1}}$.

(9) יהיו a ו- b מספרים חיוביים כלשהם.

הוכח שקיים פתרון למשוואה $(a^3 - b^3)\cos x = 3x^2(\sin a - \sin b)$.

(10) תהי f פונקציה גזירה ב- $[a, b]$, כאשר $a \geq 0$.

הוכח שקיימים $c_1, c_2 \in [a, b]$, כך ש- $\frac{f'(c_1)}{a+b} = \frac{f'(c_2)}{2c_2}$.

(11) תהי f פונקציה גזירה בקטע $[a, b]$, כאשר $ab > 0$.

הוכח שלמשוואה $f'(x) \cdot x - f(x) = \frac{1}{b-a} \begin{vmatrix} a & b \\ f(a) & f(b) \end{vmatrix}$ קיים פתרון בקטע $[a, b]$.

לתשובות מלאות בסרטוני וידאו היכנסו לאתר www.GooL.co.il

משפט דרבו

שאלות

(1) האם קיימת פונקציה גזירה f , שמקיימת

$$f'(x) = \begin{cases} 4x & x < 1 \\ x-1 & x \geq 1 \end{cases} ?$$

(2) האם קיימת פונקציה גזירה f , שמקיימת

$$f'(x) = \begin{cases} 4x & x \neq 1 \\ 0 & x = 1 \end{cases} ?$$

(3) האם קיימת פונקציה גזירה f , שמקיימת

$$f'(x) = \begin{cases} 4 & x = 0 \\ x^2 & x \neq 0 \end{cases} ?$$

(4) האם קיימת פונקציה גזירה f , שמקיימת

$$f'(x) = \begin{cases} 1 & x = 0 \\ \frac{1}{x^2} & x \neq 0 \end{cases} ?$$

(5) ענה על הסעיפים הבאים:

- א. תהי $f: [a, b] \rightarrow \mathbb{R}$ פונקציה גזירה, ותהי $x_0 \in (a, b)$. הוכח: אם f' לא רציפה ב- x_0 , אז x_0 היא לא נקודת אי-רציפות סליקה.
- ב. האם קיימת פונקציה f , גזירה ב- \mathbb{R} ,

$$f'(x) = \begin{cases} 4 & x = 0 \\ x^2 & x \neq 0 \end{cases} ?$$

שהנגזרת שלה נתונה על ידי

(6) ענה על הסעיפים הבאים:

- א. תהי $f: [a, b] \rightarrow \mathbb{R}$ פונקציה גזירה, ותהי $x_0 \in (a, b)$. הוכח: אם f' לא רציפה ב- x_0 , אז x_0 היא לא נקודת אי-רציפות מסוג I.
- ב. האם קיימת פונקציה f גזירה ב- \mathbb{R} ,

$$f'(x) = \begin{cases} x+1 & x \geq 1 \\ 4x & x < 1 \end{cases} ?$$

שהנגזרת שלה נתונה על ידי

(7) ענה על הסעיפים הבאים:

א. תהי $f: [a, b] \rightarrow \mathbb{R}$ פונקציה גזירה, ותהי $x_0 \in (a, b)$. הוכח:

אם f' לא רציפה ב- x_0 , אז $\lim_{x \rightarrow x_0^+} f'(x) \neq \pm\infty$, $\lim_{x \rightarrow x_0^-} f'(x) \neq \pm\infty$.

כלומר, x_0 היא לא נקודת אי-רציפות מסוג שני, שבה אחד הגבולות החד-צדדיים אינסופי.

ב. האם קיימת פונקציה f , גזירה ב- \mathbb{R} ,

$$f'(x) = \begin{cases} 0 & x = 0 \\ \frac{1}{x^2} & x \neq 0 \end{cases} \quad \text{שהנגזרת שלה נתונה על ידי}$$

(8) האם קיימת פונקציה f , גזירה ב- $[0, 1]$,

$$f'(x) = \begin{cases} 1 & x \in \mathbb{Q} \\ 0 & x \notin \mathbb{Q} \end{cases} \quad \text{שהנגזרת שלה ב-} [0, 1] \text{ נתונה על ידי}$$

(9) תהי f פונקציה גזירה ב- \mathbb{R} , ונניח כי $f(0) = 0$, $f(1) = f(2) = 1$.

$$\text{הוכח שקיים } x \in (0, 2), \text{ שעבורו } f'(x) = \frac{1}{4}.$$

(10) תהי f פונקציה גזירה בקטע (a, b) , ומקיימת $f'(x) \neq 0$ לכל $x \in (a, b)$.

הוכח כי f מונוטונית בקטע (a, b) .

(11) ממשפט דרבו נובע, שהנגזרת של פונקציה גזירה מקיימת את תכונת ערך הביניים (למרות שהנגזרת לא בהכרח רציפה).

האם הנגזרת של פונקציה גזירה מקיימת גם את משפטי וירשטראס? הוכח או הפרך את תשובתך.

תשובות סופיות

- (1) לא.
- (2) לא.
- (3) לא.
- (4) לא.
- (5) א. שאלת הוכחה. ב. לא.
- (6) א. שאלת הוכחה. ב. לא.
- (7) א. שאלת הוכחה. ב. לא.
- (8) לא.
- (9) שאלת הוכחה.
- (10) שאלת הוכחה.
- (11) שאלת הוכחה.

לתשובות מלאות בסרטוני וידאו היכנסו לאתר www.GooL.co.il

מתמטיקה לביולוגים חד חוגי מורחב

פרק 15 - אינטגרלים מידיים

תוכן העניינים

1. אינטגרלים מידיים.....170

אינטגרלים מידיים

שאלות

חשב את האינטגרלים בשאלות 1-12 (פתירה על ידי הכלל: $\int x^n dx = \frac{x^{n+1}}{n+1} + c$):

$$\int \frac{1}{x^2} dx \quad (3) \qquad \int x^4 dx \quad (2) \qquad \int 4 dx \quad (1)$$

$$\int 4x^{10} dx \quad (6) \qquad \int \frac{1}{x\sqrt{x}} dx \quad (5) \qquad \int \sqrt{x} dx \quad (4)$$

$$\int (x^2 + 1)^2 dx \quad (9) \qquad \int \left(\frac{3}{x^4} + 2\sqrt[3]{x} \right) dx \quad (8) \qquad \int (2x^2 - x + 1) dx \quad (7)$$

$$\int \frac{x+1}{\sqrt{x}} dx \quad (12) \qquad \int \frac{1+2x^2+x^4}{x^2} dx \quad (11) \qquad \int (x^2+1)(x+2) dx \quad (10)$$

חשב את האינטגרלים בשאלות 13-20:

(פתירה על ידי הכלל: $\int (ax+b)^n dx = \frac{(ax+b)^{n+1}}{a \cdot (n+1)} + c$):

$$\int \frac{4}{(x-2)^5} dx \quad (15) \qquad \int (x^2 - 2x + 1)^{10} dx \quad (14) \qquad \int (4x+1)^{10} dx \quad (13)$$

$$\int \frac{x}{(x-1)^4} dx \quad (18) \qquad \int \frac{10}{\sqrt{2x+4}} dx \quad (17) \qquad \int \sqrt[3]{4x-10} dx \quad (16)$$

$$\int \frac{xdx}{\sqrt{x+1}+1} \quad (20) \qquad \int \frac{dx}{\sqrt{x-1}-\sqrt{x}} \quad (19)$$

חשב את האינטגרלים בשאלות 21-26:

(פתירה על ידי הכלל: $\int \frac{1}{ax+b} dx = \frac{\ln|ax+b|}{a} + c$):

$$\int \left(1 + \frac{1}{x} \right)^2 dx \quad (23) \qquad \int \frac{1+x+x^2}{x} dx \quad (22) \qquad \int \frac{1}{4x} dx \quad (21)$$

$$\int \frac{4x+1}{x+2} dx \quad (26) \qquad \int \frac{x+3}{x+2} dx \quad (25) \qquad \int \frac{1}{4x-1} dx \quad (24)$$

חשב את האינטגרלים בשאלות 27-29 :

$$\left(\int e^{ax+b} dx = \frac{e^{ax+b}}{a} + c : \text{פתירה על ידי הכלל} \right)$$

$$\int \left(4\sqrt{e^x} + \frac{1}{\sqrt[3]{e^{4x}}} \right) dx \quad (29)$$

$$\int (e^{x+1})^2 dx \quad (28)$$

$$\int (e^{4x} + e^{-x}) dx \quad (27)$$

$$\int \frac{2^x + 4^{2x} + 10^{3x}}{5^x} dx : \text{חשב את האינטגרל} \quad (30)$$

$$\left(\int a^{mx+n} dx = \frac{a^{mx+n}}{m \ln a} + c : \text{פתירה על ידי הכלל} \right)$$

חשב את האינטגרלים בשאלות 31-33 :

$$\int \frac{x^2}{1-x^2} dx \quad (33)$$

$$\int \frac{1}{\sqrt{4-x^2}} dx \quad (32)$$

$$\int \frac{1}{1+4x^2} dx \quad (31)$$

תשובות סופיות

- $$-\frac{1}{x} + c \quad (3) \qquad \frac{x^5}{5} + c \quad (2) \qquad 4x + c \quad (1)$$
- $$\frac{4x^{11}}{11} + c \quad (6) \qquad -\frac{2}{\sqrt{x}} + c \quad (5) \qquad \frac{x^{1.5}}{1.5} + c \quad (4)$$
- $$\frac{x^5}{5} + \frac{2x^3}{3} + x + c \quad (9) \qquad -\frac{1}{x^3} + \frac{3\sqrt[3]{x^4}}{2} + c \quad (8) \qquad \frac{2x^3}{3} - \frac{x^2}{2} + x + c \quad (7)$$
- $$\frac{x^{1.5}}{1.5} + \frac{x^{0.5}}{0.5} + c \quad (12) \qquad -\frac{1}{x} + 2x + \frac{x^3}{3} + c \quad (11) \qquad \frac{x^4}{4} + \frac{2x^3}{3} + \frac{x^2}{2} + 2x + c \quad (10)$$
- $$-\frac{1}{(x-2)^4} + c \quad (15) \qquad \frac{(x-1)^{21}}{21} + c \quad (14) \qquad \frac{(4x+11)^{11}}{44} + c \quad (13)$$
- $$10\sqrt{2x+4} + c \quad (17) \qquad \frac{3}{16}\sqrt[3]{(4x-10)^4} + c \quad (16)$$
- $$-\frac{2}{3}\left((x-1)^{\frac{3}{2}} + x^{\frac{3}{2}}\right) + c \quad (19) \qquad -\frac{1}{2(x-2)^2} - \frac{1}{3(x-1)^3} + c \quad (18)$$
- $$\ln|x| + x + \frac{x^2}{2} + c \quad (22) \qquad \frac{\ln|x|}{4} + c \quad (21) \qquad \frac{2}{3}\sqrt{(x+1)^3} - x + c \quad (20)$$
- $$x + \ln|x+2| + c \quad (25) \qquad \frac{\ln|4x-1|}{4} + c \quad (24) \qquad x + 2\ln|x| - \frac{1}{x} + c \quad (23)$$
- $$\frac{e^{2x+2}}{2} + c \quad (28) \qquad \frac{e^{4x}}{4} - e^{-x} + c \quad (27) \qquad 4(x - 1.75\ln|x+2|) + c \quad (26)$$
- $$\frac{\left(\frac{2}{5}\right)^x}{\ln\left(\frac{2}{5}\right)} + \frac{\left(\frac{16}{5}\right)^x}{\ln\left(\frac{16}{5}\right)} + \frac{(200)^x}{\ln(200)} + c \quad (30) \qquad 8e^{\frac{x}{2}} - \frac{3e^{-\frac{4x}{3}}}{4} + c \quad (29)$$
- $$-\left(x - \frac{1}{2}\ln\left|\frac{1+x}{1-x}\right|\right) + c \quad (33) \qquad \arcsin\left(\frac{x}{2}\right) + c \quad (32) \qquad \frac{1}{2}\arctan(2x) + c \quad (31)$$

מתמטיקה לביולוגים חד חוגי מורחב

פרק 16 - אינטגרלים בשיטת "הנגזרת כבר בפנים"

תוכן העניינים

1. אינטגרלים בשיטת הנגזרת כבר בפנים 173

אינטגרלים בשיטת "הנגזרת כבר בפנים"

שאלות

הערה: את האינטגרלים בפרק זה ניתן לפתור גם בעזרת שיטת ההצבה.

חשב את האינטגרלים הבאים :

$$\int \frac{x^2}{x^3+1} dx \quad (3) \qquad \int \cot x dx \quad (2) \qquad \int \frac{2x}{x^2+1} dx \quad (1)$$

$$\int \frac{e^{x+2}}{e^x+1} dx \quad (6) \qquad \int \frac{1}{x \ln x} dx \quad (5) \qquad \int \tan x dx \quad (4)$$

$$\int e^{-2x^2} x dx \quad (9) \qquad \int \frac{e^{\tan x}}{\cos^2 x} dx \quad (8) \qquad \int e^{x^2} 2x dx \quad (7)$$

$$\int \frac{\cos(\ln x)}{x} dx \quad (12) \qquad \int \cos(\sin x) \cdot \cos x dx \quad (11) \qquad \int \cos(2x^2+1) \cdot 4x dx \quad (10)$$

$$\int \frac{\sin \sqrt{x}}{\sqrt{x}} dx \quad (15) \qquad \int \sin(x^2+1) x dx \quad (14) \qquad \int \cos(10x^4+1) x^3 dx \quad (13)$$

$$\int \frac{(\tan x)}{\cos^2 x} dx \quad (18) \qquad \int \frac{\arctan x}{1+x^2} dx \quad (17) \qquad \int \frac{\ln x}{x} dx \quad (16)$$

$$\int 2x\sqrt{x^2+1} dx \quad (21) \qquad \int \frac{\cos x}{\sqrt{2 \sin x}} dx \quad (20) \qquad \int \frac{2x}{\sqrt{x^2+1}} dx \quad (19)$$

$$\int \frac{\sqrt{\arctan x}}{1+x^2} dx \quad (24) \qquad \int \frac{\sqrt{\ln x}}{x} dx \quad (23) \qquad \int x^2 \sqrt{x^3+4} dx \quad (22)$$

תשובות סופיות

- | | | |
|--|--|--|
| $\frac{1}{3} \ln x^3 + 1 + c$ (3) | $\ln \sin x + c$ (2) | $\ln x^2 + 1 + c$ (1) |
| $e^2 \ln e^x + 1 + c$ (6) | $\ln \ln x + c$ (5) | $-\ln \cos x + c$ (4) |
| $-\frac{e^{-2x^2}}{4} + c$ (9) | $e^{\tan x} + c$ (8) | $e^{x^2} + c$ (7) |
| $\sin(\ln x) + c$ (12) | $\sin(\sin x) + c$ (11) | $\sin(2x^2 + 1) + c$ (10) |
| $-2 \cos(\sqrt{x}) + c$ (15) | $-\frac{1}{2} \cos(x^2 + 1) + c$ (14) | $\frac{1}{40} \sin(10x^4 + 1) + c$ (13) |
| $\frac{1}{2} (\tan x)^2 + c$ (18) | $\frac{1}{2} (\arctan x)^2 + c$ (17) | $\frac{1}{2} (\ln x)^2 + c$ (16) |
| $\frac{2}{3} (x^2 + 1)^{\frac{3}{2}} + c$ (21) | $\sqrt{2 \sin x} + c$ (20) | $2\sqrt{x^2 + 1} + c$ (19) |
| $\frac{2}{3} (\arctan x)^{\frac{3}{2}} + c$ (24) | $\frac{2}{3} (\ln x)^{\frac{3}{2}} + c$ (23) | $\frac{2}{9} (x^3 + 4)^{\frac{3}{2}} + c$ (22) |

מתמטיקה לביולוגים חד חוגי מורחב

פרק 17 - האינטגרל המסוים, סכומי רימן

תוכן העניינים

175	1. האינטגרל המסוים
177	2. אי שוויונים עם אינטגרלים
178	3. סכומי רימן

האינטגרל המסוים

שאלות

חשב את האינטגרלים בשאלות 1-10 :

$$\int_1^4 (x^2 - 4x + 1) dx \quad (1)$$

$$\int_1^2 \frac{4x+1}{2x^2+x+5} dx \quad (2)$$

$$\int_0^1 x e^{-x} dx \quad (3)$$

$$\int_1^e \frac{\ln^4 x}{x} dx \quad (4)$$

$$\int_1^4 \frac{1}{x^2 + 4x + 5} dx \quad (5)$$

$$\int_0^\pi \cos^2 10x dx \quad (6)$$

$$f(x) = \begin{cases} \sqrt{x} & 0 \leq x < 1 \\ \frac{1}{x^2} & x \geq 1 \end{cases} \text{ כאשר } \int_0^4 f(x) dx \quad (7)$$

$$\int_{-1}^4 \sqrt{4 + |x-1|} dx \quad (8)$$

$$\int_0^\pi \frac{x \sin x}{1 + \cos^2 x} dx \quad (9)$$

$$\int_0^{\pi/2} \frac{\sqrt[4]{\sin x}}{\sqrt[4]{\sin x} + \sqrt[4]{\cos x}} dx \quad (10)$$

(11) נתונה פונקציה רציפה f . הוכח:

א. אם f זוגית, אזי $\int_{-a}^a f(x) dx = 2 \int_0^a f(x) dx$.

ב. אם f אי-זוגית, אזי $\int_{-a}^a f(x) dx = 0$.

חשב את האינטגרלים הבאים:

$$\int_{-1}^1 (x^3 + x^5) \cos x dx \quad (12)$$

$$\int_{-4}^4 \frac{\sin x + 1}{x^2 + 1} dx \quad (13)$$

תשובות סופיות

(1) -6

(2) $\ln\left(\frac{15}{8}\right)$

(3) $-2e^{-1} + 1$

(4) $\frac{1}{5}$

(5) $\arctan 6 - \arctan 3$

(6) $\frac{\pi}{2}$

(7) $\frac{17}{12}$

(8) $\frac{2}{3}(-16 + 6^{1.5} + 7^{1.5})$

(9) $\frac{\pi^2}{4}$

(10) $\frac{\pi}{4}$

(11) שאלת הוכחה.

(12) 0

(13) $2 \arctan 4$

אי-שוויונים עם אינטגרלים

הוכח את אי-השוויונים הבאים:

$$\frac{2}{41} \leq \int_{-1}^3 \frac{dx}{1+x^4} \leq 4 \quad (1)$$

$$6 \leq \int_{-4}^2 \sqrt{1+x^2} dx \leq 6\sqrt{17} \quad (2)$$

$$2 \leq \int_0^2 e^{x^2} dx \leq 2e^4 \quad (3)$$

$$\frac{1}{2} e^{-10} \leq \int_0^{10} \frac{e^{-x}}{x+10} dx \leq 1 \quad (4)$$

$$\frac{1}{\sqrt[3]{\ln 4}} \leq \int_3^4 \frac{dx}{\sqrt[3]{\ln x}} \leq \frac{1}{\sqrt[3]{\ln 3}} \quad (5)$$

$$\frac{\pi}{14} \leq \int_0^{\pi/2} \frac{dx}{3+4\sin^2 x} \leq \frac{\pi}{6} \quad (6)$$

$$\frac{2}{9} \leq \int_{-1}^1 \frac{dx}{8+x^3} \leq \frac{2}{7} \quad (7)$$

$$-\frac{1}{2} \leq \int_0^1 x \cdot \sin\left(\frac{\ln(x+1)}{x+1}\right) dx \leq \frac{1}{2} \quad (8)$$

$$\int_0^{\pi} x^2 \arctan\left(\frac{\sin x}{x+4}\right) dx \leq \frac{\pi^4}{6} \quad (9)$$

לתשובות מלאות בסרטוני וידאו היכנסו לאתר www.GooL.co.il

סכומי רימן

חשב את הגבולות בשאלות 1-6:

$$\lim_{n \rightarrow \infty} \frac{1^4 + 2^4 + \dots + n^4}{n^5} \quad (1)$$

$$\lim_{n \rightarrow \infty} \frac{\sin \frac{1}{n} + \sin \frac{2}{n} + \dots + \sin \frac{n}{n}}{n} \quad (2)$$

$$\lim_{n \rightarrow \infty} \left\{ \frac{1}{n+1} + \frac{1}{n+2} + \dots + \frac{1}{n+n} \right\} \quad (3)$$

$$\lim_{n \rightarrow \infty} \left\{ \frac{n}{n^2+1^2} + \frac{n}{n^2+2^2} + \dots + \frac{n}{n^2+n^2} \right\} \quad (4)$$

$$\lim_{n \rightarrow \infty} \left\{ \frac{1}{\sqrt{n^2+1^2}} + \frac{1}{\sqrt{n^2+2^2}} + \dots + \frac{1}{\sqrt{n^2+n^2}} \right\} \quad (5)$$

$$\lim_{n \rightarrow \infty} \left\{ \frac{\sqrt{n+1} + \sqrt{n+2} + \dots + \sqrt{2n}}{n^{3/2}} \right\} \quad (6)$$

חשב את האינטגרלים בשאלות 7-10 על פי ההגדרה (של רימן):

תוכל להיעזר בזהויות הבאות:

$$1 + 2 + 3 + \dots + n = 0.5n(n+1)$$

$$1^2 + 2^2 + 3^2 + \dots + n^2 = \frac{1}{6}n(n+1)(2n+1)$$

$$1^3 + 2^3 + 3^3 + \dots + n^3 = \frac{1}{4}n^2(n+1)^2$$

$$\sin \alpha + \sin 2\alpha + \dots + \sin n\alpha = \frac{\sin \frac{n}{2} \alpha \sin \frac{n+1}{2} \alpha}{\sin \frac{\alpha}{2}}$$

$$\int_0^{\pi} \sin x dx \quad (10)$$

$$\int_0^1 x^3 dx \quad (9)$$

$$\int_0^1 x^2 dx \quad (8)$$

$$\int_0^1 x dx \quad (7)$$

$$(11) \text{ חשב את הגבול: } \lim_{n \rightarrow \infty} \frac{1}{n} \sum_{k=1}^n \ln k$$

תשובות סופיות

$$\frac{1}{5} \quad (1)$$

$$1 - \cos 1 \quad (2)$$

$$\ln 2 \quad (3)$$

$$\frac{\pi}{4} \quad (4)$$

$$\ln(1 + \sqrt{2}) \quad (5)$$

$$\frac{2^{1.5}}{1.5} - \frac{2}{3} \quad (6)$$

$$\frac{1}{2} \quad (7)$$

$$\frac{1}{3} \quad (8)$$

$$\frac{1}{4} \quad (9)$$

$$2 \quad (10)$$

$$\infty \quad (11)$$

מתמטיקה לביולוגים חד חוגי מורחב

פרק 18 - המשפט היסודי של החדו"א (גזירת האינטגרל)

תוכן העניינים

1. המשפט היסודי של החדו"א (גזירת האינטגרל) 180

המשפט היסודי של החדו"א (גזירת האינטגרל)

שאלות

בשאלות 1 ו-2, על סמך המשפט היסודי של החדו"א, הוכח כי אם $f(x)$ רציפה וגם $a(x)$ ו- $b(x)$ גזירות, אזי:

$$I(x) = \int_a^{b(x)} f(t) dt \Rightarrow I'(x) = f(b(x))b'(x) \quad (1)$$

$$I(x) = \int_{a(x)}^{b(x)} f(t) dt \Rightarrow I'(x) = f(b(x))b'(x) - f(a(x))a'(x) \quad (2)$$

גזור את הפונקציות בשאלות 3-6:

$$I(x) = \int_1^{x^3} \frac{\ln t}{t^2} dt \quad (4)$$

$$I(x) = \int_2^x e^{-t^2} dt \quad (3)$$

$$I(x) = \int_{x^3}^{x^2} \frac{dt}{\sqrt{1+t^4}} \quad (6)$$

$$I(x) = \int_2^{x^3+x} t \ln t dt \quad (5)$$

חשב את הגבולות בשאלות 7-9:

$$\lim_{x \rightarrow 4} \frac{x}{x-4} \int_4^x e^{t^2} dt \quad (9)$$

$$\lim_{x \rightarrow 0^+} \frac{1}{x^3} \int_0^{x^2} \sin \sqrt{t} dt \quad (8)$$

$$\lim_{x \rightarrow 0} \frac{\int_0^x \frac{t dt}{\cos t}}{\sin^2 x} \quad (7)$$

(10) חקור את הפונקציה $F(x) = \int_0^x (t+1)^4 (t-1)^{10} dt$, לפי הפירוט הבא:

תחום הגדרה, נקודות קיצון ותחומי עלייה וירידה, נקודות פיתול ותחומי קמירות וקעירות.

תשובות סופיות

(1) שאלת הוכחה.

(2) שאלת הוכחה.

(3) $I'(x) = e^{-x^2}$

(4) $I'(x) = \frac{\ln(x)^3}{(x^3)^2} \cdot 3x^2$

(5) $I'(x) = (x^3 + x)(3x^2 + 1)\ln(x^3 + x)$

(6) $I'(x) = \frac{2x}{\sqrt{1+x^8}} - \frac{3x^2}{\sqrt{1+x^{12}}}$

(7) $\frac{1}{2}$

(8) $\frac{2}{3}$

(9) $4e^{16}$

(10) תחום הגדרה: כל x .נקודות קיצון: אין קיצון, עולה לכל x .נקודות פיתול: $x = -1, 1, -\frac{3}{7}$.תחומי קמירות: $x > 1$, $-1 < x < -\frac{3}{7}$.תחומי קעירות: $-1 < x < 1$, $-\frac{3}{7} < x < 1$.

מתמטיקה לביולוגים חד חוגי מורחב

פרק 19 - פתרון וחקירת מערכת משוואות ליניאריות

תוכן העניינים

182	1. פתרון וחקירת מערכת משוואות ליניאריות
187	2. מערכות עם פרמטר
190	3. מערכת משוואות הומוגנית

פתרון וחקירת מערכות של משוואות לינאריות

שאלות

1 מצא אילו מהמערכות הבאות הן מערכות שקולות:

$$\begin{array}{llll} 2x+y=4 & x-y=0 & x-4y=-7 & x+10y=11 \\ x+y=3 \quad \text{ד.} & 2x+y=3 \quad \text{ג.} & x-y=-1 \quad \text{ב.} & 2x-2y=0 \quad \text{א.} \end{array}$$

2 רשום את המטריצות המתאימות למערכות המשוואות הבאות:

$$\begin{array}{llll} x=3 & 2x+y+z=3 & x-4y+z=-7 & x+10y=11 \\ 2x+y=4 \quad \text{ד.} & x-z=0 \quad \text{ג.} & x-y=-1 \quad \text{ב.} & 2x-2y=0 \quad \text{א.} \\ z+t=8 & & x+y+z=5 & x+y=3 \end{array}$$

בשאלות 3-5 בצע על כל מטריצה את הפעולות הרשומות מתחתיה, בזו אחר זו, ומצא את המטריצה המתקבלת (סדר הפעולות הוא משמאל לימין ומלמעלה למטה).

$$\begin{array}{lll} \begin{pmatrix} 3 & -4 & 8 & 1 \\ 2 & -3 & 6 & 0 \\ -1 & 4 & -5 & 1 \end{pmatrix} \quad \text{5} & \begin{pmatrix} 4 & 1 & 0 & 2 \\ -1 & 2 & 1 & 0 \\ 0 & 3 & 1 & -1 \end{pmatrix} \quad \text{4} & \begin{pmatrix} 3 & 5 & -1 & 0 \\ 2 & 1 & 4 & 2 \\ 5 & 0 & -2 & 6 \end{pmatrix} \quad \text{3} \\ R_1 \rightarrow R_1 + 3R_3, R_2 \rightarrow R_2 + 3R_3 & R_2 \rightarrow 4R_2, R_2 \rightarrow R_2 + R_1 & R_1 \leftrightarrow R_2, R_1 \rightarrow 2R_1 \\ R_1 \rightarrow 5R_1 - 8R_2 & R_2 \leftrightarrow R_3, R_3 \rightarrow R_3 - 3R_2 & R_3 \rightarrow R_3 + R_1, R_1 \leftrightarrow R_3 \end{array}$$

6 מצא איזה פעולה אלמנטרית אחת יש לבצע על המטריצה שמשמאל, כדי לקבל את המטריצה מימין:

$$\begin{array}{l} \text{א.} \quad \begin{pmatrix} 1 & -2 & 4 \\ 4 & 1 & 1 \end{pmatrix} \rightarrow \begin{pmatrix} 6 & -3 & 9 \\ 4 & 1 & 1 \end{pmatrix} \\ \text{ב.} \quad \begin{pmatrix} 1 & 0 & -4 & 1 \\ 4 & 2 & 1 & 1 \\ 0 & 1 & 0 & 4 \end{pmatrix} \rightarrow \begin{pmatrix} 1 & 0 & -4 & 1 \\ 0 & 2 & 17 & -3 \\ 0 & 1 & 0 & 4 \end{pmatrix} \\ \text{ג.} \quad \begin{pmatrix} 1 & 0 \\ 0 & 1 \\ 4 & 4 \end{pmatrix} \rightarrow \begin{pmatrix} 1 & 0 \\ 4 & 2 \\ 4 & 4 \end{pmatrix} \end{array}$$

בשאלות 7-15 הבא את המטריצות הבאות לצורה מדורגת
 (בשאלות 7, 9, 11 ו-13 – גם לצורה מדורגת קנונית):

$$\begin{pmatrix} 3 & 6 & 3 & -6 & 5 \\ 2 & 4 & 1 & -2 & 3 \\ 1 & 2 & -1 & 2 & 1 \end{pmatrix} \quad (8) \qquad \begin{pmatrix} 1 & 2 & -3 & -2 & 4 & 1 \\ 2 & 5 & -8 & -1 & 6 & 4 \\ 1 & 4 & -7 & 5 & 2 & 8 \end{pmatrix} \quad (7)$$

$$\begin{pmatrix} 4 & 1 & 1 & 5 \\ 0 & 11 & -5 & 3 \\ 2 & -5 & 3 & 1 \\ 1 & 3 & -1 & 2 \end{pmatrix} \quad (10) \qquad \begin{pmatrix} 1 & 2 & -1 & 3 \\ 1 & 3 & 1 & 5 \\ 3 & 8 & 4 & 17 \end{pmatrix} \quad (9)$$

$$\begin{pmatrix} 0 & 0 & 0 & 1 & 1 & 0 \\ 0 & 0 & 0 & 0 & 1 & 0 \\ 0 & 0 & 0 & 0 & 0 & 0 \\ 0 & 0 & 1 & 1 & 1 & 1 \end{pmatrix} \quad (12) \qquad \begin{pmatrix} 1 & 2 & 1 & 3 & 5 \\ 2 & 5 & 3 & 1 & 6 \\ 1 & -1 & -2 & 2 & 1 \\ -2 & 3 & 5 & -4 & -1 \end{pmatrix} \quad (11)$$

$$\begin{pmatrix} 1 & 3 & -2 & 2 & 3 \\ 1 & 4 & -3 & 4 & 2 \\ 2 & 3 & -1 & -2 & 9 \\ 1 & 3 & 0 & 2 & 1 \\ 2 & 5 & 3 & 2 & 1 \\ 1 & 5 & -6 & 6 & 3 \end{pmatrix} \quad (14) \qquad \begin{pmatrix} 1 & 2 & 1 & 3 & 5 \\ 2 & 5 & 3 & 1 & 6 \\ -1 & 1 & 2 & -2 & -1 \\ -2 & 3 & 5 & -4 & -1 \\ 3 & -2 & -5 & 1 & -1 \end{pmatrix} \quad (13)$$

$$\begin{pmatrix} 1 & 1+i \\ 1+i & 2i \\ 2+i & 1+3i \end{pmatrix} \quad (15)$$

$$F=\mathbb{C}, F=\mathbb{R}$$

* בשאלה 15, עליך לדרג את המטריצה פעם מעל השדה \mathbb{R} ופעם מעל השדה \mathbb{C} .

בשאלות 16-27 פתור את מערכות המשוואות בשיטת גאוס (כלומר, על ידי דירוג):

$$\begin{aligned} 4x + 8y &= 20 \\ 3x + 6y &= 15 \end{aligned} \quad (17)$$

$$\begin{aligned} 2x + 3y &= 8 \\ 5x - 4y &= -3 \end{aligned} \quad (16)$$

$$\begin{aligned} 2x_1 - x_2 - 3x_3 &= 5 \\ 3x_1 - 2x_2 + 2x_3 &= 5 \\ 10x_1 - 6x_2 - 2x_3 &= 32 \end{aligned} \quad (19)$$

$$\begin{aligned} 8x - 4y &= 10 \\ -6x + 3y &= 1 \end{aligned} \quad (18)$$

$$\begin{aligned} x + 2y + 3z &= 3 \\ 4x + 6y + 16z &= 8 \\ 3x + 2y + 17z &= 1 \end{aligned} \quad (21)$$

$$\begin{aligned} x + 2y + 3z &= -11 \\ 2x + 3y - z &= -5 \\ 3x + y - z &= 2 \end{aligned} \quad (20)$$

$$\begin{aligned} 4x - 7y &= 0 \\ 8x - 14y &= 2 \\ -16x + 28y &= 4 \end{aligned} \quad (23)$$

$$\begin{aligned} x + 3y &= 2 \\ 2x + y &= -1 \\ x - y &= -2 \end{aligned} \quad (22)$$

$$\begin{aligned} x + 2y - 3z + 2t &= 2 \\ 2x + 5y - 8z + 6t &= 5 \\ 6x + 8y - 10z + 4t &= 8 \end{aligned} \quad (25)$$

$$\begin{aligned} 3x - 2y &= 1 \\ -9x + 6y &= -3 \\ 6x - 4y &= 2 \end{aligned} \quad (24)$$

$$\begin{aligned} x + 2y + 2z &= 2 \\ 3x - 2y - z &= 5 \\ 2x - 5y + 3z &= -4 \\ 2x + 8y + 12z &= 0 \end{aligned} \quad (27)$$

$$\begin{aligned} x_1 + 5x_2 + 4x_3 - 13x_4 &= 3 \\ 3x_1 - x_2 + 2x_3 + 5x_4 &= 2 \\ 2x_1 + 2x_2 + 3x_3 - 4x_4 &= 0 \end{aligned} \quad (26)$$

תשובות סופיות

1) א ו-ג שקולות, ו-ב ו-ד שקולות.

$$\begin{pmatrix} 1 & -4 & 1 & -7 \\ 1 & -1 & 0 & -1 \\ 1 & 1 & 1 & 5 \end{pmatrix} \text{ג.} \quad \begin{pmatrix} 1 & -4 & 1 & -7 \\ 1 & -1 & 0 & -1 \\ 1 & 1 & 1 & 5 \end{pmatrix} \text{ב.} \quad \begin{pmatrix} 1 & 10 & 11 \\ 2 & -2 & 0 \\ 1 & 1 & 3 \end{pmatrix} \text{א.} \quad (2)$$

$$\begin{pmatrix} 1 & 0 & 0 & 0 & 3 \\ 2 & 1 & 0 & 0 & 4 \\ 0 & 0 & 1 & 1 & 8 \end{pmatrix} \text{ד.}$$

$$\begin{pmatrix} 0 & 0 & -4 & 4 \\ 0 & 5 & -4 & 2 \\ -1 & 4 & -5 & 1 \end{pmatrix} (5) \quad \begin{pmatrix} 4 & 1 & 0 & 2 \\ 0 & 3 & 1 & -1 \\ 0 & 0 & 1 & 5 \end{pmatrix} (4) \quad \begin{pmatrix} 9 & 2 & 6 & 8 \\ 3 & 5 & -1 & 0 \\ 4 & 2 & 8 & 2 \end{pmatrix} (3)$$

6) א. $R_1 \rightarrow 2R_1 + R_2$ ב. $R_2 \rightarrow R_2 - 4R_1$ ג. $R_2 \rightarrow 2R_2 + 4R_1$

$$\begin{pmatrix} 1 & 0 & 1 & 0 & 24 & 21 \\ 0 & 1 & -2 & 0 & -8 & -7 \\ 0 & 0 & 0 & 1 & 2 & 3 \end{pmatrix} \text{ג.} \quad \begin{pmatrix} 1 & 2 & -3 & -2 & 4 & 1 \\ 0 & 1 & -2 & 3 & -2 & 2 \\ 0 & 0 & 0 & 1 & 2 & 3 \end{pmatrix} \text{ב.} \quad (7)$$

$$\begin{pmatrix} 1 & 2 & -1 & 2 & 1 \\ 0 & 0 & 3 & -6 & 1 \\ 0 & 0 & 0 & 0 & 0 \end{pmatrix} (8)$$

$$\begin{pmatrix} 1 & 0 & 0 & \frac{17}{3} \\ 0 & 1 & 0 & -\frac{2}{3} \\ 0 & 0 & 1 & \frac{4}{3} \end{pmatrix} \text{ג.} \quad \begin{pmatrix} 1 & 2 & -1 & 3 \\ 0 & 1 & 2 & 2 \\ 0 & 0 & 3 & 4 \end{pmatrix} \text{ב.} \quad (9)$$

$$\begin{pmatrix} 1 & 3 & -1 & 2 \\ 0 & 11 & -5 & 3 \\ 0 & 0 & 0 & 0 \\ 0 & 0 & 0 & 0 \end{pmatrix} (10)$$

$$\begin{pmatrix} 1 & 0 & -1 & 0 & 0 \\ 0 & 1 & 1 & 0 & 1 \\ 0 & 0 & 0 & 1 & 1 \\ 0 & 0 & 0 & 0 & 0 \end{pmatrix} \text{ג.} \quad \begin{pmatrix} 1 & 2 & 1 & 3 & 5 \\ 0 & 1 & 1 & -5 & -4 \\ 0 & 0 & 0 & 1 & 1 \\ 0 & 0 & 0 & 0 & 0 \end{pmatrix} \text{ב.} \quad (11)$$

$$\begin{pmatrix} 0 & 0 & 1 & 1 & 1 & 1 \\ 0 & 0 & 0 & 1 & 1 & 0 \\ 0 & 0 & 0 & 0 & 1 & 0 \\ 0 & 0 & 0 & 0 & 0 & 0 \end{pmatrix} (12)$$

$$\begin{pmatrix} 1 & 0 & -1 & 0 & 0 \\ 0 & 1 & 1 & 0 & 1 \\ 0 & 0 & 0 & 1 & 1 \\ 0 & 0 & 0 & 0 & 0 \\ 0 & 0 & 0 & 0 & 0 \end{pmatrix} \xrightarrow{-\Gamma} \begin{pmatrix} 1 & 2 & 1 & 3 & 5 \\ 0 & 1 & 1 & -5 & -4 \\ 0 & 0 & 0 & 1 & 1 \\ 0 & 0 & 0 & 0 & 0 \\ 0 & 0 & 0 & 0 & 0 \end{pmatrix} \quad (13)$$

$$\begin{pmatrix} 1 & 3 & -2 & 2 & 3 \\ 0 & 1 & -1 & 2 & -1 \\ 0 & 0 & -2 & 0 & 2 \\ 0 & 0 & 0 & 0 & 0 \\ 0 & 0 & 0 & 0 & 0 \\ 0 & 0 & 0 & 0 & 0 \end{pmatrix} \quad (14)$$

$$\begin{pmatrix} 1 & 1+i \\ 1+i & 2i \\ 0 & 0 \end{pmatrix}, \begin{pmatrix} 1 & 1+i \\ 0 & 0 \\ 0 & 0 \end{pmatrix} \quad (15)$$

$F=\mathbb{R} \qquad F=\mathbb{C}$

$$\phi \quad (18) \qquad (x, y) = (5 - 2t, t) \quad (17) \qquad (x, y) = (1, 2) \quad (16)$$

$$(x_1, x_2, x_3) = (1, -3, -2) \quad (20) \qquad \phi \quad (19)$$

$$(x, y) = (-1, 1) \quad (22) \qquad (x, y, z) = (-1 - 7t, 2 + 2t, t) \quad (21)$$

$$(x, y) = \left(\frac{1+2t}{3}, t \right) \quad (24) \qquad \phi \quad (23)$$

$$\phi \quad (26) \qquad (x, y, z, t) = (-a + 2b, 1 + 2a - 2b, a, b) \quad (25)$$

$$(x, y, z) = (2, 1, -1) \quad (27)$$

מערכות עם פרמטר

שאלות

בשאלות 1-6 מצא לאילו ערכי k (אם יש כאלה) יש למערכות:
1. פתרון יחיד. 2. אף פתרון. 3. אינסוף פתרונות.

$$\begin{array}{l} x+ky+z=1 \\ x+y+kz=1 \quad (2) \\ kx+y+z=1 \end{array} \quad \begin{array}{l} x-y+z=1 \\ 5x-7y+(k^2+3)z=k^2+1 \quad (1) \\ 3x-y+(k+3)z=3 \end{array}$$

$$\begin{array}{l} 2x-y+z=0 \\ x+2y-z=0 \quad (4) \\ 5x+(1-k)y+k^2z=1 \end{array} \quad \begin{array}{l} x+2ky+z=0 \\ 3x+y+kz=2 \quad (3) \\ x+9ky+5z=-2 \end{array}$$

$$\begin{array}{l} x+ky+3z=2 \\ kx-y+z=4 \quad (6) \\ 3x+y+(2+k)z=0 \end{array} \quad \begin{array}{l} kx-y=1 \\ (k-2)x+ky=-2 \quad (5) \\ (k^2-1)z=9 \end{array}$$

בשאלות 7-9 מצא לאילו ערכי k (אם יש כאלה) יש למערכות:
1. פתרון יחיד. 2. אף פתרון. 3. אינסוף פתרונות.

$$\begin{array}{l} 2x-3y+z=1 \\ 4x+(k^2-5k)y+2z=k \quad (8) \end{array} \quad \begin{array}{l} 2x+ky=3 \\ (k+3)x+2y=k^2+5 \quad (7) \\ 6x+3ky=7k^2+2 \end{array}$$

$$\begin{array}{l} 3x+4y-z=2 \\ kx-2y+z=-1 \\ x+8y-3z=k \quad (9) \\ 2x+6y-2z=0.5k+1 \end{array}$$

בשאלות 10-12 מצא לאילו ערכים של a ושל b (אם יש כאלה) יש למערכות:
1. פתרון יחיד. 2. אף פתרון. 3. אינסוף פתרונות.

$$\begin{array}{l} x+y-z+t=1 \\ ax+y+z+t=b \quad (12) \\ 3x+2y+at=1+a \end{array} \quad \begin{array}{l} 2x+4y+az=-1 \\ x+2y+4z=-4 \\ x+2y-4z=0 \\ x+2y+6z=-2b \end{array} \quad \begin{array}{l} x+2y-4z=b \\ 7x-10y+16z=7 \quad (10) \\ 2x-ay+3z=1 \end{array}$$

$$x + az = 1$$

$$y + 2z = 2 \quad (13) \text{ נתונה מערכת המשוואות:}$$

$$bx + cy + dz = 3$$

- א. מצא תנאי עבור a, b, c, d , כך שלמערכת יהיה פתרון יחיד.
 ב. מצא תנאי עבור b, c, d , כך שלכל a , למערכת יהיו אינסוף פתרונות.

$$(14) \text{ נתונה המערכת: } \begin{cases} x + y - z = 1 \\ 3x - 7y + (k^2 + 1)z = k^2 - 1 \\ 4x - 6y + (k + 2)z = 4 \end{cases}$$

- א. רשום את המטריצה המתאימה למערכת המשוואות.
 ב. רשום את הצורה המדורגת של המטריצה מסעיף א.
 ג. מצא לאילו ערכי k יש למערכת:
 1. פתרון יחיד. 2. אף פתרון. 3. אינסוף פתרונות.
 ד. רשום את הפתרון הכללי במקרה בו יש אינסוף פתרונות.
 ה. מצא לאילו ערכי k יש למערכת פתרון שבו $z = 0$.
 ו. מצא לאילו ערכי k יש למערכת פתרון יחיד שבו $z = 0$.
 ז. מצא עבור איזה ערך של k פתרון של המשוואה השלישית הוא $(1, 2, 3)$.
 האם ייתכן שהפתרון הנ"ל הוא גם פתרון של כל המערכת? הסבר.
 ח. מצא לאיזה ערך של k , $(1, 0, 0)$ הוא הפתרון היחיד של המערכת.

תשובות סופיות

$$(1) \quad 1. \ k \neq 1, k \neq -2 \quad 2. \ k = 1 \quad 3. \ k = -2$$

$$(2) \quad 1. \ k \neq 1, k \neq -2 \quad 2. \ k = -2 \quad 3. \ k = 1$$

$$(3) \quad 1. \ k \neq -1, k \neq \frac{4}{7} \quad 2. \ k = \frac{4}{7} \quad 3. \ k = -1$$

$$(4) \quad 1. \ k \neq 1, k \neq -0.4 \quad 2. \ k = 1, k = -0.4$$

$$(5) \quad 1. \ k \neq \pm 1, k \neq -2 \quad 2. \ k = \pm 1, k = -2$$

$$(6) \quad 1. \ k \neq -1, k \neq -3, k \neq 2 \quad 2. \ k = -1, k = -3, k = 2$$

$$(7) \quad 1. \ k = -1 \quad 2. \ k \neq \pm 1 \quad 3. \ k = 1$$

$$(8) \quad 1. \ k = 3 \quad 2. \ k = 3 \quad 3. \ k \neq 3$$

$$(9) \quad 1. \ k \neq 1 \quad 2. \ k = 1$$

$$(10) \quad 1. \ a \neq 2 \quad 2. \ a = 2, b \neq -3 \quad 3. \ a = 2, b = -3$$

$$(11) \quad 1. \ a \neq -6 \text{ או } b \neq 2.5 \quad 2. \ a = -6, b = 2.5$$

$$(12) \quad 1. \ a = 2, b \neq 2 \quad 2. \ a = 2, b = 2 \text{ או } a \neq 2$$

$$(13) \quad \text{א. } ab + 2c \neq d \quad \text{ב. } b = 0, c = 1.5, d = 3$$

$$(14) \quad \text{א. } \begin{pmatrix} 1 & 1 & -1 & 1 \\ 3 & -7 & k^2+1 & k^2-1 \\ 4 & -6 & k+2 & 4 \end{pmatrix} \quad \text{ב. } \begin{pmatrix} 1 & 1 & -1 & 1 \\ 0 & -10 & k^2+4 & k^2-4 \\ 0 & 0 & -k^2+k+2 & 4-k^2 \end{pmatrix}$$

$$\text{ג. } 1. \ k \neq 2, k \neq -1 \quad 2. \ k = -1 \quad 3. \ k = 2 \quad \text{ד. } (x, y, z) = (1+0.2t, 0.8t, t)$$

$$\text{ה. } k = \pm 2 \quad \text{ו. } k = -2 \quad \text{ז. } k = 2, \text{ לא. } \text{ח. } k = -2$$

מערכת משוואות הומוגנית

שאלות

(1) פתור את המערכת הבאה. על סמך הפתרון, קבע את הפתרון של המערכת

$$\begin{cases} x - y + z = 2 \\ x + y + 2z = 6 \\ 4x - 2y + 5z = 12 \end{cases} \quad \text{ההומוגנית המתאימה: } x + y + 2z = 6$$

(2) פתור את המערכת הבאה. על סמך הפתרון, קבע את הפתרון של המערכת

$$\begin{cases} x - y + z = 2 \\ x + y + 2z = 6 \\ x + y + z = 4 \end{cases} \quad \text{ההומוגנית המתאימה: } x + y + 2z = 6$$

$$(3) \quad \begin{cases} x - y = 1 \\ -x + 2y - z = k \\ 2x + my + z = 3 \end{cases} \quad \text{נתונה המערכת: } -x + 2y - z = k$$

- א. מצא את ערכי m , עבורם למערכת ההומוגנית המתאימה אינסוף פתרונות.
 ב. עבור ערך m שמצאת ב-א, מצא את ערכי k , עבורם למערכת פתרון.
 ג. עבור ערכי m, k שמצאת בסעיפים הקודמים, מצא את הפתרון הכללי של המערכת הנתונה, וקבע את הפתרון הכללי של המערכת ההומוגנית המתאימה.

(4) נתון שהחמישייה $(4t - 2s + 4, -t + s, 2, t, s)$ מהווה פתרון כללי של מערכת

ליניארית נתונה. קבע אילו מבין הטענות הבאות נכונות:

- א. המערכת הנתונה היא מערכת הומוגנית.
 ב. החמישייה $(4, 0, 2, 0, 0)$, היא פתרון פרטי של המערכת הנתונה.
 ג. החמישייה $(4, 0, 2, 1, 1)$, היא פתרון של המערכת הנתונה.
 ד. לכל a ממשי, החמישייה $(4a, 0, 2a, 0, 0)$ אינה פתרון של המערכת הנתונה.
 ה. החמישייה $(4t - 2s, -t + s, 0, t, s)$, היא פתרון כללי של המערכת ההומוגנית המתאימה.
 ו. החמישייה $(0, 1, 0, 1, 2)$, היא פתרון פרטי של המערכת ההומוגנית המתאימה.
 ז. במערכת הנתונה, מספר המשוואות לאחר דירוג הוא 2.

תשובות סופיות

- (1) פתרון כללי של המערכת $(4 - \frac{3}{2}t, -\frac{1}{2}t + 2, t)$.
 פתרון כללי של המערכת ההומוגנית המתאימה הוא $(-\frac{3}{2}t, -\frac{1}{2}t, t)$.
- (2) למערכת פתרון יחיד $(x, y, z) = (1, 1, 2)$.
 למערכת ההומוגנית המתאימה פתרון יחיד $(0, 0, 0)$.
- (3) א. $m = -3$ ב. $k = -2$ ג. פתרון כללי של המערכת $(x, y, z) = (t, t - 1, t)$.
 פתרון כללי של המערכת ההומוגנית המתאימה הוא (t, t, t) .
- (4) א. הטענה לא נכונה. ב. הטענה נכונה. ג. הטענה לא נכונה.
 ד. הטענה לא נכונה. ה. הטענה נכונה. ו. הטענה לא נכונה.
 ז. הטענה לא נכונה.

מתמטיקה לביולוגים חד חוגי מורחב

פרק 20 - מטריצות

תוכן העניינים

192	1. מטריצות
194	2. מטריצות סימטריות ומטריצות אנטי-סימטריות
195	3. המטריצה ההופכית
199	4. דרגה של מטריצה
202	5. בחזרה למערכת משוואות ליניארית
207	6. רגרסיה ליניארית

מטריצות

שאלות

1 נתונות המטריצות הבאות: $A_{4 \times 6}$, $B_{4 \times 6}$, $C_{6 \times 2}$, $D_{4 \times 2}$, $E_{6 \times 4}$.
קבע אילו מבין המטריצות הבאות מוגדרות.
במידה והמטריצה מוגדרת, רשום את סדר המטריצה:

- א. $A+B$ ב. AB ג. $AC-D$ ד. $AE-B$
ה. $B+AB$ ו. $E(B+A)$ ז. $(E+A^T)D$ ח. $E^T B$
ט. $E(AC)$ י. $E(B-A)$

2 מצא את x, y, z , אם ידוע כי: $\begin{pmatrix} x+2y & 3x-2y \\ 2x-5y & 2x+8y \end{pmatrix} = \begin{pmatrix} 2-2z & 5+z \\ -4-3z & -12z \end{pmatrix}$

בשאלות 3-8 נתונות המטריצות הבאות:

$$A = \begin{pmatrix} 4 & 0 \\ 1 & 2 \\ -1 & 1 \end{pmatrix}, B = \begin{pmatrix} 4 & 1 \\ 0 & -2 \end{pmatrix}, C = \begin{pmatrix} 1 & 4 & 2 \\ 4 & 1 & 5 \end{pmatrix}, D = \begin{pmatrix} 1 & 4 & 2 \\ 1 & 0 & -1 \\ 4 & 2 & 10 \end{pmatrix},$$

$$E = \begin{pmatrix} 4 & 1 & 1 \\ -1 & 0 & 1 \\ 4 & 1 & -1 \end{pmatrix}, I_2 = \begin{pmatrix} 1 & 0 \\ 0 & 1 \end{pmatrix}, I_3 = \begin{pmatrix} 1 & 0 & 0 \\ 0 & 1 & 0 \\ 0 & 0 & 1 \end{pmatrix}$$

חשב (במידה וניתן):

3 א. $E+D$ ב. $E-D+I_3$

ג. $5C$ ד. $2D+4EI_3$

4 $2tr(D^2 - 2E)$

5 א. $4C^T + A$ ב. $\frac{1}{2}A^T + \frac{1}{4}C$

6 $I_2 BC$

7 $tr(C^T C)$

8 $DABC$

תשובות סופיות

- (1) א. 4×6 ב. לא ג. 4×2 ד. לא ה. לא י. 6×6
- (2) $(x, y, z) = (2, 1, -1)$
- (3) א. $\begin{pmatrix} 5 & 5 & 3 \\ 0 & 0 & 0 \\ 8 & 3 & 9 \end{pmatrix}$ ב. $\begin{pmatrix} 4 & -3 & -1 \\ -2 & 1 & 2 \\ 0 & -1 & -10 \end{pmatrix}$ ג. $\begin{pmatrix} 5 & 20 & 10 \\ 20 & 5 & 25 \end{pmatrix}$
- (4) 230 ד. $\begin{pmatrix} 18 & 12 & 8 \\ -2 & 0 & 2 \\ 24 & 8 & 16 \end{pmatrix}$
- (5) א. $\begin{pmatrix} 8 & 16 \\ 17 & 6 \\ 7 & 21 \end{pmatrix}$ ב. $\begin{pmatrix} 2.25 & 1.5 & 0 \\ 1 & 1.25 & 1.75 \end{pmatrix}$
- (6) $\begin{pmatrix} 8 & 17 & 13 \\ -8 & -2 & -10 \end{pmatrix}$ (7) 63 (8) $\begin{pmatrix} -32 & 82 & -22 \\ 48 & 87 & 75 \\ -48 & 108 & -36 \end{pmatrix}$

מטריצות סימטריות ומטריצות אנטי-סימטריות

שאלות

מטריצה ריבועית A תיקרא סימטרית אם $A^T = A$, ואנטי-סימטרית אם $A^T = -A$.

(1) ידוע ש- A מטריצה ריבועית.
מי מבין הבאים נכון (אחד או יותר):

1. AA^T סימטרית.
2. $A + A^T$ סימטרית.
3. $A - A^T$ אנטי-סימטרית.

(2) ידוע ש- A ו- B אנטי-סימטריות מאותו סדר.
מי מבין הבאים נכון:

1. $BABABA$ אנטי-סימטרית.
2. $A^2 - B^2$ סימטרית.
3. $A^2 + B$ סימטרית.

(3) ידוע ש- A ו- B סימטריות מאותו סדר ונתון כי $AB = -BA$.
מי מבין הבאים נכון:

1. AB^3 אנטי-סימטרית.
2. AB^2 סימטרית.
3. $(A - B)^2$ סימטרית.

(4) ידוע ש- A סימטרית ו- B אנטי סימטרית מאותו סדר ונתון כי $AB = BA$.
הוכח:

1. AB אנטי-סימטרית.
2. $AB + B$ אנטי-סימטרית.

(5) נתון: A, B, AB סימטריות מאותו סדר.
הוכח כי $A^4 B^4 = B^4 A^4$.

תשובות סופיות

- (1) 1,2,3
- (2) 2
- (3) 1,2,3
- (4) הוכחה.
- (5) הוכחה.

המטריצה ההופכית

שאלות

בשאלות 1-9 מצא את ההפוכה של כל מטריצה. בדוק תשובתך על ידי כפל מטריצות מתאים.

$$\begin{array}{ll} \begin{pmatrix} 4 & 1.5 \\ 2 & 1 \end{pmatrix} & \text{(3)} \\ \begin{pmatrix} 2 & -1 & 1 \\ 3 & -2 & 2 \\ 5 & -3 & 4 \end{pmatrix} & \text{(6)} \\ \begin{pmatrix} 1 & 1 & 0 & 1 \\ 4 & 2 & 2 & 3 \\ 2 & -1 & 2 & -1 \\ 4 & 0 & 2 & -2 \end{pmatrix} & \text{(9)} \end{array} \quad \begin{array}{ll} \begin{pmatrix} 5 & 2 \\ 7 & 3 \end{pmatrix} & \text{(2)} \\ \begin{pmatrix} 2 & 1 & 1 \\ 0 & 2 & -1 \\ 5 & 2 & 3 \end{pmatrix} & \text{(5)} \\ \begin{pmatrix} 1 & 4 & 2 & 4 \\ 1 & 2 & -1 & 0 \\ 0 & 1 & 1 & 1 \\ 1 & 3 & -1 & -2 \end{pmatrix} & \text{(8)} \end{array} \quad \begin{array}{ll} \begin{pmatrix} 1 & 2 \\ 3 & 4 \end{pmatrix} & \text{(1)} \\ \begin{pmatrix} 1 & 0 & 2 \\ 4 & -1 & 8 \\ 2 & 1 & 3 \end{pmatrix} & \text{(4)} \\ \begin{pmatrix} 1 & 0 & 0 & 0 \\ 1 & 2 & 0 & 0 \\ 1 & 2 & 3 & 0 \\ 1 & 2 & 3 & 4 \end{pmatrix} & \text{(7)} \end{array}$$

(10) עבור אילו ערכים של הקבוע k המטריצה הבאה: $\begin{pmatrix} 1 & -1 & 1 \\ 5 & -7 & k^2+3 \\ 3 & -1 & k+3 \end{pmatrix}$ הפיכה?

(11) עבור אילו ערכים של הקבוע k המטריצה $\begin{pmatrix} 1 & 1 & 1 & 1 & k \\ 1 & 1 & 1 & k & 1 \\ 1 & 1 & k & 1 & 1 \\ 1 & k & 1 & 1 & 1 \\ k & 1 & 1 & 1 & 1 \end{pmatrix}$ איננה הפיכה?

הנח שהמטריצות בשאלות 12-14 הן הפיכות מסדר n , וחלץ את X :

(12) א. $AXC = D$ ב. $A^{-1}XC = A^{-1}DC$ ג. $P^{-1}X^T P = A$

(13) א. $C^{-1}(A+X)D^{-2} = I$ ב. $(A-AX)^{-1} = X^{-1}C$

(14) $ABC^T X^{-1} BA^T C = AB^T$

(15) נתון $B = \begin{pmatrix} 1 & 2 \\ 4 & 9 \end{pmatrix}$.

חשב את X , אם ידוע כי $B^2 X (2B)^{-1} = B + I$.

(16) נתון $B^{-1} = \begin{pmatrix} 1 & 0 & 2 \\ 4 & -1 & 8 \\ 2 & 1 & 3 \end{pmatrix}$. חשב את Y , אם ידוע כי $BYB^T = B^{-1} + B$.

(17) נתון $A^{-1} = \begin{pmatrix} 2 & 3 \\ 4 & 7 \end{pmatrix}$.

חשב את B , אם נתון בנוסף כי: $5A^T B(I+2A)^{-2} = (7A)^{-2}$.

(18) ענה על הסעיפים הבאים :

א. נתון: A מטריצה ריבועית המקיימת $A^2 - 5A - 2I = 0$.

הוכח כי A הפיכה ובטא את A^{-1} במונחי A ו- I .

ב. נתון: A מטריצה ריבועית המקיימת $(A-3I)(A+2I) = 0$.

הוכח כי A הפיכה ובטא את A^{-1} במונחי A ו- I .

(19) נתון כי: $p(x) = x^3 - 4x^2 - 20x + 48$, $A = \begin{pmatrix} -1 & 3 & 0 \\ 3 & -1 & 0 \\ -2 & -2 & 6 \end{pmatrix}$.

א. חשב את $p(A)$.

ב. בעזרת תוצאת סעיף א (ולא בדרך אחרת), הוכח ש- A הפיכה, ובטא את A^{-1} בעזרת A ו- I בלבד.

(20) נתון כי A מטריצה ריבועית המקיימת $A^4 = 0$.

א. הוכח כי A לא הפיכה.

ב. הוכח כי המטריצה $I - A$ הפיכה, ומצא את ההופכית שלה.

(21) נתון: $\begin{cases} P^{-1}AP = B \\ Q^{-1}BQ = C \end{cases}$.

הוכח כי קיימת מטריצה הפיכה D , כך ש- $D^{-1}AD = C$.

* הנח שכל המטריצות הנתונות ריבועיות, מאותו סדר והפיכות.
 ** לסטודנטים המכירים את המושג **דמיון מטריצות**, ניתן לנסח את השאלה כך:
 הוכח: אם A דומה ל- B ו- B דומה ל- C , אז A דומה ל- C .
 (כלומר יחס הדמיון הוא יחס טרנזיטיבי)

(22) תהיינה A, B מטריצות ריבועיות ממשיות מסדר $n \geq 2$. הוכח או הפרך כל אחת מהטענות הבאות:

- $AB = BA$.
- אם $A^2 - AB = I_n$, אז בהכרח B הפיכה.
- אם $A^2 - AB = I_n$, אז בהכרח A הפיכה.
- אם $(AB)^{100} = I$, אז בהכרח $(BA)^{100} = I$.
- אם $(AB)^{100} = 0$, אז בהכרח $(BA)^{101} = 0$.

(23) תהיינה A, B מטריצות מסדר $n \times n$, עבורן $A^2 + AB = I$.

- הוכיחו ש- $AB = BA$.
- אם נתון בנוסף ש- $B^2 + BA$ היא מטריצת האפס, הוכיחו שגם B היא מטריצת האפס.

(24) תהיינה A, B מטריצות כלשהן.

הוכח או הפרך את הטענות הבאות:

- אם $AB = I$ או $B = A^{-1}$.
- אם המכפלה AB היא מטריצה ריבועית, אזי A, B מטריצות ריבועיות.
- אם המכפלה AB היא מטריצה הפיכה, אזי A, B מטריצות ריבועיות.
- המכפלה AB לא הפיכה.
- אם A מטריצה ריבועית והמכפלה AB מוגדרת, אזי B מטריצה ריבועית.

(25) מטריצה ריבועית A תיקרא אידמפוטנטית אם $A^2 = A$. הוכח:

- למעט המקרה בו $A = I$, מטריצה אידמפוטנטית היא לא הפיכה.
- אם נחסר מטריצה אידמפוטנטית ממטריצת היחידה נקבל מטריצה אידמפוטנטית.
- אם A מטריצה אידמפוטנטית ריבועית מסדר 2, אז $tr(A) = 1$ או ש- A מטריצה אלכסונית.
- A אידמפוטנטית $\Leftrightarrow A^n = A$, לכל n טבעי.

הערה: בפרק 3 (דטרמיננטות) תמצא שאלות נוספות הנוגעות למטריצה ההפוכה.

תשובות סופיות

$$\begin{pmatrix} 1 & -1.5 \\ -2 & 4 \end{pmatrix} \quad (3)$$

$$\begin{pmatrix} 3 & -2 \\ -7 & 5 \end{pmatrix} \quad (2)$$

$$\begin{pmatrix} 2 & 1 \\ 1.5 & -0.5 \end{pmatrix} \quad (1)$$

$$\begin{pmatrix} 8 & -1 & -3 \\ -5 & 1 & 2 \\ -10 & 1 & 4 \end{pmatrix} \quad (5)$$

$$\begin{pmatrix} -11 & 2 & 2 \\ 4 & -1 & 0 \\ 6 & -1 & -1 \end{pmatrix} \quad (4)$$

$$\begin{pmatrix} 1 & 0 & 0 & 0 \\ -\frac{1}{2} & \frac{1}{2} & 0 & 0 \\ 0 & -\frac{1}{3} & \frac{1}{3} & 0 \\ 0 & 0 & -\frac{1}{4} & \frac{1}{4} \end{pmatrix} \quad (7)$$

$$\begin{pmatrix} 2 & -1 & 0 \\ 2 & -3 & 1 \\ -1 & -1 & 1 \end{pmatrix} \quad (6)$$

$$\begin{pmatrix} 7 & -2 & 3 & -1 \\ -10 & 3 & -5 & 2 \\ -10 & 3 & -4 & 1.5 \\ 4 & -1 & 2 & -1 \end{pmatrix} \quad (9)$$

$$\begin{pmatrix} 7 & -10 & -20 & 4 \\ -2 & 3 & 6 & -1 \\ 3 & -5 & -8 & 2 \\ -1 & 2 & 3 & -1 \end{pmatrix} \quad (8)$$

$$k=1, k=-4 \quad (11)$$

$$k \neq 1, k \neq -2 \quad (10)$$

$$(P^{-1})^T A^T P^T \quad \lambda \quad D \quad \text{ב.} \quad A^{-1}DC^{-1} \quad \text{א.} \quad (12)$$

$$(A+C^{-1})^{-1} A \quad \text{ב.} \quad CD^2 - A \quad \text{א.} \quad (13)$$

$$X = 4 \begin{pmatrix} 5 & -1 \\ -2 & 1 \end{pmatrix} \quad (15)$$

$$BA^T C(B^{-1})^T BC^T \quad (14)$$

$$B = \frac{1}{245} \begin{pmatrix} 264 & 450 \\ 448 & 768 \end{pmatrix} \quad (17)$$

$$Y = \begin{pmatrix} 22 & 86 & 38 \\ 64 & 246 & 114 \\ 60 & 238 & 100 \end{pmatrix} \quad (16)$$

$$A^{-1} = \frac{1}{6}A - \frac{1}{6}I \quad \text{ב.}$$

$$A^{-1} = 0.5A - 2.5I \quad \text{א.} \quad (18)$$

$$B^{-1} = -\frac{1}{48}B^2 + \frac{1}{12}B + \frac{5}{12}I \quad \text{ב.}$$

$$f(B) = \begin{pmatrix} 0 & 0 & 0 \\ 0 & 0 & 0 \\ 0 & 0 & 0 \end{pmatrix} \quad \text{א.} \quad (19)$$

$$(I-A)^{-1} = I + A + A^2 + A^3 \quad \text{ב.}$$

$$\text{א. הוכחה.} \quad (20)$$

$$\text{ב. הוכחה.} \quad (21)$$

$$\text{ג. הוכחה.} \quad (22)$$

$$\text{ד. הוכחה.} \quad (23)$$

$$\text{ה. הוכחה.} \quad (24)$$

$$\text{ו. הוכחה.} \quad (25)$$

דרגה של מטריצה

שאלות

(1) אמת את המשפט $\text{rank}(A) = \text{rank}(A^T)$,

$$A = \begin{pmatrix} 1 & 2 & 3 & 4 & 10 \\ 5 & 6 & 7 & 8 & 14 \\ 6 & 8 & 10 & 12 & 24 \\ 3 & 2 & 1 & 0 & -6 \end{pmatrix} : \text{על המטריצה:}$$

(2) אמת את המשפט $\text{rank}(AB) \leq \min\{\text{rank}(A), \text{rank}(B)\}$,

$$A = \begin{pmatrix} 1 & 2 & 3 & 4 \\ 5 & 6 & 7 & 8 \\ 6 & 8 & 10 & 12 \\ 3 & 2 & 1 & 0 \end{pmatrix} \quad B = \begin{pmatrix} 1 & 2 & 3 \\ 4 & 5 & 6 \\ 7 & 8 & 9 \\ 1 & 1 & 1 \end{pmatrix} : \text{עבור:}$$

$$A = \begin{pmatrix} 1-k & 0 & 0 & 0 \\ 0 & 1-k & 0 & 0 \\ 0 & 0 & 4-k & 1 \\ 0 & 0 & 0 & 10-k \end{pmatrix} : \text{נתונה המטריצה:}$$

חשב את $\text{rank}(A)$.

(4) נתון כי A מטריצה ריבועית מסדר $n > 1$.
הוכח או הפרך:

א. $\text{rank}(A) = n-1 \Rightarrow \text{rank}(A^2) = n-1$

ב. $\text{rank}(A) = n-1 \Leftarrow \text{rank}(A^2) = n-1$

(5) נתון כי A, B מטריצות ריבועיות מסדר $n > 1$.
הוכח או הפרך:

א. אם $\text{rank}(A) = \text{rank}(AB)$, אז בהכרח B הפיכה.

ב. ייתכן ש- $\text{rank}(A) < \text{rank}(AB)$.

ג. אם $\text{rank}(A) > \text{rank}(B)$, אז $\text{rank}(AB) > \text{rank}(B)$.

$$(6) \text{ נתון } A = \begin{pmatrix} 1 & -2 & 3 \\ 0 & 0 & -1 \\ 0 & 0 & 4 \end{pmatrix}, B = \begin{pmatrix} 1 & 2 & 3 \\ 0 & 4 & 5 \\ 0 & 0 & 1 \end{pmatrix}$$

א. חשב את $\text{rank}(A)$, $\text{rank}(B)$.

ב. חשב את $\text{rank}(B^{10}A^{14})$.

(7) נניח כי A, B שתי מטריצות ריבועיות מסדר n .

$$\text{הוכיחו כי } \text{rank} \begin{pmatrix} A & A \\ A & B \end{pmatrix} \leq 2\text{rank}(A) + \text{rank}(B)$$

(8) תהי $A_{8 \times 7}$ מטריצה, כך ש- $\text{rank}(A) = 3$.

הוכח כי קיימות 3 מטריצות A_1, A_2, A_3 , שלכל אחת מהן דרגה 1,

$$\text{כך ש-} A = A_1 + A_2 + A_3.$$

הראו כי לא ניתן לקבל זאת עם פחות מ-3 מטריצות.

הכלילו את תוצאת התרגיל למטריצה מסדר $m \times n$ שדרגתה k .

(9) נתונות שתי מטריצות $A_{3 \times 5}$, $B_{5 \times 3}$.

הוכח או הפרך את הטענות הבאות:

$$\text{א. } \text{rank}(AB) = \text{rank}(BA)$$

$$\text{ב. } \text{rank}(AB) \neq \text{rank}(BA)$$

ג. המטריצה BA לא הפיכה.

תשובות סופיות

- (1) הוכחה.
- (2) הוכחה.
- (3) אם $k=1$, אז $\text{rank}(A)=2$. אם $k=4, k=10$, אז $\text{rank}(A)=3$.
- אם $\text{rank}(A)=4$ $k \neq 1, 4, 10$.
- (4) א. הטענה אינה נכונה. ב. הטענה נכונה.
- (5) א. הטענה אינה נכונה. ב. הטענה אינה נכונה. ג. הטענה אינה נכונה.
- (6) א. $\text{rank}(A)=2$, $\text{rank}(B)=3$. ב. $\text{rank}(B^{10}A^{14})=2$.
- (7) הוכחה.
- (8) הוכחה.
- (9) הוכחה.

בחזרה למערכת משוואות ליניארית

שאלות

(1) בסעיפים הבאים מצא מטריצות A , ו- \underline{x} , ו- \underline{b} , המבטאות את מערכת המשוואות הנתונה ע"י המשוואה היחידה $A\underline{x} = \underline{b}$:

$$2x - 3y + z + t = 1$$

$$4x + y + 2z = 4$$

$$y + z + t = 1$$

$$x - 4z - 2y = 10$$

$$2x + y - z = 3$$

$$x + 2y - 4z = 5$$

$$6x + 4y + z = 2$$

בשאלות 2-6 נתון כי: $A = \begin{pmatrix} 4 & -2 & 4 \\ 1 & -1 & 1 \\ 1 & -6 & 3 \end{pmatrix}$, $\underline{x} = \begin{pmatrix} x \\ y \\ z \end{pmatrix}$, $\underline{b} = \begin{pmatrix} 1 \\ 2 \\ 3 \end{pmatrix}$

בטא כל אחת מהמשוואות בשאלות אלה כמערכת משוואות ליניאריות:

$$A\underline{x} = -k\underline{x} + \underline{b} \quad (4)$$

$$A\underline{x} = 4\underline{x} + \underline{b} \quad (3)$$

$$A\underline{x} = \underline{b} \quad (2)$$

$$A^T \underline{x} = 2\underline{x} + 3\underline{b} \quad (6)$$

$$A\underline{x} = \underline{x} \quad (5)$$

(7) פתור את מערכת המשוואות הבאה,

$$2x - y + z = 3$$

בעזרת המטריצה ההפוכה: $3x - 2y + 2z = 5$.

$$5x - 3y + 4z = 11$$

(8) פתור את מערכת המשוואות הבאה,

$$x + 4y + 2z + 4t = 1$$

$$x + 2y - z = 0$$

בעזרת המטריצה ההפוכה:

$$y + z + t = 1$$

$$x + 3y - z - 2t = 0$$

(9) למערכת משוואות מסוימת יש את שני הפתרונות הבאים:

$$(x, y, z) = (2, -8, 4), \quad (x, y, z) = (-1, 4, -2)$$

הוכח שהמערכת חייבת להיות הומוגנית.

10 למערכת משוואות לא הומוגנית יש את שני הפתרונות הבאים :
 $(x, y, z) = (2, 3, 4)$, $(x, y, z) = (-1, 4, -2)$
 מצא פתרון לא טריוויאלי כלשהו של המערכת ההומוגנית המתאימה.

$$\begin{cases} x + y - z = 1 \\ 3x - 7y + (k^2 + 1)z = k^2 - 1 \\ 4x - 6y + (k + 2)z = 4 \end{cases} \quad \text{11 נתונה המערכת :}$$

מצא עבור אילו ערכים של הקבוע k , למערכת :
 א. פתרון יחיד. ב. אין פתרון. ג. אינסוף פתרונות.

* בפתרון השתמש במושג 'דרגה של מטריצה'.

$$\text{12 נתון } A = \begin{pmatrix} 1 & 1 & 2 & 3 \\ 2 & 0 & 1 & 2 \\ 5 & 8 & 4 & 2 \\ 0 & -5 & 3 & k \end{pmatrix}, b = \begin{pmatrix} 1 \\ 2 \\ 0 \\ m \end{pmatrix}$$

ידוע כי $\text{rank}(A) = 3$, וידוע כי למערכת $Ax = b$ יש פתרון.
 מצאו את הקבועים k, m .

13 נתונה מטריצה ריבועית A , המקיימת את התכונה הבאה :
 סכום האיברים בכל שורה של המטריצה A שווה 0.
 הוכח ש- A מטריצה לא הפיכה.

14 נתונה מטריצה ריבועית הפיכה A , המקיימת את התכונה הבאה :
 סכום האיברים בכל שורה של המטריצה A שווה k .
 הוכח שסכום האיברים בכל שורה של המטריצה הוא קבוע.
 בטא קבוע זה בעזרת k .

$$\text{15 מטריצה } A \text{ מקיימת : } A \begin{pmatrix} 1 & 2 & 3 \\ 4 & 5 & 6 \\ 7 & 8 & 9 \end{pmatrix} = 0$$

הוכיחו כי הווקטור $\begin{pmatrix} 6 \\ 15 \\ 24 \end{pmatrix}$ הוא פתרון של המערכת ההומוגנית $Ax = 0$.

- 16** יהיו A, B מטריצות ממשיות מסדר $n \times n$. עבור כל אחת מהטענות הבאות קבע האם היא נכונה או לא.
- א. אם למערכת $(AB)x = 0$ קיימים שני פתרונות שונים, אז בהכרח A לא הפיכה.
- ב. אם קיים פתרון שונה מ-0 למערכת $(AB)x = 0$, אז למערכת $(BA)x = 0$ קיים פתרון שונה מ-0.
- ג. אם למערכת $Ax = 0$ קיים פתרון יחיד, אז ייתכן ש- $A^2 = 0$.
- ד. אם למערכת $(A^t A)x = 0$ קיים פתרון יחיד, אז A לא הפיכה.
- ה. אם קיים פתרון שונה מ-0 למערכת ההומוגנית $(AB)x = 0$, אז למערכת ההומוגנית $Ax = 0$ קיים פתרון שונה מ-0.

- 17** נתונה מערכת משוואות מעל \mathbb{R} : $Ax = d$ ($d \neq 0$). נתון כי A מטריצה ריבועית מסדר 4, המקיימת $\text{rank}(A) = 2$. ידוע כי הווקטורים הבאים פותרים את המערכת הנתונה:
- $$u = (x_1, x_2, 6, 7), \quad v = (y_1, y_2, 1, 2), \quad w = (z_1, z_2, 4, 3)$$
- מי מבין הבאים הוא הפתרון הכללי של המערכת הנתונה:
- א. $x = au + bv + cw$
- ב. $x = (a + b + 1)u - av - bw$
- ג. $x = au + bv + w$
- ד. $x = (a - b)u + (b - c)v + (c - a)w$
- ה. $x = (a + b)u - (av + bw + u)$, כאשר $a, b, c \in \mathbb{R}$.

הערה: בחלקו האחרון של פתרון תרגיל זה נדרש הידע הבא מהפרק מרחבים וקטורים:

בהינתן מערכת הומוגנית $Ax = 0$:

- אוסף כל הפתרונות של המערכת נקרא מרחב הפתרונות של המערכת.
- מספר המשתנים החופשיים במערכת לאחר דירוג נקרא המימד של מרחב הפתרונות. בכל אופן, מומלץ לחזור לתרגיל זה אחרי שתעברו על הפרק מרחבים וקטורים.

תשובות סופיות

$$A = \begin{pmatrix} 2 & 1 & -1 \\ 1 & 2 & -4 \\ 4 & 4 & 1 \end{pmatrix} \quad \underline{x} = \begin{pmatrix} x \\ y \\ z \end{pmatrix} \quad \underline{b} = \begin{pmatrix} 3 \\ 5 \\ 2 \end{pmatrix} \quad \text{א. (1)}$$

$$A = \begin{pmatrix} 2 & -3 & 1 & 1 \\ 4 & 1 & 2 & 0 \\ 0 & 1 & 1 & 1 \\ 1 & -2 & -4 & 0 \end{pmatrix} \quad \underline{x} = \begin{pmatrix} x \\ y \\ z \\ t \end{pmatrix} \quad \underline{b} = \begin{pmatrix} 1 \\ 4 \\ 1 \\ 10 \end{pmatrix} \quad \text{ב.}$$

$$4x - 2y + 4z = 1$$

$$x - y + z = 2 \quad \text{(2)}$$

$$x - 6y + 3z = 3$$

$$-2y + 4z = 1$$

$$x - 5y + z = 2 \quad \text{(3)}$$

$$x - 6y - z = 3$$

$$(4+k)x - 2y + 4z = 1$$

$$x + (k-1)y + z = 2 \quad \text{(4)}$$

$$x - 6y + (3+k)z = 3$$

$$3x - 2y + 4z = 0$$

$$x - 2y + z = 0 \quad \text{(5)}$$

$$x - 6y + 2z = 0$$

$$2x + y + z = 3$$

$$-2x - 3y - 6z = 6 \quad \text{(6)}$$

$$4x + y + z = 9$$

$$(x, y, z) = (1, 2, 3) \quad \text{(7)}$$

$$(x, y, z, t) = (-13, 4, -5, 2) \quad \text{(8)}$$

הוכחה. (9)

$$\begin{pmatrix} x \\ y \\ z \end{pmatrix} = \begin{pmatrix} -3 \\ 1 \\ -6 \end{pmatrix} \quad \text{(10)}$$

(11) אם $k \neq 2$ או $k \neq -1$, אז יש פתרון אחד.

אם $k = 2$, אז יש אינסוף פתרונות.

אם $k = -1$, אז אין פתרונות.

$$m = 5, k = 9 \quad \text{(12)}$$

הוכחה. (13)

14) סכום האיברים בכל שורה של A^{-1} הוא קבוע השווה ל- $\frac{1}{k}$.

15) הוכחה.

16) הוכחה.

17) הוכחה.

רגרסיה לינארית

שאלות

1) בטבלה הבאה הביקוש של מוצר מסוים ביחס למחיר שלו בתקופה של חודש :

$price(x)$	$Demand / sales(y)$
49	124
69	95
89	71
99	45
109	18

- מצא את ישר הרגרסיה של הבעיה.
- בעזרת ישר זה נבא את הביקוש אם המחיר הוא \$54.
- מה משמעות השיפוע של ישר הרגרסיה?
- מצא את סכום ריבועי השגיאות בחישוב הנ"ל (SSE).

הערה: הנח שהביקוש הוא ביחידות מוצר והמחיר הוא בדולרים.

תשובות סופיות

- $f(x) = -1.7x + 211$
 - הביקוש הוא 119.2 יחידות מוצר.
 - העלאת מחיר המוצר ב-\$1 תביא לירידה במכירות של 1.7 יחידות מוצר בחודש.
 - $SSE = 207.65$

מתמטיקה לביולוגים חד חוגי מורחב

פרק 21 - דטרמיננטות

תוכן העניינים

208	1. חישוב דטרמיננטות
216	2. כלל קרמר ופתרון מערכת משוואות

דטרמיננטות

שאלות

בשאלות 1-5 חשב את הדטרמיננטה על ידי הורדת סדר (פיתוח לפי שורה/עמודה):

$$(1) \quad \text{א.} \begin{vmatrix} a & b \\ c & d \end{vmatrix} \quad \text{ב.} \begin{vmatrix} 5 & 2 \\ -7 & 3 \end{vmatrix} \quad \text{ג.} \begin{vmatrix} 4 & -1.5 \\ 2 & -1 \end{vmatrix}$$

$$(2) \quad \text{א.} \begin{vmatrix} 1 & 0 & 2 \\ 4 & 1 & 8 \\ 2 & 0 & 3 \end{vmatrix} \quad \text{ב.} \begin{vmatrix} 2 & 1 & 1 \\ 0 & 2 & -1 \\ 1 & 0 & 0 \end{vmatrix} \quad \text{ג.} \begin{vmatrix} 2 & 1 & 1 \\ 3 & -2 & 5 \\ 0 & 2 & 0 \end{vmatrix}$$

$$(3) \quad \text{א.} \begin{vmatrix} 1 & 0 & 0 & 0 \\ 1 & 2 & 0 & 0 \\ 1 & 2 & 3 & 0 \\ 1 & 2 & 3 & 4 \end{vmatrix} \quad \text{ב.} \begin{vmatrix} 1 & 0 & 2 & 5 \\ -2 & 0 & -6 & 0 \\ 5 & 3 & -7 & 4 \\ 2 & 0 & 5 & 44 \end{vmatrix} \quad \text{ג.} \begin{vmatrix} 4 & 0 & 0 & 5 \\ 1 & 7 & 2 & 4 \\ 4 & 0 & 0 & 0 \\ 1 & 4 & -1 & 1 \end{vmatrix}$$

$$(4) \quad \begin{vmatrix} 1 & 9 & 8 & 3 & 4 \\ 3 & 0 & -5 & 0 & 2 \\ 2 & -4 & 1 & 0 & 3 \\ 4 & 1 & 7 & 0 & 2 \\ 0 & 0 & 1 & 0 & 0 \end{vmatrix}$$

$$(5) \quad \begin{vmatrix} 4 & 0 & 7 & 5 & 0 \\ 0 & 0 & 3 & 0 & 0 \\ -7 & 2 & 1 & 5 & 9 \\ 3 & 0 & 4 & 2 & -1 \\ -5 & 0 & -8 & -3 & 2 \end{vmatrix}$$

בשאלות 6-7 חשב את הדטרמיננטה של המטריצות על ידי דירוג.

$$(6) \quad \text{א.} \begin{vmatrix} 1 & 3 & 0 & 2 \\ -2 & -5 & 7 & 4 \\ 3 & 5 & 2 & 1 \\ 2 & 2 & 2 & -1 \end{vmatrix} \quad \text{ב.} \begin{vmatrix} 1 & 3 & 3 & -4 \\ 0 & 1 & 2 & -5 \\ 2 & 5 & 4 & -3 \\ -1 & -2 & -1 & -1 \end{vmatrix} \quad \text{ג.} \begin{vmatrix} 1 & -1 & -3 & 0 \\ 1 & 0 & 2 & 4 \\ -1 & 2 & 8 & 5 \\ 3 & -1 & -2 & 3 \end{vmatrix}$$

$$\begin{vmatrix} 1 & 2 & -1 & 0 & -2 \\ 3 & 4 & -5 & -1 & -8 \\ 0 & 0 & 2 & 3 & 9 \\ 0 & 0 & -3 & 1 & 0 \\ 0 & 0 & 5 & 2 & 7 \end{vmatrix} \text{ ב.}$$

$$\begin{vmatrix} 1 & 3 & -1 & 0 & -2 \\ 1 & 5 & -5 & -1 & -8 \\ -2 & -6 & 2 & 3 & 9 \\ 3 & 7 & -3 & 8 & -7 \\ 3 & 5 & 5 & 2 & 7 \end{vmatrix} \text{ א. (7)}$$

$$\begin{vmatrix} 1 & 3 & -1 & 0 & -2 \\ 1 & 5 & -5 & -1 & -8 \\ 0 & 0 & 2 & 3 & 9 \\ 0 & 0 & 0 & 4 & 1 \\ 0 & 0 & 0 & 2 & 7 \end{vmatrix} \text{ ג.}$$

בשאלות 8-10 חשב את הדטרמיננטה על ידי שילוב של הורדת סדר ודירוג:

$$\begin{vmatrix} 2 & 5 & -3 & -1 \\ 3 & 0 & 1 & -3 \\ -6 & 0 & -4 & 9 \\ 6 & 15 & -7 & -2 \end{vmatrix} \text{ (8)}$$

$$\begin{vmatrix} -1 & 2 & 3 & 0 \\ 3 & 4 & 3 & 0 \\ 5 & 4 & 6 & 6 \\ 3 & 4 & 7 & 3 \end{vmatrix} \text{ (9)}$$

$$\begin{vmatrix} 2 & 5 & 4 & 1 \\ 6 & 12 & 10 & 3 \\ 6 & -2 & -4 & 0 \\ -6 & 7 & 7 & 0 \end{vmatrix} \text{ (10)}$$

בשאלות 11-12 הראה, ללא חישוב, שהדטרמיננטה של המטריצות שווה אפס:

$$\begin{vmatrix} 12 & 15 & 18 \\ 13 & 16 & 19 \\ 14 & 17 & 20 \end{vmatrix} \text{ ג.}$$

$$\begin{vmatrix} 1 & 2 & 3 \\ 4 & 5 & 6 \\ 5 & 7 & 9 \end{vmatrix} \text{ ב.}$$

$$\begin{vmatrix} 1 & 0 & 2 \\ 7 & 0 & 12 \\ 3 & 0 & 2 \end{vmatrix} \text{ א. (11)}$$

$$\begin{vmatrix} a & a+x & a+y \\ b & b+x & b+y \\ c & c+x & c+y \end{vmatrix} \cdot \text{ב.} \quad \begin{vmatrix} y+z & z+x & y+x \\ x & y & z \\ 1 & 1 & 1 \end{vmatrix} \cdot \text{א. (12)}$$

$$\begin{vmatrix} 3 & -1 & 4 & 5 & 0 & 1 & -12 \\ -14 & 4 & 1 & -4 & 1 & 8 & 4 \\ 3 & 5 & -2 & 0 & -4 & 1 & -3 \\ -4 & 2 & 1 & 1 & 0 & 6 & -6 \\ -21 & 2 & 3 & 4 & 5 & 6 & 1 \\ 2 & -5 & 7 & -4 & 2.5 & -1 & -1.5 \\ -11 & 2 & -6 & 9 & -1 & 3 & 4 \end{vmatrix} \cdot \text{ד.} \quad \begin{vmatrix} \sin^2 x & \cos^2 x & 1 \\ \sin^2 y & \cos^2 y & 1 \\ \sin^2 z & \cos^2 1 & 1 \end{vmatrix} \cdot \text{ג.}$$

$$\begin{vmatrix} a & b & c \\ d & e & f \\ g & h & i \end{vmatrix} = 4 \quad \text{בשאלות 13-15 נתון כי:}$$

חשב:

$$\begin{vmatrix} a & g+d & 2d \\ b & h+e & 2e \\ c & i+f & 2f \end{vmatrix} \quad (13)$$

$$\begin{vmatrix} 2a-3d & 2d & g+4a \\ 2b-3e & 2e & h+4b \\ 2c-3f & 2f & i+4c \end{vmatrix} \quad (14)$$

$$\begin{vmatrix} 0 & g+3d & 3a & a+3d \\ 0 & h+3e & 3b & b+3e \\ 0 & i+3f & 3c & c+3f \\ 1 & 0 & 0 & 0 \end{vmatrix} \quad (15)$$

$$\begin{vmatrix} 1 & a & a^2 \\ 1 & b & b^2 \\ 1 & c & c^2 \end{vmatrix} = (b-a)(c-a)(c-b) \quad \text{(16) הוכח כי:}$$

$$\begin{vmatrix} 1 & x & x^2 & x^3 \\ 1 & y & y^2 & y^3 \\ 1 & z & z^2 & z^3 \\ 1 & t & t^2 & t^3 \end{vmatrix} = (y-x)(z-x)(t-x)(z-y)(t-y)(t-z) : \text{הוכח כי: (17)}$$

$$\text{.det} \begin{vmatrix} 1 & 1 & 1 & 1 & k \\ 1 & 1 & 1 & k & 1 \\ 1 & 1 & k & 1 & 1 \\ 1 & k & 1 & 1 & 1 \\ k & 1 & 1 & 1 & 1 \end{vmatrix} : \text{חשב: (18)}$$

בכל אחת מהשאלות 19-25, נתונה מטריצה ריבועית מסדר n .
חשב את הדטרמיננטה של המטריצה הנתונה:

$$a_{ij} = \begin{cases} 1 & i = j = 1 \\ 0 & i = j \neq 1 \\ j & i < j \\ -j & i > j \end{cases} \quad (19)$$

$$a_{ij} = \begin{cases} j & i = j + 1 \\ n & i = 1, j = n \\ 0 & \text{else} \end{cases} \quad (20)$$

$$a_{ij} = \begin{cases} 1 & i + j = n + 1 \\ 0 & \text{else} \end{cases} \quad (21)$$

$$a_{ij} = \begin{cases} a & i = j \\ b & \text{else} \end{cases} \quad (22)$$

$$\begin{pmatrix} 1 & 1 & 1 & \dots & 1 \\ 1 & 2 & 2 & \dots & 2 \\ 1 & 2 & 3 & \dots & 3 \\ \vdots & \vdots & \vdots & \ddots & \vdots \\ 1 & 2 & 3 & \dots & n \end{pmatrix} \quad (23)$$

$$(24) \begin{pmatrix} 1 & 1 & 1 & \dots & 1 \\ 1 & 3 & 3 & \dots & 3 \\ 1 & 3 & 6 & \dots & 6 \\ \vdots & \vdots & \vdots & \ddots & \vdots \\ 1 & 3 & 6 & \dots & 3(n-1) \end{pmatrix}$$

$$(25) a_{ij} = \begin{cases} a & i = j \\ b & i = j+1 \\ c & j = i+1 \\ 0 & \text{else} \end{cases}$$

* בשאלה 25:

1. מצא נוסחת נסיגה עבור הדטרמיננטה.
2. הנח כי $a=3$, $b=1$, $c=2$, ומצא:
 - א. ביטוי סגור עבור הדטרמיננטה.
 - ב. את הדטרמיננטה, כאשר $n=20$.

$$(26) \text{חשב: } \begin{vmatrix} a & b & c & d & e \\ f & g & h & i & j \\ k & l & m & n & o \\ p & q & r & s & t \\ 2a+1 & -2b & 1 & x & y \end{vmatrix} + \begin{vmatrix} a & b & c & d & e \\ f & g & h & i & j \\ k & l & m & n & o \\ p & q & r & s & t \\ -a-1 & 3b & c-1 & d-x & e-y \end{vmatrix}$$

בשאלות 27-28 נתון כי A ו- B מטריצות מסדר 3, $|A|=4$, $|B|=2$.
חשב:

$$(27) \text{א. } |ABA^{-1}B^T| \quad \text{ב. } |4A^2B^3|$$

$$(28) \text{א. } |-A^{-2}B^T A^3| \quad \text{ב. } |-2A^2 A^T \text{adj}B|$$

(29) נתון: $(PQ)^{-1}APQ = B$.

הוכח: $|A|=|B|$.

(30) נתון: A ו- B מטריצות הפיכות מסדר 4, כך ש- $2AB+3I=0$, $|A|=2$.
חשב את $|B|$.

(31) נתון: A ו- B מטריצות הפיכות מסדר 3, כך ש- $A + 3B = 0$, $B^2 - 2A^{-1} = 0$.
 חשב את $|A|$, $|B|$.

(32) הוכח: 1. $|A^{-1}| = \frac{1}{|A|}$. 2. $|\text{adj}(A_{n \times n})| = |A|^{n-1}$.

(33) נתון כי A מטריצה אנטי-סימטרית מסדר אי-זוגי.
 הוכח ש- $|A| = 0$.

(34) נתון: A מטריצה מסדר n , $|A| = 128$, $2AB = B^T A^2$, ו- B הפיכה.
 מצא את n .

(35) נתון: $\det(A_{n \times n}) = 2$, $\det(B_{n \times n}) = \frac{1}{3}$.

חשב: $\det\left(\frac{1}{3}B^{-n}A^{2n}\right)$.

תשובות סופיות

- (1) א. $ad - bc$ ב. 29 ג. -1
- (2) א. -1 ב. -3 ג. -14
- (3) א. 24 ב. 234 ג. -300
- (4) 9
- (5) 6
- (6) א. 0 ב. 0 ג. 3
- (7) א. 24 ב. 44 ג. 104
- (8) 120
- (9) 114
- (10) 6
- (11) פתרונות באתר: www.GooL.co.il
- (12) פתרונות באתר.
- (13) -8
- (14) 16
- (15) 9
- (16) הוכחה.
- (17) הוכחה.
- (18) $(k-1)^4(k+4)$
- (19) $n!$
- (20) $(-1)^{n-1}n!$
- (21) $(-1)^{\frac{n(3n+1)}{2}}$
- (22) $(a-b)^{n-1}[a+(n-1)b]$
- (23) 1
- (24) $2 \cdot 3^{n-2}$
- (25) 1. $D_n = aD_{n-1} - bcD_{n-2}$, $D_2 = a^2 - bc$, $D_3 = a^3 - 2abc$
- א. $D_n = 2^{n+1} - 1$ ב. $D_{20} = 2^{21} - 1$
- (26) 0
- (27) א. 4 ב. 2^{13}
- (28) א. -8 ב. -2^{11}
- (29) הוכחה.

$$\frac{81}{32} \quad (30)$$

$$|A|=18, |B|=-2/3 \quad (31)$$

(32) הוכחה.

(33) הוכחה.

$$7 \quad (34)$$

$$4^n \quad (35)$$

כלל קרמר

שאלות

בשאלות 1-3 פתור את מערכות המשוואות בעזרת כלל קרמר:

$$\begin{array}{l} x+2z+5t=8 \\ -2x-6y=-8 \\ 5x+3y-7z+4t=5 \\ 2x+5y+44z=51 \end{array} \quad (3) \quad \begin{array}{l} x+z=3 \\ 4x+y+8z=21 \\ 2x+3z=8 \end{array} \quad (2) \quad \begin{array}{l} x+2y=5 \\ 3x+4y=11 \end{array} \quad (1)$$

$$kx+y+z+t+r=1$$

$$x+ky+z+t+r=1$$

(4) נתונה מערכת המשוואות: $x+y+kz+t+r=1$.

$$x+y+z+kt+r=1$$

$$,x+y+z+t+kr=1$$

א. עבור איזה ערך של k למערכת פתרון יחיד?

ב. עבור איזה ערך של k למערכת פתרון יחיד שבו $x = \frac{1}{2}$?

ג. האם קיים k עבורו למערכת פתרון יחיד שבו $x = \frac{1}{5}$?

ד. הוכח שאם למערכת פתרון יחיד, אז בהכרח מתקיים $x=y=z=t=r$.

(5) יהיו A, B מטריצות ממשיות מסדר $n \times n$.

עבור כל אחת מהטענות הבאות קבע האם היא נכונה או לא.

א. אם למערכת ההומוגנית $Ax=0$ קיים פתרון יחיד, אז ייתכן ש- $A^2=0$.

ב. אם למערכת ההומוגנית $(A^t A)x=0$ קיים פתרון יחיד, אז $|A|=0$.

ג. אם למערכת ההומוגנית $(AB)x=0$ קיים פתרון יחיד, אז ייתכן ש- $|A|=0$.

תשובות סופיות

(1) $x=1, y=2$

(2) $x=1, y=1, z=2$

(3) $x=y=z=t=1$

(4) א. $k \neq 1, k \neq -4$ ב. $k = -2$ ג. לא ד. הוכחה.

(5) א. לא נכונה. ב. לא נכונה. ג. לא נכונה.

מתמטיקה לביולוגים חד חוגי מורחב

פרק 22 - מרחבים וקטורים

תוכן העניינים

1. מרחבים ותת-מרחבים 217
2. צירופים ליניאריים, פרישה ליניארית ותלות ליניארית 221

מרחבים ותת-מרחבים

סימון

- R^n - המרחב הווקטורי של כל הווקטורים הממשיים ממימד n מעל השדה הממשי R .
- $M_n[R]$ - המרחב הווקטורי של כל המטריצות הריבועיות מסדר n מעל השדה הממשי R .
- $P_n[R]$ - המרחב הווקטורי של כל הפולינומים ממעלה קטנה או שווה ל- n מעל השדה R .
- $F[R]$ - המרחב הווקטורי של כל הפונקציות הממשיות ($f: R \rightarrow R$) מעל השדה R .

שאלות

בשאלות 1-7 בדוק האם W תת-מרחב של R^3 :

$$W = \{(a, b, c) \mid a + b + c = 0\} \quad (1)$$

$$W = \{(a, b, c) \mid a = c\} \quad (2)$$

$$W = \{(a, b, c) \mid a = 3b\} \quad (3)$$

$$W = \{(a, b, c) \mid a < b < c\} \quad (4)$$

$$W = \{(a, b, c) \mid a = c^2\} \quad (5)$$

$$W = \{(a, b, c) \mid c - b = b - a\} \quad (6)$$

כלומר, a, b ו- c מהווים סדרה חשבונית.

$$W = \{(a, b, c) \mid b = a \cdot q, c = a \cdot q^2\} \quad (7)$$

כלומר, a, b ו- c מהווים סדרה הנדסית.

בשאלות 8-15 בדוק האם W תת-מרחב של $M_n[R]$:

(8) W מורכב מן המטריצות הסימטריות. כלומר, $W = \{A \mid A = A^T\}$.

(9) W מורכב מכל המטריצות המתחלפות בכפל עם מטריצה נתונה B . כלומר, $W = \{A \mid AB = BA\}$.

(10) W מורכב מכל המטריצות שהדטרמיננטה שלהן אפס. כלומר, $W = \{A \mid |A| = 0\}$.

(11) W מורכב מכל המטריצות ששוות לריבוע שלהן. כלומר, $W = \{A \mid A^2 = A\}$.

(12) W מורכב מכל המטריצות שהן משולשות עליונות.

(13) W מורכב מכל המטריצות שמכפלתן במטריצה נתונה B הוא אפס. כלומר, $W = \{A \mid AB = 0\}$.

(14) W מורכב מכל המטריצות שהעקבה שלהן אפס. כלומר, $W = \{A \mid \text{tr}(A) = 0\}$.

(15) W מורכב מכל המטריצות שבהן סכום כל שורה הוא אפס.

בשאלות 16-21 בדוק האם W הוא תת-מרחב של $P_n[R]$:

(16) W מורכב מכל הפולינומים בעלי 4 כשורש. כלומר, $W = \{p(x) \mid p(4) = 0\}$.

(17) W מורכב מכל הפולינומים בעלי מקדמים שלמים.

(18) W מורכב מכל הפולינומים בעלי מעלה ≥ 4 . כלומר, $W = \{p(x) \mid \deg(p) \leq 4\}$.

(19) W מורכב מכל הפולינומים בעלי חזקות זוגיות בלבד של x .

(20) W מורכב מכל הפולינומים ממעלה n , כאשר $4 \leq n \leq 7$.

(21) $W = \{p(x) \mid p(0) = 1\}$

בשאלות 22-30 בדוק האם W הוא תת-מרחב של $F[R]$:

(22) W מורכב מכל הפונקציות הזוגיות.
 כלומר, לכל x ממשי $W = \{f(x) \mid f(-x) = f(x)\}$.

(23) W מורכב מכל הפונקציות החסומות.
 כלומר, לכל x ממשי $W = \{f(x) \mid |f(x)| \leq M\}$.

(24) W מורכב מכל הפונקציות הרציפות.

(25) W מורכב מכל הפונקציות הגזירות.

(26) W מורכב מכל הפונקציות הקבועות.

(27) $W = \left\{ f(x) \mid \int_0^1 f(x) dx = 4 \right\}$ (הנח ש- f אינטגרבילית ב- $[0,1]$).

(28) $W = \{f(x) \mid f'(x) = 0\}$ (הנח ש- f גזירה לכל x).

(29) $W = \{f(x) \mid f'(x) = 1\}$ (הנח ש- f גזירה לכל x).

(30) $W = \{f(x) \mid f(x) = f(x+1)\}$

(31) בדוק האם $W = \{(z_1, z_2, z_3) \mid z_2 = \bar{z}_1, z_3 = z_1 + \bar{z}_1\}$ הוא תת-מרחב של C^3 :

א. מעל השדה הממשי \mathbb{R} .

ב. מעל שדה המרוכבים \mathbb{C} .

(32) נתונה המטריצה $A = \begin{pmatrix} 0 & 0 & 0 & 1 & 1 \\ 0 & 0 & 0 & -1 & 3 \\ 0 & 0 & 0 & 1 & -1 \\ 1 & -1 & 1 & -1 & -1 \\ 1 & 3 & -1 & 1 & 1 \end{pmatrix}$

א. מצא וקטור b , כך שלמערכת $Ax = b$ אין פתרון.

ב. מהי קבוצת כל הווקטורים b , כך שלמערכת $Ax = b$ אין פתרון?

ג. האם הקבוצה מסעיף ב' מהווה תת-מרחב של R^5 ?

- (33)** יהי V מרחב הפולינומים ממעלה קטנה או שווה ל-4, מעל שדה F .
 א. מצאו תנאי על k , עבורו הקבוצה $W = \{p \in V \mid p(0) = p(1) = p(2) = k\}$,
 הינה תת-מרחב של V .
 ב. מצאו קבוצה סופית של פולינומים מ- V , שפורשים את W .

הערה: לפתרון סעיף זה עבור קודם על הנושא 'בסיס ומימד למרחב הפתרונות של מערכת משוואות הומוגנית'.

תשובות סופיות

- | | | | | | | | | | |
|------|------------------------------------|--|----|------|----|------|----|------|----|
| (1) | כן | (2) | כן | (3) | כן | (4) | לא | (5) | לא |
| (6) | כן | (7) | לא | (8) | כן | (9) | כן | (10) | לא |
| (11) | לא | (12) | כן | (13) | כן | (14) | כן | (15) | כן |
| (16) | כן | (17) | לא | (18) | כן | (19) | כן | (20) | לא |
| (21) | לא | (22) | כן | (23) | כן | (24) | כן | (25) | כן |
| (26) | כן | (27) | לא | (28) | כן | (29) | לא | (30) | כן |
| (31) | א. כן
ב. לא | | | | | | | | |
| (32) | א. $u = (1, 0, 0, 0, 0)$
ג. לא. | ב. $B = \{(b_1, b_2, b_3, b_4, b_5) \mid -b_1 + b_2 + 2b_3 \neq 0\}$ | | | | | | | |
| (33) | א. $k = 0$ | ב. $W = \text{span}\{2x - 3x^2 + x^3, 6x - 7x^2 + x^4\}$ | | | | | | | |

צירופים לינאריים, פרישה לינארית ותלות לינארית

שאלות

בשאלות 1-7 נתונים הווקטורים הבאים :

$$u_1 = (4, 1, 1, 5), \quad u_2 = (0, 11, -5, 3), \quad u_3 = (2, -5, 3, 1), \quad u_4 = (1, 3, -1, 2)$$

- (1) א. האם u_1 הוא צירוף לינארי של u_4 ?
 ב. האם u_1 שייך ל- $Sp\{u_4\}$?
 ג. האם הקבוצה $\{u_1, u_4\}$ תלויה לינארית?
- (2) א. האם u_3 הוא צירוף לינארי של u_1 ו- u_2 ?
 ב. האם u_3 שייך ל- $Sp\{u_1, u_2\}$?
 ג. האם הקבוצה $\{u_1, u_2, u_3\}$ תלויה לינארית?
 במידה וכן, רשום כל וקטור בקבוצה כצירוף לינארי של הווקטורים האחרים.
- (3) א. האם u_4 הוא צירוף לינארי של u_1 ו- u_2 ?
 ב. האם u_4 שייך ל- $Sp\{u_1, u_2\}$?
 ג. האם הקבוצה $\{u_1, u_2, u_4\}$ תלויה לינארית?
 במידה וכן, רשום כל וקטור בקבוצה כצירוף לינארי של הווקטורים האחרים.
- (4) נתון $v = (4, 12, k, -2k)$.
 א. מה צריך להיות ערכו של k , על מנת שהווקטור v יהיה צירוף לינארי של u_1 ו- u_2 ?
 ב. מה צריך להיות ערכו של k , על מנת שהווקטור v יהיה שייך ל- $Sp\{u_1, u_2\}$?
 ג. מה צריך להיות ערכו של k , על מנת שהקבוצה $\{u_1, u_2, v\}$ תהיה תלויה לינארית?
- (5) נתון $v = (a, b, c, d)$.
 א. מה התנאים על a, b, c, d , על מנת שהווקטור v יהיה צירוף לינארי של u_1 ו- u_2 ?
 ב. מה התנאים על a, b, c, d , על מנת שהווקטור v יהיה שייך ל- $Sp\{u_1, u_2\}$?
 ג. מה התנאים על a, b, c, d , על מנת שהקבוצה $\{u_1, u_2, v\}$ תהיה תלויה לינארית?

(6) הבע את הווקטור $v = (10, 8, 0, 14)$ כצירוף לינארי של u_1, u_2 ו- u_3 .
 בכמה אופנים ניתן לעשות זאת?

(7) הבע את הווקטור $v = (7, 10, -2, 11)$ כצירוף לינארי של u_1, u_2, u_3 ו- u_4 .
 בכמה אופנים ניתן לעשות זאת?

תשובות סופיות

- (1) א. לא. ב. לא. ג. לא.
- (2) א. כן. ב. כן. ג. כן, $u_2 = u_1 - 2u_3$, $u_1 = 2u_3 + u_2$.
- (3) א. כן. ב. כן. ג. כן, $u_2 = 4u_4 - u_1$, $u_1 = 4u_4 - u_2$.
- (4) א+ב+ג. $k = -4$
- (5) $a = 5t + 3s$, $b = 4t - 13s$, $c = 7s$, $d = 7t$
- (6) אינסוף, $v = 2u_1 + u_2 + u_3$.
- (7) אינסוף, $v = \frac{7}{4}u_1 + \frac{3}{4}u_2$.

מתמטיקה לביולוגים חד חוגי מורחב

פרק 23 - ערכים עצמיים-וקטורים עצמיים-לכסון מטריצות - דימיון

תוכן העניינים

1. ערכים עצמיים וקטורים עצמיים ולכסון מטריצות 223

ערכים עצמיים, וקטורים עצמיים, לכסון

שאלות

עבור כל אחת מהמטריצות בשאלות 1-5 מצא ערכים עצמיים ו-וקטורים עצמיים:

$$A = \begin{pmatrix} 1 & -1 & 4 \\ 3 & 2 & -1 \\ 2 & 1 & -1 \end{pmatrix} \quad (2)$$

$$A = \begin{pmatrix} 4 & -1 & -1 \\ 1 & 2 & -1 \\ 1 & -1 & 2 \end{pmatrix} \quad (1)$$

$$A = \begin{pmatrix} 1 & 1 \\ 4 & 1 \end{pmatrix} \quad (4)$$

$$A = \begin{pmatrix} 1 & 1 & 2 \\ 1 & 2 & 1 \\ 2 & 1 & 1 \end{pmatrix} \quad (3)$$

$$A = \begin{pmatrix} 1 & 1 & -1 \\ -1 & 1 & 1 \\ 1 & -1 & 1 \end{pmatrix} \quad (5)$$

$$A = \begin{pmatrix} k-2 & 2k & k+1 \\ k-1 & -1 & 2 \\ -k & 0 & -6 \end{pmatrix} \quad \text{נתון } (6)$$

לאיזה ערך של הפרמטר k המספר 2 יהיה ערך עצמי של המטריצה A ?

$$A = \begin{pmatrix} a & b & b \\ -1 & 3 & 2 \\ 2 & -8 & -5 \end{pmatrix} \quad \text{נתונה המטריצה הממשית } (7)$$

א. מצאו את ערכי a ו- b , עבורם הערכים העצמיים של A יהיו 1 ו-1 **בלבד**.

ב. עבור ערכי a ו- b שמצאת בסעיף א, קבע האם המטריצה לכסינה.

(8) תהי A מטריצה ממשית ריבועית מסדר 3×3 .

$$\text{ידוע כי הווקטורים העצמיים של המטריצה הם } v_1 = \begin{pmatrix} 0 \\ 0 \\ 1 \end{pmatrix}, v_2 = \begin{pmatrix} 1 \\ 1 \\ 1 \end{pmatrix}, v_3 = \begin{pmatrix} -1 \\ 1 \\ 0 \end{pmatrix}$$

והם מתאימים לערכים העצמיים: $\lambda_1 = 6, \lambda_2 = 2, \lambda_3 = -4$.

מצא את המטריצה A .

9) קבע האם קיימת מטריצה ממשית ריבועית מסדר 3×3 , בעלת וקטורים עצמיים

$$\lambda_1 = 1, \lambda_2 = 2, \lambda_3 = 3 : \text{ המתאימים לערכים העצמיים : } v_1 = \begin{pmatrix} 1 \\ 2 \\ 3 \end{pmatrix}, v_2 = \begin{pmatrix} 4 \\ 5 \\ 6 \end{pmatrix}, v_3 = \begin{pmatrix} 7 \\ 8 \\ 9 \end{pmatrix}$$

במידה וקיימת מטריצה כזאת, מצא אותה.

10) הוכח או הפרך :

א. כל מטריצה הניתנת ללכסון היא הפיכה.

ב. כל מטריצה הניתנת ללכסון היא לא הפיכה.

ג. כל מטריצה הפיכה ניתנת ללכסון.

ד. קיימת מטריצה A אשר הווקטור $\begin{pmatrix} 4 \\ 1 \\ 10 \end{pmatrix}$ הוא ו"ע שלה השייך לע"ע 14.

11) נתונה מטריצה ריבועית A . הוכח או הפרך :

א. 0 ערך עצמי של המטריצה A , אם ורק אם המטריצה איננה הפיכה.

ב. אם A הפיכה ו- λ ע"ע של A , אז $\frac{1}{\lambda}$ הוא ערך עצמי של A^{-1} .

ג. ל- A ול- A^T יש את אותו פולינום אופייני.

ד. ל- A ול- A^T יש את אותם וקטורים עצמיים.

ה. אם סכום האיברים בכל שורה של A הוא λ , אז λ הוא ע"ע של A .

ו. אם $A^{-1} = A^T$ ואם λ הוא ע"ע של A , אז $\lambda = \pm 1$.

ז. אם $A^2 = A$ ואם λ הוא ע"ע של A , אז $\lambda = 0$ או $\lambda = 1$.

תשובות סופיות

(1) ערכים עצמיים: $x_1 = 2, x_{2,3} = 3$

וקטורים עצמיים: $v_{x=3}^{(1)} = (1, 0, 1), v_{x=3}^{(2)} = (1, 1, 0), v_{x=2} = (1, 1, 1)$

(2) $v_{x=-2} = (-1, 1, 1), v_{x=3} = (1, 2, 1), v_{x=1} = (-1, 4, 1), x = 1, x = 3, x = -2$

(3) $v_{x=-1} = (-1, 0, 1), v_{x=4} = (1, 1, 1), v_{x=1} = (1, -2, 1), x = 1, x = 4, x = -1$

(4) $v_{x=3} = (1, 2), v_{x=1} = (-1, 2), x = -1, x = 3$

(5) $v_{x=1+\sqrt{3}i} = (1 - \sqrt{3}i, 1 + \sqrt{3}i, -2), v_{x=1} = (1, 1, 1), x = 1, x = 1 \pm \sqrt{3}i$

$v_{x=1-\sqrt{3}i} = (1 + \sqrt{3}i, 1 - \sqrt{3}i, -2)$

(6) $k_1 = 3, k_2 = -\frac{32}{9}$

(7) א. $a = 3, b = -4$ או $a = 1, b = 0$ ב. לא לשתייהן.

(8) $A = \begin{bmatrix} -1 & 3 & 0 \\ 3 & -1 & 0 \\ -2 & -2 & 6 \end{bmatrix}$

(9) אין כזו מטריצה.

(10) א. הפרכה: $A = \begin{bmatrix} 1 & 0 & 0 \\ 0 & 2 & 0 \\ 0 & 0 & 0 \end{bmatrix}$ ב. $A = \begin{bmatrix} 1 & 0 & 0 \\ 0 & 2 & 0 \\ 0 & 0 & 3 \end{bmatrix}$ ג. $A = \begin{bmatrix} 1 & 1 \\ 0 & 1 \end{bmatrix}$ ד. הוכחה.

(11) א. הוכחה. ב. הוכחה. ג. הוכחה. ד. הפרכה.

ה. הוכחה. ו. הוכחה. ז. הוכחה.

מתמטיקה לביולוגים חד חוגי מורחב

פרק 24 - אי שוויונים אלגבריים

תוכן העניינים

226	1. אי שוויונים ממעלה ראשונה
228	2. אי שוויונים ממעלה שנייה
229	3. אי שוויונים ממעלה שלישית
230	4. אי שוויונים עם מנה
232	5. אי שוויונים כפולים מערכות וגם ואו
233	6. שאלות מסכמות
235	7. מציאת תחום הגדרה
237	8. אי שוויונים עם ערך מוחלט

אי-שוויונים ממעלה ראשונה:

סיכום כללי:

פעולות המותרות לביצוע בפתרון אי-שוויון:

- לחבר או לחסר כל מספר או ביטוי.
- לכפול או לחלק בכל מספר או ביטוי חיובי.
- לכפול או לחלק בכל מספר או ביטוי שלילי תוך הפיכת סימן אי-השוויון.
- להעלות בחזקה אי זוגית.
- להעלות בחזקה זוגית אם שני אגפי אי-השוויון אינם שליליים.

פעולות אסורות לביצוע בפתרון אי-שוויון:

- לכפול או לחלק בביטוי שלא יודעים את סימנו.
- להעלות בחזקה זוגית כשיש אגף שלילי.

שאלות:

פתור את אי-השוויונים הבאים:

$$6x > 2(3x-1) \quad (2) \qquad 45x - 26 > 109 \quad (1)$$

$$(x-2)^2 + 4 < (x+2)^2 + 20 \quad (4) \qquad 2(x-5) \geq \frac{1}{2}(4x+6) \quad (3)$$

$$4(6x-8) < 8(3x-4) \quad (6) \qquad \frac{8x-4}{2} < \frac{9(x+1)}{3} \quad (5)$$

$$\frac{7-x}{10} - \frac{3x-1}{5} + \frac{x+4}{3} < 7 \quad (8) \qquad \frac{x-6}{3} - \frac{x-4}{4} \geq 12-x \quad (7)$$

תשובות סופיות:

$$x > 3 \quad (1)$$

$$x \text{ כל} \quad (2)$$

$$x \text{ אף} \quad (3)$$

$$x > -2 \quad (4)$$

$$x < 5 \quad (5)$$

$$x \text{ אף} \quad (6)$$

$$x \geq 12 \quad (7)$$

$$x > -13 \quad (8)$$

אי-שוויונים ממעלה שנייה:

סיכום כללי:

אי שוויון ריבועי הוא מהצורה: $ax^2 + bx + c \begin{matrix} > \\ < \end{matrix} 0$ כאשר $a \neq 0$.

כדי לפתור אי שוויון ריבועי יש למצוא את נקודות האפס של הביטוי הריבועי ולאחר מכן למצוא את תחום ההצבה עבורו הביטוי מקיים את אי השוויון עצמו.

שאלות:

פתור את אי-השוויונים הבאים:

- | | |
|-------------------------------|--|
| $x^2 - 12x > -32$ (2) | $x^2 < 144$ (1) |
| $(x+2)(x+4) < 35$ (4) | $(x+2)(x+5) < 0$ (3) |
| $(x-3)(x-7) \geq 8x - 56$ (6) | $-x^2 + 13x + 30 < 0$ (5) |
| $(5x+6)^2 \leq 4(x-3)^2$ (8) | $(x-5)^2 + x(x+2) < 89$ (7) |
| $x^2 - 10x + 25 > 0$ (10) | $-3x^2 + 12x > 0$ (9) |
| $2x^2 + 2x + 24 \geq 0$ (12) | $(x-3)^2 > (x-1)(x+6) - x^2 - 3x$ (11) |

תשובות סופיות:

- | | |
|---------------------------|----------------------|
| $x < 4, x > 8$ (2) | $-12 < x < 12$ (1) |
| $-9 < x < 3$ (4) | $-5 < x < -2$ (3) |
| $x \leq 7, x \geq 11$ (6) | $x < -2, x > 15$ (5) |
| $-4 \leq x \leq 0$ (8) | $-4 < x < 8$ (7) |
| $x > 5, x < 5$ (10) | $0 < x < 4$ (9) |
| x כל (12) | $x < 3, x > 5$ (11) |

אי-שוויונים ממעלה שלישית:

סיכום כללי:

אי שוויונים ממעלה גבוהה מיוחסים לכאלה שניתן לכתוב אותם בצורה של פולינומים, כגון: $x^3 - 4x^2 + 4x + 1 > 0$, $x^4 + 2x^2 + 1 < 0$ וכיו'. בפועל נפתור אותם ע"י פירוק לגורמים ומציאת נקודות האפס של כל גורם. לאחר מכן נבדוק את כל אחד מתחומי המספרים המתקבלים עבור הנעלם ונראה באלו מהם מתקבל פסוק אמת.

שאלות:

פתור את אי-השוויונים הבאים:

- | | |
|--------------------------------------|------------------------------------|
| $x(x^2 + x + 1) > 0$ (2) | $(x-1)(x-2)(x-3) > 0$ (1) |
| $x^3 - 25x \geq 0$ (4) | $(-2x^2 - 3x + 2)(x+1) \leq 0$ (3) |
| $(x^2 + 8x + 20)(3x - 5) \leq 0$ (6) | $(x^2 + 3x + 5)(x - 2) > 0$ (5) |
| $x^3 - 6x^2 + 9x \leq 0$ (8) | $(x^2 - x - 6)(x - 1) < 0$ (7) |
| $(x-2)(x-4)(x-1) < 0$ (10) | $(x^2 + 6)(x+3) > 0$ (9) |

תשובות סופיות:

- | | |
|----------------------------------|---|
| $x > 0$ (2) | $1 < x < 2, x > 3$ (1) |
| $-5 \leq x \leq 0, x \geq 5$ (4) | $-2 \leq x \leq -1, x \geq \frac{1}{2}$ (3) |
| $x \leq 1\frac{2}{3}$ (6) | $x > 2$ (5) |
| $x \leq 0, x = 3$ (8) | $x < -2, 1 < x < 3$ (7) |
| $x < 1, 2 < x < 4$ (10) | $x > -3$ (9) |

אי-שוויונים עם מנה:

סיכום כללי:

אי שוויון מהצורה: $\frac{f(x)}{g(x)} > 0$ או $\frac{f(x)}{g(x)} < 0$ נקרא אי-שוויון עם מנה, בו $f(x)$

ו- $g(x)$ הם פולינומים כלשהם.

למשל: $\frac{2x+4}{x^2-3x+4} < 0$ בו: $f(x) = 2x+4$ ו- $g(x) = x^2-3x+4$.

כדי לפתור אי שוויון עם מנה נמצא את נקודות האפס של $f(x)$ ושל $g(x)$ ונציב מספרים בתחומים המתקבלים. אלו שיתנו פסוק אמת יהוו את פתרון אי השוויון.

הערות:

- ניתן לבצע כפל של המכנה בריבוע בכדי להעביר את אי השוויון לצורה של מכפלות.
- ניתן להעביר אי שוויון המכיל מספר מנות ומספרים שלמים לצורה הנ"ל ע"י פעולות אלגבריות מתאימות תחילה.

שאלות:

פתור את אי-השוויונים הבאים:

$\frac{x-1}{3x+2} \geq -3$ (2)	$\frac{x-1}{x^2-9} > 0$ (1)
$\frac{x-3}{2x^2-10x+12} > 0$ (4)	$\frac{1}{x^2-16} > 0$ (3)
$\frac{1}{-3(x-1)} < 0$ (6)	$\frac{2x-1}{x-5} \leq 0$ (5)
$\frac{1}{x^2-5x+6} < 0$ (8)	$\frac{x-1}{x+2} \leq 1$ (7)
$\frac{1}{x^2-8x+12} \geq 0$ (10)	$\frac{x^2-7x+6}{-x^2+3x-7} \geq 0$ (9)

תשובות סופיות:

$$x < -\frac{2}{3}, x \geq -\frac{1}{2} \quad (2)$$

$$2 < x < 3, x > 3 \quad (4)$$

$$x > 1 \quad (6)$$

$$2 < x < 3 \quad (8)$$

$$x < 2, x > 6 \quad (10)$$

$$-3 < x < 1, x > 3 \quad (1)$$

$$x < -4, x > 4 \quad (3)$$

$$\frac{1}{2} \leq x < 5 \quad (5)$$

$$x > -2 \quad (7)$$

$$1 \leq x \leq 6 \quad (9)$$

אי-שוויונים כפולים - מערכת וגם:

סיכום כללי:

אי-שוויון כפול הוא צורה מקוצרת להציג שני אי-שוויונים אשר יש לפתור יחד (קרי: כמערכת יוגם!). למשל במקום לכתוב: $a < b$ וגם $b < c$, ניתן לכתוב: $a < b < c$. מכאן כי כדי לפתור אי שוויון כפול יש לפצל אותו תחילה לשני אי-שוויונים ולפתור כל אחד בנפרד. לאחר מכן יש לקחת את חיתוך הפתרונות.

שאלות:

פתור את אי-השוויונים הבאים:

$$0 < \frac{1}{x+4} < 2 \quad (2)$$

$$3 < x+1 < 5 \quad (1)$$

$$0 < \frac{8-3x}{5-2x} < 4 \quad (4)$$

$$-1 < \frac{x-1}{x+1} < 1 \quad (3)$$

$$6 < \frac{2x+10}{3} \leq \frac{7x-20}{5} \quad (6)$$

$$6x-38 \leq x-3 \leq 5x+7 \quad (5)$$

$$\frac{4x+5}{15} > \frac{3x-8}{5} + \frac{9-x}{3} > 11 \quad (8)$$

$$-1 \leq \frac{2x-6}{4} < \frac{x+2}{3} \quad (7)$$

תשובות סופיות:

$$x > -3\frac{1}{2} \quad (2)$$

$$2 < x < 4 \quad (1)$$

$$x < 2\frac{2}{5}, x > 2\frac{2}{3} \quad (4)$$

$$x > 0 \quad (3)$$

$$x \geq 10 \quad (6)$$

$$-2.5 \leq x \leq 7 \quad (5)$$

$$\emptyset \quad (8)$$

$$1 \leq x < 13 \quad (7)$$

שאלות מסכמות – אי-שוויונים:

שאלות:

פתור את אי-השוויונים הבאים:

$$x \leq -\frac{3}{4} \cap \{-2 < x \leq 5 \cup 0 < x < 8\} \quad (1)$$

$$\frac{(x-4)(x+2)}{x-1} < 0 \quad (3) \quad x(x+5) - 3x + 12 \leq 2x - 1 - x(4-x) \quad (2)$$

$$\frac{(2x-3)(x-12)}{(x+1)(4-x)} \geq 0 \quad (5) \quad \frac{(x-5)(3x+1)}{(2-x)(x+7)} < 0 \quad (4)$$

$$\frac{(x-6)^2(x+1)}{x-2} > 0 \quad (7) \quad x(x+3)(2x-5) < 0 \quad (6)$$

$$\frac{x-3}{x^2+2} > 0 \quad (9) \quad \frac{5-2x}{(x-8)^2} \leq 0 \quad (8)$$

$$\frac{x^2-6x+9}{x^3-x} > 0 \quad (11) \quad \frac{x^2-4x}{x^2+2x-3} > 0 \quad (10)$$

$$\frac{x}{x^2-4} + \frac{1}{x+2} < \frac{1}{x-2} \quad (13) \quad \frac{x-7}{x^2+x+3} > 0 \quad (12)$$

$$6 < 5x - x^2 \cap x^2 > 3x + 10 \quad (15) \quad \frac{2x^2}{x^2-6x+8} \geq \frac{x}{x-4} - \frac{x}{x-2} \quad (14)$$

$$1 < \frac{x-1}{x-4} \leq 2 \quad (17) \quad \frac{3}{x-1} - \frac{2}{x} > 0 \cup \frac{1}{x-3} < \frac{1}{1-x} \quad (16)$$

(18) לאלו ערכי x נמצאת הפונקציה $f(x) = \frac{x}{x-3}$ מעל הפונקציה $g(x) = \frac{x+1}{x+3}$?

תשובות סופיות:

- | | |
|---|--------------------------------------|
| $x \leq -4$ (2) | $-2 < x \leq -\frac{3}{4}$ (1) |
| $x < -7, -\frac{1}{3} < x < 2, x > 5$ (4) | $x < -2, 1 < x < 4$ (3) |
| $x < -3, 0 < x < 2.5$ (6) | $-1 < x \leq 1.5, 4 < x \leq 12$ (5) |
| $2.5 \leq x < 8, x > 8$ (8) | $x < -1, 2 < x < 6, x > 6$ (7) |
| $x < -3, 0 < x < 1, x > 4$ (10) | $x > 3$ (9) |
| $x > 7$ (12) | $-1 < x < 0, 1 < x < 3, x > 3$ (11) |
| $x \leq 0, 1 \leq x < 2, x > 4$ (14) | $x < -2, 2 < x < 4$ (13) |
| $x \neq 1$ (16) | $x \neq 7$ (15) |
| $-3 < x < -\frac{3}{5}, x > 3$ (18) | $x \geq 7$ (17) |

תחום הגדרה:

שאלות:

1 מצא את תחום ההגדרה של הפונקציות הבאות:

א. $f(x) = \sqrt{3x-4}$	ב. $f(x) = \sqrt{x^2 - 5x - 6}$
ג. $f(x) = \sqrt{12x - x^2 - x^3}$	ד. $f(x) = \sqrt{\frac{x+5}{x^2-4}}$
ה. $f(x) = \frac{1}{\sqrt{x+2}-x}$	ו. $f(x) = \frac{\sqrt{3x^2-2x-1}}{2x-3}$

2 מצא את תחום ההגדרה של הפונקציות הבאות:

א. $f(x) = \sqrt{\sqrt{x+2}-3}$	ב. $f(x) = \frac{1}{x+\sqrt{x+6}}$
ג. $f(x) = \sqrt{\frac{2x^2+x-3}{x^2+5x+9}}$	ד. $f(x) = \frac{\sqrt{x^2+5x+6}}{x-1}$

3 תחום ההגדרה של הפונקציה: $f(x) = \sqrt{ax - x^2 - 4}$ הוא $1 \leq x \leq 4$. מצא את ערכו של הפרמטר a .

4 תחום ההגדרה של הפונקציה: $f(x) = \sqrt{\frac{x+a}{x-a}}$ הוא $x \leq -2$, $x > 2$. מצא את ערכו של הפרמטר a .

5 נתונה הפונקציה: $f(x) = \sqrt{\sqrt{x+6}-a}$, a פרמטר חיובי.

א. הבע באמצעות a את תחום הגדרתה.

ב. מגדירים פונקציה נוספת: $g(x) = \sqrt{\frac{2x}{x+5}}$.

ידוע כי תחום ההגדרה של שתי הפונקציות מכסה את כל ציר המספרים. מצא את תחום הערכים האפשרי של הפרמטר a .

תשובות סופיות:

- (1) א. $x \geq 1\frac{1}{3}$ ב. $x \leq -1, x \geq 6$ ג. $x \leq -4, 0 \leq x \leq 3$
- ד. $-5 \leq x < -2, x > 2$ ה. $-2 \leq x < 2, x > 2$ ו. $x \leq -\frac{1}{3}, 1 \leq x < \frac{3}{2}, x > \frac{3}{2}$
- (2) א. $x \geq 7$ ב. $-6 \leq x \neq -2$ ג. $x \leq -1\frac{1}{2}, x \geq 1$
- ד. $x \leq -3, -2 \leq x \neq 1$
- (3) $a = 5$
- (4) $a = 2$
- (5) א. $x \geq a^2 - 6$ ב. $0 < a \leq 1$

אי שוויונים עם ערך מוחלט:

סיכום כללי:

כללים לפתרון אי שוויון עם ערך מוחלט יחיד:

$ x > a$	$ x < a$	מקרה
$x < -a \cap x > a$	$-a < x < a$	פתרון

כללים לפתרון אי שוויון עם מספר ערכים מוחלטים:

- נמצא את הנקודות המאפסות כל ביטוי עם ערך מוחלט.
- מחלקים את אי השוויון לתחומים לפי נקודות האפס.
- פותרים את אי השוויון לכל תחום בנפרד.
- כותבים פתרון כללי (מערכת או) לכל התחומים יחדיו.

שאלות:

(1) פתור את אי-השוויונים הבאים:

א. $|x+2| < 3$ ב. $|2x+1| > 7$
 ג. $|6-2x| < x$ ד. $|2x+1|-3x > 4$

(2) פתור את אי-השוויונים הבאים:

א. $1 < |4-3x| < 7$ ב. $|2x+3| < 8 < |5-x|$

(3) פתור את אי-השוויונים הבאים:

א. $|x^2 + 6x - 4| < 12$ ב. $|x^2 + x - 10| > 3x - 2$
 ג. $|x^2 - 3x| < 4$ ד. $|6x^2 - 7x - 4| > 1$
 ה. $x^2 - 6|x| + 5 \leq 0$ ו. $x^2 - 6|x+1| - 1 > 0$

(4) פתור את אי-השוויונים הבאים:

$$\text{א. } |x-3|+|2x+2|>7 \quad \text{ב. } |x+8|<11-|1-3x|$$

$$\text{ג. } |3-2x|-11>4-|6+x| \quad \text{ד. } |2x-6|+|x+5|>14-|1-x|$$

$$\text{ה. } |5+4x|-|3-x|+\left|4-\frac{1}{2}x\right|\leq 22 \quad \text{ו. } |x+3|+|x^2-5x+4|<19$$

(5) פתור את אי-השוויונים הבאים:

$$\text{א. } \left|\frac{3x-1}{x-2}\right|\geq 3 \quad \text{ב. } 1\leq\left|\frac{x+2}{x-2}\right|\leq 2$$

$$\text{ג. } \frac{|x-6|+8x}{x-12}\leq 12 \quad \text{ד. } \left|\frac{x^2+3x+2}{x^2-3x+2}\right|>5$$

(6) פתור את אי-השוויונים הבאים (ערך מוחלט ושורשים):

$$\text{א. } \sqrt{x^2-|x-12|}<x \quad \text{ב. } 2-\sqrt{1-x}\leq|x+2|-3$$

$$\text{ג. } \sqrt{|2x+1|-x-1}\leq 4-|3x| \quad \text{ד. } \frac{|x+2|-|x|}{\sqrt{4-x^3}}>0$$

תשובות סופיות:

- (1) א. $-5 < x < 1$
 ג. $2 < x < 6$
- (2) א. $1\frac{2}{3} < x < 3\frac{2}{3}$ או $-1 < x < 1$
 ב. $-5\frac{1}{2} < x < -3$
- (3) א. $-2 < x < 2$ או $-8 < x < -4$
 ג. $-1 < x < 4$
 ה. $1 \leq x \leq 5$ או $-5 \leq x \leq -1$
- (4) א. $2 < x$ או $x < -2$
 ג. $4 < x$ או $x < -6$
 ה. $-7\frac{3}{7} \leq x \leq 4$
- (5) א. $\frac{7}{6} \leq x < 2$, $x > 2$
 ג. $x < 12$, $x \geq 46$
- (6) א. $x = -1$, $x \geq 3$, $x \neq 12$
 ג. $0 \leq x \leq 1$, $-1 \leq x \leq -\frac{2}{3}$
- ב. $3 < x$ או $x < -4$
 ד. $x < -1$
- ב. $4 < x$ או $x < 2$
 ד. $x < -\frac{1}{2}$, $-\frac{1}{3} < x < \frac{3}{2}$, $x > \frac{5}{3}$
 ו. $x < -5$, $x > 7$
- ב. $-1 < x < 1$
 ד. $4 < x$ או $x < -1$
 ו. $-2 < x < 6$
- ב. $0 \leq x \leq \frac{2}{3}$, $x \geq 6$
- ד. $\frac{1}{2} < x < 1$, $1 < x < 2$, $2 < x \leq 4$
- ב. $x \leq \frac{-15 + \sqrt{33}}{2}$
 ד. $-1 < x < \sqrt[3]{4}$