

עקרונות בכימיה אורגנית ב



תוכן העניינים

1	התמרה נוקלאופילית	(ללא ספר)
1	אלימינציה	
3	אלדהידים וקטונים	
4	אלקנים, תכונות ותגובות	
6	אלקנים וניטרילים - תכונות ותגובות	
8	חומצות קרבוקסיליות ונגזרותיהן	
12	מערכות מצומדות	
18	מערכות ארומטיות	
24	אמינים	
26	סוכרים	

עקרונות בכימיה אורגנית ב

פרק 1 - התמרה נוקלאופילית

תוכן העניינים

1. כללי (ללא ספר)

עקרונות בכימיה אורגנית ב

פרק 2 - אלימינציה

תוכן העניינים

1. כללי..... 1

אלימינציה:

שאלות:

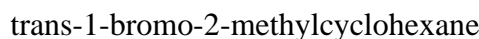
(1) אילו תוצרים צפויים להתקבל בדהידרוהלוגנציה (E2) של:

- א. 1-bromohexane
- ב. 2-bromohexane
- ג. 3-bromo-2-methylpentane

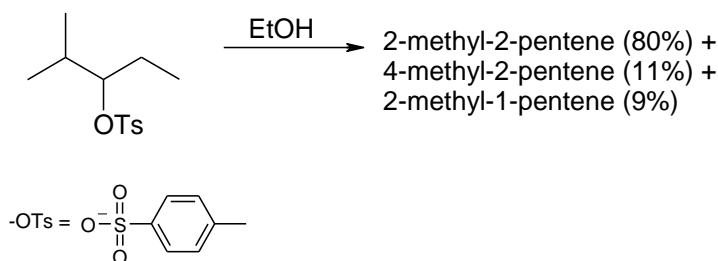
(2) סדרי את החומרים לפי האקטיביות בדהידרוהלוגנציה ע"י בסיס חזק:

- א. 1-bromo-3-methylbutane
- ב. 2-bromo-2-methylbutane
- ג. 3-bromo-2-methylbutane

(3) מהו התוצר העיקרי המתקבל בדהידרוהלוגנציה של:



(4) תאר את השלבים בסינטזה הבאה:



(5) הסברי את השוני באחוזי האלקנים המתקבלים עבור זוג החומרים נתון

בתמיסת האתנול ($\text{CH}_3\text{CH}_2\text{OH}/\text{H}_2\text{O}$) ב- 80°C .

- Isopropylbromide- 5%
- Sec-butylbromide- 9%

(6) כאשר cis-1-t-butyl-4-chlorocyclohexane באתנול מחומם עד לרתיחה למשך מספר שעות מתקבל תוצר עיקרי trans-t-butyl-4-ethoxycyclohexane, אולם כאשר מוסף לתמיסה אשלגן טרטבוטוקסיד ($\text{t-buO}^-\text{K}^+$) בריכוז 2M, התוצר העיקרי הינו האלקן 4-t-butylcyclohexene. רשום/י מנגנון מלא לכל אחת מן התגובות והסבר את התוצאות.

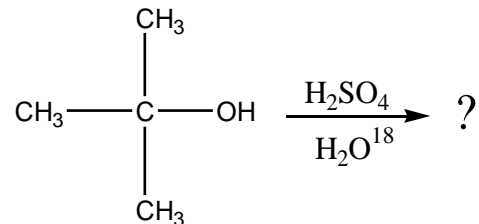
7) רשום מי מהכילים הבאים יעבר דה-הידרציה מהירה יותר :

א. $\text{CH}_3\text{CH}_2\text{CH}_2\text{CH}_2\text{CH}_2\text{OH}$ or $\text{CH}_3\text{CH}_2\text{CH}_2\text{CHOHCH}_3$

ב. $(\text{CH}_3)_2\text{C}(\text{OH})\text{CH}_2\text{CH}_3$ or $(\text{CH}_3)_2\text{CHCHOHCH}_3$

ג. $(\text{CH}_3)_2\text{CHC}(\text{OH})(\text{CH}_3)_2$ or $(\text{CH}_3)_2\text{CHCH}(\text{CH}_3)\text{CH}_2\text{OH}$

8) כהל שלישוני חומם עם חומצה בנוכחות מים מסומנים איזוטופית :



בדגימות שנלקחו לפני תום התגובה נמצא אותו כהל שלישוני מסומן בחמצן איזוטופי. מדידות קינטיות הראו שהיווצרות הכוהל המסומן היתה פי 30 מהירה יותר מאשר היווצרות התוצר הסופי, האלקן.

א. הצע דרך לקבלת כהל מסומן.

ב. הסבר תוצאות של מדידות קינטיות תוך שימוש במשוואות מתאימות ודיון בגודל יחסי (איכותי) של קבועי קצב האחראים לתוצאות אלה.

עקרונות בכימיה אורגנית ב

פרק 3 - אלדהידים וקטונים

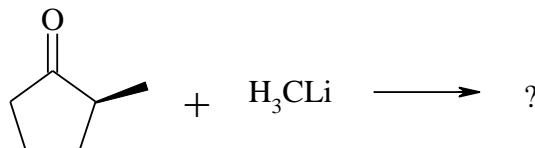
תוכן העניינים

1. כללי 3

אלדהידים וקטונים:

שאלות:

(4) בתגובה הבאה, מהם התוצרים האפשריים, ומי מהם יתקבל בהעדפה?



עקרונות בכימיה אורגנית ב

פרק 4 - אלקנים, תכונות ותגובות

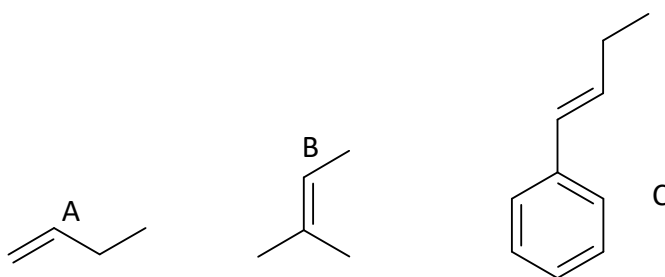
תוכן העניינים

1. כללי 4

אלקנים, תכונות ותגובות:

שאלות:

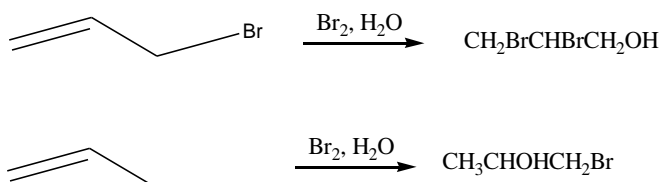
1) מה יהיה התוצר העיקרי בסיפוח HCl לחומרים הבאים?
פרט את המנגנון.



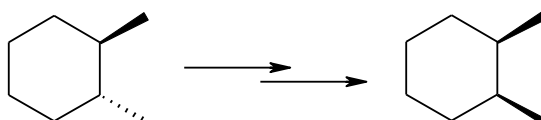
2) רשום שמות מבנים המתקבלים מתגובה של איזובוטילן (2-מתילפרופן) עם כל אחד מהראגנטים הבאים:

- א. H_2, Ni
- ב. Br_2
- ג. I_2
- ד. HBr
- ה. HBr and peroxide
- ו. Br_2 and H_2O
- ז. Br_2 and $NaCl_{(aq)}$
- ח. $(BH_3); H_2O_2, OH^-$

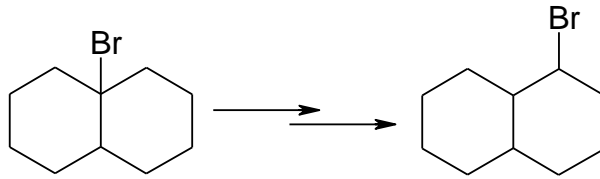
3) רשום מנגנון לקבלת התוצרים בתגובות הבאות והסבר את השוני במיקום קבוצת OH בתוצרים:



4) הכן (cis)-1,2-dimethylcyclohexane מ-(trans)-1,2-dimethylcyclohexane.



5) פרט שלבי הסינטזה הבאה:



עקרונות בכימיה אורגנית ב

פרק 5 - אלקינים וניטרילים - תכונות ותגובות

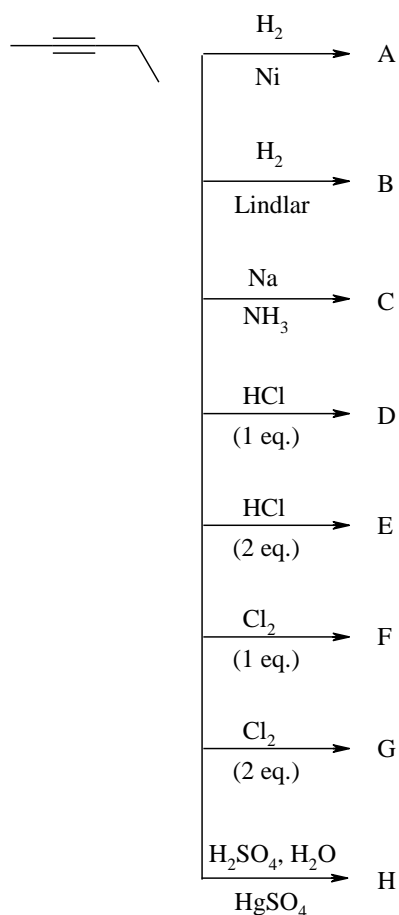
תוכן העניינים

1. כללי 6

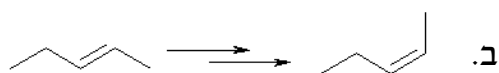
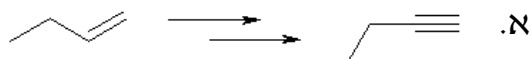
אלקינים וניטרילים - תכונות ותגובות:

שאלות:

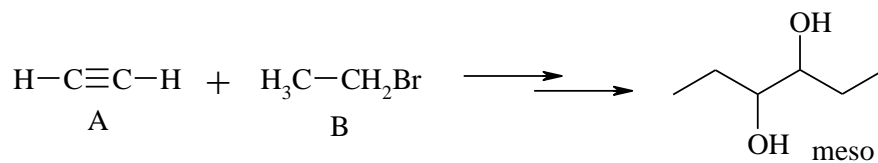
1) מה יהיו התוצרים של התגובות הבאות?



2) הצע דרך לקבל את החומרים הבאים:

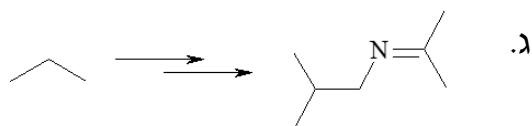
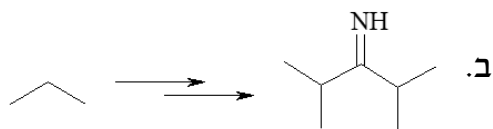
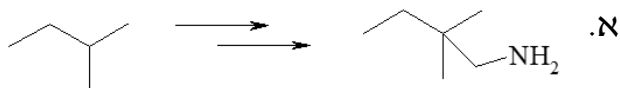


(3) הצע שלבים לקבלת התוצר הבא מ-A ו-B :



(4) כיצד ניתן להכין 1-hexyne מאצטילן וריאגנטים אי-אורגנים בלבד?

(5) הצע דרך לקבל את החומרים הבאים מהמגיבים הבאים וריאגנטים אי-אורגנים בלבד :



עקרונות בכימיה אורגנית ב

פרק 6 - חומצות קרבוקסיליות ונגזרותיהן

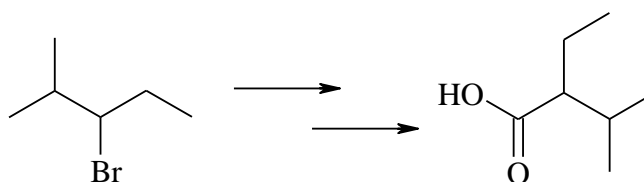
תוכן העניינים

1. כללי 8

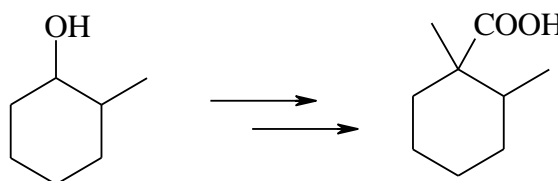
חומצות קרבוקסיליות ונגזרותיהן:

שאלות:

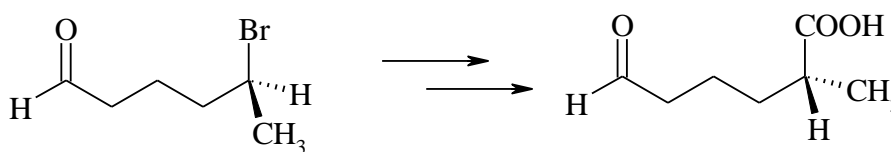
- (1) הציעו דרך סינתטית לקבלת 2-ethyl-3-methylbutanoic acid מ-3-bromo-2-methylpentane.



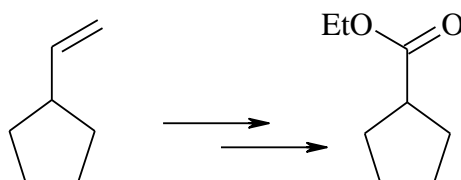
- (2) הציעו דרך סינתטית לקבלת החומר הבא:



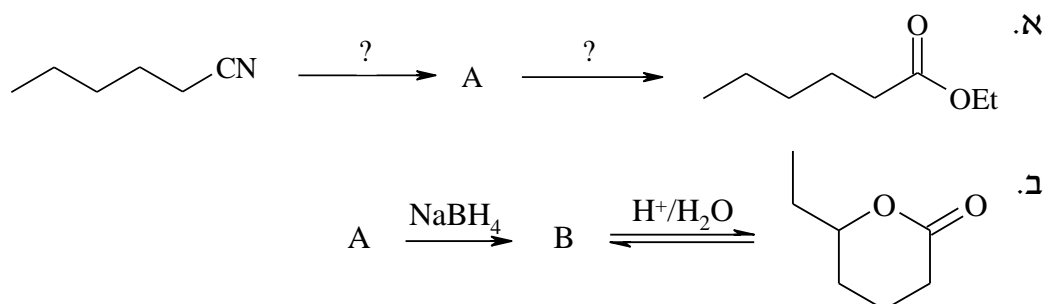
- (3) הציעו דרך סינתטית לקבלת החומר הבא:



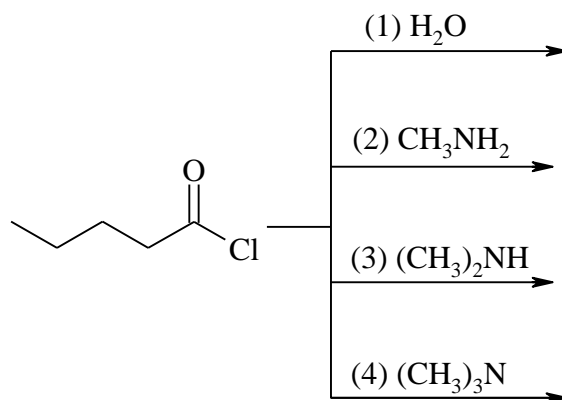
- (4) הצע דרך סינתטית לקבלת התוצר הבא:



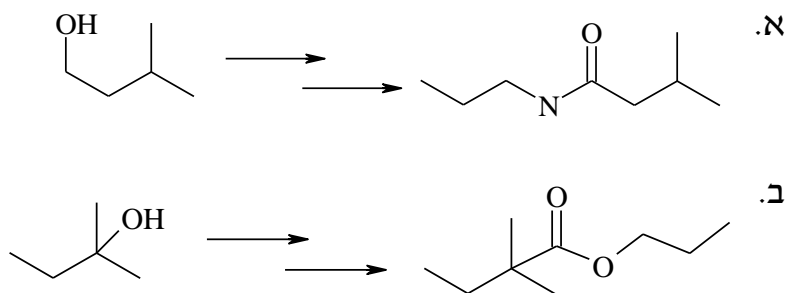
(5) השלימו את התגובות הבאות:



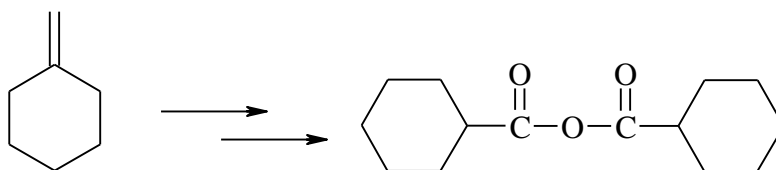
(6) מהם תוצרי התגובה בין פנטיניל כלוריד וכל אחד מהמגיבים הבאים:



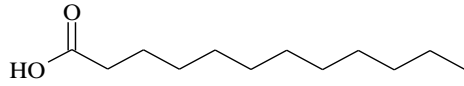
(7) הצע דרך סינתטית לקבלת התוצרים הבאים:



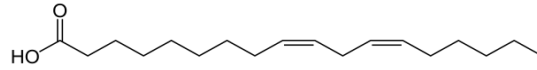
(8) הצע דרך סינתטית לקבלת התוצר הבא:



9) לאחר הידרוליזה של שומן מסוים מצאו גליצרול, חומצה לאורית וחומצה לינולאית ביחס של 1:2:1. מה מבנה הטריגליצרידים האפשריים המתאימים להרכב הנתון.

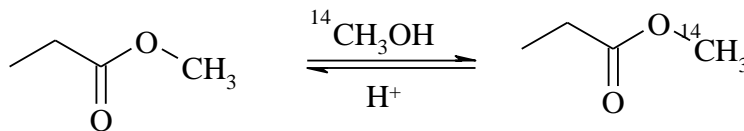


Lauric acid

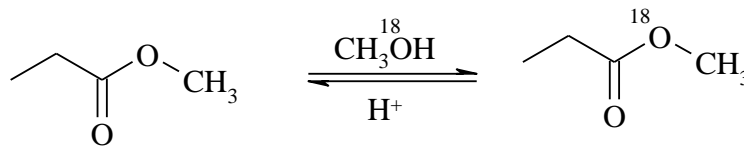


Linoleic acid

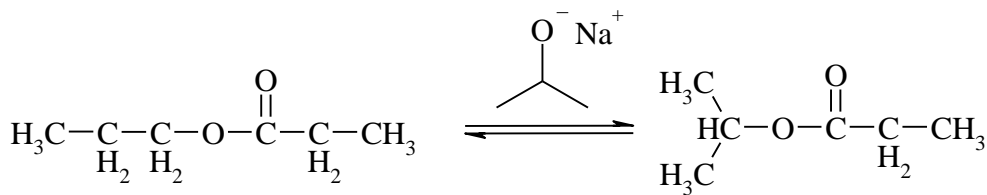
10) על מנת לחקור מנגנון טרנס-אסטרפיקציה עם כוהל בסביבה חומצית, א. השתמשו במתנול מסומן (^{14}C) לקבלת התוצר המסומן הבא. הציעו מנגנונים אפשריים:



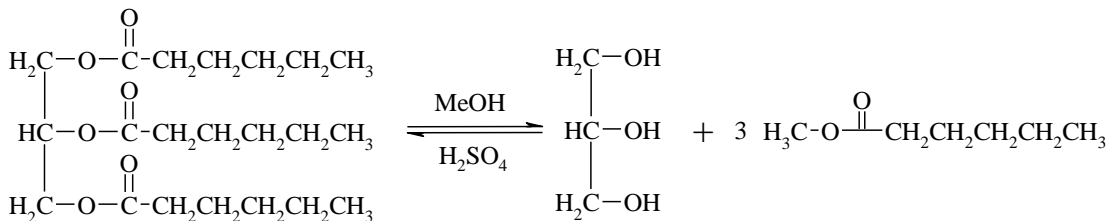
ב. בשלב הבא, השתמשו במתנול מסומן (^{18}O) לקבלת התוצר המסומן הבא. מה המנגנון הנכון?



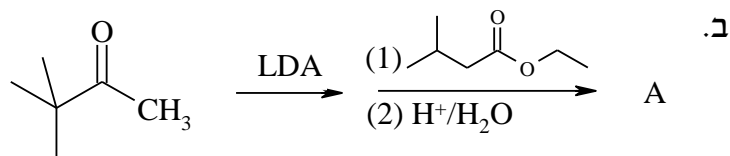
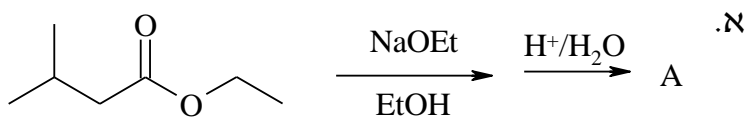
11) תאר את המנגנונים של התגובות הבאות:



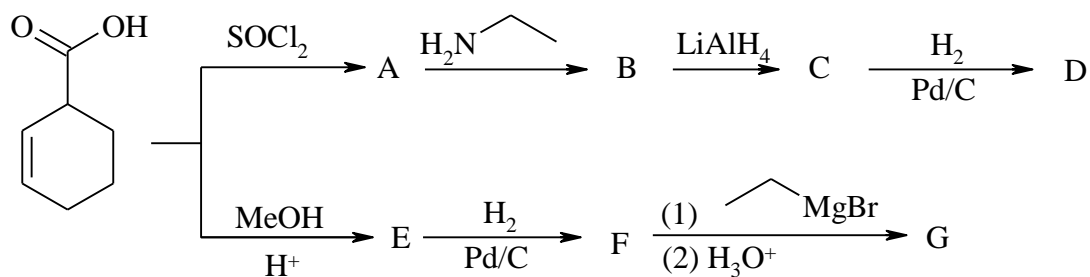
ב.



12) השלם את החסר :



13) השלם את התוצרים בסכימה הבאה :



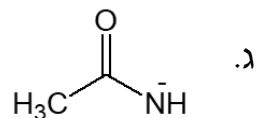
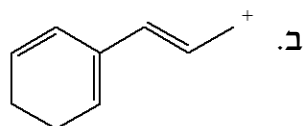
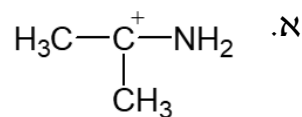
עקרונות בכימיה אורגנית ב

פרק 7 - מערכות מצומדות

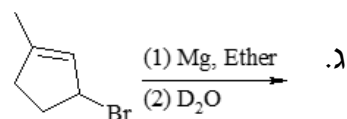
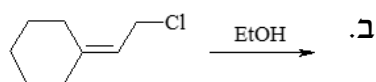
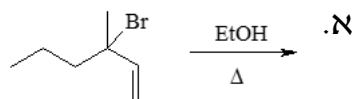
תוכן העניינים

1. כללי 12

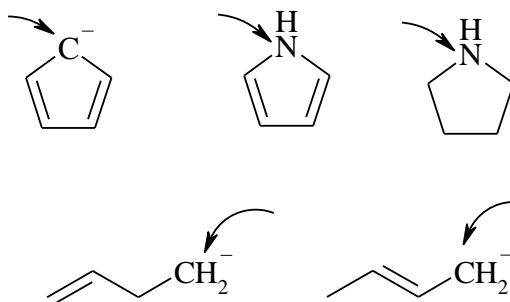
5) צייר את מבני הרזוננס האפשריים וציין מי המבנה היציב ביותר עבור כל מולקולה:



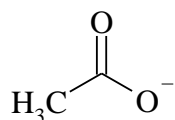
6) רשום את תוצרי התגובות הבאות:



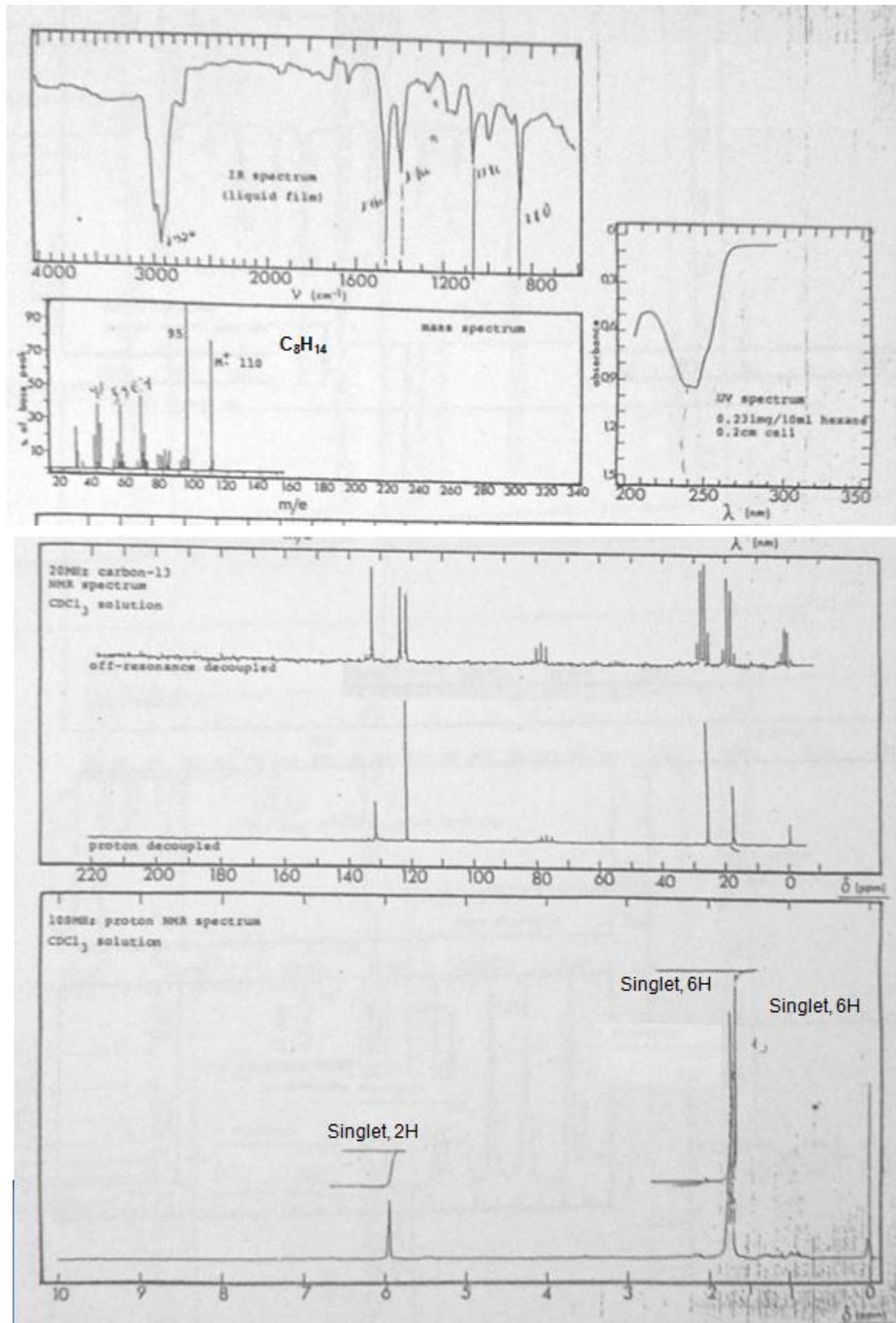
7) קבעו את ההיברידיזציה של האטומים המסומנים, והצורה המרחבית מסביב לאטום:



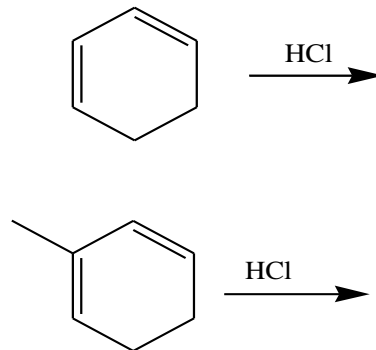
8) תוך שימוש בתיאוריית הרזוננס, הסבירו מדוע אורך שני קשרי ה-C-O במולקולה זהה?



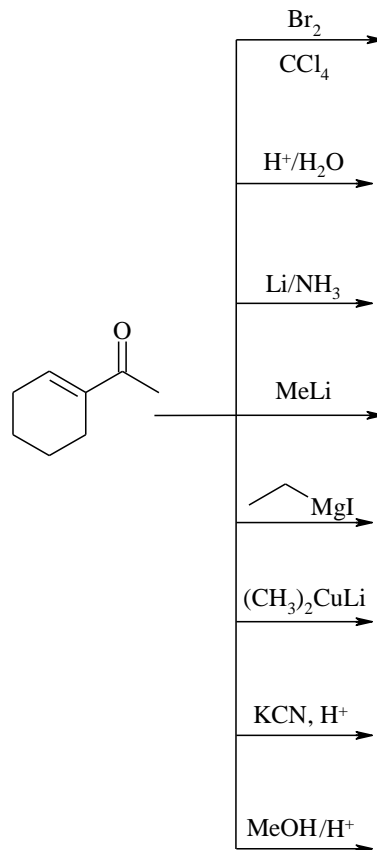
9) מהו מבנה התרכובת שמתאים לתונוים הספקטרליים הבאים:



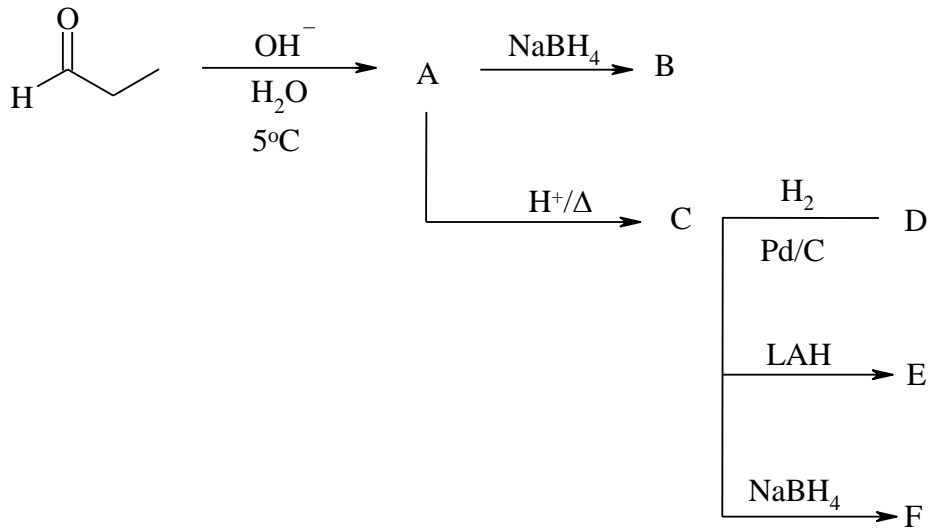
10) פרט את התוצרים המתקבלים בהידרוהלוגנציה של החומרים הבאים:



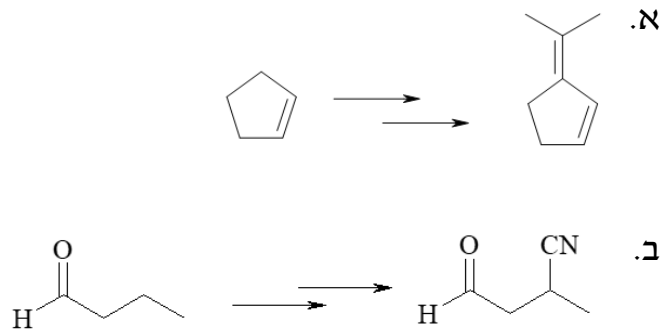
11) רשום את תוצאות התגובות הבאות:



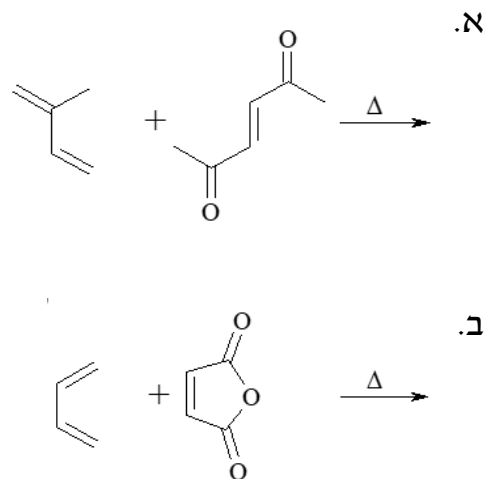
12) השלם את הסכימה הבאה :



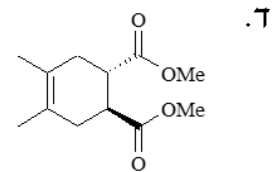
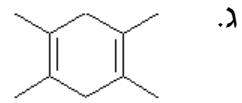
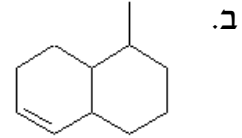
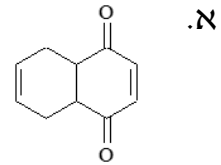
13) הצע דרך סינטטית לקבלת התוצרים הבאים :



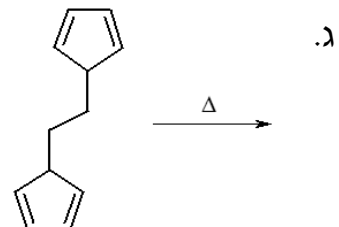
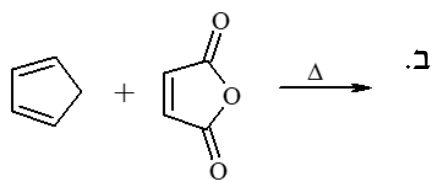
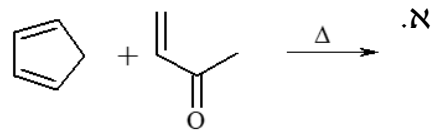
14) מה יהיו תוצרי התגובות הבאה?



15) הציעו דיאן ודיאנופיל שיתנו בתגובת דיאלס-אלדר את התוצרים הבאים:



16) מה יהיו תוצרי התגובות הבאות?



עקרונות בכימיה אורגנית ב

פרק 8 - מערכות ארומטיות

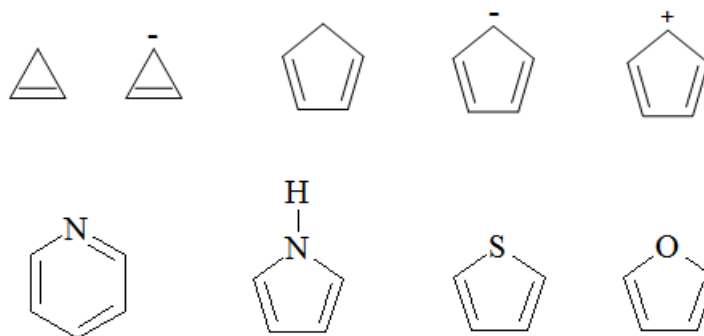
תוכן העניינים

1. כללי 18

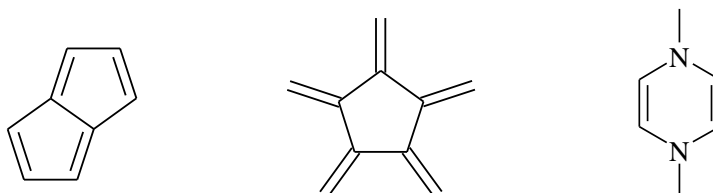
מערכות ארומטיות:

שאלות:

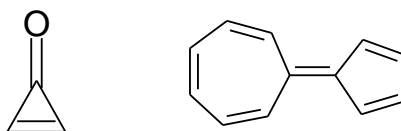
- (1) קבע/י האם המולוקולות שלפניך הינן ארומטיות, אנטי ארומטיות או לא ארומטיות ונמק/י תשובתך:



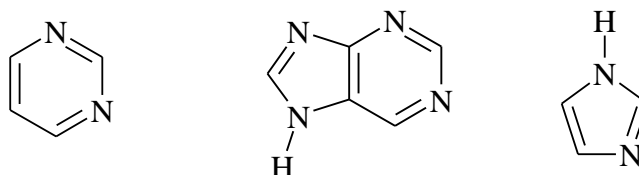
- (2) קבע/י האם המולוקולות שלפניך הינן ארומטיות, אנטי ארומטיות או לא ארומטיות ונמק/י תשובתך:



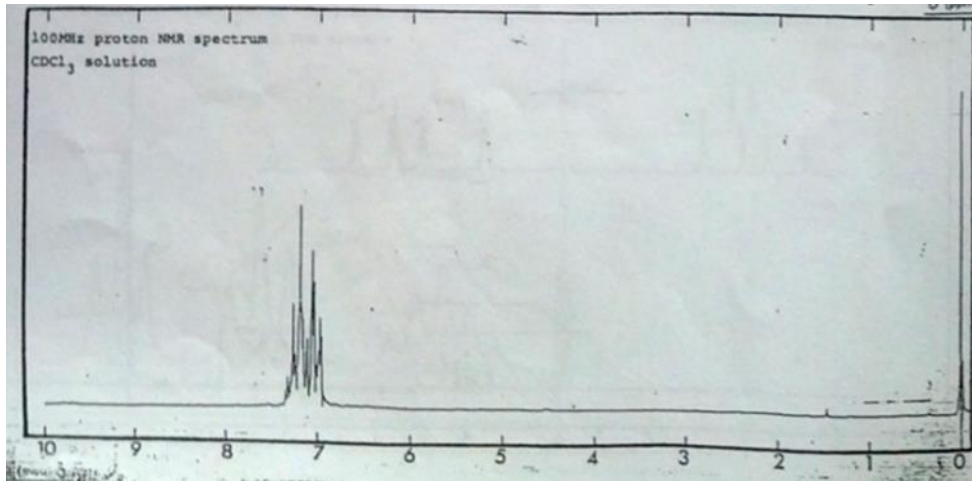
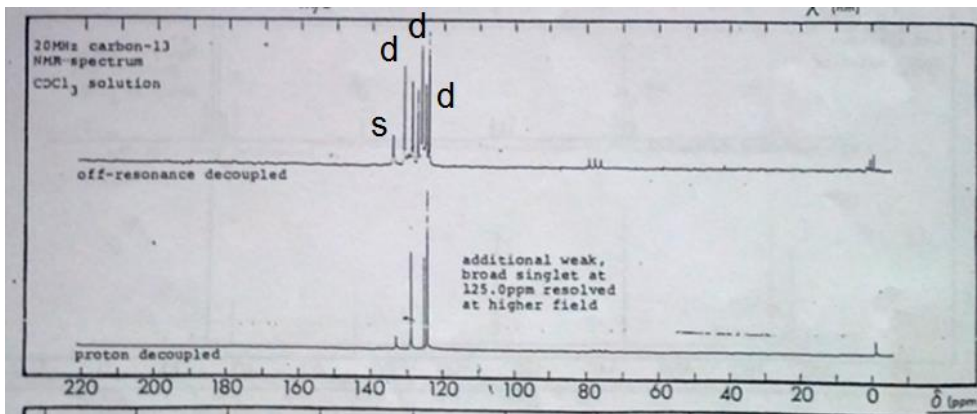
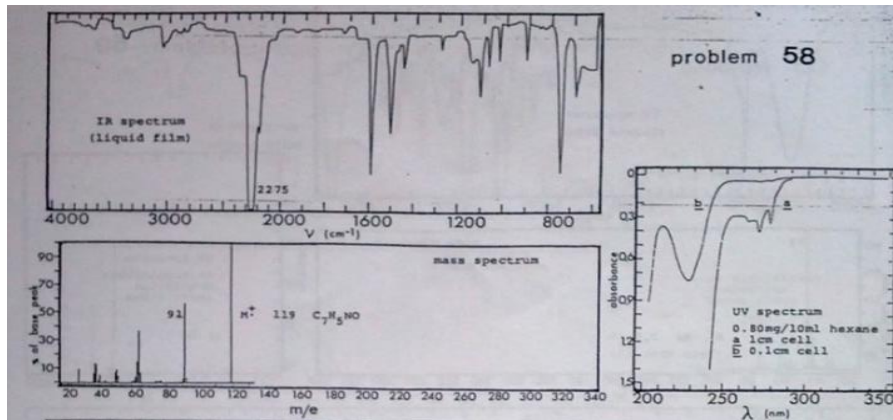
- (3) הסבר/י מדוע לחומרים הבאים יש מומט דיפול גבוה במיוחד ומדוע החומרים ארומטים (רזוננס)?



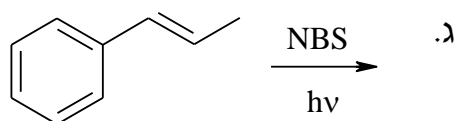
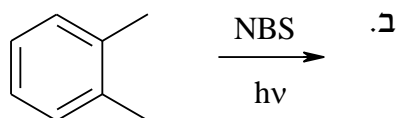
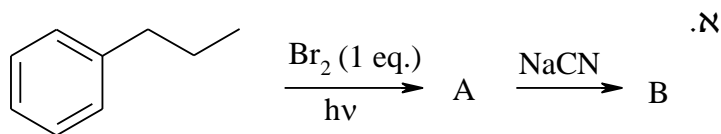
- (4) כמה חנקנים בסיסיים יש למולקולות הבאות?



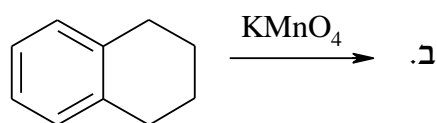
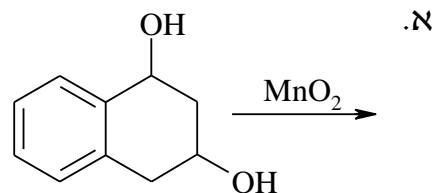
5) קבעו את מבנה החומר בהתבסס על הנתונים הספקטראליים הבאים:



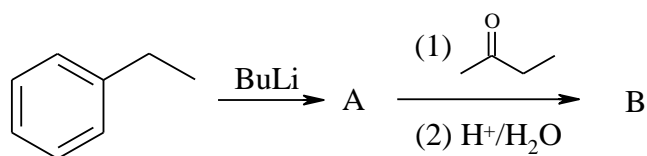
6) רשמו את תוצרי התגובות הבאות:



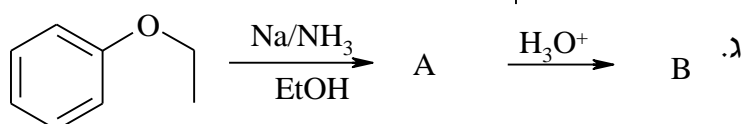
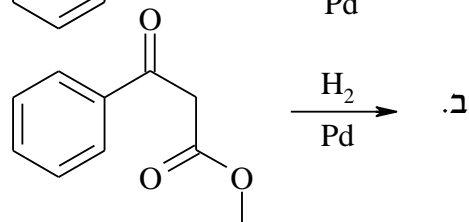
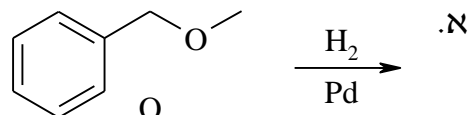
7) השלימו את התגובות הבאות:



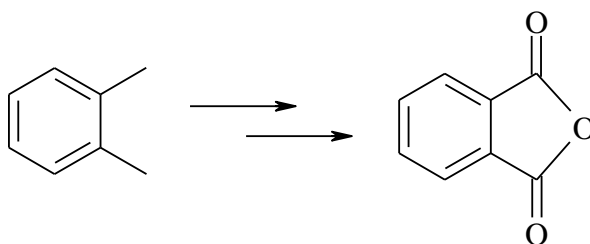
8) השלימו את הסכימה הבאה, ופרטו את המנגנון:



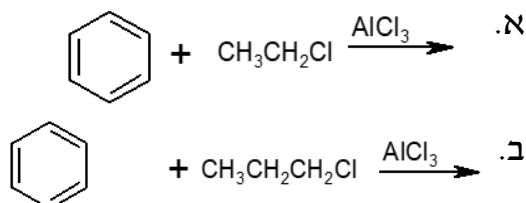
9) השלימו את התגובות הבאות:



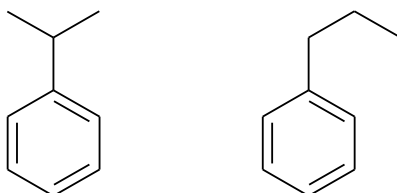
10) הציעו דרך סינטטית לקבלת החומר הבא :



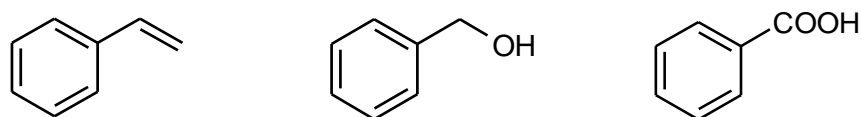
11) מה יהיו התוצרים העיקריים בתגובות הבאות :



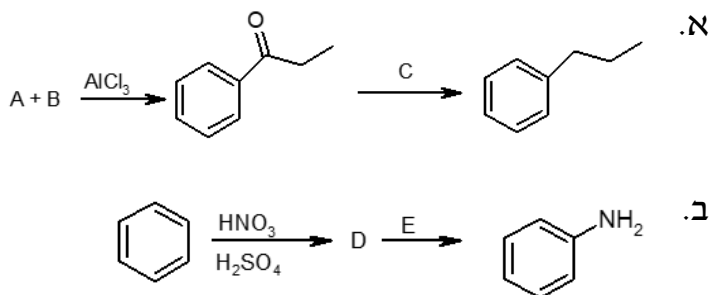
12) הצעו דרכים להכנת החומרים הבאים מבנזן וריאגנט אורגני בעל 3 פחמנים וכל חומר אי אורגני נדרש.



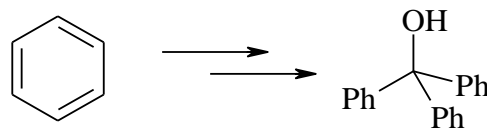
13) הצעו דרכים להכנת החומרים הבאים מבנזן וריאגנט אורגני בעל 3 פחמנים וכל חומר אי אורגני נדרש.



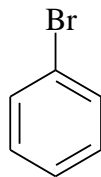
14) השלם את הסכימות הבאות :



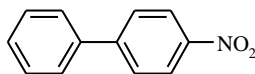
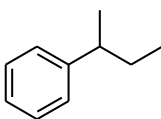
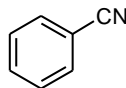
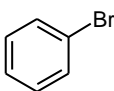
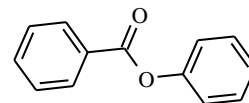
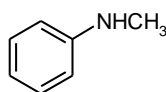
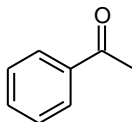
15) הציעו דרך סינטטית לקבלת החומר הבא:



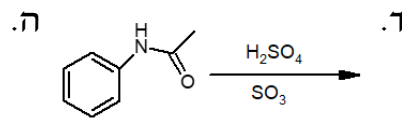
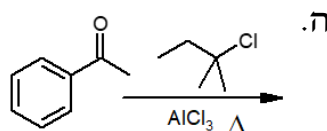
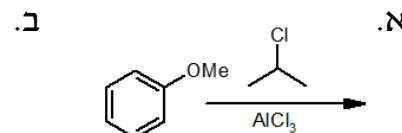
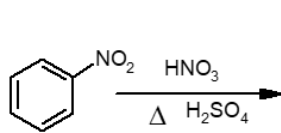
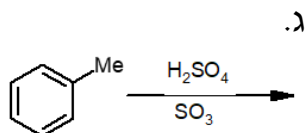
16) הראה את כל מצבי הרזוננס האפשריים להתקפה אלקטרופילית על ברומבנזן, סמן את הצורות הרזונטיביות המייצבות את הקרבוקטיון.



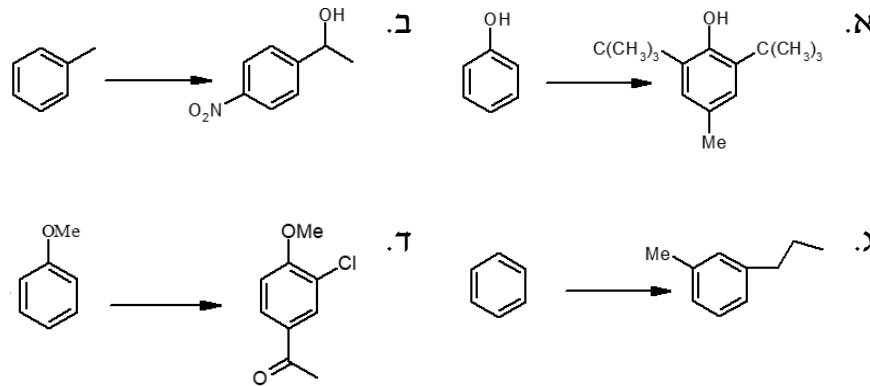
17) רשום את המבנים הצפויים להתקבל בתגובת מונוברומינציה של כל אחד מהמבנים הבאים. השווה האם התהליך יהיה מהיר יותר או איטי יותר בהשוואה לבנזן.



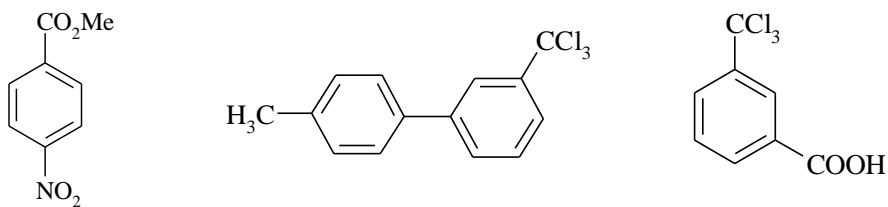
18) מהם התוצרים בתגובות הבאות?



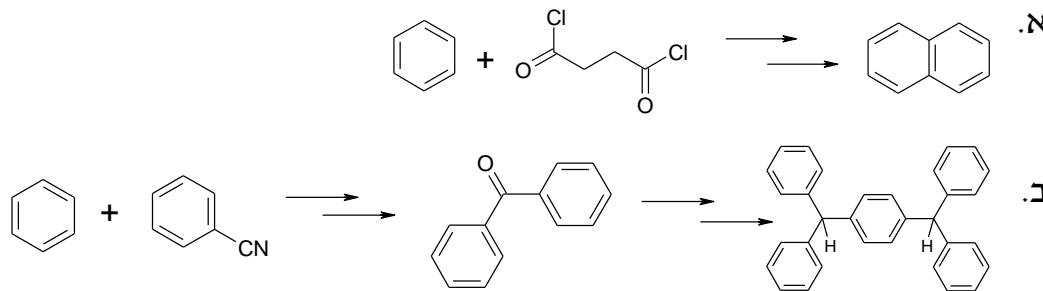
19) כיצד תכין/י את החומרים הבאים מבנזן או מחומר המוצא הנתון וחומרים אחרים בהתאם לצורך?



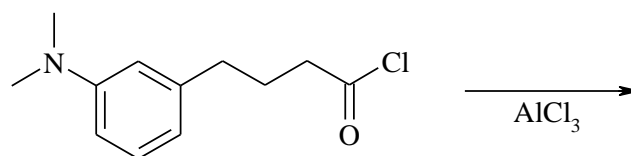
20) רשום את המבנים הצפויים להתקבל בתגובת ניטרציה של כל אחד מהמבנים הבאים. השווה האם התהליך יהיה מהיר יותר או איטי יותר בהשוואה לבנזן.



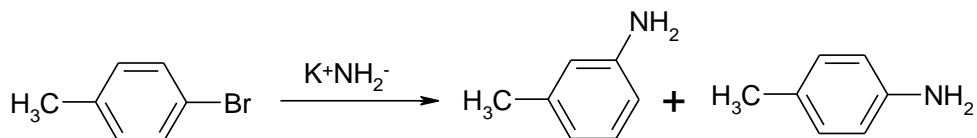
21) הציעו דרך סינטטית לקבלת התוצרים הבאים:



22) מהו תוצר התגובה הבאה? רשמו את המנגנון.



23) הציעו מנגנון לתגובה הבאה:



עקרונות בכימיה אורגנית ב

פרק 9 - אמינים

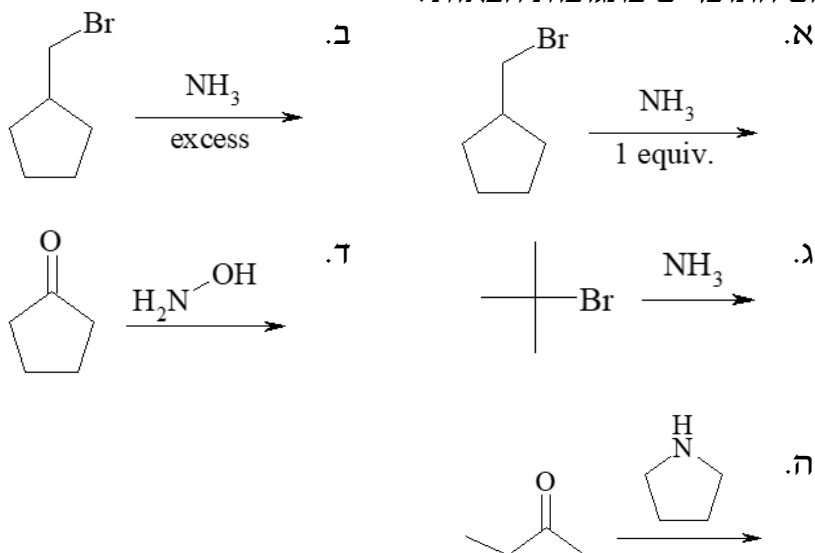
תוכן העניינים

24 1. כללי

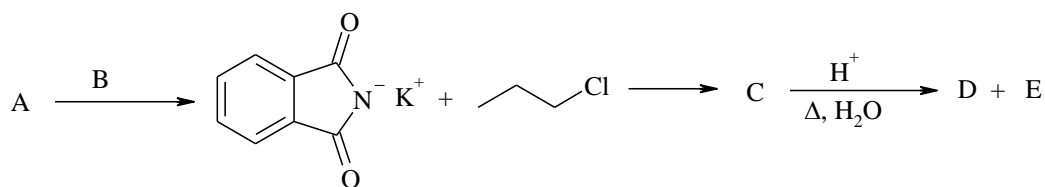
אמינים:

שאלות:

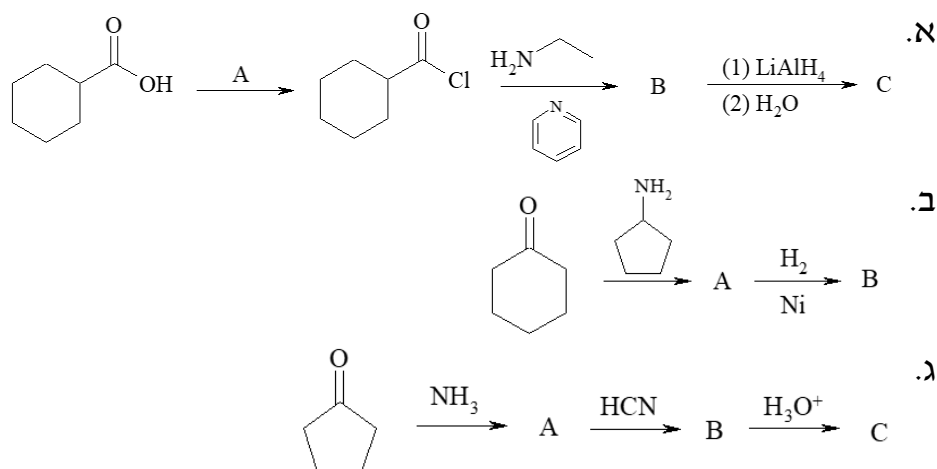
(1) מהם התוצרים בתגובות הבאות:



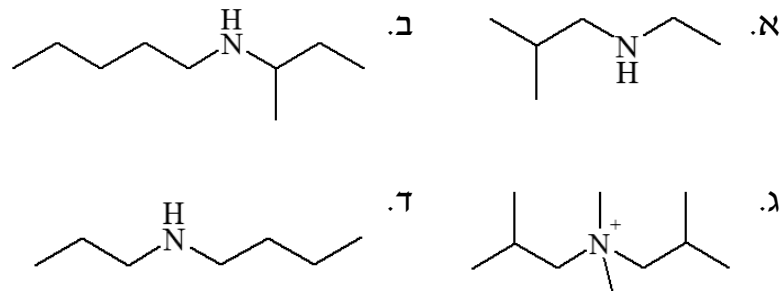
(2) השלם את הסכימה הבאה:



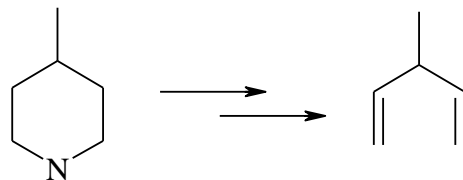
(3) השלם את הסכימות הבאות:



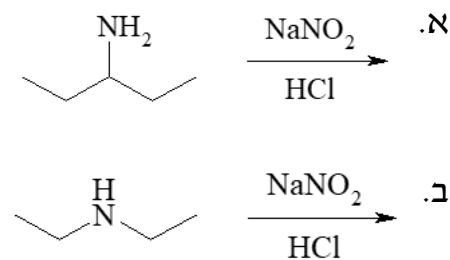
4) הכן את החומרים הבאים תוך שימוש כהלים המכילים עד 4 פחמנים וכל ריאגנט אי-אורגני:



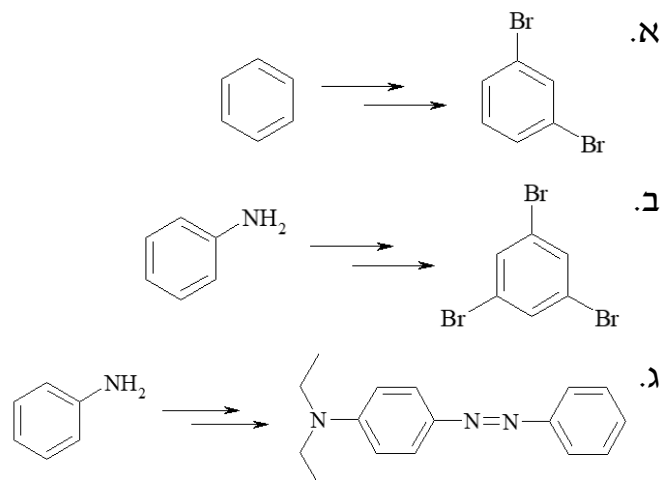
5) הצע דרך סינטטית לקבלת התוצר הבא:



6) השלם את התוצרים:



7) הצע דרך סינטטית לקבלת התוצרים הבאים:



עקרונות בכימיה אורגנית ב

פרק 10 - סוכרים

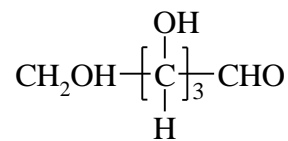
תוכן העניינים

26 1. כללי

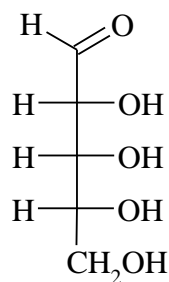
סוכרים:

שאלות:

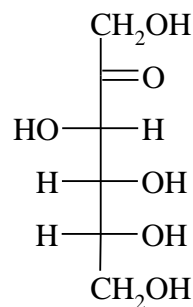
- (1) פרט את כל הסטראואיזומרים של החומר הבא על ידי שימוש בהשלכת פישר, קבע עבור כל אחד מהם אם הוא D או L וכן ציין את היחסים ביניהם (דיאסטראומרים או אננטיומרים).



- (2) ציירו את השלכת Howarth של הסוכרים הבאים עבור צורת ה- α וה- β שלהם. פרטו מנגנון עבור ריבוז:

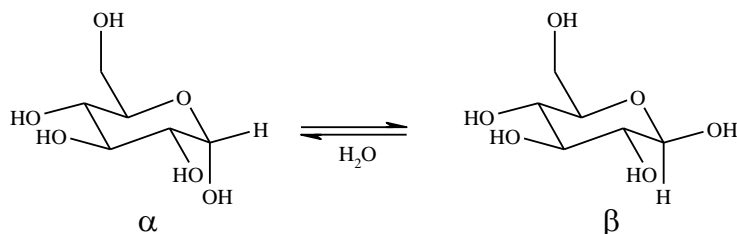


D-Ribose \longrightarrow D-Ribopyranose

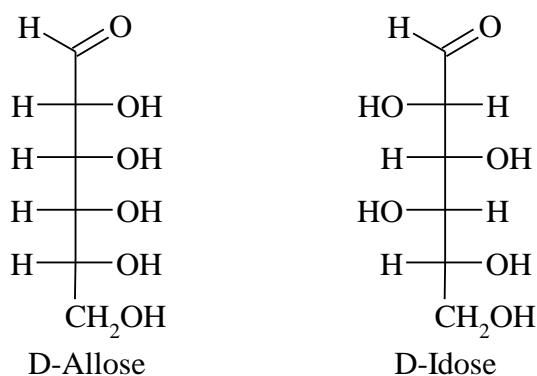


D-Fructose \longrightarrow D-Fructofuranose

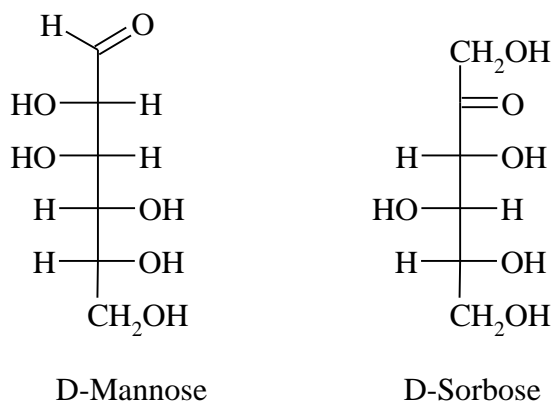
3) פרט מנגנון מוטרוטציה של D-glucopyranose מאנומר α ל- β .



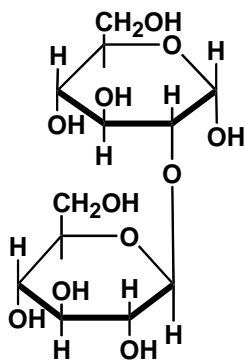
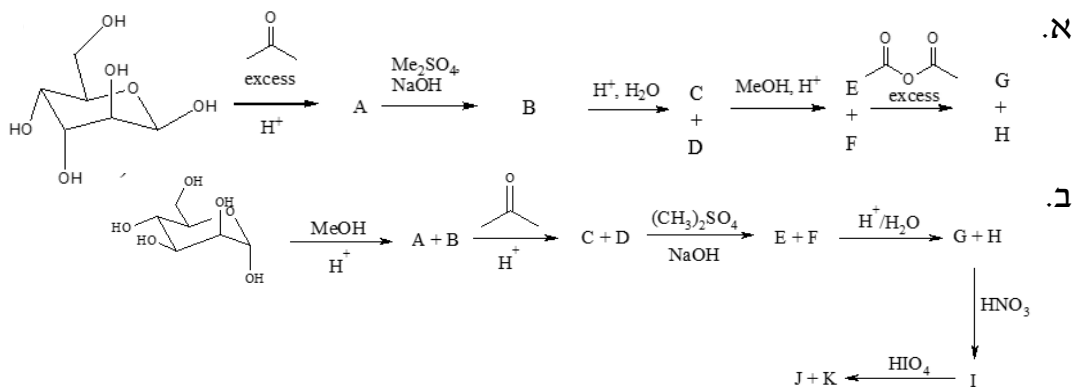
4) הציעו ריאקציה כימית שתאפשר להבחין בין D-Allose לבין D-Idose באמצעות מדידת פעילות אופטית.



5) רשמו את תוצרי התגובה האפשריים של הסוכרים הבאים עם MeOH בסביבה חומצית (D-Mannose נותן פיראנוז, ו-D-sorbose נותן פוראנוז).



6) השלימו את הסכימה הבאות:



7) נתונה נוסחת המבנה של Sophorose.

- האם זהו חד, דו או רב-סוכר?
- אפיינו את הקשר הגליקוזידי בו.
- האם רשומה צורת α או β של הסופרוז?
- האם ניתן יהיה לחזר את הסופרוז במחזרים ספציפיים לאלדהיד?
- כמה פחמנים אסימטריים יש בסופרוז?

8) זהה את הדיסכרידים הבאים:

- בהידרוליזה חומצית של סוכרוז וטוראנוז מתקבלת מולקולה אחת של אלדוהקסוז ומולקולה אחת של קטוהקסוז.
- בהידרוליזה חומצית של סלוביאוז מקבלים אותו אלדוהקסוז, בעוד שלקטוז נותן שתי אלדוהקסוזות שונות.
- לקטוז, טוראנוז סלוביאוז הינם דיסכרידים מחזרים.

