

# מבוא לסטטיסטיקה ושיטות מחקר

פרק 18 - בדיקת השערות על תוחלת (ממוצע)

תוכן העניינים

1. בדיקת השערות על תוחלת (ממוצע) כששונות האוכלוסיה ידועה. .... 1
2. סיכוי לטעויות ועוצמה (ששונות האוכלוסיה ידועה). .... 5
3. בדיקת השערות על תוחלת ( ממוצע) כששונות האוכלוסיה לא ידועה. .... 11

## בדיקת השערות על תוחלת (ממוצע) כששונות האוכלוסייה ידועה:

רקע:

$H_0: \mu \leq \mu_0$ $H_1: \mu > \mu_0$	$H_0: \mu \geq \mu_0$ $H_1: \mu < \mu_0$	$H_0: \mu = \mu_0$ $H_1: \mu \neq \mu_0$	השערת האפס: השערה אלטרנטיבה:
1. ידועה $\sigma$ 2. $X \sim N$ או מדגם מספיק גדול			תנאים:
$Z_{\bar{x}} > Z_{1-\alpha}$  $Z_{1-\alpha}$ דוחים את $H_0$	$Z_{\bar{x}} < -Z_{1-\alpha}$  $-Z_{1-\alpha}$ דוחים את $H_0$	$Z_{\bar{x}} < -Z_{1-\frac{\alpha}{2}}$ או $Z_{\bar{x}} > Z_{1-\frac{\alpha}{2}}$  $-Z_{1-\frac{\alpha}{2}}$ $Z_{1-\frac{\alpha}{2}}$ דוחים את $H_0$	כלל ההכרעה: אזור הדחייה של $H_0$

$$Z_{\bar{x}} = \frac{\bar{X} - \mu_0}{\frac{\sigma}{\sqrt{n}}}$$

סטטיסטי המבחן:

חלופה אחרת לכלל הכרעה:

$\bar{X} > \mu_0 + Z_{1-\alpha} \cdot \frac{\sigma}{\sqrt{n}}$	$\bar{X} < \mu_0 - Z_{1-\alpha} \cdot \frac{\sigma}{\sqrt{n}}$	$\bar{X} > \mu_0 + Z_{1-\frac{\alpha}{2}} \cdot \frac{\sigma}{\sqrt{n}}$ או $\bar{X} < \mu_0 - Z_{1-\frac{\alpha}{2}} \cdot \frac{\sigma}{\sqrt{n}}$	נדחה $H_0$ אם מתקיים:
--	--	--	--------------------------

**דוגמה:**

יבול העגבניות מתפלג נורמלית עם תוחלת של 10 טון לדונם וסטיית תקן של 2.5 טון לדונם בעונה. משערים ששיטת זיבול חדשה תעלה את תוחלת היבול לעונה מבלי לשנות את סטיית התקן. נדגמו 4 חלקות שזובלו בשיטה החדשה. היבול הממוצע שהתקבל היה 12.5 טון לדונם. בדקו את ההשערה ברמת מובהקות של 1%.

**פיתרון:**

אוכלוסייה: עגבניות.

המשתנה:  $X =$  יבול העגבניות בטון לעונה.

הפרמטר:  $\mu =$  תוחלת היבול בשיטת הזיבול החדשה.

השערות:  
 $H_0: \mu = 10$   
 $H_1: \mu > 10$

**תנאים:**

1.  $X \sim N$

2.  $\sigma = 2.5$

**כלל הכרעה:**

נדחה את  $H_0$  אם  $Z_{\bar{x}} > 2.326$

תוצאות:  $n = 4$ ,  $\bar{x} = 12.5$

סטטיסטי המבחן:  $Z_{\bar{x}} = \frac{\bar{X} - \mu_0}{\frac{\sigma}{\sqrt{n}}}$

נציב:  $Z_{\bar{x}} = \frac{1.25 - 10}{\frac{2.5}{\sqrt{4}}} = 2 < 2.326$

**מסקנה:**

לא נדחה  $H_0$  (נקבל  $H_0$ ).

ברמת מובהקות של 1% לא נוכל לקבל את הטענה ששיטת הזיבול החדשה מעלה את תוחלת היבול של העגבניות.

## שאלות:

- (1) ממוצע הציונים בבחינת הבגרות באנגלית הנו 72 עם סטיית תקן 15 נקודות. מורה טוען שפיתח שיטת לימוד חדשה שתעלה את ממוצע הציונים. משרד החינוך החליט לתת למורה 36 תלמידים אקראיים. ממוצע הציונים של אותם תלמידים לאחר שלמדו בשיטתו היה 75.5. בהנחה שגם בשיטתו סטיית התקן תהיה 15 מה מסקנתכם ברמת מובהקות של 5%?
- (2) לפי הצהרת היצרן של חברת משקאות מסוימת נפח הנוזל בבקבוק מתפלג נורמלית עם תוחלת 500 ס"מ<sup>3</sup> וסטיית תקן 20 ס"מ<sup>3</sup>. אגודת הצרכנים מתלוננת על הפחתת נפח המשקה בבקבוק מהכמות המוצהרת. במדגם שעשתה אגודת הצרכנים התקבל נפח ממוצע של 492 ס"מ<sup>3</sup> במדגם בגודל 25. א. מה מסקנתכם ברמת מובהקות של 2.5%? ב. האם ניתן לדעת מה תהיה המסקנה עבור רמת מובהקות הגבוהה מ-5%?
- (3) מהנדס האיכות מעוניין לבדוק אם מכונה מכיילת (מאופסת). המכונה כוונה לחתוך מוטות באורך 50 ס"מ. לפי נתוני היצרן סטיית התקן בחיתוך המוטות היא 0.5 ס"מ. במדגם של 50 מוטות התקבל ממוצע אורך המוט 50.93 ס"מ. מה מסקנתכם ברמת מובהקות של 5%?
- (4) המשקל הממוצע של הספורטאים בתחום ספורט מסוים הוא 90 ק"ג, עם סטיית תקן 8 ק"ג. לפי דעת מומחים בתחום יש צורך בהורדת המשקל ובשימוש בדיאטה מסוימת שצריכה להביא להורדת המשקל. לשם בדיקת יעילות הדיאטה נלקח מדגם מקרי של 50 ספורטאים ובתום שנה של שימוש בדיאטה התברר שהמשקל הממוצע במדגם זה היה 84 ק"ג. יש לבדוק בר"מ של 10%, האם הדיאטה גורמת להורדת המשקל.
- (5) לפי מפרט נתון, על עובי בורג להיות 4 מ"מ עם סטיית תקן של 0.2 מ"מ. במדגם של 25 ברגים העובי הממוצע היה 4.07 מ"מ. קבעו ברמת מובהקות 0.05, האם עובי הברגים מתאים למפרט. הניחו כי עובי של בורג מתפלג נורמלית וסטיית התקן של עובי בורג היא אכן 0.2 מ"מ.
- (6) במחקר נמצא שתוצאה היא מובהקת ברמת מובהקות של 5% מה תמיד נכון? בחרו בתשובה הנכונה.
- א. הגדלת רמת המובהקות לא תשנה את מסקנת המחקר.  
 ב. הגדלת רמת המובהקות תשנה את מסקנת המחקר.  
 ג. הקטנת רמת המובהקות לא תשנה את מסקנת המחקר.  
 ד. הקטנת רמת המובהקות תשנה את מסקנת המחקר.

(7) חוקר ערך מבחן דו צדדי ברמת מובהקות של  $\alpha$  והחליט לדחות את השערת האפס.

אם החוקר היה עורך מבחן צדדי ברמת מובהקות של  $\frac{\alpha}{2}$  אזי בהכרח:

- א. השערת האפס הייתה נדחית.
- ב. השערת האפס הייתה לא נדחית.
- ג. לא ניתן לדעת מה תהיה מסקנתו במקרה זה.

(8) שני סטטיסטיקאים בדקו השערות:  $H_0: \mu = \mu_0$  כנגד  $H_1: \mu > \mu_0$ ,

עבור שונות ידועה ובאותה רמת מובהקות.

שני החוקרים קבלו אותו ממוצע במדגם אך לחוקר א' היה מדגם בגודל 100 ולחוקר ב' מדגם בגודל 200.

- א. אם חוקר א' החליט לדחות את  $H_0$ , מה יחליט חוקר ב'? נמקו.
- ב. אם חוקר א' יחליט לא לדחות את  $H_0$ , מה יחליט חוקר ב'? נמקו.

### תשובות סופיות:

- (1) נקבל  $H_0$ , בר"מ של 5% לא נקבל את הטענה של המורה ששיטת הלימוד שלו מעלה את ממוצע הציונים.
- (2) א. נדחה  $H_0$ , בר"מ של 2.5% נקבל את תלונת אגודת הצרכנים בדבר הפחתת נפח המשקה בבקבוק.  
ב. הגדלנו את רמת המובהקות לכן אנחנו נשארים בדחייה של  $H_0$  והמסקנה לא תשתנה.
- (3) נדחה  $H_0$ , בר"מ של 5% נקבע שהמכונה לא מאופסת.
- (4) נדחה  $H_0$ , בר"מ של 0.1 נקבל את הטענה שהדיאטה יעילה ומפחיתה את המשקל הממוצע.
- (5) נקבל  $H_0$ , בר"מ של 0.05 נכריע שתוחלת עובי הבורג מתים למפרט.
- (6) א'.
- (7) ג'.
- (8) א. לדחות. ב. לא ניתן לדעת.

## סיכוי לטעויות ועוצמה (ששונות האוכלוסייה ידועה):

רקע:

		הכרעה	
		$H_0$	$H_1$
מציאות	$H_0$	אין טעות	טעות מסוג 1
	$H_1$	טעות מסוג 2	אין טעות

הגדרת הסתברויות:

הסיכוי לבצע טעות מסוג 1 (רמת מובהקות):

$$\alpha = P(H_0 \text{ לדחות את } H_0 \mid H_0 \text{ נכונה}) = P_{H_0}(H_0)$$

הסיכוי לבצע טעות מסוג 2:

$$\beta = P(H_0 \text{ לקבל את } H_0 \mid H_1 \text{ נכונה}) = P_{H_1}(H_0)$$

רמת בטחון:

$$(\alpha - 1) = P(H_0 \text{ לקבל את } H_0 \mid H_0 \text{ נכונה}) = P_{H_0}(H_0)$$

עוצמה:

$$(\beta - 1) = \pi = P(H_0 \text{ לדחות את } H_1 \mid H_1 \text{ נכונה}) = P_{H_1}(H_0)$$

**התהליך לחישוב סיכוי לטעות מסוג שני:**

השערת האפס: השערת האלטרנטיבה:	$H_0 : \mu = \mu_0$ $H_1 : \mu > \mu_0$	$H_0 : \mu = \mu_0$ $H_1 : \mu < \mu_0$	$H_0 : \mu = \mu_0$ $H_1 : \mu \neq \mu_0$
<b>תנאים:</b>	1. $\sigma$ ידועה 2. $X \sim N$ או מדגם מספיק גדול		
<b>כלל ההכרעה: אזור הדחייה של <math>H_0</math>:</b>	$\bar{X} > \mu_0 + Z_{1-\alpha} \cdot \frac{\sigma}{\sqrt{n}}$	$\bar{X} < \mu_0 - Z_{1-\alpha} \cdot \frac{\sigma}{\sqrt{n}}$	$\bar{X} > \mu_0 + Z_{\frac{1-\alpha}{2}} \cdot \frac{\sigma}{\sqrt{n}}$ או $\bar{X} < \mu_0 - Z_{\frac{1-\alpha}{2}} \cdot \frac{\sigma}{\sqrt{n}}$
<b>חישוב <math>\beta</math>:</b>	$P_{\mu_1} \left( \bar{X} < \mu_0 + Z_{1-\alpha} \cdot \frac{\sigma}{\sqrt{n}} \right)$	$P_{\mu_1} \left( \bar{X} > \mu_0 - Z_{1-\alpha} \cdot \frac{\sigma}{\sqrt{n}} \right)$	$P_{\mu_1} \left( \mu_0 - Z_{\frac{1-\alpha}{2}} \cdot \frac{\sigma}{\sqrt{n}} < \bar{X} < \mu_0 + Z_{\frac{1-\alpha}{2}} \cdot \frac{\sigma}{\sqrt{n}} \right)$

**התפלגות ממוצע המדגם:**  $\bar{X} \sim N \left( \mu, \frac{\sigma^2}{n} \right)$

**התקנון:**  $Z = \frac{\bar{x} - \mu}{\frac{\sigma}{\sqrt{n}}}$

**דוגמה:**

בתחילת השנה חשבון הטלפון הסלולארי הממוצע לאדם היה 200 ש"ח עם סטיית תקן של 80 ש"ח לחודש. בעקבות כניסתן של חברות טלפון סלולארית חדשות מעוניינים לבדוק האם כיום ממוצע חשבון הטלפון הסלולארי פחת. לצורך בדיקה דגמו באקראי 36 אנשים וחשבון הטלפון הסלולארי שלהם היה 150 ש"ח בממוצע לחודש.

- רשמו את השערות המחקר ובנו כלל הכרעה במונחי חשבון ממוצע מדגמי ברמת מובהקות של 5%.
- מה מסקנתכם? איזה סוג טעות אפשרית במסקנה?
- נניח שבמציאות כיום החשבון הממוצע הוא 160 ש"ח. מה הסיכוי לבצע טעות מסוג שני?
- אם נקטין את רמת המובהקות מסעיף א', כיצד הדבר ישפיע על התשובה מסעיף ג'?

## פתרון:

א. אוכלוסייה: משלמי חשבון טלפון סלולאר כיום.

המשתנה:  $X =$  חשבון הטלפון החודשי בשקלים.

הפרמטר:  $\mu$ .

השערות:  
 $H_0: \mu = 200$   
 $H_1: \mu < 200$

תנאים:

$$1. \mu = 200$$

$$2. n = 36$$

$$\bar{X} < \mu_0 - Z_{1-\frac{\alpha}{2}} \cdot \frac{\sigma}{\sqrt{n}}, \quad K = \mu_0 - Z_{1-\frac{\alpha}{2}} \cdot \frac{\sigma}{\sqrt{n}}$$

$$\alpha = 0.05$$

$$Z_{1-\alpha} = Z_{0.95} = 1.645$$

$$נציב: שקלים  $K = 200 - 1.645 \cdot \frac{80}{\sqrt{36}} = 178.07$$$

כלל ההכרעה: דחה את  $H_0$  אם שקלים  $\bar{X} < 178.07$ .

ב. ברמת מובהקות של 5% נכריע שאכן ממוצע חשבון הטלפון הסלולרי פחת מתחילת השנה.

ג. השערות:  
 $H_0: \mu_0 = 200$   
 $H_1: \mu < 200$

כלל ההכרעה: נדחה את  $H_0$  אם  $\bar{X} < 178.07$ .

$$H_1: \bar{X} \sim N\left(160, \frac{80^2}{36}\right)$$

$$Z = \frac{178.07 - 160}{\frac{80}{\sqrt{36}}} = 1.36$$

$$\beta = P_{H_1}(\text{לקבל את } H_0) = P_{H_1}(\bar{X} > 178.07) = 1 - \phi(1.36) = 1 - 0.9131 = 0.0869$$

ד. הקטנת  $\alpha$  מגדילה את  $\beta$ .

## שאלות:

$$(1) \text{ נתון ש: } X \sim N(\mu, \sigma^2 = 1)$$

להלן השערות של חוקר לגבי הפרמטר  $\mu$ :  $H_0: \mu = 5$ ,  $H_1: \mu = 7$ . מעוניינים ליצור כלל הכרעה המתבסס על הסמך תצפית בודדת כך שרמת המובהקות תהיה 5%.

- עבור אילו ערכים של  $X$  שידגם נדחית השערת  $H_0$ ?
- מה הסיכוי לבצע טעות מסוג שני?
- אם במדגם התקבל ש- $X = 6.9$  מה תהיה המסקנה ומה הטעות האפשרית?

(2) לפי נתוני משרד הפנים בשנת 1980 למשפחה ממוצעת היה 2.3 ילדים למשפחה עם סטיית תקן 0.4. מעוניינים לבדוק אם כיום ממוצע מספר הילדים למשפחה קטן יותר. לצורך כך הוחלט לדגום 121 משפחות. במדגם התקבל ממוצע 2.17 ילדים למשפחה.

- רשמו כלל הכרעה במונחי ממוצע מדגם קריטי ברמת מובהקות של 5%.
- בהמשך לסעיף א' מה תהיה המסקנה ומהי הטעות האפשרית במסקנה?
- אם באמת ממוצע מספר הילדים במשפחה פחת לכדי 2.1 מהי העצמה של הכלל מסעיף א'?

(3) להלן נתונים על תהליך של בדיקת השערות על תוחלת:

$$H_0: \mu = 200, H_1: \mu \neq 200, \sigma = 30, n = 225$$

- רשמו כלל הכרעה במונחי ממוצע מדגם קריטי וברמת מובהקות של 10%.
- בהמשך לסעיף א', מהי העצמה אם התוחלת שווה ל-195?
- הסבירו, ללא חישוב, איך העצמה תשתנה אם רמת המובהקות תהיה 5%?

(4) מפעל לייצור צינורות מייצר צינור שקוטרו מתפלג נורמלית עם תוחלת של 50 מ"מ וסטית תקן של 6 מ"מ. במחלקת ביקורת האיכות דוגמים בכל יום 81 צינורות ומוודדים את קוטרים, בכדי לבדוק, בעזרת מבחן סטטיסטי, האם מכונת הייצור מכוילת כנדרש או שקוטר הצינורות קטן מהדרוש.

- רשמו את ההשערות ואת כלל ההכרעה ברמת מובהקות של 5%.
- אם ביום כלשהו מכונת הייצור התקלקלה והיא מייצרת את הצינורות בקוטר שתוחלתו 48 מ"מ בלבד (סטית התקן לא השתנתה), מה ההסתברות שהתקלה לא תתגלה בביקורת האיכות? כיצד נקראת הסתברות זו?
- הסבירו ללא חישוב כיצד התשובה לסעיף ב תשתנה אם רמת המובהקות תגדל.
- הסבירו ללא חישוב כיצד התשובה לסעיף ב תשתנה אם התוחלת האמיתית היא 47 ולא 48 מ"מ.

- (5) להלן השערות של מחקר:  $H_0: \mu = 50$ ,  $H_1: \mu = 58$ . מעוניינים לדגום 100 תצפיות. ידוע שסטיית התקן של ההתפלגות הינה 20.
- בנו כלל הכרעה שהסיכוי לטעות מסוג שני בו הוא 10%. מהי רמת המובהקות?
  - כיצד הייתה משתנה רמת המובהקות אם (כל סעיף בפני עצמו)?
    - סטיית התקן הייתה יותר גדולה.
    - הסיכוי לטעות מסוג שני גדול יותר.

**השאלות שלהלן הן שאלות רב-ברירה, בחרו בתשובה הנכונה ביותר:**

- (6) אם חוקר החליט להגדיל את רמת המובהקות במחקר שלו אזי:
- הסיכוי לטעות מסוג ראשון גדל.
  - העוצמה של המבחן גדלה.
  - הסיכוי לטעות מסוג שני גדל.
  - תשובות א' ו-ב' נכונות.

- (7) חוקר ביצע מחקר ובו עשה טעות מסוג שני לכן:
- השערת האפס נכונה.
  - השערת האפס נדחתה.
  - השערת האפס לא נדחתה.
  - אף אחת מהתשובות לא נכונה בהכרח.

- (8) מה המצב הרצוי לחוקר המבצע בדיקת השערה:

$1 - \beta$	$\alpha$
גדולה	א. גדולה
קטנה	ב. גדולה
גדולה	ג. קטנה
קטנה	ד. קטנה

- (9) נערך שינוי בכלל ההחלטה של בדיקת השערה מסוימת ובעקבותיו אזור דחיית  $H_0$  קטן. כל שאר הגורמים נשארו ללא שינוי. כתוצאה מכך:
- הן  $\alpha$ , והן  $1 - \beta$ , יקטנו.
  - $\alpha$  יישאר ללא שינוי ואילו  $1 - \beta$  יגדל.
  - $\alpha$  יגדל ואילו  $1 - \beta$  יקטן.
  - הן  $\alpha$  והן  $1 - \beta$  יגדלו.

10) ידוע כי לחץ דם תקין באוכלוסייה הוא 120. רופא מניח שלחץ הדם בקרב עיתונאים גבוה יותר מהממוצע באוכלוסייה. הוא לקח מדגם של 60 עיתונאים וקיבל ממוצע 137. על סמך המדגם, הוא בודק טענתו ברמת מובהקות 0.02 ומסיק שלחץ הדם בקרב העיתונאים אינו גבוה יותר. מה הטעות האפשרית שהרופא עושה?

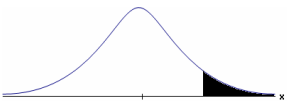

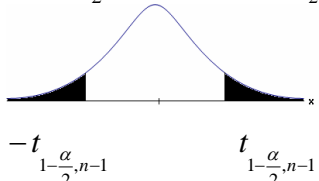
- א. טעות מסוג ראשון.
- ב. טעות מסוג שני.
- ג. טעות מסוג שלישי.
- ד. אין טעות במסקנתו.

### תשובות סופיות:

- 1) א. מעל 6.645. ב. 0.3594.  
ג. דחינו את  $H_0$ , תתכן טעות מסוג ראשון.
- 2) א. נדחה  $H_0$  אם  $\bar{X} < 2.24$ . ב. נדחה  $H_0$ . ג. 1.
- 3) א. נדחה  $H_0$  אם  $\bar{X} > 203.29$  או  $\bar{X} < 196.71$ . ב. 0.8051. ג. תקטן.
- 4) א. נדחה  $H_0$  אם  $\bar{X} < 48.9$ . ב. 0.0885. ג. תקטן. ד. תקטן.
- 5) א. 0.0033. ב. i. רמת המובהקות הייתה קטנה.  
ii. רמת המובהקות הייתה גדלה.
- 6) ד'
- 7) ג'
- 8) ג'
- 9) א'
- 10) ב'

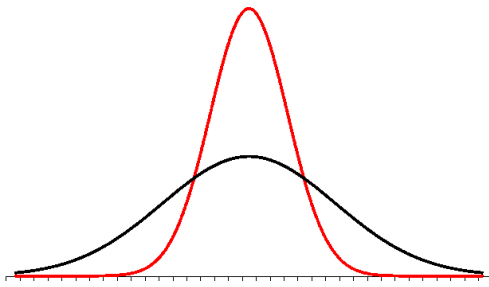
## בדיקת השערות על תוחלת (ממוצע) כששונות האוכלוסייה לא ידועה:

רקע:

$H_0 : \mu = \mu_0$ $H_1 : \mu > \mu_0$	$H_0 : \mu = \mu_0$ $H_1 : \mu < \mu_0$	$H_0 : \mu = \mu_0$ $H_1 : \mu \neq \mu_0$	השערת האפס: השערה אלטרנטיבה:
1. $\sigma$ אינה ידועה 2. $X \sim N$ או מדגם מספיק גדול			תנאים:
$t_{\bar{x}} > t_{1-\alpha}^{(n-1)}$  $t_{1-\alpha, n-1}$ - דוחים את $H_0$	$t_{\bar{x}} < -t_{1-\alpha}^{(n-1)}$  $-t_{1-\alpha, n-1}$ - דוחים את $H_0$	$t_{\bar{x}} < -t_{1-\frac{\alpha}{2}}^{(n-1)}$ או $t_{\bar{x}} > t_{1-\frac{\alpha}{2}}^{(n-1)}$  $-t_{1-\frac{\alpha}{2}, n-1}$ $t_{1-\frac{\alpha}{2}, n-1}$ - דוחים את $H_0$	כלל ההכרעה: אזור הדחייה של $H_0$ :
$\bar{X} > \mu_0 + t_{1-\alpha}^{n-1} \cdot \frac{S}{\sqrt{n}}$	$\bar{X} < \mu_0 - t_{1-\alpha}^{n-1} \cdot \frac{S}{\sqrt{n}}$	$\bar{X} > \mu_0 + t_{1-\frac{\alpha}{2}}^{n-1} \cdot \frac{S}{\sqrt{n}}$ או $\bar{X} < \mu_0 - t_{1-\frac{\alpha}{2}}^{n-1} \cdot \frac{S}{\sqrt{n}}$	חלופה לכלל הכרעה: נדחה $H_0$ אם מתקיים:

$$t_{\bar{x}} = \frac{\bar{x} - \mu_0}{\frac{S}{\sqrt{n}}}$$

$$S^2 = \frac{\sum_{i=1}^n (X_i - \bar{X})^2}{n-1} = \frac{\sum_{i=1}^n X_i^2 - n\bar{X}^2}{n-1}$$



### התפלגות T:

הינה התפלגות סימטרית פעמונית שהתוחלת שלה היא 0. ההתפלגות דומה להתפלגות Z רק שהיא יותר רחבה ולכן הערכים שלה יהיו יותר גבוהים. התפלגות T תלויה במושג שנקרא דרגות חופש.

דרגות החופש הן:  $df = n - 1$ .

ככל שדרגות החופש עולות ההתפלגות הופכת להיות יותר גבוהה וצרה. כשדרגות החופש שואפות לאינסוף התפלגות T שואפת להיות כמו התפלגות Z.

### דוגמה (פתרון בהקלטה):

מפעל קיבל הזמנה לייצור משטחים בעובי של 0.1 ס"מ. כדי לבדוק האם המפעל עומד בדרישה נדגמו 10 משטחים ונמצא שהעובי הממוצע הוא 0.104 עם אומדן לסטיית תקן 0.002 ס"מ.

א. מהן השערות המחקר?

ב. מה ההנחה הדרושה לצורך פתרון?

ג. בדוק ברמת מובהקות של 5%.

## שאלות:

(1) משך זמן ההחלמה בלקיחת אנטיביוטיקה מסוימת הוא 120 שעות בממוצע עם סטיית תקן לא ידועה. מעוניינים לבדוק האם אנטיביוטיקה אחרת מקטינה את משך זמן ההחלמה. במדגם של 5 חולים שלקחו את האנטיביוטיקה האחרת התקבלו זמני ההחלמה הבאים: 90, 95, 100, 80, 125 שעות. מה מסקנתכם ברמת מובהקות של 5%. מהי ההנחה הדרושה לצורך הפתרון?

(2) משרד הבריאות פרסם שמשקל ממוצע של תינוקות ביום היוולדם בישראל 3300 גר'. משרד הבריאות רוצה לחקור את הטענה ששנים מעשנות בזמן ההיריון יולדות תינוקות במשקל נמוך מהממוצע. במחקר השתתפו 20 נשים מעשנות בהריון. להלן תוצאות המדגם שבדק את המשקל של התינוקות בעת הלידה:

$$n = 20$$

$$\bar{x} = 3120$$

$$S = 280$$

מה מסקנתכם ברמת מובהקות של 5% מה יש להניח לצורך פתרון?

(3) ציוני מבחן אינטליגנציה מתפלגים נורמלית. בארה"ב ממוצע הציונים הוא 100. במדגם שנעשה על 23 נבחנים ישראלים, התקבל ממוצע ציונים 104.5 וסטיית התקן המדגמית 16. האם בישראל ממוצע הציונים שונה מארה"ב? הסיקו ברמת מובהקות של 5%.

(4) באוכלוסייה מסוימת נדגמו 10 תצפיות והתקבלו התוצאות הבאות:

$$\sum_{i=1}^{10} X_i = 750$$

$$\sum_{i=1}^{10} (X_i - \bar{X})^2 = 900$$

נתון שההתפלגות היא נורמלית.

בדוק ברמת מובהקות של 5% האם התוחלת של ההתפלגות שונה מ-80.

- (5) ליאור ורוני העלו את אותן השערות על ממוצע האוכלוסייה. כמו כן הם התבססו על אותן תוצאות של מדגם. ליאור השתמש בטבלה של התפלגות  $Z$ . רוני השתמשה בטבלה של התפלגות  $t$ . מה נוכל לומר בנוגע להחלטת המחקר שלהם? בחר בתשובה הנכונה.
- אם ליאור ידחה את השערת האפס אז גם בהכרח רוני.
  - אם רוני תדחה את השערת האפס אז גם בהכרח ליאור.
  - שני החוקרים בהכרח יגיעו לאותה מסקנה.
  - לא ניתן לדעת על היחס בין דחיית השערת האפס של שני החוקרים.

- (6) נתון ש:  $X \sim N(\mu, \sigma^2)$  כמו כן נתונות ההשערות הבאות:  $H_0: \mu = \mu_0$  ,  $H_1: \mu < \mu_0$

חוקר בדק את ההשערות הללו על סמך מדגם שכלל 10 תצפיות.  $\sigma^2$  לא הייתה ידועה לחוקר. החוקר החליט לדחות את השערת האפס ברמת מובהקות של 5% לאחר מכן כדי לחזק את קביעתו הוא דגם עוד 5 תצפיות ושקלל את תוצאות אלה גם למדגם כך שכלל עכשיו 15 תצפיות. בחר בתשובה הנכונה:

- כעת בברור הוא ידחה את השערת האפס.
- כעת הוא דווקא יקבל את השערת האפס.
- כעת לא ניתן לדעת מה תהיה מסקנתו.

### תשובות סופיות:

- (1) נדחה  $H_0$ .
- (2) נדחה  $H_0$ .
- (3) נקבל  $H_0$ .
- (4) נקבל  $H_0$ .
- (5) ב'.
- (6) ג'.