

# פיזיקה ב

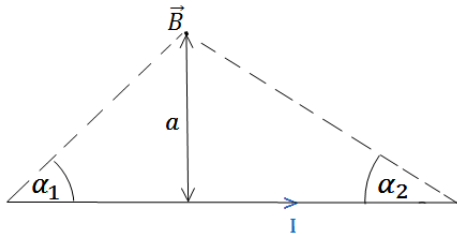
פרק 19 - הסבר מתקדם על חוק ביו סבר כולל אינטגרלים ותרגילים  
מתקדמים

תוכן העניינים

1. הרצאות ותרגילים.....1

## הרצאות ותרגילים:

### שאלות:



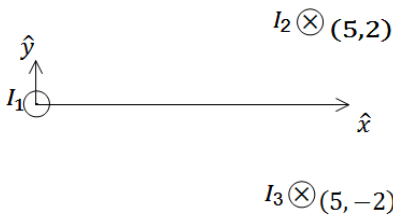
- (1) חישוב שדה של תיל סופי לפי זוויות  
הראה כי גודלו של השדה המגנטי שיוצר תיל  
בנקודה הנמצאת במרחק  $a$  מהתיל הוא:

$$B = \frac{\mu_0 I}{4\pi a} (\cos \alpha_1 + \cos \alpha_2)$$

כאשר  $I$  הוא הזרם בתיל.



- (2) חישוב שדה של טבעת  
חשב את השדה המגנטי לאורך ציר הסימטריה  
של טבעת ברדיוס  $R$  כאשר בטבעת זרם  $I$ .

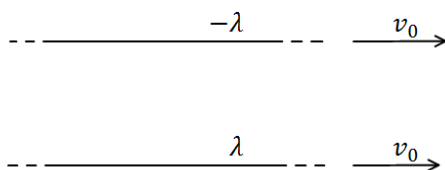


- (3) שדה של שלושה תילים אינסופיים  
שלושה תילים אינסופיים המקבילים לציר ה- $z$   
מונחים במיקומים הבאים:  
 $\vec{r}_1(0,0)$ ,  $\vec{r}_2(5,2)$ ,  $\vec{r}_3(5,-2)$   
הזרמים בתילים הם:

$I_1 = 3A$  החוצה מהדף,  $I_2 = 5A$  לתוך הדף,  $I_3 = 4A$  גם כן לתוך הדף.  
מצא באיזה נקודה לאורך ציר ה- $x$  מתאפס הרכיב של השדה המגנטי בכיוון  $y$ ?

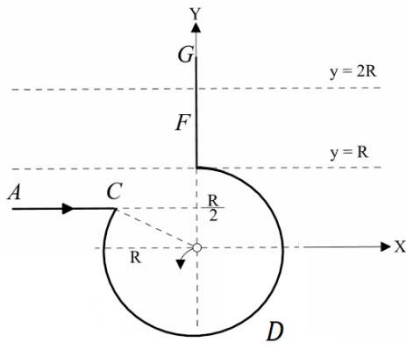
### (4) מצולע עם אן צלעות

- במצולע משוכלל (כל הצלעות שוות) בעל  $n$  צלעות זרם  $I$ .  
נתון כי המצולע חסום ע"י מעגל ברדיוס  $R$ .  
א. מהו השדה המגנטי במרכז המצולע?  
ב. בדוק עבור  $n \rightarrow \infty$ .



- (5) כוח מגנטי מתבטל עם חשמלי  
שני תילים אינסופיים טעונים בצפיפות  
מטען  $\lambda$  ו- $-\lambda$ .  
התילים מקבילים ונמשכים במהירות  
קבועה  $v_0$  ימינה.

מצא את גודל המהירות כך שהכוח המגנטי יתבטל עם הכוח החשמלי?



**6) חישוב שדה של תיל מיוחד**

תיל ACDFG כולל חלק מעגלי שרדיוסו R ושני קטעים ישרים אינסופיים. המשך הקו AC חותך את רדיוס המעגל במרכזו (ראו בשרטוט). בתיל זרם I, כיוון הזרם מסומן בשרטוט.

א. מהו גודלו וכיוונו של וקטור השדה המגנטי במרכז החלק המעגלי של התיל?

ב. חלקיק טעון עובר דרך מרכז החלק המעגלי של התיל מסלולו מתעקם עקב השפעת השדה המגנטי של התיל.

צורת המסלול וכיוון התנועה נתונים בשרטוט. מהו סימן מטענו של החלקיק?

ג. בניסוי נוסף יוצרים שדה מגנטי לא אחיד בכל התחום  $R < y < 2R$ . חלק של התיל FG נמצא בתוך תחום זה (ראו בשרטוט).

נתון וקטור השדה  $\vec{B}(0,0, ay^2)$ , כאשר הקבוע a נתון. מהו הכוח המגנטי ששדה זה מפעיל על התיל?

**תשובות סופיות:**

1) שאלת הוכחה.

$$B_x = B_y = 0, \quad B_z = \frac{\mu_0 I R^2}{2(R^2 + z^2)^{\frac{3}{2}}} \quad (2)$$

$$x_1 = -2.76, \quad x_2 = 5.26 \quad (3)$$

$$B = \frac{\mu_0 I}{2R} \quad \text{ב.} \quad B = \frac{n\mu_0 I}{2\pi R} \tan\left(\frac{\pi}{n}\right) \quad \text{א.} \quad (4)$$

$$V = 3 \cdot 10^8 \frac{\text{m}}{\text{sec}} \quad (5)$$

$$\vec{F} = \frac{Ia}{3} 7R^3 \hat{x} \quad \text{ג.} \quad \text{ב. שלילי} \quad B_z = \frac{\mu_0 I}{4\pi R} (2 - \sqrt{3}) \quad \text{א.} \quad (6)$$