

מתמטיקה

פרק 25 - חשבון דיפרנציאלי - נגזרות ומשיקים

תוכן העניינים

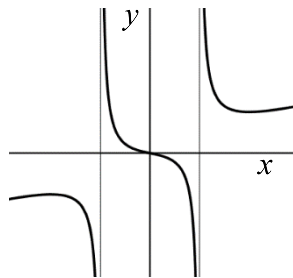
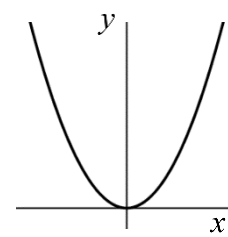
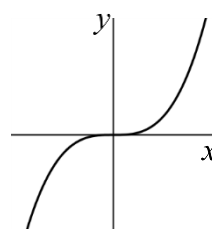
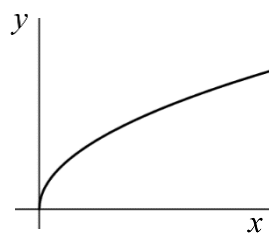
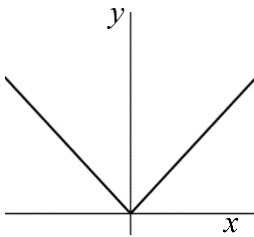
1. הקדמה כללית 1
2. גזירת פונקציות 2
3. מציאת שיפוע המשיק לגרף הפונקציה 8
4. מציאת משוואת המשיק לגרף הפונקציה 9
5. שאלות עם פרמטרים 12
6. שאלות העוסקות במציאת משוואת משיק מנקודה חיצונית 14

הקדמה כללית:

סיכום כללי:

פונקציות נפוצות:

הפונקציה $f(x) = x^2$: הפונקציה $f(x) = x^3$: הפונקציה $f(x) = \sqrt{x}$: הפונקציה $f(x) = |x|$:



פונקציה עם מכנה, למשל: $f(x) = \frac{5x^3 + 4x}{x^2 - 1}$:

שיפוע של פונקציה:

- השיפוע m של פונקציה $f(x)$ בנקודה $A(x_1, y_1)$ שעל הפונקציה הוא ערך הנגזרת בנקודה $A(x_1, y_1)$, כלומר: $m = f'(x_1)$.
- השיפוע של המשיק לפונקציה $f(x)$ בנקודה $A(x_1, y_1)$ שעל הפונקציה שווה לשיפוע הפונקציה בנקודה $A(x_1, y_1)$.
- משוואת המשיק לפונקציה $f(x)$ בנקודה $A(x_1, y_1)$ שעליה מתקבלת על ידי הנוסחה למציאת ישר: $y - y_1 = m(x - x_1)$.

הנגזרת:

לכל פונקציה $f(x)$ קיימת פונקציה, הנקראת פונקציית הנגזרת (או רק "הנגזרת") ומסומנת $f'(x)$, המתקבלת ממנה על פי כללי הגזירה.

גזירת פונקציות:

סיכום כללי:

כללי הגזירה:

- כלל גזירה מס' 1: $f(x) = x^n \Rightarrow f'(x) = n \cdot x^{n-1}$
- כלל גזירה מס' 2 (כפל בקבוע): $f(x) = ax^n \Rightarrow f'(x) = n \cdot ax^{n-1}$
- כלל גזירה מס' 3 (נגזרת של קבוע): $f(x) = a \Rightarrow f'(x) = 0$
- כלל גזירה מס' 4 (סכום והפרש): $f(x) = u \pm v \Rightarrow f'(x) = u' \pm v'$
- כלל גזירה מס' 5 (פונקציה מורכבת): $f(x) = u^n \Rightarrow f'(x) = n \cdot u^{n-1} \cdot u'$
- כלל גזירה מס' 6 (נגזרת של $\frac{1}{x}$): $f(x) = \frac{1}{x} \Rightarrow f'(x) = -\frac{1}{x^2}$
- כלל גזירה מס' 7 (מכפלה): $f(x) = u \cdot v \Rightarrow f'(x) = u'v + v'u$
- כלל גזירה מס' 8 (מנה): $f(x) = \frac{u}{v} \Rightarrow f'(x) = \frac{u'v - uv'}{v^2}$
- כלל גזירה מס' 9 (שורש): $f(x) = \sqrt{x} \Rightarrow f'(x) = \frac{1}{2\sqrt{x}}$

שאלות:

(1) גזור את הפונקציות הבאות:

- | | | |
|-----------------------------|-----------------------------|-----------------------------|
| א. $f(x) = x^3$ | ב. $f(x) = x^7$ | ג. $f(x) = x^2$ |
| ד. $f(x) = x$ | ה. $f(x) = x^{-3}$ | ו. $f(x) = x^{-1}$ |
| ז. $f(x) = x^{\frac{1}{2}}$ | ח. $f(x) = x^{\frac{1}{3}}$ | ט. $f(x) = x^{\frac{3}{4}}$ |

(2) גזור את הפונקציות הבאות:

- | | | |
|---------------------------|------------------------------|---------------------------------------|
| א. $f(x) = 2x^3$ | ב. $f(x) = 3x^7$ | ג. $f(x) = \frac{1}{2}x^4$ |
| ד. $f(x) = \frac{x^6}{7}$ | ה. $f(x) = 8x$ | ו. $f(x) = 3x^{-2}$ |
| ז. $f(x) = \frac{4}{x}$ | ח. $f(x) = 6x^{\frac{1}{2}}$ | ט. $f(x) = \frac{x^{\frac{2}{3}}}{3}$ |

(3) גזור את הפונקציות הבאות:

$$f(x) = 12 \quad \text{א.} \quad f(x) = \frac{7}{8} \quad \text{ב.}$$

(4) גזור את הפונקציות הבאות:

$$f(x) = x^3 + 2x^2 - 3x + 5 \quad \text{א.} \quad f(x) = \frac{1}{4}x^4 - \frac{x^3}{6} + \frac{3x}{4} - \frac{2}{5} \quad \text{ב.}$$

$$f(x) = 7x^2 + 23x - 6 \quad \text{ג.} \quad f(x) = 6x^2 + 8x + 4 \quad \text{ד.}$$

$$f(x) = \frac{1}{2}x^2 - x^3 \quad \text{ה.} \quad f(x) = \frac{x^4}{8} + 67 \quad \text{ו.}$$

(5) גזור את הפונקציות הבאות:

$$f(x) = (5x - 2)^3 \quad \text{א.} \quad f(x) = (x^3 + 6)^5 \quad \text{ב.} \quad f(x) = 3(x - x^2)^2 \quad \text{ג.}$$

$$f(x) = \frac{(5-x)^3}{4} \quad \text{ד.} \quad f(x) = \frac{2(x+1)^4}{3} \quad \text{ה.}$$

(6) גזור את הפונקציות הבאות:

$$f(x) = \frac{3}{x} \quad \text{א.} \quad f(x) = -\frac{2}{x} \quad \text{ב.} \quad f(x) = \frac{1}{x^2} \quad \text{ג.}$$

$$f(x) = \frac{3}{x^3} \quad \text{ד.} \quad f(x) = \frac{1}{x^2 - 3x} \quad \text{ה.} \quad f(x) = \frac{2}{3-x} \quad \text{ו.}$$

$$f(x) = \frac{6}{x+5} \quad \text{ז.}$$

(7) גזור את הפונקציות הבאות:

$$f(x) = (5x+1)(x-3) \quad \text{א.} \quad f(x) = (5x+1)^3(x-3) \quad \text{ב.}$$

$$f(x) = x^3(6-x)^4 \quad \text{ג.} \quad f(x) = 3x^2 \cdot x \quad \text{ד.}$$

$$f(x) = x^2 \cdot x^3 \quad \text{ה.} \quad f(x) = x(3x+7) \quad \text{ו.}$$

$$f(x) = 3x^3(3x-1) \quad \text{ז.} \quad f(x) = (x-2)(2x^2+3) \quad \text{ח.}$$

$$f(x) = (3x-2)(x^2+10x) \quad \text{ט.} \quad f(x) = (3x^4-4x)(2x^2+5x+2) \quad \text{י.}$$

$$f(x) = x(x-2)(3x-4) \quad \text{יא.}$$

8) גזור את הפונקציות הבאות :

$f(x) = 2x^3(3x+5)^2$.ב.	$f(x) = (x^2 - 4)^2$.א.
$f(x) = (x^2 + 1)^3(2x-1)^2$.ד.	$f(x) = (x^3 + 2)^2(x-1)^3$.ג.

9) גזור את הפונקציות הבאות :

$f(x) = \frac{x^2 - 1}{x^2 + 3}$.ג.	$f(x) = \frac{x^2 + 1}{5x - 12}$.ב.	$f(x) = \frac{3x - 1}{1 + 2x}$.א.
$f(x) = \frac{3}{x^3}$.ו.	$f(x) = \frac{1}{x}$.ה.	$f(x) = \frac{x^2 + 8}{x - 1}$.ד.
$f(x) = \frac{x^3 - x^2}{2(1-x)}$.ט.	$f(x) = \frac{(x^2 + 3)^2}{x^2 - 2}$.ח.	$f(x) = \frac{(x-1)^2}{x+1}$.ז.
		$f(x) = \frac{x-2}{x^2 - 4}$.י.

10) גזור את הפונקציות הבאות :

$f(x) = \sqrt{x^3 - 1}$.ג.	$f(x) = 4\sqrt{x+1}$.ב.	$f(x) = \sqrt{x}$.א.
$f(x) = \frac{x+3}{\sqrt{x}}$.ו.	$f(x) = x^2\sqrt{x+3}$.ה.	$f(x) = (3x+1)\sqrt{x}$.ד.

11) גזור את הפונקציות הבאות :

$f(x) = \sqrt{2x}$.ב.	$f(x) = \sqrt{x+1}$.א.
$f(x) = \sqrt{10-3x}$.ד.	$f(x) = \sqrt{3x^2 + 1}$.ג.
$f(x) = 3x^2 - 8\sqrt{x}$.ו.	$f(x) = \sqrt{2x^2 + 7x}$.ה.
$f(x) = \frac{\sqrt{x}}{x}$.ח.	$f(x) = x^2\sqrt{1-2x}$.ז.
$f(x) = \frac{x+3}{\sqrt{1-x^2}}$.י.	$f(x) = \frac{x\sqrt{x^2+4}}{2}$.ט.
$f(x) = \sqrt{\frac{3-x}{x}}$.יב.	$f(x) = \frac{2x^3 - x^2 + x - 5\sqrt{x}}{x\sqrt{x}}$.יא.
$f(x) = \frac{x^2 + 7}{\sqrt{x^2 - 5}}$.יד.	$f(x) = \sqrt{\frac{1+x^2}{1-x}}$.יג.

$$f(x) = \frac{\sqrt{x+1}}{x-1} \quad \text{ט.ז.}$$

$$f(x) = \frac{\sqrt{x}}{x-1} \quad \text{ט.ו.}$$

(12) גזור את הפונקציות הבאות:

$$f(x) = \frac{x-2a}{x-4a} \quad \text{ג.} \quad f(x) = \frac{ax^2}{3} - \frac{x}{b} + c \quad \text{ב.}$$

$$f(x) = ax^4 - bx \quad \text{א.}$$

$$f(x) = a\sqrt{bx^2 + c} \quad \text{ד.}$$

(13) גזור פעמיים את הפונקציות הבאות:

$$f(x) = \frac{x^2 - 5x + 6}{2x + 10} \quad \text{ב.}$$

$$f(x) = \frac{x^2 + 2x + 4}{2x} \quad \text{א.}$$

$$f(x) = \frac{x^3}{x^2 - 4} \quad \text{ד.}$$

$$f(x) = \frac{2x^2}{(x+1)^2} \quad \text{ג.}$$

$$f(x) = \left(\frac{x+1}{x-1}\right)^3 \quad \text{ו.}$$

$$f(x) = \frac{x^3}{(x+1)^2} \quad \text{ה.}$$

תשובות סופיות:

- (1) א. $3x^2$ ב. $7x^6$ ג. $2x$ ד. 1 ה. $-\frac{3}{x^4}$ ו. $-\frac{1}{x^2}$
- ז. $\frac{1}{2\sqrt{x}}$ ח. $\frac{1}{3\sqrt[3]{x^2}}$ ט. $\frac{3}{4\sqrt[4]{x}}$
- (2) א. $6x^2$ ב. $21x^6$ ג. $2x^3$ ד. $\frac{6x^5}{7}$ ה. 8
- ו. $-\frac{6}{x^3}$ ז. $-\frac{4}{x^2}$ ח. $\frac{3}{\sqrt{x}}$ ט. $\frac{2}{9\sqrt[3]{x}}$
- (3) א. 0 ב. 0
- (4) א. $3x^2 + 4x - 3$ ב. $x^3 - \frac{x^2}{2} + \frac{3}{4}$ ג. $14x + 23$ ד. $12x + 8$ ה. $x - 3x^2$ ו. $0.5x^3$
- (5) א. $15(5x - 2)^2$ ב. $15x^2(x^3 + 6)^4$ ג. $6(x - x^2)(1 - 2x)$
- ד. $-\frac{3}{4}(5 - x)^2$ ה. $\frac{8(x + 1)^3}{3}$
- (6) א. $-\frac{3}{x^2}$ ב. $\frac{2}{x^2}$ ג. $-\frac{2}{x^3}$ ד. $\frac{9}{x^4}$ ה. $-\frac{2x - 3}{(x^2 - 3x)^2}$
- ו. $\frac{2}{(3 - x)^2}$ ז. $-\frac{6}{(x + 5)^2}$
- (7) א. $10x - 14$ ב. $(5x + 1)^2(20x - 44)$ ג. $x^2(6 - x)^3(18 - 7x)$
- ד. $9x^2$ ה. $5x^4$ ו. $6x + 7$ ז. $36x^3 - 9x^2$ ח. $6x^2 - 8x + 3$
- ט. $9x^2 + 56x - 20$ י. $36x^5 + 75x^4 + 24x^3 - 24x^2 - 40x - 8$ יא. $9x^2 - 20x + 8$
- (8) א. $4x(x^2 - 4)$ ב. $30x^2(x + 1)(3x + 5)$ ג. $3(x - 1)^2(x^3 + 2)(3x^3 - 2x^2 + 2)$
- ד. $2(2x - 1)(x^2 + 1)^2(8x^2 - 3x + 2)$
- (9) א. $\frac{5}{(1 + 2x)^2}$ ב. $\frac{5x^2 - 24x - 5}{(5x - 12)^2}$ ג. $\frac{8x}{(x^2 + 3)^2}$ ד. $\frac{(x - 4)(x + 2)}{(x - 1)^2}$
- ה. $-\frac{1}{x^2}$ ו. $-\frac{9}{x^4}$ ז. $\frac{x^2 + 2x - 3}{(x + 1)^2}$
- ח. $\frac{2x(x^2 + 3)(x^2 - 7)}{(x^2 - 2)^2}$ ט. $-x$ י. $-\frac{1}{(x + 2)^2}$

$$\frac{x(5x+12)}{2\sqrt{x+3}} \cdot \text{ה} \quad \frac{9x+1}{2\sqrt{x}} \cdot \text{ז} \quad \frac{3x^2}{2\sqrt{x^3-1}} \cdot \text{ג} \quad \frac{2}{\sqrt{x+1}} \cdot \text{ב} \quad \frac{1}{2\sqrt{x}} \cdot \text{א} \quad (10)$$

$$\frac{x-3}{2x\sqrt{x}} \cdot \text{ו}$$

$$\frac{4x+7}{2\sqrt{2x^2+7x}} \cdot \text{ה} \quad -\frac{3}{2\sqrt{10-3x}} \cdot \text{ז} \quad \frac{3x}{\sqrt{3x^2+1}} \cdot \text{ג} \quad \frac{1}{\sqrt{2x}} \cdot \text{ב} \quad \frac{1}{2\sqrt{x+1}} \cdot \text{א} \quad (11)$$

$$\frac{1-3x}{(1-x^2)^{1.5}} \cdot \text{ו} \quad \frac{x^2+2}{\sqrt{x^2+4}} \cdot \text{ט} \quad -\frac{1}{2x\sqrt{x}} \cdot \text{ה} \quad \frac{2x-5x^2}{\sqrt{1-2x}} \cdot \text{ז} \quad 6x - \frac{4}{\sqrt{x}} \cdot \text{ו}$$

$$\frac{-x^2+2x+1}{2(1-x)^{1.5}\sqrt{1+x^2}} \cdot \text{ז} \quad -\frac{3}{2x\sqrt{3x-x^2}} \cdot \text{יב} \quad 3\sqrt{x} - \frac{1}{2\sqrt{x}} - \frac{1}{2x\sqrt{x}} + \frac{5}{x^2} \cdot \text{יא}$$

$$-\frac{x+3}{2(x-1)^2\sqrt{x+1}} \cdot \text{טו} \quad -\frac{x+1}{2\sqrt{x}(x-1)^2} \cdot \text{טו} \quad \frac{x^3-17x}{(x^2-5)^{1.5}} \cdot \text{ז}$$

$$\frac{abx}{\sqrt{bx^2+c}} \cdot \text{ז} \quad \frac{-2a}{(x-4a)^2} \cdot \text{ג} \quad \frac{2ax}{3} - \frac{1}{b} \cdot \text{ב} \quad 4ax^3 - b \cdot \text{א} \quad (12)$$

$$\cdot f'(x) = \frac{2x^2-8}{4x^2}, f''(x) = \frac{4}{x^3} \cdot \text{א} \quad (13)$$

$$\cdot f'(x) = \frac{2x^2+20x-62}{(2x+10)^2}, f''(x) = \frac{448}{(2x+10)^3} \cdot \text{ב}$$

$$\cdot f'(x) = \frac{4x}{(x+1)^3}, f''(x) = \frac{4(1-2x)}{(x+1)^4} \cdot \text{ג}$$

$$\cdot f'(x) = \frac{x^2(x^2-12)}{(x^2-4)^2}, f''(x) = \frac{8x(x^2+12)}{(x^2-4)^3} \cdot \text{ד}$$

$$\cdot f'(x) = \frac{x^2(x+3)}{(x+1)^3}, f''(x) = \frac{6x}{(x+1)^4} \cdot \text{ה}$$

$$f'(x) = -\frac{6(x+1)^2}{(x-1)^4}, f''(x) = \frac{12(x+1)(x+3)}{(x-1)^5} \cdot \text{ו}$$

מציאת שיפוע המשיק לגרף הפונקציה:

שאלות:

(14) מצא את שיפוע הפונקציה $f(x) = 2x^3 - 7x$ בנקודה $(2, 2)$.

(15) מצא את שיפוע הפונקציה $f(x) = \frac{1}{x^2 - 3}$ בנקודה בה $x = -2$.

(16) מצא את שיפוע המשיק לפונקציה $f(x) = 4\sqrt{x}$ בנקודה בה $x = 1$.

תשובות סופיות:

$$m = 17 \quad (14)$$

$$m = 4 \quad (15)$$

$$m = 2 \quad (16)$$

מציאת משוואת המשיק לגרף הפונקציה:

שאלות:

17) מצא את משוואת המשיק לפונקציה $f(x) = 2(4x+3)^3$ בנקודה בה $x = -1$.

18) מצא את משוואת המשיק לפונקציה $f(x) = \frac{8}{x+1}$ בנקודה בה $y = 2$.

19) מצא את משוואות המשיקים לפונקציה $f(x) = x^2 - 2x - 8$ בנקודות החיתוך שלה עם ציר ה- x .

20) מצא את משוואת המשיק לפונקציה $f(x) = x^4 - 2x$ ששיפועו 2.

21) מצא את משוואת המשיק לפונקציה $f(x) = \frac{x^3 + 3x - 1}{x^2 - 2}$ בנקודה שבה $x = 1$.

22) נתון כי הישר $2y - 3x = 3$ משיק לגרף הפונקציה $f(x) = 3\sqrt{x}$. מצא את נקודת ההשקה.

23) מצא את משוואת המשיק לפונקציה $f(x) = \frac{1}{x} + \sqrt{x}$ בנקודה בה $x = 1$.

24) מצא את משוואת המשיק לפונקציה $f(x) = 3x^2 - 8\sqrt{x}$ בנקודה בה $x = 4$.

25) נתונה הפונקציה הבאה $f(x) = 4x - 2\sqrt{x}$.

א. מצא את משוואת המשיק לגרף הפונקציה המקביל לישר $f(x) = 3x - \frac{1}{2}$.

ב. מצא את נקודת החיתוך של המשיק עם ציר ה- x .

26) מצא את משוואת המשיק לפונקציה $f(x) = \frac{4}{\sqrt{x-1}}$ ששיפועו -2.

(27) מצא את משוואות המשיק לפונקציה $f(x) = \frac{x-3}{\sqrt{x^2-x+2}}$ בנקודה שבה $x=2$.

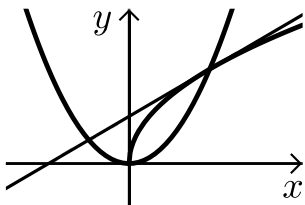
(28) מצא את משוואות המשיקים לפונקציה $f(x) = \frac{1}{3x^3}$ היוצרים עם הכיוון החיובי של ציר ה- x זווית של 135° .

(29) מצא את משוואות המשיקים המשותפים לפונקציות הבאות: $y = x^2$, $y = -\frac{1}{4}x^2 - 5$.

(30) נתונה הפונקציה: $f(x) = \frac{\sqrt{x^2+3}}{x}$ ונתון הישר: $y = 2x$.

- מצא את נקודת החיתוך של הפונקציה והישר הנמצאת ברביע הראשון.
- מצא את משוואות המשיק לגרף הפונקציה בנקודה שמצאת בסעיף הקודם.
- חשב את השטח שנוצר בין המשיק והצירים.

(31) באיור שלפניך מתוארים הגרפים של הפונקציות: $f(x) = \sqrt{x}$, $g(x) = x^2$.



- מצא את נקודות החיתוך של הגרפים.
- מצא את משוואת המשיק לגרף הפונקציה $f(x)$ העובר דרך נקודת החיתוך שמצאת הנמצאת ברביע הראשון.
- מצא את נקודת החיתוך הנוספת של המשיק שמצאת עם גרף הפונקציה $g(x)$.

תשובות סופיות:

$$y = 24x + 22 \quad (17)$$

$$y = -\frac{1}{2}x + 3\frac{1}{2} \quad (18)$$

$$y = 6x - 24, y = -6x - 12 \quad (19)$$

$$y = 2x - 3 \quad (20)$$

$$y = -12x + 9 \quad (21)$$

$$(1, 3) \quad (22)$$

$$y = -\frac{1}{2}x + 2\frac{1}{2} \quad (23)$$

$$y = 22x - 56 \quad (24)$$

$$\left(\frac{1}{3}, 0\right) \text{ ב. } y = 3x - 1 \text{ א. } (25)$$

$$y = -2x + 8 \quad (26)$$

$$y = \frac{11}{16}x - \frac{15}{8} \quad (27)$$

$$y = -x + 1\frac{1}{3}, y = -x - 1\frac{1}{3} \quad (28)$$

$$y = 2x - 1, y = -2x - 1 \quad (29)$$

$$.S = 4\frac{1}{12} \text{ ג.}$$

$$y = -1.5x + 3.5 \text{ ב. } (1, 2) \text{ א. } (30)$$

$$.(-0.5, 0.25) \text{ ג.}$$

$$y = 0.5x + 0.5 \text{ ב. } (0, 0), (1, 1) \text{ א. } (31)$$

שאלות עם פרמטרים:

שאלות:

(32) שיפוע המשיק לפונקציה $f(x) = ax^2 - 4x$ בנקודה שבה $x = 3$ הוא 8. מצא את ערכו של הפרמטר a ואת משוואת המשיק.

(33) נתונה הפונקציה $f(x) = \sqrt{ax}$, $(a > 0)$.

המשיק לפונקציה בנקודה שבה $x = \frac{1}{2}$ הוא בעל שיפוע 1. מצא את ערך הפרמטר a .

(34) נתונה הפונקציה: $y = x^3 + a\sqrt{x}$ (a פרמטר).

שיפוע המשיק לגרף הפונקציה בנקודה שבה $x = 1$ הוא 5. מצא את ערך הפרמטר a .

(35) נתונה הפונקציה: $y = 2\sqrt{x} - \frac{A}{x}$ (A פרמטר).

שיפוע המשיק לגרף הפונקציה בנקודה שבה $x = 1$ הוא 2. מצא את ערך הפרמטר A .

(36) הישר $y = 4x + b$ משיק לגרף הפונקציה $f(x) = \frac{2}{x^2} + 3$.

מצא את b ואת נקודת ההשקה.

(37) שיפוע המשיק לפונקציה $f(x) = \frac{2}{ax+3}$ בנקודה שבה $y = 2$ הוא -4.

מצא את ערכו של הפרמטר a ואת משוואת המשיק.

(38) הישר $y = ax + \frac{1}{2}$ משיק לגרף הפונקציה $g(x) = \frac{2}{x+c}$ בנקודה $x = 0$.

מצא את ערכי הפרמטרים a ו- c .

(39) הישר $y = 3x$ משיק לגרף הפונקציה $f(x) = x\sqrt{x} + b$.

מצא את b ואת נקודת ההשקה.

(40) שיפוע המשיק לפונקציה $f(x) = \frac{a}{\sqrt{bx-1}}$ בנקודה $(1, 6)$ הוא -6 .

מצא את ערכי הפרמטרים a ו- b ואת משוואת המשיק.

(41) לאילו ערכי k ישיק הישר $y = -5x + 6$ לגרף הפונקציה $f(x) = x^3 - 2x^2 - 4x + k$?
לכל ערך כזה של k מצא את נקודת ההשקה.

(42) הפונקציות $y = \frac{1}{x}$ ו- $y = -\frac{1}{2}x^2 + k$ משיקות זו לזו.

מצא את k ואת נקודת ההשקה.

תשובות סופיות:

(32) $a = 2, y = 8x - 18$

(33) $a = 2$

(34) $a = 4$

(35) $A = 1$

(36) $(-1, 5), y = 4x + 9$

(37) $a = 2, y = -4x - 2$

(38) $a = -\frac{1}{8}, c = 4$

(39) $b = 4, (4, 12)$

(40) $b = 2, a = 6, y = -6x + 12$

(41) $k = 6 : (1, 1)$ או $k = \frac{158}{27} : \left(\frac{1}{3}, \frac{13}{3}\right)$

(42) $(1, 1), k = 1.5$

שאלות העוסקות במציאת משוואת משיק מנקודה חיצונית:

שאלות:

43) ענה על הסעיפים הבאים:

- א. בטא באמצעות t את משוואת המשיק לפונקציה $f(x) = x^2 + 1$ בנקודה שבה $x = t$.
- ב. מצא את ערכיו של t אם נתון שהמשיק עובר בנקודה $(-1, 1)$.

44) מצא את משוואות המשיקים לגרף הפונקציה: $f(x) = 5x - x^2$ העוברים דרך הנקודה $(3, 7)$.

45) מצא את משוואות המשיקים לגרף הפונקציה: $f(x) = x^2 + 5x - 6$ העוברים דרך הנקודה $(0, -10)$.

46) מצא את משוואות המשיקים לגרף הפונקציה: $f(x) = 12x - x^3$ העוברים דרך הנקודה $(2, 24)$.

47) מצא את משוואת המשיק לפונקציה $f(x) = \frac{1}{\sqrt{x}}$ העובר בנקודה $(3, 0)$.

48) מצא משוואת המשיק לפונקציה: $f(x) = \frac{1}{\sqrt{x}}$ אם ידוע ששטח המשולש שהוא יוצר עם הצירים הוא 4.5 יחידות שטח.

49) מצא את משוואות המשיקים לגרף הפונקציה: $f(x) = \frac{2}{\sqrt{x-2}}$ העוברים דרך הנקודה $(2, 3)$.

תשובות סופיות:ב. $t = 0, -2$.

(43) $y = 2tx - t^2 + 1$

(44) $y = x + 4$, $y = -3x + 16$

(45) $y = 9x - 10$, $y = x - 10$

(46) $y = 12x$, $y = -15x + 54$

(47) $y = -\frac{1}{2}x + 1\frac{1}{2}$

(48) $y = -\frac{1}{16}x + \frac{3}{4}$

(49) $y = -x + 5$