

כימיה אורגנית לרפואה

פרק 7 - כהלים ואתרים, תיאולים וסולפידים

תוכן העניינים

1. כללי..... 1

כהלים ואתרים, תיאולים וסולפידיים:

שאלות:

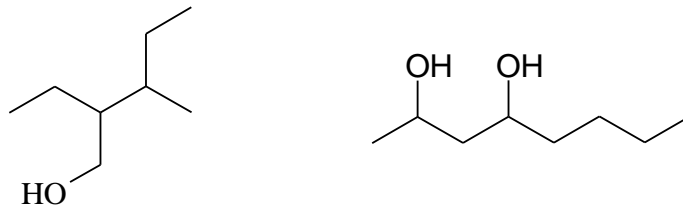
(1) ציירו את המבנים הבאים:

א. tert-butyl alcohol

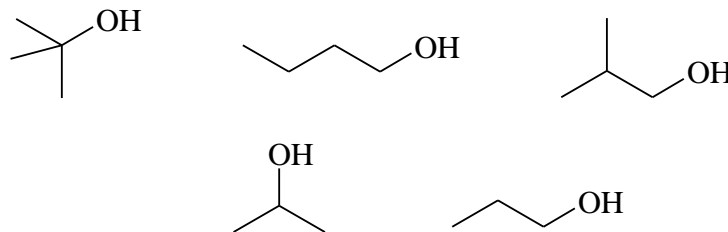
ב. 4-methyl-3-hexanol

ג. (1S, 3R)-3-methylcyclohexanol

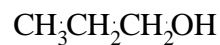
(2) תנו שמות לפי IUPAC לחומרים הבאים:



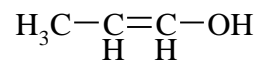
(3) סדר תרכובות לפי טמפרטורת רתיחה.



(4) איזו משתי התרכובות הבאות תהייה חומצית יותר? נמק את תשובתך ע"י שימוש בתיאוריית הרזוננס.

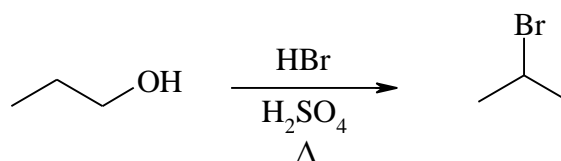


A

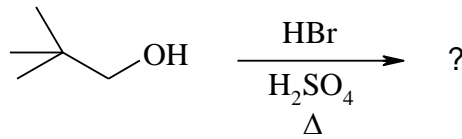


B

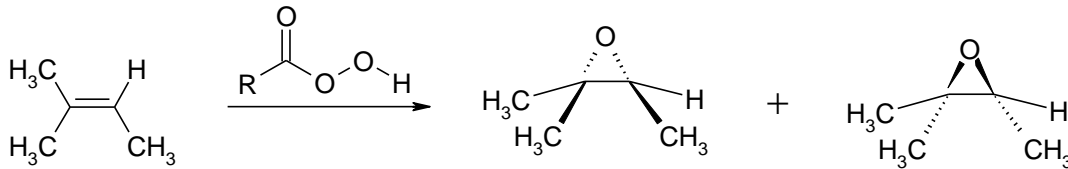
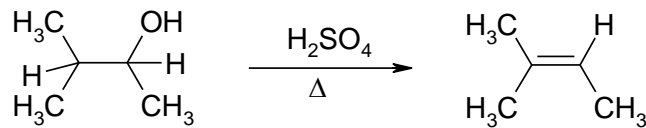
(5) מה המנגנון לריאקציה הבאה?



6) מה יהיה התוצר בתגובה הבאה? פרטו מנגנון.



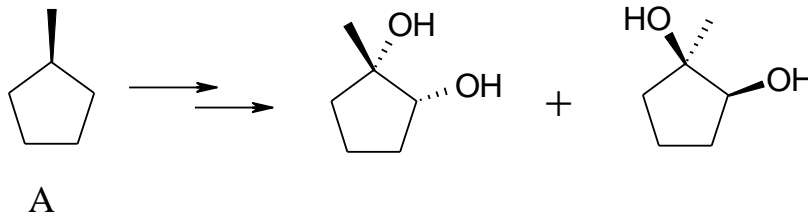
7) רשמו ליד כל אחת מהתגובות הבאות האם התרכובת עברה חימצון, חיזור אם בכלל. נמקו.



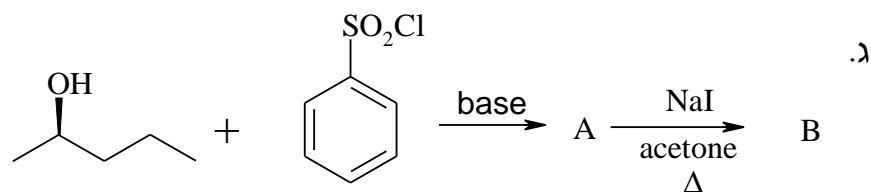
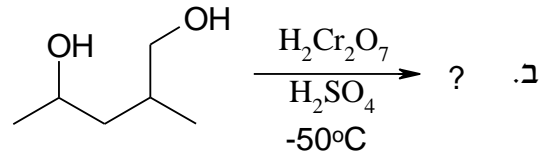
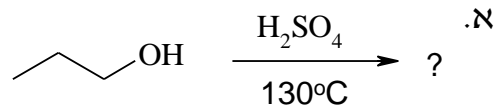
8) דיאול $\text{C}_6\text{H}_{14}\text{O}_2$ הופך כתוצאה מתגובת אתריפיקציה אינטראמולקולרית לאתר טבעתי. מהם המבנה/ים של חומר המוצא אם ידוע:

- בטבעת ישנם 5 אטומים.
- חומר המוצא והאתר הנוצר הם תרכובות כיראליות.
- חימצון הדיאול גורם להיווצרות די-קטון.

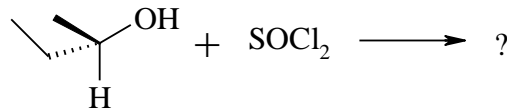
9) מהם השלבים לקבלת התוצרים הבאים ממגיב A?



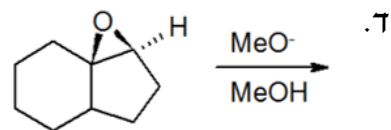
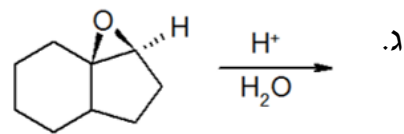
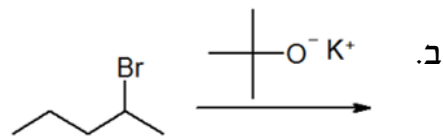
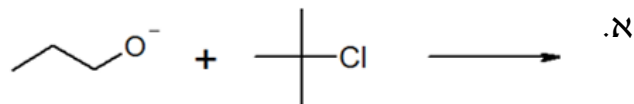
10) מה התוצרים של התגובות הבאות?



11) מה תוצר התגובה הבאה? ציין קונפיגורציה.



12) רשום את התוצר העיקרי שיתקבל בכל תגובה. פרט מנגנון:



13) הצע סינטזה להכנת החומרים הבאים. ניתן להשתמש בכל חומר אי אורגני וכל חומר אורגני המכיל לכל היותר 5 פחמנים.

