

# כימיה אורגנית

פרק 8 - כהלים ואתרים, תיאולים וסולפידיים

תוכן העניינים

1. כללי..... 1

## כהלים ואתרים, תיאולים וסולפידיים:

### שאלות:

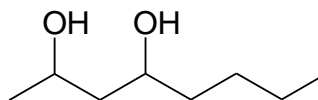
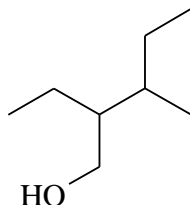
(1) ציירו את המבנים הבאים:

א. tert-butyl alcohol

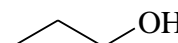
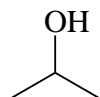
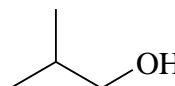
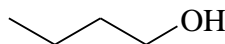
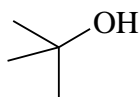
ב. 4-methyl-3-hexanol

ג. (1S, 3R)-3-methylcyclohexanol

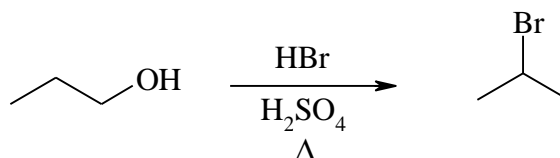
(2) תנו שמות לפי IUPAC לחומרים הבאים:



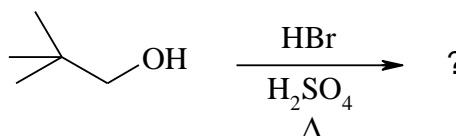
(3) סדר תרכובות לפי טמפרטורת רתיחה.



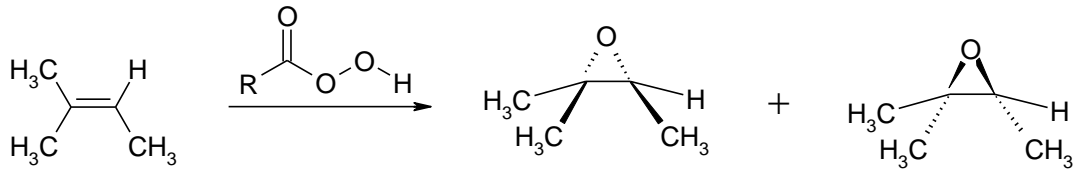
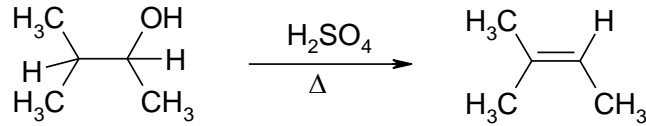
(5) מה המנגנון לריאקציה הבאה?



(6) מה יהיה התוצר בתגובה הבאה? פרטו מנגנון.



7) רשמו ליד כל אחת מהתגובות הבאות האם התרכובת עברה חימצון, חיזור אם בכלל. נמקו.



8) דיאול  $\text{C}_6\text{H}_{14}\text{O}_2$  הופך כתוצאה מתגובת אתריפיקציה אינטראמולקולרית לאתר טבעתי. מהם המבנה/ים של חומר המוצא אם ידוע:

- בטבעת ישנם 5 אטומים.
- חומר המוצא והאתר הנוצר הם תרכובות כיראליות.
- חימצון הדיאול גורם להיווצרות די-קטון.