

# מבוא למאקרו כלכלה

פרק 10 - מודל קיינס - משק פתוח

תוכן העניינים

1. משק פתוח.....1

## מודל קיינס – משק פתוח:

### שאלות:

- 1) משק פתוח מצוי באבטלה. נתון שהתוצר של שיווי משקל שווה 10,000 והתוצר של תעסוקה מלאה שווה 12,000. הפער הדיפלציוני הוא 400.
- א. הציגו את מצב המוצא בשוק המוצרים ובשוק מט"ח.  
 ב. הממשלה החליטה לפעול לסגירת הפער הדיפלציוני ועלו האפשרויות הבאות:
- הגדלת הצריכה הציבורית ב-300 ומימון ע"י מלווה מן הציבור.
  - הגדלת הצריכה הציבורית ב-400 ומימון ע"י מלווה מן הציבור.
  - הגדלת הצריכה הציבורית ב-500 ומימון ע"י מלווה מן הציבור.
- במידה ונוצר פער אינפלציוני, הבנק המרכזי מעלה את הריבית ומונע עליית מחירים.  
 מה יקרה במשק בכל אחת מהאפשרויות שהוצגו (יש להציג דו"ח מקורות ושימושים ולציין מה קרה לריבית ולשער החליפין הריאלי)? האם הממשלה השיגה את מטרתה?
- ג. התעלמו מסעיף ב', נגיד הבנק המרכזי הישראלי מעוניין לסייע בהגדלת התעסוקה במשק ומוריד את שער הריבית. הניחו שהמשק לא הגיע לתעסוקה מלאה.  
 מה יקרה במשק (יש להציג דו"ח מקורות ושימושים ולציין מה קרה לריבית ולשער החליפין הריאלי)?  
 מה יקרה לייצוא ולייבוא?
- ד. בהתייחס לסעיף ב', הבנק מעוניין לסייע בשמירה על המשק בתעסוקה מלאה מבלי לגרום לעליה ברמת המחירים. האם עליו להעלות או להוריד את שער הריבית ובכמה?  
 הראו את השינויים במשק כתוצאה מפעולת הנגיד האמריקאי והנגיד הישראלי גם יחד.

**(2) משק פתוח מצוי באבטלה.**

נתון שהתוצר של שיווי משקל שווה 8,000 והתוצר של תעסוקה מלאה שווה 10,000. הפער הדיפלציוני הוא 500. הנטייה השולית לצרוך שווה 0.8. ידוע שבמשק קיימות תנועות הון נכנסות.

- א. הציגו את מצב המוצא בשוק המוצרים ובשוק המט"ח.
  - ב. הממשלה החליטה לפעול לסגירת הפער הדיפלציוני ועלו האפשרויות הבאות:
    1. הפחתת מיסים ב-625 ומימון ע"י מלווה מן הציבור.
    2. הגדלת תשלומי העברה ב-750 ומימון ע"י מלווה מן הציבור.
    3. הגדלת הצריכה הציבורית ב-1,000 ומימון ע"י הטלת מיסים.
- במידה ונוצר פער אינפלציוני, הבנק המרכזי מעלה את הריבית ומונע עליית מחירים.
- מה יקרה במשק בכל אחת מהאפשרויות שהוצגו (יש להציג דו"ח מקורות ושימושים ולציין מה קרה לריבית ולשער החליפין הריאלי)? האם הממשלה השיגה את מטרתה? הראו את השינויים בשוק המוצרים ובשוק המט"ח.

**(3) משק פתוח מצוי באבטלה. הפער הדיפלציוני הוא 100 מיליון ₪ והנטייה השולית לצרוך היא 0.5. ידוע שבמשק קיימות תנועות הון נכנסות.**

- א. הציגו את מצב המוצא בשוק המוצרים ובשוק המט"ח.
- ב. הבנק המרכזי קונה אג"ח מן הציבור. מה יקרה במשק (יש להציג דו"ח מקורות ושימושים ולציין מה קרה לריבית ולשער החליפין הריאלי)?
- ג. בהתעלם מסעיף ב', הממשלה נותנת תמריצים ליצואנים וגורמת לגידול בייצוא של 100 מיליון ₪. מה יקרה במשק (יש להציג דו"ח מקורות ושימושים ולציין מה קרה לריבית ולשער החליפין הריאלי)?
- ד. בהתעלם מהסעיפים ב' וג', ידוע שהפרטים במשק מעוניינים להגדיל את החיסכון הפרטי בכל רמת הכנסה. מה יקרה במשק (יש להציג דו"ח מקורות ושימושים ולציין מה קרה לריבית ולשער החליפין הריאלי)?

**(4) משק פתוח מצוי בתעסוקה מלאה.**

- א. הציגו את מצב המוצא בשוק המוצרים ובשוק המט"ח.
- ב. הממשלה החליטה לפעול לצמצום פערי ההשכלה בחברה הישראלית והגדילה את הוצאותיה על חינוך בפריריה. מימון ההוצאות יעשה ע"י מכירת אג"ח לציבור. ידוע שבמידה ונוצר פער אינפלציוני, הבנק המרכזי מעלה את הריבית ומונע עליית מחירים. מה יקרה במשק (יש להציג דו"ח מקורות ושימושים ולציין מה קרה לריבית ולשער החליפין הריאלי)?
- ג. כלכלן במשרד החינוך טען שמימון הגדלת ההוצאות ע"י מיסים יפגע פחות בהשקעות במשק ולכן יצמצם את הפגיעה העתידית בצמיחה של המשק. הסבירו את טענת הכלכלן. האם היא נכונה?

5) משק פתוח מצוי בתעסוקה מלאה.

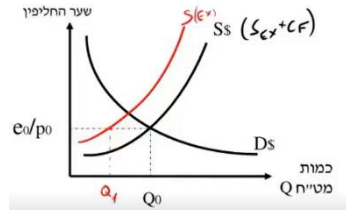
- א. הציגו את מצב המוצא בשוק המוצרים ובשוק המט"ח.
- ב. הבנק המרכזי האמריקאי (הפדרל ריזרב) העלה את שער הריבית בארה"ב בשיעור של 1%. מה יהיו ההשלכות על המשק הישראלי? (יש להציג דו"ח מקורות ושימושים ולציין מה קרה לריבית ולשער החליפין הריאלי).
- ג. הנגיד הישראלי מעוניין למנוע אינפלציה (עליית מחירים מקומית). לשם כך הוא משנה את שער הריבית המקומית. האם על הנגיד הישראלי להעלות או להוריד את הריבית ובכמה? האם שינוי של 1% בדיוק, יותר או פחות?
- ד. בהתעלם מסעיף ג', אם הנגיד הישראלי יעלה את שער הריבית גם כן ב-1%, האם המשק יישאר בתעסוקה מלאה? מה יקרה לעודף הייבוא ולשער החליפין?

6) משק פתוח מצוי בתעסוקה מלאה.

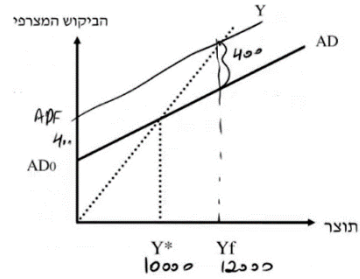
- א. הציגו את מצב המוצא בשוק המוצרים ובשוק המט"ח.
- ב. הבנק המרכזי האמריקאי (הפדרל ריזרב) הוריד את שער הריבית בארה"ב בשיעור של 1%. מה יהיו ההשלכות על המשק הישראלי? (יש להציג דו"ח מקורות ושימושים ולציין מה קרה לריבית ולשער החליפין הריאלי).
- הציגו את השינוי בשוק המוצרים ובשוק המט"ח?
- ג. בהתייחס לסעיף ב', הבנק המרכזי מעוניין לסייע בשמירה על המשק בתעסוקה מלאה מבלי לגרום לעליה ברמת המחירים. האם עליו להעלות או להוריד את שער הריבית ובכמה?
- הראו את השינויים במשק כתוצאה מפעולת הנגיד האמריקאי והנגיד הישראלי גם יחד.

**תשובות סופיות:**

שוק המטי"ח:



1) א. שוק המוצרים:

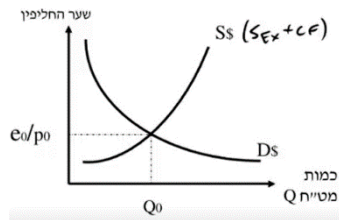


ד. להוריד בפחות מ-1%.

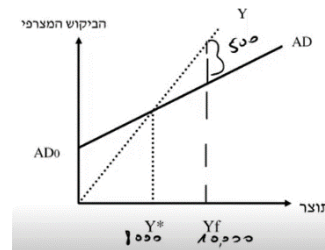
ג. ראו סרטון.

ב. ראו סרטון.

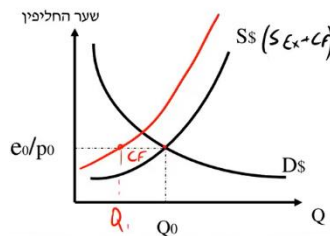
שוק המטי"ח:



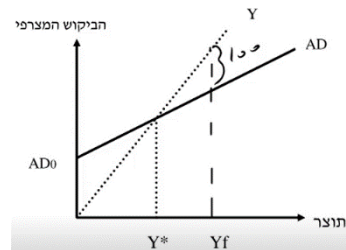
2) א. שוק המוצרים:



שוק המטי"ח:



3) א. שוק המוצרים:

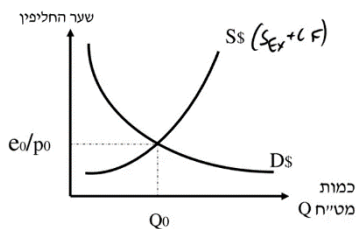


ד. ראו סרטון.

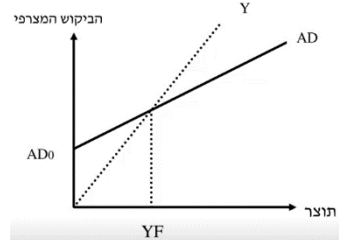
ג. ראו סרטון.

ב. ראו סרטון.

שוק המטי"ח:



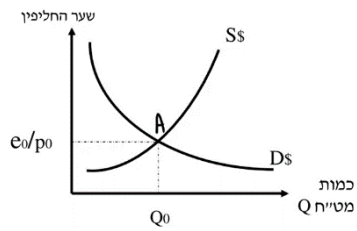
4) א. שוק המוצרים:



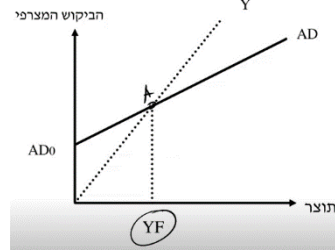
ג. כן.

ב. ראו סרטון.

שוק המט"ח:



5) א. שוק המוצרים:

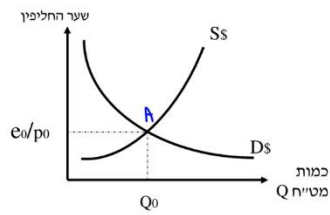


ד. לא, יירדו.

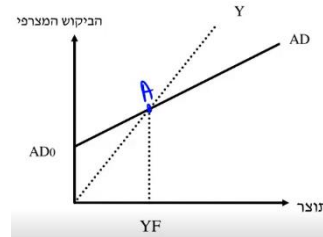
ג. להעלות בפחות מ-1%.

ב. ראו סרטון.

שוק המט"ח:



6) א. שוק המוצרים:



ג. להוריד בפחות מ-1%.

ב. ראו סרטון.