

# מתמטיקה א

פרק 14 - נושאים מתקדמים - הצגה פולרית של פונקציה

תוכן העניינים

1. קואורדינטות קוטביות..... 1
2. הנגזרת ושימושיה..... 3
3. שימושי האינטגרל המסוים..... 4

## קואורדינטות קוטביות

### שאלות

(1) ענה על הסעיפים הבאים :

א. המר את הנקודה הקוטבית  $\left(4, \frac{\pi}{3}\right)$  לנקודה קרטזית.

ב. המר את הנקודה הקרטזית  $(-1, -1)$  לנקודה קוטבית.

(2) ענה על הסעיפים הבאים :

א. א. המר את הנקודה הקוטבית  $\left(10, -\frac{\pi}{3}\right)$  לנקודה קרטזית.

ב. המר את הנקודה הקרטזית  $(0, -4)$  לנקודה קוטבית.

ג. המר את הנקודה הקרטזית  $(-2, 2)$  לנקודה קוטבית.

(3) ענה על הסעיפים הבאים :

א. המר את המשוואה  $4x - x^2 = 1 + xy$  לקואורדינטות קוטביות.

ב. המר את המשוואה  $r = -4\cos\theta$  לקואורדינטות קרטזיות.

(4) ענה על הסעיפים הבאים :

א. המר את המשוואה  $x^2 + y^2 = 4y$  לקואורדינטות פולריות.

ב. המר את המשוואה  $x = 10$  לקואורדינטות פולריות.

ג. המר את המשוואה  $y = 4$  לקואורדינטות פולריות.

(5) ענה על הסעיפים הבאים :

א. המר את המשוואה  $r = 4$  לקואורדינטות קרטזיות.

ב. המר את המשוואה  $\theta = \pi/4$  לקואורדינטות קרטזיות.

ג. המר את המשוואה  $r = 2\cos\theta + 4\sin\theta$  לקואורדינטות קרטזיות.

ד. המר את המשוואה  $6r^3 \sin\theta = 4 - \cos\theta$  לקואורדינטות קרטזיות.

## תשובות סופיות

$$(1) \quad (x, y) = (2, 2\sqrt{3}) \text{ א.} \quad (r, \theta) = \left( \sqrt{2}, \frac{5\pi}{4} \right) \text{ ב.}$$

$$(2) \quad (x, y) = (5, -5\sqrt{3}) \text{ א.} \quad (r, \theta) = \left( 4, \frac{3\pi}{2} \right) \text{ ב.} \quad (r, \theta) = \left( \sqrt{8}, \frac{3\pi}{4} \right) \text{ ג.}$$

$$(3) \quad 4r \cos \theta - r^2 \cos^2 \theta = 1 + r \cos \theta \cdot r \sin \theta \text{ א.} \quad (x+2)^2 + y^2 = 2^2 \text{ ב.}$$

$$(4) \quad r = 4 \sin \theta \text{ א.} \quad r \cos \theta = 10 \text{ ב.} \quad r \sin \theta = 4 \text{ ג.}$$

$$(5) \quad x^2 + y^2 = 4^2 \text{ א.} \quad y = x \text{ ב.} \quad (x-1)^2 + (y-2)^2 = 5 \text{ ג.}$$

$$\text{ד.} \quad 6 \left( \sqrt{x^2 + y^2} \right)^3 \cdot y = 4 \sqrt{x^2 + y^2} - x$$

## הנגזרת ושימושיה

### שאלות

- (1) מצא את משוואת המשיק לעקום  $r = 3 + 8\sin \theta$  בנקודה  $\theta = \frac{\pi}{6}$ .
- (2) מצא את משוואת המשיק לעקום  $r = 1 - 2\sin \theta$  בראשית הצירים.

### תשובות סופיות

$$y = \frac{11\sqrt{3}}{5}x - \frac{98}{5} \quad (1)$$

$$y = \frac{\sqrt{3}}{3}x, \quad y = -\frac{\sqrt{3}}{3}x \quad (2)$$

## שימושי האינטגרל המסוים

### שאלות

- (1) חשב את השטח של הלולאה הפנימית של  $r = 2(1 + 2\cos\theta)$ .
- (2) חשב את השטח הכלוא בתוך  $r = 6 + 4\cos\theta$  ומשמאל לציר ה- $y$ .
- (3) חשב את השטח הכלוא בתוך  $r = 3 + 2\sin\theta$ .
- (4) חשב את השטח המוגבל בתוך  $r = 3 + 2\sin\theta$  ומחוץ ל- $r = 2$ .
- (5) חשב את השטח המוגבל בתוך  $r = 2$  ומחוץ ל- $r = 3 + 2\sin\theta$ .
- (6) חשב את השטח המוגבל בתוך  $r = 2$  ובתוך  $r = 3 + 2\sin\theta$ .
- (7) חשב את השטח הכלוא בתוך המעגל  $r = 2\sin\theta$  ומחוץ למעגל  $r = 1$ .
- (8) מצא את אורך הקרדיואידה  $r = 1 + \cos\theta$ .
- (9) מצא את האורך של עלה אחד של הורד  $r = 3\sin 2\theta$ .  
אין צורך לחשב את האינטגרל!



- (10) מצא את אורך העקום  $r = \theta$ , כאשר  $0 \leq \theta \leq 1$ .
- (11) העקום  $r = \cos\theta$ , כאשר  $0 \leq \theta \leq \frac{\pi}{2}$ , מסתובב סביב ציר ה- $x$ .  
מהו שטח המעטפת של הגוף הנוצר?

**(12)** העקום  $r = 4 + 4\sin\theta$ , כאשר  $-\frac{\pi}{2} \leq \theta \leq \frac{\pi}{2}$ , מסתובב סביב ציר ה- $y$ .  
 מהו שטח המעטפת של הגוף הנוצר?

### תשובות סופיות

$$S = 4\pi - 6\sqrt{3} = 2.174 \quad (1)$$

$$S = 22\pi - 48 \quad (2)$$

$$S = 11\pi \quad (3)$$

$$S = \frac{11\sqrt{3}}{2} + \frac{14\pi}{3} = 24.187 \quad (4)$$

$$S = \frac{11\sqrt{3}}{2} - \frac{7\pi}{3} = 2.196 \quad (5)$$

$$10.37 \quad (6)$$

$$S = \frac{\pi}{3} + \frac{\sqrt{3}}{2} \quad (7)$$

$$8 \quad (8)$$

$$\ell = 3 \int_0^{\frac{\pi}{2}} \sqrt{1 + 3\cos^2 2\theta} d\theta \quad (9)$$

$$\ell = \frac{\sqrt{2} + \ln(\sqrt{2} + 1)}{2} \quad (10)$$

$$S_x = \pi \quad (11)$$

$$S_y = 102.4\pi \quad (12)$$

## נספח - גרפים נפוצים בקואורדינטות פולריות

### קווים

$$(1) \quad r \cos \theta = a \quad - \text{ הישר } x = a$$

$$(2) \quad r \sin \theta = b \quad - \text{ הישר } y = b$$

$$(3) \quad \theta = \beta \quad - \text{ הישר העובר דרך הראשית } y = (\tan \beta)x$$

### מעגלים

$$1. \quad r = a \quad - \text{ מעגל שמרכזו בראשית הצירים ורדיוס } a$$

$$2. \quad r = 2a \cos \theta \quad - \text{ מעגל שמרכזו בנקודה } (a, 0) \text{ ורדיוס } |a|$$

$$3. \quad r = 2b \sin \theta \quad - \text{ מעגל שמרכזו בנקודה } (0, b) \text{ ורדיוס } |b|$$

$$4. \quad r = 2a \cos \theta + 2b \sin \theta \quad - \text{ מעגל שמרכזו בנק' } (a, b) \text{ ורדיוס } \sqrt{a^2 + b^2}$$

### קרדיוודות ולמניסקטות

$$(1) \quad \text{קרדיוודות } r = a \pm a \cos \theta, r = a \pm a \sin \theta$$

גרף בצורת לב שמכיל את הראשית.

$$(2) \quad \text{למניסקטות עם לולאה פנימית } r = a \pm b \cos \theta, r = a \pm b \sin \theta \quad (a < b)$$

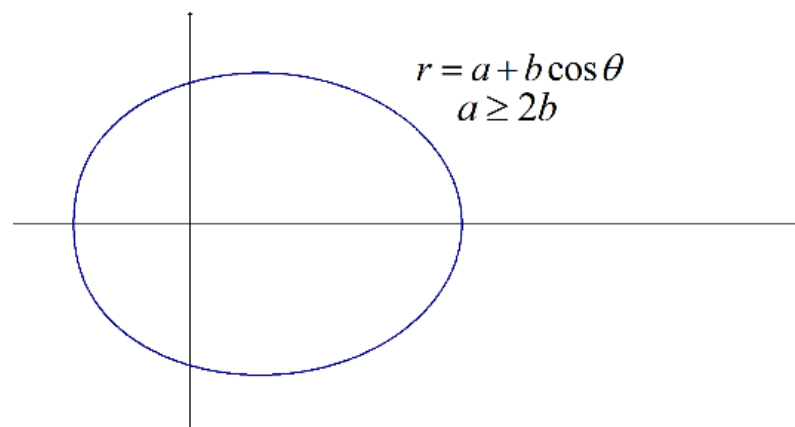
גרף שיכיל לולאה פנימית ושתמיד יכיל את הראשית.

$$(3) \quad \text{למניסקטות ללא לולאה פנימית } r = a \pm b \cos \theta, r = a \pm b \sin \theta \quad (a > b)$$

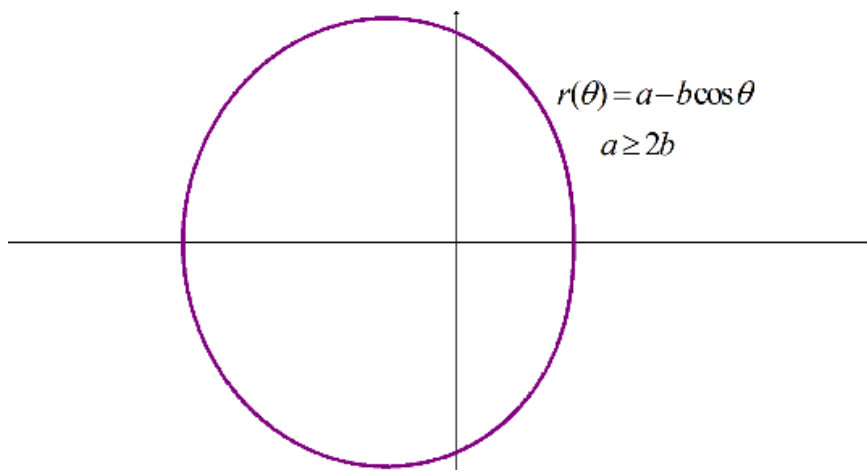
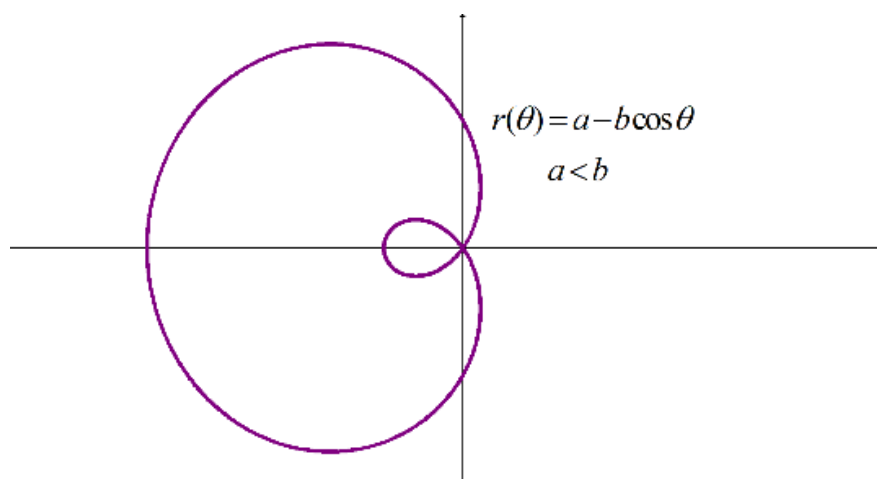
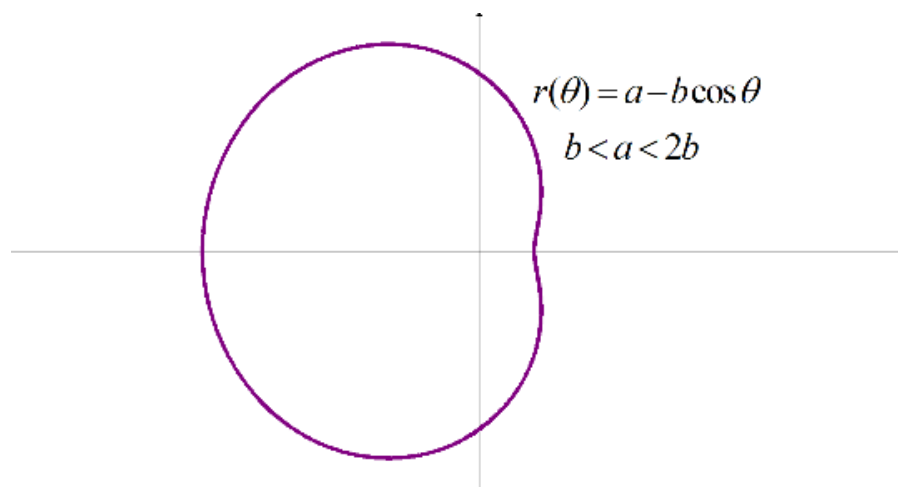
גרף ללא לולאה פנימית שאינו מכיל את הראשית.

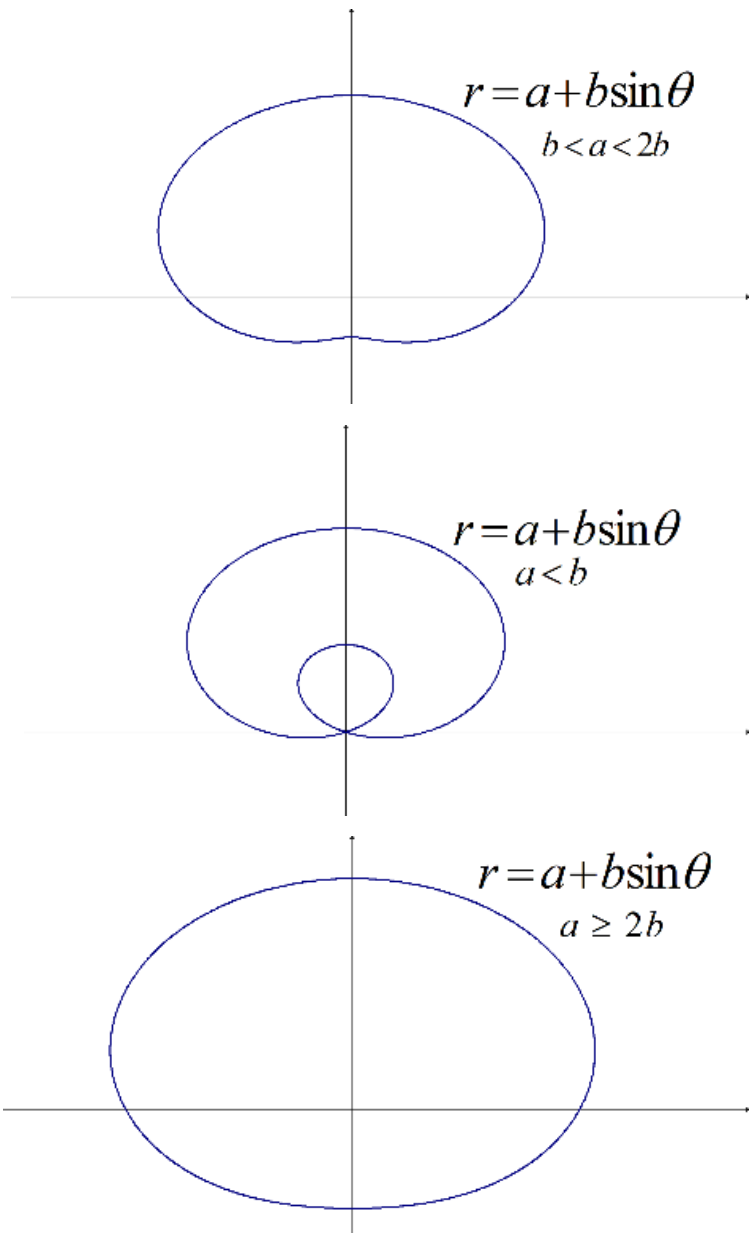
$$* \text{ נשרטט בדרך כלל עבור מחזור שלם } 0 \leq \theta \leq 2\pi$$

**למינסקטות ביתר פירוט**

 הגרף של  $r = a + b \cos \theta$  :


הגרף של  $r = a - b \cos \theta$



הגרף של  $r = a + b \sin \theta$ 

הגרף של  $r = a - b \sin \theta$



## גרפים נפוצים נוספים

