

## חדוא 2 מ

פרק 3 - פונקציות של מספר משתנים - מבוא, קווי גובה, משטחים וגופים במרחב

### תוכן העניינים

1. קווים נפוצים במישור ..... 1
2. מבוא לפונקציה של שני משתנים ..... 5
3. קווי גובה לפונקציה של שני משתנים ..... 7
4. משטחים נפוצים במרחב ..... 9
5. משטחי רמה לפונקציה של שלושה משתנים ..... 11
6. גופים במרחב ..... 12
7. הצגה פרמטרית של עקום ..... 15
8. הצגה פולרית של עקום ..... 17
9. הצגה פרמטרית של משטח ..... 19

## קווים נפוצים במישור

### שאלות

1) שרטט במישור את התחומים הבאים :

א.  $S = \{(x, y) \mid -1 \leq x \leq 1, -1 \leq y \leq 4\}$

ב.  $S = \{(x, y) \mid -1 \leq x^2 \leq 1, -1 \leq y \leq 4\}$

ג.  $S = \{(x, y) \mid x \leq y \leq 4\}$

2) שרטט במישור את התחומים הבאים :

א.  $S = \{(x, y) \mid x-1 \leq y \leq 2x+1\}$

ב.  $S = \{(x, y) \mid |y-2x| \leq 1\}$

ג.  $S = \{(x, y) \mid |x|+y < 4\}$

ד.  $S = \{(x, y) \mid (x+y)^2 \leq 4, x > 1\}$

3) מצא את המרכז והרדיוס של המעגלים הבאים :

א.  $x^2 + y^2 - 2x - 3 = 0$

ב.  $x^2 + y^2 - 8y = -15$

ג.  $x^2 + y^2 + 2x + 4y = 0$

4) בכל אחד מהסעיפים הבאים חלק ממעגל. שרטט אותו.

א.  $y = \sqrt{1-x^2}$

ב.  $y = -\sqrt{1-x^2}$

ג.  $x = \sqrt{1-y^2}$

ד.  $x = -\sqrt{1-y^2}$

ה.  $0 \leq x \leq 1$   $y = \sqrt{1-x^2}$

ו.  $-\frac{3}{5} \leq x \leq \frac{3}{5}$   $y = \sqrt{1-x^2}$

5) בכל אחד מהסעיפים הבאים חלק ממעגל. שרטט אותו.

א.  $y = 2 + \sqrt{1 - (x - 3)^2}$

ב.  $y = 2 - \sqrt{-x^2 + 6x - 8}$

ג.  $x \geq 3.5, \quad x = 4 - \sqrt{1 - y^2}$

6) שרטט את התחומים הבאים במישור:

א.  $S = \{(x, y) \mid x^2 + y^2 \leq 4\}$

ב.  $S = \{(x, y) \mid x^2 + y^2 < 4\}$

ג.  $S = \{(x, y) \mid x^2 + y^2 \geq 4\}$

ד.  $S = \{(x, y) \mid x^2 + y^2 > 4\}$

ה.  $S = \{(x, y) \mid -\sqrt{4 - x^2} \leq y \leq \sqrt{4 - x^2}\}$

ו.  $S = \{(x, y) \mid -\sqrt{4 - y^2} \leq x \leq \sqrt{4 - y^2}\}$

ז.  $S = \{(x, y) \mid 0 \leq y \leq \sqrt{4 - x^2}\}$

ח.  $S = \{(x, y) \mid -\sqrt{4 - y^2} \leq x \leq 0\}$

7) שרטט את התחומים הבאים במישור:

א.  $S = \{(x, y) \mid 1 \leq x^2 + y^2 \leq 4\}$

ב.  $S = \{(x, y) \mid 1 \leq x^2 + y^2 \leq 4, x \geq 0, y \geq 0\}$

ג.  $S = \{(x, y) \mid 1 \leq x^2 + y^2 \leq 4, x \geq 0\}$

ד.  $S = \{(x, y) \mid 1 \leq x^2 + y^2 \leq 4, y \geq 0\}$

8) שרטט את התחומים הבאים במישור:

א.  $S = \{(x, y) \mid x^2 + y^2 - 2x + 4y + 1 \leq 0\}$

ב.  $S = \{(x, y) \mid 0 \leq y + 1 \leq \sqrt{1 - x^2}\}$

9 שרטט את התחומים הבאים במישור :

א.  $S = \{(x, y) \mid 1 \leq x^2 + y^2 \leq 4, x \leq y \leq 2x\}$

ב.  $S = \{(x, y) \mid x^2 + y^2 \leq 4, y \geq x\}$

ג.  $S = \{(x, y) \mid \frac{1}{7}x + \frac{25}{7} \leq y \leq \sqrt{25 - x^2}\}$

ד.  $S = \{(x, y) \mid x^2 + y^2 \leq 4, y \geq x^2\}$

ה.  $S = \{(x, y) \mid x^2 \leq y \leq \sqrt{4 - x^2}\}$

ו.  $S = \{(x, y) \mid |x - 1| \leq y \leq \sqrt{1 - (x - 1)^2}\}$

10 נתונה המשוואה  $25x^2 + 4y^2 - 50x + 16y = 59$ .

- א. הוכח שהמשוואה מתארת אליפסה ושרטט אותה.  
 ב. רשום את הפונקציות שמתארות את החצי העליון ואת החצי התחתון של האליפסה.  
 ג. רשום את הפונקציות שמתארות את החצי הימני ואת החצי השמאלי של האליפסה.  
 ד. מהי קבוצת כל הנקודות במישור, החסומה בתוך האליפסה או עליה?  
 ה. מהי קבוצת כל הנקודות במישור, החסומה בתוך האליפסה ומעל לציר המשני שלה?

11 שרטט את התחומים הבאים במישור :

א.  $S = \{(x, y) \mid 4x^2 + y^2 + 8x - 4y + 4 \geq 0\}$

ב.  $S = \{(x, y) \mid 0 \leq y \leq \frac{2}{3}\sqrt{9 - x^2}\}$

ג.  $S = \{(x, y) \mid \frac{1}{2}y + 1 \leq x \leq \frac{3}{2}\sqrt{4 - y^2}\}$

ד.  $S = \{(x, y) \mid -\frac{2}{3}\sqrt{9 - x^2} \leq y \leq -x^2\}$

12) שרטט את התחומים הבאים במישור:

א.  $S = \{(x, y) \mid x^2 \leq y \leq 2 - x^2\}$

ב.  $S = \{(x, y) \mid -2 \leq y \leq -x^2\}$

ג.  $S = \{(x, y) \mid y^2 - 2 \leq x \leq -y^2\}$

ד.  $S = \{(x, y) \mid y^2 \leq x \leq 1 - y\}$

13) שרטט את התחומים הבאים במישור:

א.  $\left\{ (x, y) \mid \frac{x^2}{4} - \frac{y^2}{9} \leq 1 \right\}$

ב.  $\left\{ (x, y) \mid \frac{x^2}{4} - \frac{y^2}{9} \geq 1, x^2 + y^2 \leq 16 \right\}$

ג.  $\left\{ (x, y) \mid \frac{x^2}{4} - \frac{y^2}{9} \geq 1, y \geq \frac{1}{4}x^2 \right\}$

ד.  $\left\{ (x, y) \mid \frac{x^2}{4} - \frac{y^2}{9} \leq 1, x^2 + y^2 \geq 4 \right\}$

## תשובות סופיות

לפתרונות מלאים ושרטוטים היכנסו לאתר [GooL.co.il](http://GooL.co.il)

## מבוא לפונקציה של שני משתנים

עבור כל אחת מהפונקציות הבאות:

א. מצא את תחום ההגדרה  $D$  של הפונקציה.

ב. שרטט סקיצה של הקבוצה  $D$ .

$$f(x, y) = \sqrt{5 - x^2 - y^2} + \ln(4y - x^2) \quad (1)$$

$$f(x, y) = \sqrt{x^2 + y^2 - 4} + \frac{1}{\sqrt{x}} \quad (2)$$

$$f(x, y) = \sqrt{-x^2 + y^2 + 1} + \frac{x+y}{x-y} \quad (3)$$

$$g(x, y) = \sqrt{x+4y} + \sqrt{x-4y} \quad (4)$$

$$f(x, y) = \frac{1}{\sqrt{x+4y}} + \frac{1}{\sqrt{x-4y}} \quad (5)$$

$$h(x, y) = \sqrt{x - \sqrt{y+4}} \quad (6)$$

$$f(x, y) = e^{xy} \sqrt{\ln \frac{4}{x^2 + y^2}} + \sqrt{x^2 + y^2 - 4} \quad (7)$$

$$z(x, y) = \frac{4}{\sqrt{1 - |x| - |y|}} \quad (8)$$

$$z(x, y) = \ln \left( \frac{x-4y}{x+4y} \right) \quad (9)$$

$$f(x, y) = \ln[x \ln(y - 4x)] \quad (10)$$

$$u(x, y, z) = \frac{1}{\sqrt{x+4}} + \frac{1}{\sqrt{y-1}} + \frac{1}{\sqrt{z}} \quad (11)$$

(ענו על סעיף א בלבד)

$$f(x, y) = \tan \frac{y}{x} \quad (12)$$

(רק לתלמידי מדעים מדויקים/הנדסה)

$$f(x, y) = \frac{\arcsin\left(\frac{1}{4}x^2 + \frac{1}{4}y^2\right)}{\ln(x^2 + y^2 - 1)} \quad (13)$$

(רק לתלמידי מדעים מדויקים/הנדסה)

### תשובות סופיות

$$D = \left\{ (x, y) \mid \frac{1}{4}x^2 \leq y \leq \sqrt{5-x^2} \right\} \quad (1)$$

$$D = \left\{ (x, y) \mid x^2 + y^2 \geq 4, x > 0 \right\} \quad (2)$$

$$D = \left\{ (x, y) \mid x^2 - y^2 \leq 1, y \neq x \right\} \quad (3)$$

$$D = \left\{ (x, y) \mid -\frac{1}{4}x \leq y \leq \frac{1}{4}x \right\} \quad (4)$$

$$D = \left\{ (x, y) \mid -\frac{1}{4}x < y < \frac{1}{4}x \right\} \quad (5)$$

$$D = \left\{ (x, y) \mid -4 \leq y \leq x^2 - 4, x \geq 0 \right\} \quad (6)$$

$$D = \left\{ (x, y) \mid x^2 + y^2 = 4 \right\} \quad (7)$$

$$D = \left\{ (x, y) \mid |x| + |y| < 1 \right\} \quad (8)$$

$$D = \left\{ (x, y) \mid \frac{1}{4}x < y < -\frac{1}{4}x \text{ or } -\frac{1}{4}x < y < \frac{1}{4}x \right\} \quad (9)$$

$$D = \left\{ (x, y) \mid [x < 0 \text{ and } 4x < y < 4x + 1] \text{ or } [x > 0 \text{ and } y > 4x + 1] \right\} \quad (10)$$

$$D = \left\{ (x, y, z) \mid x > -4, y > 1, z > 0 \right\} \quad (11)$$

$$D = \left\{ (x, y) \in \mathbb{R}^2 \mid x \neq 0, y \neq \left(\frac{\pi}{2} + \pi k\right)x, k \in \mathbb{Z} \right\} \quad (12)$$

$$D = \left\{ (x, y) \mid 1 < x^2 + y^2 \neq 2 < 4 \right\} \quad (13)$$

## קווי גובה לפונקציה של שני משתנים

עבור כל אחת מהפונקציות בשאלות 1-6, מצא תחום הגדרה, שרטט אותו, ושרטט את מפת קווי הגובה/רמה של הפונקציה:

$$f(x, y) = \frac{y}{x} \quad (1)$$

$$f(x, y) = \ln x + \ln y \quad (2)$$

$$f(x, y) = x^2 + y^2 \quad (3)$$

$$f(x, y) = \sqrt{1 - x^2 - y^2} \quad (4)$$

$$f(x, y) = \ln(x^2 - y) \quad (5)$$

$$f(x, y) = x\sqrt{y} \quad (6)$$

עבור כל אחת מהפונקציות בשאלות 7-10 שרטט מפת קווי גובה:

$$f(x, y) = (x-1)^2 + (y+3)^2 \quad (7)$$

$$f(x, y) = e^{x-y} \quad (8)$$

$$f(x, y) = 2 \ln x + \ln y \quad (9)$$

$$f(x, y) = \min\{3x, y\} \quad (10)$$

עבור כל אחת מהפונקציות בשאלות 11-13, שרטט את קו הגובה  $k$ :

$$(k = 0, 4) \quad f(x, y) = (x - y)^2 \quad (11)$$

$$(k = 0, 2) \quad f(x, y) = \min\{y - x^2, x + y\} \quad (12)$$

$$(k = 1) \quad f(x, y) = \begin{cases} x^2 + 3x - y - 3 & x^2 \geq y \\ -x^2 + 3x + y - 3 & x^2 < y \end{cases} \quad (13)$$

$$(14) \text{ נתונה הפונקציה } f(x, y) = \begin{cases} x^2 - y & x \leq 1 \\ 2x + y & x > 1 \end{cases}$$

- א. שרטט את קו הגובה  $f(x, y) = 0$ .
- ב. לאילו ערכי  $C$  קו הגובה  $f(x, y) = C$  הוא קו רציף?  
 ציירו את קו הגובה במקרה זה.

### הערות

- \* בסוף קובץ זה תמצאו סיכום של כל המשטחים הנפוצים.
- \*\* קווי גובה = קווי רמה = עקומות אדישות = עקומות שוות ערך.

### תשובות סופיות

- (1)  $x \neq 0$ , המישור ללא ציר ה- $y$ .
- (2)  $x > 0, y > 0$ , הרביע הראשון ללא הצירים.
- (3) כל המישור.
- (4)  $x^2 + y^2 \leq 1$ , עיגול היחידה.
- (5)  $y < x^2$
- (6)  $y \geq 0$ , חצי המישור העליון.

לפתרונות מלאים ושרטוטים של שאר השאלות, היכנסו לאתר: [GooL.co.il](http://GooL.co.il)

## משטחים נפוצים במרחב

### שאלות

זהה ושרטט את המשטחים בשאלות 1-3 :

$$\frac{x^2}{4} + \frac{y^2}{9} + \frac{z^2}{25} = 1 \quad (1)$$

$$z = 5x^2 + 1.25y^2 \quad (2)$$

$$20x^2 + 45y^2 = 180 + 36z^2 \quad (3)$$

זהה ושרטט את המשטחים הבאים :

$$z = 4x^2 + y^2 + 1 \quad \text{א.}$$

$$z = 3 - x^2 - y^2 \quad \text{ב.}$$

זהה כל אחד מהמשטחים הבאים :

$$25x^2 + 100y^2 + 4z^2 = 100 \quad \text{א.}$$

$$25x^2 + 4y^2 - 50x - 16y - 100z + 41 = 0 \quad \text{ב.}$$

$$x^2 + 4y^2 - 4z^2 + 80z - 404 = 0 \quad \text{ג.}$$

(6) מצא את החיתוך בין המשטח  $x^2 + y^2 + z^2 = 169$  לבין המשטח  $z = 12$ .  
הסבר את התוצאה מבחינה גרפית.

(7) נתון המשטח  $2x^2 + 2y^2 + 2z^2 - 16x - 4y + 40z + 206 = 0$

א. זהה את המשטח.

ב. מצא את נקודות החיתוך של המשטח עם הישר  $\frac{x-5}{2} = \frac{y+1}{1} = \frac{z+14}{2}$ .

(8) מצא את החיתוך בין המשטחים  $x^2 + y^2 + (z-10)^2 = 24$  ו-  $x^2 + y^2 + z^2 = 64$ .  
הסבר את התוצאה מבחינה גרפית.

(9) נתון המשטח  $36z^2 + 4x^2 - 9y^2 = 36$

א. זהה את המשטח ושרטט אותו.

ב. רשום הצגה פרמטרית של שני ישרים שאינם נמצאים באותו מישור, ושנמצאים כולם על המשטח.

- בסוף קובץ זה תמצאו סיכום של כל המשטחים הנפוצים.

### תשובות סופיות

- (1) אליפסואיד.
- (2) פרבולואיד אליפטי הנפתח כלפי מעלה.
- (3) היפרבולואיד חד יריעתי.
- (4) א. פרבולואיד אליפטי שמרכזו בנקודה  $(0,0,1)$  ונפתח כלפי מעלה.  
ב. פרבולואיד אליפטי שמרכזו בנקודה  $(0,0,3)$  ונפתח כלפי מטה.
- (5) א. אליפסואיד.  
ב. פרבולואיד אליפטי שמרכזו בנקודה  $(1,2,0)$  ונפתח כלפי מעלה.  
ג. היפרבולואיד חד-יריעתי שמרכזו בנקודה  $(0,0,10)$ .
- (6) החיתוך הוא מעגל  $x^2 + y^2 = 25$ , שמרכזו בנקודה  $(0,0,12)$ .
- (7) א. ספירה שמרכזה  $(4,1,-10)$  ורדיוסה  $\sqrt{14}$ .  
נקודות החיתוך הן  $A(7,0,-12)$ ,  $B\left(\frac{59}{9}, -\frac{2}{9}, -\frac{112}{9}\right)$ .
- (8) החיתוך הוא המעגל  $x^2 + y^2 = 15$ , שמרכזו בנקודה  $(0,0,7)$ .
- (9) א. היפרבולואיד חד-יריעתי שמרכזו על ציר ה- $y$ .  
ב.  $\ell_1 : (x, y, z) = (3t, 2t, 1)$   $\ell_2 : (x, y, z) = (3, 2t, t)$

## משטחי רמה לפונקציה של שלושה משתנים

### שאלות

- (1) נתונה הפונקציה  $f(x, y, z) = \sqrt{4 - x^2 - y^2} - z$ . מצא את משטח הרמה 2 של הפונקציה ושרטט אותו.
- (2) נתונה הפונקציה  $f(x, y, z) = z + x^2 + y^2$ . מצא את משטח הרמה 4 של הפונקציה ושרטט אותו.
- (3) עבור כל אחת מהפונקציות הבאות מצא את משטחי הרמה:  
 א.  $f(x, y, z) = 4^{x+y-z}$   
 ב.  $f(x, y, z) = z - x^2 - y^2$
- (4) נתונה הפונקציה  $f(x, y, z) = \frac{x^2 + y^2}{x^2 + z^2}$ . מצא את משטחי הרמה של הפונקציה.
- (5) נתונה הפונקציה  $f(x, y, z) = z^2 - y^2 - x^2$ . מצא את משטחי הרמה של הפונקציה.

### תשובות סופיות

- (1) חצי ספירה עליונה שמרכזה בנקודה  $(0, 0, -2)$  ורדיוסה 2.
- (2) פרבולואיד אליפטי שמרכזו בנקודה  $(0, 0, 4)$  ונפתח כלפי מטה.
- (3) א. מישורים.  
 ב. משטח רמה  $k$  הוא פרבולואיד אליפטי, שמרכזו בנקודה  $(0, 0, k)$  ונפתח כלפי מעלה.
- (4) עבור  $k < 0$  לא קיים משטח רמה  $k$ .  
 עבור  $k = 0$  נקודה  $(0, 0, 0)$ . עבור  $k = 1$  מישורים.  
 עבור  $k > 1$  חרוט אליפטי שמרכזו על ציר ה- $y$ .  
 עבור  $0 < k < 1$  חרוט אליפטי שמרכזו על ציר ה- $z$ .
- (5) עבור  $k < 0$  היפרבולואיד חד-יריעתי. עבור  $k = 0$  חרוט אליפטי.  
 עבור  $k < 0$  היפרבולואיד דו-יריעתי.

## גופים במרחב

### שאלות

1) שרטט את התחומים הבאים במרחב ותאר במילים את הגוף שהתקבל.

א.  $V = \{(x, y, z) \mid x^2 + y^2 + z^2 \leq 4\}$

ב.  $V = \{(x, y, z) \mid -\sqrt{4-x^2-y^2} \leq z \leq \sqrt{4-x^2-y^2}\}$

ג.  $V = \{(x, y, z) \mid x^2 + y^2 + z^2 \leq 4, z \geq 0\}$

ד.  $V = \{(x, y, z) \mid 0 \leq z \leq \sqrt{4-x^2-y^2}\}$

ה.  $V = \{(x, y, z) \mid x^2 + y^2 + z^2 \leq 4, z \leq 0\}$

ו.  $V = \{(x, y, z) \mid -\sqrt{4-x^2-y^2} \leq z \leq 0\}$

ז.  $V = \{(x, y, z) \mid 0 \leq x \leq 2, 0 \leq y \leq 4, 0 \leq z \leq 3\}$

2) שרטט את התחומים הבאים במרחב ותאר במילים את הגוף שהתקבל.

א.  $V = \{(x, y, z) \mid x^2 + y^2 + z^2 \leq 1, x \geq 0, y \geq 0, z \geq 0\}$

ב.  $V = \{(x, y, z) \mid 0 \leq z \leq \sqrt{1-x^2-y^2}, x \geq 0, y \geq 0\}$

ג.  $D = \{(x, y, z) \mid 1 \leq x^2 + y^2 + z^2 \leq 4, x \geq 0, y \geq 0, z \geq 0\}$

ד.  $D = \{(x, y, z) \mid 1 \leq x^2 + y^2 + z^2 \leq 4, x \geq 0, z \geq 0, 0 \leq y \leq x\}$

ה.  $V = \{(x, y, z) \mid 1 \leq z \leq 1 + \sqrt{1-x^2-y^2}\}$

ו.  $V = \{(x, y, z) \mid \sqrt{x^2+y^2} \leq z \leq \frac{1}{2} + \sqrt{\frac{1}{4}-x^2-y^2}\}$

3) שרטט את התחומים הבאים במרחב ותאר במילים את הגוף שהתקבל.

א.  $V = \{(x, y, z) \mid x^2 + y^2 + z^2 \leq 4, z \geq \sqrt{3(x^2+y^2)}\}$

ב.  $V = \{(x, y, z) \mid \sqrt{3(x^2+y^2)} \leq z \leq \sqrt{4-x^2-y^2}\}$

ג.  $V = \{(x, y, z) \mid 0 \leq z \leq \sqrt{4-x^2-y^2}, x^2 + y^2 \leq 1\}$

ד.  $V = \{(x, y, z) \mid 0 \leq y \leq 3, x \geq 0, z \geq 0, x^2 + z^2 \leq 4\}$

ה.  $V = \{(x, y, z) \mid x \geq 0, y \geq 0, z \geq 0, x^2 + y^2 + z^2 \leq 36, \frac{x^2}{9} + \frac{y^2}{16} \leq 1\}$

4) שרטט את התחומים הבאים במרחב ותאר במילים את הגוף שהתקבל.

א.  $V = \{(x, y, z) \mid \sqrt{x^2 + y^2} \leq z \leq 2 - x^2 - y^2\}$

ב.  $V = \{(x, y, z) \mid x^2 + y^2 \leq z \leq \sqrt{4 - x^2 - y^2}\}$

ג.  $V = \{(x, y, z) \mid x^2 + y^2 \leq z \leq 1 - x^2 - y^2\}$

ד.  $V = \{(x, y, z) \mid 0 \leq z \leq 4 - x^2 - y^2, x^2 + y^2 - 2x \leq 0\}$

5) שרטט את התחומים הבאים במרחב ותאר במילים את הגוף שהתקבל.

א.  $\{(x, y, z) \mid x^2 + y^2 + z^2 \leq 4, x^2 + y^2 \leq 1\}$

ב.  $\{(x, y, z) \mid x^2 + y^2 + z \leq 4, x \geq 0, y \geq 0, z \geq 0, x^2 + y^2 \leq 1\}$

ג.  $V = \{(x, y, z) \mid 0 \leq z \leq 4 - x^2 - y^2, x \geq 0, y \geq 0, x^2 + y^2 \leq 1\}$

ד.  $V = \{(x, y, z) \mid \sqrt{x^2 + y^2} \leq z \leq \sqrt{4 - x^2 - y^2}, x^2 + y^2 \leq 1\}$

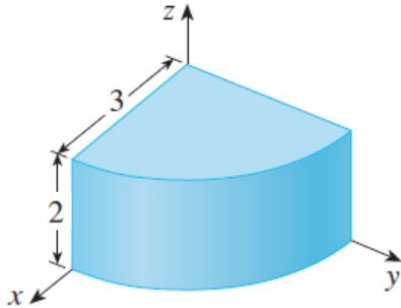
ה.  $U = \{(x, y, z) \mid 0 \leq z \leq 10 - y, 1 \leq x^2 + y^2 \leq 4\}$

6) בכל אחד מהסעיפים הבאים איור של גוף  $V$  במרחב.

תאר במילים את הגוף וכתוב אותו לפי התבנית  $V = \{(x, y, z) \mid \dots\}$ .

א.

ב.



7) נתונים המשטחים  $z = x^2 + y^2$  ו-  $z = 2 - \sqrt{x^2 + y^2}$ .

א. זהה כל אחד מהמשטחים בשם.

ב. שרטט את התחום החסום בין המשטחים.

ג. מצא את משוואת עקום החיתוך בין המשטחים.

8 נתונים שני משטחים:  $z = x^2 + y^2 + z^2$  ו-  $z = \sqrt{x^2 + y^2}$ .

א. זהה כל אחד מהמשטחים בשם.

ב. שרטט את התחום החסום בין המשטחים וכתוב אותו בתבנית

$$V = \{(x, y, z) \mid ? \leq z \leq ??\}$$

ג. מצא את משוואת עקום החיתוך בין המשטחים.

### תשובות סופיות

לפתרונות מלאים ראו את הסרטונים באתר [GooL.co.il](http://GooL.co.il)

## הצגה פרמטרית של עקום

### שאלות

(1) עבור מן ההצגה הפרמטרית הנתונה, להצגה קרטזית:

א.  $x = t^2 + 1, y = t^2$  ,  $t \geq 0$

ב.  $x = \sin t, y = \cos^2 t$  ,  $0 \leq t \leq \pi$

ג.  $x = \cos t, y = 4 \sin t$  ,  $\pi \leq t \leq 2\pi$

(2) עבור מן ההצגה הקרטזית הנתונה, להצגה פרמטרית:

א.  $y = x^4 + 1$  ,  $1 \leq x \leq 4$

ב.  $y = -\sqrt{4-x^2}$  ,  $-2 \leq x \leq 2$

ג.  $y = +\sqrt{4-x^2}$  ,  $-2 \leq x \leq 2$

(3) לפניך תיאור פרמטרי של מסלולים במישור.

על ידי חילוץ של הפרמטר  $t$ , מצא משוואה מתאימה שמבטאת כל מסלול באמצעות המשתנים  $x$  ו- $y$  בלבד:

א.  $x = t - 4, y = t^2$

ב.  $x = -4 + \cos t, y = 1 + 2 \sin t$

ג.  $x = 4 \cos^3 t, y = 4 \sin^3 t$

ד.  $x = t(t+1) + 1, y = t(0.5t+1) + 1$

ה.  $x = \frac{20t}{4+t^2}, y = \frac{20-5t^2}{4+t^2}$

ו.  $x = ke^t + ke^{-t}, y = ke^t - ke^{-t}$  ( $k$  קבוע).

(4) חשב את אורך העקום  $\begin{cases} x = t - \sin t \\ y = 1 - \cos t \end{cases}$  ,  $0 \leq t \leq 2\pi$ .

(5) חשב את אורך העקום  $\begin{cases} x = 4 \sin t \\ y = 10t \\ z = 4 \cos t \end{cases}$  ,  $-\pi \leq t \leq 2\pi$ .

## תשובות סופיות

$$(1) \quad \text{א. } y = x - 1, x \geq 1 \quad \text{ב. } y = 1 - x^2, -1 \leq x \leq 1$$

$$\text{ג. } x^2 + \frac{y^2}{16} = 1, -1 \leq x \leq 1, y \leq 0$$

$$(2) \quad \text{א. } x = t, y = t^4 + 1, 1 \leq t \leq 4 \quad \text{ב. } x = 2 \cos t, y = 2 \sin t, \pi \leq t \leq 2\pi$$

$$\text{ג. } x = 2 \cos t, y = 2 \sin t, 0 \leq t \leq \pi$$

$$(3) \quad \text{א. } y = (x + 4)^2 \quad \text{ב. } (x + 4)^2 + \left(\frac{y - 1}{2}\right)^2 = 1 \quad \text{ג. } x^{\frac{2}{3}} + y^{\frac{2}{3}} = 4^{\frac{2}{3}}$$

$$\text{ד. } x^2 - 4xy + 4y^2 = 2y - 1 \quad \text{ה. } x^2 + y^2 = 25 \quad \text{ו. } x^2 - y^2 = 4k^2$$

$$(4) \quad 8$$

$$(5) \quad 6\pi\sqrt{29}$$

## הצגה פולרית של עקום

### שאלות

(1) ענה על הסעיפים הבאים :

א. המר את הנקודה הקוטבית  $\left(4, \frac{\pi}{3}\right)$  לנקודה קרטזית.

ב. המר את הנקודה הקרטזית  $(-1, -1)$  לנקודה קוטבית.

(2) ענה על הסעיפים הבאים :

א. המר את הנקודה הקוטבית  $\left(10, -\frac{\pi}{3}\right)$  לנקודה קרטזית.

ב. המר את הנקודה הקרטזית  $(0, -4)$  לנקודה קוטבית.

ג. המר את הנקודה הקרטזית  $(-2, 2)$  לנקודה קוטבית.

(3) ענה על הסעיפים הבאים :

א. המר את המשוואה  $4x - x^2 = 1 + xy$  לקואורדינטות קוטביות.

ב. המר את המשוואה  $r = -4 \cos \theta$  לקואורדינטות קרטזיות.

(4) ענה על הסעיפים הבאים :

א. המר את המשוואה  $x^2 + y^2 = 4y$  לקואורדינטות פולריות.

ב. המר את המשוואה  $x = 10$  לקואורדינטות פולריות.

ג. המר את המשוואה  $y = 4$  לקואורדינטות פולריות.

(5) ענה על הסעיפים הבאים :

א. המר את המשוואה  $r = 4$  לקואורדינטות קרטזיות.

ב. המר את המשוואה  $\theta = \pi/4$  לקואורדינטות קרטזיות.

ג. המר את המשוואה  $r = 2 \cos \theta + 4 \sin \theta$  לקואורדינטות קרטזיות.

ד. המר את המשוואה  $6r^3 \sin \theta = 4 - \cos \theta$  לקואורדינטות קרטזיות.

## תשובות סופיות

$$(1) \quad (x, y) = (2, 2\sqrt{3}) \text{ א.} \quad (r, \theta) = \left(\sqrt{2}, \frac{5\pi}{4}\right) \text{ ב.}$$

$$(2) \quad (x, y) = (5, -5\sqrt{3}) \text{ א.} \quad (r, \theta) = \left(4, \frac{3\pi}{2}\right) \text{ ב.} \quad (r, \theta) = \left(\sqrt{8}, \frac{3\pi}{4}\right) \text{ ג.}$$

$$(3) \quad 4r \cos \theta - r^2 \cos^2 \theta = 1 + r \cos \theta \cdot r \sin \theta \text{ א.} \quad (x+2)^2 + y^2 = 2^2 \text{ ב.}$$

$$(4) \quad r = 4 \sin \theta \text{ א.} \quad r \cos \theta = 10 \text{ ב.} \quad r \sin \theta = 4 \text{ ג.}$$

$$(5) \quad x^2 + y^2 = 4^2 \text{ א.} \quad y = x \text{ ב.} \quad (x-1)^2 + (y-2)^2 = 5 \text{ ג.}$$

$$\text{ד.} \quad 6\left(\sqrt{x^2 + y^2}\right)^3 \cdot y = 4\sqrt{x^2 + y^2} - x$$

## נספח – משטחים ממעלה שנייה

אליפסואיד

$$\text{משוואה: } \frac{x^2}{a^2} + \frac{y^2}{b^2} + \frac{z^2}{c^2} = 1$$

תיאור: החתכים במישורי הקואורדינטות הם אליפסות; כך הם גם החתכים במישורים מקבילים. אם  $a=b=c$ , נקבל כדור עם רדיוס  $a$  והחתכים הנ"ל הם מעגלים.

חרוט אליפטי

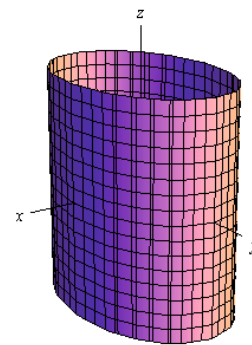
$$\text{משוואה: } \frac{x^2}{a^2} + \frac{y^2}{b^2} = \frac{z^2}{c^2}$$

תיאור: החתך במישור  $xy$  הוא נקודה (הראשית); החתכים במישורים מקבילים למישור  $xy$  הם אליפסות. החתכים במישור  $xz$  ו-  $yz$  הם זוג ישרים הנחתכים בראשית; החתכים במישורים מקבילים למישורים אלו הם היפרבולות. \* מרכז החרוט הוא על הציר המתאים למשתנה המופיע לבד באחד האגפים.

גליל אליפטי

$$\text{משוואה: } \frac{x^2}{a^2} + \frac{y^2}{b^2} = 1$$

תיאור: החתך במישור  $xy$  הוא אליפסה; כך הם החתכים במישורים מקבילים למישור  $xy$ . החתכים במישור  $xz$  ו-  $yz$  הם זוג ישרים מקבילים וכך הם החתכים במישורים מקבילים למישורים אלו. במידה ומשוואת הגליל היא  $x^2 + y^2 = r^2$ , החתכים הנ"ל הם מעגלים. \* מרכז הגליל הוא על הציר המתאים למשתנה שאינו מופיע במשוואת הגליל.

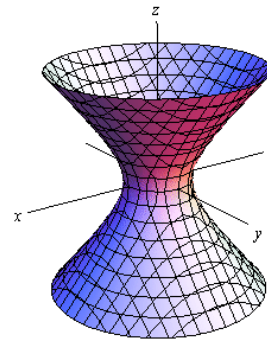


היפרבולואיד חד-יריעתי

$$\frac{x^2}{a^2} + \frac{y^2}{b^2} - \frac{z^2}{c^2} = 1 : \text{משוואה}$$

**תיאור:** החתך במישור  $xy$  הוא אליפסה; כך הם החתכים במישורים מקבילים למישור  $xy$ . החתכים במישור  $xz$  ו-  $yz$  הם היפרבולות; כך הם גם החתכים במישורים מקבילים למישורים אלו.

\* מרכז היפרבולואיד חד-יריעתי הוא על הציר המתאים למשתנה שלפניו המינוס.

היפרבולואיד דו-יריעתי

$$\frac{x^2}{a^2} + \frac{y^2}{b^2} - \frac{z^2}{c^2} = -1 : \text{משוואה}$$

**תיאור:** למשטח זה אין חתך במישור  $xy$ ; החתכים במישורים מקבילים למישור  $xy$ , החותכים את המשטח, הם אליפסות. החתכים במישור  $xz$  ו-  $yz$  הם היפרבולות; כך הם גם החתכים במישורים מקבילים למישורים אלו.

\* מרכז היפרבולואיד דו-יריעתי הוא על הציר המתאים למשתנה שלפניו המינוס.

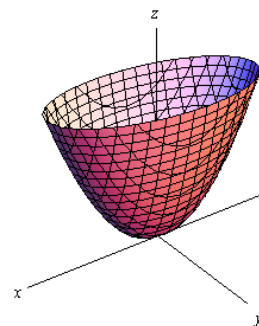
פרבולואיד אליפטי

$$\frac{x^2}{a^2} + \frac{y^2}{b^2} = \frac{z}{c} : \text{משוואה}$$

**תיאור:** החתך במישור  $xy$  הוא נקודה (הראשית); החתכים במישורים מקבילים למישור  $xy$  ונמצאים מעליו הם אליפסות. החתכים במישור  $xz$  ו-  $yz$  הם פרבולות; כך הם גם החתכים במישורים מקבילים למישורים אלו.

\* מרכז הפרבולואיד האליפטי הוא על הציר המתאים למשתנה המופיע ללא ריבוע.

\* אם  $c > 0$  הפרבולואיד נפתח כלפי מעלה ואם  $c < 0$  הפרבולואיד נפתח כלפי מטה.



### פרבולואיד היפרבולי



$$\text{משוואה: } \frac{x^2}{a^2} - \frac{y^2}{b^2} = \frac{z}{c}$$

**תיאור:** החתך במישור  $xy$  הוא זוג ישרים נחתכים בראשית; החתכים במישורים מקבילים למישור  $xy$  הם היפרבולות; אלו שמעל למישור  $xy$  נפתחות בכיוון ציר ה- $y$  ואלו שמתחת למישור  $xy$  נפתחות בכיוון ציר ה- $x$ . החתכים במישור  $xz$  ו- $yz$  הם פרבולות; כך הם גם החתכים במישורים מקבילים למישורים אלו.

\* מרכז הפרבולואיד האליפטי הוא על הציר המתאים למשתנה המופיע ללא ריבוע.

\* אם  $c > 0$  הפרבולואיד נפתח כלפי מעלה ואם  $c < 0$  הפרבולואיד נפתח כלפי מטה.

### דוגמאות שונות



$$z = 3 - x^2 - y^2$$



$$\frac{x^2}{4} + \frac{y^2}{4} + \frac{z^2}{16} = 1$$



$$x^2 + y^2 + z^2 = 1$$



$$x + y + z = 1$$



$$z = \sqrt{x^2 + y^2}$$



$$z = 4x^2 + y^2 + 1$$